


Modèle CCYC : ©DNE
Nom de famille (naissance) :
(Suivi s'il y a lieu, du nom d'usage)

Prénom(s) :

N° candidat : **N° d'inscription** :

Né(e) le : / /
(Les numéros figurent sur la convocation.)



Liberté • Égalité • Fraternité
RÉPUBLIQUE FRANÇAISE

1.1

ÉVALUATIONS COMMUNES

CLASSE :

EC : EC1 EC2 EC3

VOIE : Générale Technologique Toutes voies (LV)

ENSEIGNEMENT : Enseignement scientifique

DURÉE DE L'ÉPREUVE : --2h--

Niveaux visés (LV) : LVA LVB

CALCULATRICE AUTORISÉE : Oui Non

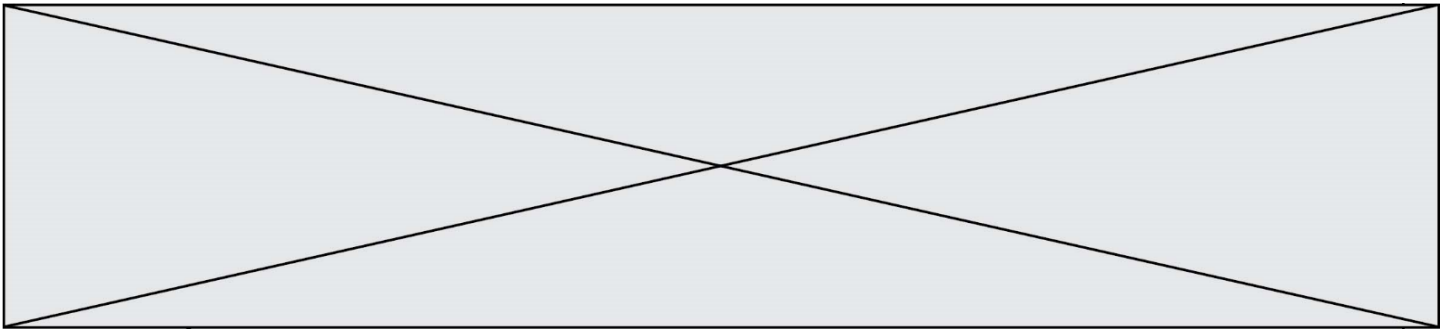
DICTIONNAIRE AUTORISÉ : Oui Non

Ce sujet contient des parties à rendre par le candidat avec sa copie. De ce fait, il ne peut être dupliqué et doit être imprimé pour chaque candidat afin d'assurer ensuite sa bonne numérisation.

Ce sujet intègre des éléments en couleur. S'il est choisi par l'équipe pédagogique, il est nécessaire que chaque élève dispose d'une impression en couleur.

Ce sujet contient des pièces jointes de type audio ou vidéo qu'il faudra télécharger et jouer le jour de l'épreuve.

Nombre total de pages : 9



Exercice 1 - L'évolution humaine

Sur 10 points

Première partie :

L'espèce humaine actuelle fait partie du groupe des Primates, on cherche à préciser ses liens de parenté avec deux espèces de grands singes, le gorille et le chimpanzé.

Document 1 : pourcentage des ressemblances dans la séquence du gène de la NADH déshydrogénase chez ces trois espèces.

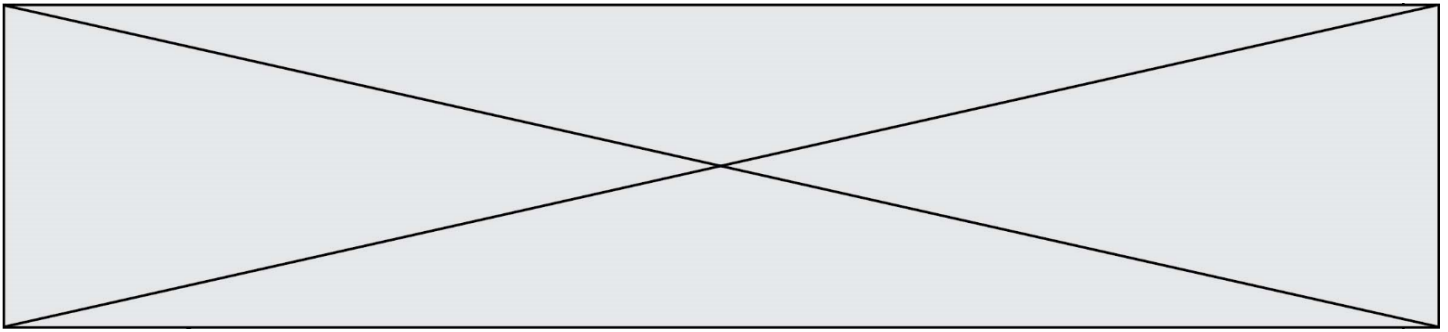
	Espèce humaine	Chimpanzé	Gorille
Espèce humaine	100	89	86,5
Chimpanzé		100	87,8
Gorille			100

D'après le logiciel Anagène

1- Indiquer sur votre copie la lettre correspond à la proposition exacte :

Un pourcentage élevé de similitudes génétiques entre deux espèces est un argument pour penser que ...

- A. l'ancêtre commun aux deux espèces est ancien.
- B. l'ancêtre commun aux deux espèces est récent.
- C. l'une des deux espèces est l'ancêtre de l'autre.
- D. les deux espèces n'ont pas d'ancêtre commun.



Document 3 : un nouveau venu dans la famille humaine : l'Homme de Denisova

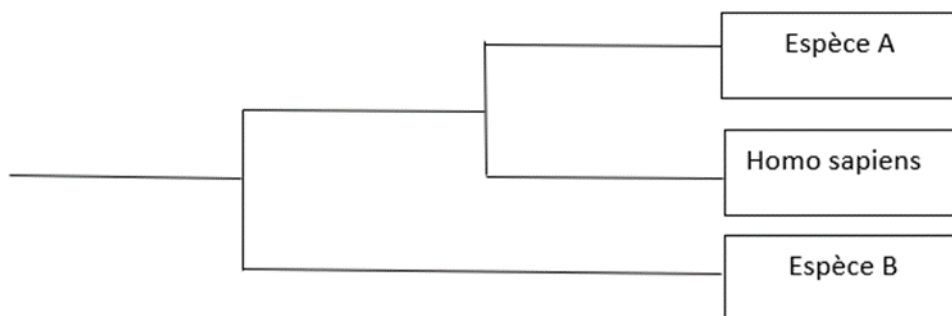
Pour la première fois, en 2010, une nouvelle espèce humaine a été décrite non pas grâce à des données anatomiques, mais d'après des analyses génétiques.

L'ADN d'un os trouvé dans une grotte de Sibérie, daté d'un peu moins de 40 000 ans, appartient à un individu du genre *Homo* mais ce n'est ni un *sapiens*, ni un néandertalien. Ceci signifie qu'à une époque où les deux espèces du genre *Homo* (*sapiens* et *neandertal*) cohabitaient, un proche « cousin » subsistait lui aussi en Eurasie : l'Homme de Denisova (*Homo denisovensis*).

En comparant son ADN à celui des Hommes modernes (*H. sapiens*) et des néandertaliens, les chercheurs ont constaté que les différences étaient deux fois plus nombreuses entre le nouvel homininé et nous que celles qui nous séparent de Neandertal. Ceci signifie qu'il faut remonter à plus d'un million d'années pour retrouver l'ancêtre commun à l'Homme de Denisova, à Neandertal et à l'Homme moderne (*H. sapiens*).

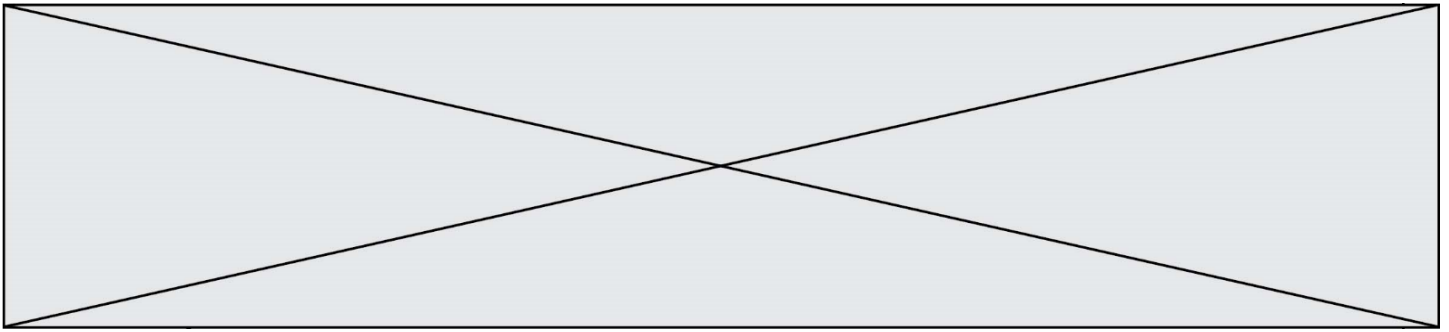
D'après Pour La Science n°386

- 3- À l'aide des informations extraites des documents 2 et 3, identifier les espèces A et B en justifiant le choix

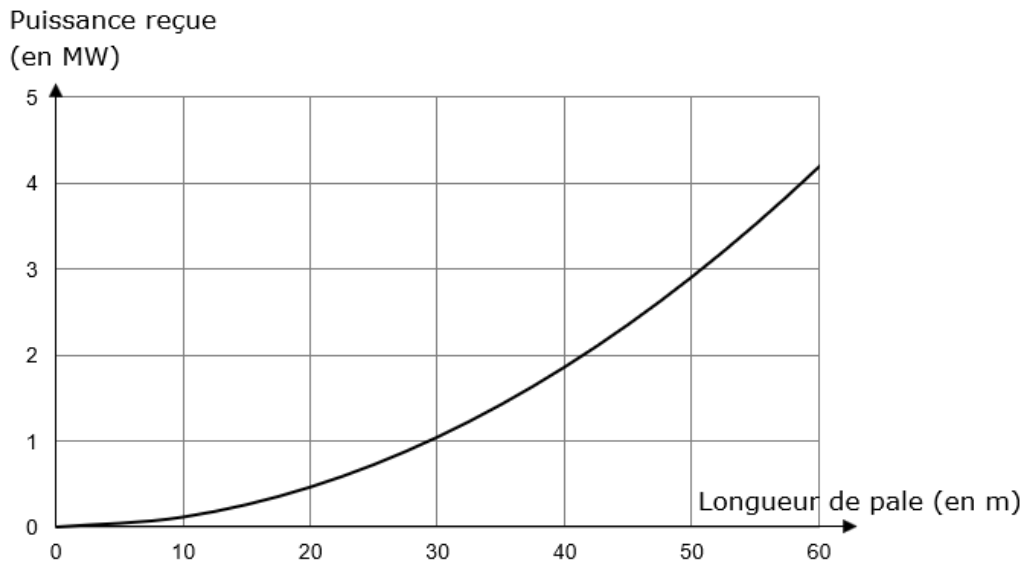


- 4- On dit que l'évolution n'est pas linéaire (au sens où : Espèce 1 => Espèce 2 => Espèce 3 => ...) mais « buissonnante ». Justifier cette affirmation, en exploitant le document 3.

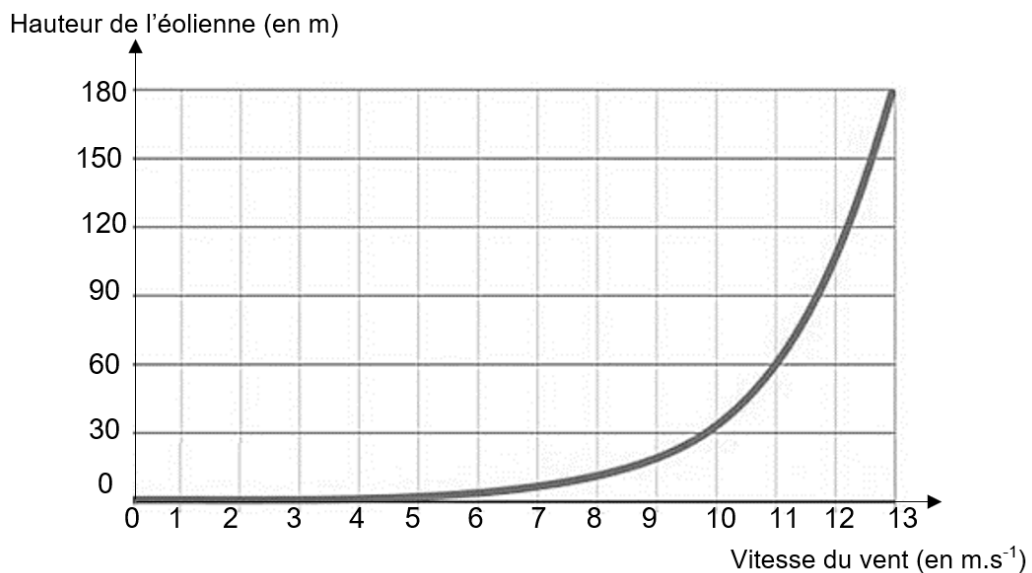
Fin de l'exercice



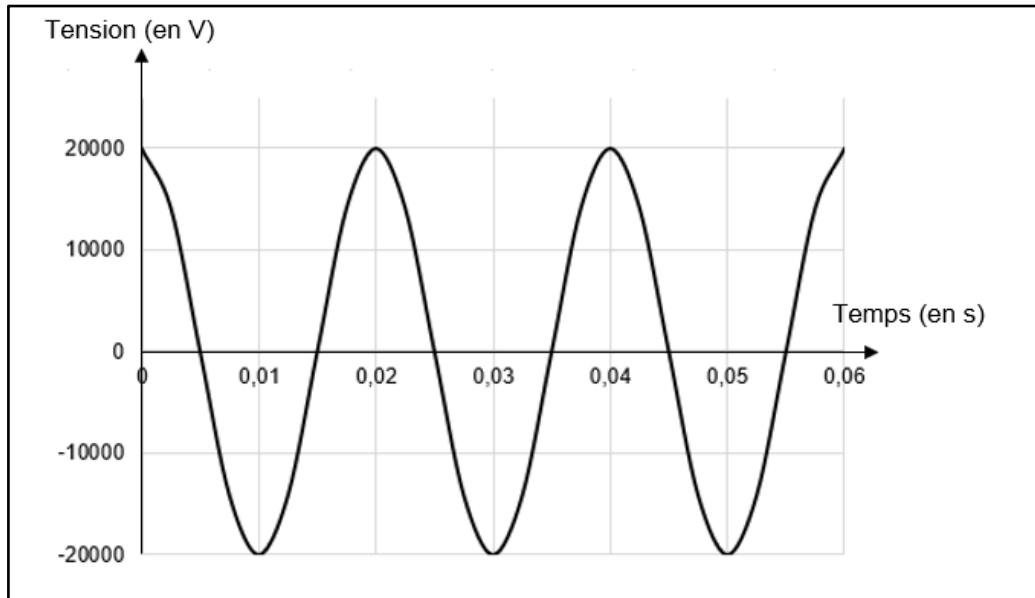
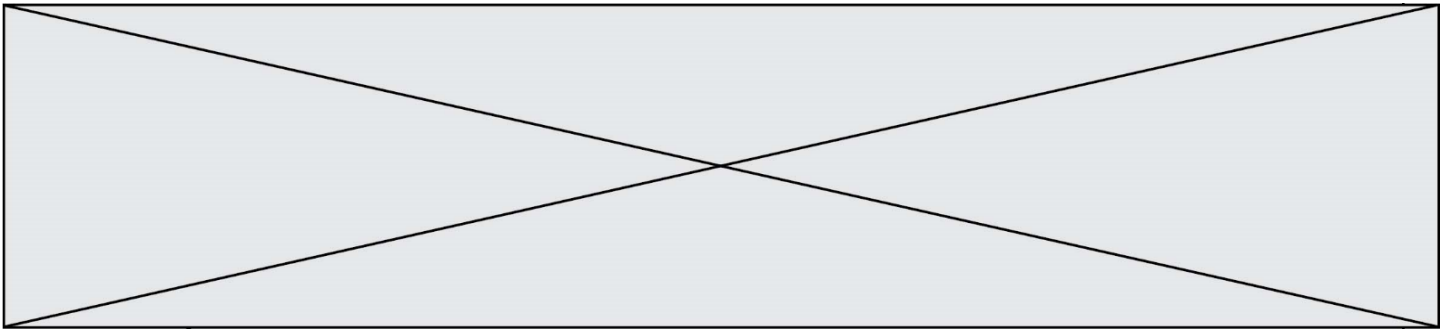
1b- Courbe théorique donnant l'évolution de la puissance reçue par une éolienne en fonction de la longueur des pales (pour une vitesse de vent donnée)



Document 2 : Profil vertical de la vitesse du vent relevé



Hauteur : distance de l'axe de rotation des pales par rapport au sol



Partie 2 : démographie d'une population de chauves – souris

Document 3 : modélisation d'une population d'une colonie de chauve-souris

Les colonies de chauves-souris ne sont constituées que de femelles et des petits nouveaux nés. Les mâles vivent ailleurs.

En l'absence d'éoliennes, le nombre de femelles chauves-souris de la colonie considérée augmente chaque année de 27 %. On note U_0 le nombre de femelles chauves-souris de cette colonie en mai 2020 et U_n le nombre de femelles chauves-souris de cette colonie n années plus tard, c'est-à-dire en mai de l'année 2020 + n .

En présence d'éoliennes, le nombre de femelles chauves-souris de cette colonie diminue chaque année de 19 %. On note V_0 le nombre de femelles chauves-souris de cette colonie en mai 2020 et V_n le nombre de femelles chauves-souris de cette colonie n années plus tard, c'est-à-dire en mai de l'année 2020 + n .

