

Modèle CCYC : ©DNE

Nom de famille (naissance) :


(Suivi s'il y a lieu, du nom d'usage)

Prénom(s) :

N° candidat : N° d'inscription :

(Les numéros figurent sur la convocation.)

Né(e) le : / /



1.1

ÉVALUATION

CLASSE : Première

VOIE : Générale Technologique Toutes voies (LV)

ENSEIGNEMENT : Sciences économiques et sociales

DURÉE DE L'ÉPREUVE : deux heures

Niveaux visés (LV) : LVA LVB

Axes de programme :

CALCULATRICE AUTORISÉE : Oui Non

DICTIONNAIRE AUTORISÉ : Oui Non

Ce sujet contient des parties à rendre par le candidat avec sa copie. De ce fait, il ne peut être dupliqué et doit être imprimé pour chaque candidat afin d'assurer ensuite sa bonne numérisation.

Ce sujet intègre des éléments en couleur. S'il est choisi par l'équipe pédagogique, il est nécessaire que chaque élève dispose d'une impression en couleur.

Ce sujet contient des pièces jointes de type audio ou vidéo qu'il faudra télécharger et jouer le jour de l'épreuve.

Nombre total de pages : 4

Cette épreuve comprend deux parties :

- Première partie : Mobilisation de connaissances et traitement de l'information (10 points)

Il est demandé au candidat de répondre aux questions en mobilisant les connaissances acquises dans le cadre du programme, en adoptant une démarche méthodologique rigoureuse de collecte et d'exploitation de données quantitatives, et en ayant recours le cas échéant à des résolutions graphiques.

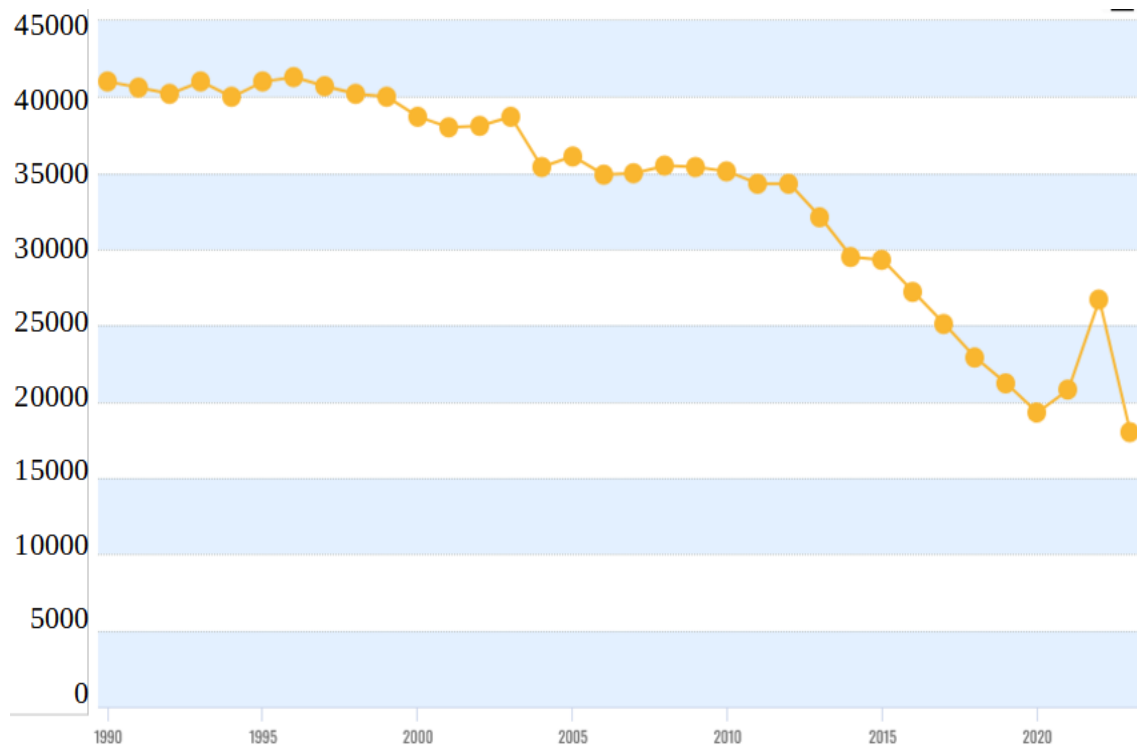
- Seconde partie : Raisonnement appuyé sur un dossier documentaire (10 points)

Il est demandé au candidat de traiter le sujet en développant un raisonnement de l'ordre d'une page, en exploitant les documents du dossier et en mobilisant ses connaissances.

Il sera tenu compte, dans la notation, de la clarté de l'expression et du soin apporté à la présentation.

Première partie : Mobilisation de connaissances et traitement de l'information (10 points)

Document : Evolution du nombre de décès liés à la pollution de l'air chaque année en France



Source : Rapport « State of global air 2025 », réalisé par Health Effects Institute (HEI) en partenariat avec Unicef, <https://www.stateofglobalair.org>

Questions :

1. Montrez que la pollution est un exemple de défaillance du marché. (4 points)
2. Comparez le nombre de décès liés à la pollution de l'air en 1993 et en 2020. (3 points)
3. À l'aide du document et de vos connaissances, présentez un exemple d'intervention des pouvoirs publics pour réduire la pollution de l'air. (3 points)

Modèle CCYC : ©DNE

Nom de famille (naissance) :


(Suivi s'il y a lieu, du nom d'usage)

Prénom(s) :

N° candidat : N° d'inscription :

(Les numéros figurent sur la convocation.)

Né(e) le : / /

 RÉPUBLIQUE FRANÇAISE

1.1

Seconde partie : Raisonnement appuyé sur un dossier documentaire (10 points)

Sujet : À l'aide du dossier documentaire et de vos connaissances, vous montrerez que les liens qui relient les individus au sein de différents groupes sociaux sont divers.

Document 1 :

En partant des deux sources du lien social que sont la protection et la reconnaissance, j'ai proposé de distinguer quatre grands types de lien sociaux : le lien de filiation, le lien de participation élective, le lien de participation organique et le lien de citoyenneté. [...]

Au-delà des questions juridiques qui entourent la définition du lien de filiation, les sociologues, mais aussi les psychologues, les psychologues sociaux et les psychanalystes, insistent sur la fonction socialisatrice et identitaire de ce lien. Il contribue à l'équilibre de l'individu dès sa naissance puisqu'il lui assure à la fois protection (soins physiques) et reconnaissance (sécurité affective).

Le lien de participation élective relève de la socialisation extra-familiale au cours de laquelle l'individu entre en contact avec d'autres individus qu'il apprend à connaître dans le cadre de groupes divers et d'institutions. [...]

Le lien de participation organique se distingue du précédent en ce qu'il se caractérise par l'apprentissage et l'exercice d'une fonction déterminée dans l'organisation du travail. [...]

Enfin, le lien de citoyenneté repose sur le principe de l'appartenance à une nation. Dans son principe, la nation reconnaît à ses membres des droits et des devoirs et en fait des citoyens à part entière. [...]

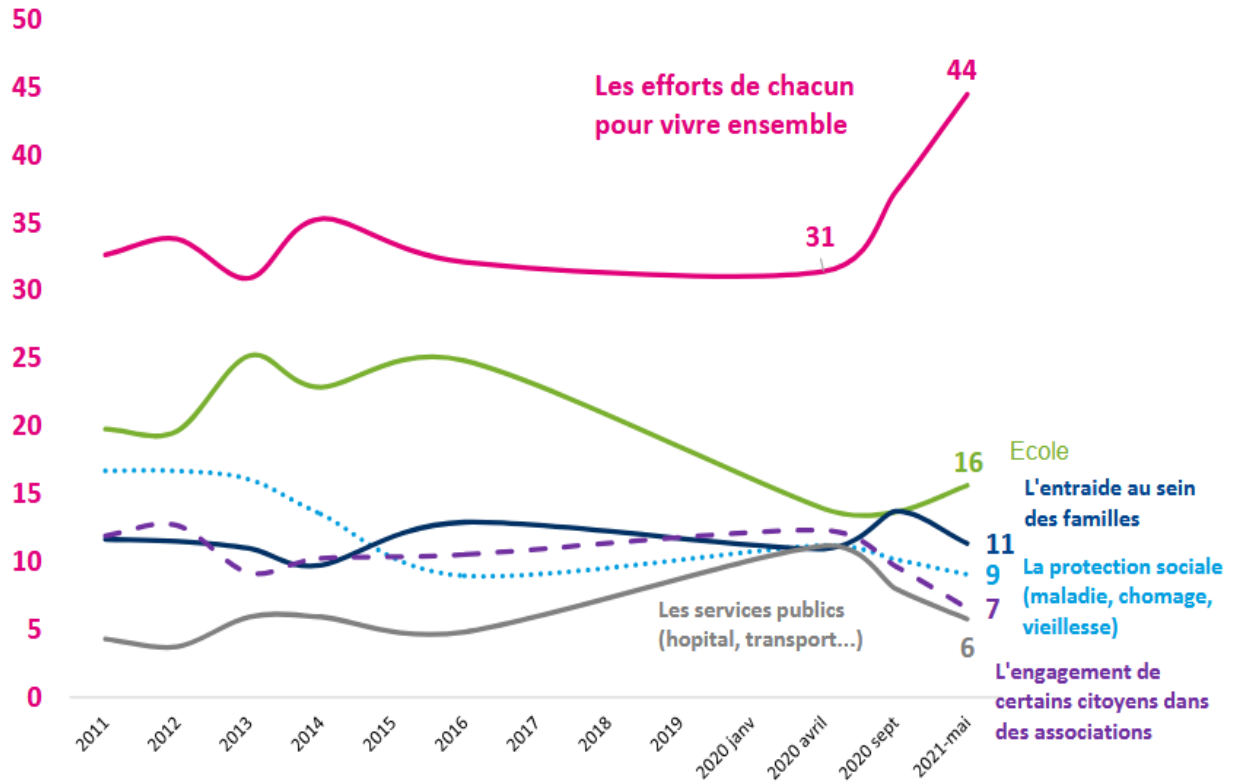
Ces quatre types de liens sont complémentaires et entrecroisés. Ils constituent le tissu social qui enveloppe l'individu. Lorsque ce dernier décline son identité, il peut faire référence aussi bien à sa nationalité (lien de citoyenneté), à sa profession (lien de participation organique), à ses origines sociales (lien de filiation).

Source : Entretien réalisé par Anne Châteauneuf-Malclès pour SES-ENS, « Le lien social : entretien avec Serge Paugam », 2012.

Document 2 :

« Selon vous, aujourd'hui en France qu'est-ce qui contribue le plus à renforcer la cohésion sociale ? »

En %



Lecture : en 2021, 44 % des Français pensent que les efforts de chacun pour vivre ensemble contribuent à renforcer la cohésion sociale.

Source : CREDOC, Enquête « Conditions de vie et Aspirations », 2022.