

Modèle CCYC : ©DNE

Nom de famille (naissance) :


(Suivi s'il y a lieu, du nom d'usage)

Prénom(s) :

N° candidat : N° d'inscription :

(Les numéros figurent sur la convocation.)

Né(e) le : / /



1.1

ÉVALUATION

CLASSE : Première

VOIE : Générale Technologique Toutes voies (LV)

ENSEIGNEMENT : Sciences économiques et sociales

DURÉE DE L'ÉPREUVE : deux heures

Niveaux visés (LV) : LVA LVB

Axes de programme :

CALCULATRICE AUTORISÉE : Oui Non

DICTIONNAIRE AUTORISÉ : Oui Non

- Ce sujet contient des parties à rendre par le candidat avec sa copie. De ce fait, il ne peut être dupliqué et doit être imprimé pour chaque candidat afin d'assurer ensuite sa bonne numérisation.
- Ce sujet intègre des éléments en couleur. S'il est choisi par l'équipe pédagogique, il est nécessaire que chaque élève dispose d'une impression en couleur.
- Ce sujet contient des pièces jointes de type audio ou vidéo qu'il faudra télécharger et jouer le jour de l'épreuve.

Nombre total de pages : 4

Cette épreuve comprend deux parties :

- Première partie : Mobilisation de connaissances et traitement de l'information (10 points)

Il est demandé au candidat de répondre aux questions en mobilisant les connaissances acquises dans le cadre du programme, en adoptant une démarche méthodologique rigoureuse de collecte et d'exploitation de données quantitatives, et en ayant recours le cas échéant à des résolutions graphiques.

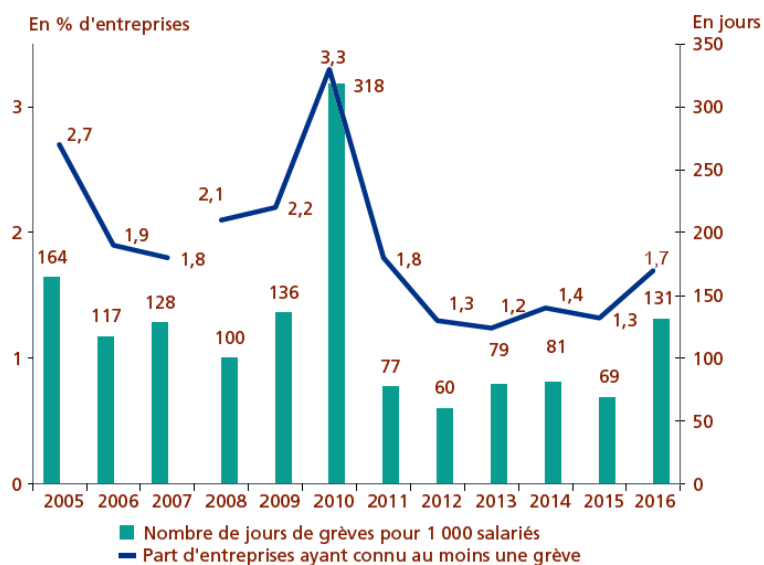
- Seconde partie : Raisonnement appuyé sur un dossier documentaire (10 points)

Il est demandé au candidat de traiter le sujet en développant un raisonnement de l'ordre d'une page, en exploitant les documents du dossier et en mobilisant ses connaissances.

Il sera tenu compte, dans la notation, de la clarté de l'expression et du soin apporté à la présentation.

Première partie : Mobilisation de connaissances et traitement de l'information (10 points)

Document : Entreprises ayant déclaré au moins une grève et nombre de jours de grève pour 1 000 salariés de 2005 à 2016 en France



Champ : Entreprises de plus de 10 salariés ou plus du secteur marchand (hors agriculture en France métropolitaine).

Lecture : en 2016, 1,7 % des entreprises de 10 salariés ou plus du secteur marchand ont connu une grève dans l'entreprise et le nombre de journées non travaillées pour fait de grève rapporté aux effectifs salariés équivaut à 131 jours pour 1000 salariés.

Source : DARES, À 2018.

Questions :

1. Présentez deux types de relations sociales au sein d'une entreprise. (3 points)
2. À l'aide d'un calcul de votre choix, mesurez l'évolution du nombre de jours de grève pour 1 000 salariés entre 2005 et 2010. (3 points)
3. À l'aide du document, comment la conflictualité évaluée à partir des grèves a-t-elle évolué au sein des entreprises en France entre 2005 et 2016. (4 points)

Modèle CCYC : ©DNE

Nom de famille (naissance) :

(Suivi s'il y a lieu, du nom d'usage)

Prénom(s) :

N° candidat : N° d'inscription :

(Les numéros figurent sur la convocation.)

Né(e) le : / /

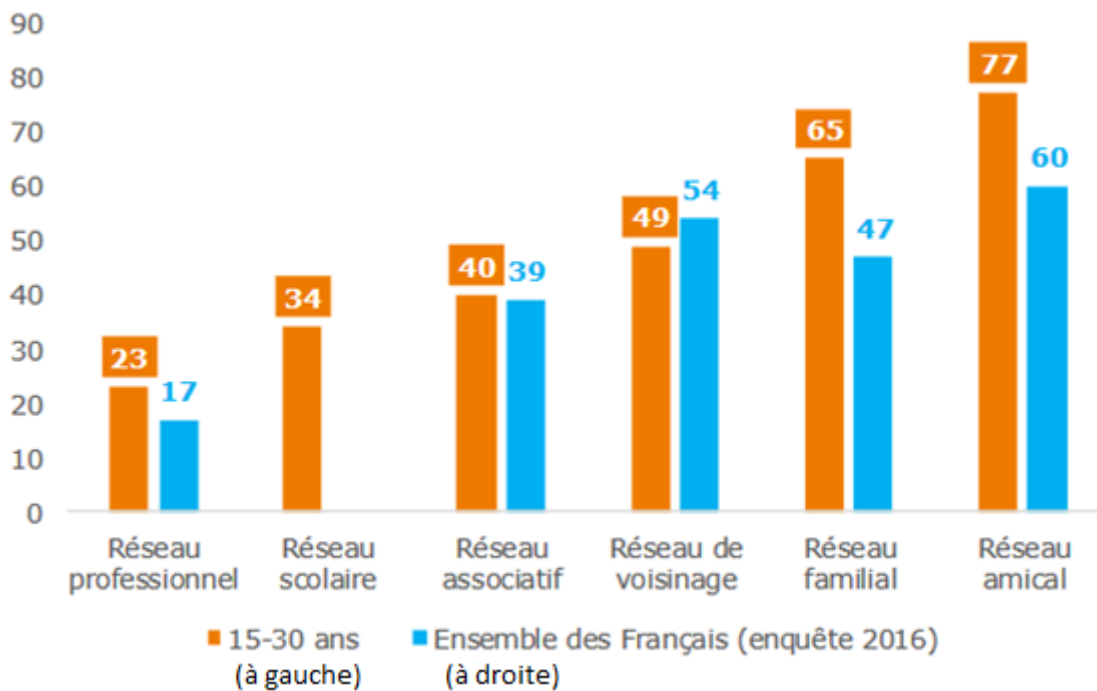
Liberté • Égalité • Fraternité
RÉPUBLIQUE FRANÇAISE

1.1

Seconde partie : Raisonnement appuyé sur un dossier documentaire (10 points)

Sujet : À partir du dossier documentaire et de vos connaissances, vous présenterez la diversité des liens sociaux.

Document 1 : Part des individus qui entrent en contact plusieurs fois par an avec les membres de leurs réseaux (en %)



Sources : CREDOC, Enquête « Conditions de vie et Aspirations », étude pour la Fondation de France, 2016 ; CREDOC, *Enquête pour la Fondation de France*, 2017.

Document 2 :

Nicolas a 29 ans. Il est instituteur dans une école à Créteil et vit dans un petit appartement, non loin de son travail. Marie-Ange a 38 ans. Elle est divorcée, a deux enfants et est sans emploi. Elle fait des ménages au noir, touche des allocations familiales, et perçoit une pension alimentaire de son ex-époux. Elle vit aussi à Créteil, dans le même quartier que Nicolas. Ils se croisent parfois, mais ne se connaissent pas et ne se sont jamais parlé. Et pourtant ils sont unis par des liens sociaux invisibles. Des liens très concrets. Comme tout salarié, Nicolas paye des impôts et cotise à la Sécurité sociale : assurance maladie, chômage, vieillesse. Si demain Marie-Ange est malade, elle sait que ses soins seront remboursés. Ils seront payés en partie à partir des cotisations prélevées sur le salaire de Nicolas. Lorsque Marie-Ange va au supermarché faire ses courses, elle ne sait pas qu'une partie de ses achats serviront à payer Sandrine, la concubine de Nicolas, qui travaille comme comptable. Elle ne se rend pas compte aussi qu'en payant ses dépenses, elle paie un impôt (la TVA) qui va servir à alimenter les caisses de l'État, et donc l'école où vont ses enfants. Nicolas et Marie-Ange ne se connaissent pas. Mais la société a pourtant tissé entre eux, comme entre des millions d'autres gens, une infinité de petits liens de dépendance réciproques : à travers le commerce, les impôts, les assurances. À travers l'école aussi : Nicolas est l'instituteur des enfants de Marie-Ange.

Source : Jean-François Dortier, « Aux sources du lien social », *Sciences Humaines*, Hors-série N° 33, juin, juillet, août 2001.