



Modèle CCYC : ©DNE

Nom de famille (naissance) :

(Suivi s'il y a lieu, du nom d'usage)

Prénom(s) :

N° candidat :

N° d'inscription :



Liberté • Égalité • Fraternité
RÉPUBLIQUE FRANÇAISE

(Les numéros figurent sur la convocation.)

Né(e) le :

1.1

Thème A : types de base

Réponse à la question 1	A	B	C	D
Réponse à la question 2	A	B	C	D
Réponse à la question 3	A	B	C	D
Réponse à la question 4	A	B	C	D
Réponse à la question 5	A	B	C	D
Réponse à la question 6	A	B	C	D

Thème B : types construits

Réponse à la question 1	A	B	C	D
Réponse à la question 2	A	B	C	D
Réponse à la question 3	A	B	C	D
Réponse à la question 4	A	B	C	D
Réponse à la question 5	A	B	C	D
Réponse à la question 6	A	B	C	D

Thème C : traitement de données en tables

Réponse à la question 1	A	B	C	D
Réponse à la question 2	A	B	C	D
Réponse à la question 3	A	B	C	D
Réponse à la question 4	A	B	C	D
Réponse à la question 5	A	B	C	D
Réponse à la question 6	A	B	C	D

Thème D : interactions entre l'homme et la machine sur le Web

Réponse à la question 1	A	B	C	D
Réponse à la question 2	A	B	C	D
Réponse à la question 3	A	B	C	D
Réponse à la question 4	A	B	C	D
Réponse à la question 5	A	B	C	D
Réponse à la question 6	A	B	C	D



Thème E : architectures matérielles et systèmes d'exploitation

Réponse à la question 1	A	B	C	D
Réponse à la question 2	A	B	C	D
Réponse à la question 3	A	B	C	D
Réponse à la question 4	A	B	C	D
Réponse à la question 5	A	B	C	D
Réponse à la question 6	A	B	C	D

Thème F : langages et programmation

Réponse à la question 1	A	B	C	D
Réponse à la question 2	A	B	C	D
Réponse à la question 3	A	B	C	D
Réponse à la question 4	A	B	C	D
Réponse à la question 5	A	B	C	D
Réponse à la question 6	A	B	C	D

Thème G : algorithmique

Réponse à la question 1	A	B	C	D
Réponse à la question 2	A	B	C	D
Réponse à la question 3	A	B	C	D
Réponse à la question 4	A	B	C	D
Réponse à la question 5	A	B	C	D
Réponse à la question 6	A	B	C	D

Modèle CCYC : ©DNE

Nom de famille (naissance) :


(Suivi s'il y a lieu, du nom d'usage)

Prénom(s) :

N° candidat : N° d'inscription :

(Les numéros figurent sur la convocation.)

Né(e) le : / /



1.1

Thème A : types de base

Question A 1

Quelle est l'écriture décimale de l'entier qui s'écrit 1010 en binaire ?

Réponses

- A 5
- B 10
- C 20
- D 22

Question A 2

Quelle est la valeur de x à la fin de l'exécution du script Python suivant ?

```
x = 1
for i in range(10):
    x = x * 2
```

Réponses

- A 2
- B 1024
- C 2048
- D 2000000000

Question A 3

Parmi les quatre propositions, quelle est celle qui correspond au résultat de l'addition en écriture binaire 1101 1001 + 11 0110 ?

Réponses

- A 1000 1111
- B 10 0000 1111
- C 1 0000 1111
- D 1 1000 0111

Question A 4

Dans quel système de numération 3F5 représente-t-il un nombre entier ?

Réponses

- A binaire (base 2)
- B octal (base 8)
- C décimal (base 10)
- D hexadécimal (base 16)

Question A 5



Soient P et Q deux formules logiques telles que P est vraie et Q est fausse.
Quelle est la valeur de l'expression $(P \text{ ET } Q) \text{ OU } (\text{NON}(P) \text{ OU } Q)$?

Réponses

- A vraie
- B fausse
- C ni vraie, ni fausse
- D vraie et fausse en même temps

Question A 6

Parmi les quatre propositions, quelle est celle qui correspond au résultat de la soustraction en écriture hexadécimale $CD8FA - 9FF81$?

Réponses

- A 6E87B
- B 6D88B
- C 16D88B
- D 16E87B

Modèle CCYC : ©DNE

Nom de famille (naissance) :

(Suivi s'il y a lieu, du nom d'usage)

Prénom(s) :

N° candidat :

N° d'inscription :



Liberté • Égalité • Fraternité
RÉPUBLIQUE FRANÇAISE

Né(e) le :

(Les numéros figurent sur la convocation.)

1.1

Thème B : types construits

Question B 1

On définit la liste L ainsi :

$L = [[1], [1, 2], [1, 2, 3]]$

Des égalités suivantes, une seule est fautive. Laquelle ?

Réponses

- A $\text{len}(L[0]) == 1$
- B $\text{len}(L) == 6$
- C $\text{len}(L[2]) == 3$
- D $L[2][2] == 3$

Question B 2

Laquelle des expressions suivantes a-t-elle pour valeur la liste des carrés des premiers entiers qui ne sont **pas** multiples de 5 ?

Réponses

- A $[x*x \text{ for } x \text{ in range}(11) \text{ if } x//5 \neq 0]$
- B $[x*x \text{ if } x\%5 \neq 0 \text{ for } x \text{ in range}(11)]$
- C $[x*x \text{ if } x//5 \neq 0 \text{ for } x \text{ in range}(11)]$
- D $[x*x \text{ for } x \text{ in range}(11) \text{ if } x\%5 \neq 0]$

Question B 3

L est une liste d'entiers.

On définit la fonction suivante :

```
def f(L):  
    m = L[0]  
    for x in L:  
        if x > m:  
            m = x  
    return m
```

Que calcule cette fonction ?

Réponses

- A le maximum de la liste L passée en argument
- B le minimum de la liste L passée en argument
- C le premier terme de la liste L passée en argument
- D le dernier terme de la liste L passée en argument

Question B 4

On exécute le code suivant :

```
placard = { 'chemise': 3, 'pantalon': 6, 'tee shirt': 7 }  
placard['chaussette'] = 4  
placard['chemise'] = 5
```

```
L = list(placard.values())
```

Quelle est la valeur de la variable L à l'issue de cette exécution ?



Réponses

- A [3, 6, 7]
- B [3, 6, 7, 4]
- C [5, 6, 7]
- D [5, 6, 7, 4]

Question B 5

Quelle est la valeur de l'expression `[[i,2*i] for i in range(3)]` ?

Réponses

- A `[0,0,1,2,2,4]`
- B `[[0,0],[1,2],[2,4]]`
- C `[1,2,2,4,3,6]`
- D `[[1,2],[2,4],[3,6]]`

Question B 6

On définit le dictionnaire dico par les instructions suivantes :

```
def f(x):  
    return x*x
```

```
def g(x):  
    return x + x
```

```
def h(x):  
    return 3*x
```

```
dico = { 'F': f, 'G': g(6), 'H': h }
```

Une seule des affirmations suivantes est incorrecte. Laquelle ?

Réponses

- A `dico['F']` est une fonction
- B `dico['F'](5)` est un entier
- C `dico['G']` est une fonction
- D `dico['G']` est un entier

Modèle CCYC : ©DNE

Nom de famille (naissance) :

(Suivi s'il y a lieu, du nom d'usage)

Prénom(s) :

N° candidat : N° d'inscription :

(Les numéros figurent sur la convocation.)

Né(e) le : / /



1.1

Thème C : traitement de données en tables

Question C 1

On dispose du fichier « info.csv » donné ci-dessous :

```
nom, prenom, naissance, deces
lovelace, ada, 1815, 1852
von neumann, john, 1903, 1957
turing, alan, 1912, 1954
mccarthy, john, 1927, 2011
floyd, robert, 1936, 2001
```

Le programme ci-dessous nous permet de créer un tableau à partir de ce fichier.

```
file = open("info.csv", "r")
firstLine = file.readline() # chargement de la ligne d'entête
tableau = [line.split(',') for line in file] # chargement des données
```

Les index des lignes de ce tableau vont...

Réponses

- A de 0 à 3
- B de 1 à 4
- C de 0 à 4
- D de 0 à 5

Question C 2

On utilise habituellement un fichier d'extension csv pour quel type de données ?

Réponses

- A des données structurées graphiquement
- B des données sonores
- C des données compressées
- D des données structurées en tableau

Question C 3

On considère la table suivante :

```
t = [ {'type': 'marteau', 'prix': 17, 'quantité': 32},
      {'type': 'scie', 'prix': 24, 'quantité': 3},
      {'type': 'tournevis', 'prix': 8, 'quantité': 45} ]
```

Quelle expression permet d'obtenir la quantité de scies ?

Réponses

- A t[2]['quantité']
- B t[1]['quantité']
- C t['quantité'][1]
- D t['scies']['quantité']

Question C 4

On définit les notes des élèves dans le dictionnaire suivant :

```
notes = { 'Pierre' : 9, 'Paule' : 16, 'Claire' : 12,
          'Sophie' : 11, 'Yasmine' : 8,
          'David' : 17, 'Julie' : 3 }
```



Quelle expression permet d'accéder à la note de l'élève Claire ?

Réponses

- A notes[12]
- B notes[2]
- C notes['Claire']
- D notes.values('Claire')

Question C 5

Soit la table de données suivante :

nom	prenom	date_naissance
Dupont	Pierre	17/05/1987
Dupond	Catherine	18/07/1981
Haddock	Archibald	23/04/1998

Quels sont les descripteurs de ce tableau ?

Réponses

- A nom, prenom et date_naissance
- B Dupont, Pierre et 17/05/1987
- C Dupont, Dupond et Haddock
- D il n'y en a pas

Question C 6

On définit :

```
stock = [ {'nom': 'flageolets', 'quantité': 50, 'prix': 5.68},
          {'nom': 'caviar', 'quantité': 0, 'prix': 99.99},
          .....
          .....
          {'nom': 'biscuits', 'quantité': 100, 'prix': 7.71} ]
```

Quelle expression permet d'obtenir la liste des noms des produits effectivement présents dans le stock (c'est-à-dire ceux dont la quantité n'est pas nulle) ?

Réponses

- A ['nom' for p in stock if 'quantité' != 0]
- B [p for p in stock if p['quantité'] != 0]
- C [p['nom'] for p in stock if 'quantité' != 0]
- D [p['nom'] for p in stock if p['quantité'] != 0]

Modèle CCYC : ©DNE

Nom de famille (naissance) :


(Suivi s'il y a lieu, du nom d'usage)

Prénom(s) :

N° candidat : N° d'inscription :

(Les numéros figurent sur la convocation.)

Né(e) le : / /



1.1

Thème D : interactions entre l'homme et la machine sur le Web

Question D 1

Par quoi commence l'URL d'une page Web sécurisée ?

Réponses

- A http
- B https
- C ftp
- D smtp

Question D 2

Quelle est la machine qui exécute un programme JavaScript inclus dans une page HTML ?

Réponses

- A le serveur WEB qui contient la page HTML
- B la machine de l'utilisateur qui consulte la page HTML
- C un serveur du réseau
- D un routeur du réseau

Question D 3

Pour analyser les réponses saisies par l'utilisateur dans un formulaire d'une page Web personnelle, hébergée chez un fournisseur d'accès à internet, on dispose du code suivant :

```
<?php if ($_POST['choix'] == 'choix4')
    {echo 'Bravo, ';}
    else
    {echo "Non, vous vous trompez !";}
?>
```

Où s'exécutera ce code ?

Réponses

- A dans le premier routeur permettant d'accéder au serveur
- B dans le dernier routeur permettant d'accéder au serveur
- C dans le serveur qui héberge la page personnelle
- D dans la machine de l'utilisateur qui consulte la page personnelle

Question D 4

Quelle URL parmi les suivantes témoigne que l'échange entre le navigateur et le serveur est chiffré ?

Réponses

- A http://www.mabanque.com/
- B http://www.mabanque.fr/
- C https://www.mabanque.fr/
- D http://secure.mabanque.fr/

Question D 5

Parmi les couples de balises suivants, lequel permet de créer un formulaire ?

Réponses



- A <body> </body>
- B <html> </html>
- C <div> </div>
- D <form> </form>

Question D 6

Quelle méthode est utilisée via une requête HTTP pour envoyer une image via un formulaire HTML ?

Réponses

- A HEAD
- B PUT
- C POST
- D GET

Modèle CCYC : ©DNE

Nom de famille (naissance) :

(Suivi s'il y a lieu, du nom d'usage)

Prénom(s) :

N° candidat :

N° d'inscription :

(Les numéros figurent sur la convocation.)

Né(e) le :



1.1

Thème E : architectures matérielles et systèmes d'exploitation

Question E 1

Sous Linux, la console indique que l'utilisateur se trouve dans le dossier `/var/lib`. Quelle commande doit-il exécuter pour revenir dans son dossier personnel `/home/martin` ?

Réponses

- A `cd ~`
- B `cd /home`
- C `dir`
- D `dir /home/martin`

Question E 2

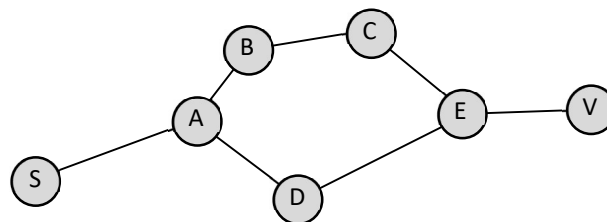
Le répertoire personnel de l'utilisateur contient deux répertoires `tempo` et `sauve`. On souhaite déplacer le fichier `bac.txt` du répertoire `tempo` vers le répertoire `sauve`. Quelle commande permet de réaliser ce déplacement ?

Réponses

- A `mkdir ~/tempo/bac.txt ~/sauve`
- B `mkdir ~/sauve ~/tempo/bac.txt`
- C `mv ~/tempo/bac.txt ~/sauve`
- D `mv ~/sauve ~/tempo/bac.txt`

Question E 3

Vivien télécharge un logiciel à partir d'un site commercial. Le transfert par Internet du logiciel a débuté entre le serveur (machine S) et son domicile (machine V). On a représenté des routeurs A, B, C, D et E et les liens existants. Les paquets IP suivent le chemin passant par les routeurs A, B, C et E.



Durant un orage, la foudre frappe et détruit le serveur C par lequel transitent les paquets correspondant au fichier que télécharge Vivien. Que se passe-t-il ?

Réponses

- A la liaison étant coupée, le serveur ne sera plus accessible
- B le téléchargement n'est pas interrompu car les paquets peuvent transiter par le routeur D
- C le téléchargement est interrompu, Vivien doit redémarrer une nouvelle connexion à partir de zéro
- D le téléchargement se poursuit mais des données seront perdues

Question E 4

La mémoire RAM :

**Réponses**

- A ne fonctionne qu'en mode lecture
- B ne fonctionne qu'en mode écriture
- C conserve les données en cas de coupure de l'alimentation
- D perd les données en cas de coupure de l'alimentation

Question E 5

Dans un ordinateur, que permet de faire la mémoire vive ?

Réponses

- A Stocker les données de façon permanente
- B Afficher les informations sur l'écran
- C Réaliser les calculs
- D Stocker les données de façon temporaire

Question E 6

Parmi ces propositions, laquelle désigne un système d'exploitation libre ?

Réponses

- A LibreOffice
- B Windows
- C MacOS
- D GNU-Linux

Modèle CCYC : ©DNE

Nom de famille (naissance) :

(Suivi s'il y a lieu, du nom d'usage)

Prénom(s) :

N° candidat :

N° d'inscription :



(Les numéros figurent sur la convocation.)

Né(e) le :

1.1

Thème F : langages et programmation

Question F 1

On exécute le script suivant :

```
a = 4
b = 4
c = 4
while a < 5:
    a = a - 1
    b = b + 1
    c = c * b
```

Que peut-on dire ?

Réponses

- A ce programme ne termine pas
- B à la fin de l'exécution, la variable a vaut 5
- C à la fin de l'exécution, la variable b vaut 34
- D à la fin de l'exécution, la variable c vaut 42

Question F 2

On a défini une liste L de nombres entiers.

Quelle est la valeur de la variable m à la fin de l'exécution du script suivant ?

```
m = L[0]
for j in range(len(L)):
    if m < L[j]:
        m = L[j]
```

Réponses

- A la moyenne de la liste L
- B le minimum de la liste L
- C le maximum de la liste L
- D la longueur de la liste L

Question F 3

Dans le programme JavaScript suivant, quelle est la notation qui délimite le bloc d'instructions exécuté à chaque passage dans la boucle while ?

```
i = 0
while (i < 10) {
    alert(i)
    i = i + 1
}
alert("Fin")
```

Réponses

- A le fait que les instructions soient encadrées entre { et }
- B le fait que les instructions soient indentées de 4 caractères comme en Python
- C le fait que les instructions suivent le mot clé while
- D le fait que les instructions suivent la parenthèse)

Question F 4



On souhaite écrire une fonction qui renvoie le maximum d'une liste d'entiers :

```
def maximum(L):  
    m = L[0]  
    for i in range(1,len(L)):  
        if .....:  
            m = L[i]  
    return m
```

Par quoi faut-il remplacer les pointillés pour que cette fonction produise bien le résultat attendu ?

Réponses

- A `i > m`
- B `L[i] > m`
- C `L[i] > L[i-1]`
- D `L[i] > L[i+1]`

Question F 5

On définit la fonction :

```
def f(a,b):  
    assert b!=0,'le deuxième argument est nul'  
    result = a/b  
    return result
```

Qu'obtient-on en exécutant la commande `r = f(4,0)` ?

Réponses

- A une erreur `ZeroDivisionError: division by zero` et l'arrêt de l'exécution
- B une erreur `NameError: name 'b' is not defined` et l'arrêt de l'exécution
- C une erreur `AssertionError: le deuxième argument est nul` et la variable `r` prend la valeur 0
- D une erreur `AssertionError: le deuxième argument est nul` et l'arrêt de l'exécution

Question F 6

Quelles sont les valeurs des variables `x` et `y` à la fin de l'exécution du script suivant :

```
x = 4  
while x > 0:  
    y = 1  
    while y < x:  
        y = y + 1  
        x = x - 1
```

Réponses

- A l'exécution ne termine pas !
- B la valeur de `x` est 0, celle de `y` est 0
- C la valeur de `x` est 0, celle de `y` est 1
- D la valeur de `x` est -1, celle de `y` est 0

Modèle CCYC : ©DNE

Nom de famille (naissance) :

(Suivi s'il y a lieu, du nom d'usage)

Prénom(s) :

N° candidat :

N° d'inscription :



(Les numéros figurent sur la convocation.)

Né(e) le :

1.1

Thème G : algorithmique

Question G 1

À la fin de l'exécution du code suivant, quelle sera la valeur de la variable `cpt` ?

```
a = 1
cpt = 20
while cpt > 8:
    a = 2*a
    cpt = cpt - 1
```

Réponses

- A 0
- B 7
- C 8
- D 9

Question G 2

En utilisant une recherche dichotomique, combien faut-il de comparaisons avec l'opérateur `==` pour trouver une valeur dans un tableau trié de 1000 nombres, dans le pire des cas ?

Réponses

- A 3
- B 10
- C 1000
- D 1024

Question G 3

Un algorithme de recherche dichotomique dans une liste triée de taille n nécessite, dans le pire des cas, exactement k comparaisons.

Combien cet algorithme va-t-il utiliser, dans le pire des cas, de comparaisons sur une liste de taille $2n$?

Réponses

- A k
- B $k + 1$
- C $2k$
- D $2k + 1$

Question G 4

On définit la fonction suivante :

```
def traitement(liste) :
    m = liste[0]
    for i in range (len(liste)) :
        if liste[i] > m:
            m = liste[i]
    return m
```



Que vaut traitement([-2,5,6,-10,35]) ?

Réponses

- A None
- B -10
- C -6
- D 35

Question G 5

a et m étant deux entiers supérieurs à 1, la fonction suivante renvoie a^m .

```
def puissance(a,m):  
    p = 1  
    n = 0  
    while n < m:  
        p = p * a  
        #  
        n = n + 1  
    return p
```

Quelle est l'égalité qui est vérifiée à chaque passage par la ligne marquée # ?

Réponses

- A $p = a^{n-1}$
- B $p = a^n$
- C $p = a^{n+1}$
- D $p = a^m$

Question G 6

Quelle valeur permet de compléter l'affirmation suivante : « Le nombre d'opérations nécessaires pour rechercher un élément séquentiellement dans une liste de longueur n est de l'ordre de ... » ?

Réponses

- A 1
- B n
- C n^2
- D n^3