

Modèle CCYC : ©DNE

Nom de famille (naissance) :

(Suivi s'il y a lieu, du nom d'usage)

Prénom(s) :

N° candidat :

N° d'inscription :



Liberté • Égalité • Fraternité  
RÉPUBLIQUE FRANÇAISE

Né(e) le :

(Les numéros figurent sur la convocation.)

1.1

## Évaluation

**CLASSE** : Première

**VOIE** :  Générale  Technologique  Toutes voies (LV)

**ENSEIGNEMENT** : spécialité Numérique et Sciences Informatiques (NSI)

**DURÉE DE L'ÉPREUVE** : 02 h 00

**Niveaux visés (LV)** : LVA LVB

**Axes de programme** :

**CALCULATRICE AUTORISÉE** :  Oui  Non

**DICTIONNAIRE AUTORISÉ** :  Oui  Non

Ce sujet contient des parties à rendre par le candidat avec sa copie. De ce fait, il ne peut être dupliqué et doit être imprimé pour chaque candidat afin d'assurer ensuite sa bonne numérisation.

Ce sujet intègre des éléments en couleur. S'il est choisi par l'équipe pédagogique, il est nécessaire que chaque élève dispose d'une impression en couleur.

Ce sujet contient des pièces jointes de type audio ou vidéo qu'il faudra télécharger et jouer le jour de l'épreuve.

**Nombre total de pages** : 19

L'épreuve consiste en 42 questions, rangées en 7 thèmes.

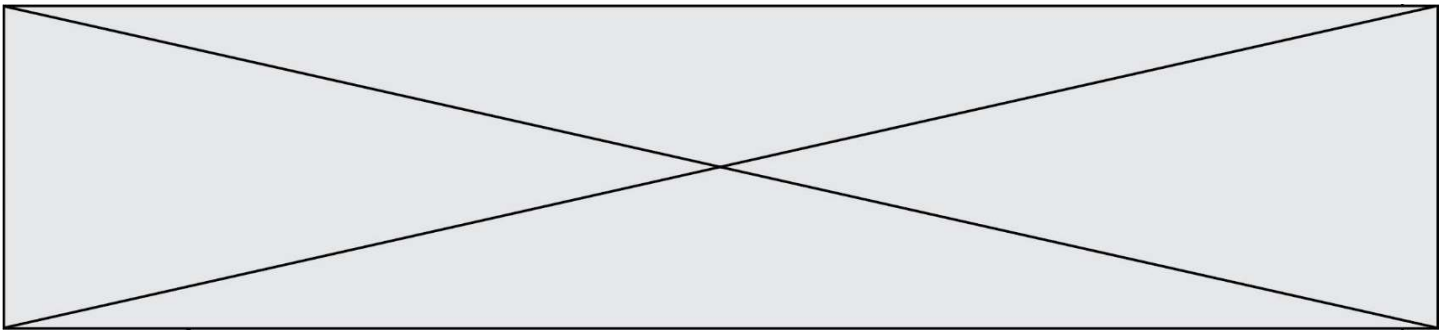
Le candidat gagne 1 point pour la réponse correcte et obtient un résultat nul pour une réponse fautive, une absence de réponse ou une réponse multiple.

Le résultat obtenu est transformé en note sur 20 selon la formule : nombre de points obtenus x 20/42.

**Le candidat indique ses réponses aux questions en pages 3 et 4.**

**Seules les pages 1 à 4 sont rendues par le candidat à la fin de l'épreuve, pour être numérisées.**

Les questions figurent sur les pages suivantes.



Modèle CCYC : ©DNE

Nom de famille (naissance) :

(Suivi s'il y a lieu, du nom d'usage)

Prénom(s) :

N° candidat :

N° d'inscription :



Liberté • Égalité • Fraternité  
RÉPUBLIQUE FRANÇAISE

(Les numéros figurent sur la convocation.)

Né(e) le :

1.1

### Thème A : types de base

Réponse à la question 1	A	B	C	D
Réponse à la question 2	A	B	C	D
Réponse à la question 3	A	B	C	D
Réponse à la question 4	A	B	C	D
Réponse à la question 5	A	B	C	D
Réponse à la question 6	A	B	C	D

### Thème B : types construits

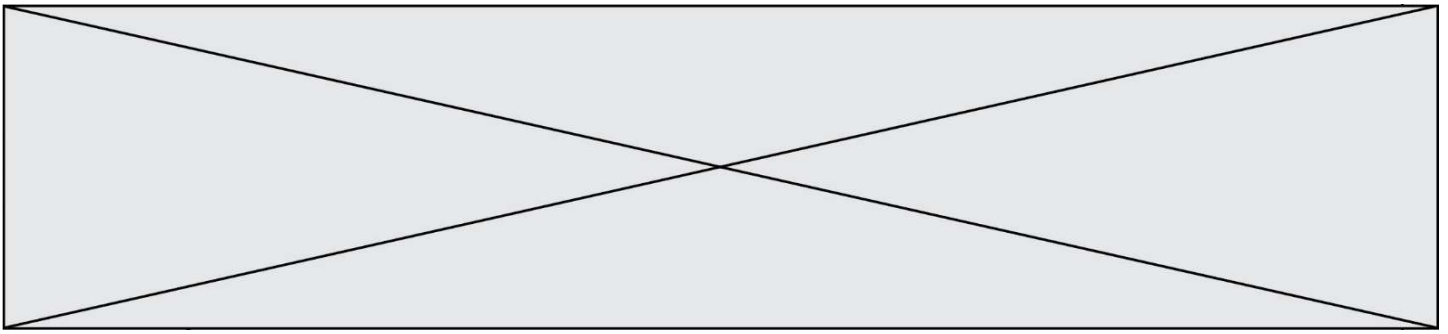
Réponse à la question 1	A	B	C	D
Réponse à la question 2	A	B	C	D
Réponse à la question 3	A	B	C	D
Réponse à la question 4	A	B	C	D
Réponse à la question 5	A	B	C	D
Réponse à la question 6	A	B	C	D

### Thème C : traitement de données en tables

Réponse à la question 1	A	B	C	D
Réponse à la question 2	A	B	C	D
Réponse à la question 3	A	B	C	D
Réponse à la question 4	A	B	C	D
Réponse à la question 5	A	B	C	D
Réponse à la question 6	A	B	C	D

### Thème D : interactions entre l'homme et la machine sur le Web

Réponse à la question 1	A	B	C	D
Réponse à la question 2	A	B	C	D
Réponse à la question 3	A	B	C	D
Réponse à la question 4	A	B	C	D
Réponse à la question 5	A	B	C	D
Réponse à la question 6	A	B	C	D



### **Thème E : architectures matérielles et systèmes d'exploitation**

Réponse à la question 1	A	B	C	D
Réponse à la question 2	A	B	C	D
Réponse à la question 3	A	B	C	D
Réponse à la question 4	A	B	C	D
Réponse à la question 5	A	B	C	D
Réponse à la question 6	A	B	C	D

### **Thème F : langages et programmation**

Réponse à la question 1	A	B	C	D
Réponse à la question 2	A	B	C	D
Réponse à la question 3	A	B	C	D
Réponse à la question 4	A	B	C	D
Réponse à la question 5	A	B	C	D
Réponse à la question 6	A	B	C	D

### **Thème G : algorithmique**

Réponse à la question 1	A	B	C	D
Réponse à la question 2	A	B	C	D
Réponse à la question 3	A	B	C	D
Réponse à la question 4	A	B	C	D
Réponse à la question 5	A	B	C	D
Réponse à la question 6	A	B	C	D

Modèle CCYC : ©DNE

Nom de famille (naissance) :


(Suivi s'il y a lieu, du nom d'usage)

Prénom(s) :

N° candidat :  N° d'inscription :

(Les numéros figurent sur la convocation.)

Né(e) le :  /  /



1.1

## Thème A : types de base

### Question A 1

On considère les nombres dont l'écriture en base 16 (en hexadécimal) sont de la forme suivante : un 1 suivi de 0 en nombre quelconque, comme 1, 10, 100, 1000 etc.

Tous ces nombres sont exactement :

#### Réponses

- A les puissances de 2
- B les puissances de 8
- C les puissances de 10
- D les puissances de 16

### Question A 2

Combien d'entiers positifs ou nuls (entiers non signés) peut-on représenter en machine sur 32 bits ?

#### Réponses

- A  $2^{32} - 1$
- B  $2^{32}$
- C  $2 \times 32$
- D  $32^2$

### Question A 3

Quel est le résultat de l'addition binaire  $0100\ 1110 + 0110\ 1101$  ?

#### Réponses

- A 0101 1011
- B 1010 1101
- C 1011 0110
- D 1011 1011

### Question A 4

Le code ASCII permet de représenter en binaire les caractères alphanumériques. Quel est son principal inconvénient ?

#### Réponses

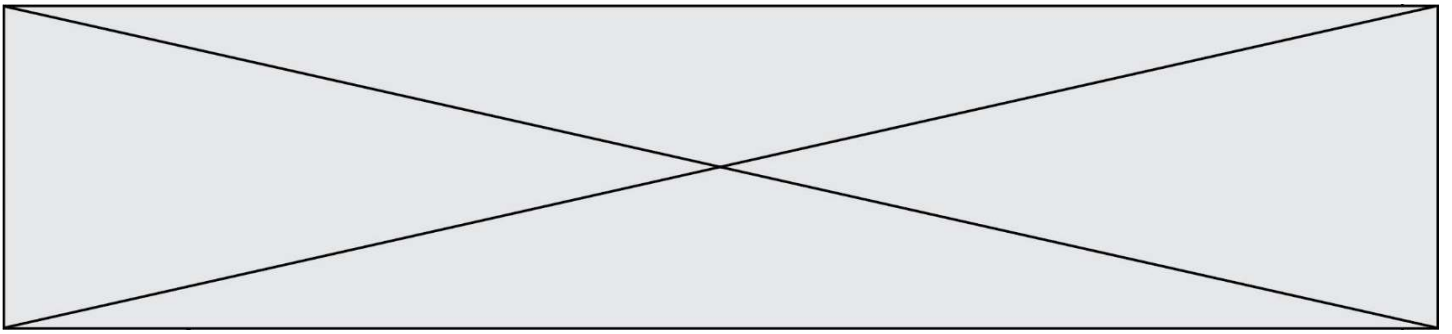
- A Il utilise beaucoup de bits.
- B Il ne différencie pas les majuscules des minuscules.
- C Il ne représente pas les caractères accentués.
- D Il n'est pas compatible avec la plupart des systèmes informatiques.

### Question A 5

L'entier positif 255 se représente en hexadécimal (base 16) par :

#### Réponses

- A 99
- B AA



- C CC
- D FF

**Question A 6**

Deux entiers positifs ont pour écriture en base 16 : A7 et 84.

Quelle est l'écriture en base 16 de leur somme ?

**Réponses**

- A 1811
- B 12B
- C 13A
- D A784

Modèle CCYC : ©DNE

Nom de famille (naissance) :

(Suivi s'il y a lieu, du nom d'usage)

Prénom(s) :

N° candidat :

N° d'inscription :



Né(e) le :

(Les numéros figurent sur la convocation.)

1.1

## Thème B : types construits

### Question B 1

Quelle est la valeur de la variable S à la fin de l'exécution du script suivant ?

```
res = [ [1,2,3], [4,5,6], [7,8,9] ]
S = 0
for i in range(3):
    S = S + res[i][2]
```

### Réponses

- A 12
- B 15
- C 18
- D 24

### Question B 2

On définit la variable suivante : `citation = "Les nombres gouvernent le monde"`.

Quelle est la valeur de l'expression `citation[5]+citation[6]` ?

### Réponses

- A "om"
- B "ombres"
- C "no"
- D `citation[11]`

### Question B 3

On définit : `t = [2, 8, 9, 2]`

Quelle est la valeur de l'expression `[ x*x for x in t ]` ?

### Réponses

- A une erreur
- B `[[2, 8, 9, 2], [2, 8, 9, 2]]`
- C `[2, 8, 8, 9, 9, 9, 2, 2, 2, 2]`
- D `[4, 64, 81, 4]`

### Question B 4

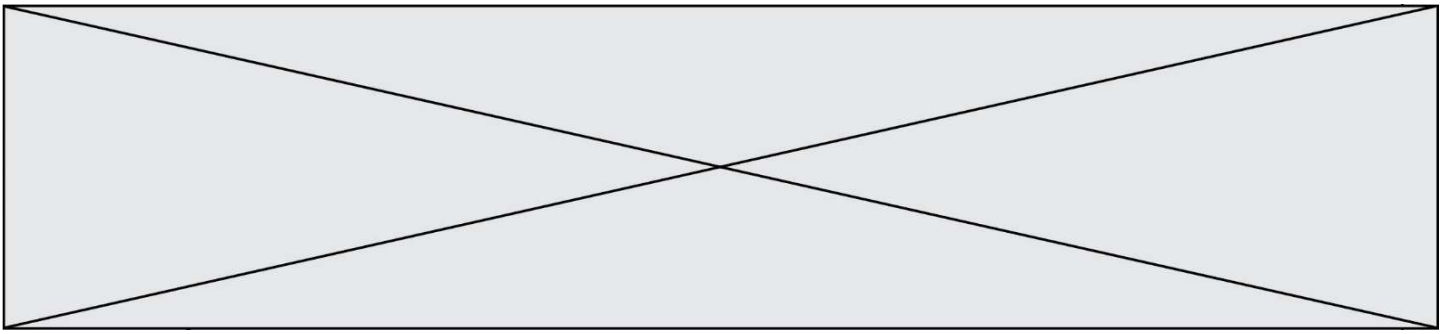
On considère le code suivant :

```
def s(tuple1, tuple2):
    (x1,y1) = tuple1
    (x2,y2) = tuple2
    return (x1+x2, y1+y2)
```

Que renvoie l'appel `s((1,3), (2,4))` ?

### Réponses

- A le tuple (3,7)
- B le tuple (4,6)
- C un entier
- D une erreur



**Question B 5**

```
t = [ 0 for i in range(10) ]  
  
for i in range(10):  
    if i%2==0:  
        t[i] = i
```

Une et une seule des affirmations suivantes est **vraie**. Laquelle ?

**Réponses**

- A** La liste t contient tous entiers compris entre 0 et 10.
- B** La liste t contient tous les entiers pairs compris entre 0 et 20.
- C** La liste t contient tous les entiers impairs compris entre 0 et 10.
- D** La liste t contient tous les entiers pairs compris entre 0 et 8.

**Question B 6**

On définit : L = [10,9,8,7,6,5,4,3,2,1].  
Quelle est la valeur de L[L[3]] ?

**Réponses**

- A** 3
- B** 4
- C** 7
- D** 8



Modèle CCYC : ©DNE

Nom de famille (naissance) :


(Suivi s'il y a lieu, du nom d'usage)

Prénom(s) :

N° candidat :  N° d'inscription :

(Les numéros figurent sur la convocation.)

Né(e) le :  /  /



1.1

## Thème C : traitement de données en tables

### Question C 1

On exécute le script suivant :

```
a = [1, 2, 3]
b = [4, 5, 6]
c = a + b
```

Que contient la variable c à la fin de cette exécution ?

#### Réponses

- A [5, 7, 9]
- B [1, 4, 2, 5, 3, 6]
- C [1, 2, 3, 4, 5, 6]
- D [1, 2, 3, 5, 7, 9]

### Question C 2

Laquelle de ces affirmations est vraie ?

#### Réponses

- A on ne peut accéder au contenu d'un fichier CSV que par l'intermédiaire d'un programme Python
- B CSV est un format de chiffrement des données
- C le format CSV a été conçu pour assurer la confidentialité d'une partie du code d'un programme
- D les fichiers CSV sont composés de données séparées par des caractères comme des virgules

### Question C 3

On a défini deux tables de données :

```
data1 = [('Bruce', 'Wayne'), ('Chuck', 'Norris'), ('Bruce', 'Lee'), ('Clark', 'Kent')]
data2 = [('Diana', 'Prince'), ('Chuck', 'Norris'), ('Peter', 'Parker')]
```

Quelle instruction permet de construire une table data regroupant l'ensemble des informations de data1 et data2 ?

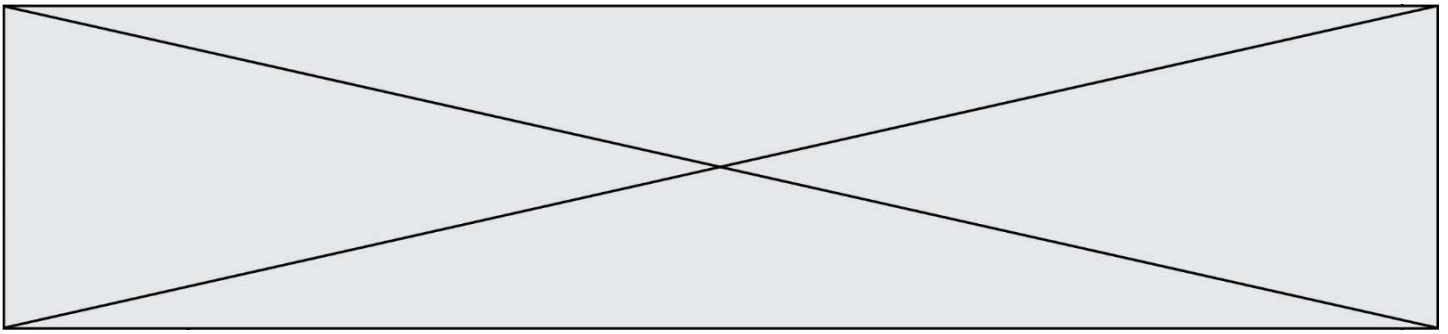
#### Réponses

- A data = data1 + data2
- B data == data1 + data2
- C data = [element for element in data1 or data2]
- D data = [data1] + [data2]

### Question C 4

Quelle est la valeur de la variable table après exécution du programme Python suivant ?

```
table = [12, 43, 6, 22, 37]
for i in range(len(table) - 1):
    if table[i] > table[i+1]:
        table[i], table[i+1] = table[i+1], table[i]
```



### Réponses

- A [6, 12, 22, 37, 43]
- B [12, 6, 22, 37, 43]
- C [43, 12, 22, 37, 6]
- D [43, 37, 22, 12, 6]

### Question C 5

On considère l'extraction suivante d'une base de données des départements français. Cette extraction a ensuite été sauvegardée dans un fichier texte.

```
"1", "01", "Ain", "AIN", "ain", "A500"  
"2", "02", "Aisne", "AISNE", "aisne", "A250"  
"3", "03", "Allier", "ALLIER", "allier", "A460"  
"4", "04", "Alpes-de-Haute-Provence", "ALPES-DE-HAUTE-PROVENCE", "alpes-de-haute-  
provence", "A412316152"  
"5", "05", "Hautes-Alpes", "HAUTES-ALPES", "hautes-alpes", "H32412"
```

Quel est le format de ce fichier ?

### Réponses

- A YML
- B XML
- C CSV
- D JSON

### Question C 6

On souhaite construire une table de 4 lignes de 3 éléments que l'on va remplir de 0. Quelle syntaxe Python utilisera-t-on ?

### Réponses

- A [ [ 0 ] \* 3 for i in range (4) ]
- B for i in range (4) [ 0 ] \* 3
- C [ 0 ] \* 3 for i in range (4)
- D [ for i in range (4) [ 0 ] \* 3 ]

Modèle CCYC : ©DNE

Nom de famille (naissance) :


(Suivi s'il y a lieu, du nom d'usage)

Prénom(s) :

N° candidat :  N° d'inscription :

(Les numéros figurent sur la convocation.)

Né(e) le :  /  /



1.1

## Thème D : interactions entre l'homme et la machine sur le Web

### Question D 1

Lorsque la méthode POST est associée à un formulaire au sein d'une page HTML, comment les réponses du formulaire sont-elles envoyées au serveur ?

#### Réponses

- A Elles sont visibles dans l'URL
- B Elles sont cachées de l'URL
- C Elles sont transmises via un service postal spécifique
- D Elles sont découpées en plusieurs petites URL limitées à 4 mots

### Question D 2

Compléter le script ci-dessous :

```
<!DOCTYPE html>
<html>
    <head>
        <.....>Ma page HTML</.....>
    </head>
</html>
```

#### Réponses

- A href
- B title
- C html
- D aucune des propositions précédentes

### Question D 3

Parmi les balises HTML ci-dessous quelle est celle qui permet à l'utilisateur de saisir son nom dans un formulaire en respectant la norme HTML ?

#### Réponses

- A <select />
- B <form />
- C <input type="text" />
- D <input type="name" />

### Question D 4

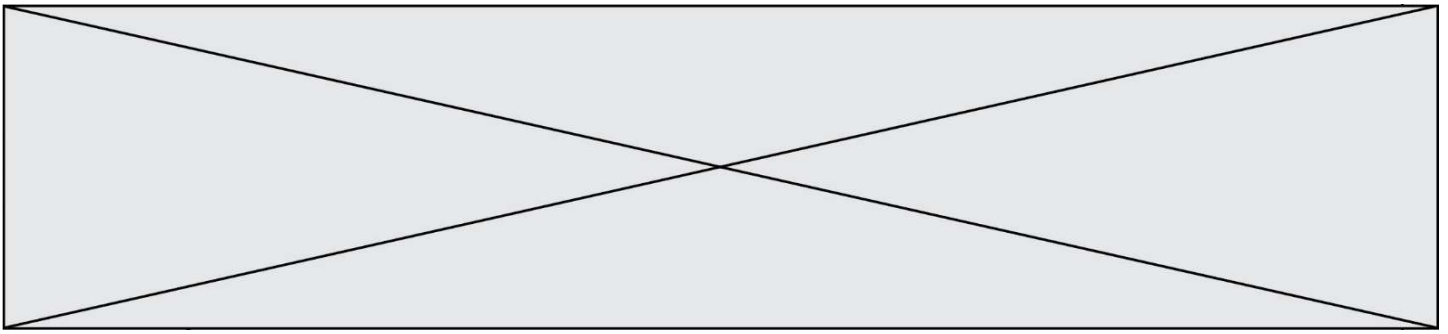
Pour analyser les réponses saisies par l'utilisateur dans un formulaire d'une page Web personnelle, hébergée chez un fournisseur d'accès à internet, on dispose du code suivant :

```
<?php if ($_POST['choix']=='choix4')
    {echo 'Bravo,';}
    else
    {echo "Non, vous vous trompez !";}
?>
```

Où s'exécutera ce code ?

#### Réponses

- A dans le premier routeur permettant d'accéder au serveur
- B dans le dernier routeur permettant d'accéder au serveur



- C dans le serveur qui héberge la page personnelle
- D dans la machine de l'utilisateur qui consulte la page personnelle

**Question D 5**

Quel est le code HTML permettant de créer un lien ?

**Réponses**

- A `<a>http://tip-top.fr </a>`
- B `<a href="http://tip-top.fr">Site du TIP-TOP</a>`
- C `<a name="http://tip-top.fr">`
- D `<a url=" http://tip-top.fr">Site du TIP-TOP</a>`

**Question D 6**

Un fichier HTML contient la ligne suivante.

```
<p>Coucou ! Ca va?</p>
```

Quelle commande CSS écrire pour que le texte apparaisse en rose sur fond jaune ?

**Réponses**

- A `p { couleur: rose ; fond: jaune;}`
- B `<p> { color = pink background-color = yellow}`
- C `<p> { color = pink ; background-color: yellow} </p>`
- D `p { color: pink ; background-color: yellow ;}`

Modèle CCYC : ©DNE

Nom de famille (naissance) :


(Suivi s'il y a lieu, du nom d'usage)

Prénom(s) :

N° candidat :  N° d'inscription :

(Les numéros figurent sur la convocation.)

Né(e) le :  /  /



RÉPUBLIQUE FRANÇAISE

1.1

## Thème E : architectures matérielles et systèmes d'exploitation

### Question E 1

Dans la console Linux, quelle commande faut-il exécuter pour obtenir le contenu du répertoire courant ?

#### Réponses

- A man pwd
- B cd pwd
- C ls -l
- D man ls -l

### Question E 2

Lequel de ces périphériques n'est pas un périphérique d'entrée ?

#### Réponses

- A le moniteur
- B le clavier
- C la souris
- D le scanner

### Question E 3

Lorsque, en ligne de commande, on saisit la commande

```
rm *
```

ceci a pour effet :

#### Réponses

- A d'activer une télécommande
- B d'accéder au répertoire parent du répertoire courant
- C d'effacer tous les fichiers du répertoire courant et ses sous-répertoires
- D d'effacer tous les fichiers du répertoire courant

### Question E 4

Sachant que `hibou` est un fichier présent dans le répertoire courant, quel est l'effet de la commande suivante : `mv hibou chouette`

#### Réponses

- A déplacer le fichier `hibou` dans le répertoire `chouette`
- B ajouter le contenu du fichier `hibou` à la fin du fichier `chouette`
- C renommer le fichier `hibou` en `chouette`
- D créer le fichier `chouette`, copie du fichier `hibou`

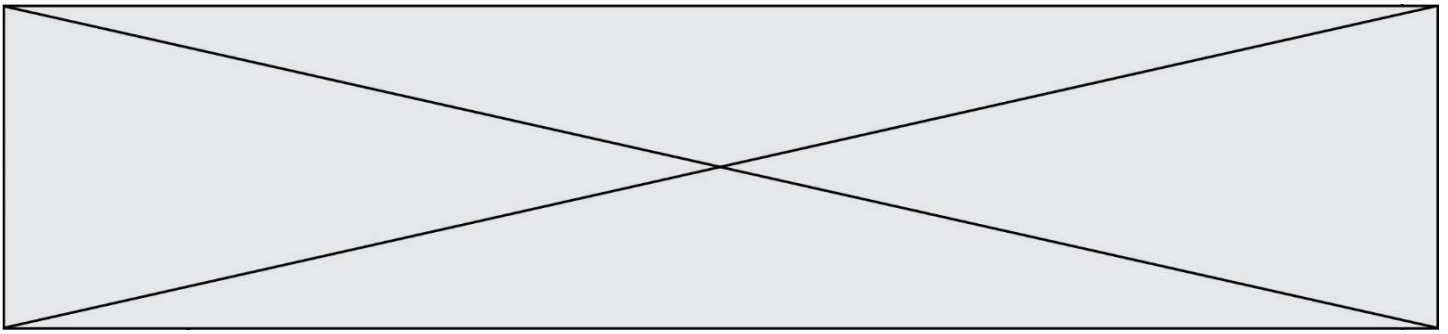
### Question E 5

Sur la configuration IP d'une machine nommée MACH01 on peut lire :

```
adresse Ipv4 : 172.16.100.201
Masque de sous-réseau : 255.255.0.0
Passerelle : 172.16.0.254
```

Sur la configuration IP d'une machine nommée MACH02 on peut lire :

```
adresse Ipv4 : 172.16.100.202
```



Masque de sous-réseau : 255.255.0.0  
Passerelle : 172.16.0.254

Depuis la machine MACH02, à l'aide de quelle commande peut-on tester le dialogue entre ces deux machines ?

**Réponses**

- A ping 172.16.100.201
- B ping 172.16.100.202
- C ping 172.16.100.254
- D ping 255.255.0.0

**Question E 6**

Nous disposons des commandes suivantes en langage machine :

Instructions	Effet
LD X	Lit le contenu de la cellule X ( $ACC \leftarrow \#X$ )
STO X	Enregistre dans la cellule X ( $\#X \leftarrow ACC$ )
ADD X	Ajoute le contenu de la cellule X ( $ACC \leftarrow ACC + \#X$ )
SUB X	Soustrait le contenu de la cellule X ( $ACC \leftarrow ACC - \#X$ )
END	Arrêt du programme

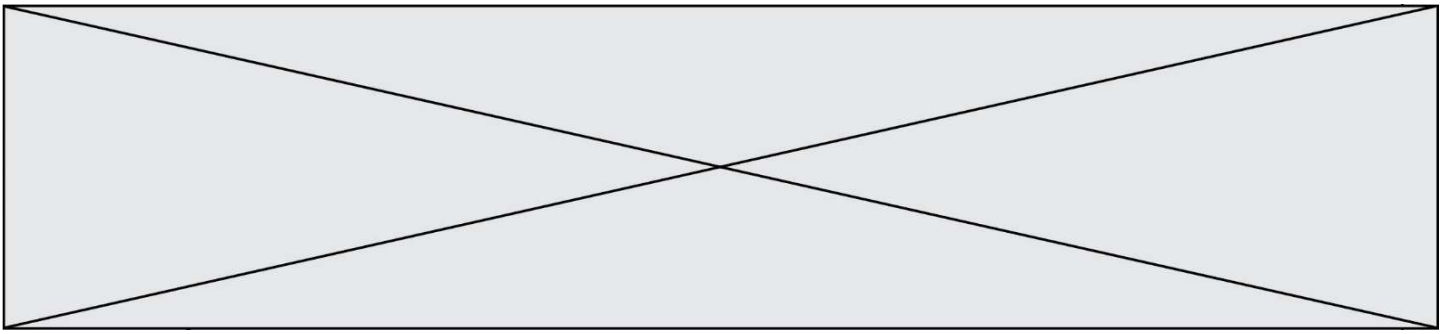
Que fait le programme suivant :

Adresse	Contenu
0	25
1	14
...	...
8	LD 0
9	SUB 1
10	STO 2
11	END

**Réponses**

- A 25 + 14
- B 14 - 25
- C 25 - 14
- D 25 . 14



**Réponses**

- A [-1, -8, 12, 2, 23]
- B [0, 18, 12, 2, 3]
- C [-1, -1, 12, 12, 23]
- D [1, 8, 12, 2, 23]

**Question F 4**

On exécute le code suivant :

```
def essai():  
    a = 2  
    b = 3  
    c = 4  
    return a  
    return b  
    return c
```

```
t = essai()
```

Quelle est la valeur de t après l'exécution de ce code ?

**Réponses**

- A 2
- B 3
- C 4
- D (2,3,4)

**Question F 5**

On définit la fonction suivante :

```
def f(x):  
    for d in range(2,x):  
        if x%d == 0:  
            return d
```

Quelle est la valeur renvoyée par l'appel f(15) ?

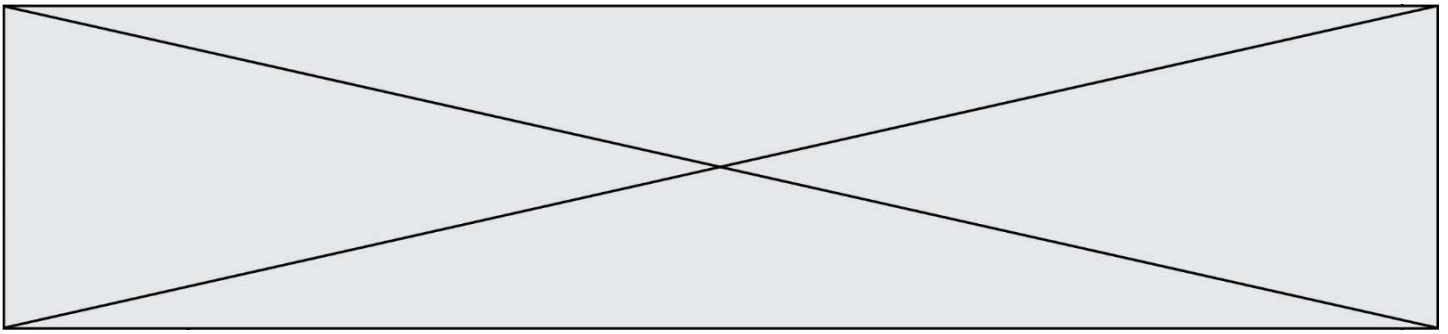
**Réponses**

- A 3
- B 5
- C 3,5
- D 3,5,15

**Question F 6**







## Thème G : algorithmique

### Question G 1

$a$  et  $m$  étant deux entiers supérieurs à 1, la fonction suivante renvoie  $a^m$ .

```
def puissance(a,m):  
    p = 1  
    n = 0  
    while n < m:  
        #  
        p = p * a  
        n = n + 1  
    return p
```

Quelle est l'égalité qui est vérifiée à chaque passage par la ligne marquée # ?

#### Réponses

- A  $p = a^{n-1}$
- B  $p = a^n$
- C  $p = a^{n+1}$
- D  $p = a^m$

### Question G 2

Quelle est la valeur de `element` à la fin de l'exécution du code suivant :

```
L = [1,2,3,4,1,2,3,4,0,2]
```

```
element = L[0]  
for k in L:  
    if k > element:  
        element = k
```

#### Réponses

- A 0
- B 1
- C 4
- D 10

### Question G 3

On dispose en quantité illimitée de pièces de 1 euro, 2 euros et 5 euros. On veut totaliser une somme de 18 euros. Quelle est la solution donnée par l'algorithme glouton ?

#### Réponses

- A [5, 5, 5, 2, 1]
- B [5, 5, 5, 2, 2, 1]
- C [5, 5, 2, 2, 2, 1, 1]
- D [5, 2, 2, 2, 2, 1, 1, 1, 1, 1]

### Question G 4

On considère la fonction suivante :

```
def f(x,L):  
    i = 0
```

