

Modèle CCYC : ©DNE


Nom de famille (naissance) : []
 (Suivi s'il y a lieu, du nom d'usage)

Prénom(s) : []

N° candidat : [] [] [] [] [] [] [] [] [] [] [] [] N° d'inscription : [] [] [] []

(Les numéros figurent sur la convocation.)

Né(e) le : [] [] / [] [] / [] [] [] [] [] []



1.1

Évaluation

CLASSE : Première

VOIE : Générale Technologique Toutes voies (LV)

ENSEIGNEMENT : spécialité Numérique et Sciences Informatiques (NSI)

DURÉE DE L'ÉPREUVE : 02 h 00

Niveaux visés (LV) : LVA LVB

Axes de programme :

CALCULATRICE AUTORISÉE : Oui Non

DICTIONNAIRE AUTORISÉ : Oui Non

Ce sujet contient des parties à rendre par le candidat avec sa copie. De ce fait, il ne peut être dupliqué et doit être imprimé pour chaque candidat afin d'assurer ensuite sa bonne numérisation.

Ce sujet intègre des éléments en couleur. S'il est choisi par l'équipe pédagogique, il est nécessaire que chaque élève dispose d'une impression en couleur.

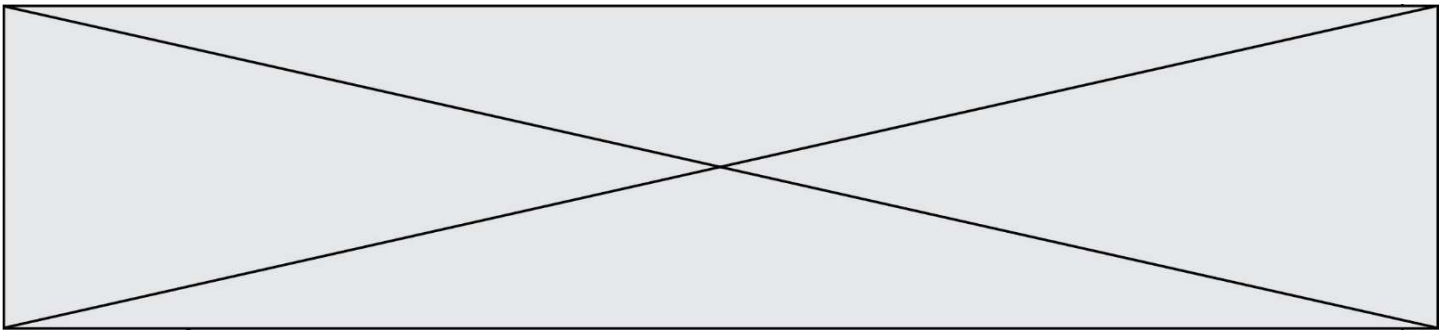
Ce sujet contient des pièces jointes de type audio ou vidéo qu'il faudra télécharger et jouer le jour de l'épreuve.

Nombre total de pages : 18

L'épreuve consiste en 42 questions, rangées en 7 thèmes.
 Le candidat gagne 1 point pour la réponse correcte et obtient un résultat nul pour une réponse fautive, une absence de réponse ou une réponse multiple.
 Le résultat obtenu est transformé en note sur 20 selon la formule : nombre de points obtenus x 20/42.

**Le candidat indique ses réponses aux questions en pages 3 et 4.
 Seules les pages 1 à 4 sont rendues par le candidat à la fin de l'épreuve, pour être numérisées.**

Les questions figurent sur les pages suivantes.



Modèle CCYC : ©DNE

Nom de famille (naissance) :

(Suivi s'il y a lieu, du nom d'usage)

Prénom(s) :

N° candidat :

N° d'inscription :



Liberté • Égalité • Fraternité
RÉPUBLIQUE FRANÇAISE

Né(e) le :

(Les numéros figurent sur la convocation.)

1.1

Thème A : types de base

Réponse à la question 1	A	B	C	D
Réponse à la question 2	A	B	C	D
Réponse à la question 3	A	B	C	D
Réponse à la question 4	A	B	C	D
Réponse à la question 5	A	B	C	D
Réponse à la question 6	A	B	C	D

Thème B : types construits

Réponse à la question 1	A	B	C	D
Réponse à la question 2	A	B	C	D
Réponse à la question 3	A	B	C	D
Réponse à la question 4	A	B	C	D
Réponse à la question 5	A	B	C	D
Réponse à la question 6	A	B	C	D

Thème C : traitement de données en tables

Réponse à la question 1	A	B	C	D
Réponse à la question 2	A	B	C	D
Réponse à la question 3	A	B	C	D
Réponse à la question 4	A	B	C	D
Réponse à la question 5	A	B	C	D
Réponse à la question 6	A	B	C	D

Thème D : interactions entre l'homme et la machine sur le Web

Réponse à la question 1	A	B	C	D
Réponse à la question 2	A	B	C	D
Réponse à la question 3	A	B	C	D
Réponse à la question 4	A	B	C	D
Réponse à la question 5	A	B	C	D
Réponse à la question 6	A	B	C	D



Thème E : architectures matérielles et systèmes d'exploitation

Réponse à la question 1	A	B	C	D
Réponse à la question 2	A	B	C	D
Réponse à la question 3	A	B	C	D
Réponse à la question 4	A	B	C	D
Réponse à la question 5	A	B	C	D
Réponse à la question 6	A	B	C	D

Thème F : langages et programmation

Réponse à la question 1	A	B	C	D
Réponse à la question 2	A	B	C	D
Réponse à la question 3	A	B	C	D
Réponse à la question 4	A	B	C	D
Réponse à la question 5	A	B	C	D
Réponse à la question 6	A	B	C	D

Thème G : algorithmique

Réponse à la question 1	A	B	C	D
Réponse à la question 2	A	B	C	D
Réponse à la question 3	A	B	C	D
Réponse à la question 4	A	B	C	D
Réponse à la question 5	A	B	C	D
Réponse à la question 6	A	B	C	D

Modèle CCYC : ©DNE

Nom de famille (naissance) :


(Suivi s'il y a lieu, du nom d'usage)

Prénom(s) :

N° candidat : N° d'inscription :

(Les numéros figurent sur la convocation.)

Né(e) le : / /



1.1

Thème A : types de base

Question A 1

À quelle affectation sont équivalentes les instructions suivantes, où a , b sont des variables entières et c une variable booléenne ?

```

if a==b:
    c = True
elif a > b+10:
    c = True
else:
    c = False

```

Réponses

- A $c = (a==b)$ or $(a > b+10)$
- B $c = (a==b)$ and $(a > b+10)$
- C $c = \text{not}(a==b)$
- D $c = \text{not}(a > b+10)$

Question A 2

Parmi les noms suivants, lequel **n'est pas** celui d'une méthode d'encodage des caractères ?

Réponses

- A UTF-16
- B ASCII
- C Arial
- D Unicode

Question A 3

Quel est le plus grand entier positif (non signé) représentable en binaire sur 2 octets (c'est-à-dire 16 bits) ?

Réponses

- A $2^{15} - 1$
- B 2^{15}
- C $2^{16} - 1$
- D 2^{16}

Question A 4

Quel est le nombre minimum de bits qui permet de représenter les 7 couleurs de l'arc-en-ciel ?

Réponses

- A 2
- B 3
- C 4
- D 5

Question A 5

Dans quel système de numération 3F5 représente-t-il un nombre entier ?



Réponses

- A binaire (base 2)
- B octal (base 8)
- C décimal (base 10)
- D hexadécimal (base 16)

Question A 6

Quelle est l'écriture en hexadécimal (base 16) du nombre entier positif qui s'écrit 1110 1101 en base 2 ?

Réponses

- A DE
- B ED
- C EDF
- D FEFD

Modèle CCYC : ©DNE

Nom de famille (naissance) :

(Suivi s'il y a lieu, du nom d'usage)

Prénom(s) :

N° candidat :

N° d'inscription :



Liberté • Égalité • Fraternité
RÉPUBLIQUE FRANÇAISE

Né(e) le :

(Les numéros figurent sur la convocation.)

1.1

Thème B : types construits

Question B 1

Quelle est la valeur de l'expression [2*k + 1 for k in range(4)] ?

Réponses

- A [1, 3, 5, 7]
- B [0, 1, 2, 3]
- C [3, 5, 7, 9]
- D [1, 2, 3, 4]

Question B 2

De quelle expression la liste suivante est-elle la valeur ?

[[0, 0, 0, 0], [1, 1, 1, 1], [2, 2, 2, 2]]

Réponses

- A [[i] * 4 for i in range(4)]
- B [[i] * 3 for i in range(4)]
- C [[i] * 4 for i in range(3)]
- D [[i] * 3 for i in range(3)]

Question B 3

On exécute le script suivant :

```
inventaire = {'pommes': 430, 'bananes': 312,
              'oranges' : 274, 'poires' : 137}
```

```
stock = 0
for fruit in inventaire.keys():
    if fruit != 'bananes':
        stock = stock + inventaire[fruit]
```

Que contient la variable stock à la fin de cette exécution ?

Réponses

- A {430, 274, 137}
- B 312
- C 841
- D { 'pommes', 'oranges', 'poires' }

Question B 4

On considère le code suivant :

```
t = [0, 3, 5, 7, 9]
t[9] = 3 + t[5]
```

Que vaut t à la fin de son exécution ?

Réponses

- A [0, 3, 5, 7, 9]
- B [0, 3, 5, 7, 9, 3]



- C [0, 3, 5, 7, 9, 8]
- D l'exécution déclenche une erreur

Question B 5

Quelle est la valeur de l'expression [(i,i+1) for i in range(2)]?

Réponses

- A [0,1,1,2]
- B [(1,2),(2,3)]
- C [(0,1),(1,2)]
- D [[0,1],[1,2]]

Question B 6

On définit la variable suivante : citation = "Les nombres gouvernent le monde".

Quelle est la valeur de l'expression citation[5]+citation[6] ?

Réponses

- A "om"
- B "ombres"
- C "no"
- D citation[11]

Modèle CCYC : ©DNE

Nom de famille (naissance) :


(Suivi s'il y a lieu, du nom d'usage)

Prénom(s) :

N° candidat : N° d'inscription :

(Les numéros figurent sur la convocation.)

Né(e) le : / /



1.1

Thème C : traitement de données en tables

Question C 1

Qu'est-ce qu'un fichier CSV ?

Réponses

- A une librairie Python permettant l'affichage des images
- B un utilitaire de traitement d'image
- C un format d'image
- D un format de données

Question C 2

Laquelle de ces affirmations est vraie ?

Réponses

- A on peut ouvrir un fichier CSV à l'aide d'un tableur
- B un fichier CSV permet de gérer l'apparence du code dans l'éditeur
- C un fichier CSV permet de gérer l'apparence d'une page HTML
- D un fichier CSV contient un programme à compiler

Question C 3

On exécute le script suivant :

```
notes = {"Paul": 12, "Jean": 16, "Clara": 14, "Aïssa": 18}
t = list(notes.keys())
```

Quelle est la valeur de t à la fin de cette exécution ?

Réponses

- A Paul
- B ["Paul", "Jean", "Clara", "Aïssa"]
- C [12, 16, 14, 18]
- D ["Paul": 12, "Jean": 16, "Clara": 14, "Aïssa": 18]

Question C 4

On a défini deux tables de données :

```
data1 = [('Bruce', 'Wayne'), ('Chuck', 'Norris'), ('Bruce', 'Lee'), ('Clark', 'Kent')]
data2 = [('Diana', 'Prince'), ('Chuck', 'Norris'), ('Peter', 'Parker')]
```

Quelle instruction permet de construire une table data regroupant l'ensemble des informations de data1 et data2 ?

Réponses

- A data = data1 + data2
- B data == data1 + data2
- C data = [element for element in data1 or data2]
- D data = [data1] + [data2]

Question C 5

Qu'est-ce que le format de fichier CSV ?



Réponses

- A un format de fichier mis au point par Microsoft pour Excel
- B un format de fichier pour décrire une base de données
- C un format de fichier où les données sont séparées par un caractère tel qu'une virgule
- D un format de fichier décrivant une page Web

Question C 6

On a extrait les deux premières lignes de différents fichiers.
Déterminer celui qui est un authentique fichier CSV :

Réponses

- A Nom,Pays,Temps
Camille Muffat,France,241.45
- B Nom Pays Temps
Camille Muffat France 241.45
- C [
{ "Nom": "Camille Muffat", "Pays": "France", "Temps": 241.45},
- D [
{ Nom: "Camille Muffat", Pays: "France", Temps: 241.45},

Modèle CCYC : ©DNE

Nom de famille (naissance) :


(Suivi s'il y a lieu, du nom d'usage)

Prénom(s) :

N° candidat : N° d'inscription :

(Les numéros figurent sur la convocation.)

Né(e) le : / /



1.1

Thème D : interactions entre l'homme et la machine sur le Web

Question D 1

Parmi les propriétés suivantes d'une balise `<button />` dans une page HTML, laquelle doit être rédigée en langage JavaScript ?

Réponses

- A la propriété name
- B la propriété type
- C la propriété onclick
- D la propriété id

Question D 2

Par quoi commence l'URL d'une page Web sécurisée ?

Réponses

- A http
- B https
- C ftp
- D smtp

Question D 3

Dans quelle situation peut-on garantir qu'une transmission entre un client et un serveur sera chiffrée ?

Réponses

- A Lorsqu'on utilise le protocole HTTP
- B Lorsqu'on utilise la méthode POST
- C Lorsqu'on utilise le protocole HTTPS
- D Lorsqu'on utilise HTML et CSS

Question D 4

Quel est le code HTML correct pour créer un hyperlien vers le site Eduscol ?

Réponses

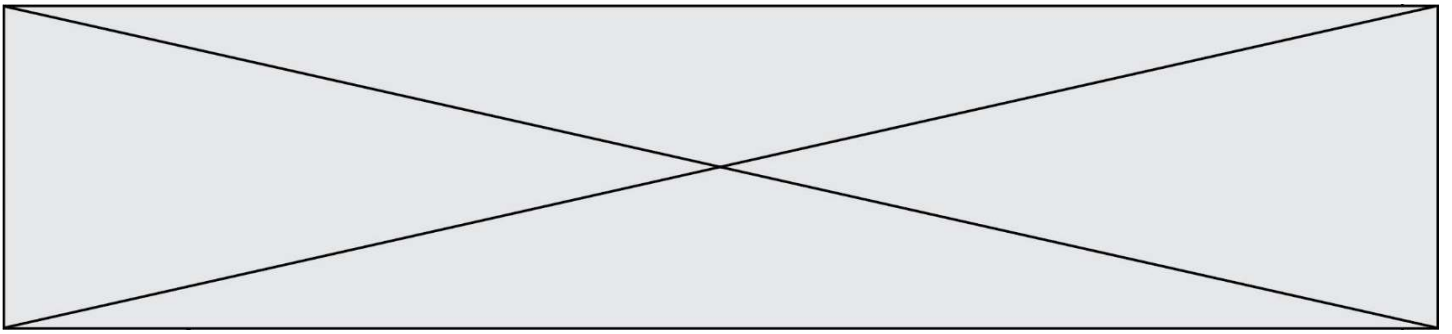
- A ` site Eduscol `
- B ` site Eduscol `
- C ` site Eduscol `
- D `<a> https://www.eduscol.education.fr/ site Eduscol`

Question D 5

On considère l'extrait d'un fichier « html » ci-dessous qui génère le champ de saisie d'une application web destiné à recueillir la réponse à une question.

```
<form action="gestion_reponse.php" id="form_reponse" method="get">
  <input type="text" name="saisie" />
  <input type="submit" value = "Soumettre" />
</form>
```

Lorsque l'utilisateur clique sur le bouton de ce formulaire, que se passe-t-il ?



Réponses

- A Le contenu du champ de saisie est transmis au serveur web en étant visible dans l'URL de la page cible.
- B Le contenu du champ de saisie est transmis au serveur web sans être visible dans l'URL de la page cible.
- C Sans communiquer avec le serveur web, le contenu du champ de saisie est passé en argument à une fonction qui s'exécute sur le client puis le contenu du champ de saisie est rendu visible dans l'URL.
- D Sans communiquer avec le serveur web, le contenu du champ de saisie est passé en argument à une fonction qui s'exécute sur le client sans que le contenu du champ de saisie ne soit visible dans l'URL.

Question D 6

Dans une page web, on souhaite créer un bouton permettant l'appel de la fonction javascript `traitement()`.
Quelle ligne d'instructions permettra de le faire ?

Réponses

- A `<button onclick = "traitement()">Cliquez ici</button>`
- B `Cliquez ici`
- C `<button>Cliquez ici</button = traitement()>`
- D `<button>Cliquez ici = traitement()</button>`

Modèle CCYC : ©DNE

Nom de famille (naissance) :


(Suivi s'il y a lieu, du nom d'usage)

Prénom(s) :

N° candidat : N° d'inscription :

(Les numéros figurent sur la convocation.)

Né(e) le : / /



1.1

Thème E : architectures matérielles et systèmes d'exploitation

Question E 1

Sous Unix, que fait la commande suivante :

```
ls -a /home/pi >> toto.txt
```

Réponses

- A elle liste uniquement les répertoires cachés du répertoire /home/pi
- B elle liste tous les fichiers du répertoire /home/pi et enregistre le résultat dans un fichier toto.txt
- C elle liste tous les fichiers des répertoires de /home/pi et de toto.txt
- D elle liste tous les fichiers du répertoire courant et enregistre le résultat dans un fichier /home/pi/toto.txt

Question E 2

Dans l'architecture client-serveur :

Réponses

- A Le client initie la connexion et expédie des requêtes.
- B Le serveur initie la connexion et expédie des requêtes.
- C Le routeur initie la connexion et expédie des requêtes.
- D Le commutateur initie la connexion et expédie des requêtes.

Question E 3

Depuis le répertoire /home/ubuntu/ on exécute la commande

```
mkdir ./Documents/Holidays
```

Quel est son effet ?

Réponses

- A supprimer le dossier Holidays situé dans Documents
- B changer de répertoire pour se retrouver dans le répertoire /home/Documents/Holidays
- C créer un dossier Holidays dans le répertoire /home/ubuntu/Documents
- D lister le contenu du répertoire Holidays de Documents

Question E 4

Parmi ces composants électroniques, lequel est d'échelle microscopique dans un ordinateur ?

Réponses

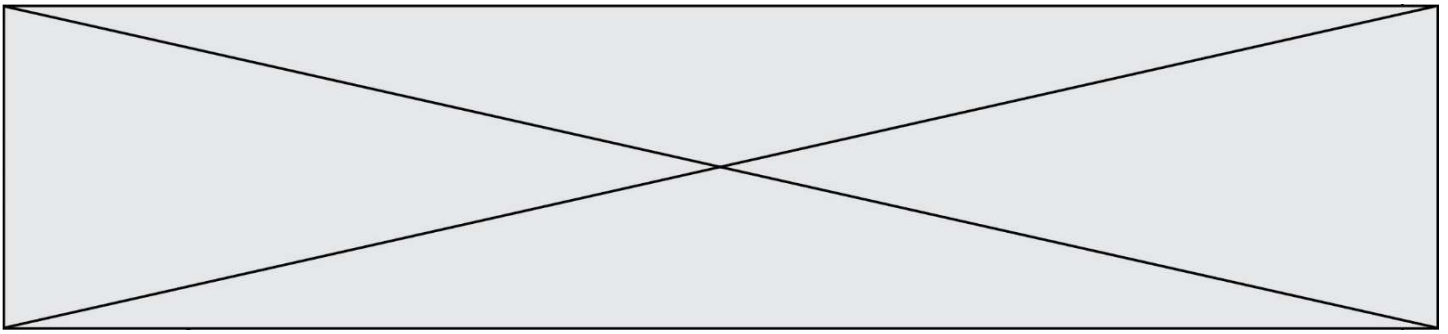
- A le bus
- B le radiateur
- C le transistor
- D le disque dur

Question E 5

Sur la configuration IP d'une machine nommée MACH01 on peut lire :

```
adresse Ipv4 : 172.16.100.201
Masque de sous-réseau : 255.255.0.0
Passerelle : 172.16.0.254
```

Sur la configuration IP d'une machine nommée MACH02 on peut lire :



adresse Ipv4 : 172.16.100.202
Masque de sous-réseau : 255.255.0.0
Passerelle : 172.16.0.254

Depuis la machine MACH02, à l'aide de quelle commande peut-on tester le dialogue entre ces deux machines ?

Réponses

- A ping 172.16.100.201
- B ping 172.16.100.202
- C ping 172.16.100.254
- D ping 255.255.0.0

Question E 6

Quelle commande permet de changer les droits d'accès d'un fichier ou d'un répertoire ?

Réponses

- A lsmod
- B chmod
- C chown
- D pwd

Modèle CCYC : ©DNE

Nom de famille (naissance) :

(Suivi s'il y a lieu, du nom d'usage)

Prénom(s) :

N° candidat :

N° d'inscription :



(Les numéros figurent sur la convocation.)

Né(e) le :

1.1

Thème F : langages et programmation

Question F 1

n étant un entier strictement positif, la fonction suivante calcule sa factorielle, c'est-à-dire le produit $1 \times 2 \times 3 \times \dots \times (n - 1) \times n$. Comment faut-il écrire la ligne en pointillés ci-dessous pour ce faire ?

```
def factorielle(n):  
    f = 1  
    .....  
    f = f * i  
    return f
```

Réponses

- A for i in range(1,n):
- B for i in range(n+1):
- C for i in range(0,n):
- D for i in range(1,n+1):

Question F 2

On exécute le script suivant :

```
a = 4  
b = 4  
c = 4  
while a < 5:  
    a = a - 1  
    b = b + 1  
    c = c * b
```

Que peut-on dire ?

Réponses

- A ce programme ne termine pas
- B à la fin de l'exécution, la variable a vaut 5
- C à la fin de l'exécution, la variable b vaut 34
- D à la fin de l'exécution, la variable c vaut 42

Question F 3

On souhaite écrire une fonction qui renvoie le maximum d'une liste d'entiers :

```
def maximum(L):  
    m = L[0]  
    for i in range(1,len(L)):  
        if .....:  
            m = L[i]  
    return m
```

Par quoi faut-il remplacer les pointillés pour que cette fonction produise bien le résultat attendu ?



Réponses

- A $i > m$
- B $L[i] > m$
- C $L[i] > L[i-1]$
- D $L[i] > L[i+1]$

Question F 4

Quel est le seul langage de programmation parmi les propositions suivantes ?

Réponses

- A HTML
- B CSS
- C C++
- D WEB

Question F 5

La fonction suivante calcule la racine carrée du double d'un nombre flottant.

```
from math import sqrt

def racine_du_double(x):
    return sqrt(2*x)
```

Quelle est la précondition sur l'argument de cette fonction ?

Réponses

- A $x < 0$
- B $x \geq 0$
- C $2 * x > 0$
- D $\text{sqrt}(x) \geq 0$

Question F 6

La fonction `maxi` ci-dessous a pour but de renvoyer la valeur maximale présente dans la liste qui lui est passée en argument.

```
def maxi(L):
    dernier_indice = len(L) - 1
    valeur_max = L[0]
    for i in range(1,dernier_indice):
        if L[i] > valeur_max:
            valeur_max = L[i]
    return valeur_max
```

Cette fonction a été mal programmée. On souhaite réaliser un test pour le démontrer.

Parmi les propositions suivantes, laquelle mettra la fonction `maxi` en défaut ?

Réponses

- A `maxi([1, 2, 3, 4])`
- B `maxi([4, 3, 2, 1])`
- C `maxi([1, 3, 3, 2])`
- D `maxi([1, 1, 1, 1])`

Modèle CCYC : ©DNE

Nom de famille (naissance) :

(Suivi s'il y a lieu, du nom d'usage)

Prénom(s) :

N° candidat :

N° d'inscription :



Né(e) le :

(Les numéros figurent sur la convocation.)

1.1

Thème G : algorithmique

Question G 1

Quelle est la valeur de c à la fin de l'exécution du code suivant :

```
L = [1,2,3,4,1,2,3,4,0,2]
c = 0
for k in L:
    if k == L[1]:
        c = c+1
```

Réponses

- A 0
- B 2
- C 3
- D 10

Question G 2

Que renvoie la fonction suivante quand on l'appelle avec un nombre entier et une liste d'entiers ?

```
def mystere(n,L):
    for x in L:
        if n == x:
            return True
    return False
```

Réponses

- A une valeur booléenne indiquant si le nombre n est présent au moins une fois dans la liste L
- B une valeur booléenne indiquant si le nombre n est présent plusieurs fois dans la liste L
- C une valeur booléenne indiquant si le nombre n est le plus grand de la liste L
- D une valeur booléenne indiquant si le nombre n est le plus petit de la liste L

Question G 3

La fonction mystere suivante prend en argument un tableau d'entiers.

```
def mystere(t):
    for i in range(len(t) - 1):
        if t[i] != t[i+1] - 1:
            return False
    return True
```

À quelle condition la valeur renvoyée par la fonction est-elle True ?

Réponses

- A si le tableau passé en argument est une suite d'entiers consécutifs
- B si le tableau passé en argument est trié en ordre croissant
- C si le tableau passé en argument est trié en ordre décroissant
- D si le tableau passé en argument contient des entiers tous identiques

Question G 4

On exécute le script suivant :

```
liste=[48, 17, 25 , 9, 34, 12, -5, 89, 54, 12, 78, 8, 155, -85]
```



```
def recherche(liste):  
    valeur_1 = liste[0]  
    valeur_2 = liste[0]  
    for item in liste:  
        if item < valeur_1:  
            valeur_1 = item  
        elif item > valeur_2:  
            valeur_2 = item  
    return(valeur_1, valeur_2)
```

Que va renvoyer l'appel recherche(liste) ?

Réponses

- A (-85,155)
- B [-85,155]
- C (155,-85)
- D [155,-85]

Question G 5

Un algorithme de recherche dichotomique dans une liste triée de taille n nécessite, dans le pire des cas, exactement k comparaisons.

Combien cet algorithme va-t-il utiliser, dans le pire des cas, de comparaisons sur une liste de taille $2n$?

Réponses

- A k
- B $k + 1$
- C $2k$
- D $2k + 1$

Question G 6

On considère la fonction suivante :

```
def f(x,L):  
    i = 0  
    j = len(L)-1  
    while i<j:  
        k = (i+j)//2  
        if x <= L[k]:  
            j = k  
        else:  
            i = k + 1  
    return i
```

Cette fonction implémente :

Réponses

- A le tri par insertion
- B le tri par sélection
- C la recherche dichotomique
- D la recherche du plus proche voisin