

Modèle CCYC : ©DNE

Nom de famille (naissance) :

(Suivi s'il y a lieu, du nom d'usage)


Prénom(s) :

N° candidat :

N° d'inscription :

(Les numéros figurent sur la convocation.)

Né(e) le : / /



RÉPUBLIQUE FRANÇAISE

1.1

Évaluation

CLASSE : Première

VOIE : Générale Technologique Toutes voies (LV)

ENSEIGNEMENT : spécialité Numérique et Sciences Informatiques (NSI)

DURÉE DE L'ÉPREUVE : 02 h 00

Niveaux visés (LV) : LVA LVB

Axes de programme :

CALCULATRICE AUTORISÉE : Oui Non

DICTIONNAIRE AUTORISÉ : Oui Non

Ce sujet contient des parties à rendre par le candidat avec sa copie. De ce fait, il ne peut être dupliqué et doit être imprimé pour chaque candidat afin d'assurer ensuite sa bonne numérisation.

Ce sujet intègre des éléments en couleur. S'il est choisi par l'équipe pédagogique, il est nécessaire que chaque élève dispose d'une impression en couleur.

Ce sujet contient des pièces jointes de type audio ou vidéo qu'il faudra télécharger et jouer le jour de l'épreuve.

Nombre total de pages : 20

L'épreuve consiste en 42 questions, rangées en 7 thèmes.

Le candidat gagne 1 point pour la réponse correcte et obtient un résultat nul pour une réponse fautive, une absence de réponse ou une réponse multiple.

Le résultat obtenu est transformé en note sur 20 selon la formule : nombre de points obtenus x 20/42.

Le candidat indique ses réponses aux questions en pages 3 et 4.

Seules les pages 1 à 4 sont rendues par le candidat à la fin de l'épreuve, pour être numérisées.

Les questions figurent sur les pages suivantes.



Modèle CCYC : ©DNE

Nom de famille (naissance) :

(Suivi s'il y a lieu, du nom d'usage)

Prénom(s) :

N° candidat :

N° d'inscription :



Liberté • Égalité • Fraternité
RÉPUBLIQUE FRANÇAISE

(Les numéros figurent sur la convocation.)

Né(e) le :

1.1

Thème A : types de base

Réponse à la question 1	A	B	C	D
Réponse à la question 2	A	B	C	D
Réponse à la question 3	A	B	C	D
Réponse à la question 4	A	B	C	D
Réponse à la question 5	A	B	C	D
Réponse à la question 6	A	B	C	D

Thème B : types construits

Réponse à la question 1	A	B	C	D
Réponse à la question 2	A	B	C	D
Réponse à la question 3	A	B	C	D
Réponse à la question 4	A	B	C	D
Réponse à la question 5	A	B	C	D
Réponse à la question 6	A	B	C	D

Thème C : traitement de données en tables

Réponse à la question 1	A	B	C	D
Réponse à la question 2	A	B	C	D
Réponse à la question 3	A	B	C	D
Réponse à la question 4	A	B	C	D
Réponse à la question 5	A	B	C	D
Réponse à la question 6	A	B	C	D

Thème D : interactions entre l'homme et la machine sur le Web

Réponse à la question 1	A	B	C	D
Réponse à la question 2	A	B	C	D
Réponse à la question 3	A	B	C	D
Réponse à la question 4	A	B	C	D
Réponse à la question 5	A	B	C	D
Réponse à la question 6	A	B	C	D



Thème E : architectures matérielles et systèmes d'exploitation

Réponse à la question 1	A	B	C	D
Réponse à la question 2	A	B	C	D
Réponse à la question 3	A	B	C	D
Réponse à la question 4	A	B	C	D
Réponse à la question 5	A	B	C	D
Réponse à la question 6	A	B	C	D

Thème F : langages et programmation

Réponse à la question 1	A	B	C	D
Réponse à la question 2	A	B	C	D
Réponse à la question 3	A	B	C	D
Réponse à la question 4	A	B	C	D
Réponse à la question 5	A	B	C	D
Réponse à la question 6	A	B	C	D

Thème G : algorithmique

Réponse à la question 1	A	B	C	D
Réponse à la question 2	A	B	C	D
Réponse à la question 3	A	B	C	D
Réponse à la question 4	A	B	C	D
Réponse à la question 5	A	B	C	D
Réponse à la question 6	A	B	C	D

Modèle CCYC : ©DNE

Nom de famille (naissance) :


(Suivi s'il y a lieu, du nom d'usage)

Prénom(s) :

N° candidat : N° d'inscription :

(Les numéros figurent sur la convocation.)

Né(e) le : / /



RÉPUBLIQUE FRANÇAISE

1.1

Thème A : types de base

Question A 1

Quel est le résultat de l'addition binaire $0010\ 0110 + 1000\ 1110$?

Réponses

- A 1010 1110
- B 0000 0110
- C 1011 0100
- D 0101 0001

Question A 2

Laquelle de ces affirmations concernant le codage UTF-8 des caractères est vraie ?

Réponses

- A le codage UTF-8 est sur 7 bits
- B le codage UTF-8 est sur 8 bits
- C le codage UTF-8 est sur 1 à 4 octets
- D le codage UTF-8 est sur 8 octets

Question A 3

Quelle est la représentation en binaire de l'entier 64 sur un octet ?

Réponses

- A 0101 0000
- B 1100 0100
- C 0100 0000
- D 0000 1100

Question A 4

Quelle est la représentation binaire de l'entier positif 51 sur 8 bits ?

Réponses

- A 0010 0001
- B 0010 1001
- C 0011 0001
- D 0011 0011

Question A 5

La somme des nombres 10011 et 10110 écrits en base 2 est :

Réponses

- A 20121
- B 01001
- C 101001
- D 100101

Question A 6



Le résultat de l'addition en binaire $101001 + 101$ est égal au nombre binaire :

Réponses

A 101102

B 010101

C 101110

D 110000

Modèle CCYC : ©DNE

Nom de famille (naissance) :

(Suivi s'il y a lieu, du nom d'usage)

Prénom(s) :

N° candidat :

N° d'inscription :



(Les numéros figurent sur la convocation.)

Né(e) le :

1.1

Thème B : types construits

Question B 1

Laquelle des quatre expressions suivantes a-t-elle pour valeur la liste [1, 2, 5, 10] ?

Réponses

- A [i for i in range(4) if i<2]
- B [i for i in range(4)]
- C [i*i + 1 for i in range(4)]
- D [i*i - 2*i + 2 for i in range(4)]

Question B 2

Quelle est la valeur de L à la fin de l'exécution du script suivant ?

```
def f(L):  
    temp = L[0]  
    for i in range(len(L)-1):  
        L[i] = L[i+1]  
    L[-1] = temp
```

```
L = [1, 2, 3, 4, 5]  
f(L)
```

Réponses

- A [2, 3, 4, 5, 1]
- B [5, 1, 2, 3, 4]
- C [5, 4, 3, 2, 1]
- D [3, 4, 5, 1, 2]

Question B 3

On construit une matrice par compréhension :

```
M = [ [i*j for j in range(4)] for i in range(4) ]
```

Laquelle des conditions suivantes est-elle vérifiée ?

Réponses

- A M[4][4] == 16
- B M[0][1] == 1
- C M[2][3] == 6
- D M[1][2] == 3

Question B 4

On considère le code suivant :

```
def s(tuple1, tuple2):  
    (x1,y1) = tuple1  
    (x2,y2) = tuple2  
    return (x1+x2, y1+y2)
```

Que renvoie l'appel s((1, 3), (2, 4)) ?

**Réponses**

- A le tuple (3, 7)
- B le tuple (4, 6)
- C un entier
- D une erreur

Question B 5

Quelle est la valeur de l'expression [(i,i+1) for i in range(2)]?

Réponses

- A [0,1,1,2]
- B [(1,2),(2,3)]
- C [(0,1),(1,2)]
- D [[0,1],[1,2]]

Question B 6

On considère le code suivant :

```
t = [1, 6, 8, 3, 21]
u = [x for x in t if x > 3]
```

Que vaut u à la fin de son exécution ?

Réponses

- A [1, 6, 8, 21]
- B [6, 8, 3, 21]
- C [6, 8, 21]
- D [1, 3, 6, 21]

Modèle CCYC : ©DNE

Nom de famille (naissance) :


(Suivi s'il y a lieu, du nom d'usage)

Prénom(s) :

N° candidat : N° d'inscription :

(Les numéros figurent sur la convocation.)

Né(e) le : / /



1.1

Thème C : traitement de données en tables

Question C 1

On exécute le code suivant :

```
def maxi(t):
    m = t[0]
    for x in t:
        if x[1] >= m[1]:
            m = x
    return m

L = [ ('Alice', 17), ('Barnabé', 17),
      ('Casimir', 17), ('Doriane', 17),
      ('Emilien', 14), ('Fabienne', 16) ]
```

Quelle est alors la valeur de `maxi(L)` ?

Réponses

- A ('Alice', 17)
- B ('Doriane', 17)
- C ('Fabienne', 17)
- D ('Emilien', 14)

Question C 2

On a défini :

```
mendeleiev = [['H', '.', '.', '.', '.', '.', '.', '.', '.', 'He'],
              ['Li', 'Be', 'B', 'C', 'N', 'O', 'Fl', 'Ne'],
              ['Na', 'Mg', 'Al', 'Si', 'P', 'S', 'Cl', 'Ar']]
```

Une erreur s'est glissée dans le tableau, car le symbole du Fluor est F et non Fl. Quelle instruction permet de rectifier ce tableau ?

Réponses

- A `mendeleiev.append('F')`
- B `mendeleiev[1][6] = 'F'`
- C `mendeleiev[6][1] = 'F'`
- D `mendeleiev[-1][-1] = 'F'`

Question C 3

Un fichier CSV ...

Réponses

- A ne peut être lu que par un tableur
- B est l'unique format utilisé pour construire une base de données
- C est un fichier texte
- D est un format propriétaire

Question C 4



Qu'est-ce que le CSV ?

Réponses

- A Un langage de programmation
- B Un format de fichier permettant de stocker de l'information
- C Un algorithme permettant de rechercher une information dans un fichier
- D Un format de fichier permettant de définir le style d'une page web

Question C 5

On définit ainsi une liste t :

```
t = [ {'id':1, 'age':23, 'sejour':'PEKIN'},
      {'id':2, 'age':27, 'sejour':'ISTANBUL'},
      {'id':3, 'age':53, 'sejour':'LONDRES'},
      {'id':4, 'age':41, 'sejour':'ISTANBUL'},
      {'id':5, 'age':62, 'sejour':'RIO'},
      {'id':6, 'age':28, 'sejour':'ALGER'}]
```

Quelle affirmation est correcte ?

Réponses

- A t est une liste de listes
- B t est une liste de dictionnaires
- C t est un dictionnaire de listes
- D t est une liste de tuples

Question C 6

On définit la fonction suivante qui prend en argument un tableau non vide d'entiers.

```
def f(T):
    s = 0
    for k in T:
        if k == 8:
            s = s+1
    if s > 1:
        return True
    else:
        return False
```

Dans quel cas cette fonction renvoie-t-elle la valeur True ?

Réponses

- A dans le cas où 8 est présent au moins une fois dans le tableau T
- B dans le cas où 8 est présent au moins deux fois dans le tableau T
- C dans le cas où 8 est présent exactement une fois dans le tableau T
- D dans le cas où 8 est présent exactement deux fois dans le tableau T

Modèle CCYC : ©DNE

Nom de famille (naissance) :


(Suivi s'il y a lieu, du nom d'usage)

Prénom(s) :

N° candidat : N° d'inscription :

(Les numéros figurent sur la convocation.)

Né(e) le : / /



1.1

Thème D : interactions entre l'homme et la machine sur le Web

Question D 1

Lors de la consultation d'une page HTML, contenant un bouton dans lequel on ajoute l'attribut suivant, que se passe-t-il quand on clique sur ce bouton ?

```
<button onclick="this.style.color='red'">
```

Réponses

- A le pointeur de souris devient rouge lorsqu'il arrive sur le bouton
- B le texte du bouton devient rouge
- C le texte du bouton est remplacé par le mot "red"
- D le texte de la page passe en rouge

Question D 2

Quel est le protocole utilisé pour accéder à la page dont l'URL est ci-dessous ?

<https://www.domaine.gouv.fr/qcm.php?nom=Martin>

Réponses

- A HTTPS
- B HTTP
- C WWW
- D FTP

Question D 3

Charles veut accéder à son forum favori. Il saisit son adresse (URL) sur son navigateur Web, qui lui affiche une erreur 404.

Quel cas de figure **n'explique pas** sa situation ?

Réponses

- A une mise à jour du serveur qui héberge le forum
- B une erreur de saisie de sa part
- C une panne de sa connexion Internet
- D un changement de titre du forum qu'il veut consulter

Question D 4

Mehdi a écrit une page HTML contenant des éléments input de formulaire.

Il place ces éléments de formulaire :

Réponses

- A entre la balise <form> et la balise </form>
- B entre la balise <formulary> et la balise </formulary>
- C entre la balise <code> et la balise </code>
- D entre la balise <script> et la balise </script>

Question D 5

Un fichier HTML contient la ligne suivante.

```
<p>Coucou ! Ca va?</p>
```



Quelle commande CSS écrire pour que le texte apparaisse en rose sur fond jaune ?

Réponses

- A `p { couleur: rose ; fond: jaune;}`
- B `<p> { color = pink background-color = yellow}`
- C `<p> { color = pink ; background-color: yellow} </p>`
- D `p { color: pink ; background-color: yellow ;}`

Question D 6

Lorsque la méthode POST est associée à un formulaire au sein d'une page HTML, comment les réponses du formulaire sont-elles envoyées au serveur ?

Réponses

- A Elles sont visibles dans l'URL
- B Elles sont cachées de l'URL
- C Elles sont transmises via un service postal spécifique
- D Elles sont découpées en plusieurs petites URL limitées à 4 mots

Modèle CCYC : ©DNE

Nom de famille (naissance) :


(Suivi s'il y a lieu, du nom d'usage)

Prénom(s) :

N° candidat : N° d'inscription :

(Les numéros figurent sur la convocation.)

Né(e) le : / /



1.1

Thème E : architectures matérielles et systèmes d'exploitation

Question E 1

Dans la console Linux, étant positionné dans le répertoire `/home/marcelH/travail`, quelle commande faut-il exécuter pour remonter dans l'arborescence vers le répertoire `/home/marcelH` ?

Réponses

- A `cd .`
- B `cd ..`
- C `cd ...`
- D `cd ../../`

Question E 2

Lequel de ces objets n'est pas un périphérique ?

Réponses

- A le clavier
- B une clé USB
- C la carte graphique
- D la carte mère

Question E 3

Qu'effectue-t-on en lançant la commande suivante dans un terminal Linux :

```
cp /etc/professeur/fichier.conf /home/nsi/fichier.conf
```

Réponses

- A un déplacement de fichier
- B une copie de fichier
- C un renommage de fichier
- D un changement de répertoire

Question E 4

La commande suivante vient d'être exécutée en ligne de commande sous Linux :

```
cp /users/luc/interro.txt ./
```

Que réalise cette commande ?

Réponses

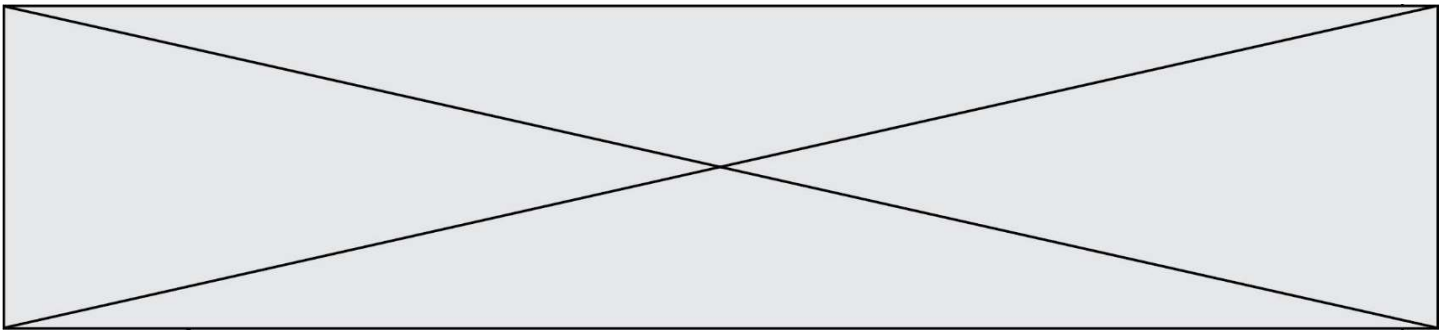
- A copie du fichier `users` vers le répertoire `luc`
- B copie du fichier `interro.txt` vers le répertoire `luc`
- C copie du fichier `interro.txt` vers le répertoire courant
- D copie du fichier `interro.txt` vers le répertoire `users`

Question E 5

Sous Linux, on se place dans un répertoire appelé `documents`. Dans quel répertoire se trouve-t-on après avoir exécuté la commande `cd ../images` ?

Réponses

- A dans un répertoire `images`, qui est un sous-répertoire du répertoire `documents`



- B dans un répertoire `images`, qui est à la racine du système de fichiers
- C dans un répertoire `images`, qui est dans l'arborescence de fichiers à la même hauteur que le répertoire `documents`
- D dans un répertoire `images`, qui est sur le CD-ROM du lecteur de l'ordinateur

Question E 6

Dans un terminal, on exécute la suite de commandes système suivante :

```
cd ~  
cd seances/tp  
mv exercice.txt ../../../../exercice.txt
```

Où se trouve finalement placé le fichier `exercice.txt` ?

Réponses

- A dans le répertoire `~/seance/tp`
- B dans le répertoire `~/seance`
- C dans le répertoire `~`
- D dans le répertoire `/home`

Modèle CCYC : ©DNE

Nom de famille (naissance) :


(Suivi s'il y a lieu, du nom d'usage)

Prénom(s) :

N° candidat : N° d'inscription :

(Les numéros figurent sur la convocation.)

Né(e) le : / /



1.1

Thème F : langages et programmation

Question F 1

La fonction `maxi` ci-dessous a pour but de renvoyer la valeur maximale présente dans la liste qui lui est passée en argument.

```
def maxi(L):
    dernier_indice = len(L) - 1
    valeur_max = L[0]
    for i in range(1,dernier_indice):
        if L[i] > valeur_max:
            valeur_max = L[i]
    return valeur_max
```

Cette fonction a été mal programmée. On souhaite réaliser un test pour le démontrer.

Parmi les propositions suivantes, laquelle mettra la fonction `maxi` en défaut ?

Réponses

- A `maxi([1, 2, 3, 4])`
- B `maxi([4, 3, 2, 1])`
- C `maxi([1, 3, 3, 2])`
- D `maxi([1, 1, 1, 1])`

Question F 2

Karine écrit une bibliothèque Python, nommée `GeomPlan`, de géométrie plane dont voici un extrait :

```
import math

def aireDisque(R):
    return math.pi * R**2
```

Gilles utilise cette bibliothèque pour calculer l'aire d'un disque de rayon 8.

Laquelle des instructions suivantes renvoie un message d'erreur ?

Réponses

- A `import GeomPlan`
`GeomPlan.aireDisque(8)`
- B `import GeomPlan`
`aireDisque(8)`
- C `from GeomPlan import *`
`aireDisque(8)`
- D `from GeomPlan import aireDisque`
`aireDisque(8)`

Question F 3

n étant un entier strictement positif, la fonction suivante calcule sa factorielle, c'est-à-dire le produit $1 \times 2 \times 3 \times \dots \times (n - 1) \times n$. Comment faut-il écrire la ligne en pointillés ci-dessous pour ce faire ?

```
def factorielle(n):
    f = 1
    .....
    f = f * i
    return f
```



Réponses

- A `for i in range(1,n):`
- B `for i in range(n+1):`
- C `for i in range(0,n):`
- D `for i in range(1,n+1):`

Question F 4

Dans le programme JavaScript suivant, quelle est la notation qui délimite le bloc d'instructions exécuté à chaque passage dans la boucle while ?

```
i = 0
while (i < 10) {
    alert(i)
    i = i + 1
}
alert("Fin")
```

Réponses

- A le fait que les instructions soient encadrées entre { et }
- B le fait que les instructions soient indentées de 4 caractères comme en Python
- C le fait que les instructions suivent le mot clé while
- D le fait que les instructions suivent la parenthèse)

Question F 5

La fonction Python suivante ne calcule pas toujours correctement le résultat de x^y pour des arguments entiers. Parmi les tests suivants, lequel va permettre de détecter l'erreur ?

```
def puissance (x,y):
    p = x
    for i in range (y - 1):
        p = p * x
    return p
```

Réponses

- A `puissance(2,0)`
- B `puissance(2,1)`
- C `puissance(2,2)`
- D `puissance(2,10)`

Question F 6

Quelle est la valeur de la variable b à la fin de l'exécution du script suivant ?

```
a = 3
b = 6
if a > 5 or b != 3:
    b = 4
else:
    b = 2
```


Modèle CCYC : ©DNE

Nom de famille (naissance) :

--	--	--	--	--	--	--	--	--	--	--	--	--	--	--	--	--	--	--	--	--	--	--

(Suivi s'il y a lieu, du nom d'usage)

Prénom(s) :

--	--	--	--	--	--	--	--	--	--	--	--	--	--	--	--	--	--	--	--	--	--	--

N° candidat :

--	--	--	--	--	--	--	--	--	--

N° d'inscription :

--	--	--



Liberté • Égalité • Fraternité
RÉPUBLIQUE FRANÇAISE

(Les numéros figurent sur la convocation.)

Né(e) le :

		/			/				
--	--	---	--	--	---	--	--	--	--

1.1

Réponses

- A 2
- B 4
- C 5
- D 6

Thème G : algorithmique

Question G 1

a et m étant deux entiers supérieurs à 1, la fonction suivante renvoie a^m .

```
def puissance(a,m):  
    p = 1  
    n = 0  
    while n < m:  
        p = p * a  
        #  
        n = n + 1  
    return p
```

Quelle est l'égalité qui est vérifiée à chaque passage par la ligne marquée # ?

Réponses

- A $p = a^{n-1}$
- B $p = a^n$
- C $p = a^{n+1}$
- D $p = a^m$

Question G 2

La fonction suivante doit déterminer la valeur maximale d'un tableau de nombres passé en argument. Avec quelles expressions faut-il remplacer les pointillés du script suivant pour que la fonction soit correcte ?

```
def maximum(T):  
    maxi = T[0]  
    n = len(T)  
    for i in range(1, .....):  
        if T[i] > maxi:  
            maxi = .....  
    return maxi
```

Réponses

- A n puis T[i]
- B n puis T[i-1]
- C n-1 puis T[i]
- D n-1 puis T[i-1]

Question G 3

On exécute le script suivant :

```
liste = [17, 12, 5, 18, 2, 7, 9, 15, 14, 20]  
somme = 0  
i = 0  
while i < len(liste):  
    somme = somme + liste[i]  
    i = i + 1  
resultat = somme / len(liste)
```

Quelle affirmation est **fausse** parmi les suivantes ?

Réponses

Modèle CCYC : ©DNE

Nom de famille (naissance) :
(Suivi s'il y a lieu, du nom d'usage)

Prénom(s) :

N° candidat :

N° d'inscription :



Né(e) le : / /

(Les numéros figurent sur la convocation.)

1.1

- A le corps de la boucle a été exécuté 10 fois
- B à la fin de l'exécution la valeur de i est 9
- C resultat contient la moyenne des éléments de liste
- D len est une fonction

Question G 4

Qu'affiche le programme suivant :

```
a = 3
b = 4
if a > b and a == 3:
    print('vert')
if a > b and b == 4:
    print('rouge')
if a == 4 or b > a:
    print('bleu')
if a == 3 or a < b:
    print('jaune')
```

Réponses

- A vert
rouge
- B bleu
jaune
- C bleu
- D vert
Jaune

Question G 5

On suppose qu'au début de l'exécution la variable K contient un entier positif non nul.
Lequel des scripts suivants va boucler indéfiniment ?

Réponses

- A

```
i = K+1
while i < K:
    i = i + 1
```
- B

```
i = K-1
while i < K:
    i = i - 1
```
- C

```
i = K-1
while i < K:
    i = i + 1
```
- D



```
i = K+1
while i >= K:
    i = i - 1
```

Question G 6

La fonction suivante doit calculer le produit de tous les éléments de la liste passée en paramètre. Avec quelles expressions doit-on la compléter pour que cette fonction soit correcte ?

```
def produit (L):
    p = ...
    for elt in L:
        .....
    return p
```

Réponses

- A 1 puis $p = p * elt$
- B 0 puis $p = p * elt$
- C 1 puis $p = elt$
- D 0 puis $p = elt$