





Modèle CCYC : ©DNE

Nom de famille (naissance) :

(Suivi s'il y a lieu, du nom d'usage)

Prénom(s) :

N° candidat :

N° d'inscription :



Liberté • Égalité • Fraternité  
RÉPUBLIQUE FRANÇAISE

(Les numéros figurent sur la convocation.)

Né(e) le :

1.1

### Thème A : types de base

Réponse à la question 1	A	B	C	D
Réponse à la question 2	A	B	C	D
Réponse à la question 3	A	B	C	D
Réponse à la question 4	A	B	C	D
Réponse à la question 5	A	B	C	D
Réponse à la question 6	A	B	C	D

### Thème B : types construits

Réponse à la question 1	A	B	C	D
Réponse à la question 2	A	B	C	D
Réponse à la question 3	A	B	C	D
Réponse à la question 4	A	B	C	D
Réponse à la question 5	A	B	C	D
Réponse à la question 6	A	B	C	D

### Thème C : traitement de données en tables

Réponse à la question 1	A	B	C	D
Réponse à la question 2	A	B	C	D
Réponse à la question 3	A	B	C	D
Réponse à la question 4	A	B	C	D
Réponse à la question 5	A	B	C	D
Réponse à la question 6	A	B	C	D

### Thème D : interactions entre l'homme et la machine sur le Web

Réponse à la question 1	A	B	C	D
Réponse à la question 2	A	B	C	D
Réponse à la question 3	A	B	C	D
Réponse à la question 4	A	B	C	D
Réponse à la question 5	A	B	C	D
Réponse à la question 6	A	B	C	D



### **Thème E : architectures matérielles et systèmes d'exploitation**

Réponse à la question 1	A	B	C	D
Réponse à la question 2	A	B	C	D
Réponse à la question 3	A	B	C	D
Réponse à la question 4	A	B	C	D
Réponse à la question 5	A	B	C	D
Réponse à la question 6	A	B	C	D

### **Thème F : langages et programmation**

Réponse à la question 1	A	B	C	D
Réponse à la question 2	A	B	C	D
Réponse à la question 3	A	B	C	D
Réponse à la question 4	A	B	C	D
Réponse à la question 5	A	B	C	D
Réponse à la question 6	A	B	C	D

### **Thème G : algorithmique**

Réponse à la question 1	A	B	C	D
Réponse à la question 2	A	B	C	D
Réponse à la question 3	A	B	C	D
Réponse à la question 4	A	B	C	D
Réponse à la question 5	A	B	C	D
Réponse à la question 6	A	B	C	D





**Question A 6**

Quel est le nombre minimum de bits qui permet de représenter les 7 couleurs de l'arc-en-ciel ?

**Réponses**

- A 2
- B 3
- C 4
- D 5

Modèle CCYC : ©DNE

Nom de famille (naissance) :

(Suivi s'il y a lieu, du nom d'usage)

Prénom(s) :

N° candidat :

N° d'inscription :



(Les numéros figurent sur la convocation.)

Né(e) le :

1.1

## Thème B : types construits

### Question B 1

Quelle est la valeur de :

[ x - y for x in range(4) for y in range(3) if x > y ]

#### Réponses

- A [1, 2, 1, 3, 2, 1]
- B [1, 2, 3, 1, 2, 1]
- C [1, 2, 3, 3, 2, 1]
- D [1, 2, 1, 2, 3, 1]

### Question B 2

On définit : t = [2, 8, 9, 2]

Quelle est la valeur de l'expression [ x\*x for x in t ] ?

#### Réponses

- A une erreur
- B [[2, 8, 9, 2], [2, 8, 9, 2]]
- C [2, 8, 8, 9, 9, 9, 2, 2, 2, 2]
- D [4, 64, 81, 4]

### Question B 3

On considère le code suivant :

```
def s(tuple1, tuple2):
    (x1,y1) = tuple1
    (x2,y2) = tuple2
    return (x1+x2, y1+y2)
```

Que renvoie l'appel s((1,3), (2,4)) ?

#### Réponses

- A le tuple (3,7)
- B le tuple (4,6)
- C un entier
- D une erreur

### Question B 4

On s'intéresse à la valeur 14 présente dans la liste suivante:

T = [[1,2,3,4,5], [6,7,8,9,10], [11,12,13,14,15], [16,17,18,19,20]].

Quelle expression vaut 14 parmi les suivantes ?

#### Réponses

- A T[2][3]
- B T[3][4]
- C T[3][2]
- D T[4][3]

### Question B 5



Quelle est la valeur de la variable r à la fin de l'exécution du script suivant ?

```
t = (10,6,1,12,15)
r = t[3] - t[1]
```

**Réponses**

- A -9
- B 2
- C 3
- D 6

**Question B 6**

On exécute le script suivant :

```
def ajoute(stock,element,quantite):
    if element in stock:
        stock[element] = stock[element] + quantite
    else:
        stock[element] = quantite

stock = { 'clous': 14, 'vis': 27, 'boulons': 8, 'écrous': 24 }
ajoute(stock,'vis',5)
ajoute(stock,'chevilles',3)
```

Quelle est la valeur de la variable stock à la fin de cette exécution ?

**Réponses**

- A {'clous': 14, 'vis': 27, 'boulons': 8, 'écrous': 24}
- B {'clous': 14, 'vis': 32, 'boulons': 8, 'écrous': 24}
- C {'clous': 14, 'vis': 27, 'boulons': 8, 'écrous': 24, 'chevilles': 3}
- D {'clous': 14, 'vis': 32, 'boulons': 8, 'écrous': 24, 'chevilles': 3}



Modèle CCYC : ©DNE

Nom de famille (naissance) :


(Suivi s'il y a lieu, du nom d'usage)

Prénom(s) :

N° candidat :  N° d'inscription :

(Les numéros figurent sur la convocation.)

Né(e) le :  /  /



1.1

## Thème C : traitement de données en tables

### Question C 1

On a extrait les deux premières lignes de différents fichiers.  
Déterminer celui qui est un authentique fichier CSV :

#### Réponses

- A Nom, Pays, Temps  
Camille Muffat, France, 241.45
- B Nom Pays Temps  
Camille Muffat France 241.45
- C [  
{ "Nom": "Camille Muffat", "Pays": "France", "Temps": 241.45},
- D [  
{ Nom: "Camille Muffat", Pays: "France", Temps: 241.45},

### Question C 2

Qu'est-ce que le CSV ?

#### Réponses

- A Un langage de programmation
- B Un format de fichier permettant de stocker de l'information
- C Un algorithme permettant de rechercher une information dans un fichier
- D Un format de fichier permettant de définir le style d'une page web

### Question C 3

Dans la plupart des fichiers CSV, que contient la première ligne ?

#### Réponses

- A des notes concernant la table de données
- B les sources des données
- C les descripteurs des champs de la table de données
- D l'auteur de la table de données

### Question C 4

On a défini deux tables de données :

```
data1 = [('Bruce', 'Wayne'), ('Chuck', 'Norris'), ('Bruce', 'Lee'), ('Clark', 'Kent')]
data2 = [('Diana', 'Prince'), ('Chuck', 'Norris'), ('Peter', 'Parker')]
```

Quelle instruction permet de construire une table data regroupant l'ensemble des informations de data1 et data2 ?

#### Réponses

- A data = data1 + data2
- B data == data1 + data2
- C data = [element for element in data1 or data2]
- D data = [data1] + [data2]

### Question C 5

On considère le code suivant :



```
def clearfield(f):
    for i in range(len(f)):
        f[i]['code'] = None
    return f

fiche = [ {"nom": "pierre", "note": 5.99, "code": 125},
          {"nom": "pol", "note": 2.99, "code": 82},
          {"nom": "jack", "note": 7.99, "code": 135} ]
```

Que renvoie `clearfield(fiche)` ?

#### Réponses

- A [{"nom": "pierre", "note": 5.99, "code": 125}, {"nom": "pol", "note": 2.99, "code": 82}, {"nom": "jack", "note": 7.99, "code": 135}]
- B [{"nom": "pierre", "note": None, "code": 125}, {"nom": "pol", "note": None, "code": 82}, {"nom": "jack", "note": None, "code": 135}]
- C [{"nom": "pierre", "note": 5.99, "None": 125}, {"nom": "pol", "note": 2.99, "None": 82}, {"nom": "jack", "note": 7.99, "None": 135}]
- D [{"nom": "pierre", "note": 5.99, "code": None}, {"nom": "pol", "note": 2.99, "code": None}, {"nom": "jack", "note": 7.99, "code": None}]

#### Question C 6

Parmi les extensions suivantes, laquelle caractérise un fichier contenant des données que l'on peut associer à un tableau de pixels ?

#### Réponses

- A pdf
- B xls
- C png
- D exe

Modèle CCYC : ©DNE

Nom de famille (naissance) :


(Suivi s'il y a lieu, du nom d'usage)

Prénom(s) :

N° candidat :  N° d'inscription :

(Les numéros figurent sur la convocation.)

Né(e) le :  /  /



1.1

## Thème D : interactions entre l'homme et la machine sur le Web

### Question D 1

Quelle méthode est utilisée via une requête HTTP pour envoyer une image via un formulaire HTML ?

#### Réponses

- A HEAD
- B PUT
- C POST
- D GET

### Question D 2

Qu'affiche cet extrait de code HTML en supposant que le fichier *photo-lycee.jpg* se trouve bien dans le dossier *images* ?

```
<a href='photo.html'><img src='images/photo-lycee.jpg' alt='Photo du Lycée' /></a>
```

#### Réponses

- A seulement l'image contenue dans le fichier photo-lycee.jpg
- B seulement le texte Photo du Lycée
- C l'image contenue dans le fichier photo-lycee.jpg avec le texte Photo du Lycée en légende
- D la page Web photo.html

### Question D 3

Dans quel langage les balises `<img>` et `<form>` sont-elles utilisées ?

#### Réponses

- A Python
- B HTML
- C Javascript
- D PHP

### Question D 4

Quelle est la balise HTML utilisée pour indiquer un titre de niveau d'importance maximal ?

#### Réponses

- A la balise `<h0>`
- B la balise `<h1>`
- C la balise `<head>`
- D la balise `<header>`

### Question D 5

Quel code d'erreur renvoie un serveur Web, lorsque la ressource demandée par une requête n'existe pas ?

#### Réponses

- A 100
- B 200
- C 404
- D 504



**Question D 6**

Dans une page HTML, lequel de ces codes permet la présence d'un bouton qui appelle la fonction javascript `afficher_reponse()` lorsque l'utilisateur clique dessus ?

**Réponses**

- A `<a href="afficher_reponse()">Cliquez ici</a>`
- B `<button if_clicked="afficher_reponse()">Cliquez ici</button>`
- C `<button value="Cliquez ici"><a> afficher_reponse()</a></button>`
- D `<button onclick="afficher_reponse()">Cliquez ici</button>`

Modèle CCYC : ©DNE

Nom de famille (naissance) :


(Suivi s'il y a lieu, du nom d'usage)

Prénom(s) :

N° candidat :  N° d'inscription :

(Les numéros figurent sur la convocation.)

Né(e) le :  /  /



1.1

## Thème E : architectures matérielles et systèmes d'exploitation

### Question E 1

Dans la console Linux, quelle commande faut-il exécuter pour obtenir la documentation sur la commande pwd ?

#### Réponses

- A man pwd
- B cd pwd
- C mkdir pwd
- D ls pwd

### Question E 2

Dans un shell sous Linux, Alice utilise la commande pwd.  
Cette commande :

#### Réponses

- A liste les fichiers du répertoire courant
- B liste les répertoires du répertoire courant
- C affiche le chemin du répertoire courant
- D affiche les permissions relatives au répertoire courant

### Question E 3

Sous Linux, la console indique que l'utilisateur se trouve dans le dossier /var/lib. Quelle commande doit-il exécuter pour revenir dans son dossier personnel /home/martin ?

#### Réponses

- A cd ~
- B cd /home
- C dir
- D dir /home/martin

### Question E 4

Identifier parmi les éléments suivants celui qui est uniquement un périphérique de sortie.

#### Réponses

- A clavier
- B souris
- C écran
- D microphone

### Question E 5

Quelle commande permet de connaître le répertoire courant ?

#### Réponses

- A cd
- B ls
- C pwd
- D chmod



**Question E 6**

Le shell Linux renvoie ce résultat à la commande `ls -al` :

```
lrwxr--r-- 2 toto toto 807 juin 26 14:06 eclipse
drwxr-xr-x 2 toto toto 4096 juin 26 15:00 Doc_1
-rw-r-xr-x 2 toto toto 4096 juin 26 14:06 QCM
-rwxr-xr-x 2 toto toto 4096 juin 26 14:06 Doc_Travail
```

Quel est le nom du fichier du répertoire courant, de taille 4096 octets, exécutable par son propriétaire ?

**Réponses**

- A eclipse
- B Doc\_1
- C QCM
- D Doc\_Travail





### Réponses

- A la moyenne de la liste L
- B le minimum de la liste L
- C le maximum de la liste L
- D la longueur de la liste L

### Question F 4

On construit une liste L de la façon suivante :

```
L = []
for i in range(1, 11, 2):
    L.append(5*i)
```

et on obtient ainsi la liste [5, 15, 25, 35, 45].

On pourrait aussi procéder de la façon suivante :

```
L = []
..... # ligne 1
while i < 11:
    L.append(5*i)
..... # ligne 2
```

Que faudrait-il écrire en ligne 1 et en ligne 2 pour obtenir le même résultat ?

### Réponses

- A  $i = 0$  en ligne 1, et  $i = i + 1$  en ligne 2
- B  $i = 0$  en ligne 1, et  $i = i + 2$  en ligne 2
- C  $i = 1$  en ligne 1, et  $i = i + 1$  en ligne 2
- D  $i = 1$  en ligne 1, et  $i = i + 2$  en ligne 2

### Question F 5

On définit la fonction :

```
def f(a,b):
    assert b!=0, 'le deuxième argument est nul'
    result = a/b
    return result
```

Qu'obtient-on en exécutant la commande  $r = f(4,0)$  ?

### Réponses

- A une erreur ZeroDivisionError: division by zero et l'arrêt de l'exécution
- B une erreur NameError: name 'b' is not defined et l'arrêt de l'exécution
- C une erreur AssertionError: le deuxième argument est nul et la variable r prend la valeur 0
- D une erreur AssertionError: le deuxième argument est nul et l'arrêt de l'exécution

### Question F 6

Quel est le seul langage de programmation parmi les propositions suivantes ?

### Réponses







## Thème G : algorithmique

### Question G 1

On exécute le code suivant :

```
tab = [1, 4, 3, 8, 2]
S = 0
for i in range(len(tab)):
    S = S + tab[i]
```

Que vaut la variable S à la fin de l'exécution ?

#### Réponses

- A 1
- B 8
- C 18
- D 3.6

### Question G 2

La fonction ci-dessous renvoie le maximum d'une liste.

```
def maximum(L):
    m = L[0]
    for i in range(1, len(L)):
        #
        if L[i] > m:
            m = L[i]
    return m
```

Au passage dans la ligne marquée d'un #, quelle propriété reste toujours vérifiée ?

#### Réponses

- A m est le maximum des éléments L[k] pour  $i \leq k < \text{len}(L)$
- B m est le maximum des éléments L[k] pour  $i < k < \text{len}(L)$
- C m est le maximum des éléments L[k] pour  $0 \leq k < i$
- D m est le maximum des éléments L[k] pour  $0 \leq k \leq i$

### Question G 3

La fonction suivante doit calculer le produit de tous les éléments de la liste passée en paramètre. Avec quelles expressions doit-on la compléter pour que cette fonction soit correcte ?

```
def produit (L):
    p = ...
    for elt in L:
        .....
    return p
```

#### Réponses

- A 1 puis  $p = p * \text{elt}$
- B 0 puis  $p = p * \text{elt}$
- C 1 puis  $p = \text{elt}$
- D 0 puis  $p = \text{elt}$

### Question G 4

Modèle CCYC : ©DNE

Nom de famille (naissance) :


(Suivi s'il y a lieu, du nom d'usage)

Prénom(s) :

N° candidat :  N° d'inscription :

(Les numéros figurent sur la convocation.)

Né(e) le :  /  /

 RÉPUBLIQUE FRANÇAISE

1.1

Lors de l'exécution du code suivant, combien de fois l'opération  $a = 2*a$  sera-t-elle effectuée ?

```

a = 1
cpt = 1
while cpt < 8:
    a = 2*a
    cpt = cpt+1

```

**Réponses**

- A 0
- B 1
- C 7
- D 8

**Question G 5**

On considère la fonction suivante :

```

def f(x,L):
    i = 0
    j = len(L)-1
    while i<j:
        k = (i+j)//2
        if x <= L[k]:
            j = k
        else:
            i = k + 1
    return i

```

Cette fonction implémente :

**Réponses**

- A le tri par insertion
- B le tri par sélection
- C la recherche dichotomique
- D la recherche du plus proche voisin

**Question G 6**

Quelle valeur permet de compléter l'affirmation suivante : « Le nombre d'opérations nécessaires pour rechercher un élément séquentiellement dans une liste de longueur  $n$  est de l'ordre de ... » ?

**Réponses**

- A 1
- B  $n$
- C  $n^2$
- D  $n^3$