

Modèle CCYC : ©DNE

Nom de famille (naissance) :


(Suivi s'il y a lieu, du nom d'usage)

Prénom(s) :

N° candidat : N° d'inscription :

(Les numéros figurent sur la convocation.)

Né(e) le : / /



1.1

Évaluation
<p>CLASSE : Première</p> <p>VOIE : <input checked="" type="checkbox"/> Générale <input type="checkbox"/> Technologique <input type="checkbox"/> Toutes voies (LV)</p> <p>ENSEIGNEMENT : spécialité Numérique et Sciences Informatiques (NSI)</p> <p>DURÉE DE L'ÉPREUVE : 02 h 00</p> <p>Niveaux visés (LV) : LVA LVB</p> <p>Axes de programme :</p> <p>CALCULATRICE AUTORISÉE : <input type="checkbox"/> Oui <input checked="" type="checkbox"/> Non</p> <p>DICTIONNAIRE AUTORISÉ : <input type="checkbox"/> Oui <input checked="" type="checkbox"/> Non</p> <p><input checked="" type="checkbox"/> Ce sujet contient des parties à rendre par le candidat avec sa copie. De ce fait, il ne peut être dupliqué et doit être imprimé pour chaque candidat afin d'assurer ensuite sa bonne numérisation.</p> <p><input type="checkbox"/> Ce sujet intègre des éléments en couleur. S'il est choisi par l'équipe pédagogique, il est nécessaire que chaque élève dispose d'une impression en couleur.</p> <p><input type="checkbox"/> Ce sujet contient des pièces jointes de type audio ou vidéo qu'il faudra télécharger et jouer le jour de l'épreuve.</p> <p>Nombre total de pages : 18</p>

L'épreuve consiste en 42 questions, rangées en 7 thèmes.

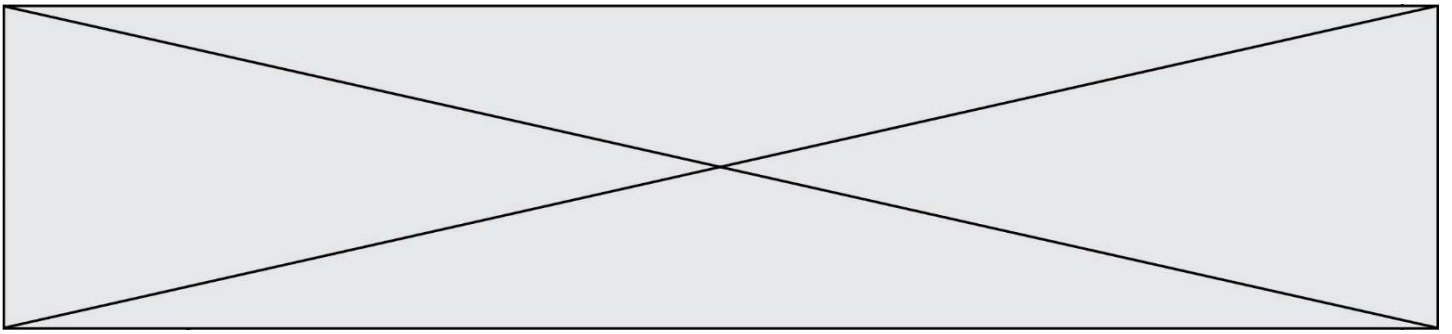
Le candidat gagne 1 point pour la réponse correcte et obtient un résultat nul pour une réponse fautive, une absence de réponse ou une réponse multiple.

Le résultat obtenu est transformé en note sur 20 selon la formule : nombre de points obtenus x 20/42.

Le candidat indique ses réponses aux questions en pages 3 et 4.

Seules les pages 1 à 4 sont rendues par le candidat à la fin de l'épreuve, pour être numérisées.

Les questions figurent sur les pages suivantes.



Modèle CCYC : ©DNE

Nom de famille (naissance) :

(Suivi s'il y a lieu, du nom d'usage)

Prénom(s) :

N° candidat :

N° d'inscription :



Liberté • Égalité • Fraternité
RÉPUBLIQUE FRANÇAISE

Né(e) le :

(Les numéros figurent sur la convocation.)

1.1

Thème A : types de base

Réponse à la question 1	A	B	C	D
Réponse à la question 2	A	B	C	D
Réponse à la question 3	A	B	C	D
Réponse à la question 4	A	B	C	D
Réponse à la question 5	A	B	C	D
Réponse à la question 6	A	B	C	D

Thème B : types construits

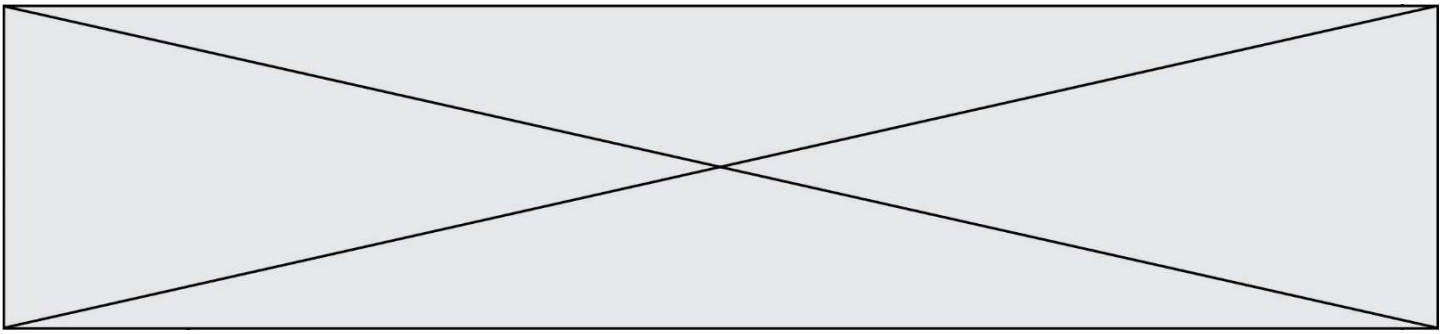
Réponse à la question 1	A	B	C	D
Réponse à la question 2	A	B	C	D
Réponse à la question 3	A	B	C	D
Réponse à la question 4	A	B	C	D
Réponse à la question 5	A	B	C	D
Réponse à la question 6	A	B	C	D

Thème C : traitement de données en tables

Réponse à la question 1	A	B	C	D
Réponse à la question 2	A	B	C	D
Réponse à la question 3	A	B	C	D
Réponse à la question 4	A	B	C	D
Réponse à la question 5	A	B	C	D
Réponse à la question 6	A	B	C	D

Thème D : interactions entre l'homme et la machine sur le Web

Réponse à la question 1	A	B	C	D
Réponse à la question 2	A	B	C	D
Réponse à la question 3	A	B	C	D
Réponse à la question 4	A	B	C	D
Réponse à la question 5	A	B	C	D
Réponse à la question 6	A	B	C	D



Thème E : architectures matérielles et systèmes d'exploitation

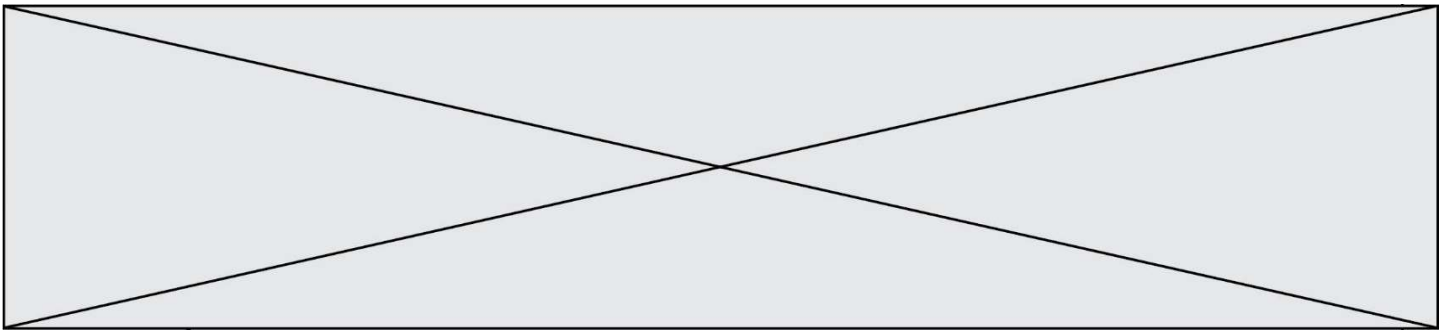
Réponse à la question 1	A	B	C	D
Réponse à la question 2	A	B	C	D
Réponse à la question 3	A	B	C	D
Réponse à la question 4	A	B	C	D
Réponse à la question 5	A	B	C	D
Réponse à la question 6	A	B	C	D

Thème F : langages et programmation

Réponse à la question 1	A	B	C	D
Réponse à la question 2	A	B	C	D
Réponse à la question 3	A	B	C	D
Réponse à la question 4	A	B	C	D
Réponse à la question 5	A	B	C	D
Réponse à la question 6	A	B	C	D

Thème G : algorithmique

Réponse à la question 1	A	B	C	D
Réponse à la question 2	A	B	C	D
Réponse à la question 3	A	B	C	D
Réponse à la question 4	A	B	C	D
Réponse à la question 5	A	B	C	D
Réponse à la question 6	A	B	C	D



Question A 6

Le résultat de la soustraction en binaire $101001 - 101$ est égal au nombre binaire :

Réponses

- A 100900
- B 101110
- C 100100
- D 100110

Modèle CCYC : ©DNE

Nom de famille (naissance) :


(Suivi s'il y a lieu, du nom d'usage)

Prénom(s) :

N° candidat : N° d'inscription :

(Les numéros figurent sur la convocation.)

Né(e) le : / /

 Liberté • Égalité • Fraternité
RÉPUBLIQUE FRANÇAISE

1.1

Thème B : types construits

Question B 1

On définit : $L = [10, 9, 8, 7, 6, 5, 4, 3, 2, 1]$.

Quelle est la valeur de $L[L[3]]$?

Réponses

- A 3
- B 4
- C 7
- D 8

Question B 2

On définit `tableau = [[1, 2, 3], [4, 5, 6], [7, 8, 9]]`. Quelle est la valeur de `tableau[2][1]` ?

Réponses

- A 2
- B 4
- C 6
- D 8

Question B 3

Laquelle des quatre expressions suivantes a-t-elle pour valeur la liste $[1, 2, 5, 10]$?

Réponses

- A `[i for i in range(4) if i<2]`
- B `[i for i in range(4)]`
- C `[i*i + 1 for i in range(4)]`
- D `[i*i - 2*i + 2 for i in range(4)]`

Question B 4

On définit :

```
resultat = [ i*2 for i in range(10) ]
```

Quelle est la valeur de `resultat` ?

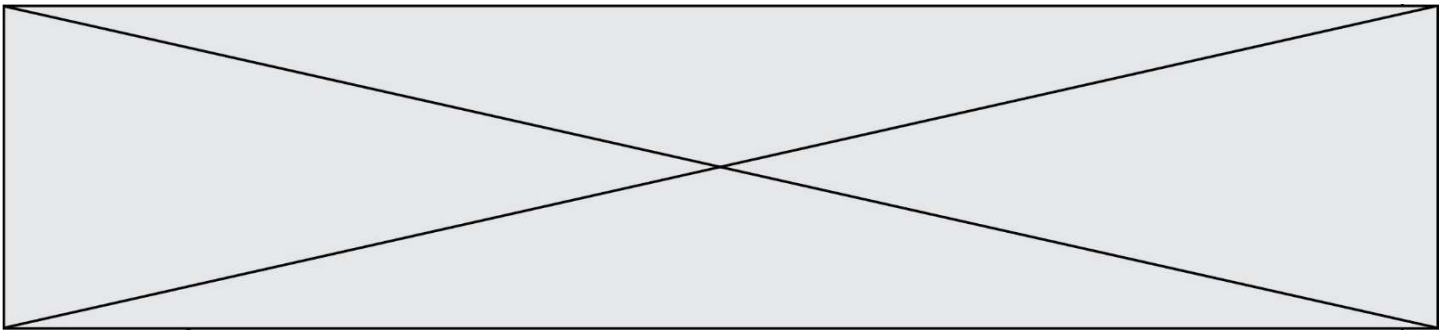
Réponses

- A `[0, 1, 2, 3, 4, 5, 6, 7, 8, 9]`
- B `[0, 2, 4, 6, 8, 10, 12, 14, 16, 18]`
- C `[0, 2, 4, 6, 8, 10, 12, 14, 16, 18, 20]`
- D `[2, 4, 6, 8, 10, 12, 14, 16, 18]`

Question B 5

On dispose d'une liste définie par $L = [[1, 2, 3], [4, 5, 6], [7, 8, 9]]$.

Quelle est la valeur de $L[1][2]$?



Réponses

- A 2
- B 4
- C 6
- D 8

Question B 6

Quelle est la valeur de l'expression `[(i,i+1) for i in range(2)]`?

Réponses

- A `[0,1,1,2]`
- B `[(1,2),(2,3)]`
- C `[(0,1),(1,2)]`
- D `[[0,1],[1,2]]`

Modèle CCYC : ©DNE

Nom de famille (naissance) :


(Suivi s'il y a lieu, du nom d'usage)

Prénom(s) :

N° candidat : N° d'inscription :

(Les numéros figurent sur la convocation.)

Né(e) le : / /



1.1

Thème C : traitement de données en tables

Question C 1

Soit la table de données suivante :

nom	prenom	date_naissance
Dupont	Pierre	17/05/1987
Dupond	Catherine	18/07/1981
Haddock	Archibald	23/04/1998

Quels sont les descripteurs de ce tableau ?

Réponses

- A nom, prenom et date_naissance
- B Dupont, Pierre et 17/05/1987
- C Dupont, Dupond et Haddock
- D il n'y en a pas

Question C 2

On exécute le code suivant :

```
dict = { "alexandre" : 17, "mehdi" : 18, "jeanne" : 16,
        "charlotte" : 19, "celina" : 18, "noé" : 19 }

def f(dic):
    for cle, valeur in dic.items() :
        if valeur > 18:
            return cle
```

Que renvoie l'appel f(dict) ?

Réponses

- A 19
- B 19,19
- C "charlotte"
- D "charlotte", "noé"

Question C 3

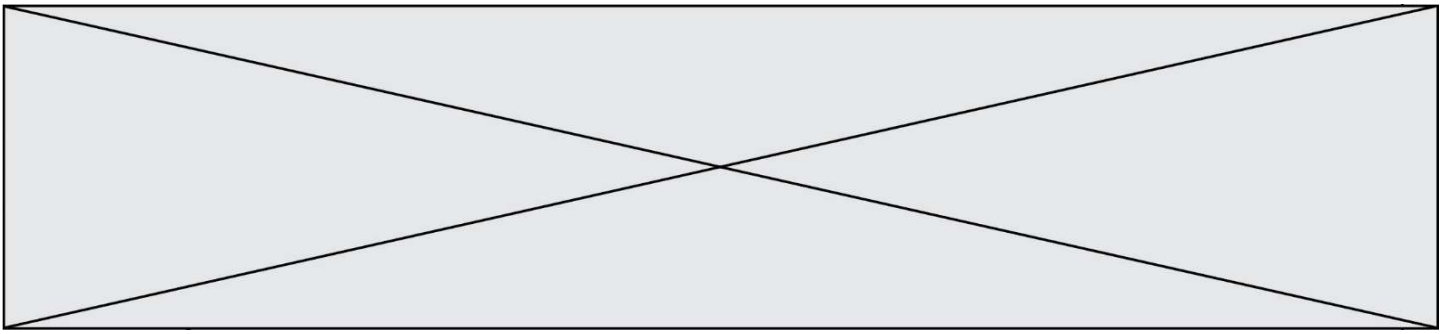
On exécute le script suivant :

```
asso = []
L = [ ['marc', 'marie'], ['marie', 'jean'], ['paul', 'marie'], ['marie', 'marie'],
      ['marc', 'anne'] ]
for c in L :
    if c[1]=='marie':
        asso.append(c[0])
```

Que vaut asso à la fin de l'exécution ?

Réponses

- A ['marc', 'jean', 'paul']
- B [['marc', 'marie'], ['paul', 'marie'], ['marie', 'marie']]
- C ['marc', 'paul', 'marie']
- D ['marie', 'anne']



Question C 4

Quelle expression Python permet d'accéder au numéro de téléphone de Tournesol, sachant que le répertoire a été défini par l'affectation suivante :

```
repertoire = [{'nom': 'Dupont', 'tel': '5234'},  
              {'nom': 'Tournesol', 'tel': '5248'}, {'nom': 'Dupond', 'tel': '3452'}]
```

Réponses

- A repertoire['Tournesol']
- B repertoire['tel'][1]
- C repertoire[1]['tel']
- D repertoire['Tournesol']['tel']

Question C 5

Qu'est-ce que le CSV ?

Réponses

- A Un langage de programmation
- B Un format de fichier permettant de stocker de l'information
- C Un algorithme permettant de rechercher une information dans un fichier
- D Un format de fichier permettant de définir le style d'une page web

Question C 6

On considère l'extraction suivante d'une base de données des départements français. Cette extraction a ensuite été sauvegardée dans un fichier texte.

```
"1", "01", "Ain", "AIN", "ain", "A500"  
"2", "02", "Aisne", "AISNE", "aisne", "A250"  
"3", "03", "Allier", "ALLIER", "allier", "A460"  
"4", "04", "Alpes-de-Haute-Provence", "ALPES-DE-HAUTE-PROVENCE", "alpes-de-haute-  
provence", "A412316152"  
"5", "05", "Hautes-Alpes", "HAUTES-ALPES", "hautes-alpes", "H32412"
```

Quel est le format de ce fichier ?

Réponses

- A YML
- B XML
- C CSV
- D JSON

Modèle CCYC : ©DNE

Nom de famille (naissance) :


(Suivi s'il y a lieu, du nom d'usage)

Prénom(s) :

N° candidat : N° d'inscription :

(Les numéros figurent sur la convocation.)

Né(e) le : / /



1.1

Thème D : interactions entre l'homme et la machine sur le Web

Question D 1

Dans une page web, on souhaite créer un bouton permettant l'appel de la fonction javascript traitement(). Quelle ligne d'instructions permettra de le faire ?

Réponses

- A `<button onclick = "traitement()">Cliquez ici</button>`
- B `Cliquez ici`
- C `<button>Cliquez ici</button = traitement()>`
- D `<button>Cliquez ici = traitement()</button>`

Question D 2

Quel est le nom de l'événement généré lorsque l'utilisateur clique sur un bouton de type button dans une page HTML ?

Réponses

- A action
- B mouse
- C submit
- D click

Question D 3

Mehdi a écrit une page HTML contenant des éléments input de formulaire. Il place ces éléments de formulaire :

Réponses

- A entre la balise `<form>` et la balise `</form>`
- B entre la balise `<formulary>` et la balise `</formulary>`
- C entre la balise `<code>` et la balise `</code>`
- D entre la balise `<script>` et la balise `</script>`

Question D 4

Dans le contexte du Web, qu'est-ce qu'une transmission chiffrée ?

Réponses

- A une transmission optimisée pour les grands nombres
- B une transmission sous forme binaire
- C une transmission d'informations difficiles à décrypter
- D une transmission facturée proportionnellement à la taille du message

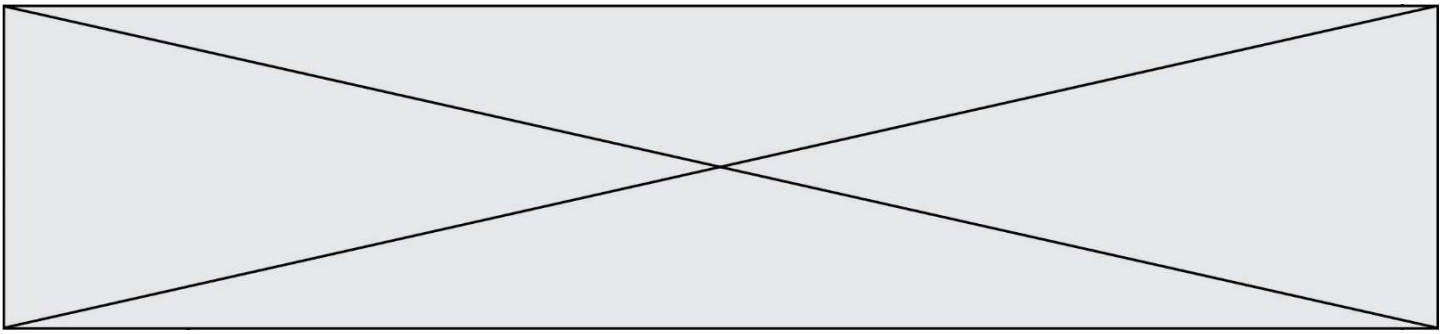
Question D 5

Quelle est la balise HTML utilisée pour indiquer un titre de niveau d'importance maximal ?

Réponses

- A la balise `<h0>`
- B la balise `<h1>`
- C la balise `<head>`
- D la balise `<header>`

Question D 6



On considère cet extrait de fichier HTML représentant les onglets d'une barre de navigation :

```
<ul id="tab-nav">
  <li><a href="onglet1.html" class="tab-nav-active">Onglet 1</a></li>
  <li><a href="onglet2.html">Onglet 2</a></li>
  <li><a href="onglet3.html">Onglet 3</a></li>
</ul>
```

Quel code CSS permet de mettre en bleu la couleur de fond des onglets et uniquement eux ?

Réponses

- A tab-nav a { background-color : blue; }
- B tab-nav, a { background-color : blue; }
- C #tab-nav a { background-color : blue; }
- D #tab-nav, a { background-color : blue; }

Modèle CCYC : ©DNE

Nom de famille (naissance) :


(Suivi s'il y a lieu, du nom d'usage)

Prénom(s) :

N° candidat : N° d'inscription :

(Les numéros figurent sur la convocation.)

Né(e) le : / /



1.1

Thème E : architectures matérielles et systèmes d'exploitation

Question E 1

Identifier parmi les éléments suivants celui qui n'est pas un capteur.

Réponses

- A haut-parleur
- B caméra
- C accéléromètre
- D microphone

Question E 2

Sous Linux, dans quel but utilise-t-on la commande `ls` ?

Réponses

- A pour afficher le chemin vers le répertoire courant
- B pour afficher les noms de fichiers et répertoires du répertoire courant
- C pour effacer un fichier
- D pour copier un fichier

Question E 3

Quel est le rôle de la commande shell `ls` ?

Réponses

- A basculer en mode administrateur
- B lister le contenu du répertoire courant
- C donner un accès complet à un fichier
- D effacer le contenu du répertoire courant

Question E 4

Dans la console Linux, étant positionné dans le répertoire `/home/marcelH/travail`, quelle commande faut-il exécuter pour remonter dans l'arborescence vers le répertoire `/home/marcelH` ?

Réponses

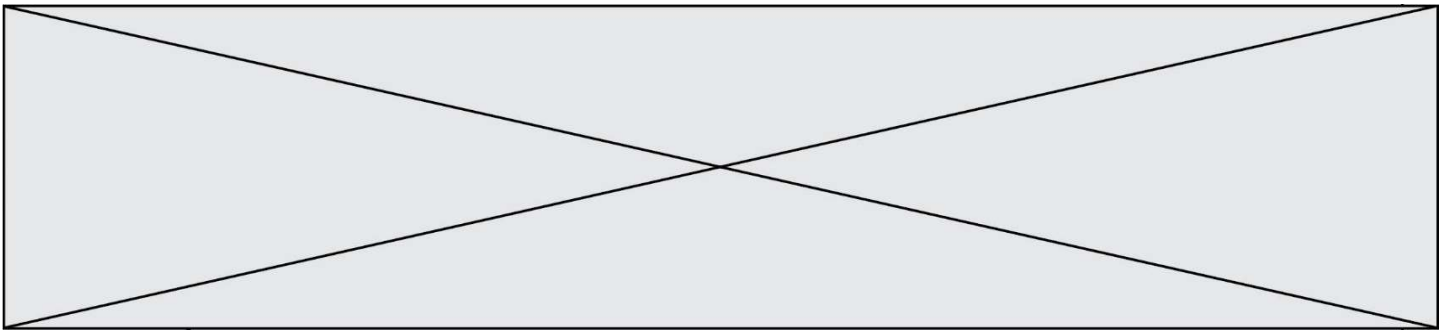
- A `cd .`
- B `cd ..`
- C `cd ...`
- D `cd ../../`

Question E 5

Sous Linux, les droits d'accès à un fichier dont le propriétaire est Joseph sont les suivants : `-rwxr-xr--`. Laquelle des affirmations suivantes est **fausse** ?

Réponses

- A Joseph a l'autorisation de lire ce fichier
- B les membres du groupe de Joseph ont l'autorisation de lire ce fichier
- C tous les utilisateurs ont l'autorisation de lire ce fichier
- D les membres du groupe de Joseph ont l'autorisation de modifier ce fichier



Question E 6

Dans une mémoire vive RAM, que peut-on faire ?

Réponses

- A uniquement lire des données
- B uniquement écrire des données
- C lire et écrire des données
- D lire des données même en cas de coupure de courant


```
p = 15
if c <= 40:
    p = 19
else:
    p = 20
return p
```

Que renvoie maFonction(18) ?

Réponses

- A 12
- B 15
- C 19
- D 20

Question F 5

On exécute le script suivant.

```
a,b = 10,3
if a < 10:
    a,b = a+2,b+a
```

Quelle est la valeur de b à la fin de son exécution ?

Réponses

- A 3
- B 12
- C 13
- D 15

Question F 6

On exécute le script Python suivant :

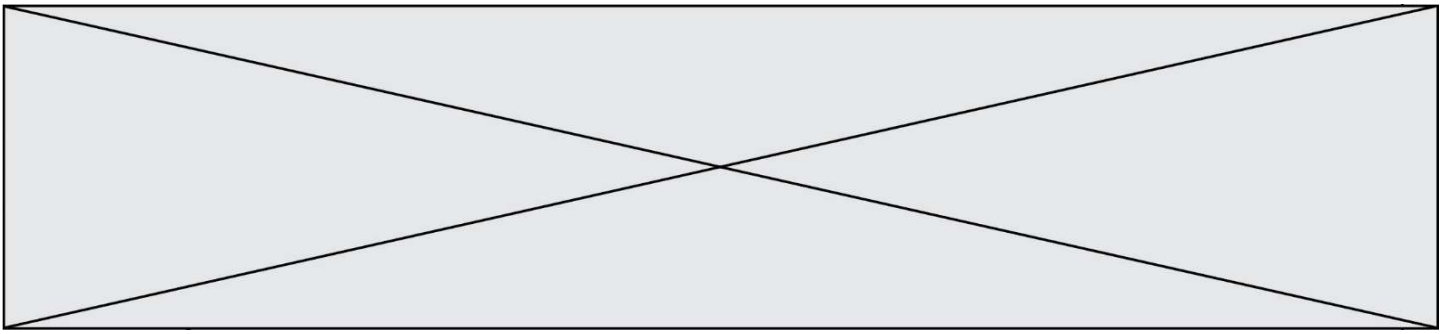
```
def cube(L):
    for i in range(len(L)):
        L[i] = L[i] * L[i] * L[i]
    return L
```

```
L = [2, 5]
b = cube(L)
```

Que vaut le couple (L, b) à la fin de l'exécution ?

Réponses

- A ([2,5], [8,125])
- B ([8,125], [8,125])
- C ([8,125], [2,5])
- D ([2,5], [2,5])



- B elle renvoie le minimum de la liste
- C elle renvoie l'indice de la première occurrence du maximum de la liste
- D elle renvoie l'indice de la dernière occurrence du maximum de la liste

Question G 5

Qu'affiche le programme suivant :

```
a = 3
b = 4
if a > b and a == 3:
    print('vert')
if a > b and b == 4:
    print('rouge')
if a == 4 or b > a:
    print('bleu')
if a == 3 or a < b:
    print('jaune')
```

Réponses

- A vert
rouge
- B bleu
jaune
- C bleu
- D vert
Jaune

Question G 6

Soit T le temps nécessaire pour trier, à l'aide de l'algorithme du tri par insertion, une liste de 1000 nombres entiers. Quel est l'ordre de grandeur du temps nécessaire, avec le même algorithme, pour trier une liste de 10 000 entiers, c'est-à-dire une liste dix fois plus grande ?

Réponses

- A à peu près le même temps T
- B environ $10 \times T$
- C environ $100 \times T$
- D environ T^2