


Modèle CCYC : ©DNE																								
Nom de famille (naissance) :																								
<small>(Suivi s'il y a lieu, du nom d'usage)</small>																								
Prénom(s) :																								
N° candidat :													N° d'inscription :											
<small>(Les numéros figurent sur la convocation.)</small>																								
Né(e) le :			/			/																		



1.1

Évaluation	
CLASSE : Première	
VOIE : <input checked="" type="checkbox"/> Générale <input type="checkbox"/> Technologique <input type="checkbox"/> Toutes voies (LV)	
ENSEIGNEMENT : spécialité Numérique et Sciences Informatiques (NSI)	
DURÉE DE L'ÉPREUVE : 02 h 00	
Niveaux visés (LV) : LVA LVB	
Axes de programme :	
CALCULATRICE AUTORISÉE : <input type="checkbox"/> Oui <input checked="" type="checkbox"/> Non	
DICTIONNAIRE AUTORISÉ : <input type="checkbox"/> Oui <input checked="" type="checkbox"/> Non	
 <input checked="" type="checkbox"/> Ce sujet contient des parties à rendre par le candidat avec sa copie. De ce fait, il ne peut être dupliqué et doit être imprimé pour chaque candidat afin d'assurer ensuite sa bonne numérisation.	
<input type="checkbox"/> Ce sujet intègre des éléments en couleur. S'il est choisi par l'équipe pédagogique, il est nécessaire que chaque élève dispose d'une impression en couleur.	
<input type="checkbox"/> Ce sujet contient des pièces jointes de type audio ou vidéo qu'il faudra télécharger et jouer le jour de l'épreuve.	
Nombre total de pages : 19	

L'épreuve consiste en 42 questions, rangées en 7 thèmes.

Pour chaque question, le candidat gagne 3 points s'il choisit la bonne réponse, perd 1 point s'il choisit une réponse fautive. S'il ne répond pas ou choisit plusieurs réponses, il ne gagne ni ne perd aucun point.

Le total sur chacun des 7 thèmes est ramené à 0 s'il est négatif.

La note finale s'obtient en divisant le total des points par 6,3 et en arrondissant à l'entier supérieur.

Le candidat indique ses réponses aux questions en pages 3 et 4.

Seules les pages 1 à 4 sont rendues par le candidat à la fin de l'épreuve, pour être numérisées.

Les questions figurent sur les pages suivantes.



Modèle CCYC : ©DNE

Nom de famille (naissance) :

(Suivi s'il y a lieu, du nom d'usage)

Prénom(s) :

N° candidat :

N° d'inscription :



Liberté • Égalité • Fraternité
RÉPUBLIQUE FRANÇAISE

(Les numéros figurent sur la convocation.)

Né(e) le :

1.1

Thème A : types de base

- Réponse à la question 1 A B C D
Réponse à la question 2 A B C D
Réponse à la question 3 A B C D
Réponse à la question 4 A B C D
Réponse à la question 5 A B C D
Réponse à la question 6 A B C D

Thème B : types construits

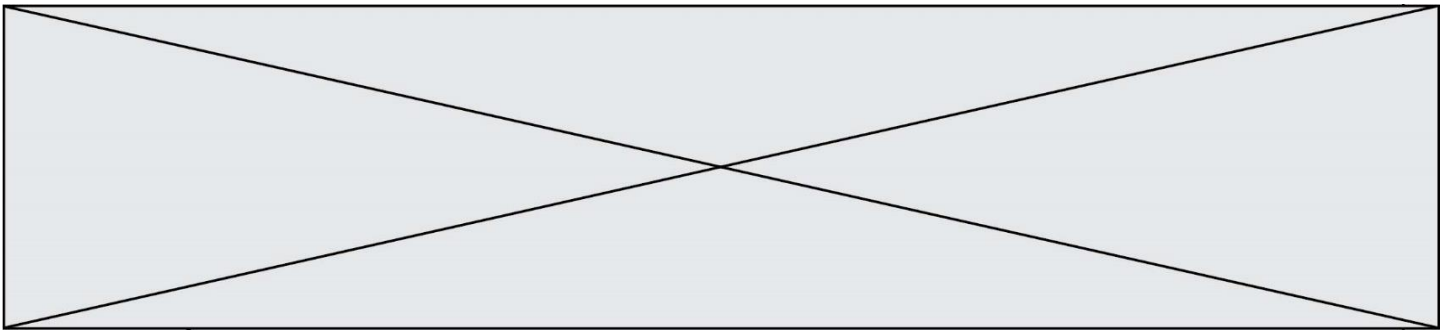
- Réponse à la question 1 A B C D
Réponse à la question 2 A B C D
Réponse à la question 3 A B C D
Réponse à la question 4 A B C D
Réponse à la question 5 A B C D
Réponse à la question 6 A B C D

Thème C : traitement de données en tables

- Réponse à la question 1 A B C D
Réponse à la question 2 A B C D
Réponse à la question 3 A B C D
Réponse à la question 4 A B C D
Réponse à la question 5 A B C D
Réponse à la question 6 A B C D

Thème D : interactions entre l'homme et la machine sur le Web

- Réponse à la question 1 A B C D
Réponse à la question 2 A B C D
Réponse à la question 3 A B C D
Réponse à la question 4 A B C D
Réponse à la question 5 A B C D
Réponse à la question 6 A B C D



Thème E : architectures matérielles et systèmes d'exploitation

Réponse à la question 1	A <input type="checkbox"/>	B <input type="checkbox"/>	C <input type="checkbox"/>	D <input type="checkbox"/>
Réponse à la question 2	A <input type="checkbox"/>	B <input type="checkbox"/>	C <input type="checkbox"/>	D <input type="checkbox"/>
Réponse à la question 3	A <input type="checkbox"/>	B <input type="checkbox"/>	C <input type="checkbox"/>	D <input type="checkbox"/>
Réponse à la question 4	A <input type="checkbox"/>	B <input type="checkbox"/>	C <input type="checkbox"/>	D <input type="checkbox"/>
Réponse à la question 5	A <input type="checkbox"/>	B <input type="checkbox"/>	C <input type="checkbox"/>	D <input type="checkbox"/>
Réponse à la question 6	A <input type="checkbox"/>	B <input type="checkbox"/>	C <input type="checkbox"/>	D <input type="checkbox"/>

Thème F : langages et programmation

Réponse à la question 1	A <input type="checkbox"/>	B <input type="checkbox"/>	C <input type="checkbox"/>	D <input type="checkbox"/>
Réponse à la question 2	A <input type="checkbox"/>	B <input type="checkbox"/>	C <input type="checkbox"/>	D <input type="checkbox"/>
Réponse à la question 3	A <input type="checkbox"/>	B <input type="checkbox"/>	C <input type="checkbox"/>	D <input type="checkbox"/>
Réponse à la question 4	A <input type="checkbox"/>	B <input type="checkbox"/>	C <input type="checkbox"/>	D <input type="checkbox"/>
Réponse à la question 5	A <input type="checkbox"/>	B <input type="checkbox"/>	C <input type="checkbox"/>	D <input type="checkbox"/>
Réponse à la question 6	A <input type="checkbox"/>	B <input type="checkbox"/>	C <input type="checkbox"/>	D <input type="checkbox"/>

Thème G : algorithmique

Réponse à la question 1	A <input type="checkbox"/>	B <input type="checkbox"/>	C <input type="checkbox"/>	D <input type="checkbox"/>
Réponse à la question 2	A <input type="checkbox"/>	B <input type="checkbox"/>	C <input type="checkbox"/>	D <input type="checkbox"/>
Réponse à la question 3	A <input type="checkbox"/>	B <input type="checkbox"/>	C <input type="checkbox"/>	D <input type="checkbox"/>
Réponse à la question 4	A <input type="checkbox"/>	B <input type="checkbox"/>	C <input type="checkbox"/>	D <input type="checkbox"/>
Réponse à la question 5	A <input type="checkbox"/>	B <input type="checkbox"/>	C <input type="checkbox"/>	D <input type="checkbox"/>
Réponse à la question 6	A <input type="checkbox"/>	B <input type="checkbox"/>	C <input type="checkbox"/>	D <input type="checkbox"/>

Nom de famille (naissance) :

(Suivi s'il y a lieu, du nom d'usage)

Prénom(s) :

N° candidat :

N° d'inscription :

(Les numéros figurent sur la convocation.)

Né(e) le :



Thème A : types de base

Question A 1

On considère l'expression logique $(a \text{ or } b)$ and a . Quelle est sa table de vérité ?

Réponses

A

a	b	$(a \text{ or } b)$ and a
False	False	False
False	True	True
True	False	True
True	True	True

B

a	b	$(a \text{ or } b)$ and a
False	False	False
False	True	False
True	False	True
True	True	True

C

a	b	$(a \text{ or } b)$ and a
False	False	False
False	True	False
True	False	False
True	True	True

D

a	b	$(a \text{ or } b)$ and a
False	False	False
False	True	False
True	False	False
True	True	False

Question A 2

Sachant que l'expression not $(a \text{ or } b)$ a la valeur True, quelles peuvent être les valeurs des variables booléennes a et b ?

Réponses

- A True et True
- B False et True
- C True et False
- D False et False

Question A 3

Parmi les quatre nombres suivants lequel est le seul à pouvoir être représenté de façon exacte en machine ?

Réponses



- A 3.1
- B 4.2
- C 5.24
- D 7.25

Question A 4

Quelle est l'écriture binaire sur 8 bits en complément à deux de l'entier négatif -108 ?

Réponses

- A 1000 1000
- B 0110 1100
- C 1001 0100
- D 1110 1100

Question A 5

Quelle est l'écriture décimale de l'entier qui s'écrit 1010 en binaire ?

Réponses

- A 5
- B 10
- C 20
- D 22

Question A 6

À quelle affectation sont équivalentes les instructions suivantes, où a, b sont des variables entières et c une variable booléenne ?

```
c = False
if a==b:
    c = True
if a > b+10:
    c = True
```

Réponses

- A `c = (a==b) or (a > b+10)`
- B `c = (a==b) and (a > b+10)`
- C `c = not(a==b)`
- D `c = not(a > b+10)`

Modèle CCYC : ©DNE

Nom de famille (naissance) :


(Suivi s'il y a lieu, du nom d'usage)

Prénom(s) :

N° candidat : N° d'inscription :

(Les numéros figurent sur la convocation.)

Né(e) le : / /



1.1

Thème B : types construits

Question B 1

On définit $L = [4, 25, 10, 9, 7, 13]$. Quelle est la valeur de $L[2]$?

Réponses

- A 4
- B 25
- C 10
- D 9

Question B 2

On définit une liste : $L = [1, 1, 2, 9, 3, 4, 5, 6, 7]$.

Quelle expression a-t-elle pour valeur la liste $[4, 16, 36]$?

Réponses

- A `[(x * x) % 2 == 0 for x in liste]`
- B `[x for x in liste if x % 2 == 0]`
- C `[x * x for x in liste]`
- D `[x * x for x in liste if x % 2 == 0]`

Question B 3

Considérons le tableau suivant :

```
tableau = [ [i+2*j for j in range(4)] for i in range(4)]
```

Quelle est la valeur de l'expression `tableau[1]` ?

Réponses

- A `[0, 1, 2, 3]`
- B `[1, 2, 3, 4]`
- C `[0, 2, 4, 6]`
- D `[1, 3, 5, 7]`

Question B 4

Comment peut-on accéder à la valeur associée à une clé dans un dictionnaire ?

Réponses

- A il faut parcourir le dictionnaire avec une boucle à la recherche de la clé
- B on peut y accéder directement à partir de la clé
- C on ne peut pas accéder à une valeur contenue dans un dictionnaire à partir d'une clé
- D il faut d'abord déchiffrer la clé pour accéder à un dictionnaire

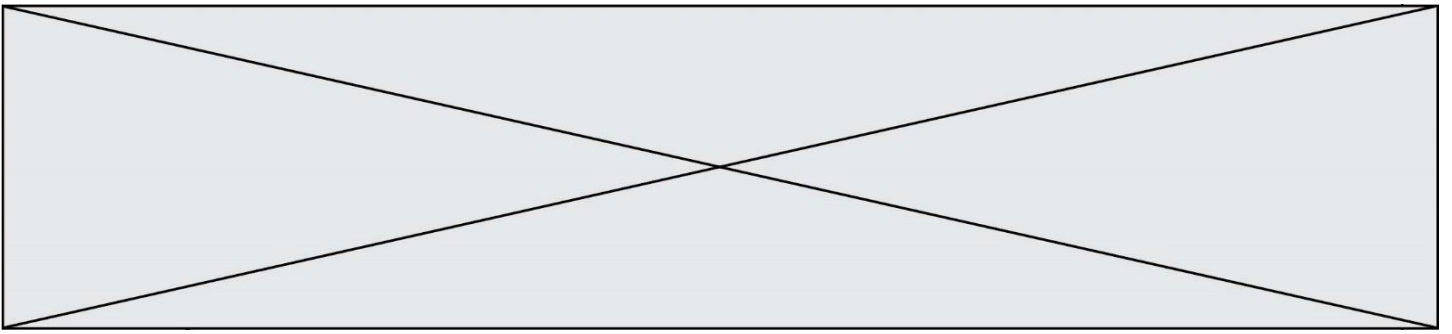
Question B 5

Quelle expression Python a pour valeur la liste $[1, 3, 5, 7, 9, 11]$?

Réponses

- A `[2*i - 1 for i in range(6)]`
- B `[2*i + 1 for i in range(6)]`
- C `[2*i + 1 for i in range(5)]`
- D `[2*i - 1 for i in range(7)]`

Question B 6



Quelle expression a pour valeur la liste [7, 14, 21, 28, 35, 42, 49, 56, 63] ?

Réponses

- A [7*k for k in range(9)]
- B [7*k for k in range(1,10)]
- C [7*k for k in range(10)]
- D [[7*k for k in range(1,9)]]

Modèle CCYC : ©DNE

Nom de famille (naissance) :

(Suivi s'il y a lieu, du nom d'usage)

Prénom(s) :

N° candidat : N° d'inscription :

(Les numéros figurent sur la convocation.)

Né(e) le : / /



1.1

Thème C : traitement de données en tables

Question C 1

On définit ainsi une liste t :

```
t = [ {'id':1, 'age':23, 'sejour':'PEKIN'},
      {'id':2, 'age':27, 'sejour':'ISTANBUL'},
      {'id':3, 'age':53, 'sejour':'LONDRES'},
      {'id':4, 'age':41, 'sejour':'ISTANBUL'},
      {'id':5, 'age':62, 'sejour':'RIO'},
      {'id':6, 'age':28, 'sejour':'ALGER'}]
```

Quelle affirmation est correcte ?

Réponses

- A t est une liste de listes
- B t est une liste de dictionnaires
- C t est un dictionnaire de listes
- D t est une liste de tuples

Question C 2

Quelle expression Python permet d'accéder au numéro de téléphone de Tournesol, sachant que le répertoire a été défini par l'affectation suivante :

```
repertoire = [{'nom': 'Dupont', 'tel': '5234'},
              {'nom': 'Tournesol', 'tel': '5248'}, {'nom': 'Dupond', 'tel': '3452'}]
```

Réponses

- A repertoire['Tournesol']
- B repertoire['tel'][1]
- C repertoire[1]['tel']
- D repertoire['Tournesol']['tel']

Question C 3

On utilise habituellement un fichier d'extension csv pour quel type de données ?

Réponses

- A des données structurées graphiquement
- B des données sonores
- C des données compressées
- D des données structurées en tableau

Question C 4

On exécute le code suivant :

```
collection = [('Renault', '4L', 1974, 30),
              ('Peugeot', '504', 1970, 82),
              ('Citroën', 'Traction', 1950, 77)]
```



Que vaut `collection[1][2]` ?

Réponses

- A 1970
- B '4L'
- C ('Peugeot', '504', 1970, 82)
- D ('Renault', '4L', 1974, 30)

Question C 5

On a défini :

```
mendeleiev = [['H', '.', '.', '.', '.', '.', '.', '.', 'He'],  
              ['Li', 'Be', 'B', 'C', 'N', 'O', 'F1', 'Ne'],  
              ['Na', 'Mg', 'Al', 'Si', 'P', 'S', 'Cl', 'Ar']]
```

Une erreur s'est glissée dans le tableau, car le symbole du Fluor est F et non Fl. Quelle instruction permet de rectifier ce tableau ?

Réponses

- A `mendeleiev.append('F')`
- B `mendeleiev[1][6] = 'F'`
- C `mendeleiev[6][1] = 'F'`
- D `mendeleiev[-1][-1] = 'F'`

Question C 6

Qu'est-ce que le CSV ?

Réponses

- A Un langage de programmation
- B Un format de fichier permettant de stocker de l'information
- C Un algorithme permettant de rechercher une information dans un fichier
- D Un format de fichier permettant de définir le style d'une page web

Modèle CCYC : ©DNE

Nom de famille (naissance) :

(Suivi s'il y a lieu, du nom d'usage)

Prénom(s) :

N° candidat : N° d'inscription :

(Les numéros figurent sur la convocation.)

Né(e) le : / /



1.1

Thème D : interactions entre l'homme et la machine sur le Web

Question D 1

Les pages HTML sont affichées par ...

Réponses

- A le compilateur
- B le serveur
- C l'interpréteur
- D le navigateur Web

Question D 2

Charles veut accéder à son forum favori. Il saisit son adresse (URL) sur son navigateur Web, qui lui affiche une erreur 404.

Quel cas de figure **n'explique pas** sa situation ?

Réponses

- A une mise à jour du serveur qui héberge le forum
- B une erreur de saisie de sa part
- C une panne de sa connexion Internet
- D un changement de titre du forum qu'il veut consulter

Question D 3

Quel langage est interprété ou exécuté côté serveur ?

Réponses

- A JavaScript
- B PHP
- C HTML
- D CSS

Question D 4

Un élément form (un formulaire) d'une page HTML contient un élément button de type submit. Un clic sur ce bouton :

Réponses

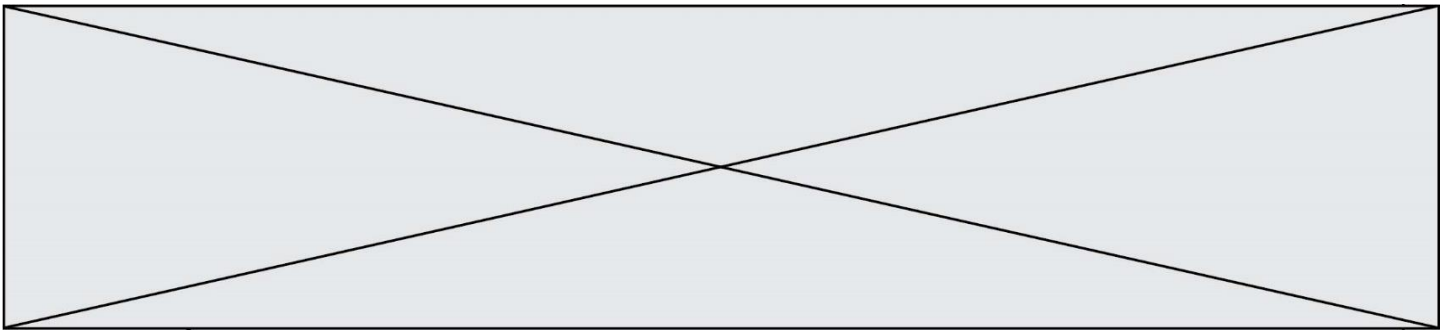
- A envoie les données du formulaire vers la page définie par l'attribut action de l'élément form
- B efface les données entrées par l'utilisateur dans le formulaire
- C envoie les données du formulaire vers la page définie par l'attribut method de l'élément form
- D ne fait rien du tout si un script Javascript n'est pas associé au bouton

Question D 5

En HTML, qu'est-ce que la balise <a> ?

Réponses

- A Une balise de formulaire
- B Une balise d'en-tête
- C Une balise de lien ou d'ancre
- D Une balise de tableau



Question D 6

Lors de la consultation d'une page HTML contenant un bouton auquel est associée la fonction suivante, que se passe-t-il quand on clique sur ce bouton ?

```
function action(event) {  
    this.style.color = "blue"  
}
```

Réponses

- A le texte de la page passe en bleu
- B le texte du bouton passe en bleu
- C le texte du bouton est changé et affiche maintenant le mot "bleu"
- D le pointeur de la souris devient bleu quand il arrive sur le bouton

Modèle CCYC : ©DNE

Nom de famille (naissance) :

(Suivi s'il y a lieu, du nom d'usage)

Prénom(s) :

N° candidat : N° d'inscription :

(Les numéros figurent sur la convocation.)

Né(e) le : / /



1.1

Thème E : architectures matérielles et systèmes d'exploitation

Question E 1

Quel est l'élément qui ne fait pas partie de l'architecture du modèle de Von Neumann ?

Réponses

- A l'unité d'entrée
- B l'unité arithmétique et logique
- C la mémoire centrale
- D l'unité d'affichage

Question E 2

Sous Linux, on se place dans un répertoire appelé documents. Dans quel répertoire se trouve-t-on après avoir exécuté la commande `cd ../images` ?

Réponses

- A dans un répertoire images, qui est un sous-répertoire du répertoire documents
- B dans un répertoire images, qui est à la racine du système de fichiers
- C dans un répertoire images, qui est dans l'arborescence de fichiers à la même hauteur que le répertoire documents
- D dans un répertoire images, qui est sur le CD-ROM du lecteur de l'ordinateur

Question E 3

Parmi ces propositions, laquelle désigne un système d'exploitation libre ?

Réponses

- A LibreOffice
- B Windows
- C MacOS
- D GNU-Linux

Question E 4

Dans le protocole de communication TCP/IP, pour le transfert d'un gros fichier :

Réponses

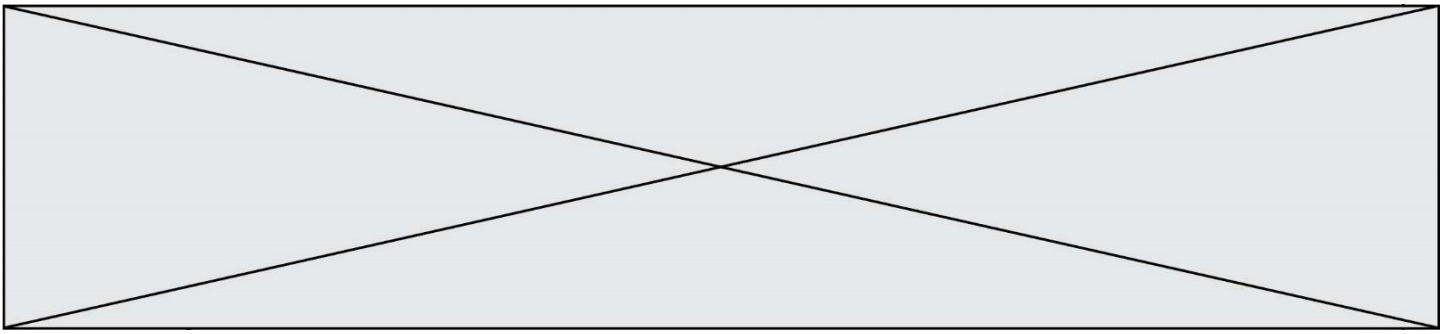
- A Les données sont envoyées en une seule partie.
- B Les données sont envoyées en plusieurs parties qui suivent le même itinéraire au sein du réseau.
- C Les données sont envoyées en plusieurs parties qui peuvent suivre des itinéraires différents au sein du réseau et arrivent à destination en respectant l'ordre de leur envoi.
- D Les données sont envoyées en plusieurs parties qui peuvent suivre des itinéraires différents au sein du réseau et arrivent à destination dans un ordre quelconque.

Question E 5

Quelle est la racine du système de fichiers de Linux ?

Réponses

- A /
- B root
- C sudo



D home

Question E 6

Quelle commande du shell Linux permet de modifier les autorisations d'accès à un fichier ?

Réponses

- A chmod
- B chown
- C chgrp
- D dir

Modèle CCYC : ©DNE

Nom de famille (naissance) :


(Suivi s'il y a lieu, du nom d'usage)

Prénom(s) :

N° candidat : N° d'inscription :

(Les numéros figurent sur la convocation.)

Né(e) le : / /

 RÉPUBLIQUE FRANÇAISE

1.1

Thème F : langages et programmation

Question F 1

On définit la fonction suivante :

```
def rey(n):
    i = 1
    while i <= n:
        i = 2*i
    return i
```

Quelle valeur renvoie l'appel `rey(100)` ?

Réponses

- A 0
- B 64
- C 100
- D 128

Question F 2

Dans le programme JavaScript suivant, quelle est la notation qui délimite le bloc d'instructions exécuté à chaque passage dans la boucle `while` ?

```
i = 0
while (i < 10) {
    alert(i)
    i = i + 1
}
alert("Fin")
```

Réponses

- A le fait que les instructions soient encadrées entre `{` et `}`
- B le fait que les instructions soient indentées de 4 caractères comme en Python
- C le fait que les instructions suivent le mot clé `while`
- D le fait que les instructions suivent la parenthèse `)`

Question F 3

La documentation de la bibliothèque `random` de Python précise :

```
random.randint(a, b)
Renvoie un entier aléatoire N tel que a <= N <= b.
```

Quelle est l'expression Python permettant de simuler le tirage d'un dé à 6 faces après avoir exécuté `import random` ?

Réponses

- A `random.randint(6)`
- B `random.randint(1,6)`
- C `random.randint(1,7)`
- D `random.randint(0,6)`

Question F 4



La fonction Python suivante ne calcule pas toujours correctement le résultat de x^y pour des arguments entiers. Parmi les tests suivants, lequel va permettre de détecter l'erreur ?

```
def puissance (x,y):  
    p = x  
    for i in range (y - 1):  
        p = p * x  
    return p
```

Réponses

- A puissance(2,0)
- B puissance(2,1)
- C puissance(2,2)
- D puissance(2,10)

Question F 5

On a défini une liste L de nombres entiers. Quelle est la valeur de la variable m à la fin de l'exécution du script suivant ?

```
m = L[0]  
for j in range(len(L)):  
    if m < L[j]:  
        m = L[j]
```

Réponses

- A la moyenne de la liste L
- B le minimum de la liste L
- C le maximum de la liste L
- D la longueur de la liste L

Question F 6

Remplacer les pointillés par l'expression correcte pour que la fonction suivante renvoie le plus petit écart entre deux éléments d'une liste de 10 entiers :

```
def plusPetitEcart(L):  
    m = abs(L[1] - L[0])  
    for i in range(0, 9):  
        for j in ..... :  
            ecart = abs(L[j] - L[i])  
            if ecart < m:  
                m = ecart  
    return m
```

Réponses

- A range(0,10)
- B range(0,i)
- C range(i,10)
- D range(i+1,10)

Modèle CCYC : ©DNE

Nom de famille (naissance) :

(Suivi s'il y a lieu, du nom d'usage)

Prénom(s) :

N° candidat :

N° d'inscription :



(Les numéros figurent sur la convocation.)

Né(e) le :

1.1

Thème G : algorithmique

Question G 1

On considère le code suivant de recherche d'une valeur dans une liste :

```
def search(x, y):
    # x est la valeur à chercher
    # y est une liste de valeurs
    for i in range(len(y)):
        if x == y[i]:
            return i
    return None
```

Quel est le coût dans le pire des cas de cet algorithme ?

Réponses

- A constant
- B logarithmique
- C linéaire
- D quadratique

Question G 2

La fonction maximum doit renvoyer la valeur maximale d'un tableau de nombres. Par quoi doit-on remplacer les pointillés pour qu'elle donne le résultat attendu ?

```
def maximum(T):
    maxi = T[0]
    for i in range(len(T)):
        .... T[i] > maxi:
            .....
    return maxi
```

Réponses

- A if puis, sur la ligne suivante, maxi = T[i]
- B while puis, sur la ligne suivante, maxi = T[i]
- C if puis, sur la ligne suivante, maxi = maxi + 1
- D while puis, sur la ligne suivante, maxi = maxi + 1

Question G 3

Quelle est la valeur du couple (s, i) à la fin de l'exécution du script suivant ?

```
s = 0
i = 1
while i < 5:
    s = s + i
    i = i + 1
```

Réponses



- A (4, 5)
- B (10, 4)
- C (10, 5)
- D (15, 5)

Question G 4

On considère le code suivant, où n désigne un entier au moins égal à 2.

```
p = 1
while p < n:
    p = 2*p
```

Quel argument permet d'affirmer que son exécution termine à coup sûr ?

Réponses

- A p est une puissance de 2
- B toute boucle while termine
- C les valeurs successives de p constituent une suite d'entiers positifs strictement croissante
- D les valeurs successives de $n - p$ constituent une suite d'entiers positifs strictement décroissante

Question G 5

On considère le code incomplet suivant qui recherche le maximum dans une liste.

```
liste = [5,12,15,3,15,17,29,1]
iMax = 0
for i in range(1,len(liste)):
    .....
    iMax = i

print (liste[iMax])
```

Par quoi faut-il remplacer la ligne pointillée ?

Réponses

- A if $i > iMax$:
- B if $liste[i] > liste[iMax]$:
- C if $liste[i] > iMax$:
- D if $i > liste[iMax]$:

Question G 6

On suppose qu'au début de l'exécution la variable K contient un entier positif non nul.

Lequel des scripts suivants va boucler indéfiniment ?

Réponses

A

```
i = K+1
while i < K:
    i = i + 1
```

B

```
i = K-1
while i < K:
    i = i - 1
```

