

Modèle CCYC : ©DNE


Nom de famille (naissance) :
(Suivi s'il y a lieu, du nom d'usage)

Prénom(s) :

N° candidat : **N° d'inscription** :

(Les numéros figurent sur la convocation.)

Né(e) le : / /

 **RÉPUBLIQUE FRANÇAISE**

1.1

Évaluation
<p>CLASSE : Première</p> <p>VOIE : <input checked="" type="checkbox"/> Générale <input type="checkbox"/> Technologique <input type="checkbox"/> Toutes voies (LV)</p> <p>ENSEIGNEMENT : spécialité Numérique et Sciences Informatiques (NSI)</p> <p>DURÉE DE L'ÉPREUVE : 02 h 00</p> <p>Niveaux visés (LV) : LVA LVB</p> <p>Axes de programme :</p> <p>CALCULATRICE AUTORISÉE : <input type="checkbox"/> Oui <input checked="" type="checkbox"/> Non</p> <p>DICTIONNAIRE AUTORISÉ : <input type="checkbox"/> Oui <input checked="" type="checkbox"/> Non</p> <p><input checked="" type="checkbox"/> Ce sujet contient des parties à rendre par le candidat avec sa copie. De ce fait, il ne peut être dupliqué et doit être imprimé pour chaque candidat afin d'assurer ensuite sa bonne numérisation.</p> <p><input type="checkbox"/> Ce sujet intègre des éléments en couleur. S'il est choisi par l'équipe pédagogique, il est nécessaire que chaque élève dispose d'une impression en couleur.</p> <p><input type="checkbox"/> Ce sujet contient des pièces jointes de type audio ou vidéo qu'il faudra télécharger et jouer le jour de l'épreuve.</p> <p>Nombre total de pages : 18</p>

L'épreuve consiste en 42 questions, rangées en 7 thèmes.

Le candidat gagne 1 point pour la réponse correcte et obtient un résultat nul pour une réponse fautive, une absence de réponse ou une réponse multiple.

Le résultat obtenu est transformé en note sur 20 selon la formule : nombre de points obtenus x 20/42.

Le candidat indique ses réponses aux questions en pages 3 et 4.

Seules les pages 1 à 4 sont rendues par le candidat à la fin de l'épreuve, pour être numérisées.

Les questions figurent sur les pages suivantes.



Modèle CCYC : ©DNE

Nom de famille (naissance) :

(Suivi s'il y a lieu, du nom d'usage)

Prénom(s) :

N° candidat :

N° d'inscription :



Liberté • Égalité • Fraternité
RÉPUBLIQUE FRANÇAISE

(Les numéros figurent sur la convocation.)

Né(e) le :

1.1

Thème A : types de base

Réponse à la question 1	A	B	C	D
Réponse à la question 2	A	B	C	D
Réponse à la question 3	A	B	C	D
Réponse à la question 4	A	B	C	D
Réponse à la question 5	A	B	C	D
Réponse à la question 6	A	B	C	D

Thème B : types construits

Réponse à la question 1	A	B	C	D
Réponse à la question 2	A	B	C	D
Réponse à la question 3	A	B	C	D
Réponse à la question 4	A	B	C	D
Réponse à la question 5	A	B	C	D
Réponse à la question 6	A	B	C	D

Thème C : traitement de données en tables

Réponse à la question 1	A	B	C	D
Réponse à la question 2	A	B	C	D
Réponse à la question 3	A	B	C	D
Réponse à la question 4	A	B	C	D
Réponse à la question 5	A	B	C	D
Réponse à la question 6	A	B	C	D

Thème D : interactions entre l'homme et la machine sur le Web

Réponse à la question 1	A	B	C	D
Réponse à la question 2	A	B	C	D
Réponse à la question 3	A	B	C	D
Réponse à la question 4	A	B	C	D
Réponse à la question 5	A	B	C	D
Réponse à la question 6	A	B	C	D



Thème E : architectures matérielles et systèmes d'exploitation

Réponse à la question 1	A	B	C	D
Réponse à la question 2	A	B	C	D
Réponse à la question 3	A	B	C	D
Réponse à la question 4	A	B	C	D
Réponse à la question 5	A	B	C	D
Réponse à la question 6	A	B	C	D

Thème F : langages et programmation

Réponse à la question 1	A	B	C	D
Réponse à la question 2	A	B	C	D
Réponse à la question 3	A	B	C	D
Réponse à la question 4	A	B	C	D
Réponse à la question 5	A	B	C	D
Réponse à la question 6	A	B	C	D

Thème G : algorithmique

Réponse à la question 1	A	B	C	D
Réponse à la question 2	A	B	C	D
Réponse à la question 3	A	B	C	D
Réponse à la question 4	A	B	C	D
Réponse à la question 5	A	B	C	D
Réponse à la question 6	A	B	C	D

Modèle CCYC : ©DNE


Nom de famille (naissance) :
(Suivi s'il y a lieu, du nom d'usage)

Prénom(s) :

N° candidat : N° d'inscription :

(Les numéros figurent sur la convocation.)

Né(e) le : / /



RÉPUBLIQUE FRANÇAISE

1.1

Thème A : types de base

Question A 1

Quel est l'entier codé sur 4 bits en complément à 2 par 1101 ?

Réponses

- A -6
- B -3
- C 13
- D 14

Question A 2

Parmi les quatre propositions, quelle est celle qui correspond au résultat de l'addition en écriture binaire 1101 1001 + 11 0110 ?

Réponses

- A 1000 1111
- B 10 0000 1111
- C 1 0000 1111
- D 1 1000 0111

Question A 3

On considère une formule booléenne form des variables booléennes a et b dont voici la table de vérité.

a	b	form
True	True	False
False	True	False
True	False	True
False	False	False

Quelle est cette formule booléenne form ?

Réponses

- A a and b
- B a or b
- C a and not(b)
- D not(a) or b

Question A 4

Soit n l'entier positif dont l'écriture binaire est 10001. Quelle est l'écriture binaire de l'entier 2n ?

Réponses

- A 20002
- B 100010
- C 010001
- D 1000110001

Question A 5

Dans quel système de numération 3F5 représente-t-il un nombre entier ?



Réponses

- A binaire (base 2)
- B octal (base 8)
- C décimal (base 10)
- D hexadécimal (base 16)

Question A 6

Pour quelles valeurs booléennes des variables a, b et c l'expression (a or b) and (not c) a-t-elle pour valeur True ?

Réponses

- A a = True b = False c = True
- B a = True b = False c = False
- C a = False b = False c = True
- D a = False b = True c = True

Modèle CCYC : ©DNE

Nom de famille (naissance) :

(Suivi s'il y a lieu, du nom d'usage)

Prénom(s) :

N° candidat :

N° d'inscription :



Liberté • Égalité • Fraternité
RÉPUBLIQUE FRANÇAISE

Né(e) le :

(Les numéros figurent sur la convocation.)

1.1

Thème B : types construits

Question B 1

Après l'affectation suivante :

```
alphabet = [ 'A', 'B', 'C', 'D', 'E', 'F', 'G', 'H', 'I', 'J', 'K', 'L', 'M',  
            'N', 'O', 'P', 'Q', 'R', 'S', 'T', 'U', 'V', 'W', 'X', 'Y', 'Z' ]
```

Quelle est l'expression qui permet d'accéder à la lettre E ?

Réponses

- A alphabet.E
- B alphabet['E']
- C alphabet[4]
- D alphabet[5]

Question B 2

On définit L = [[1,2,3,4,5],[6,7,8,9,10],[11,12,13,14,15]]. Quelle est la valeur de L[0][2] ?

Réponses

- A 2
- B 3
- C 11
- D 12

Question B 3

Quel est le résultat de l'évaluation de l'expression Python suivante ?

```
[ n * n for n in range(10) ]
```

Réponses

- A [0, 1, 4, 9, 16, 25, 36, 49, 64, 81]
- B [0, 1, 4, 9, 16, 25, 36, 49, 64, 81, 100]
- C [0, 2, 4, 8, 16, 32, 64, 128, 256, 512]
- D [0, 2, 4, 8, 16, 32, 64, 128, 256, 512, 1024]

Question B 4

Si la variable note est définie par note = ["do","ré","mi","fa","sol","la","si"] alors :

Réponses

- A l'index de "sol" est 5
- B l'index de note est 0
- C l'index de "si" est 7
- D l'index de "mi" est 2

Question B 5

Considérons le tableau suivant :

```
tableau = [ [i+2*j for j in range(4)] for i in range(4)]
```

Quelle est la valeur de l'expression tableau[1] ?

Réponses

- A [0,1,2,3]
- B [1,2,3,4]



- C [0,2,4,6]
- D [1,3,5,7]

Question B 6

On considère le code suivant :

```
t = [0, 3, 5, 7, 9]
t[9] = 3 + t[5]
```

Que vaut t à la fin de son exécution ?

Réponses

- A [0, 3, 5, 7, 9]
- B [0, 3, 5, 7, 9, 3]
- C [0, 3, 5, 7, 9, 8]
- D l'exécution déclenche une erreur

Modèle CCYC : ©DNE

Nom de famille (naissance) :

(Suivi s'il y a lieu, du nom d'usage)

Prénom(s) :

N° candidat : N° d'inscription :

(Les numéros figurent sur la convocation.)

Né(e) le : / /



1.1

Thème C : traitement de données en tables

Question C 1

On a défini :

```
mendeleiev = [['H', '.', '.', '.', '.', '.', '.', '.', '.', 'He'],
              ['Li', 'Be', 'B', 'C', 'N', 'O', 'F1', 'Ne'],
              ['Na', 'Mg', 'Al', 'Si', 'P', 'S', 'Cl', 'Ar']]
```

Une erreur s'est glissée dans le tableau, car le symbole du Fluor est F et non F1. Quelle instruction permet de rectifier ce tableau ?

Réponses

- A `mendeleiev.append('F')`
- B `mendeleiev[1][6] = 'F'`
- C `mendeleiev[6][1] = 'F'`
- D `mendeleiev[-1][-1] = 'F'`

Question C 2

Qu'est-ce que le format de fichier CSV ?

Réponses

- A un format de fichier mis au point par Microsoft pour Excel
- B un format de fichier pour décrire une base de données
- C un format de fichier où les données sont séparées par un caractère tel qu'une virgule
- D un format de fichier décrivant une page Web

Question C 3

Laquelle de ces listes de chaînes de caractères est triée en ordre croissant ?

Réponses

- A `['Chat', 'Chien', 'Cheval', 'Cochon']`
- B `['Chat', 'Cheval', 'Chien', 'Cochon']`
- C `['Chien', 'Cheval', 'Cochon', 'Chat']`
- D `['Cochon', 'Chien', 'Cheval', 'Chat']`

Question C 4

Par quoi faut-il remplacer les pointillés dans le script suivant :

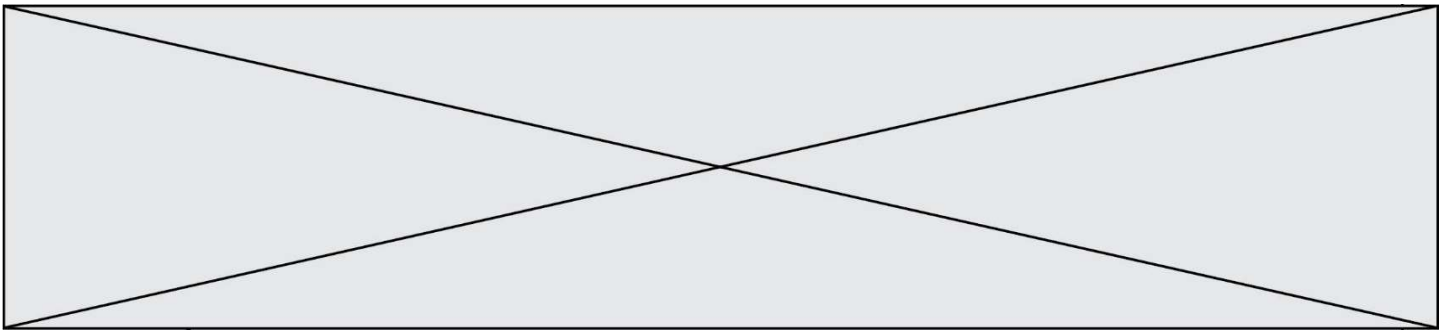
```
relevé = [ {'matière': 'EPS', 'moyenne': 11}, {'matière': 'Sciences', 'moyenne': 6},
           {'matière': 'LV1', 'moyenne': 14}, {'matière': 'Histoire', 'moyenne': 9},
           {'matière': 'LV2', 'moyenne': 15} ]

a = .....
b = .....
for i in relevé :
    if i[a] > 10:
        print(i[b])
```

pour qu'il affiche

- EPS
- LV1
- LV2

Réponses



- A a = 'moyenne'
b = 'matière'
- B a = 'matière'
b = 'moyenne'
- C a = 0
b = 1
- D a = 1
b = 0

Question C 5

On définit ainsi une liste t :

```
t = [ {'id':1, 'age':23, 'sejour':'PEKIN'},  
      {'id':2, 'age':27, 'sejour':'ISTANBUL'},  
      {'id':3, 'age':53, 'sejour':'LONDRES'},  
      {'id':4, 'age':41, 'sejour':'ISTANBUL'},  
      {'id':5, 'age':62, 'sejour':'RIO'},  
      {'id':6, 'age':28, 'sejour':'ALGER'}]
```

Quelle affirmation est correcte ?

Réponses

- A t est une liste de listes
- B t est une liste de dictionnaires
- C t est un dictionnaire de listes
- D t est une liste de tuples

Question C 6

Quelle expression Python permet d'accéder au numéro de téléphone de Tournesol, sachant que le répertoire a été défini par l'affectation suivante :

```
repertoire = [{'nom': 'Dupont', 'tel': '5234'},  
              {'nom': 'Tournesol', 'tel': '5248'}, {'nom': 'Dupond', 'tel': '3452'}]
```

Réponses

- A repertoire['Tournesol']
- B repertoire['tel'][1]
- C repertoire[1]['tel']
- D repertoire['Tournesol']['tel']

Modèle CCYC : ©DNE

Nom de famille (naissance) :


(Suivi s'il y a lieu, du nom d'usage)

Prénom(s) :

N° candidat : N° d'inscription :

(Les numéros figurent sur la convocation.)

Né(e) le : / /



1.1

Thème D : interactions entre l'homme et la machine sur le Web

Question D 1

On considère cet extrait de fichier HTML représentant les onglets d'une barre de navigation :

```
<ul id="tab-nav">
  <li><a href="onglet1.html" class="tab-nav-active">Onglet 1</a></li>
  <li><a href="onglet2.html">Onglet 2</a></li>
  <li><a href="onglet3.html">Onglet 3</a></li>
</ul>
```

Quel code CSS permet de mettre en bleu la couleur de fond des onglets et uniquement eux ?

Réponses

- A `tab-nav a { background-color : blue; }`
- B `tab-nav, a { background-color : blue; }`
- C `#tab-nav a { background-color : blue; }`
- D `#tab-nav, a { background-color : blue; }`

Question D 2

Parmi les couples de balises suivants, lequel permet de créer un formulaire ?

Réponses

- A `<body>` `</body>`
- B `<html>` `</html>`
- C `<div>` `</div>`
- D `<form>` `</form>`

Question D 3

Lors de la consultation d'une page HTML, contenant un bouton dans lequel on ajoute l'attribut suivant, que se passe-t-il quand on clique sur ce bouton ?

```
<button onclick="this.style.color='red'">
```

Réponses

- A le pointeur de souris devient rouge lorsqu'il arrive sur le bouton
- B le texte du bouton devient rouge
- C le texte du bouton est remplacé par le mot "red"
- D le texte de la page passe en rouge

Question D 4

Dans un formulaire sur un page web, pour transmettre des données sécurisées comme un mot de passe ou un numéro de carte bancaire, il vaut mieux utiliser la méthode :

Réponses

- A HEAD
- B GET
- C HTTPS
- D POST

Question D 5

Dans le code HTML les délimiteurs tels que `<body>` et `</body>` s'appellent ?



Réponses

- A des bornes
- B des balises
- C des paragraphes
- D des liens

Question D 6

Un fichier HTML contient la ligne suivante.

```
<p>Coucou ! Ca va?</p>
```

Quelle commande CSS écrire pour que le texte apparaisse en rose sur fond jaune ?

Réponses

- A `p { couleur: rose ; fond: jaune;}`
- B `<p> { color = pink background-color = yellow}`
- C `<p> { color = pink ; background-color: yellow} </p>`
- D `p { color: pink ; background-color: yellow ;}`

Modèle CCYC : ©DNE

Nom de famille (naissance) :

(Suivi s'il y a lieu, du nom d'usage)

Prénom(s) :

N° candidat : N° d'inscription :

(Les numéros figurent sur la convocation.)

Né(e) le : / /



1.1

Thème E : architectures matérielles et systèmes d'exploitation

Question E 1

Dans un shell sous Linux, Alice utilise la commande `pwd`.

Cette commande :

Réponses

- A liste les fichiers du répertoire courant
- B liste les répertoires du répertoire courant
- C affiche le chemin du répertoire courant
- D affiche les permissions relatives au répertoire courant

Question E 2

Quel matériel permet d'interconnecter des **ordinateurs** entre eux :

Réponses

- A un routeur
- B un commutateur (ou *switch*)
- C un interconnecteur
- D un serveur

Question E 3

Parmi les affirmations suivantes, laquelle est vraie ?

Réponses

- A la mémoire RAM est une mémoire accessible en lecture seulement
- B la mémoire RAM est une mémoire accessible en écriture seulement
- C la mémoire RAM est une mémoire accessible en lecture et en écriture
- D la mémoire RAM permet de stocker des données après extinction de la machine

Question E 4

Quel est l'effet de la commande shell suivante ?

```
cp NSI_ex1_Franck.txt NSI_ex1_Marie.txt
```

Réponses

- A Le fichier `NSI_ex1_Franck.txt` est copié sous le nom `NSI_ex1_Marie.txt`
- B Le fichier `NSI_ex1_Franck.txt` est renommé sous le nom `NSI_ex1_Marie.txt`
- C Le fichier `NSI_ex1_Marie.txt` est copié sous le nom `NSI_ex1_Franck.txt`
- D Le fichier `NSI_ex1_Marie.txt` est renommé sous le nom `NSI_ex1_Franck.txt`

Question E 5

On réalise une petite station météo.

Quel composant est un capteur ?

Réponses

- A l'afficheur LCD
- B l'écran de l'ordinateur
- C la LED
- D le thermomètre



Question E 6

Parmi les commandes suivantes, laquelle permet à n'importe quel utilisateur d'exécuter le fichier appelé jeu ?

Réponses

- A `chmod u+x jeu`
- B `chmod u+rwx jeu`
- C `chmod a+x jeu`
- D `chmod a-x jeu`

Modèle CCYC : ©DNE

Nom de famille (naissance) :

(Suivi s'il y a lieu, du nom d'usage)

Prénom(s) :

N° candidat :

N° d'inscription :



Liberté • Égalité • Fraternité
RÉPUBLIQUE FRANÇAISE

Né(e) le :

(Les numéros figurent sur la convocation.)

1.1

Thème F : langages et programmation

Question F 1

Quelle est la valeur de la variable n à la fin de l'exécution du script ci-dessous ?

```
n = 1
while n != 20:
    n = n + 2
```

Réponses

- A 1
- B 20
- C 22
- D le programme ne termine pas, la boucle tourne indéfiniment

Question F 2

Ce programme ne renvoie pas toujours ses trois arguments dans l'ordre croissant. Parmi les tests suivants, lequel va permettre de détecter l'erreur ?

```
def ranger(a, b, c):
    if a > b :
        a, b = b, a
    if b > c:
        b, c = c, b
    return a, b, c
```

Réponses

- A ranger(1,2,3)
- B ranger(3,4,1)
- C ranger(1,3,2)
- D ranger(4,2,3)

Question F 3

On considère l'instruction suivante :

```
resultat = [0] * 7
```

Que contient la variable `resultat` après son exécution ?

Réponses

- A 0
- B [0]
- C [[0], [0], [0], [0], [0], [0], [0]]
- D [0, 0, 0, 0, 0, 0, 0]

Question F 4

La documentation de la fonction `floor` de la bibliothèque `math` est :

```
floor(x)
Return the floor of x as an Integral. This is the largest integer <= x.
```



Que vaut `floor(-2.2)` ?

Réponses

- A -2
- B -3
- C on obtient une erreur, car `-2.2` n'est pas un entier
- D 2.2

Question F 5

On a écrit une fonction qui prend en paramètre une liste non vide et qui renvoie son plus grand élément. Combien de tests faudrait-il écrire pour garantir que la fonction donne un résultat correct pour toute liste ?

Réponses

- A deux tests : pour une liste à un élément et pour une liste à deux éléments ou plus
- B deux tests : pour le cas où le plus grand élément est en début de liste, et pour le cas où le plus grand élément n'est pas en début de liste
- C trois tests : pour une liste vide, pour une liste à un élément, et pour une liste à deux éléments ou plus
- D il faudrait écrire une infinité de tests : on ne peut pas prouver que cette fonction est correcte, simplement en la testant

Question F 6

On considère le code suivant :

```
def puiss(y,x):  
    res = 1  
    for i in range(x):  
        res = res*y  
    return res
```

Quelles sont les préconditions sur les arguments ?

Réponses

- A les arguments doivent être obligatoirement de type entier non nul
- B les arguments peuvent être de type entier ou flottant
- C le type des arguments n'a pas d'importance
- D il n'y a pas de préconditions dans ce cas

Modèle CCYC : ©DNE

Nom de famille (naissance) :


(Suivi s'il y a lieu, du nom d'usage)

Prénom(s) :

N° candidat : N° d'inscription :

(Les numéros figurent sur la convocation.)

Né(e) le : / /



1.1

Thème G : algorithmique

Question G 1

Pour trier par sélection une liste de 2500 entiers, le nombre de comparaisons nécessaires à l'algorithme est de l'ordre de :

Réponses

- A $\sqrt{2500}$
- B 2500
- C 2500^2
- D 2^{2500}

Question G 2

Qu'affiche le programme suivant :

```

a = 3
b = 4
if a > b and a == 3:
    print('vert')
if a > b and b == 4:
    print('rouge')
if a == 4 or b > a:
    print('bleu')
if a == 3 or a < b:
    print('jaune')

```

Réponses

- A vert
rouge
- B bleu
jaune
- C bleu
- D vert
Jaune

Question G 3

Un algorithme de recherche dichotomique dans une liste triée de taille n nécessite, dans le pire des cas, exactement k comparaisons.

Combien cet algorithme va-t-il utiliser, dans le pire des cas, de comparaisons sur une liste de taille $2n$?

Réponses

- A k
- B $k + 1$
- C $2k$
- D $2k + 1$

Question G 4



Avec un algorithme de recherche par dichotomie, combien d'étapes sont nécessaires pour déterminer que 35 est présent dans le tableau [1, 7, 12, 16, 18, 20, 24, 28, 35, 43, 69] ?

Réponses

- A 1 étape
- B 2 étapes
- C 9 étapes
- D 11 étapes

Question G 5

Quel code parmi les quatre proposés ci-dessous s'exécute-t-il en un temps linéaire en n (c'est-à-dire avec un temps d'exécution majoré par $A \times n + B$ où A et B sont deux constantes) ?

Réponses

- A

```
for i in range(n//2):  
    for j in range(i+1,n):  
        print('hello')
```
- B

```
for i in range(n):  
    print('hello')
```
- C

```
L = [ i+j for i in range(n) for j in range(n) ]  
for x in L:  
    print('hello')
```
- D

```
for i in range(n//2):  
    for j in range(n//2):  
        print('hello')
```

Question G 6

On considère la fonction suivante :

```
def f(T,i):  
    indice = i  
    m = T[i]  
    for k in range(i+1, len(T)):  
        if T[k] < m:  
            indice = k  
            m = T[k]  
    return indice
```

Quelle est la valeur de $f([7, 3, 1, 8, 19, 9, 3, 5], 0)$?

Réponses

- A 1
- B 2
- C 3
- D 4