

Modèle CCYC : ©DNE

Nom de famille (naissance) :


(Suivi s'il y a lieu, du nom d'usage)

Prénom(s) :

N° candidat : N° d'inscription :

(Les numéros figurent sur la convocation.)

Né(e) le : / /



1.1

Évaluation

CLASSE : Première

VOIE : Générale Technologique Toutes voies (LV)

ENSEIGNEMENT : spécialité Numérique et Sciences Informatiques (NSI)

DURÉE DE L'ÉPREUVE : 02 h 00

Niveaux visés (LV) : LVA LVB

Axes de programme :

CALCULATRICE AUTORISÉE : Oui Non

DICTIONNAIRE AUTORISÉ : Oui Non

Ce sujet contient des parties à rendre par le candidat avec sa copie. De ce fait, il ne peut être dupliqué et doit être imprimé pour chaque candidat afin d'assurer ensuite sa bonne numérisation.

Ce sujet intègre des éléments en couleur. S'il est choisi par l'équipe pédagogique, il est nécessaire que chaque élève dispose d'une impression en couleur.

Ce sujet contient des pièces jointes de type audio ou vidéo qu'il faudra télécharger et jouer le jour de l'épreuve.

Nombre total de pages : 18

L'épreuve consiste en 42 questions, rangées en 7 thèmes.

Le candidat gagne 1 point pour la réponse correcte et obtient un résultat nul pour une réponse fautive, une absence de réponse ou une réponse multiple.

Le résultat obtenu est transformé en note sur 20 selon la formule : nombre de points obtenus x 20/42.

Le candidat indique ses réponses aux questions en pages 3 et 4.

Seules les pages 1 à 4 sont rendues par le candidat à la fin de l'épreuve, pour être numérisées.

Les questions figurent sur les pages suivantes.



Modèle CCYC : ©DNE

Nom de famille (naissance) :

(Suivi s'il y a lieu, du nom d'usage)

Prénom(s) :

N° candidat :

N° d'inscription :



Liberté • Égalité • Fraternité
RÉPUBLIQUE FRANÇAISE

(Les numéros figurent sur la convocation.)

Né(e) le :

1.1

Thème A : types de base

Réponse à la question 1	A	B	C	D
Réponse à la question 2	A	B	C	D
Réponse à la question 3	A	B	C	D
Réponse à la question 4	A	B	C	D
Réponse à la question 5	A	B	C	D
Réponse à la question 6	A	B	C	D

Thème B : types construits

Réponse à la question 1	A	B	C	D
Réponse à la question 2	A	B	C	D
Réponse à la question 3	A	B	C	D
Réponse à la question 4	A	B	C	D
Réponse à la question 5	A	B	C	D
Réponse à la question 6	A	B	C	D

Thème C : traitement de données en tables

Réponse à la question 1	A	B	C	D
Réponse à la question 2	A	B	C	D
Réponse à la question 3	A	B	C	D
Réponse à la question 4	A	B	C	D
Réponse à la question 5	A	B	C	D
Réponse à la question 6	A	B	C	D

Thème D : interactions entre l'homme et la machine sur le Web

Réponse à la question 1	A	B	C	D
Réponse à la question 2	A	B	C	D
Réponse à la question 3	A	B	C	D
Réponse à la question 4	A	B	C	D
Réponse à la question 5	A	B	C	D
Réponse à la question 6	A	B	C	D



Thème E : architectures matérielles et systèmes d'exploitation

Réponse à la question 1	A	B	C	D
Réponse à la question 2	A	B	C	D
Réponse à la question 3	A	B	C	D
Réponse à la question 4	A	B	C	D
Réponse à la question 5	A	B	C	D
Réponse à la question 6	A	B	C	D

Thème F : langages et programmation

Réponse à la question 1	A	B	C	D
Réponse à la question 2	A	B	C	D
Réponse à la question 3	A	B	C	D
Réponse à la question 4	A	B	C	D
Réponse à la question 5	A	B	C	D
Réponse à la question 6	A	B	C	D

Thème G : algorithmique

Réponse à la question 1	A	B	C	D
Réponse à la question 2	A	B	C	D
Réponse à la question 3	A	B	C	D
Réponse à la question 4	A	B	C	D
Réponse à la question 5	A	B	C	D
Réponse à la question 6	A	B	C	D

Modèle CCYC : ©DNE

Nom de famille (naissance) :

(Suivi s'il y a lieu, du nom d'usage)


Prénom(s) :

N° candidat :

N° d'inscription :

(Les numéros figurent sur la convocation.)

Né(e) le : / /



Liberté • Egalité • Fraternité
RÉPUBLIQUE FRANÇAISE

1.1

Thème A : types de base

Question A 1

Parmi les quatre propositions, quelle est celle qui correspond au résultat de l'addition en écriture binaire $1101\ 1001 + 11\ 0110$?

Réponses

- A 1000 1111
- B 10 0000 1111
- C 1 0000 1111
- D 1 1000 0111

Question A 2

Parmi les quatre propositions, quelle est celle qui correspond au résultat de la soustraction en écriture binaire $1010\ 1101 + 101\ 1000$?

Réponses

- A 1101
- B 1000 0101
- C 101
- D 1 0000 0101

Question A 3

Quelle table de vérité correspond à l'expression $(\text{non}(A) \text{ ou } B)$?

Remarque : dans les tables proposées, la première colonne donne les valeurs de A, la première ligne les valeurs de B.

Réponses

A

A\B	0	1
0	0	1
1	1	1

B

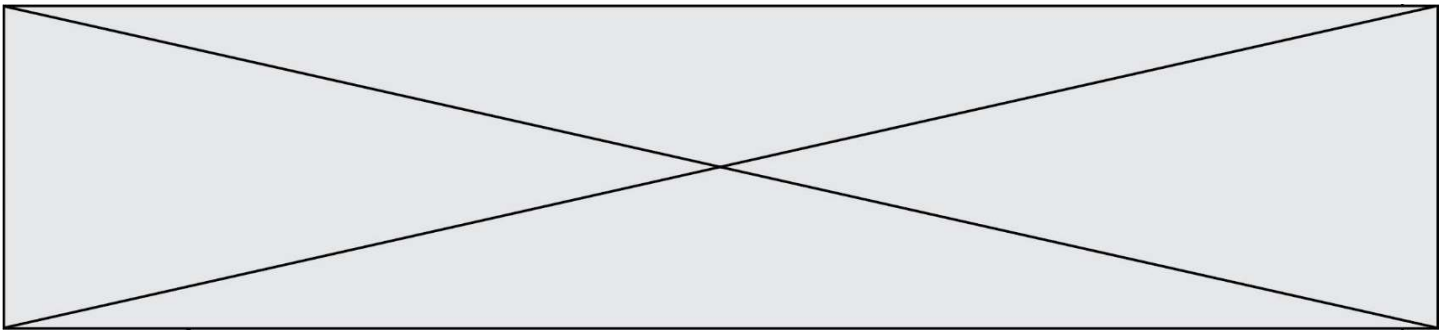
A\B	0	1
0	1	0
1	1	0

C

A\B	0	1
0	1	1
1	0	0

D

A\B	0	1
0	1	1
1	0	1

**Question A 4**

Quel est le résultat de l'addition binaire $0010\ 0110 + 1000\ 1110$?

Réponses

- A 1010 1110
- B 0000 0110
- C 1011 0100
- D 0101 0001

Question A 5

Que peut-on dire du programme Python suivant de calcul sur les nombres flottants ?

```
x = 1.0
while x != 0.0:
    x = x - 0.1
```

Réponses

- A l'exécution peut ne pas s'arrêter, si la variable x n'est jamais exactement égale à 0.0
- B à la fin de l'exécution, x vaut -0.00001
- C à la fin de l'exécution, x vaut 0.00001
- D l'exécution s'arrête sur une erreur FloatingPointError

Question A 6

On exécute le code suivant :

```
a = 2
b = 3
c = a ** b
d = c % b
```

Quelle est la valeur de d à la fin de l'exécution ?

Réponses

- A 1
- B 2
- C 3
- D 4

Modèle CCYC : ©DNE

Nom de famille (naissance) :

(Suivi s'il y a lieu, du nom d'usage)

Prénom(s) :

N° candidat :

N° d'inscription :



Né(e) le :

(Les numéros figurent sur la convocation.)

1.1

Thème B : types construits

Question B 1

Quel est le type de l'expression $f(4)$ si la fonction f est définie par :

```
def f(x):  
    return (x, x**2)
```

Réponses

- A un entier
- B un flottant
- C une liste
- D un tuple

Question B 2

On définit la liste L ainsi :

```
L = [ [1], [1, 2], [1, 2, 3]]
```

Des égalités suivantes, une seule est fausse. Laquelle ?

Réponses

- A $\text{len}(L[0]) == 1$
- B $\text{len}(L) == 6$
- C $\text{len}(L[2]) == 3$
- D $L[2][2] == 3$

Question B 3

On considère la liste de listes suivante :

```
tictactoe = [ ['X', 'O', 'O'],  
              ['O', 'O', 'O'],  
              ['O', 'O', 'X'] ]
```

Quelle instruction permet d'obtenir une diagonale de 'X' ?

Réponses

- A $\text{tictactoe}[3] = 'X'$
- B $\text{tictactoe}[4] = 'X'$
- C $\text{tictactoe}[1][1] = 'X'$
- D $\text{tictactoe}[2][2] = 'X'$

Question B 4

On définit la variable suivante : $\text{citation} = \text{"Les nombres gouvernent le monde"}$.

Quelle est la valeur de l'expression $\text{citation}[5] + \text{citation}[6]$?

Réponses

- A "om"
- B "ombres"
- C "no"
- D $\text{citation}[11]$

Question B 5

On dispose du dictionnaire regions ci-dessous :

```
regions = { 'Mayotte': 376, 'Pays de la Loire': 32082,
```



```
'La Réunion': 2504, 'Grand Est': 57441,  
'Martinique': 1128, 'Corse': 8680,  
'Bretagne': 27208, 'Nouvelle-Aquitaine': 84036 }
```

Parmi les instructions suivantes, laquelle permet d'ajouter une nouvelle région ?

Réponses

- A `INSERT "'Hauts de France':31806" INTO regions`
- B `regions = dict(['Hauts de France'] = 31806)`
- C `regions('Hauts de France') = 31806`
- D `regions['Hauts de France'] = 31806`

Question B 6

Quelle est l'expression qui a pour valeur la liste [1, 4, 9, 16, 25, 36] ?

Réponses

- A `{ n*n for n in range(1,7) }`
- B `{ n*n for n in range(6) }`
- C `[n*n for n in range(1,7)]`
- D `[n*n for n in range(6)]`

Modèle CCYC : ©DNE

Nom de famille (naissance) :


(Suivi s'il y a lieu, du nom d'usage)

Prénom(s) :

N° candidat : N° d'inscription :

(Les numéros figurent sur la convocation.)

Né(e) le : / /



RÉPUBLIQUE FRANÇAISE

1.1

Thème C : traitement de données en tables

Question C 1

Laquelle de ces listes de chaînes de caractères est triée en ordre croissant ?

Réponses

- A ['Chat', 'Chien', 'Cheval', 'Cochon']
- B ['Chat', 'Cheval', 'Chien', 'Cochon']
- C ['Chien', 'Cheval', 'Cochon', 'Chat']
- D ['Cochon', 'Chien', 'Cheval', 'Chat']

Question C 2

Les données clients d'une entreprise sont stockées dans un fichier csv. Afin de les importer, on effectue une lecture séquentielle de ce fichier ligne par ligne. On affecte à la variable `ligne` le contenu d'une ligne de ce fichier. La fonction `split()` découpe un `str` en utilisant un motif de séparation, et produit une liste de `str`. La variable `c` est alors définie ainsi :

```
ligne = "dupont;arnaud;245862;france"
c = ligne.split(';')
```

Que contient cette variable `c` ?

Réponses

- A "dupontarnaud245862france"
- B ["dupont", "arnaud", "245862", "france"]
- C 3
- D "dupont"

Question C 3

Un fichier CSV ...

Réponses

- A ne peut être lu que par un tableur
- B est l'unique format utilisé pour construire une base de données
- C est un fichier texte
- D est un format propriétaire

Question C 4

On considère la table suivante :

```
t = [ {'type': 'marteau', 'prix': 17, 'quantité': 32},
      {'type': 'scie', 'prix': 24, 'quantité': 3},
      {'type': 'tournevis', 'prix': 8, 'quantité': 45} ]
```

Quelle expression permet d'obtenir la quantité de scies ?

Réponses

- A `t[2]['quantité']`
- B `t[1]['quantité']`
- C `t['quantité'][1]`
- D `t['scies']['quantité']`

Question C 5



On a extrait les deux premières lignes de différents fichiers.
Déterminer celui qui est un authentique fichier CSV :

Réponses

- A Nom,Pays,Temps
Camille Muffat,France,241.45
- B Nom Pays Temps
Camille Muffat France 241.45
- C [
 { "Nom": "Camille Muffat", "Pays": "France", "Temps": 241.45},
- D [
 { Nom: "Camille Muffat", Pays: "France", Temps: 241.45},

Question C 6

Quelle est la valeur de la variable `table` à la fin de l'exécution du script suivant :

```
table = [[1, 2, 3], [1, 2, 3], [1, 2, 3], [1, 2, 3]]  
table [1][2] = 5
```

Réponses

- A [[1, 5, 3], [1, 2, 3], [1, 2, 3], [1, 2, 3]]
- B [[1, 2, 3], [5, 2, 3], [1, 2, 3], [1, 2, 3]]
- C [[1, 2, 3], [1, 2, 5], [1, 2, 3], [1, 2, 3]]
- D [[1, 2, 3], [1, 2, 3], [1, 2, 3], [1, 5, 3]]

Modèle CCYC : ©DNE

Nom de famille (naissance) :


(Suivi s'il y a lieu, du nom d'usage)

Prénom(s) :

N° candidat : N° d'inscription :

(Les numéros figurent sur la convocation.)

Né(e) le : / /



1.1

Thème D : interactions entre l'homme et la machine sur le Web

Question D 1

Mehdi a écrit une page HTML contenant des éléments input de formulaire.

Il place ces éléments de formulaire :

Réponses

- A entre la balise <form> et la balise </form>
- B entre la balise <formLary> et la balise </formLary>
- C entre la balise <code> et la balise </code>
- D entre la balise <script> et la balise </script>

Question D 2

Le site internet d'un quotidien d'information permet aux visiteurs de laisser des commentaires textuels.

Ces commentaires doivent être visibles par les autres visiteurs.

Laquelle des affirmations suivantes est correcte ?

Réponses

- A Il suffit que la page HTML contienne des champs de la forme <textarea >
- B Il suffit que la page HTML contienne des champs de la forme <textarea > et d'utiliser JavaScript pour enregistrer les commentaires
- C Il faut un programme en PHP ou un script Python sur le serveur pour traiter les données
- D Non, ce n'est pas possible avec la technologie actuelle

Question D 3

Un fichier HTML contient la ligne suivante.

```
<p>Coucou ! Ca va?</p>
```

Quelle commande CSS écrire pour que le texte apparaisse en rose sur fond jaune ?

Réponses

- A p { couleur: rose ; fond: jaune;}
- B <p> { color = pink background-color = yellow}
- C <p> { color = pink ; background-color: yellow} </p>
- D p { color: pink ; background-color: yellow ;}

Question D 4

Parmi les réponses suivantes, que permet d'effectuer la méthode POST du protocole HTTP ?

Réponses

- A Définir le style d'une page web
- B Pirater des données bancaire
- C Envoyer une page web vers le client
- D Envoyer les données saisies dans un formulaire HTML vers un serveur

Question D 5



Un élève a écrit une fonction Javascript qui détermine la moyenne des valeurs entrées par l'utilisateur dans un formulaire de sa page HTML.

Il place sa fonction Javascript :

Réponses

- A entre la balise `<js>` et la balise `</js>`
- B entre la balise `<code>` et la balise `</code>`
- C entre la balise `<script>` et la balise `</script>`
- D entre la balise `<javascript>` et la balise `</javascript>`

Question D 6

Quelle est la balise HTML utilisée pour indiquer un titre de niveau d'importance maximal ?

Réponses

- A la balise `<h0>`
- B la balise `<h1>`
- C la balise `<head>`
- D la balise `<header>`

Modèle CCYC : ©DNE

Nom de famille (naissance) :

(Suivi s'il y a lieu, du nom d'usage)

Prénom(s) :

N° candidat : N° d'inscription :

(Les numéros figurent sur la convocation.)

Né(e) le : / /



1.1

Thème E : architectures matérielles et systèmes d'exploitation

Question E 1

On réalise une petite station météo.

Quel composant est un capteur ?

Réponses

- A l'afficheur LCD
- B l'écran de l'ordinateur
- C la LED
- D le thermomètre

Question E 2

Quel est l'élément qui ne fait pas partie de l'architecture du modèle de Von Neumann ?

Réponses

- A l'unité d'entrée
- B l'unité arithmétique et logique
- C la mémoire centrale
- D l'unité d'affichage

Question E 3

Lequel de ces systèmes d'exploitation est libre ?

Réponses

- A Linux
- B Windows
- C MacOS
- D iOS

Question E 4

Quel est le principal rôle d'une carte mère dans un ordinateur ?

Réponses

- A stocker les informations en mémoire vive
- B exécuter les instructions en langage machine
- C reproduire le processeur en plusieurs exemplaires
- D connecter les différents composants de l'ordinateur

Question E 5

Dans un terminal, on exécute la suite de commandes système suivante :

```
cd ~
cd seances/tp
mv exercice.txt ../../exercice.txt
```

Où se trouve finalement placé le fichier exercice.txt ?

Réponses

- A dans le répertoire ~/seance/tp
- B dans le répertoire ~/seance
- C dans le répertoire ~
- D dans le répertoire /home

Question E 6



Quelle commande permet de connaître le répertoire courant ?

Réponses

- A cd
- B ls
- C pwd
- D chmod

Modèle CCYC : ©DNE

Nom de famille (naissance) :


(Suivi s'il y a lieu, du nom d'usage)

Prénom(s) :

N° candidat : N° d'inscription :

(Les numéros figurent sur la convocation.)

Né(e) le : / /



1.1

Thème F : langages et programmation

Question F 1

Un programme Python commence par la ligne :

```
import os
```

À quoi sert cette ligne ?

Réponses

- A c'est le début du squelette de tout programme Python
- B c'est la déclaration du système d'exploitation (*operating system*)
- C Python 3.6 exige cette ligne au début de tout programme
- D c'est la déclaration d'une bibliothèque (ou module) que le programme compte utiliser

Question F 2

Lequel des langages suivants n'est pas un langage de programmation :

Réponses

- A PHP
- B Javascript
- C HTML
- D Python

Question F 3

On exécute le script suivant :

```
resultat = [1 * 7]
```

Que contient la variable resultat après son exécution ?

Réponses

- A 1
- B [1]
- C [7]
- D [7, 7, 7, 7, 7, 7, 7]

Question F 4

On exécute le script suivant :

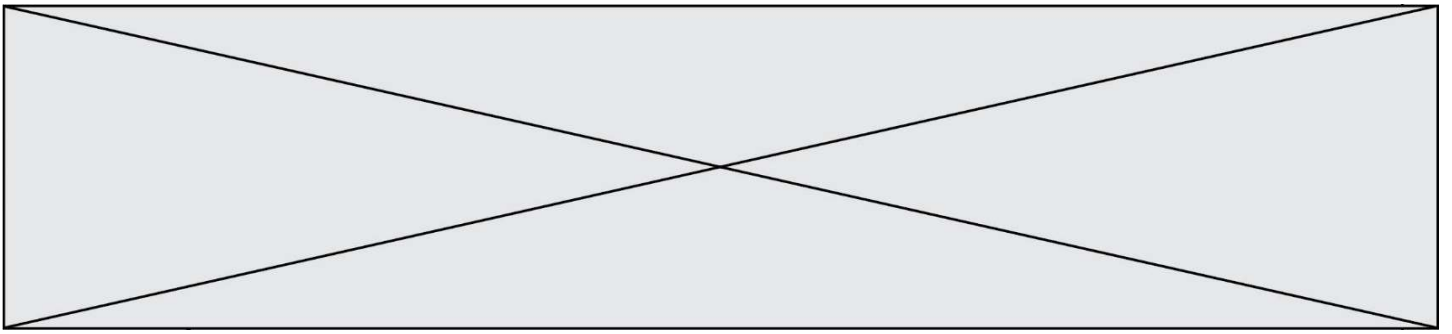
```
def calcul(a,b):
    a = a + 2
    b = b + 5
    c = a + b
    return c
```

```
a,b = 3,5
calcul(a,b)
```

À la fin de cette exécution :

Réponses

- A a vaut 3, b vaut 5 et c vaut 15
- B a vaut 3, b vaut 5 et c n'est pas défini
- C a vaut 5, b vaut 10 et c vaut 15
- D a vaut 5, b vaut 10 et c n'est pas défini

**Question F 5**

On exécute le code suivant :

```
def essai():  
    a = 2  
    b = 3  
    c = 4  
    return a  
    return b  
    return c
```

```
t = essai()
```

Quelle est la valeur de t après l'exécution de ce code ?

Réponses

- A 2
- B 3
- C 4
- D (2,3,4)

Question F 6

On considère la fonction suivante :

```
def comparaison(a,b):  
    if a < b:  
        return a  
    else:  
        return b
```

Quel est le type de la valeur renvoyée par l'appel comparaison(6, 5) ?

Réponses

- A un booléen (vrai/faux)
- B un nombre entier
- C un nombre flottant
- D une chaîne de caractères

Modèle CCYC : ©DNE

Nom de famille (naissance) :


(Suivi s'il y a lieu, du nom d'usage)

Prénom(s) :

N° candidat : N° d'inscription :

(Les numéros figurent sur la convocation.)

Né(e) le : / /



RÉPUBLIQUE FRANÇAISE

1.1

Thème G : algorithmique

Question G 1

La fonction suivante prend en paramètre un tableau non vide de nombres réels.

```
def mystere(T):
    k = len(T)
    val = T[k-1]
    if k == 1:
        return T[k-1]
    else:
        while k >= 0:
            if val < T[k-2]:
                val = T[k-2]
            k = k-1
        return val
```

Quelle est la valeur renvoyée par cette fonction ?

Réponses

- A la plus grande des valeurs du tableau T
- B la plus petite des valeurs du tableau T
- C la moyenne des valeurs du tableau T
- D la valeur la plus fréquente du tableau T

Question G 2

La fonction ci-dessous compte le nombre d'occurrences d'un élément x dans une liste L :

```
def compteur(L,x):
    n = 0
    for item in L:
        if item == x:
            n = n + 1
    return n
```

Comment évolue le temps d'exécution d'un appel de cette fonction si on prend comme argument une liste deux fois plus grande ?

Réponses

- A c'est le même temps d'exécution
- B le temps d'exécution est à peu près doublé
- C le temps d'exécution est à peu près quadruplé
- D impossible de le prévoir, cela dépend aussi de l'argument x

Question G 3

Quelle est la valeur de X/m à la fin de l'exécution du code suivant :

L = [1,2,3,4,1,2,3,4,0,2]

```
X = 0
m = 0
for k in L:
    X = X + k
    m = m + 1
```

Réponses

- A 2



- B 2.2
- C 10
- D 22

Question G 4

Soit L une liste de n nombres réels (n entier naturel non nul). On considère l'algorithme suivant, en langage Python, calculant la moyenne des éléments de L .

```
M = 0
for k in range(n):
    M = M + L[k]
M = M/n
```

Si le nombre n de données double alors le temps d'exécution de ce script :

Réponses

- A reste le même
- B double aussi
- C est multiplié par n
- D est multiplié par 4

Question G 5

On conçoit un algorithme permettant de déterminer la valeur maximale parmi une liste quelconque de valeurs comparables.

Pour une liste de 100 valeurs, le nombre minimal de comparaisons que doit effectuer cet algorithme est :

Réponses

- A 7
- B 99
- C 200
- D 10000

Question G 6

Quel code parmi les quatre proposés ci-dessous s'exécute-t-il en un temps linéaire en n (c'est-à-dire avec un temps d'exécution majoré par $A \times n + B$ où A et B sont deux constantes) ?

Réponses

- A

```
for i in range(n//2):
    for j in range(i+1,n):
        print('hello')
```
- B

```
for i in range(n):
    print('hello')
```
- C

```
L = [ i+j for i in range(n) for j in range(n) ]
for x in L:
    print('hello')
```
- D

```
for i in range(n//2):
    for j in range(n//2):
        print('hello')
```