

Modèle CCYC : ©DNE

Nom de famille (naissance) :


(Suivi s'il y a lieu, du nom d'usage)

Prénom(s) :

N° candidat :  N° d'inscription :

(Les numéros figurent sur la convocation.)

Né(e) le :  /  /



1.1

Évaluation	
<b>CLASSE</b> : Première	
<b>VOIE</b> : <input checked="" type="checkbox"/> Générale <input type="checkbox"/> Technologique <input type="checkbox"/> Toutes voies (LV)	
<b>ENSEIGNEMENT</b> : spécialité Numérique et Sciences Informatiques (NSI)	
<b>DURÉE DE L'ÉPREUVE</b> : 02 h 00	
<b>Niveaux visés (LV)</b> : LVA                      LVB	
<b>Axes de programme</b> :	
<b>CALCULATRICE AUTORISÉE</b> : <input type="checkbox"/> Oui <input checked="" type="checkbox"/> Non	
<b>DICTIONNAIRE AUTORISÉ</b> : <input type="checkbox"/> Oui <input checked="" type="checkbox"/> Non	
<input checked="" type="checkbox"/> Ce sujet contient des parties à rendre par le candidat avec sa copie. De ce fait, il ne peut être dupliqué et doit être imprimé pour chaque candidat afin d'assurer ensuite sa bonne numérisation.	
<input type="checkbox"/> Ce sujet intègre des éléments en couleur. S'il est choisi par l'équipe pédagogique, il est nécessaire que chaque élève dispose d'une impression en couleur.	
<input type="checkbox"/> Ce sujet contient des pièces jointes de type audio ou vidéo qu'il faudra télécharger et jouer le jour de l'épreuve.	
<b>Nombre total de pages</b> : 18	

L'épreuve consiste en 42 questions, rangées en 7 thèmes.

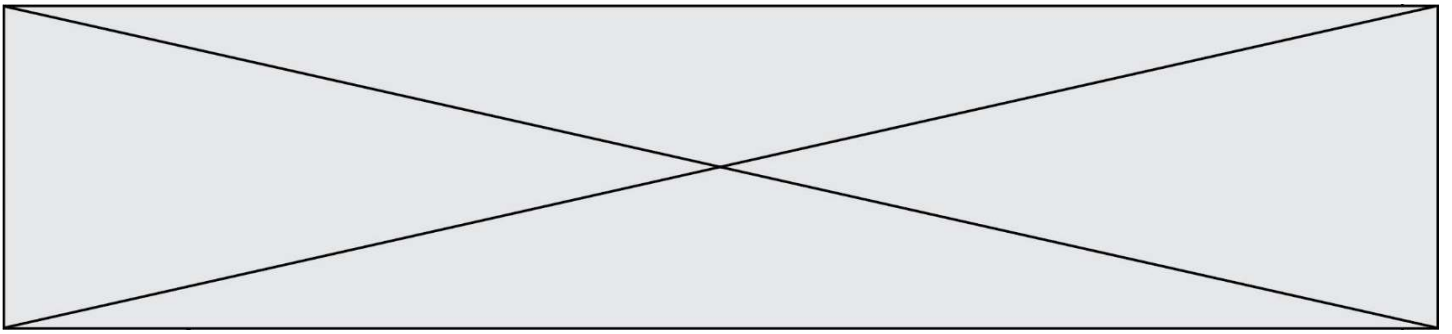
Le candidat gagne 1 point pour la réponse correcte et obtient un résultat nul pour une réponse fautive, une absence de réponse ou une réponse multiple.

Le résultat obtenu est transformé en note sur 20 selon la formule : nombre de points obtenus x 20/42.

**Le candidat indique ses réponses aux questions en pages 3 et 4.**

**Seules les pages 1 à 4 sont rendues par le candidat à la fin de l'épreuve, pour être numérisées.**

Les questions figurent sur les pages suivantes.



Modèle CCYC : ©DNE

Nom de famille (naissance) :

(Suivi s'il y a lieu, du nom d'usage)

Prénom(s) :

N° candidat :

N° d'inscription :



Liberté • Égalité • Fraternité  
RÉPUBLIQUE FRANÇAISE

Né(e) le :

(Les numéros figurent sur la convocation.)

1.1

### Thème A : types de base

Réponse à la question 1	A	B	C	D
Réponse à la question 2	A	B	C	D
Réponse à la question 3	A	B	C	D
Réponse à la question 4	A	B	C	D
Réponse à la question 5	A	B	C	D
Réponse à la question 6	A	B	C	D

### Thème B : types construits

Réponse à la question 1	A	B	C	D
Réponse à la question 2	A	B	C	D
Réponse à la question 3	A	B	C	D
Réponse à la question 4	A	B	C	D
Réponse à la question 5	A	B	C	D
Réponse à la question 6	A	B	C	D

### Thème C : traitement de données en tables

Réponse à la question 1	A	B	C	D
Réponse à la question 2	A	B	C	D
Réponse à la question 3	A	B	C	D
Réponse à la question 4	A	B	C	D
Réponse à la question 5	A	B	C	D
Réponse à la question 6	A	B	C	D

### Thème D : interactions entre l'homme et la machine sur le Web

Réponse à la question 1	A	B	C	D
Réponse à la question 2	A	B	C	D
Réponse à la question 3	A	B	C	D
Réponse à la question 4	A	B	C	D
Réponse à la question 5	A	B	C	D
Réponse à la question 6	A	B	C	D



### **Thème E : architectures matérielles et systèmes d'exploitation**

Réponse à la question 1	A	B	C	D
Réponse à la question 2	A	B	C	D
Réponse à la question 3	A	B	C	D
Réponse à la question 4	A	B	C	D
Réponse à la question 5	A	B	C	D
Réponse à la question 6	A	B	C	D

### **Thème F : langages et programmation**

Réponse à la question 1	A	B	C	D
Réponse à la question 2	A	B	C	D
Réponse à la question 3	A	B	C	D
Réponse à la question 4	A	B	C	D
Réponse à la question 5	A	B	C	D
Réponse à la question 6	A	B	C	D

### **Thème G : algorithmique**

Réponse à la question 1	A	B	C	D
Réponse à la question 2	A	B	C	D
Réponse à la question 3	A	B	C	D
Réponse à la question 4	A	B	C	D
Réponse à la question 5	A	B	C	D
Réponse à la question 6	A	B	C	D

Modèle CCYC : ©DNE

Nom de famille (naissance) :


(Suivi s'il y a lieu, du nom d'usage)

Prénom(s) :

N° candidat :  N° d'inscription :

(Les numéros figurent sur la convocation.)

Né(e) le :  /  /



1.1

## Thème A : types de base

### Question A 1

On considère les codes ASCII en écriture hexadécimale (en base 16).

Le code ASCII de la lettre A est 0x41, celui de la lettre B est 0x42, celui de la lettre C est 0x43, etc.

Quel est le code ASCII, en hexadécimal, de la lettre X (c'est la 24<sup>e</sup> lettre de l'alphabet usuel).

#### Réponses

- A 0x58
- B 0x64
- C 0x7A
- D 0x88

### Question A 2

Dans quel système de numération 3F5 représente-t-il un nombre entier ?

#### Réponses

- A binaire (base 2)
- B octal (base 8)
- C décimal (base 10)
- D hexadécimal (base 16)

### Question A 3

Quel est un avantage du codage UTF8 par rapport au codage ASCII ?

#### Réponses

- A il permet de coder un caractère sur un octet au lieu de deux
- B il permet de coder les majuscules
- C il permet de coder tous les caractères
- D il permet de coder différentes polices de caractères

### Question A 4

On considère les nombres dont l'écriture en base 16 (en hexadécimal) sont de la forme suivante : un 1 suivi de 0 en nombre quelconque, comme 1, 10, 100, 1000 etc.

Tous ces nombres sont exactement :

#### Réponses

- A les puissances de 2
- B les puissances de 8
- C les puissances de 10
- D les puissances de 16

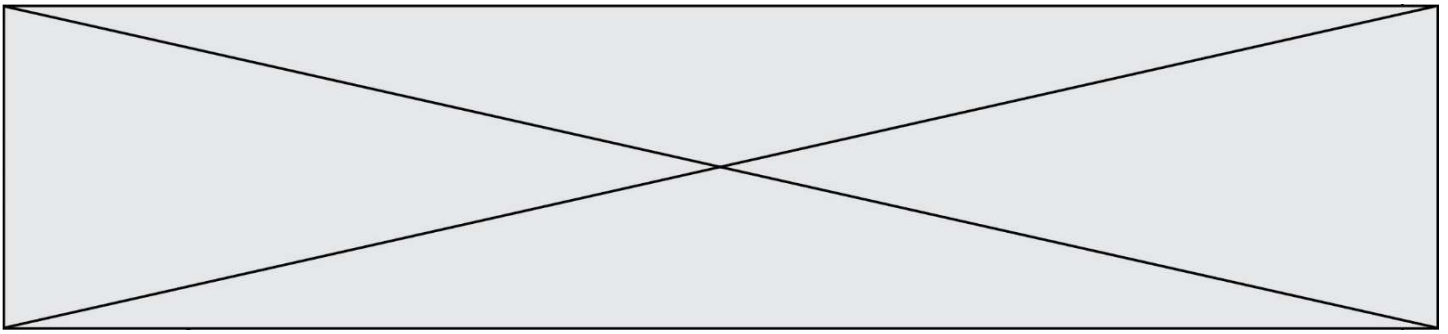
### Question A 5

On considère l'expression logique  $(a \text{ or } b)$  and  $a$ . Quelle est sa table de vérité ?

#### Réponses

A

$a$	$b$	$(a \text{ or } b)$ and $a$
False	False	False



False	True	True
True	False	True
True	True	True

B

<i>a</i>	<i>b</i>	$(a \text{ or } b) \text{ and } a$
False	False	False
False	True	False
True	False	True
True	True	True

C

<i>a</i>	<i>b</i>	$(a \text{ or } b) \text{ and } a$
False	False	False
False	True	False
True	False	False
True	True	True

D

<i>a</i>	<i>b</i>	$(a \text{ or } b) \text{ and } a$
False	False	False
False	True	False
True	False	False
True	True	False

#### Question A 6

Quelle est la représentation en binaire signé en complément à 2 de l'entier  $(-1)_{10}$  sur un octet ?

#### Réponses

- A 1000 0000
- B 1000 0001
- C 1111 1110
- D 1111 1111

Modèle CCYC : ©DNE

Nom de famille (naissance) :

(Suivi s'il y a lieu, du nom d'usage)

Prénom(s) :

N° candidat :

N° d'inscription :



(Les numéros figurent sur la convocation.)

Né(e) le :

1.1

## Thème B : types construits

### Question B 1

On définit :

```
resultat = [ i*2 for i in range(10) ]
```

Quelle est la valeur de resultat ?

#### Réponses

- A [0, 1, 2, 3, 4, 5, 6, 7, 8, 9]
- B [0, 2, 4, 6, 8, 10, 12, 14, 16, 18]
- C [0, 2, 4, 6, 8, 10, 12, 14, 16, 18, 20]
- D [2, 4, 6, 8, 10, 12, 14, 16, 18]

### Question B 2

On définit ainsi une liste P :

```
P = [ {"nom": "Turing", "prénom": "Alan", "âge": 28},  
      {"nom": "Lovelace", "prénom": "Ada", "âge": 27} ]
```

Comment accéder à la chaîne de caractères "Alan" ?

#### Réponses

- A P[0]
- B P[1]
- C P[0]["prénom"]
- D P[1]["prénom"]

### Question B 3

On exécute l'instruction suivante :

```
T = [ [12, 13, 14, 15],  
      [24, 25, 26, 27],  
      [35, 36, 49, 33],  
      [61, 53, 55, 58] ]
```

Quelle expression parmi les quatre suivantes a pour valeur 26 ?

#### Réponses

- A T[1][2]
- B T[2][1]
- C T[2][3]
- D T[3][2]

### Question B 4

On définit le dictionnaire suivant d = {'A': 3, 'B': 7, 'C': 2}. Quelle expression permet de récupérer la valeur de la clé 'B' ?

#### Réponses

- A d['B']
- B d[1]
- C d[7]
- D d[B]



### Question B 5

Quelle affectation permet de donner à L la valeur [1, 9, 25, 49, 81] ?

#### Réponses

- A L = [i\*2 for i in range(9) if i%2 == 0]
- B L = [i\*\*2 for i in range(10) if i%2 == 0]
- C L = [i\*\*2 for i in range(10) if i%2 == 1]
- D L = [i\*\*2 for i in range(10) if i//2 == 1]

### Question B 6

On exécute le script suivant :

```
def ajoute(stock,element,quantite):  
    if element in stock:  
        stock[element] = stock[element] + quantite  
    else:  
        stock[element] = quantite  
  
stock = { 'clous': 14, 'vis': 27, 'boulons': 8, 'écrous': 24 }  
ajoute(stock,'vis',5)  
ajoute(stock,'chevilles',3)
```

Quelle est la valeur de la variable stock à la fin de cette exécution ?

#### Réponses

- A {'clous': 14, 'vis': 27, 'boulons': 8, 'écrous': 24}
- B {'clous': 14, 'vis': 32, 'boulons': 8, 'écrous': 24}
- C {'clous': 14, 'vis': 27, 'boulons': 8, 'écrous': 24, 'chevilles': 3}
- D {'clous': 14, 'vis': 32, 'boulons': 8, 'écrous': 24, 'chevilles': 3}



Modèle CCYC : ©DNE

Nom de famille (naissance) :


(Suivi s'il y a lieu, du nom d'usage)

Prénom(s) :

N° candidat :  N° d'inscription :

(Les numéros figurent sur la convocation.)

Né(e) le :  /  /



1.1

## Thème C : traitement de données en tables

### Question C 1

On considère l'extraction suivante d'une base de données des départements français. Cette extraction a ensuite été sauvegardée dans un fichier texte.

```
"1", "01", "Ain", "AIN", "ain", "A500"
"2", "02", "Aisne", "AISNE", "aisne", "A250"
"3", "03", "Allier", "ALLIER", "allier", "A460"
"4", "04", "Alpes-de-Haute-Provence", "ALPES-DE-HAUTE-PROVENCE", "alpes-de-haute-
provence", "A412316152"
"5", "05", "Hautes-Alpes", "HAUTES-ALPES", "hautes-alpes", "H32412"
```

Quel est le format de ce fichier ?

#### Réponses

- A YML
- B XML
- C CSV
- D JSON

### Question C 2

On souhaite construire une table de 4 lignes de 3 éléments que l'on va remplir de 0. Quelle syntaxe Python utilisera-t-on ?

#### Réponses

- A `[ [ 0 ] * 3 for i in range (4) ]`
- B `for i in range (4) [ 0 ] * 3`
- C `[ 0 ] * 3 for i in range (4)`
- D `[ for i in range (4) [ 0 ] * 3 ]`

### Question C 3

Dans la plupart des fichiers CSV, que contient la première ligne ?

#### Réponses

- A des notes concernant la table de données
- B les sources des données
- C les descripteurs des champs de la table de données
- D l'auteur de la table de données

### Question C 4

Quel type de fichier est le plus adapté au traitement des données parmi les formats suivant ?

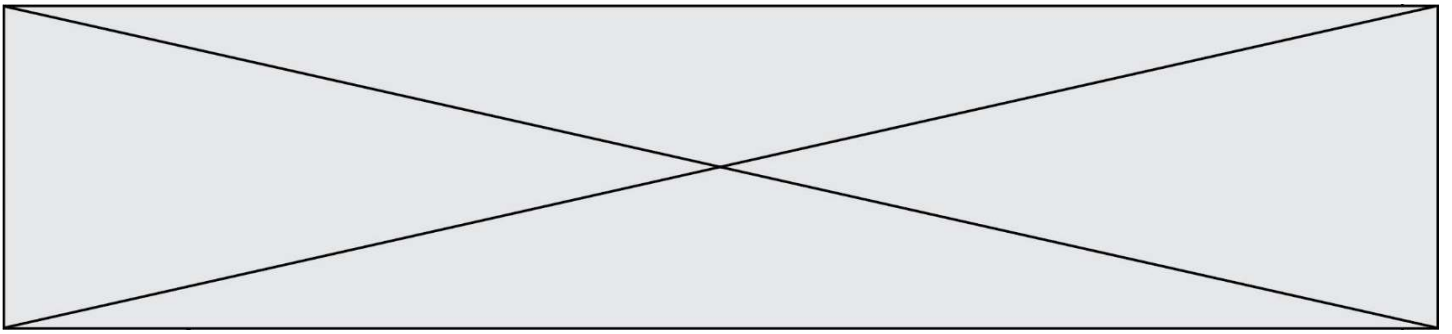
#### Réponses

- A PNG
- B DOC
- C CSV
- D PDF

### Question C 5

L'entier positif dont l'écriture binaire est 0011 1011 se représente en hexadécimal (base 16) par :

#### Réponses



- A 32
- B 33
- C 3B
- D B3

**Question C 6**

On exécute le script suivant :

```
a = [1, 2, 3]
b = [4, 5, 6]
c = a + b
```

Que contient la variable c à la fin de cette exécution ?

**Réponses**

- A [5,7,9]
- B [1,4,2,5,3,6]
- C [1,2,3,4,5,6]
- D [1,2,3,5,7,9]

Modèle CCYC : ©DNE

Nom de famille (naissance) :


(Suivi s'il y a lieu, du nom d'usage)

Prénom(s) :

N° candidat :  N° d'inscription :

(Les numéros figurent sur la convocation.)

Né(e) le :  /  /



RÉPUBLIQUE FRANÇAISE

1.1

## Thème D : interactions entre l'homme et la machine sur le Web

### Question D 1

Lors de la consultation d'une page HTML, contenant un bouton dans lequel on ajoute l'attribut suivant, que se passe-t-il quand on clique sur ce bouton ?

```
<button onclick="this.style.color='red'">
```

#### Réponses

- A le pointeur de souris devient rouge lorsqu'il arrive sur le bouton
- B le texte du bouton devient rouge
- C le texte du bouton est remplacé par le mot "red"
- D le texte de la page passe en rouge

### Question D 2

Quelle méthode doit utiliser la requête envoyée au serveur lorsque vous entrez votre identifiant et votre mot de passe dans un formulaire sécurisé ?

#### Réponses

- A GET
- B POST
- C FORM
- D SUBMIT

### Question D 3

Quel est le code HTML correct pour créer un hyperlien vers le site Eduscol ?

#### Réponses

- A `<a url="https://www.eduscol.education.fr/"> site Eduscol </a>`
- B `<a name="https://www.eduscol.education.fr/"> site Eduscol </a>`
- C `<a href="https://www.eduscol.education.fr/"> site Eduscol </a>`
- D `<a> https://www.eduscol.education.fr/ </a> site Eduscol`

### Question D 4

Un internaute clique sur un lien qui envoie la requête HTTP suivante à un serveur :

```
http://jaimelaneige.com/ma_planche/traitement.php?nom=Snow&prenom=Jon
```

Quelle est l'adresse du serveur ?

#### Réponses

- A jaimelaneige
- B jaimelaneige.com
- C jaimelaneige.com/ma\_planche
- D jaimelaneige.com/ma\_planche/traitement.php

### Question D 5

On considère cet extrait de fichier HTML représentant les onglets d'une barre de navigation :

```
<ul id="tab-nav">
  <li><a href="onglet1.html" class="tab-nav-active">Onglet 1</a></li>
```



```
<li><a href="onglet2.html">Onglet 2</a></li>  
<li><a href="onglet3.html">Onglet 3</a></li>  
</ul>
```

Quel code CSS permet de mettre en bleu la couleur de fond des onglets et uniquement eux ?

**Réponses**

- A tab-nav a { background-color : blue; }
- B tab-nav, a { background-color : blue; }
- C #tab-nav a { background-color : blue; }
- D #tab-nav, a { background-color : blue; }

**Question D 6**

Dans le code HTML les délimiteurs tels que <body> et </body> s'appellent ?

**Réponses**

- A des bornes
- B des balises
- C des paragraphes
- D des liens

Modèle CCYC : ©DNE

Nom de famille (naissance) :


(Suivi s'il y a lieu, du nom d'usage)

Prénom(s) :

N° candidat :  N° d'inscription :

(Les numéros figurent sur la convocation.)

Né(e) le :  /  /



1.1

## Thème E : architectures matérielles et systèmes d'exploitation

### Question E 1

Que peut-on dire du système de fichier, suite à l'exécution des commandes suivantes ?

```
% cd
% ls
Documents Images Videos help.txt tutorial.txt script.py
% mv *.txt Documents
```

### Réponses

- A L'utilisateur Documents a pris possession des fichiers help.txt et tutorial.txt
- B Le répertoire /Documents contient maintenant les fichiers help.txt et tutorial.txt
- C Le répertoire Documents du répertoire de l'utilisateur contient maintenant les fichiers help.txt et tutorial.txt
- D script.py a été exécuté et a déplacé les fichiers textes

### Question E 2

Sous UNIX, que va réaliser la ligne de commande `cat file.txt` ?

### Réponses

- A rien du tout
- B l'affichage du contenu du fichier file.txt dans la console
- C la création d'un fichier file.txt
- D la suppression du fichier file.txt

### Question E 3

À quoi sert la RAM dans le fonctionnement d'un ordinateur ?

### Réponses

- A à stocker des données lors de l'exécution de programmes
- B à stocker des fichiers
- C à relier les périphériques
- D à accélérer la connexion à Internet

### Question E 4

Le shell Linux renvoie ce résultat à la commande `ls -al` :

```
lrwxr--r-- 2 toto toto 807 juin 26 14:06 eclipse
drwxr-xr-x 2 toto toto 4096 juin 26 15:00 Doc_1
-rw-r-xr-x 2 toto toto 4096 juin 26 14:06 QCM
-rwxr-xr-x 2 toto toto 4096 juin 26 14:06 Doc_Travail
```

Quel est le nom du fichier du répertoire courant, de taille 4096 octets, exécutable par son propriétaire ?

### Réponses

- A eclipse
- B Doc\_1
- C QCM
- D Doc\_Travail

### Question E 5



Un ordinateur possède les caractéristiques matérielles suivantes :

- mémoire DDR SDRAM : 8 Go
- antémémoire (mémoire cache) : 1 Mo
- disque dur SSD : 1 To

Parmi les classements ci-dessous lequel est celui de l'accès mémoire le plus rapide au moins rapide ?

**Réponses**

- A Antémémoire puis SDRAM puis SSD
- B SSD puis Antémémoire puis SDRAM
- C SSD puis SDRAM puis Antémémoire
- D SDRAM puis SSD puis Antémémoire

**Question E 6**

Quelle commande du shell Linux permet de modifier les autorisations d'accès à un fichier ?

**Réponses**

- A chmod
- B chown
- C chgrp
- D dir

Modèle CCYC : ©DNE

Nom de famille (naissance) :

(Suivi s'il y a lieu, du nom d'usage)

Prénom(s) :

N° candidat :

N° d'inscription :



Né(e) le :

(Les numéros figurent sur la convocation.)

1.1

## Thème F : langages et programmation

### Question F 1

On exécute le script suivant.

```
a,b = 10,3
if a < 10:
    a,b = a+2,b+a
```

Quelle est la valeur de b à la fin de son exécution ?

#### Réponses

- A 3
- B 12
- C 13
- D 15

### Question F 2

Quelles sont les valeurs des variables x et y à la fin de l'exécution du script suivant :

```
x = 4
while x > 0:
    y = 1
    while y < x:
        y = y + 1
        x = x - 1
```

#### Réponses

- A l'exécution ne termine pas !
- B la valeur de x est 0, celle de y est 0
- C la valeur de x est 0, celle de y est 1
- D la valeur de x est -1, celle de y est 0

### Question F 3

T est un tableau de nombres entiers non vide. Que représente la valeur de s renvoyée par cette fonction ?

```
def mystere(T):
    s = 0
    for k in T:
        if k % 2 == 0:
            s = s+k
    return s
```

#### Réponses

- A la somme des valeurs du tableau T
- B la somme des valeurs positives du tableau T
- C la somme des valeurs impaires du tableau T
- D la somme des valeurs paires du tableau T

### Question F 4



On exécute le code suivant :

```
def essai():  
    a = 2  
    b = 3  
    c = 4  
    return a  
    return b  
    return c  
  
t = essai()
```

Quelle est la valeur de t après l'exécution de ce code ?

**Réponses**

- A 2
- B 3
- C 4
- D (2,3,4)

**Question F 5**

La documentation de la bibliothèque random de Python précise :

```
random.randint(a, b)  
    Renvoie un entier aléatoire N tel que a <= N <= b.
```

Quelle est l'expression Python permettant de simuler le tirage d'un dé à 6 faces après avoir exécuté `import random` ?

**Réponses**

- A `random.randint(6)`
- B `random.randint(1,6)`
- C `random.randint(1,7)`
- D `random.randint(0,6)`

**Question F 6**

On exécute le script suivant :

```
tableau1 = [1, 2, 3]  
tableau2 = [4, 5, 6]  
long = len(tableau1 + tableau2)
```

Quelle est la valeur de la variable long à la fin de cette exécution ?

**Réponses**

- A 1
- B 3
- C 6
- D rien, car le code engendre une erreur



Modèle CCYC : ©DNE

Nom de famille (naissance) :


(Suivi s'il y a lieu, du nom d'usage)

Prénom(s) :

N° candidat :  N° d'inscription :

(Les numéros figurent sur la convocation.)

Né(e) le :  /  /



1.1

## Thème G : algorithmique

### Question G 1

Un algorithme est dit glouton si :

#### Réponses

- A Il consomme énormément de mémoire
- B Il contient de nombreuses lignes de code
- C Il s'inspire de la méthode de John Elwood Glouton
- D Il fait à chaque étape le choix localement optimum

### Question G 2

Quel est l'ordre de grandeur du coût du tri par insertion (dans le pire des cas) ?

#### Réponses

- A l'ordre de grandeur du coût dépend de l'ordinateur utilisé
- B linéaire en la taille du tableau à trier
- C quadratique en la taille du tableau à trier
- D indépendant de la taille du tableau à trier

### Question G 3

Quel est le coût d'un algorithme de recherche du maximum d'un tableau de nombres ?

#### Réponses

- A constant
- B logarithmique
- C linéaire
- D quadratique

### Question G 4

Un algorithme de tri d'une liste d'entiers est implémenté de la façon suivante :

```
def trier(L) :
    for i in range(len(L)):
        indice_min = i
        for j in range(i+1, len(L)):
            if L[j] < L[indice_min] :
                indice_min = j
        L[i], L[indice_min] = L[indice_min], L[i]
    return L
```

Quelle est l'affirmation exacte ?

#### Réponses

- A cet algorithme est celui du tri par sélection et sa complexité est  $O(n)$
- B cet algorithme est celui du tri par insertion et sa complexité est  $O(n \cdot \log(n))$
- C cet algorithme est celui du tri par sélection et sa complexité est  $O(n^2)$
- D cet algorithme est celui du tri par insertion et sa complexité est  $O(1)$

### Question G 5

Qu'effectue-t-on en lançant la commande suivante dans un terminal Linux :



```
mv /etc/professeur/fichier.conf /home/nsi/fichier.conf
```

**Réponses**

- A un déplacement de fichier
- B une copie de fichier
- C un renommage de fichier
- D un changement de répertoire

**Question G 6**

On considère la fonction suivante, où T est une liste d'entiers et i un indice de la liste :

```
def indiceMinimum(T,i):  
    indice = i  
    m = T[i]  
    for k in range(i+1, len(T)):  
        if T[k] < m:  
            indice = k  
            m = T[k]  
    return indice
```

On exécute `indiceMinimum(T, i)` pour une liste T de longueur n.  
Combien de fois l'inégalité  $T[k] < m$  est-elle évaluée ?

**Réponses**

- A  $n - i$
- B  $n - i + 1$
- C  $n - i - 1$
- D  $n - 1$