



Modèle CCYC : ©DNE

Nom de famille (naissance) :

(Suivi s'il y a lieu, du nom d'usage)

Prénom(s) :

N° candidat :

N° d'inscription :



Liberté • Égalité • Fraternité
RÉPUBLIQUE FRANÇAISE

Né(e) le :

(Les numéros figurent sur la convocation.)

1.1

Thème A : types de base

Réponse à la question 1	A	B	C	D
Réponse à la question 2	A	B	C	D
Réponse à la question 3	A	B	C	D
Réponse à la question 4	A	B	C	D
Réponse à la question 5	A	B	C	D
Réponse à la question 6	A	B	C	D

Thème B : types construits

Réponse à la question 1	A	B	C	D
Réponse à la question 2	A	B	C	D
Réponse à la question 3	A	B	C	D
Réponse à la question 4	A	B	C	D
Réponse à la question 5	A	B	C	D
Réponse à la question 6	A	B	C	D

Thème C : traitement de données en tables

Réponse à la question 1	A	B	C	D
Réponse à la question 2	A	B	C	D
Réponse à la question 3	A	B	C	D
Réponse à la question 4	A	B	C	D
Réponse à la question 5	A	B	C	D
Réponse à la question 6	A	B	C	D

Thème D : interactions entre l'homme et la machine sur le Web

Réponse à la question 1	A	B	C	D
Réponse à la question 2	A	B	C	D
Réponse à la question 3	A	B	C	D
Réponse à la question 4	A	B	C	D
Réponse à la question 5	A	B	C	D
Réponse à la question 6	A	B	C	D



Thème E : architectures matérielles et systèmes d'exploitation

Réponse à la question 1	A	B	C	D
Réponse à la question 2	A	B	C	D
Réponse à la question 3	A	B	C	D
Réponse à la question 4	A	B	C	D
Réponse à la question 5	A	B	C	D
Réponse à la question 6	A	B	C	D

Thème F : langages et programmation

Réponse à la question 1	A	B	C	D
Réponse à la question 2	A	B	C	D
Réponse à la question 3	A	B	C	D
Réponse à la question 4	A	B	C	D
Réponse à la question 5	A	B	C	D
Réponse à la question 6	A	B	C	D

Thème G : algorithmique

Réponse à la question 1	A	B	C	D
Réponse à la question 2	A	B	C	D
Réponse à la question 3	A	B	C	D
Réponse à la question 4	A	B	C	D
Réponse à la question 5	A	B	C	D
Réponse à la question 6	A	B	C	D

Modèle CCYC : ©DNE

Nom de famille (naissance) :


(Suivi s'il y a lieu, du nom d'usage)

Prénom(s) :

N° candidat : N° d'inscription :

(Les numéros figurent sur la convocation.)

Né(e) le : / /



1.1

Thème A : types de base

Question A 1

Quelle est, en écriture décimale, la somme d'entiers dont l'écriture en base 16 (hexadécimale) est $2A + 2$?

Réponses

- A 22
- B 31
- C 49
- D 44

Question A 2

Quel est le plus grand entier positif (non signé) représentable en binaire sur 2 octets (c'est-à-dire 16 bits) ?

Réponses

- A $2^{15} - 1$
- B 2^{15}
- C $2^{16} - 1$
- D 2^{16}

Question A 3

Quand on ajoute deux bits a et b , on obtient un bit de somme s et un bit de retenue r . On peut exprimer s et r à l'aide de formules logiques, lesquelles ?

Réponses

- A $r = a ET b$ $s = a OU b$
- B $r = a ET b$ $s = a ET b$
- C $r = a ET b$ $s = a OU EXCLUSIF b$
- D $r = a OU EXCLUSIF b$ $s = a ET b$

Question A 4

En ajoutant trois chiffres 0 à droite de l'écriture binaire d'un entier N strictement positif, on obtient l'écriture binaire de :

Réponses

- A $6 \times N$
- B $8 \times N$
- C $1000 \times N$
- D aucune des réponses précédentes

Question A 5

Quelle est l'écriture en hexadécimal (base 16) du nombre entier positif qui s'écrit 1110 1101 en base 2 ?

Réponses



- A DE
- B ED
- C EDF
- D FEFD

Question A 6

Laquelle de ces affirmations concernant le codage UTF-8 des caractères est vraie ?

Réponses

- A le codage UTF-8 est sur 7 bits
- B le codage UTF-8 est sur 8 bits
- C le codage UTF-8 est sur 1 à 4 octets
- D le codage UTF-8 est sur 8 octets

Modèle CCYC : ©DNE

Nom de famille (naissance) :


(Suivi s'il y a lieu, du nom d'usage)

Prénom(s) :

N° candidat : N° d'inscription :

(Les numéros figurent sur la convocation.)

Né(e) le : / /



1.1

Thème B : types construits

Question B 1

On définit : matrice = `[[1,2,3], [4,5,6], [7,8,9], [10,11,12]]`.

Quelle est la valeur de `matrice[1][2]` ?

Réponses

- A 2
- B 4
- C 6
- D 8

Question B 2

On définit ainsi le tableau `t = [[1,5,7], [8,4,2], [3,9,6]]`

Quel jeu d'indices permet d'obtenir l'élément "9" de ce tableau ?

Réponses

- A `t[3][2]`
- B `t[2][3]`
- C `t[1][2]`
- D `t[2][1]`

Question B 3

On considère le code suivant :

```
D = { 'a': '1', '2': 'a', 'b': 'a', 'c': '3' }
```

Que vaut `D['a']` à la fin de son exécution ?

Réponses

- A '1'
- B 2
- C ['2', 'b']
- D ['1', '3']

Question B 4

`t1` est un tableau à `n` lignes et `n` colonnes. On souhaite remplir un tableau `t2` de mêmes dimensions que `t1` avec les contraintes suivantes : les lignes de `t2` sont les colonnes de `t1` et les colonnes de `t2` sont les lignes de `t1`.

Par quelle instruction faut-il remplacer la ligne en pointillées du code suivant ?

```
for i in range(n):
    for j in range(n):
        .....
```



Réponses

- A `t1[i][j] = t2[j][i]`
- B `t2[j][i] = t1[j][i]`
- C `t1[j][i] = t2[i][j]`
- D `t2[i][j] = t1[j][i]`

Question B 5

On définit la variable suivante : `citation = "Les nombres gouvernent le monde"`.
Quelle est la valeur de l'expression `citation[5]+citation[6]` ?

Réponses

- A `"om"`
- B `"ombres"`
- C `"no"`
- D `citation[11]`

Question B 6

On considère le script suivant :

```
billes = {'vert': 6, 'rouge': 15, 'bleu': 11, 'jaune': 2, 'orange': 17 }
total = 0
for n in billes.XXXXXXX():
    total = total + n
```

Par quoi faut-il remplacer XXXXXXXX dans ce script pour qu'à la fin de son exécution la variable `total` contienne le nombre total de billes ?

Réponses

- A `keys`
- B `values`
- C `items`
- D `numbers`

Modèle CCYC : ©DNE

Nom de famille (naissance) :

(Suivi s'il y a lieu, du nom d'usage)

Prénom(s) :

N° candidat : N° d'inscription :

(Les numéros figurent sur la convocation.)

Né(e) le : / /



1.1

Thème C : traitement de données en tables

Question C 1

Quelle expression Python permet d'accéder au numéro de téléphone de Tournesol, sachant que le répertoire a été défini par l'affectation suivante :

```
repertoire = [{'nom': 'Dupont', 'tel': '5234'},
              {'nom': 'Tournesol', 'tel': '5248'}, {'nom': 'Dupond', 'tel': '3452'}]
```

Réponses

- A repertoire['Tournesol']
- B repertoire['tel'][1]
- C repertoire[1]['tel']
- D repertoire['Tournesol']['tel']

Question C 2

On considère la liste de p-uplets suivante :

```
table = [ ('Grace', 'Hopper', 'F', 1906),
          ('Tim', 'Berners-Lee', 'H', 1955),
          ('Ada', 'Lovelace', 'F', 1815),
          ('Alan', 'Turing', 'H', 1912) ]
```

où chaque p-uplet représente un informaticien ou une informaticienne célèbre ; le premier élément est son prénom, le deuxième élément son nom, le troisième élément son sexe ('H' pour un homme, 'F' pour une femme) et le quatrième élément son année de naissance (un nombre entier entre 1000 et 2000).

On définit une fonction :

```
def fonctionMystere(table):
    mystere = []
    for ligne in table:
        if ligne[2] == 'F':
            mystere.append(ligne[1])
    return mystere
```

Que vaut fonctionMystere(table) ?

Réponses

- A ['Grace', 'Ada']
- B [('Grace', 'Hopper', 'F', 1906), ('Ada', 'Lovelace', 'F', 1815)]
- C ['Hopper', 'Lovelace']
- D []

Question C 3

On considère la table suivante :

```
t = [ {'type': 'marteau', 'prix': 17, 'quantité': 32},
      {'type': 'scie', 'prix': 24, 'quantité': 3},
      {'type': 'tournevis', 'prix': 8, 'quantité': 45} ]
```

Quelle expression permet d'obtenir la quantité de scies ?

Réponses

- A t[2]['quantité']
- B t[1]['quantité']



- C `t['quantité'][1]`
- D `t['scies']['quantité']`

Question C 4

On définit ainsi une liste t :

```
t = [ {'id':1, 'age':23, 'sejour':'PEKIN'},
      {'id':2, 'age':27, 'sejour':'ISTANBUL'},
      {'id':3, 'age':53, 'sejour':'LONDRES'},
      {'id':4, 'age':41, 'sejour':'ISTANBUL'},
      {'id':5, 'age':62, 'sejour':'RIO'},
      {'id':6, 'age':28, 'sejour':'ALGER'}]
```

Quelle affirmation est correcte ?

Réponses

- A t est une liste de listes
- B t est une liste de dictionnaires
- C t est un dictionnaire de listes
- D t est une liste de tuples

Question C 5

On a défini :

```
mendeleiev = [['H', '.', '.', '.', '.', '.', '.', '.', 'He'],
              ['Li', 'Be', 'B', 'C', 'N', 'O', 'F', 'Ne'],
              ['Na', 'Mg', 'Al', 'Si', 'P', 'S', 'Cl', 'Ar']]
```

Comment construire la liste des gaz rares, c'est-à-dire la liste des éléments de la dernière colonne ?

Réponses

- A `gaz_rares=[periode[7] for periode in mendeleiev]`
- B `gaz_rares=[periode for periode in mendeleiev[7]]`
- C `gaz_rares=[periode for periode[7] in mendeleiev]`
- D `gaz_rares=[periode[8] for periode in mendeleiev]`

Question C 6

Laquelle de ces listes de chaînes de caractères est triée en ordre croissant ?

Réponses

- A `['Chat', 'Chien', 'Cheval', 'Cochon']`
- B `['Chat', 'Cheval', 'Chien', 'Cochon']`
- C `['Chien', 'Cheval', 'Cochon', 'Chat']`
- D `['Cochon', 'Chien', 'Cheval', 'Chat']`

Modèle CCYC : ©DNE

Nom de famille (naissance) :


(Suivi s'il y a lieu, du nom d'usage)

Prénom(s) :

N° candidat : N° d'inscription :

(Les numéros figurent sur la convocation.)

Né(e) le : / /



1.1

Thème D : interactions entre l'homme et la machine sur le Web

Question D 1

Dans une page HTML se trouve le formulaire suivant :

```
<form method="....." action="traitement.html">
  <p>Nom : <input type="text" name="nom"></p>
  <p>Mot de passe : <input type="password" name="mdp"></p>
  <p><input type="submit" name="envoi" value="Envoyer"></p>
</form>
```

Par quoi faut-il remplacer les pointillés pour que les données du formulaire n'apparaissent pas dans l'URL au moment où l'utilisateur soumet le formulaire au serveur ?

Réponses

- A GET
- B POST
- C SECRET
- D HIDDEN

Question D 2

Quelle est la machine qui va exécuter un programme JavaScript inclus dans une page HTML ?

Réponses

- A la machine de l'utilisateur sur laquelle s'exécute le navigateur Web
- B le serveur Web sur lequel est stockée la page HTML
- C la machine de l'utilisateur ou du serveur, selon celle qui est la plus disponible
- D la machine de l'utilisateur ou du serveur, suivant la confidentialité des données manipulées

Question D 3

Un internaute clique sur un lien qui envoie la requête HTTP suivante à un serveur :

http://jaimelaneige.com/ma_planche/traitement.php?nom=Snow&prenom=Jon

Quelle est l'adresse du serveur ?

Réponses

- A jaimelaneige
- B jaimelaneige.com
- C jaimelaneige.com/ma_planche
- D jaimelaneige.com/ma_planche/traitement.php

Question D 4

Quelle méthode d'envoi des paramètres est-il préférable d'utiliser, pour un formulaire d'une page web, destiné à demander à l'utilisateur un mot de passe pour se connecter (le protocole utilisé est HTTPS) ?

Réponses

- A la méthode PASSWORD
- B la méthode CRYPT
- C la méthode GET
- D la méthode POST

**Question D 5**

Pour analyser les réponses saisies par l'utilisateur dans un formulaire d'une page Web personnelle, hébergée chez un fournisseur d'accès à internet, on dispose du code suivant :

```
<?php if ($_POST['choix']=='choix4')
    {echo 'Bravo,';}
    else
    {echo "Non, vous vous trompez !";}
?>
```

Où s'exécutera ce code ?

Réponses

- A dans le premier routeur permettant d'accéder au serveur
- B dans le dernier routeur permettant d'accéder au serveur
- C dans le serveur qui héberge la page personnelle
- D dans la machine de l'utilisateur qui consulte la page personnelle

Question D 6

Quelle URL parmi les suivantes témoigne que l'échange entre le navigateur et le serveur est chiffré ?

Réponses

- A <http://www.mabanque.com/>
- B <http://www.mabanque.fr/>
- C <https://www.mabanque.fr/>
- D <http://secure.mabanque.fr/>

Modèle CCYC : ©DNE

Nom de famille (naissance) :

(Suivi s'il y a lieu, du nom d'usage)

Prénom(s) :

N° candidat : N° d'inscription :

(Les numéros figurent sur la convocation.)

Né(e) le : / /



1.1

Thème E : architectures matérielles et systèmes d'exploitation

Question E 1

Quelle commande permet de changer les droits d'accès d'un fichier ou d'un répertoire ?

Réponses

- A lsmold
- B chmod
- C chown
- D pwd

Question E 2

Quel matériel permet d'interconnecter des **réseaux** entre eux :

Réponses

- A un routeur
- B un commutateur (ou *switch*)
- C un interconnecteur
- D un serveur

Question E 3

Identifier parmi les éléments suivants celui qui est uniquement un périphérique de sortie.

Réponses

- A clavier
- B souris
- C écran
- D microphone

Question E 4

À partir du répertoire ~/Perso/Doc quelle commande permet de rejoindre le répertoire ~/Public ?

Réponses

- A cd ./Public
- B cd ../Public
- C cd ../../Public
- D cd ../.././Public

Question E 5

Une et une seule de ces affirmations est **fausse**. Laquelle ?

Réponses

- A Un système d'exploitation libre est la plupart du temps gratuit
- B Je peux contribuer à un système d'exploitation libre
- C Il est interdit d'étudier un système d'exploitation propriétaire
- D Un système d'exploitation propriétaire est plus sécurisé

Question E 6

Identifier parmi les éléments suivants celui qui n'est pas un capteur.



Réponses

- A haut-parleur
- B caméra
- C accéléromètre
- D microphone

Modèle CCYC : ©DNE

Nom de famille (naissance) :

(Suivi s'il y a lieu, du nom d'usage)

Prénom(s) :

N° candidat :

N° d'inscription :



Liberté • Égalité • Fraternité
RÉPUBLIQUE FRANÇAISE

Né(e) le :

(Les numéros figurent sur la convocation.)

1.1

Thème F : langages et programmation

Question F 1

Quelle est la valeur de la variable b à la fin de l'exécution du script suivant ?

```
a = 2
b = 5
if a > 8:
    b = 10
elif a > 6:
    b = 3
```

Réponses

- A 3
- B 5
- C 6
- D 10

Question F 2

On considère le code suivant :

```
if x < 4:
    x = x + 3
else:
    x = x - 3
```

Quelle construction élémentaire peut-on identifier ?

Réponses

- A une boucle non bornée
- B une structure conditionnelle
- C une boucle bornée
- D un appel de fonction

Question F 3

On définit :

```
def f(a,m):
    i = 1
    n = 0
    while n <= m:
        i = i * a
        n = n + 1
    return i
```

Quelle est la valeur renvoyée par l'appel f(2,4) ?

Réponses

- A 8
- B 16
- C 32
- D 64

**Question F 4**

En Python, quelle est l'instruction permettant de charger la fonction `sqrt` du module `math` ?

Réponses

- A `using math.sqrt`
- B `#include math.sqrt`
- C `from math include sqrt`
- D `from math import sqrt`

Question F 5

La fonction suivante calcule la racine carrée du double d'un nombre flottant.

```
from math import sqrt

def racine_du_double(x):
    return sqrt(2*x)
```

Quelle est la précondition sur l'argument de cette fonction ?

Réponses

- A `x < 0`
- B `x >= 0`
- C `2 * x > 0`
- D `sqrt(x) >= 0`

Question F 6

On exécute le script suivant :

```
tableau1 = [1, 2, 3]
tableau2 = [4, 5, 6]
long = len(tableau1 + tableau2)
```

Quelle est la valeur de la variable `long` à la fin de cette exécution ?

Réponses

- A 1
- B 3
- C 6
- D rien, car le code engendre une erreur

Modèle CCYC : ©DNE

Nom de famille (naissance) :

(Suivi s'il y a lieu, du nom d'usage)

Prénom(s) :

N° candidat : N° d'inscription :

(Les numéros figurent sur la convocation.)

Né(e) le : / /



1.1

Thème G : algorithmique

Question G 1

Que calcule la fonction suivante ?

```
def mystere(liste):
    valeur_de_retour = True
    indice = 0
    while indice < len(liste) - 1:
        if liste[indice] > liste[indice + 1]:
            valeur_de_retour = False
            indice = indice + 1
    return valeur_de_retour
```

Réponses

- A la valeur du plus grand élément de la liste passée en paramètre
- B la valeur du plus petit élément de la liste passée en paramètre
- C une valeur booléenne indiquant si la liste passée en paramètre est triée
- D une valeur booléenne indiquant si la liste passée en paramètre contient plusieurs fois le même élément

Question G 2

Un algorithme est dit glouton si :

Réponses

- A Il consomme énormément de mémoire
- B Il contient de nombreuses lignes de code
- C Il s'inspire de la méthode de John Elwood Glouton
- D Il fait à chaque étape le choix localement optimum

Question G 3

Quel est l'ordre de grandeur du coût du tri par insertion (dans le pire des cas) ?

Réponses

- A l'ordre de grandeur du coût dépend de l'ordinateur utilisé
- B linéaire en la taille du tableau à trier
- C quadratique en la taille du tableau à trier
- D indépendant de la taille du tableau à trier

Question G 4

On définit la fonction f comme suit :

```
def f(L):
    a = L[0]
    for x in L:
        if x < a:
            a = x
    return a
```

Quelle est la valeur renvoyée par l'appel f([7, 10.3, -4, 12, 7, 2, 0.7, -5, 14, 1.4]) ?

Réponses

- A -5
- B 1.4



- C 7
- D 14

Question G 5

La fonction maximum doit renvoyer la valeur maximale d'un tableau de nombres. Par quoi doit-on remplacer les pointillés pour qu'elle donne le résultat attendu ?

```
def maximum(T):  
    maxi = T[0]  
    for i in range(len(T)):  
        .... T[i] > maxi:  
            .....  
    return maxi
```

Réponses

- A if puis, sur la ligne suivante, `maxi = T[i]`
- B while puis, sur la ligne suivante, `maxi = T[i]`
- C if puis, sur la ligne suivante, `maxi = maxi + 1`
- D while puis, sur la ligne suivante, `maxi = maxi + 1`

Question G 6

Que renvoie la fonction suivante quand on l'appelle avec un nombre entier et une liste d'entiers ?

```
def mystere(n,L):  
    for x in L:  
        if n == x:  
            return True  
    return False
```

Réponses

- A une valeur booléenne indiquant si le nombre `n` est présent au moins une fois dans la liste `L`
- B une valeur booléenne indiquant si le nombre `n` est présent plusieurs fois dans la liste `L`
- C une valeur booléenne indiquant si le nombre `n` est le plus grand de la liste `L`
- D une valeur booléenne indiquant si le nombre `n` est le plus petit de la liste `L`