

Modèle CCYC : ©DNE

Nom de famille (naissance) :
(Suivi s'il y a lieu, du nom d'usage)

Prénom(s) :

N° candidat :

N° d'inscription :

(Les numéros figurent sur la convocation.)

Né(e) le :



1.1

Évaluation

CLASSE : Première

VOIE : Générale Technologique Toutes voies (LV)

ENSEIGNEMENT : spécialité Numérique et Sciences Informatiques (NSI)

DURÉE DE L'ÉPREUVE : 02 h 00

Niveaux visés (LV) : LVA LVB

Axes de programme :

CALCULATRICE AUTORISÉE : Oui Non

DICTIONNAIRE AUTORISÉ : Oui Non

Ce sujet contient des parties à rendre par le candidat avec sa copie. De ce fait, il ne peut être dupliqué et doit être imprimé pour chaque candidat afin d'assurer ensuite sa bonne numérisation.

Ce sujet intègre des éléments en couleur. S'il est choisi par l'équipe pédagogique, il est nécessaire que chaque élève dispose d'une impression en couleur.

Ce sujet contient des pièces jointes de type audio ou vidéo qu'il faudra télécharger et jouer le jour de l'épreuve.

Nombre total de pages : 19

L'épreuve consiste en 42 questions, rangées en 7 thèmes.

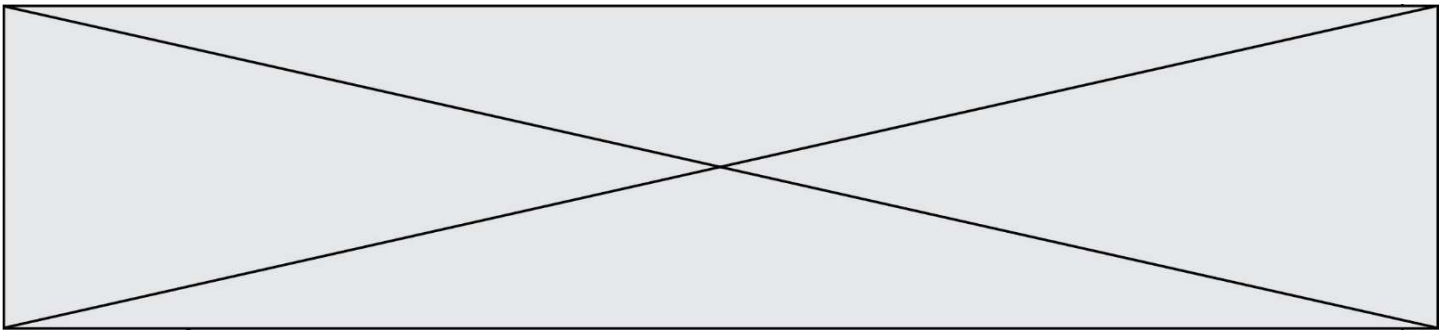
Le candidat gagne 1 point pour la réponse correcte et obtient un résultat nul pour une réponse fautive, une absence de réponse ou une réponse multiple.

Le résultat obtenu est transformé en note sur 20 selon la formule : nombre de points obtenus x 20/42.

Le candidat indique ses réponses aux questions en pages 3 et 4.

Seules les pages 1 à 4 sont rendues par le candidat à la fin de l'épreuve, pour être numérisées.

Les questions figurent sur les pages suivantes.



Modèle CCYC : ©DNE

Nom de famille (naissance) :

(Suivi s'il y a lieu, du nom d'usage)

Prénom(s) :

N° candidat :

N° d'inscription :



Liberté • Égalité • Fraternité
RÉPUBLIQUE FRANÇAISE

(Les numéros figurent sur la convocation.)

Né(e) le :

1.1

Thème A : types de base

Réponse à la question 1	A	B	C	D
Réponse à la question 2	A	B	C	D
Réponse à la question 3	A	B	C	D
Réponse à la question 4	A	B	C	D
Réponse à la question 5	A	B	C	D
Réponse à la question 6	A	B	C	D

Thème B : types construits

Réponse à la question 1	A	B	C	D
Réponse à la question 2	A	B	C	D
Réponse à la question 3	A	B	C	D
Réponse à la question 4	A	B	C	D
Réponse à la question 5	A	B	C	D
Réponse à la question 6	A	B	C	D

Thème C : traitement de données en tables

Réponse à la question 1	A	B	C	D
Réponse à la question 2	A	B	C	D
Réponse à la question 3	A	B	C	D
Réponse à la question 4	A	B	C	D
Réponse à la question 5	A	B	C	D
Réponse à la question 6	A	B	C	D

Thème D : interactions entre l'homme et la machine sur le Web

Réponse à la question 1	A	B	C	D
Réponse à la question 2	A	B	C	D
Réponse à la question 3	A	B	C	D
Réponse à la question 4	A	B	C	D
Réponse à la question 5	A	B	C	D
Réponse à la question 6	A	B	C	D



Thème E : architectures matérielles et systèmes d'exploitation

Réponse à la question 1	A	B	C	D
Réponse à la question 2	A	B	C	D
Réponse à la question 3	A	B	C	D
Réponse à la question 4	A	B	C	D
Réponse à la question 5	A	B	C	D
Réponse à la question 6	A	B	C	D

Thème F : langages et programmation

Réponse à la question 1	A	B	C	D
Réponse à la question 2	A	B	C	D
Réponse à la question 3	A	B	C	D
Réponse à la question 4	A	B	C	D
Réponse à la question 5	A	B	C	D
Réponse à la question 6	A	B	C	D

Thème G : algorithmique

Réponse à la question 1	A	B	C	D
Réponse à la question 2	A	B	C	D
Réponse à la question 3	A	B	C	D
Réponse à la question 4	A	B	C	D
Réponse à la question 5	A	B	C	D
Réponse à la question 6	A	B	C	D

Modèle CCYC : ©DNE

Nom de famille (naissance) :


(Suivi s'il y a lieu, du nom d'usage)

Prénom(s) :

N° candidat : N° d'inscription :

(Les numéros figurent sur la convocation.)

Né(e) le : / /



Liberté • Égalité • Fraternité
RÉPUBLIQUE FRANÇAISE

1.1

Thème A : types de base

Question A 1

Choisir une expression booléenne pour la variable S qui satisfait la table de vérité suivante.

A	B	S
0	0	1
0	1	0
1	0	1
1	1	1

Réponses

- A A ou (non B)
- B (non A) ou B
- C (non A) ou (non B)
- D non (A ou B)

Question A 2

Quelle est l'écriture décimale de l'entier positif dont la représentation binaire est 1101 0101 ?

Réponses

- A 135
- B 213
- C 231
- D -42

Question A 3

Deux entiers positifs ont pour écriture en base 16 : A7 et 84.

Quelle est l'écriture en base 16 de leur somme ?

Réponses

- A 1811
- B 12B
- C 13A
- D A784

Question A 4

Un entier positif est représenté sur 8 bits par 0001 0110.

En utilisant le complément à 2, quelle est la représentation sur 8 bits de son opposé ?

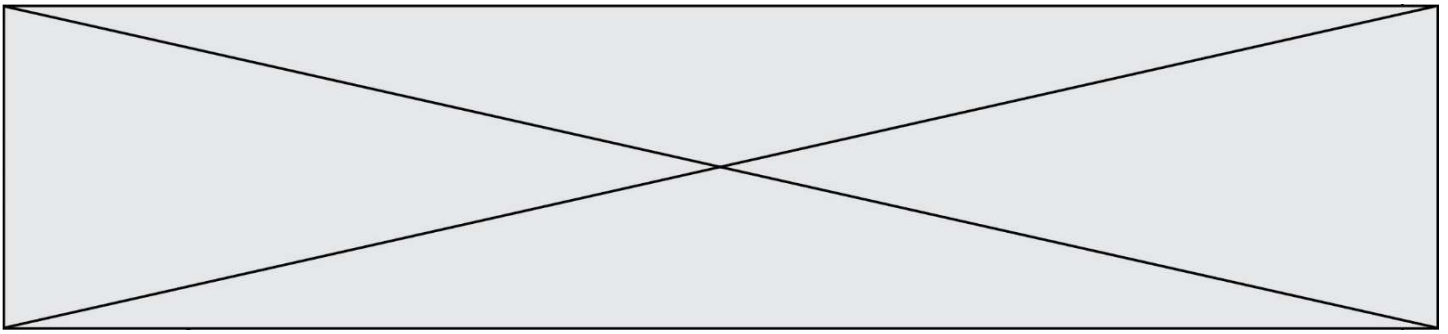
Réponses

- A 1001 0110
- B 1110 1001
- C 1110 1010
- D 1001 0111

Question A 5

On exécute le code suivant :

$$a = 2$$



```
b = 3
c = a ** b
d = c % b
```

Quelle est la valeur de d à la fin de l'exécution ?

Réponses

- A 1
- B 2
- C 3
- D 4

Question A 6

Combien de bits sont nécessaires pour représenter le nombre 15 en binaire ?

Réponses

- A 2
- B 3
- C 4
- D 5

Modèle CCYC : ©DNE

Nom de famille (naissance) :

(Suivi s'il y a lieu, du nom d'usage)

Prénom(s) :

N° candidat :

N° d'inscription :



Liberté • Égalité • Fraternité
RÉPUBLIQUE FRANÇAISE

Né(e) le :

(Les numéros figurent sur la convocation.)

1.1

Thème B : types construits

Question B 1

t1 est un tableau à n lignes et n colonnes. On souhaite remplir un tableau t2 de mêmes dimensions que t1 avec les contraintes suivantes : les lignes de t2 sont les colonnes de t1 et les colonnes de t2 sont les lignes de t1.

Par quelle instruction faut-il remplacer la ligne en pointillées du code suivant ?

```
for i in range(n):  
    for j in range(n):  
        .....
```

Réponses

- A t1[i][j] = t2[j][i]
- B t2[j][i] = t1[j][i]
- C t1[j][i] = t2[i][j]
- D t2[i][j] = t1[j][i]

Question B 2

On définit L = [2,3,5,7,-4].

En demandant la valeur de L[5], qu'obtient-on ?

Réponses

- A -4
- B 2
- C 3
- D une erreur

Question B 3

On a défini : T = [[1,2,3], [4,5,6], [7,8,9]].

Quelle expression parmi les suivantes a pour valeur le nombre 8 ?

Réponses

- A T[1,2]
- B T[1][2]
- C T[2,1]
- D T[2][1]

Question B 4

On définit tableau = [[1, 2, 3], [4, 5, 6], [7, 8, 9]]. Quelle est la valeur de tableau[2][1] ?

Réponses

- A 2
- B 4
- C 6
- D 8

Question B 5



On considère le code suivant :

```
def f(L):  
    return [x*x for x in L if x%2 == 1]  
  
carre = f([0,1,2,3,4,5,6,7,8,9])
```

Que vaut `carre` à la fin de son exécution ?

Réponses

- A [0, 1, 4, 9, 16, 25, 36, 49, 64, 81]
- B [0, 4, 16, 36, 64]
- C [1, 9, 25, 49, 81]
- D [0, 2, 4, 6, 8, 10, 12, 14, 16, 19]

Question B 6

On considère la liste de listes suivante :

```
tictactoe = [ ['X', 'O', 'O'],  
              ['O', 'O', 'O'],  
              ['O', 'O', 'X'] ]
```

Quelle instruction permet d'obtenir une diagonale de 'X' ?

Réponses

- A `tictactoe[3] = 'X'`
- B `tictactoe[4] = 'X'`
- C `tictactoe[1][1] = 'X'`
- D `tictactoe[2][2] = 'X'`

Modèle CCYC : ©DNE

Nom de famille (naissance) :


(Suivi s'il y a lieu, du nom d'usage)

Prénom(s) :

N° candidat : N° d'inscription :

(Les numéros figurent sur la convocation.)

Né(e) le : / /



1.1

Thème C : traitement de données en tables

Question C 1

On considère l'extraction suivante d'une base de données des départements français. Cette extraction a ensuite été sauvegardée dans un fichier texte.

```
"1", "01", "Ain", "AIN", "ain", "A500"
"2", "02", "Aisne", "AISNE", "aisne", "A250"
"3", "03", "Allier", "ALLIER", "allier", "A460"
"4", "04", "Alpes-de-Haute-Provence", "ALPES-DE-HAUTE-PROVENCE", "alpes-de-haute-
provence", "A412316152"
"5", "05", "Hautes-Alpes", "HAUTES-ALPES", "hautes-alpes", "H32412"
```

Quel est le format de ce fichier ?

Réponses

- A YML
- B XML
- C CSV
- D JSON

Question C 2

On a extrait les deux premières lignes de différents fichiers. Déterminer celui qui est un authentique fichier CSV :

Réponses

- A Nom, Pays, Temps
Camille Muffat, France, 241.45
- B Nom Pays Temps
Camille Muffat France 241.45
- C [
{ "Nom": "Camille Muffat", "Pays": "France", "Temps": 241.45},
- D [
{ Nom: "Camille Muffat", Pays: "France", Temps: 241.45},

Question C 3

Qu'est-ce que le format de fichier CSV ?

Réponses

- A un format de fichier mis au point par Microsoft pour Excel
- B un format de fichier pour décrire une base de données
- C un format de fichier où les données sont séparées par un caractère tel qu'une virgule
- D un format de fichier décrivant une page Web

Question C 4

Laquelle de ces listes de chaînes de caractères est triée en ordre croissant ?

Réponses

- A ["112", "19", "27", "45", "8"]
- B ["8", "19", "27", "45", "112"]
- C ["8", "112", "19", "27", "45"]
- D ["19", "112", "27", "45", "8"]



Question C 5

On exécute le code suivant :

```
def maxi(t):
    m = t[0]
    for x in t:
        if x[1] >= m[1]:
            m = x
    return m

L = [ ('Alice', 17), ('Barnabé', 17),
      ('Casimir', 17), ('Doriane', 17),
      ('Emilien', 14), ('Fabienne', 16) ]
```

Quelle est alors la valeur de maxi(L) ?

Réponses

- A ('Alice',17)
- B ('Doriane',17)
- C ('Fabienne',17)
- D ('Emilien',14)

Question C 6

On dispose du fichier « info.csv » donné ci-dessous :

```
nom, prenom, naissance, deces
lovelace, ada, 1815, 1852
von neumann, john, 1903, 1957
turing, alan, 1912, 1954
mccarthy, john, 1927, 2011
floyd, robert, 1936, 2001
```

Le programme ci-dessous nous permet de créer un tableau à partir de ce fichier.

```
file = open("info.csv", "r")
firstLine = file.readline() # chargement de la ligne d'entête
tableau = [line.split(',') for line in file] # chargement des données
```

Les index des lignes de ce tableau vont...

Réponses

- A de 0 à 3
- B de 1 à 4
- C de 0 à 4
- D de 0 à 5

Modèle CCYC : ©DNE

Nom de famille (naissance) :


(Suivi s'il y a lieu, du nom d'usage)

Prénom(s) :

N° candidat : N° d'inscription :

(Les numéros figurent sur la convocation.)

Né(e) le : / /



1.1

Thème D : interactions entre l'homme et la machine sur le Web

Question D 1

Par quoi commence l'URL d'une page Web sécurisée ?

Réponses

- A http
- B https
- C ftp
- D smtp

Question D 2

Le site internet d'un quotidien d'information permet aux visiteurs de laisser des commentaires textuels.

Ces commentaires doivent être visibles par les autres visiteurs.

Laquelle des affirmations suivantes est correcte ?

Réponses

- A Il suffit que la page HTML contienne des champs de la forme `<textarea >`
- B Il suffit que la page HTML contienne des champs de la forme `<textarea >` et d'utiliser JavaScript pour enregistrer les commentaires
- C Il faut un programme en PHP ou un script Python sur le serveur pour traiter les données
- D Non, ce n'est pas possible avec la technologie actuelle

Question D 3

On considère l'extrait d'un fichier « html » ci-dessous qui génère le champ de saisie d'une application web destiné à recueillir la réponse à une question.

```
<form action="gestion_reponse.php" id="form_reponse" method="get">
  <input type="text" name="saisie" />
  <input type="submit" value = "Soumettre" />
</form>
```

Lorsque l'utilisateur clique sur le bouton de ce formulaire, que se passe-t-il ?

Réponses

- A Le contenu du champ de saisie est transmis au serveur web en étant visible dans l'URL de la page cible.
- B Le contenu du champ de saisie est transmis au serveur web sans être visible dans l'URL de la page cible.
- C Sans communiquer avec le serveur web, le contenu du champ de saisie est passé en argument à une fonction qui s'exécute sur le client puis le contenu du champ de saisie est rendu visible dans l'URL.
- D Sans communiquer avec le serveur web, le contenu du champ de saisie est passé en argument à une fonction qui s'exécute sur le client sans que le contenu du champ de saisie ne soit visible dans l'URL.

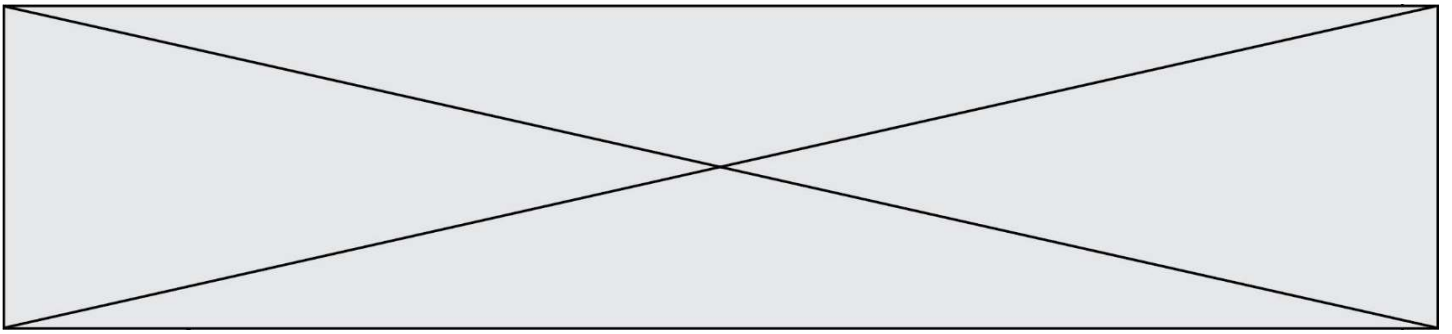
Question D 4

Que peut-on comprendre en lisant l'URL : `https://www.myfalselink.com/results?search_query=NSI` ?

Réponses

- A Le protocole utilisé pour naviguer est sécurisé
- B Une recherche sur le mot NSI a été faite mais il n'y a pas de réponse
- C Ce site est situé dans un pays anglophone
- D Le lien ne fonctionnera pas car le caractère '?' n'est pas autorisé dans une URL

Question D 5



Parmi les propriétés suivantes d'une balise `<button />` dans une page HTML, laquelle doit être rédigée en langage JavaScript ?

Réponses

- A la propriété `name`
- B la propriété `type`
- C la propriété `onclick`
- D la propriété `id`

Question D 6

Parmi les balises HTML ci-dessous quelle est celle qui permet à l'utilisateur de saisir son nom dans un formulaire en respectant la norme HTML ?

Réponses

- A `<select />`
- B `<form />`
- C `<input type="text" />`
- D `<input type="name" />`

Modèle CCYC : ©DNE

Nom de famille (naissance) :


(Suivi s'il y a lieu, du nom d'usage)

Prénom(s) :

N° candidat : N° d'inscription :

(Les numéros figurent sur la convocation.)

Né(e) le : / /



1.1

Thème E : architectures matérielles et systèmes d'exploitation

Question E 1

Dans la console Linux, quelle commande faut-il exécuter pour copier le fichier `test0.csv` en un nouveau fichier nommé `test1.csv` ?

Réponses

- A `ls test0.csv test1.csv`
- B `cp test0.csv test1.csv`
- C `cp test1.csv test0.csv`
- D `mv test1.csv test0.csv`

Question E 2

Parmi les systèmes d'exploitation suivants, lequel est libre ?

Réponses

- A Mac OS
- B iOS
- C Microsoft Windows
- D GNU/Linux

Question E 3

Pour renommer un fichier `text1.txt` en `text1.old` dans un même répertoire, quelle commande faut-il utiliser ?

Réponses

- A `mv text1.txt ../text1.old`
- B `mv text1.txt text1.old`
- C `cp text1.txt text1.old`
- D `lns text1.txt text1.old`

Question E 4

Dans un système Linux, on dispose d'un répertoire racine contenant deux répertoires documents et sauvegardes. On se trouve dans le répertoire documents où figure un fichier `NSI.txt`.

Quelle commande permet de créer une copie nommée `NSI2.txt` de ce fichier dans le répertoire sauvegardes ?

Réponses

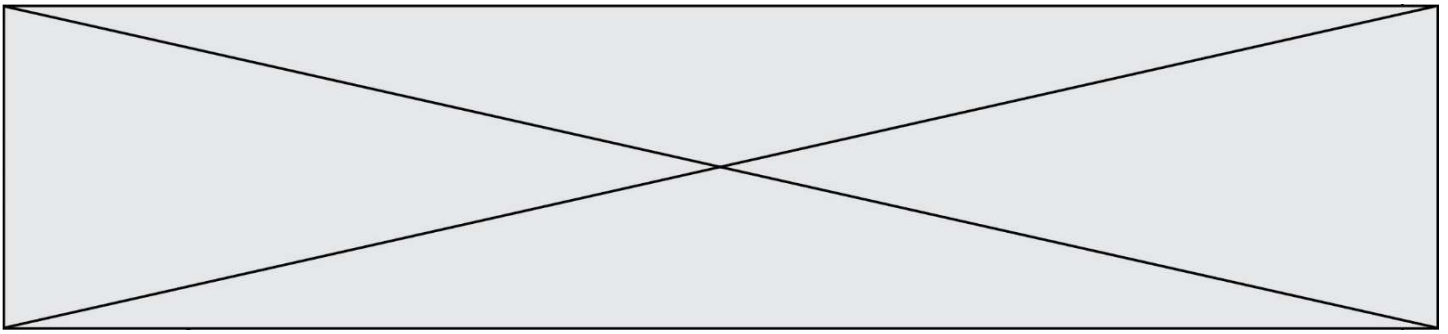
- A `cp NSI.txt NSI2.txt`
- B `cp NSI.txt sauvegardes/NSI2.txt`
- C `cp NSI.txt ../NSI2.txt`
- D `cp NSI.txt ../sauvegardes/NSI2.txt`

Question E 5

Sous Linux, on se place dans un répertoire appelé documents. Dans quel répertoire se trouve-t-on après avoir exécuté la commande `cd ../images` ?

Réponses

- A dans un répertoire `images`, qui est un sous-répertoire du répertoire `documents`



- B dans un répertoire `images`, qui est à la racine du système de fichiers
- C dans un répertoire `images`, qui est dans l'arborescence de fichiers à la même hauteur que le répertoire `documents`
- D dans un répertoire `images`, qui est sur le CD-ROM du lecteur de l'ordinateur

Question E 6

Lorsque, en ligne de commande, on saisit la commande

```
chmod u+rw a.txt
```

ceci a pour effet :

Réponses

- A de permettre au propriétaire du fichier de modifier le contenu de ce fichier
- B d'interdire au propriétaire de modifier le contenu de ce fichier
- C d'interdire à tous les autres utilisateurs de lire le fichier
- D d'effacer le fichier

Nom de famille (naissance) :

(Suivi s'il y a lieu, du nom d'usage)

Prénom(s) :

N° candidat :

N° d'inscription :



(Les numéros figurent sur la convocation.)

Né(e) le :

Thème F : langages et programmation

Question F 1

Dans le programme suivant, la variable A contient un entier strictement positif. Quelle est la valeur numérique de la variable i en fin de programme ?

```
i = 0
while 2**i < A :
    i = i + 1
```

Que vaut la variable i à la fin de l'exécution ?

Réponses

- A A + 1
- B l'exposant de la plus grande puissance de 2 inférieure à A
- C l'exposant de la plus petite puissance de 2 supérieure à A
- D A - 1

Question F 2

Parmi ces langages, lequel n'est pas un langage de programmation ?

Réponses

- A HTML
- B JavaScript
- C PHP
- D Python

Question F 3

On définit la fonction :

```
def f(a,b):
    assert b!=0, 'le deuxième argument est nul'
    result = a/b
    return result
```

Qu'obtient-on en exécutant la commande $r = f(4, 0)$?

Réponses

- A une erreur `ZeroDivisionError`: division by zero et l'arrêt de l'exécution
- B une erreur `NameError`: name 'b' is not defined et l'arrêt de l'exécution
- C une erreur `AssertionError`: le deuxième argument est nul et la variable r prend la valeur 0
- D une erreur `AssertionError`: le deuxième argument est nul et l'arrêt de l'exécution

Question F 4



Soit n un entier naturel. Sa factorielle est le produit des nombres entiers strictement positifs qui sont plus petits ou égaux à n . Par exemple la factorielle de 4 vaut $1 \times 2 \times 3 \times 4 = 24$.

Quelle est la fonction correcte parmi les suivantes ?

Réponses

A

```
def factorielle(n):  
    i = 0  
    fact = 1  
    while i <= n:  
        fact = fact * i  
        i = i + 1  
    return fact
```

B

```
def factorielle(n):  
    i = 1  
    fact = 1  
    while i < n:  
        fact = fact * i  
        i = i + 1  
    return fact
```

C

```
def factorielle(n):  
    i = 0  
    fact = 1  
    while i < n:  
        i = i + 1  
        fact = fact * i  
    return fact
```

D

```
def factorielle(n):  
    i = 0  
    fact = 1  
    while i <= n:  
        i = i + 1  
        fact = fact * i  
    return fact
```

Question F 5

On exécute le script Python suivant :

```
def cube(a):  
    a = a*a*a  
    return a  
a = 2  
b = cube(a)
```

Que vaut le couple (a, b) à la fin de l'exécution ?

Réponses

- A (8, 8)
- B (8, 2)
- C (2, 2)
- D (2, 8)

Question F 6



Thème G : algorithmique

Question G 1

On définit la fonction suivante :

```
def traitement(liste) :  
    m = liste[0]  
    for i in range (len(liste)) :  
        if liste[i] > m:  
            m = liste[i]  
    return m
```

Que vaut `traitement([-2,5,6,-10,35])` ?

Réponses

- A None
- B -10
- C -6
- D 35

Question G 2

Avec un algorithme de recherche par dichotomie, combien de comparaisons sont-elles nécessaires pour s'assurer que 22 n'est pas dans la liste suivante :

[1, 5, 9, 12, 20, 21, 24, 32, 35, 40, 41, 47, 53, 60, 70]

Réponses

- A 2
- B 4
- C 7
- D 13

Question G 3

Quel est l'ordre de grandeur du coût du tri par insertion (dans le pire des cas) ?

Réponses

- A l'ordre de grandeur du coût dépend de l'ordinateur utilisé
- B linéaire en la taille du tableau à trier
- C quadratique en la taille du tableau à trier
- D indépendant de la taille du tableau à trier

Question G 4

À quelle catégorie appartient l'algorithme des k plus proches voisins ?

Réponses

- A algorithmes de tri
- B algorithmes gloutons
- C algorithmes de recherche de chemins
- D algorithmes de classification et d'apprentissage

Question G 5

On exécute le script suivant :

Modèle CCYC : ©DNE

Nom de famille (naissance) :

(Suivi s'il y a lieu, du nom d'usage)

Prénom(s) :

N° candidat :

N° d'inscription :



Liberté • Égalité • Fraternité
RÉPUBLIQUE FRANÇAISE

Né(e) le :

(Les numéros figurent sur la convocation.)

1.1

```
for i in range(n):  
    for j in range(i):  
        print('NSI')
```

Combien de fois le mot NSI est-il affiché ?

Réponses

- A n^2
- B $(n + 1)^2$
- C $1 + 2 + \dots + (n - 1)$
- D $1 + 2 + \dots + (n - 1) + n$

Question G 6

a et m étant deux entiers supérieurs à 1, la fonction suivante renvoie a^m .

```
def puissance(a,m):  
    p = 1  
    n = 0  
    while n < m:  
        p = p * a  
        #  
        n = n + 1  
    return p
```

Quelle est l'égalité qui est vérifiée à chaque passage par la ligne marquée # ?

Réponses

- A $p = a^{n-1}$
- B $p = a^n$
- C $p = a^{n+1}$
- D $p = a^m$