

Modèle CCYC : ©DNE

Nom de famille (naissance) :


(Suivi s'il y a lieu, du nom d'usage)

Prénom(s) :

N° candidat :  N° d'inscription :

(Les numéros figurent sur la convocation.)

Né(e) le :  /  /



1.1

<b>Évaluation</b>
<p><b>CLASSE</b> : Première</p> <p><b>VOIE</b> : <input checked="" type="checkbox"/> Générale <input type="checkbox"/> Technologique <input type="checkbox"/> Toutes voies (LV)</p> <p><b>ENSEIGNEMENT</b> : <b>spécialité Numérique et Sciences Informatiques (NSI)</b></p> <p><b>DURÉE DE L'ÉPREUVE</b> : 02 h 00</p> <p><b>Niveaux visés (LV)</b> : LVA                      LVB</p> <p><b>Axes de programme</b> :</p> <p><b>CALCULATRICE AUTORISÉE</b> : <input type="checkbox"/> Oui <input checked="" type="checkbox"/> Non</p> <p><b>DICTIONNAIRE AUTORISÉ</b> :    <input type="checkbox"/> Oui <input checked="" type="checkbox"/> Non</p> <p><input checked="" type="checkbox"/> Ce sujet contient des parties à rendre par le candidat avec sa copie. De ce fait, il ne peut être dupliqué et doit être imprimé pour chaque candidat afin d'assurer ensuite sa bonne numérisation.</p> <p><input type="checkbox"/> Ce sujet intègre des éléments en couleur. S'il est choisi par l'équipe pédagogique, il est nécessaire que chaque élève dispose d'une impression en couleur.</p> <p><input type="checkbox"/> Ce sujet contient des pièces jointes de type audio ou vidéo qu'il faudra télécharger et jouer le jour de l'épreuve.</p> <p><b>Nombre total de pages</b> : 18</p>

L'épreuve consiste en 42 questions, rangées en 7 thèmes.

Pour chaque question, le candidat gagne 3 points s'il choisit la bonne réponse, perd 1 point s'il choisit une réponse fautive. S'il ne répond pas ou choisit plusieurs réponses, il ne gagne ni ne perd aucun point.

Le total sur chacun des 7 thèmes est ramené à 0 s'il est négatif.

La note finale s'obtient en divisant le total des points par 6,3 et en arrondissant à l'entier supérieur.

**Le candidat indique ses réponses aux questions en pages 3 et 4.**

**Seules les pages 1 à 4 sont rendues par le candidat à la fin de l'épreuve, pour être numérisées.**

Les questions figurent sur les pages suivantes.



Modèle CCYC : ©DNE

Nom de famille (naissance) :

(Suivi s'il y a lieu, du nom d'usage)

Prénom(s) :

N° candidat :

N° d'inscription :



Liberté • Égalité • Fraternité  
RÉPUBLIQUE FRANÇAISE

(Les numéros figurent sur la convocation.)

Né(e) le :

1.1

### Thème A : types de base

- Réponse à la question 1    A     B     C     D   
Réponse à la question 2    A     B     C     D   
Réponse à la question 3    A     B     C     D   
Réponse à la question 4    A     B     C     D   
Réponse à la question 5    A     B     C     D   
Réponse à la question 6    A     B     C     D

### Thème B : types construits

- Réponse à la question 1    A     B     C     D   
Réponse à la question 2    A     B     C     D   
Réponse à la question 3    A     B     C     D   
Réponse à la question 4    A     B     C     D   
Réponse à la question 5    A     B     C     D   
Réponse à la question 6    A     B     C     D

### Thème C : traitement de données en tables

- Réponse à la question 1    A     B     C     D   
Réponse à la question 2    A     B     C     D   
Réponse à la question 3    A     B     C     D   
Réponse à la question 4    A     B     C     D   
Réponse à la question 5    A     B     C     D   
Réponse à la question 6    A     B     C     D

### Thème D : interactions entre l'homme et la machine sur le Web

- Réponse à la question 1    A     B     C     D   
Réponse à la question 2    A     B     C     D   
Réponse à la question 3    A     B     C     D   
Réponse à la question 4    A     B     C     D   
Réponse à la question 5    A     B     C     D   
Réponse à la question 6    A     B     C     D



### **Thème E : architectures matérielles et systèmes d'exploitation**

Réponse à la question 1	A <input type="checkbox"/>	B <input type="checkbox"/>	C <input type="checkbox"/>	D <input type="checkbox"/>
Réponse à la question 2	A <input type="checkbox"/>	B <input type="checkbox"/>	C <input type="checkbox"/>	D <input type="checkbox"/>
Réponse à la question 3	A <input type="checkbox"/>	B <input type="checkbox"/>	C <input type="checkbox"/>	D <input type="checkbox"/>
Réponse à la question 4	A <input type="checkbox"/>	B <input type="checkbox"/>	C <input type="checkbox"/>	D <input type="checkbox"/>
Réponse à la question 5	A <input type="checkbox"/>	B <input type="checkbox"/>	C <input type="checkbox"/>	D <input type="checkbox"/>
Réponse à la question 6	A <input type="checkbox"/>	B <input type="checkbox"/>	C <input type="checkbox"/>	D <input type="checkbox"/>

### **Thème F : langages et programmation**

Réponse à la question 1	A <input type="checkbox"/>	B <input type="checkbox"/>	C <input type="checkbox"/>	D <input type="checkbox"/>
Réponse à la question 2	A <input type="checkbox"/>	B <input type="checkbox"/>	C <input type="checkbox"/>	D <input type="checkbox"/>
Réponse à la question 3	A <input type="checkbox"/>	B <input type="checkbox"/>	C <input type="checkbox"/>	D <input type="checkbox"/>
Réponse à la question 4	A <input type="checkbox"/>	B <input type="checkbox"/>	C <input type="checkbox"/>	D <input type="checkbox"/>
Réponse à la question 5	A <input type="checkbox"/>	B <input type="checkbox"/>	C <input type="checkbox"/>	D <input type="checkbox"/>
Réponse à la question 6	A <input type="checkbox"/>	B <input type="checkbox"/>	C <input type="checkbox"/>	D <input type="checkbox"/>

### **Thème G : algorithmique**

Réponse à la question 1	A <input type="checkbox"/>	B <input type="checkbox"/>	C <input type="checkbox"/>	D <input type="checkbox"/>
Réponse à la question 2	A <input type="checkbox"/>	B <input type="checkbox"/>	C <input type="checkbox"/>	D <input type="checkbox"/>
Réponse à la question 3	A <input type="checkbox"/>	B <input type="checkbox"/>	C <input type="checkbox"/>	D <input type="checkbox"/>
Réponse à la question 4	A <input type="checkbox"/>	B <input type="checkbox"/>	C <input type="checkbox"/>	D <input type="checkbox"/>
Réponse à la question 5	A <input type="checkbox"/>	B <input type="checkbox"/>	C <input type="checkbox"/>	D <input type="checkbox"/>
Réponse à la question 6	A <input type="checkbox"/>	B <input type="checkbox"/>	C <input type="checkbox"/>	D <input type="checkbox"/>

Modèle CCYC : ©DNE

Nom de famille (naissance) :

(Suivi s'il y a lieu, du nom d'usage)

Prénom(s) :

N° candidat :  N° d'inscription :

(Les numéros figurent sur la convocation.)

Né(e) le :  /  /



1.1

## Thème A : types de base

### Question A 1

Quelle est l'écriture hexadécimale de l'entier dont la représentation en binaire non signé est 1100 0011 ?

#### Réponses

- A BB
- B C3
- C CB
- D 7610

### Question A 2

Quel est l'entier dont l'écriture en base 2 est 1100011 ?

#### Réponses

- A 22
- B 40
- C 99
- D 121

### Question A 3

Choisir une expression booléenne pour la variable S qui satisfait la table de vérité suivante.

A	B	S
0	0	1
0	1	0
1	0	1
1	1	1

#### Réponses

- A A ou (non B)
- B (non A) ou B
- C (non A) ou (non B)
- D non (A ou B)

### Question A 4



À quelle affectation sont équivalentes les instructions suivantes, où  $a$ ,  $b$  sont des variables entières et  $c$  une variable booléenne ?

```
if a==b:
    c = True
elif a > b+10:
    c = True
else:
    c = False
```

**Réponses**

- A  $c = (a==b)$  or  $(a > b+10)$
- B  $c = (a==b)$  and  $(a > b+10)$
- C  $c = \text{not}(a==b)$
- D  $c = \text{not}(a > b+10)$

**Question A 5**

Un nombre entier signé est codé en complément à deux sur 8 bits par : 0111 0101.  
Que peut-on dire ?

**Réponses**

- A c'est un nombre positif
- B c'est un nombre négatif
- C c'est un nombre pair
- D 7 bits auraient suffi à représenter cet entier signé en complément à deux

**Question A 6**

Quelle est, en écriture décimale, la somme d'entiers dont l'écriture en base 16 (hexadécimale) est  $2A + 2$  ?

**Réponses**

- A 22
- B 31
- C 49
- D 44

Modèle CCYC : ©DNE

Nom de famille (naissance) :

(Suivi s'il y a lieu, du nom d'usage)

Prénom(s) :

N° candidat :  N° d'inscription :

(Les numéros figurent sur la convocation.)

Né(e) le :  /  /



1.1

## Thème B : types construits

### Question B 1

Le premier élément d'une liste Python L est noté :

#### Réponses

- A L(0)
- B L(1)
- C L[0]
- D L[1]

### Question B 2

Considérons le dictionnaire suivant :

```
resultats = {'Paul':5 , 'Amina':1 , 'Léon' : 9 , 'Benoit':3}
```

Quelle affirmation est correcte ?

#### Réponses

- A resultats['Amina'] vaut 1
- B resultats[1] vaut 'Amina'
- C 'Paul' est une valeur de ce dictionnaire
- D 9 est une clé de ce dictionnaire

### Question B 3

On définit le dictionnaire suivant d = {'A': 3, 'B': 7, 'C': 2}. Quelle expression permet de récupérer la valeur de la clé 'B' ?

#### Réponses

- A d['B']
- B d[1]
- C d[7]
- D d[B]

### Question B 4

On considère la fonction suivante :

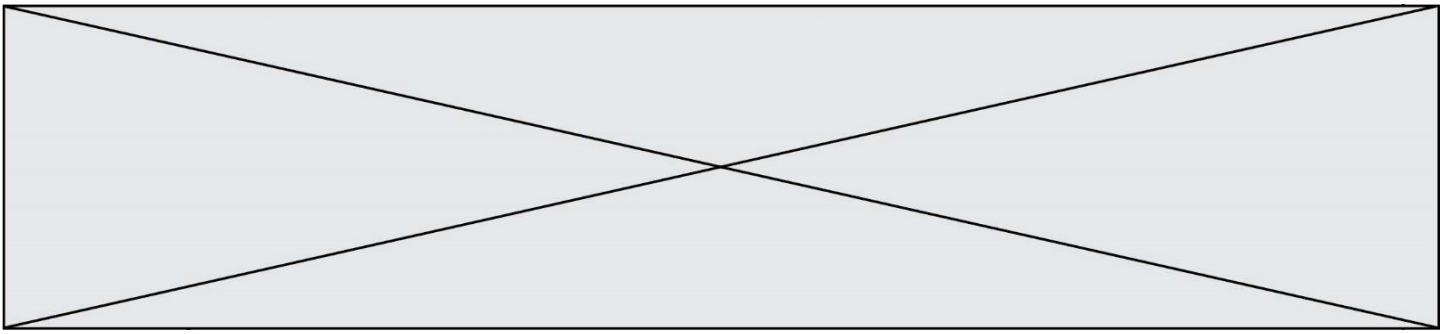
```
def somme(tab):
    s = 0
    for i in range(len(tab)):
        .....
    return s
```

Par quelle instruction faut-il remplacer les points de suspension pour que l'appel somme([10,11,12,13,14]) renvoie 60 ?

#### Réponses

- A s = tab[i]
- B s = s + tab[i]
- C tab[i] = tab[i] + s
- D s = s + i

### Question B 5



On exécute le script suivant :

```
inventaire = {'pommes': 430, 'bananes': 312,
              'oranges' : 274, 'poires' : 137}

stock = 0
for fruit in inventaire.keys():
    if fruit != 'bananes':
        stock = stock + inventaire[fruit]
```

Que contient la variable stock à la fin de cette exécution ?

#### Réponses

- A {430, 274, 137}
- B 312
- C 841
- D { 'pommes', 'oranges', 'poires' }

#### Question B 6

On considère le code suivant :

```
def feed(t):
    for i in range(len(t)):
        t[i] = 0
    return t
```

Que renvoie feed([12, 24, 32]) ?

#### Réponses

- A [120, 240, 320]
- B [0, 0, 0]
- C [ ]
- D [0]



Modèle CCYC : ©DNE

Nom de famille (naissance) :

(Suivi s'il y a lieu, du nom d'usage)

Prénom(s) :

N° candidat :  N° d'inscription :

(Les numéros figurent sur la convocation.)

Né(e) le :  /  /



1.1

## Thème C : traitement de données en tables

### Question C 1

On définit :

```
contacts = { 'Toto': 'toto@nsi.fr', 'Chloé': 'chloe@nsi.com',
            'Paul': 'paul@nsi.net', 'Clémence': 'clemence@nsi.org' }
```

Parmi les propositions suivantes, laquelle est exacte ?

#### Réponses

- A 'Chloé' est une **valeur** de la variable contacts
- B 'Chloé' est une **clé** de la variable contacts
- C 'Chloé' est un **attribut** de la variable contacts
- D 'Chloé' est un **champ** de la variable contacts

### Question C 2

Un fichier CSV ...

#### Réponses

- A ne peut être lu que par un tableur
- B est l'unique format utilisé pour construire une base de données
- C est un fichier texte
- D est un format propriétaire

### Question C 3

Laquelle de ces listes de chaînes de caractères est triée en ordre croissant ?

#### Réponses

- A ["112", "19", "27", "45", "8"]
- B ["8", "19", "27", "45", "112"]
- C ["8", "112", "19", "27", "45"]
- D ["19", "112", "27", "45", "8"]

### Question C 4

On définit :

```
stock = [ {'nom': 'flageolets', 'quantité': 50, 'prix': 5.68},
          {'nom': 'caviar', 'quantité': 0, 'prix': 99.99},
          .....
          .....
          {'nom': 'biscuits', 'quantité': 100, 'prix': 7.71} ]
```

Quelle expression permet d'obtenir la liste des noms des produits effectivement présents dans le stock (c'est-à-dire ceux dont la quantité n'est pas nulle) ?

#### Réponses

- A ['nom' for p in stock if 'quantité' != 0]
- B [p for p in stock if p['quantité'] != 0]
- C [p['nom'] for p in stock if 'quantité' != 0]
- D [p['nom'] for p in stock if p['quantité'] != 0]



### Question C 5

Dans la plupart des fichiers CSV, que contient la première ligne ?

#### Réponses

- A des notes concernant la table de données
- B les sources des données
- C les descripteurs des champs de la table de données
- D l'auteur de la table de données

### Question C 6

On exécute le code suivant :

```
table = [ ['lovelace', 'ada', 1815, 1852],  
          ['von neumann', 'john', 1903, 1957],  
          ['turing', 'alan', 1912, 1954],  
          ['mccarthy', 'john', 1927, 2011],  
          ['floyd', 'robert', 1936, 2001] ]
```

```
def age(personnage):  
    return personnage[3] - personnage[2]
```

```
table.sort(key=age, reverse=True)
```

Quelle est la première ligne de la table `table` à la suite de cette exécution ?

#### Réponses

- A ['lovelace', 'ada', 1815, 1852]
- B ['mccarthy', 'john', 1927, 2011]
- C ['turing', 'alan', 1912, 1954]
- D ['mccarthy', 'floyd', 'von neumann', 'turing', 'lovelace']

Modèle CCYC : ©DNE

Nom de famille (naissance) :


(Suivi s'il y a lieu, du nom d'usage)

Prénom(s) :

N° candidat :  N° d'inscription :

(Les numéros figurent sur la convocation.)

Né(e) le :  /  /



1.1

## Thème D : interactions entre l'homme et la machine sur le Web

### Question D 1

Quel est le code HTML correct pour créer un hyperlien vers le site Eduscol ?

#### Réponses

- A `<a url="https://www.eduscol.education.fr/"> site Eduscol </a>`
- B `<a name="https://www.eduscol.education.fr/"> site Eduscol </a>`
- C `<a href="https://www.eduscol.education.fr/"> site Eduscol </a>`
- D `<a> https://www.eduscol.education.fr/ </a> site Eduscol`

### Question D 2

Une page Web contient un formulaire dont le code HTML est le suivant :

```
<form action="/action_page.php" method="post">
  First name : <input type="text" name = "fname"><br>
  Last name : <input type="text" name = "lname"><br>
  <input type="submit" value="Submit">
</form>
```

Que peut-on dire des informations transmises dans ce formulaire ?

#### Réponses

- A elles seront enregistrées dans l'historique du navigateur
- B elles seront enregistrées dans le cache du navigateur
- C elles ne devront pas dépasser une limite en nombre de caractères transmis
- D elles ne seront pas visibles dans la barre du navigateur

### Question D 3

Quelle est la fonction principale d'un fichier CSS ?

#### Réponses

- A Définir le style d'une page web
- B Assurer l'interaction entre une page web et l'utilisateur
- C Créer une page web dynamique
- D Créer un bouton dans une page web

### Question D 4

Dans une page HTML, que permet la balise `<form action="http://mon_site.fr" method="POST"> ?`

#### Réponses

- A d'envoyer des données à l'URL `http://mon_site.fr` sans les ajouter au corps de la requête HTTP
- B d'envoyer des données à l'URL `http://mon_site.fr` et de les ajouter au corps de la requête HTTP mais pas à l'URL
- C de télécharger un formulaire depuis l'URL `http://mon_site.fr`
- D de récupérer des données depuis l'URL `http://mon_site.fr`

### Question D 5



Lors de la consultation d'une page HTML contenant un bouton auquel est associée la fonction suivante, que se passe-t-il quand on clique sur ce bouton ?

```
function action(event) {  
    this.style.color = "blue"  
}
```

**Réponses**

- A le texte de la page passe en bleu
- B le texte du bouton passe en bleu
- C le texte du bouton est changé et affiche maintenant le mot "bleu"
- D le pointeur de la souris devient bleu quand il arrive sur le bouton

**Question D 6**

Compléter le script ci-dessous :

```
<!DOCTYPE html>  
<html>  
    <head>  
        <.....>Ma page HTML</.....>  
    </head>  
</html>
```

**Réponses**

- A href
- B title
- C html
- D aucune des propositions précédentes

Modèle CCYC : ©DNE

Nom de famille (naissance) :

(Suivi s'il y a lieu, du nom d'usage)

Prénom(s) :

N° candidat :  N° d'inscription :

(Les numéros figurent sur la convocation.)

Né(e) le :  /  /



1.1

## Thème E : architectures matérielles et systèmes d'exploitation

### Question E 1

Quelle est la commande qui permet d'afficher le répertoire courant dans le shell GNU/Linux ?

#### Réponses

- A mkdir
- B pwd
- C cd
- D ls -l

### Question E 2

Lorsqu'un utilisateur lance une application, le système d'exploitation va l'ouvrir dans :

#### Réponses

- A un espace disponible du disque SSD
- B un espace disponible du disque HDD
- C un espace disponible de la RAM
- D un espace disponible de la ROM

### Question E 3

Parmi les dispositifs d'entrée et de sortie suivants, lequel est uniquement un capteur ?

#### Réponses

- A la diode
- B l'écran tactile
- C le thermomètre
- D le moteur pas à pas

### Question E 4

Dans un terminal, on exécute la suite de commandes système suivante :

```
cd ~
cd seances/tp
mv exercice.txt ../../../../exercice.txt
```

Où se trouve finalement placé le fichier exercice.txt ?

#### Réponses

- A dans le répertoire ~/seance/tp
- B dans le répertoire ~/seance
- C dans le répertoire ~
- D dans le répertoire /home

### Question E 5

Quel protocole permet d'attribuer dynamiquement une adresse IP ?

#### Réponses

- A UDP
- B HTTP
- C DHCP
- D DNS



**Question E 6**

Que peut-on dire du système de fichiers, suite à l'exécution des commandes suivantes ?

```
% ls
entier.py flottant.py readme.md
% mkdir foo
% mv *.py foo
```

**Réponses**

- A les fichiers `entier.py`, `flottant.py`, et `foo` ont été déplacés dans le répertoire de l'utilisateur
- B l'utilisateur `foo` est propriétaire des fichiers `entier.py` et `flottant.py`
- C le répertoire `foo` contient le résultat de l'exécution des deux fichiers `entier.py` et `flottant.py`
- D le répertoire `foo` contient deux fichiers d'extension `.py`





On exécute le script Python suivant :

```
def cube(a):  
    a = a*a*a  
    return a  
a = 2  
b = cube(a)
```

Que vaut le couple (a,b) à la fin de l'exécution ?

**Réponses**

- A (8, 8)
- B (8, 2)
- C (2, 2)
- D (2, 8)

**Question F 5**

Combien de fois l'instruction  $x = x+2$  va-t-elle être exécutée dans le script suivant ?

```
x = 2  
while x < 10:  
    x = x + 2
```

**Réponses**

- A 1 fois
- B 4 fois
- C 5 fois
- D 6 fois

**Question F 6**

On définit la fonction f suivante qui prend en argument une liste t d'entiers :

```
def f(t):  
    n = len(t)  
    for i in range(n-1):  
        for j in range(i+1,n):  
            if t[i] == t[j]:  
                return True  
    return False
```

Pour quelle valeur de t, f(t) vaut-elle True ?


**Réponses**

- A [[2,3], [3,4], [4,5], [2,3]]
- B [[2,2], [3,4], [4,5], [2,3]]
- C [[2,3], [3,2], [4,5], [5,4]]
- D [[3,3], [4,4], [5,5], [6,6]]



Modèle CCYC : ©DNE			
Nom de famille (naissance) : <small>(Suivi s'il y a lieu, du nom d'usage)</small>	<input type="text"/>		
Prénom(s) :	<input type="text"/>		
N° candidat :	<input type="text"/>	N° d'inscription :	<input type="text"/>
	(Les numéros figurent sur la convocation.)		
Né(e) le :	<input type="text"/>	<input type="text"/>	<input type="text"/>

1.1



Liberté • Égalité • Fraternité  
RÉPUBLIQUE FRANÇAISE

## Thème G : algorithmique

### Question G 1

Avec un algorithme de recherche par dichotomie, combien d'étapes sont nécessaires pour déterminer que 35 est présent dans le tableau [1, 7, 12, 16, 18, 20, 24, 28, 35, 43, 69] ?

#### Réponses

- A 1 étape
- B 2 étapes
- C 9 étapes
- D 11 étapes

### Question G 2

On exécute le script suivant :

```
liste = [17, 12, 5, 18, 2, 7, 9, 15, 14, 20]
somme = 0
i = 0
while i < len(liste):
    somme = somme + liste[i]
    i = i + 1
resultat = somme / len(liste)
```

Quelle affirmation est **fausse** parmi les suivantes ?

#### Réponses

- A le corps de la boucle a été exécuté 10 fois
- B à la fin de l'exécution la valeur de *i* est 9
- C resultat contient la moyenne des éléments de liste
- D len est une fonction

### Question G 3

Quel code parmi les quatre proposés ci-dessous s'exécute-t-il en un temps linéaire en  $n$  (c'est-à-dire avec un temps d'exécution majoré par  $A \times n + B$  où  $A$  et  $B$  sont deux constantes) ?

#### Réponses

- A 

```
for i in range(n//2):
    for j in range(i+1,n):
        print('hello')
```
- B 

```
for i in range(n):
    print('hello')
```
- C 

```
L = [ i+j for i in range(n) for j in range(n) ]
for x in L:
    print('hello')
```
- D 

```
for i in range(n//2):
    for j in range(n//2):
        print('hello')
```

### Question G 4



On dispose d'une fonction moyenne qui calcule la moyenne d'une liste de nombres et on écrit la fonction suivante :

```
def centrage(L, a):  
    for i in range(0, len(L)):  
        L[i] = L[i] - a  
    return L
```

Pour la liste L1 = [5, 3, 1], quelle est la valeur de centrage(L1, moyenne(L1)) ?

**Réponses**

- A [5.0, 3.0, 1.0]
- B [3.0, 3.0, 3.0]
- C [2.0, 0.0, -2.0]
- D [2.0, 1.0, -0.3333333]

**Question G 5**

Quelle est la complexité du tri par sélection ?

**Réponses**

- A inconnue
- B linéaire
- C quadratique
- D exponentielle

**Question G 6**

La fonction ci-dessous compte le nombre d'occurrences d'un élément x dans une liste L :

```
def compteur(L, x):  
    n = 0  
    for item in L:  
        if item == x:  
            n = n + 1  
    return n
```

Comment évolue le temps d'exécution d'un appel de cette fonction si on prend comme argument une liste deux fois plus grande ?

**Réponses**

- A c'est le même temps d'exécution
- B le temps d'exécution est à peu près doublé
- C le temps d'exécution est à peu près quadruplé
- D impossible de le prévoir, cela dépend aussi de l'argument x