

Modèle CCYC : ©DNE

Nom de famille (naissance) :


(Suivi s'il y a lieu, du nom d'usage)

Prénom(s) :

N° candidat : N° d'inscription :

(Les numéros figurent sur la convocation.)

Né(e) le : / /



1.1

ÉVALUATION

CLASSE : Première

VOIE : Générale Technologique Toutes voies (LV)

ENSEIGNEMENT : Enseignement scientifique
sans enseignement de mathématiques spécifique

DURÉE DE L'ÉPREUVE : 2 h

Niveaux visés (LV) : ∅

Axes de programme : ∅

CALCULATRICE AUTORISÉE : Oui Non

DICTIONNAIRE AUTORISÉ : Oui Non

Ce sujet contient des parties à rendre par le candidat avec sa copie. De ce fait, il ne peut être dupliqué et doit être imprimé pour chaque candidat afin d'assurer ensuite sa bonne numérisation.

Ce sujet intègre des éléments en couleur. S'il est choisi par l'équipe pédagogique, il est nécessaire que chaque élève dispose d'une impression en couleur.

Ce sujet contient des pièces jointes de type audio ou vidéo qu'il faudra télécharger et jouer le jour de l'épreuve.

Nombre total de pages : 13

Le candidat traite seulement deux exercices, de son choix,
parmi les trois qui sont proposés dans ce sujet.

Il indique son choix en début de copie.



Exercice 1 – Niveau première

Thème « Une longue histoire de la matière »

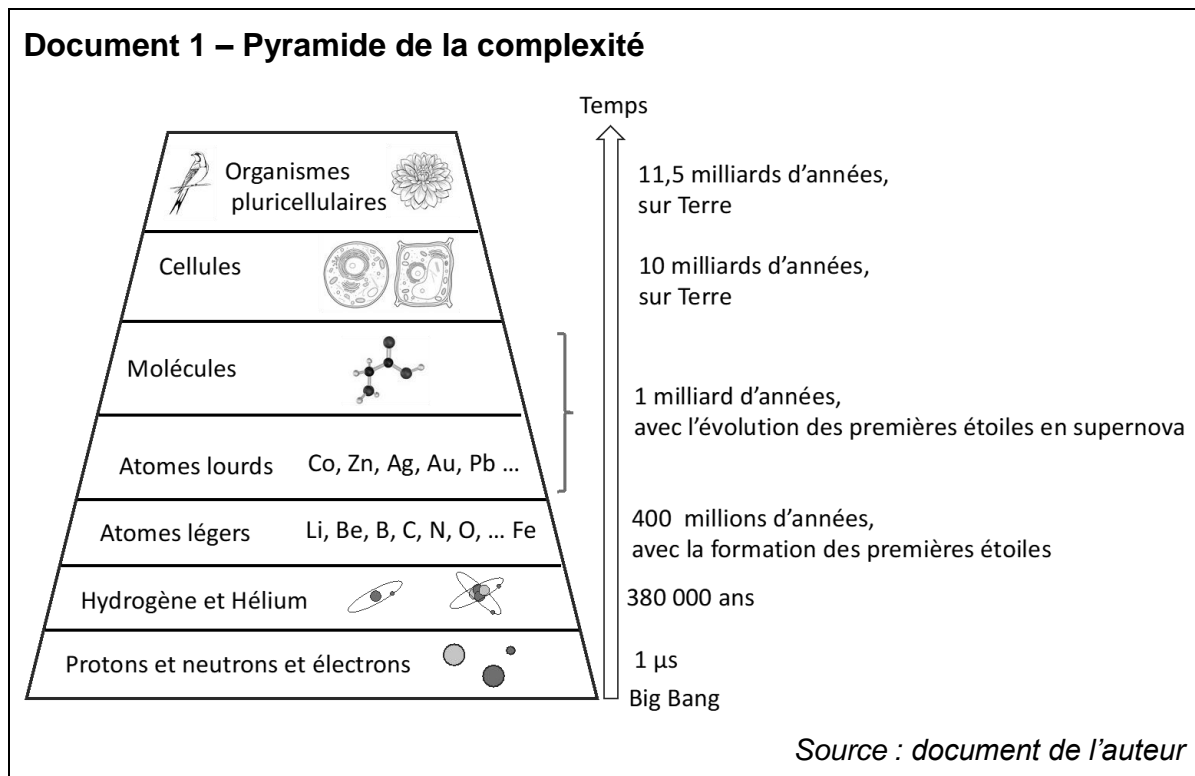
L'or et son extraction

Sur 10 points

L'or est un métal qui fascine l'homme depuis toujours : après avoir servi pendant des siècles à l'apparat, facilement travaillé grâce à sa ductilité*, ses propriétés pour la conduction de l'électricité en font actuellement un matériau de choix dans l'électronique.

* Ductilité : capacité d'un matériau à se déformer sans se rompre.

Partie 1 – Origine de l'or



- 1- Estimer la date à laquelle les premiers atomes d'or (Au) se sont formés et l'évènement associé.

Modèle CCYC : ©DNE

Nom de famille (naissance) :

(Suivi s'il y a lieu, du nom d'usage)

Prénom(s) :

N° candidat : N° d'inscription :

(Les numéros figurent sur la convocation.)

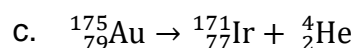
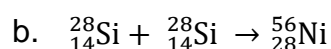
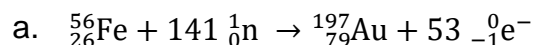
Né(e) le : / /



1.1

L'un des mécanismes de formation des noyaux d'or est une succession de réactions nucléaires à partir de noyaux de fer.

2- Associer à chacune des réactions suivantes l'un des termes parmi : fusion nucléaire, fission nucléaire, bilan de la formation des noyaux d'or.




La connaissance de la structure du noyau atomique de l'or ne suffit cependant pas pour expliquer les propriétés du matériau. Il faut alors étudier sa structure cristalline.

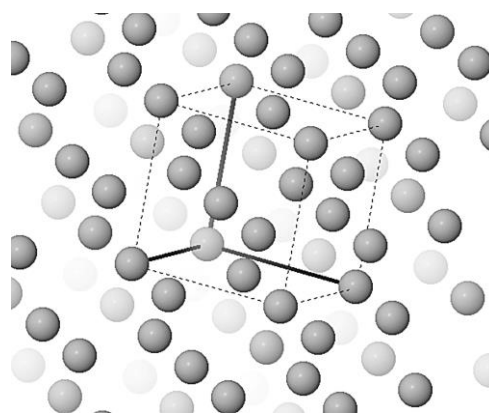
Partie 2 – Le cristal d'or

Document 2 – Représentations en trois dimensions de plusieurs mailles d'un cristal d'or

Chaque sphère ci-dessous représente un atome d'or ($Z = 79$). Une maille est mise en évidence sur la représentation 2.



Représentation 1



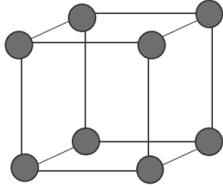
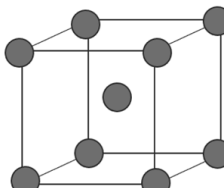
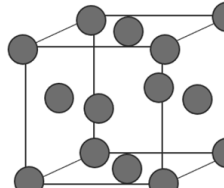
Représentation 2

Source : logiciel MinUSc

3- En vous appuyant sur vos connaissances, justifier que l'échantillon d'or soit qualifié de cristal.



Document 3 – Différents types de structures cristallines

Cubique simple	Cubique centré	Cubique à faces centrées
		

- 4- Déterminer le type de structure cristalline de l'échantillon considéré. Justifier votre réponse.

La découverte d'or est devenue synonyme de richesse facile et les épisodes de ruées vers l'or du 19^e siècle en sont témoins. L'extraction minière de l'or se fait alors souvent au détriment de l'environnement et de la santé des populations vivant sur place.

Partie 3 – L'extraction de l'or et son impact sur l'environnement

La cyanuration est une technique d'extraction de l'or grâce à une solution de sels de cyanure (cyanure de potassium KCN, cyanure de sodium NaCN ou cyanure de calcium $\text{Ca}(\text{CN})_2$) et de dioxygène dissout.

Document 4 – Un déversement accidentel de fluides cyanurés en 2000 en Australie

Le Département des Ressources Naturelles, des Mines et de l'Énergie du Queensland a fait état d'un accident dans une usine de traitement de l'or, lié à la défaillance d'une cuve d'extraction de l'or par cyanuration de 200 m³.

Un débordement d'environ 50 m³ d'une solution comptant 70 µg/L de cyanures libres s'est produit.

La CL50 ou « concentration létale à 50 % » désigne la concentration d'un produit chimique dans l'air ou dans l'eau qui cause la mort de 50 % des animaux, lors d'une durée d'exposition de 4 heures. Le tableau suivant présente la CL50 de plusieurs types de dérivés cyanurés pour les poissons et leur toxicité.

Modèle CCYC : ©DNE

Nom de famille (naissance) :

(Suivi s'il y a lieu, du nom d'usage)

Prénom(s) :

N° candidat :

N° d'inscription :



Né(e) le : / /

(Les numéros figurent sur la convocation.)

1.1

Catégorie	Dérivés cyanurés	Toxicité	CL50 en mg/L
Cyanures libres	CN ⁻	forte	≈ 0,1
	HCN	forte	de 0,05 à 0,18
	KCN(s), Ca(CN) ₂ (s)	forte	de 0,03 à 0,70
	NaCN.2H ₂ O(s)	forte	de 0,40 à 0,70

Sources : d'après Australian Government, 2010
et Note d'Analyse Association SystExt, Avril 2021

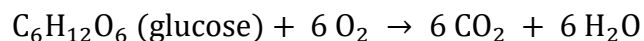
- 5- Comparer la concentration en cyanures du déversement australien avec les CL50 de référence pour déterminer la gravité de cet accident sur la faune aquatique.

Pour comprendre l'effet du cyanure sur les organismes aquatiques, on étudie sa toxicité sur la respiration cellulaire. On utilise pour cela la levure, organisme unicellulaire réalisant la respiration et facile à cultiver en milieu aquatique.

Document 5 – Dispositif expérimental pour étudier la respiration des levures

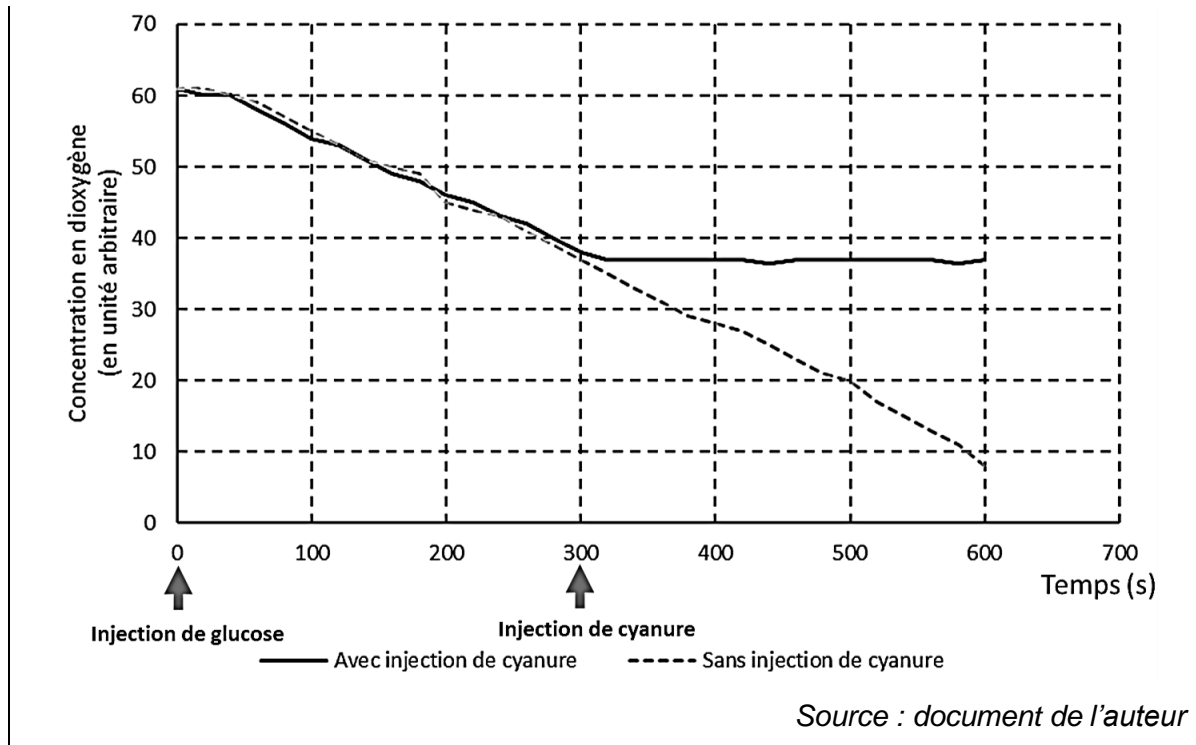
La respiration cellulaire permet aux levures de produire l'énergie dont elles ont besoin pour vivre, à partir du glucose et du dioxygène prélevé dans leur environnement.

L'équation de la respiration cellulaire est :



Il est possible de mesurer au cours du temps les concentrations en dioxygène et en dioxyde de carbone dans un milieu de culture contenant des levures et de l'eau. L'injection d'une solution choisie par l'expérimentateur peut être réalisée dans le milieu de culture.

Le graphique suivant montre la concentration en dioxygène en fonction du temps dans une suspension de levures.



- 6- Expliquer pourquoi le protocole ci-dessous ne permettrait pas de mettre en évidence l'effet du cyanure sur la respiration cellulaire des levures. Justifier votre réponse.

Protocole :

On réalise un enregistrement avec uniquement une injection de cyanure au bout de 300 secondes.

- 7- Exploiter les résultats du document 5 pour conclure sur la toxicité du cyanure sur les êtres vivants aquatiques.

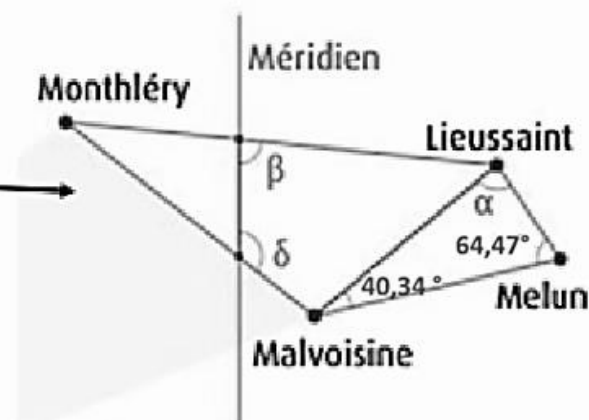


Document 2 – La mesure de la distance Dunkerque-Barcelone par Delambre et Méchain

On peut effectuer une triangulation à partir de la connaissance de la longueur d'une première base de 6075,90 toises¹ entre Melun et Lieussaint, deux villes situées en Seine-et-Marne (77). Ainsi, à partir des extrémités de cette base, Jean-Baptiste Delambre vise Malvoisine. De la mesure des angles, il déduit la distance Lieussaint-Malvoisine et celle-ci constitue la base d'un nouveau triangle dont le sommet sera Monthléry. Une chaîne de triangles successifs juxtaposés est ainsi formée le long de la méridienne. L'arc de méridien Dunkerque-Barcelone a pour longueur un quarantième de méridien terrestre.

1 : Toise : unité de longueur ancienne, correspondant à six pieds : 1 toise = 1,949 m

Source : D'après « Un voyage... de Dunkerque à Barcelone », www.clea-astro.eu

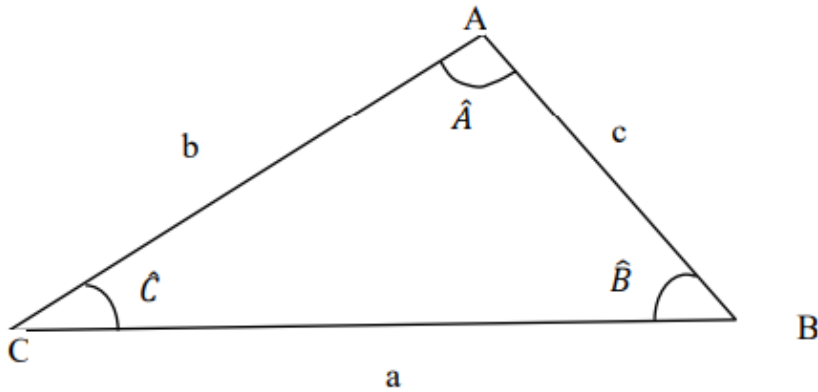


Source : Ken Alder 2005 et IGN

**Document 3 – Loi des sinus**

La méthode de triangulation est fondée sur la loi des sinus, formule de trigonométrie dans un triangle quelconque, qui s'énonce de la façon suivante pour un triangle ABC :

$$\frac{a}{\sin \hat{A}} = \frac{b}{\sin \hat{B}} = \frac{c}{\sin \hat{C}}$$



- 1- Montrer que l'angle alpha, qui se réfère à l'angle entre la base Melun-Lieussaint et la ligne de visée vers Malvoisine, du document 2, est égal à $75,19^\circ$.
- 2- En écrivant la loi des sinus du document appliquée au triangle représenté dans document 3, déterminer la distance Melun-Malvoisine en kilomètre. Arrondir le résultat à 10^{-1} près.
- 3- Aujourd'hui on sait que la distance entre ces deux villes est égale à $d = 18,2$ km. L'incertitude sur la mesure admise est égale à $1,0$ km, conclure sur la précision de la mesure de l'époque.
- 4- En appliquant la méthode de triangulation, Jean-Baptiste Delambre a obtenu une longueur de $1\,000$ km pour l'arc méridien Dunkerque Barcelone. En déduire à partir document 2 la longueur L du méridien terrestre (circonférence de la Terre).
- 5- Indiquer si le résultat est cohérent avec la définition du mètre du document 1.
- 6- À partir de la longueur L du méridien, estimer le rayon de la Terre en mètres.



Exercice 3 – Niveau première

Thème « Son, musique et audition »

Prévenir et traiter la perte auditive

Sur 10 points

« L’OMS estime que d’ici 2050, près de 2,5 milliards de personnes vivront avec un certain degré de perte auditive, dont au moins 700 millions auront besoin de services de réadaptation. L’inaction sera coûteuse en termes de santé et de bien-être des personnes touchées, outre les pertes financières découlant de leur exclusion de la communication, de l’éducation et de l’emploi. [...] investir des efforts et des ressources pour prévenir et traiter la perte auditive est justifié. »

Extrait du Rapport mondial sur l’audition de l’OMS, 2021

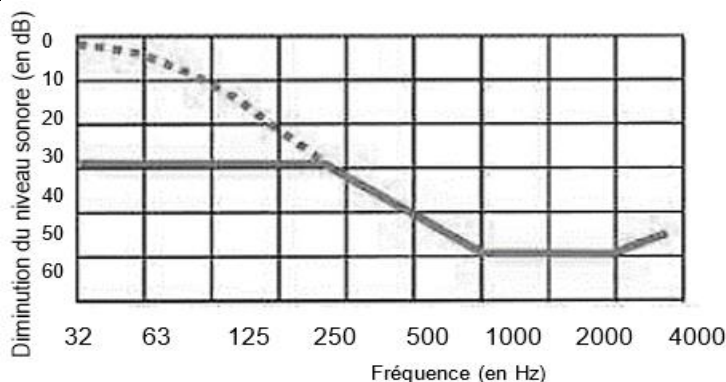
On cherche à comprendre comment les progrès de la science permettent de protéger l’audition, de la maintenir voire de la restaurer.

Document 1 – Des bouchons d’oreilles pour protéger l’audition

Le niveau d’intensité sonore L s’exprime en décibel et se calcule par la relation : $L = 10 \log\left(\frac{I}{I_0}\right)$ avec L le niveau d’intensité sonore (en dB), I l’intensité sonore (en $W.m^{-2}$) et I_0 l’intensité sonore minimale $I_0 = 1,0 \times 10^{-12} W.m^{-2}$.

L’audition est protégée pour des intensités sonores inférieures ou égales à 85 dB. Au-delà de 85 décibels, il est recommandé d’utiliser des bouchons d’oreilles.

Le graphique ci-après montre l’effet du port de bouchons d’oreilles.



Pointillés : bouchons d’oreilles mal insérés
Trait continu : bouchons d’oreilles bien insérés

Source : d’après <https://bruit.fr>

Modèle CCYC : ©DNE

Nom de famille (naissance) :

(Suivi s'il y a lieu, du nom d'usage)

Prénom(s) :

N° candidat :

N° d'inscription :



Né(e) le :

(Les numéros figurent sur la convocation.)

1.1

Document 2 – Quelques exemples d'aides auditives

Le cornet acoustique, l'appareil auditif et l'implant cochléaire sont des aides auditives qui permettent de pallier certains dysfonctionnements de l'oreille empêchant d'entendre les sons.

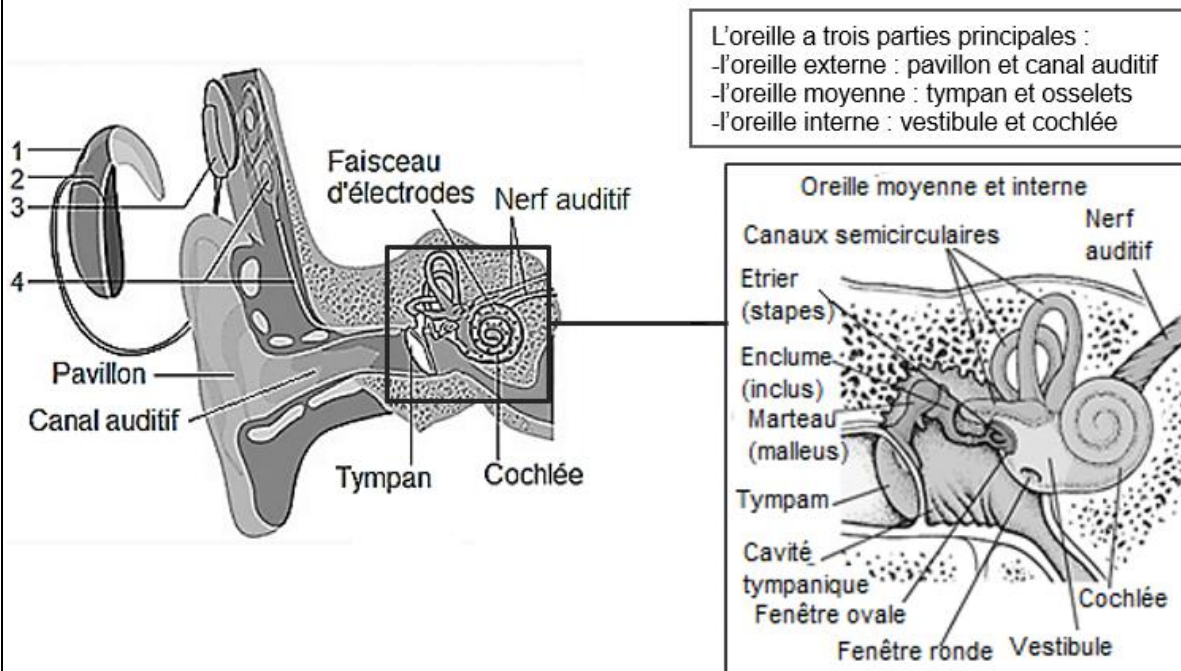
Aides auditives	Photo	Type	Principe de fonctionnement
Le cornet acoustique		Mobile	Fait parvenir l'intégralité des ondes sonores à l'oreille pour augmenter l'intensité du son reçu.
L'appareil auditif		Mobile	Capte les ondes sonores et les amplifie dans le canal auditif au moyen d'un petit circuit électrique.
L'implant cochléaire		Fixe	La partie externe de l'implant capte les ondes sonores et les transmet sous forme d'impulsions électriques directement au nerf auditif par l'intermédiaire d'électrodes implantées dans la cochlée.

Source : d'après www.futura-sciences.com et www.chu-poitiers.fr et www.blog-audioprothesiste.fr



Document 3 – Anatomie de l'oreille et détail du fonctionnement de l'implant cochléaire

L'implant cochléaire est une aide auditive interne et externe. L'élément interne est constitué d'un stimulateur électronique et d'un faisceau d'électrodes. Le stimulateur est placé sous la peau et le faisceau est inséré dans la cochlée au cours d'une intervention chirurgicale.



La partie externe est composée d'un microphone, d'un processeur vocal et d'une antenne. Cette partie est posée sur l'oreille et le cuir chevelu.

1. Les sons sont captés par un microphone et transmis au processeur vocal.
2. Le processeur vocal convertit les sons en un code.
3. L'antenne envoie le code au récepteur sous forme d'ondes radioélectriques.
4. Le récepteur décode les ondes reçues et envoie des impulsions électriques au faisceau d'électrodes implanté dans la cochlée.
5. Les électrodes stimulent directement le nerf auditif.

Source : d'après www.msmanuals.com et www.curic.ch

Modèle CCYC : ©DNE

Nom de famille (naissance) :


(Suivi s'il y a lieu, du nom d'usage)

Prénom(s) :

N° candidat : N° d'inscription :

(Les numéros figurent sur la convocation.)

Né(e) le : / /



1.1

Partie 1 – Protéger son audition

- 1- Sachant qu'un spectateur situé à 5 m de la piste est soumis à un niveau d'intensité sonore $L = 120$ dB, indiquer, parmi les propositions suivantes, à quelle distance doit se trouver le spectateur pour n'être soumis qu'à une intensité sonore $L' = 105$ dB. Justifier (on n'attend aucun calcul).

Proposition 1 : à 1 m

Proposition 2 : à 30 m

Proposition 3 : la distance n'a pas d'importance

- 2- Les organisateurs de la compétition recommandent aux spectateurs de ne pas se tenir trop près des pistes, de porter des bouchons d'oreilles bien insérés et de faire des pauses auditives régulières. Justifier ces différents conseils.

Partie 2 – Restaurer l'audition

- 3- Les aides auditives évoquées dans le document 2 permettent de corriger le dysfonctionnement d'une partie de l'oreille (externe, moyenne ou interne). Nommer en justifiant la partie dysfonctionnelle de l'oreille concernée par chacune des aides auditives.
- 4- À partir des connaissances et des documents, expliquer comment l'évolution de la connaissance de l'audition a permis de mettre au point l'implant cochléaire.