





## Exercice 1 – Niveau première

Thème « Une longue histoire de la matière »

### L'or : exploitation et conséquences sanitaires

Sur 10 points

L'objectif de cet exercice est d'étudier la structure cristalline de l'or puis de comprendre en quoi l'exploitation de l'or peut favoriser le développement de troubles neurologiques dans les populations humaines.

#### Partie 1 – La structure d'un minerai aurifère

La région d'Ontario au Canada présente de nombreuses mines et notamment des mines d'or, dont la mine Red Lake. C'est de cette mine qu'a été extrait le minerai ci-dessous. Ce minerai est un basalte tholéiitique métamorphisé, dans lequel sont inclus du quartz et de l'or.

D'après [https://en.wikipedia.org/wiki/Red\\_Lake\\_Mine](https://en.wikipedia.org/wiki/Red_Lake_Mine)

**Document 1 – Morceau de minerai extrait dans la mine Red Lake (6,6 cm pour son diamètre le plus large) et modélisation de sa composition**

Sources : d'après Wikipedia.org, Libmol.org et <http://www.macromicrophoto.fr/petrography>





## Partie 2 – Conséquences sanitaires de l'exploitation d'or

L'extraction de l'or nécessite d'utiliser de grandes quantités de cyanure et de mercure. Chez les adultes, les effets d'une exposition importante au mercure se remarquent par des symptômes affectant le système nerveux : des tremblements et des pertes de capacités sensorielles, avec notamment la perte de coordination entre les cellules musculaires et nerveuses, des troubles de la mémoire, et des déficiences intellectuelles. Le mercure est considéré par l'Organisation Mondiale de la Santé (OMS) comme l'un des dix produits chimiques ou groupes de produits chimiques extrêmement préoccupants pour la santé publique.

### Document 3 – Les effets du méthylmercure sur les êtres vivants

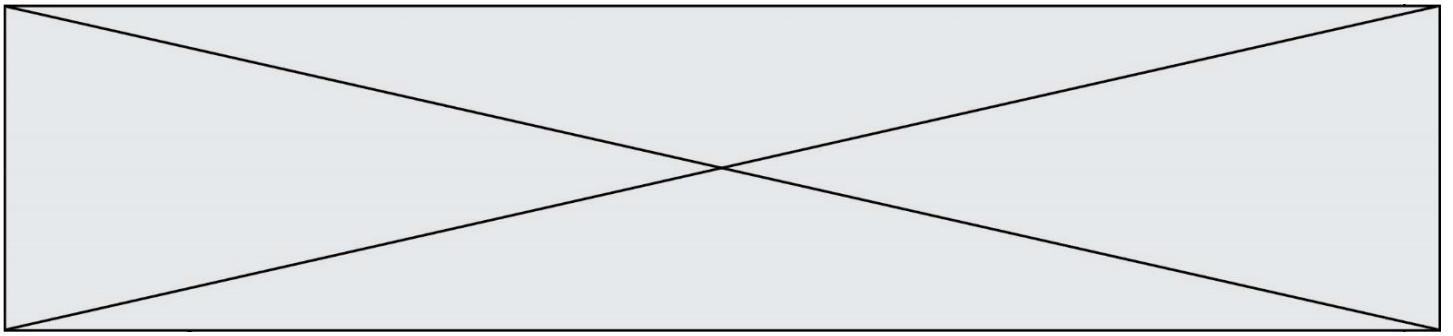
Le cyanure et le mercure, utilisés sans précaution pour l'extraction de l'or, contaminent les sols et les nappes phréatiques à jamais. Même après la fermeture des mines, les gravats traités au cyanure génèrent pendant des décennies des acides sulfuriques toxiques.

Le mercure peut se transformer dans l'environnement en méthylmercure. Ce méthylmercure tend à s'accumuler dans les eaux et dans les espèces aquatiques. [...]

Le méthylmercure a la capacité de provoquer une réaction chimique dégradant les [molécules de] phospholipides qui constituent la membrane plasmique. Le méthylmercure peut pénétrer dans la cellule à travers ces membranes et peut se fixer sur certains organites notamment les mitochondries, et sur des protéines cytoplasmiques, dont le fonctionnement est alors altéré. Les cellules nerveuses sont particulièrement touchées.

*Source : D'après Segall H.J., Wood J.M.(1974). Reaction of methyl mercury with plasmalogens suggests a mechanism for neurotoxicity of metal-alkyls. Nature, 248 : 456-8*





**4-** À partir de l'exploitation des documents et de vos connaissances :

**4-a-** Sur votre copie, indiquer dans la liste ci-dessous le ou les éléments des différentes échelles de l'organisme qui sont altérées par le méthylmercure. Justifier.

- a. atome
- b. molécule
- c. organite
- d. cellule
- e. organisme

**4-b-** Rappeler le rôle de la membrane plasmique dans le fonctionnement cellulaire normal, puis expliquer comment le méthylmercure le modifie et provoque les symptômes nerveux présentés par les individus fortement exposés au mercure. Une réponse argumentée structurée est attendue. Elle ne doit pas excéder une page.

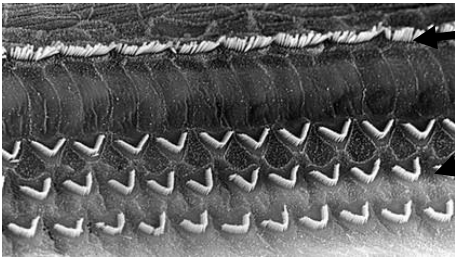
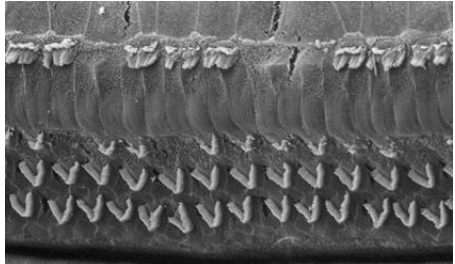

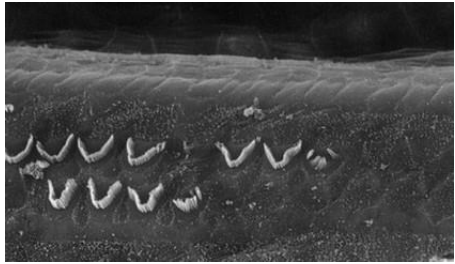




**Document 2 – Vues de surface d'une cochlée de rat en microscopie électronique à balayage**

Les images sont présentées à des grossissements légèrement différents.

Échelle : la distance d'écartement des cils des cellules ciliées externes est de 7  $\mu\text{m}$ .

<p style="text-align: center;">Cochlée normale</p>  <p>Cellules ciliées internes</p> <p>Cellules ciliées externes (en forme de V)</p>	<p style="text-align: center;">Cochlée après un traumatisme sonore de niveau 1</p> 
<p style="text-align: center;">Cochlée après un traumatisme sonore de niveau 2</p> 	<p style="text-align: center;">Cochlée après un traumatisme sonore de niveau 3</p> 
<p style="text-align: center;">Source : <a href="http://www.cochlea.eu/pathologie/surdites-neuro-sensorielles/traumatisme-acoustique">http://www.cochlea.eu/pathologie/surdites-neuro-sensorielles/traumatisme-acoustique</a></p>	

- 1- À partir de l'étude des documents 1 et 2 et de vos connaissances, expliquer l'origine de la surdité acquise après une sur-stimulation sonore.







3- En utilisant le document 3, indiquer si un bouchon en mousse atténue davantage les sons aigus ou les sons graves. Justifier.

Afin de comparer la qualité acoustique des deux types de bouchons, on a enregistré le son émis par une guitare, ainsi que les sons obtenus après passage à travers les deux types de bouchons. Le document 4 présente les résultats obtenus.

#### Document 4 – Spectres du son émis par une guitare et des sons restitués après passage à travers les deux types de bouchons

L'amplitude relative est le rapport entre une amplitude et une amplitude de référence, ici celle de la fréquence fondamentale.

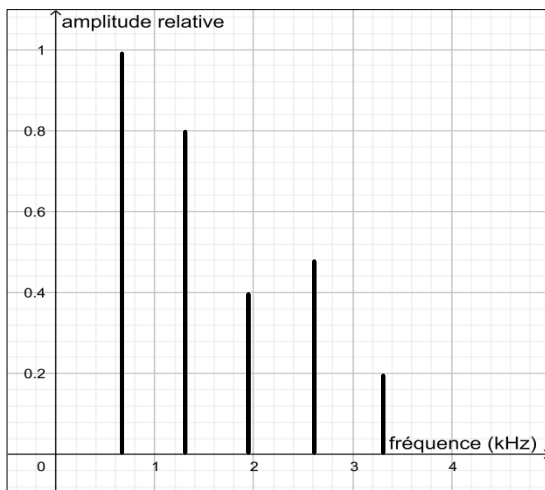


Figure 1 - Spectre correspondant au mi4 joué par la guitare

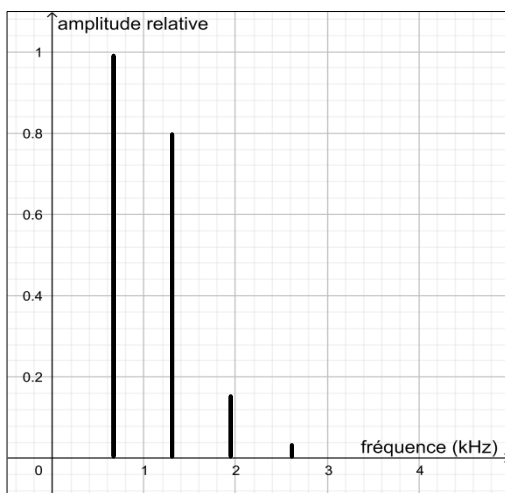


Figure 2 - Spectre du mi4 restitué après passage par un bouchon en mousse





## Exercice 3 – Niveau première

Thème « La Terre, un astre singulier »

### Histoire de l'âge de la Terre

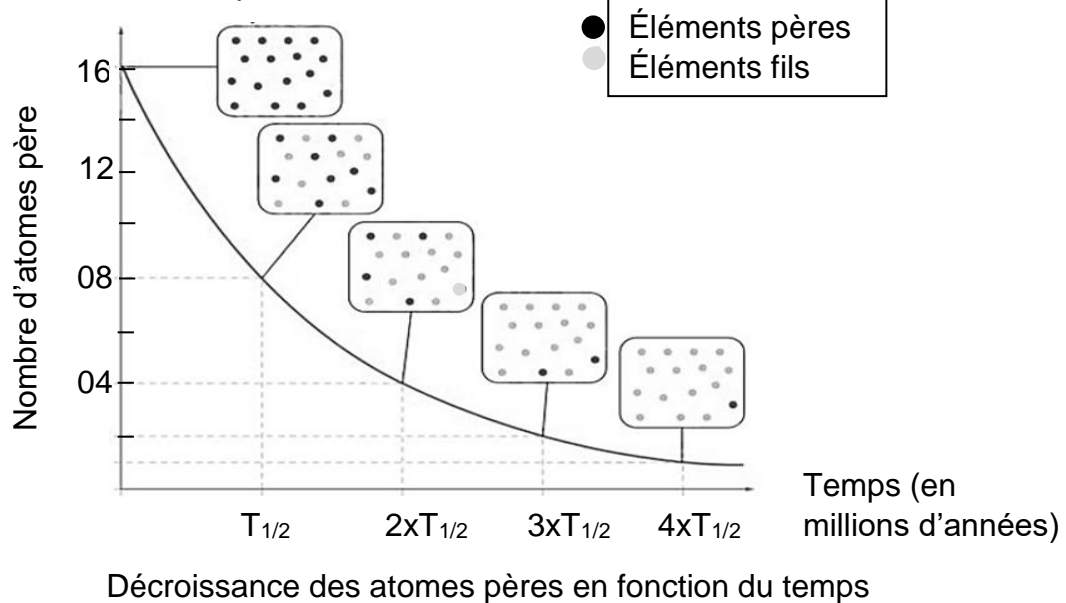
Sur 10 points

On se propose de comprendre de quelle manière on peut connaître l'âge de la Terre.

#### Partie 1 – La radioactivité des roches, un outil de datation

##### Document 1 – Principe de la datation absolue

Pour dater de manière absolue les roches, on utilise le principe de décroissance radioactive : au cours du temps, des éléments père radioactifs se désintègrent en éléments fils, comme représenté ci-dessous



Source : d'après le Livre scolaire

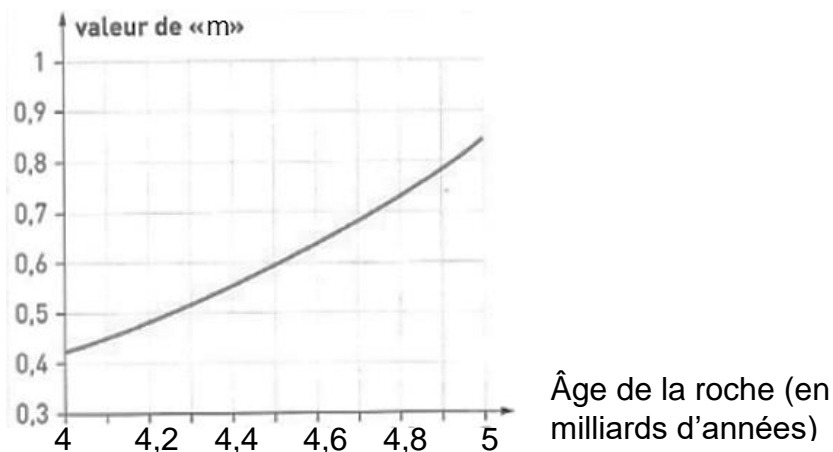
- 1- Le temps de demi-vie (ou période radioactive  $T_{1/2}$ ) correspond à la durée écoulée lorsqu'une certaine quantité d'éléments père est désintégrée. À partir du graphique du document 1, dire quelle est la proportion d'éléments père désintégrée à  $T_{1/2}$ .
- 2- Calculer le pourcentage d'éléments père encore présents à  $t = 4xT_{1/2}$ . Vous détaillerez votre calcul.





## 2b – Graphique représentant un géochronomètre

En utilisant le géochronomètre ci-dessous, il est possible de déterminer graphiquement l'âge d'une roche ou d'un ensemble de roches de même âge grâce à la valeur du coefficient directeur « m » de la droite isochrone.



Source : D'après <http://acces.ens-lyon.fr/>

- 1- À partir du document 2, déterminer l'âge des météorites en appliquant la méthode de Patterson. Faire apparaître tous les calculs et les étapes du raisonnement.

### Document 3 – Zircon de Jack Hills en Australie, daté à 4.4 Milliards d'années

La plupart des roches terrestres anciennes ont disparu à cause de l'érosion et de la tectonique des plaques. Quelques-uns des minéraux qu'elles contiennent, appelés zircons, présentent une résistance importante. Les zircons sont les plus anciens minéraux retrouvés sur Terre.

Source : FuturaSciences

- 2- Comparer l'âge du zircon de Jack Hills avec l'âge de la Terre établi grâce à la méthode de Patterson, puis expliquer en quoi il est plus fiable de dater la formation de la Terre à l'aide de mesures réalisées sur des météorites plutôt qu'en utilisant des roches terrestres.

