

Exercice 1 – Niveau première

Thème « Son, musique et audition »

Exposition au bruit

Sur 10 points

Le bruit fait partie de la vie. D'ailleurs, l'absence totale de bruit est unanimement reconnue comme très difficilement supportable pour l'homme. Pourtant, certaines situations d'exposition au bruit, dans la vie de tous les jours ou au travail, peuvent être néfastes pour la santé. Aujourd'hui, en France, plus de trois millions de salariés sont exposés sur leur lieu de travail, de manière prolongée, à des niveaux de bruit potentiellement nocifs. En outre, le bruit est reconnu comme cause de maladies professionnelles depuis 1963.

L'exposition au bruit sur le lieu de travail est susceptible d'affecter la santé des travailleurs. La perte auditive (surdité) en est l'effet le plus connu, mais le risque accru d'accidents et l'exacerbation du stress comptent aussi parmi les conséquences possibles du bruit au travail.

Ministère du travail – « Bruit en milieu de travail »

Dans cet exercice, nous allons nous intéresser à l'exposition au bruit. Dans un premier temps, nous discuterons comme comprendre l'outil de diagnostic utilisé par les médecins pour évaluer les pertes d'audition, puis nous verrons comment nous en préserver en fonction des situations.

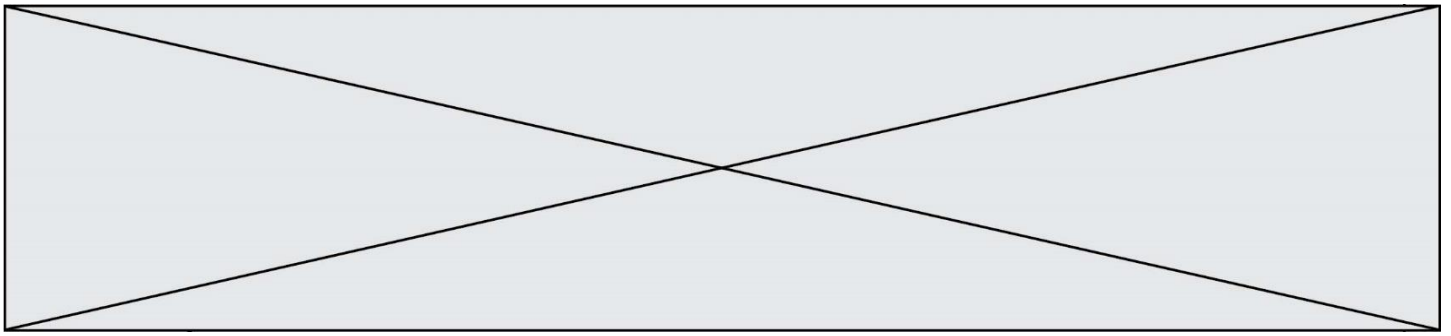
Partie 1 – Diagnostic d'une perte d'audition

Pour diagnostiquer la santé auditive d'un patient, un médecin peut réaliser un test d'audiométrie tonale. Ce test consiste à faire écouter au patient des sons de fréquence bien déterminée à des niveaux d'intensité croissants. Lorsque le patient entend le son, il le signifie. Le niveau d'intensité sonore le plus faible que perçoit un patient pour une fréquence f est son seuil d'audition. Nous le noterons $L_{\text{seuil}}(f)$.

En comparant le seuil d'audition du patient au seuil d'audition de référence (noté $L_{\text{ref}}(f)$) établi pour des personnes ayant une santé dans la norme, on définit la perte auditive $P(f)$ du patient :

$$P(f) = L_{\text{seuil}}(f) - L_{\text{ref}}(f)$$

Une valeur positive de la perte auditive correspond à un patient entendant moins bien que la normale. A l'inverse, une valeur négative de $P(f)$ indique que le patient entend mieux que la normale.



- Une conversation chuchotée se situe à un niveau sonore de l'ordre de 40 dB.
- Une conversation dans un environnement bruyant se situe à un niveau sonore de l'ordre de 80 dB.

3- Rédiger un court texte argumenté expliquant pourquoi le patient rencontre des difficultés à comprendre une conversation normale.

Pour mieux caractériser la gêne que peut représenter la perte auditive de ce patient, nous allons considérer le cas de la perception de l'arrivée d'une moto dans la rue.

Lorsqu'une moto en marche se situe à une distance d'un mètre derrière le patient (distance $d_0 = 1$ m), elle émet un bruit dont le niveau d'intensité sonore au niveau des oreilles du patient est $L_0 = 90$ dB.

Lorsque la moto en marche se situe à une distance d derrière le patient, le bruit qu'elle émet atteint les oreilles du patient avec un niveau d'intensité sonore $L(d)$ dont la valeur est donnée par la formule :

$$d = d_0 \times 10^{\frac{L_0 - L}{20}}$$

Par ailleurs, une moto émet des sons dans une gamme de fréquence autour de 4 kHz.

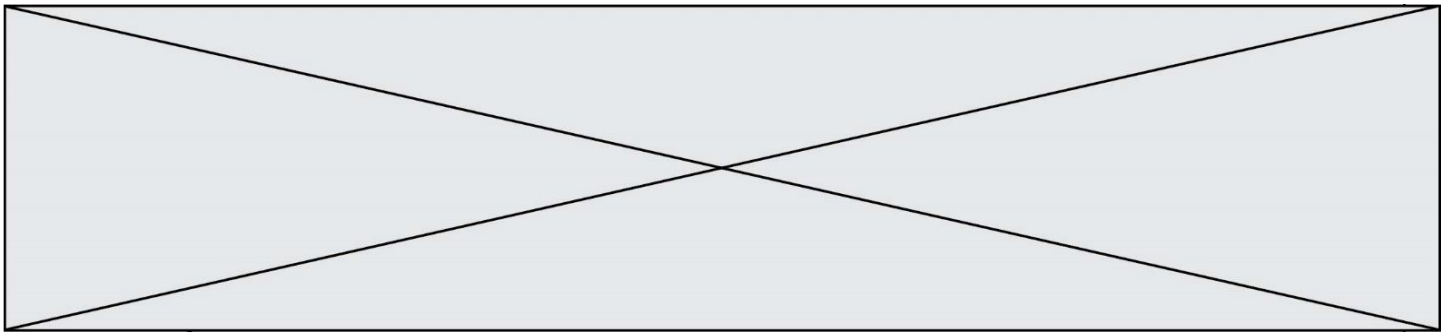
Enfin, on considère que dans un environnement urbain calme, une personne sans perte auditive commence à percevoir la moto lorsque l'intensité sonore L atteint 50 dB, ce qui correspond à une distance de 100 m d'après la formule ci-dessus.

- 4- Déterminer la distance à partir de laquelle le patient commence à percevoir la présence de la moto.
- 5- Commenter cette valeur et en déduire un exemple de l'impact de cette perte auditive sur sa vie quotidienne.

Partie 2 – Se protéger du bruit

Pour se prémunir des problèmes de santé induit par le bruit, il est important d'utiliser des dispositifs de protection. Toutefois, ceux-ci doivent être adaptés au contexte.

Par exemple, dans un environnement de travail bruyant, il faut pouvoir se prémunir des bruits les plus agressifs pour l'oreille (situés principalement dans une bande de fréquence autour de 4 000 Hz) tout en restant disponible pour des échanges conversationnels (bande de fréquence de 80 Hz à 1 500 Hz).



Exercice 2 – Niveau première

Thème « La Terre, un astre singulier »

Pénurie d'eau sur la planète bleue

Sur 10 points

Partie 1 – L'eau liquide, rare dans le système solaire

L'eau est constituée d'hydrogène et d'oxygène, des éléments chimiques parmi les plus abondants dans l'Univers. Pourtant la molécule d'eau quant à elle est relativement rare dans l'Univers. À l'état liquide, indispensable à la vie, elle l'est encore plus : dans notre Système solaire on ne trouve de l'eau liquide que sur Terre.

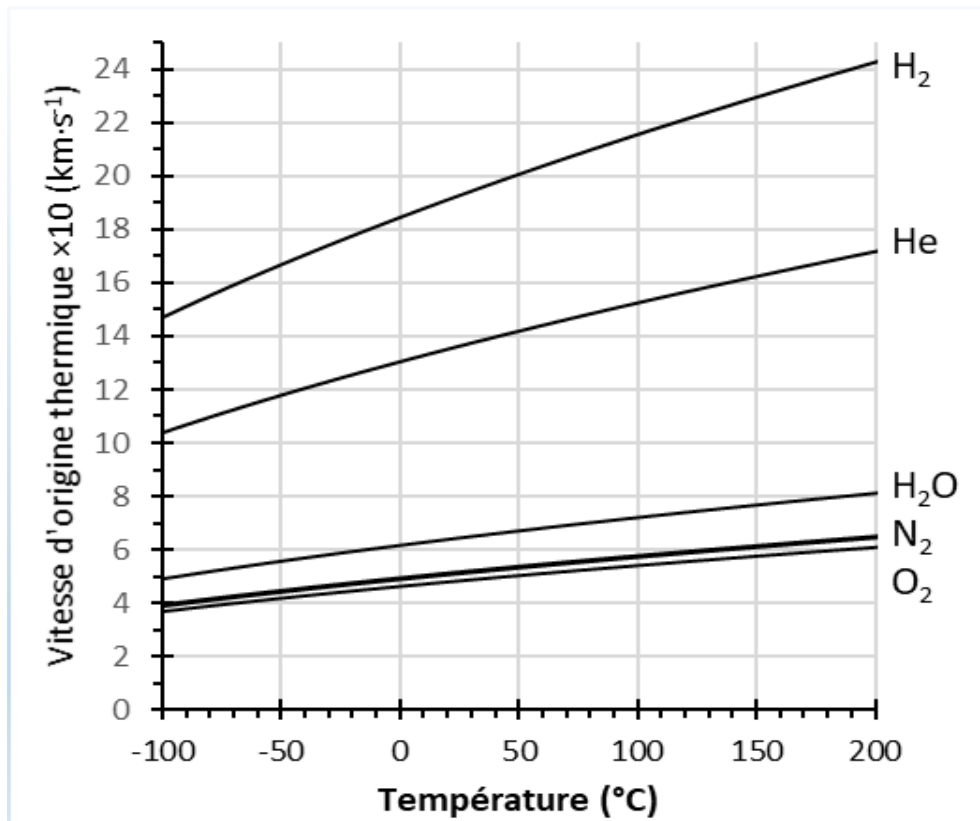
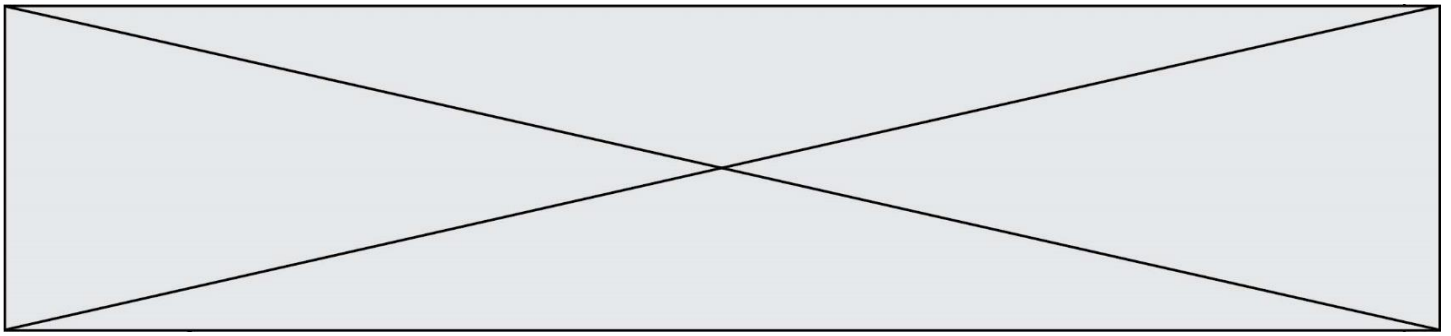
Document 1 – Données sur les planètes telluriques du système solaire

La **température théorique** est la température calculée à la surface d'une planète si l'on ne considère que les effets de l'éclairement du Soleil et de l'albédo de sa surface : modèle de planète avec une atmosphère mais sans effet de serre

Planète ou satellite	Mercure	Vénus	Terre	Mars
Distance au Soleil ($\times 10^6$ km)	58	108	150	228
Température théorique (°C)	161	- 20	- 18	- 56
Température moyenne mesurée (°C)	169	470	15	- 63
Pression atmosphérique à la surface de la planète (Pa)	Pas d'atmosphère 0 Pa	9,3.10 ⁶ Pa	10 ⁵ Pa	Atmosphère ténue 6 Pa

Source : d'après <https://planet-terre.ens-lyon.fr/ressource/planetes-telluriques.xml> et <https://cnes.fr>

- 1- Décrire la variation de la température théorique à la surface de la planète en fonction de sa distance au Soleil. Expliquer cette variation globale.



*l'axe des ordonnées représente les valeurs de vitesse d'origine thermique multipliées par 10.

Source : <http://acces.ens-lyon.fr/acces/thematiques/limites/eau/comprendre/systeme-solaire/atmosphere-atmosphere-1>

3- Choisir en justifiant parmi les réponses A, B ou C celle qui complète l'aide à l'exploitation du graphique du document 2 :

« Pour déterminer si un astre peut retenir une atmosphère, placer sur le graphique un point dont les coordonnées sont la température moyenne de surface de l'astre en abscisse et la vitesse de libération sur l'astre en ordonnée. Si le point tracé est **[réponse A, B ou C]** la courbe associée à une entité chimique, alors l'astre est capable de retenir une atmosphère contenant cette entité ».

- Réponse A : [au-dessus de]
- Réponse B : [en-dessous de]
- Réponse C : [sur]

Modèle CCYC : ©DNE

Nom de famille (naissance) :


(Suivi s'il y a lieu, du nom d'usage)

Prénom(s) :

N° candidat : N° d'inscription :

(Les numéros figurent sur la convocation.)

Né(e) le : / /

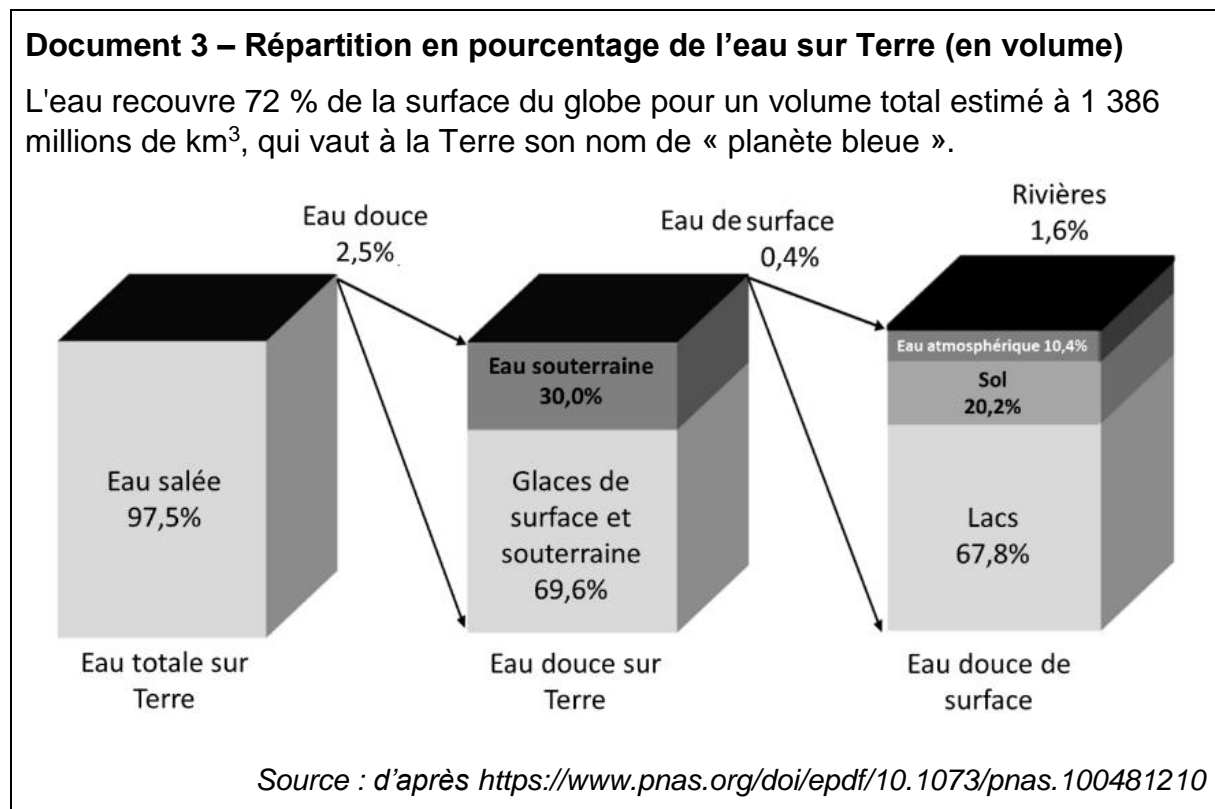


1.1

- 4- En déduire que ce modèle est cohérent avec l'absence d'eau dans l'atmosphère de Mars et cohérent avec la présence d'eau dans l'atmosphère de la Terre.

Partie 2 – La pénurie d'eau sur Terre

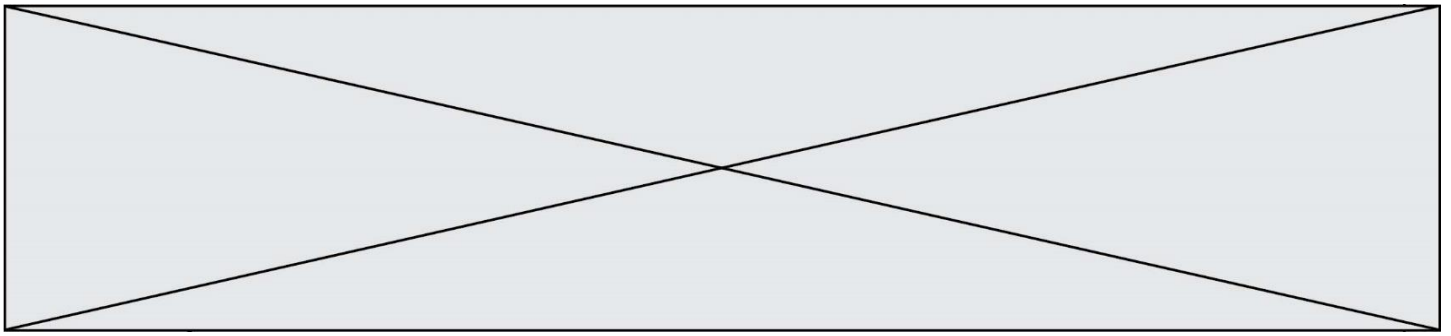
« Nous allons devoir gérer de plus en plus d'épisodes de pénuries d'eau ». Ce sont les mots de Richard Connor, l'auteur du rapport mondial sur la mise en valeur des ressources en eau, publié mercredi 22 mars 2023 par l'Unesco.



L'Homme ne peut accéder, pour subvenir à ses besoins, qu'à l'eau douce de surface et aux eaux souterraines.

- 5- Calculer le pourcentage d'eau douce utilisable par les humains par rapport à l'eau totale sur Terre et discuter de l'apparente grande quantité d'eau disponible sur la planète Terre.

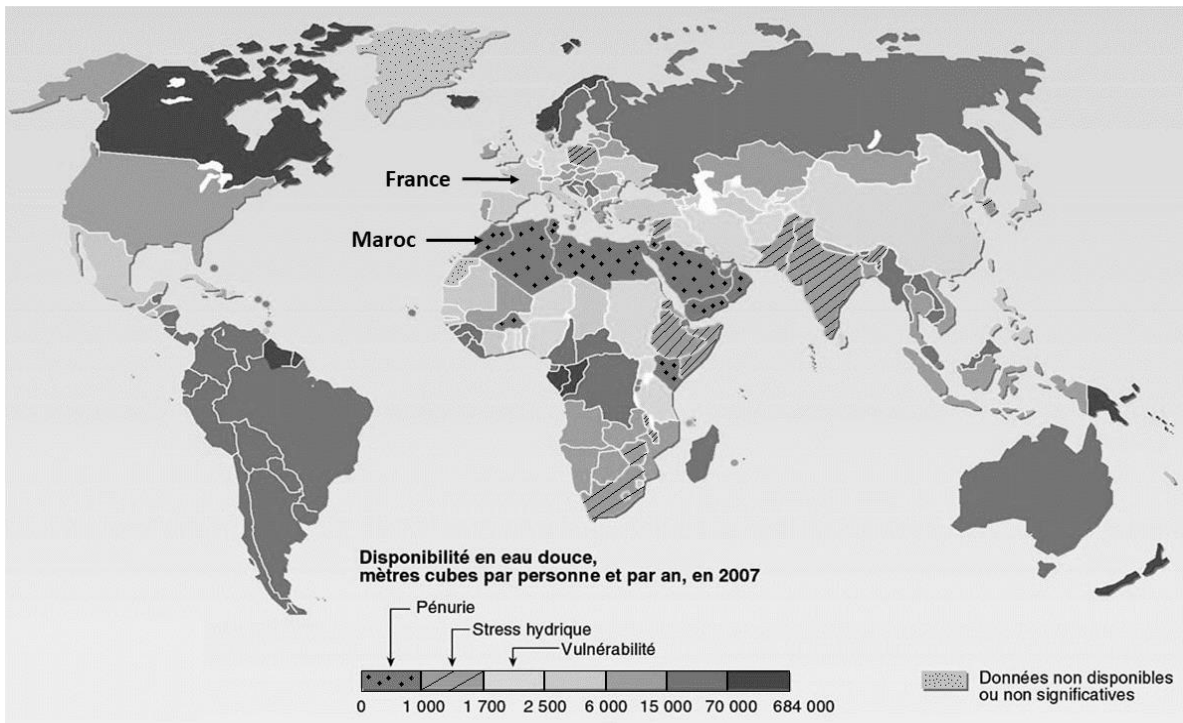
Pour quantifier la ressource en eau douce disponible pour l'humanité, on estime un flux d'eau. Celui-ci provient en grande partie des précipitations issues du cycle de l'eau.



Document 4 – Différents niveaux de disponibilité de l'eau douce dans le monde

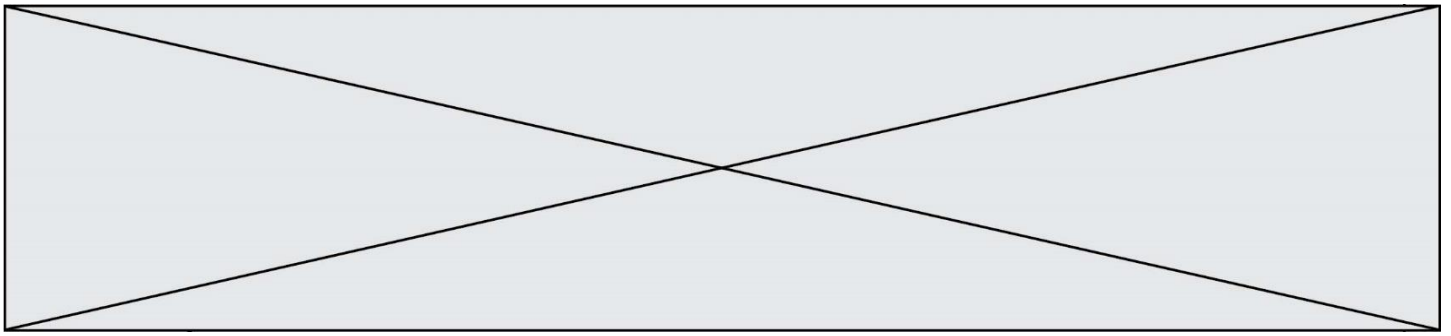
Le flux d'eau douce est d'environ 40 000 millions de km³/an dans le monde. Ce qui équivaut, s'il était également réparti, à 5 700 m³ par personne et par an. Malgré cette ressource apparemment suffisante, de nombreux pays connaissent une crise de l'eau. Les pays du Maghreb, dont le Maroc, en font partie.

La carte ci-dessous montre la disponibilité en eau douce dans le monde en m³ par personne et par an :



Source : d'après <https://www.cieau.com/connaitre-leau/les-ressources-en-france-et-dans-le-monde/ou-en-sont-les-ressources-en-eau-dans-le-monde/>

- 6- Montrer l'existence d'une inégale répartition des ressources en eau. Vous appuiez votre raisonnement sur des rapports entre les valeurs de disponibilité en France, Maroc et Canada.



Exercice 3 – Niveau première

Thème « Une longue histoire de la matière »

Titre de l'exercice

Sur 10 points

Ötzi est une momie naturelle retrouvée dans les Alpes il y a 30 ans, allongée à plat ventre, au bord d'un lac gelé situé à 3 000 mètres d'altitude dans la vallée d'Ötztal.

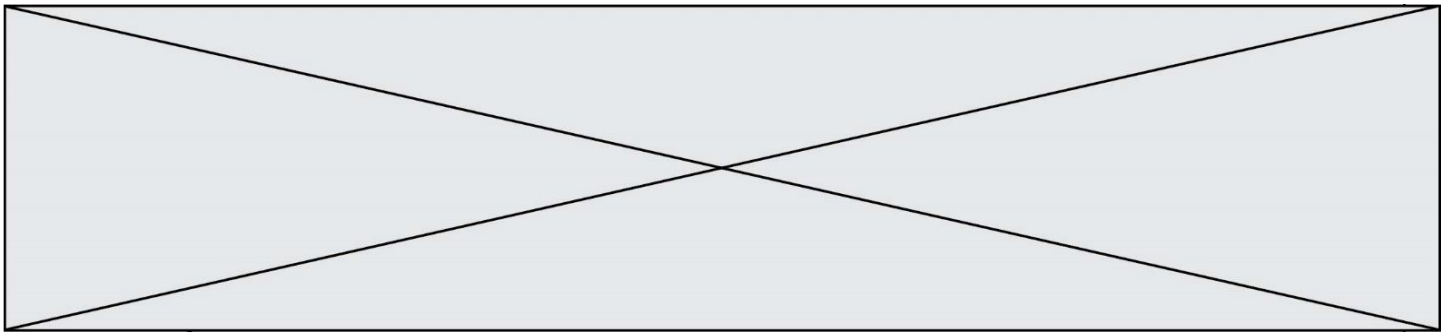
Les analyses scientifiques ont révélé qu'il s'agit d'une très ancienne scène de crime...



Découverte de la momie et reconstitution de Ötzi, musée archéologique de Haut-Adige

Crédit photo : SOUTH TYROL MUSEUM OF ARCHAEOLOGY.

L'objectif de cet exercice est d'estimer la date de l'assassinat d'Ötzi.



- 3- Énumérer la succession des évènements qui aboutissent à la présence de carbone 14 dans le corps d'Ötzi.

Partie 2 – Datation d'une mort

À la mort d'Ötzi, le nombre initial N_0 de noyaux de carbone 14 contenu dans son corps était de $3,87 \times 10^{15}$.

À la découverte de la momie, elle possédait une activité radioactive en carbone 14 de :

$$A = 7910 \text{ Bq}$$

- 4- Établir la valeur de la demi-vie du carbone 14, en utilisant le graphique du document 3 (page suivante) et en exposant la démarche permettant de la déterminer.
- 5- À l'aide des informations du document 2 (ci-après), calculer le nombre N de noyaux résiduels dans la momie au moment de sa découverte.
- 6- Sachant que $3,87 \times 10^{15}$ noyaux correspondent à 100 % de noyaux de carbone 14, vérifier que le pourcentage de carbone 14 résiduel lors de la découverte de la momie est de 53 %.
- 7- À l'aide du résultat de la question précédente et de la courbe de décroissance radioactive du carbone 14, estimer la date de l'assassinat d'Ötzi.

Document 2 – Définition de l'activité d'un échantillon

On appelle activité A d'un échantillon radioactif le nombre de désintégrations de noyaux qui s'y produisent par seconde. Ainsi l'activité A en Bq de cet échantillon et le nombre de noyaux N qu'il contient sont liés par la relation :

$$N = \frac{A \times t_{1/2}}{0,69}$$

$t_{1/2}$: demi-vie de l'échantillon radioactif exprimée en seconde.

Données :

- 5730 ans = $1,81 \times 10^{11}$ secondes.

