

Modèle CCYC : ©DNE

Nom de famille (naissance) :


(Suivi s'il y a lieu, du nom d'usage)

Prénom(s) :

N° candidat :  N° d'inscription :

(Les numéros figurent sur la convocation.)

Né(e) le :  /  /



1.1

## ÉVALUATION

**CLASSE :** Première

**VOIE :**  Générale  Technologique  Toutes voies (LV)

**ENSEIGNEMENT :** Enseignement scientifique  
sans enseignement de mathématiques spécifique

**DURÉE DE L'ÉPREUVE :** 2 h

Niveaux visés (LV) : ∅

Axes de programme : ∅

**CALCULATRICE AUTORISÉE :**  Oui  Non

**DICTIONNAIRE AUTORISÉ :**  Oui  Non

Ce sujet contient des parties à rendre par le candidat avec sa copie. De ce fait, il ne peut être dupliqué et doit être imprimé pour chaque candidat afin d'assurer ensuite sa bonne numérisation.

Ce sujet intègre des éléments en couleur. S'il est choisi par l'équipe pédagogique, il est nécessaire que chaque élève dispose d'une impression en couleur.

Ce sujet contient des pièces jointes de type audio ou vidéo qu'il faudra télécharger et jouer le jour de l'épreuve.

**Nombre total de pages :** 17

**Le candidat traite seulement deux exercices, de son choix,**  
**parmi les trois qui sont proposés dans ce sujet.**

**Il indique son choix en début de copie.**



## Exercice 1 – Niveau première

Thème « Le Soleil, notre source d'énergie »

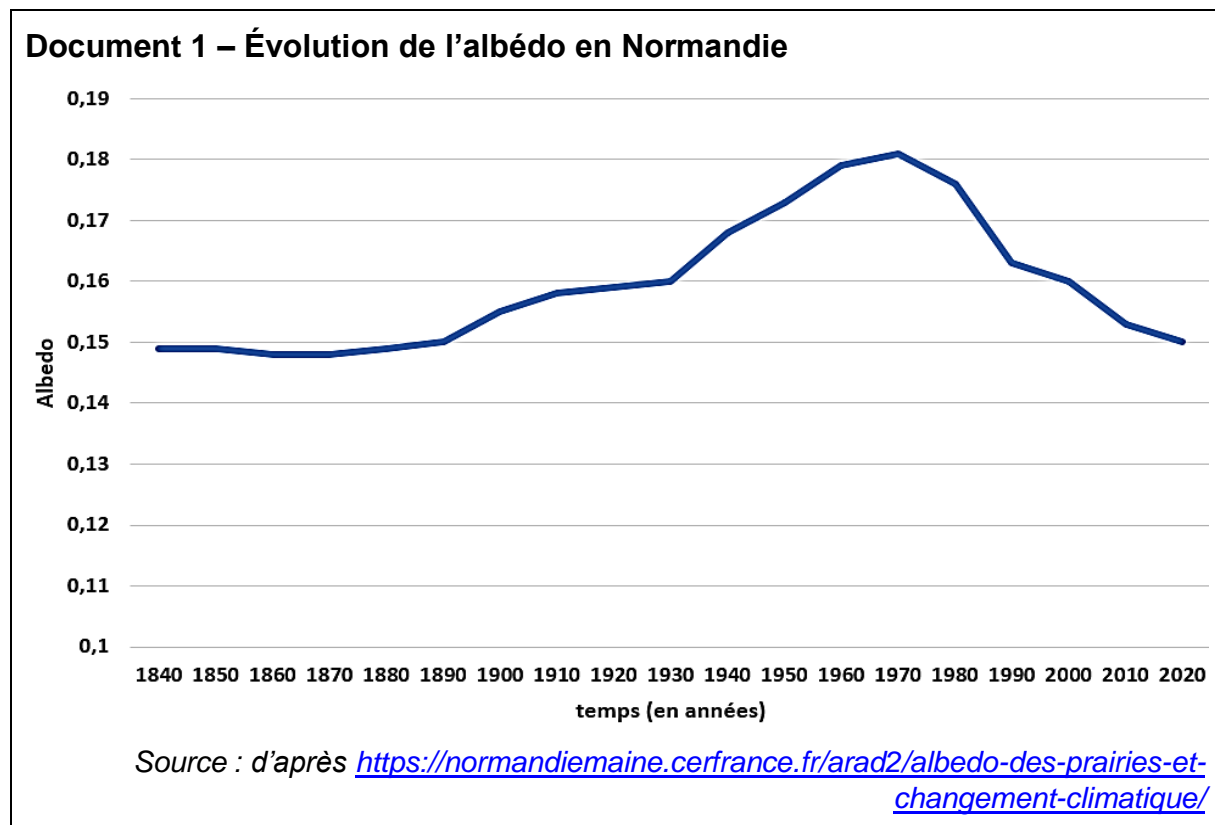
### La végétalisation des milieux urbains : un enjeu climatique

Sur 10 points

L'été 2022 a été classé comme l'un des plus chauds jamais enregistrés par les services météorologiques. Afin de lutter contre l'îlot de chaleur urbain, les municipalités mettent progressivement en place des projets de végétalisation et de suppression du bitume. À plus grande échelle, ces projets sont aussi envisagés pour lutter contre le réchauffement climatique.

#### Partie 1 – La végétalisation un enjeu pour le climat

Les documents ci-dessous portent sur une étude menée en France, en Normandie.



Modèle CCYC : ©DNE

Nom de famille (naissance) :

(Suivi s'il y a lieu, du nom d'usage)

Prénom(s) :

N° candidat :

N° d'inscription :



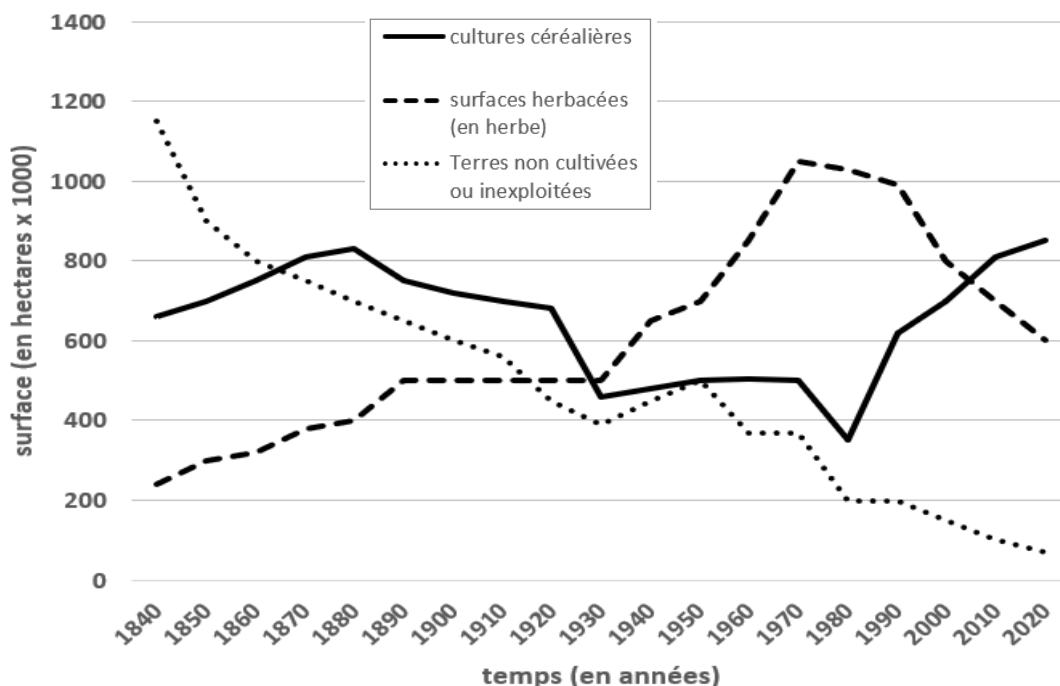
Liberté • Égalité • Fraternité  
RÉPUBLIQUE FRANÇAISE

Né(e) le :

(Les numéros figurent sur la convocation.)

1.1

## Document 2 – Évolution des grands types de surfaces en Normandie



Source : d'après <https://normandiemaine.cerfrance.fr/arad2/albedo-des-prairies-et-changement-climatique>

On appelle « albédo » le rapport entre la puissance lumineuse réfléchie par une surface et la puissance lumineuse incidente qu'elle reçoit.

L'albédo est donc une grandeur sans dimension qui varie entre 0 (surface sombre totalement absorbante) et 1 (surface claire totalement réfléchissante). Par exemple, pour une surface ayant un albédo d'une valeur de 0,20, cela correspond à 20 % de puissance lumineuse réfléchie par rapport à la totalité de la puissance lumineuse reçue.

- 1- Réaliser un schéma légendé et titré représentant les flux énergétiques pour une surface ayant un albédo d'une valeur 0,30, c'est-à-dire la valeur de l'albédo terrestre moyen.
- 2- Parmi les trois propositions suivantes, choisir celle qui est correcte et justifier votre choix. En considérant tout autre paramètre constant, l'augmentation de l'albédo terrestre :
  - a- entraîne une hausse de la température de la surface terrestre.
  - b- entraîne une baisse de la température de la surface terrestre.
  - c- n'entraîne aucune modification de la température de la surface terrestre.



3- À l'aide des documents 1 et 2, indiquer quelle conséquence pourrait avoir le type de surface végétale sur la température locale en Normandie en justifiant la réponse.

Le modèle du corps noir est un modèle permettant de décrire l'émission de rayonnement électromagnétique d'un objet en fonction de sa température. Dans ce modèle, on établit que :

a- la puissance par unité de surface émise par le corps noir dépend et de sa température suivant la loi de Stefan-Boltzmann :  $P = \sigma \times T^4$

$P$  : la puissance par unité de surface émise par le corps noir en watts

$T$  : la température du corps noir en kelvins

$\sigma$  : la constante de Stefan-Boltzmann avec  $\sigma = 5,67 \times 10^{-8} \text{ W} \cdot \text{m}^{-2} \cdot \text{K}^{-4}$

b- la longueur d'onde du maximum d'émission dépend de la température du corps noir suivant la loi de Wien :


$$\lambda_{\max} \times T = 2,898 \cdot 10^{-3} \text{ m} \cdot \text{K}$$

- La longueur d'onde du maximum d'émission,  $\lambda_{\max}$ , est exprimée en mètre.
- $T(\text{K}) = \theta(^{\circ}\text{C}) + 273,15$ .

### Document 3 – Photographie de la façade d'un immeuble et imagerie thermique



**Photographie**



**Image thermique**

Les longueurs d'onde d'émission maximale mesurées sont de :  
9559 nm sur la zone 2 (au point A) et 9852 nm sur la zone 1 (au point B).

Source : d'après <https://www.20minutes.fr/planete/4030218-20230403-climatologie-urbaine-vient-pouvoir-rafraichissant-arbres-ville>

Modèle CCYC : ©DNE

Nom de famille (naissance) :

(Suivi s'il y a lieu, du nom d'usage)

Prénom(s) :

N° candidat :  N° d'inscription :

(Les numéros figurent sur la convocation.)

Né(e) le :  /  /



1.1

- 4- En vous appuyant sur les propriétés du corps noir énoncées précédemment, déterminer la valeur de la température du corps noir dont le maximum d'émission serait à la longueur d'onde mesurée par la zone A (document 3). En déduire la puissance par unité de surface qu'émettrait ce corps noir. Réaliser les mêmes calculs pour la zone B. Expliciter les calculs effectués puis reproduire et compléter sur la copie le tableau ci-dessous :

Les zones de la façade	Modélisation par un corps noir	
	Température (en K)	Puissance par unité de surface émise (en $W \cdot m^{-2}$ )
Zone A		
Zone B		

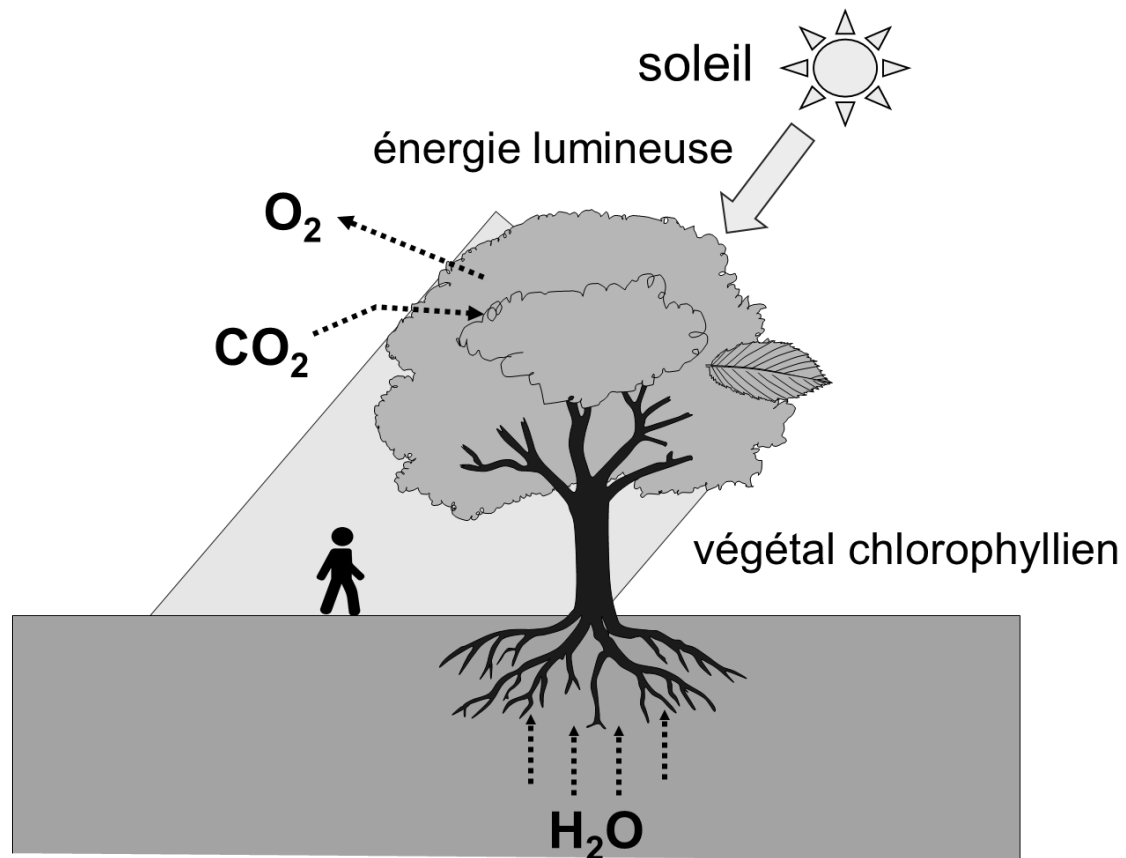
Un îlot de chaleur urbain est caractérisé par une température de l'air qui reste élevée même la nuit, c'est-à-dire même lorsqu'elle ne reçoit plus d'énergie lumineuse en provenance du Soleil.

- 5- En vous appuyant sur les résultats obtenus à la question précédente, expliquer à l'aide d'un paragraphe argumenté l'intérêt de planter un arbre à proximité d'une façade d'immeuble pour lutter contre l'effet d'îlot de chaleur urbain la nuit.



## Partie 2 – La végétalisation, un enjeu plus global sur le climat

### Document 4 – Effet d'un arbre sur son environnement : représentation schématique du mécanisme de la photosynthèse



Source : d'après <http://svt.ac-dijon.fr/schemassvt/>

La photosynthèse permet à une plante chlorophyllienne de produire sa propre matière organique.

La photosynthèse est associée à un phénomène de transpiration. Ainsi, une partie de l'eau liquide absorbée par la plante est perdue à l'état gazeux majoritairement au niveau des feuilles. Le changement d'état de l'eau liquide en eau à l'état gazeux s'appelle la vaporisation.

- 6- Identifier en justifiant lequel des deux systèmes, l'eau de la plante ou bien le milieu extérieur, perd de l'énergie lors de la transpiration végétale.

Modèle CCYC : ©DNE

Nom de famille (naissance) :

(Suivi s'il y a lieu, du nom d'usage)

Prénom(s) :

N° candidat :  N° d'inscription :

(Les numéros figurent sur la convocation.)

Né(e) le :  /  /



1.1

7- Pour la proposition suivante, indiquer la bonne réponse et justifier ce choix.

La transpiration végétale :

- diminue la température de l'air ambiant.
- augmente la température de l'air ambiant.
- n'a aucun effet sur la température de l'air ambiant.

En 2021, les émissions de CO<sub>2</sub> pour le transport aérien en France se sont élevées à 12,4 millions de tonnes (source du Ministère de la transition écologique).

Des études scientifiques ont été menées afin de déterminer les compensations de CO<sub>2</sub> par les arbres. Le taux annuel de compensation de CO<sub>2</sub> est estimé à environ 26,6 kg de CO<sub>2</sub>/arbre. Selon l'IGN (institut national de l'information géographique et forestière), la forêt française héberge en 2021 environ 11 milliards d'arbres

- 8- Calculer le nombre d'arbres nécessaires pour compenser ces émissions de CO<sub>2</sub> liées au transport aérien en France et comparer avec les données de l'IGN.
- 9- Discuter de l'intérêt de la végétalisation dans la lutte contre les ilots de chaleur urbains et dans la lutte contre le réchauffement climatique mondial.



## Exercice 2 – Niveau première

Thème « Une longue histoire de la matière »

### Le cristal d'argent et la photographie

Sur 10 points

#### Partie 1 – Étude des cristaux d'argent et de chlorure d'argent

L'argent est connu depuis des millénaires. Son utilisation dans l'industrie s'est fortement développée au XX<sup>e</sup> siècle notamment avec l'invention de la photographie. L'objectif de cet exercice est de comprendre comment ses propriétés lui confère un rôle central dans la photographie.

Données :

Masse d'un atome d'argent :  $m_{Ag} = 1,79 \times 10^{-25}$  kg.

L'angström (Å) est une unité de longueur :  $1 \text{ Å} = 10^{-10}$  m.

#### Document 1 – Description de la maille élémentaire du cristal d'argent

L'argent est l'élément chimique de numéro atomique  $Z = 47$  et de symbole Ag. À l'état métallique, il est blanc, très brillant, malléable et ductile (c'est-à-dire qu'il peut être étiré sans se rompre).

À l'état microscopique, l'argent métallique solide est organisé selon un réseau cubique à faces centrées.

Une maille cubique à face centrées est représentée par :

un atome sur chaque sommet de la maille ;

un atome au centre de chacune des faces de la maille.

Une maille cubique à faces centrées contient l'équivalent de 4 atomes d'argent.



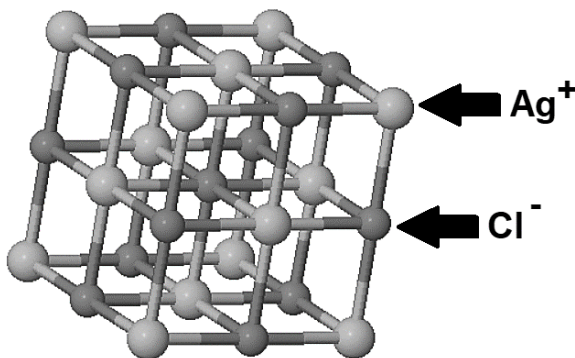
Photographie de cristaux d'argent





### Document 2 – Le cristal de chlorure d'argent AgCl

Le chlorure d'argent, AgCl, présente une structure similaire au chlorure de sodium, NaCl. Le cristal de chlorure d'argent est un composé chimique blanc solide largement utilisé en photographie.



Représentation d'une maille élémentaire de chlorure d'argent AgCl<sub>(s)</sub>

Ag<sup>+</sup> : ion argent

Cl<sup>-</sup> : ion chlorure

- 1- Justifier l'utilisation du terme de « cristal » pour caractériser les structures de l'argent et du chlorure d'argent à l'état solide.
- 2- Nommer une autre organisation de la matière solide au niveau microscopique que l'organisation cristalline. En donner un exemple.
- 3- En utilisant le document 1, choisir, parmi les trois propositions suivantes, celle qui permet de décrire correctement la maille élémentaire associée au cristal d'argent. Justifier votre réponse.

Proposition a	Proposition b	Proposition c



- 4- Calculer la masse volumique du cristal d'argent en  $\text{kg. m}^{-3}$ . On rappelle que la masse volumique d'un cristal est égale au rapport de la masse totale des atomes d'argent contenus dans une maille par le volume de cette maille.

*Donnée* : volume de la maille cubique d'argent :  $V_{\text{maille}} = 6,89 \times 10^{-29} \text{ m}^3$

- 5- Placer sur un axe horizontal, par ordre croissant de taille, les entités suivantes : maille, atome, organisme, cellule, molécule, roche, minéral.

## Partie 2 – Photographie et sciences

### Introduction

Nicéphore Niépce est un ingénieur français qui a contribué à l'invention de la photographie au XIX<sup>e</sup> siècle.

Jusqu'alors, les chambres obscures n'étaient utilisées que comme instrument à dessiner. Elles étaient constituées de boîtes percées d'un trou muni d'une lentille projetant sur le fond, l'image renversée de la vue extérieure. Niépce se lance alors dans des recherches sur la fixation des images projetées au fond des chambres obscures.

Pour ses premières expériences, Nicéphore Niépce dispose au fond d'une chambre obscure des feuilles de papier enduites de sels d'argent, connus pour noircir sous l'action de la lumière. Il obtient alors en mai 1816, la première reproduction d'une image de la nature : une vue depuis sa fenêtre. Il s'agit d'un négatif et l'image ne reste pas fixée car, en pleine lumière, le papier continue de se noircir complètement. Il appelle ces images des « rétines ».



Reconstitution d'une « rétine » de chlorure d'argent (négatif)



Photographie réalisée à partir d'une réplique de l'appareil de Niépce

*Source* : <https://photo-museum.org/fr/anciens-procedes-maison-nicephore-niepce/>



(Les numéros figurent sur la convocation.)

 /  / 

### Document 3 – Principe de fonctionnement de la photographie argentique

La photographie argentique repose sur le principe de l'utilisation d'un film photosensible. Ce film est généralement composé d'une couche de chlorure d'argent obtenu grâce à une réaction chimique entre le chlorure de sodium NaCl et le nitrate d'argent AgNO<sub>3</sub>.

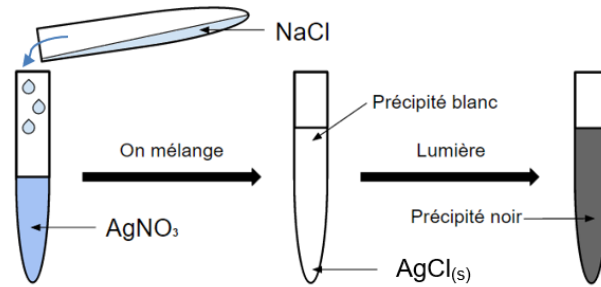


Schéma d'une expérience mettant en évidence le caractère photosensible du chlorure d'argent

Lorsque le chlorure d'argent est exposé à la lumière, l'énergie lumineuse permet d'arracher les électrons des ions chlorure et ceux-ci sont transférés aux ions argent qui se transforment alors en atomes d'argent et donnent des nuances de brun (précipité noir).

Source : <https://tpeimageanimee2016.wordpress.com/2016/01/02/la-photographie-argentique/>

**6-** Proposer une explication au terme « photosensible » associé au chlorure d'argent.

**7-** Sur les premières « rétines » prises par Niépce (voir introduction), préciser si les zones qui ont été les plus éclairées apparaissent plus sombres ou plus claires que les autres. Justifier votre réponse.

Au cours de leurs activités de production du savoir, les scientifiques mettent en œuvre un certain nombre de pratiques. L'observation est une des pratiques de la démarche scientifique.

**8-** À l'aide des documents et de vos connaissances, expliquer en quoi la photographie est une technique qui peut être utile à la mise en œuvre d'une démarche scientifique.



## Exercice 3 – Niveau première

Thème « La Terre, un astre singulier »

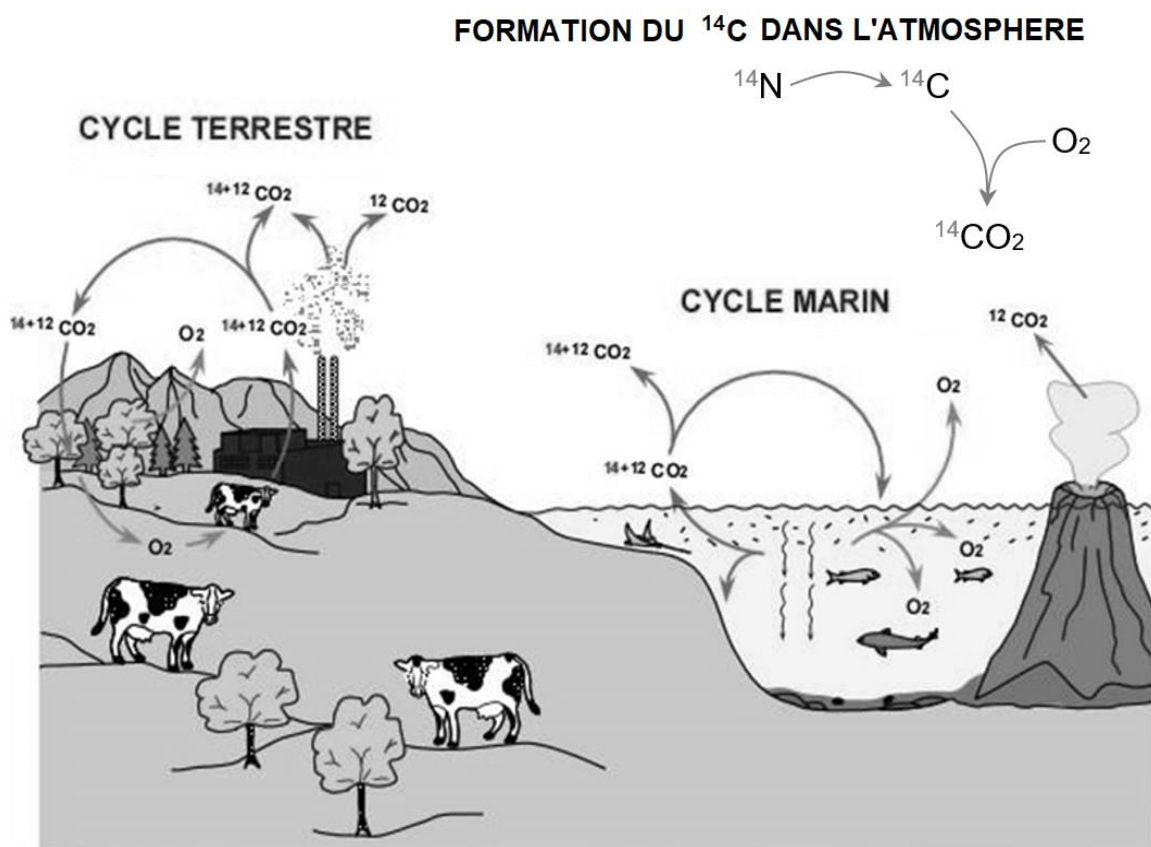
### L'âge des dinosaures

Sur 10 points

L'ensemble des données scientifiques établit que les premiers dinosaures sont apparus au début du Trias il y a environ 250 millions d'années. Leur expansion débute il y a environ 232 millions d'années. La branche des dinosaures excluant les oiseaux s'éteint lors de la crise Crétacé-Paléogène, il y a 65 millions d'années.

Cet exercice propose de comparer des méthodes permettant de dater la période de vie des dinosaures.

#### Document 1 – Cycle actuel du carbone 12 et du carbone 14



Source : d'après <https://futura-sciences.com>

**Modèle CCYC : ©DNE**

**Nom de famille (naissance) :**


(Suivi s'il y a lieu, du nom d'usage)

**Prénom(s) :**

**N° candidat :**  **N° d'inscription :**

(Les numéros figurent sur la convocation.)

**Né(e) le :**  /  /

 Liberté • Égalité • Fraternité  
RÉPUBLIQUE FRANÇAISE

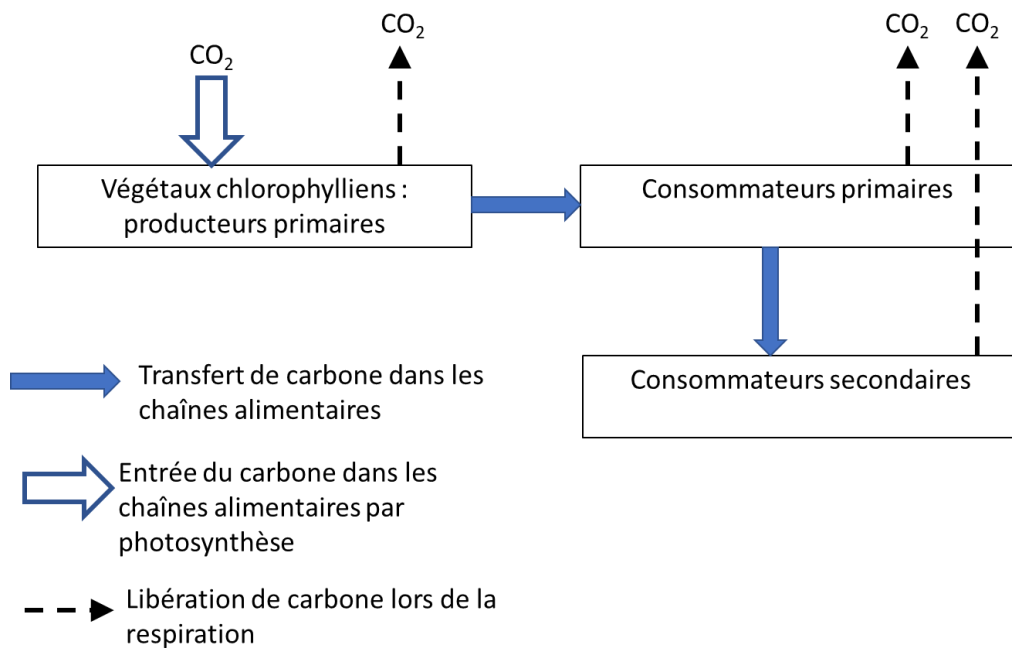
1.1

Toute matière organique vivante (végétale ou animale) contient du  $^{12}\text{C}$  et du  $^{14}\text{C}$ . Dans les tissus organiques et le squelette, la proportion entre ces isotopes demeure la même tout au long de la vie de l'organisme, et est égale à leur proportion dans le  $\text{CO}_2$  atmosphérique et dans l'environnement. Connaissant cette proportion entre  $^{14}\text{C}$  et  $^{12}\text{C}$  dans l'environnement, on peut calculer la durée qui s'est écoulée depuis la mort de l'organisme qui a fixé le carbone jusqu'à aujourd'hui. Par conséquent, l'âge que l'on obtient avec la méthode du  $^{14}\text{C}$ , correspond à l'âge de la mort de l'organisme.

*Source : d'après [http://www2.ggl.ulaval.ca/personnel/bourque/intro.pt/planete\\_terre.html](http://www2.ggl.ulaval.ca/personnel/bourque/intro.pt/planete_terre.html)*

**1-** Rappeler les principales caractéristiques de la radioactivité.

**Document 2 – Schéma simplifié des échanges de carbone dans un écosystème**



*Source : document de l'auteur*

**2-** En vous appuyant sur les documents 1 et 2, expliquer pour quelle raison le carbone 14, bien que se désintégrant spontanément, reste à un taux quasi constant dans l'environnement.



- 3- Expliquer pourquoi un organisme vivant possède un taux constant de carbone 14 pendant toute sa vie.
- 4- Parmi les équations suivantes, identifier en justifiant celle qui correspond à la désintégration d'un noyau de carbone 14.
  - ${}^{16}_8\text{O} \rightarrow {}^{12}_6\text{C} + {}^4_2\text{He}$
  - ${}^{14}_6\text{C} \rightarrow {}^{14}_7\text{N} + {}^0_{-1}\text{e}^-$
  - ${}^6_2\text{He} + {}^8_4\text{Be} \rightarrow {}^{14}_6\text{C}$
- 5- Sur la figure du document A en annexe à **rendre avec la copie**, vérifier que valeur de la demi-vie du carbone 14 est de 5 750 ans. Faire apparaître la construction graphique utilisée et l'expliquer.
- 6- Évaluer le nombre de noyaux de carbone 14 restant après 115 000 ans (soit 20 fois la demi-vie), si le nombre de noyaux initial dans l'échantillon est de l'ordre du million. Commenter.

### Document 3 – Méthode de datation de la période de vie des dinosaures

Les dinosaures sont apparus il y a 250 millions d'années et se sont éteints il y a 65 millions d'années. Les traces de carbone 14 de cette époque ont complètement disparu.

La plupart des chercheurs estiment qu'au-delà de 30 000 ans, il y a trop peu de carbone 14 restant pour permettre une datation précise. Il faut donc utiliser d'autres isotopes, ayant une demi-vie beaucoup plus longue.

Dans le cas des dinosaures, on utilise les isotopes d'uranium 238, d'uranium 235 et de potassium 40 qui possèdent des demi-vies supérieures au milliard d'années.

Le problème est que les os et les fossiles ne contiennent pas ces isotopes contrairement aux roches et aux sédiments environnants.

L'idée est donc la suivante : on utilise la radiométrie sur les sédiments entourant les fossiles pour les dater à l'aide d'un radio-isotope approprié (comme le potassium 40 par exemple) ce qui permet ensuite de donner une fourchette sur l'âge du fossile emprisonné dans ces sédiments.

Source : d'après <https://lasciencepourtous.cafe-sciences.org/articles/ladatationradiometriqueaucarbone-14/>

- 7- À partir du document 3, expliquer comment les scientifiques ont réussi à dater la période de vie des dinosaures.

Modèle CCYC : ©DNE

Nom de famille (naissance) :


(Suivi s'il y a lieu, du nom d'usage)

Prénom(s) :

N° candidat :  N° d'inscription :

(Les numéros figurent sur la convocation.)

Né(e) le :  /  /




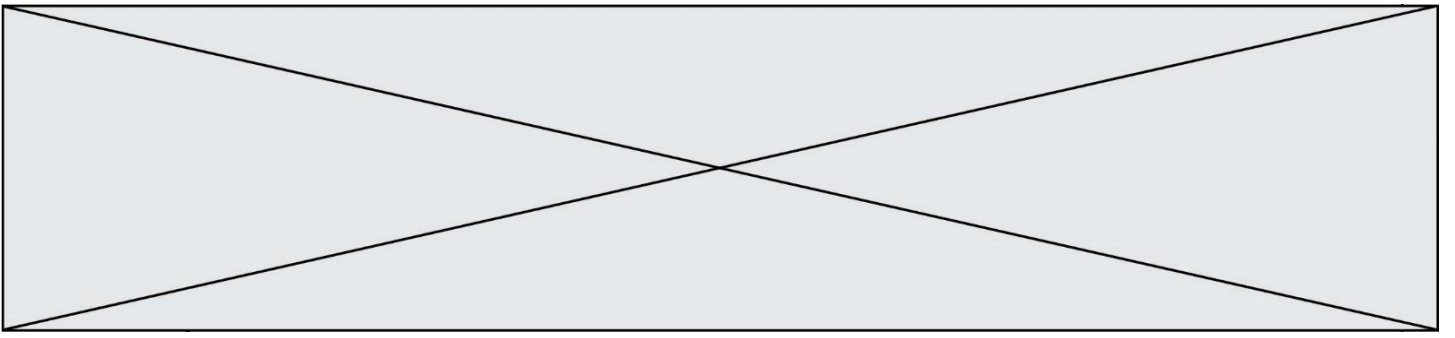
1.1

#### Document 4 – Le discours des créationnistes

Certains groupes créationnistes exposent une théorie dans laquelle ils datent, grâce au carbone 14, les os de dinosaures. Ils déclarent avoir utilisé 8 spécimens de dinosaures. Leurs résultats indiquent un âge allant de 22 000 à 39 000 ans. Ils expliquent avoir été très rigoureux, en éliminant notamment la contamination par le carbone moderne en tant que source du signal  $^{14}\text{C}$  dans les os. Pour obtenir ces résultats, ils font l'hypothèse que le taux de carbone dans l'atmosphère, utilisé comme référence, serait bien plus faible que celui utilisé usuellement et défini par un consensus scientifique.

*Source : document de l'auteur*

8- Relever un élément critiquable dans le raisonnement des créationnistes.





Modèle CCYC : ©DNE

Nom de famille (naissance) :

(Suivi s'il y a lieu, du nom d'usage)

Prénom(s) :

N° candidat :

N° d'inscription :



Liberté • Égalité • Fraternité  
RÉPUBLIQUE FRANÇAISE

Né(e) le :

(Les numéros figurent sur la convocation.)

1.1

## Document réponse à rendre avec la copie

### Exercice 3 – Question 5

#### Document A : Courbe de décroissance radioactive du $^{14}\text{C}$

