

Modèle CCYC : ©DNE

Nom de famille (naissance) :

(Suivi s'il y a lieu, du nom d'usage)

Prénom(s) :

N° candidat :

N° d'inscription :



Né(e) le :

(Les numéros figurent sur la convocation.)

1.1

ÉVALUATION

CLASSE : Terminale – Épreuve de fin de cycle

VOIE : Générale Technologique Toutes voies (LV)

ENSEIGNEMENT : Enseignement scientifique
avec enseignement de mathématiques spécifique

DURÉE DE L'ÉPREUVE : 2 h

Niveaux visés (LV) : \emptyset

Axes de programme : \emptyset

CALCULATRICE AUTORISÉE : Oui Non

DICTIONNAIRE AUTORISÉ : Oui Non

Ce sujet contient des parties à rendre par le candidat avec sa copie. De ce fait, il ne peut être dupliqué et doit être imprimé pour chaque candidat afin d'assurer ensuite sa bonne numérisation.

Ce sujet intègre des éléments en couleur. S'il est choisi par l'équipe pédagogique, il est nécessaire que chaque élève dispose d'une impression en couleur.

Ce sujet contient des pièces jointes de type audio ou vidéo qu'il faudra télécharger et jouer le jour de l'épreuve.

Nombre total de pages : 18

Parmi les trois exercices qui composent ce sujet, le candidat en traite obligatoirement deux.

L'exercice 1, relatif à l'enseignement de mathématiques spécifique, doit être obligatoirement abordé.

Pour le deuxième exercice, le candidat choisit entre l'exercice 2 et l'exercice 3 qui sont relatifs à l'enseignement commun de l'enseignement scientifique du cycle terminal. Il indique son choix en début de copie.

Les exercices 2 et 3 comprennent chacun deux parties portant respectivement sur le programme de première et le programme de terminale d'enseignement scientifique.



Exercice 1 (obligatoire) – Niveau première (mathématiques)

Un lieu de baignade

Sur 4 points

Partie 1

Durant l'été 2023 la plage surveillée d'un lac a accueilli 75 600 baigneurs.

On a collecté les informations suivantes :


- parmi ces baigneurs 40 % sont des adultes,
- deux baigneurs sur trois sont de bons nageurs, 5 040 baigneurs ne savent pas nager, les autres sont qualifiés de « nageurs moyens »,
- parmi les baigneurs qui sont de bons nageurs il y a autant d'adultes que d'enfants,
- les trois quarts des baigneurs qui ne savent pas nager sont des enfants.

1. Reproduire sur la copie et compléter le tableau suivant.

	Baigneurs « bons nageurs »	Baigneurs « non nageurs »	Baigneurs « nageurs moyens »	Total
Enfants		3 780		
Adultes	25 200			30 240
Total				75 600

Durant l'été 2023, on interroge au hasard un baigneur de ce lac.

2. Quelle est la probabilité que ce soit un enfant non nageur ?
3. La personne choisie est un adulte. Quelle est la probabilité que ce soit un bon nageur ?

Modèle CCYC : ©DNE	
Nom de famille (naissance) : <small>(Suivi s'il y a lieu, du nom d'usage)</small>	
Prénom(s) :	
N° candidat :	N° d'inscription :
<small>(Les numéros figurent sur la convocation.)</small>	
Né(e) le :	
	

1.1

Partie 2 – Étude de fonction

En eau douce, les risques sanitaires liés à la baignade peuvent être dus à la présence de toxines libérées par les algues de la famille des cyanobactéries (souvent appelées *algues bleues*).

Les autorités sanitaires considèrent que ces toxines deviennent dangereuses pour la santé lorsque leur concentration dépasse 40 microgrammes par litre dans les eaux, la baignade n'est alors plus autorisée.

L'eau du lac de baignade est surveillée en permanence.

Suite aux mesures effectuées sur trois jours consécutifs l'évolution de la concentration de toxines dans l'eau de ce lac en microgrammes par litre a été modélisée par la fonction C définie sur l'intervalle $[0; 72]$ par :

$$C(t) = -0,05t^2 + 3,75t + 7,5$$

où t désigne le temps écoulé depuis le début de l'étude, exprimé en heures.

On admet que la fonction C est dérivable sur l'intervalle $[0; 72]$ et on note C' sa fonction dérivée.

1. Montrer que $C'(t) = -0,1t + 3,75$.
2. En déduire les variations de la fonction C sur l'intervalle $[0; 72]$. Interpréter ces variations dans le contexte de l'exercice.
3. Calculer $C(10)$ et $C(65)$.
4. A-t-il été nécessaire d'interdire la baignade lors de cette période ? Justifier la réponse.



Exercice 2 (au choix) – Niveaux première et terminale de l'enseignement scientifique

Partie A : Niveau première

Sur 8 points

Thème « Le Soleil, notre source d'énergie »

Réchauffement climatique

Le réchauffement climatique anthropique est défini comme l'évolution du climat engendrée par les activités humaines et venant s'ajouter aux variations naturelles. Effectivement, certaines activités humaines libèrent en grandes quantités des gaz à effet de serre (comme la vapeur d'eau, le dioxyde de carbone, méthane...) dont l'action sur le climat est connue. Pourtant, on peut lire sur des réseaux sociaux des affirmations comme : « Le climat a toujours changé, mais cela n'a rien à voir avec l'homme ».

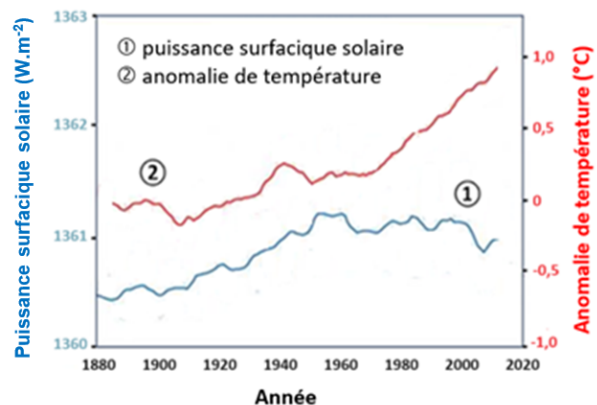
L'objectif de ce sujet est de développer des arguments permettant de trancher ce débat dans le respect de la démarche scientifique.

Partie 1 – Un exemple de la variabilité naturelle du climat

Plusieurs facteurs naturels peuvent être à l'origine de la variabilité climatique sur Terre. C'est le cas de la puissance reçue sur Terre de la part du Soleil, qui peut changer du fait de différents facteurs.

Document 1 – Courbes superposées de l'évolution de l'anomalie de la température de la Terre et de la puissance surfacique solaire reçue par la Terre au cours des années

L'anomalie de la température de la Terre est l'écart entre la température mesurée en degrés Celsius, positive ou négative, par rapport à la température moyenne normale (calculée sur une période d'au moins 30 ans) annuelle observée sur la Terre.



Source : d'après https://climate.nasa.gov/climate_resources/189/graphic-temperature-vs-solar-activity/

Modèle CCYC : ©DNE

Nom de famille (naissance) :


(Suivi s'il y a lieu, du nom d'usage)

Prénom(s) :

N° candidat : N° d'inscription :

(Les numéros figurent sur la convocation.)

Né(e) le : / /



1.1

1- À partir du document 1, décrire l'évolution de l'anomalie de la température de la Terre et celle de la puissance surfacique solaire reçue par la planète depuis 1900.

Document 2 – L'énergie solaire

Depuis son existence il y a 4,6 milliards d'années, le Soleil fournit en permanence à la Terre l'énergie indispensable à la vie. L'énergie solaire est issue de réactions de fusion nucléaire ayant lieu au cœur du Soleil à une température très élevée (environ 15 millions de Kelvin) en comparaison avec celle de la surface (environ 6 000 Kelvin).

Ainsi, ce sont 620 millions de tonnes d'hydrogène qui, chaque seconde, sont transformées en 615,7 millions de tonnes d'hélium. Cela signifie que, chaque seconde, l'énergie libérée par des réactions de fusion qui se produisent au sein du Soleil est de $3,9 \times 10^{26}$ J soit une puissance totale émise par le Soleil de $3,9 \times 10^{26}$ W. Cette valeur fluctue selon un cycle de 11 ans avec l'activité du Soleil.

Source : d'après l'article du CEA « De l'étoile à l'énergie domestique », 2009

2- À l'aide des documents 1 et 2, justifier que l'activité du Soleil n'est pas un facteur du réchauffement climatique au cours de la dernière soixantaine d'années.

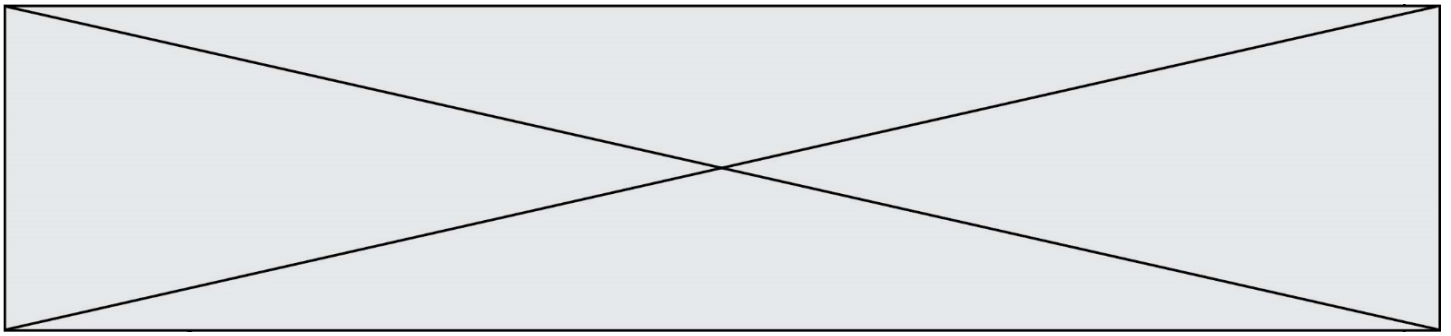
Partie 2 – Le dioxyde de carbone, gaz à effet de serre, facteur de variabilité du climat ?

Le dernier siècle a connu un réchauffement important. Les émissions de gaz à effet de serre, et plus particulièrement les émissions de dioxyde de carbone CO₂, interrogent la responsabilité des humains dans l'élévation de la température globale de la Terre.

3- À partir des documents 3 et 4, expliquer comment le GIEC contribue à établir des savoirs scientifiques.

4- À l'aide du graphique du document 3, recopier les propositions exactes sur la copie, choisies parmi les suivantes :

- en 2000, la température de la Terre a augmenté de 0,9 °C ;
- sur la période 1850-2020, les émissions anthropiques cumulées ont été de 2 410 Gigatonnes de CO₂ ;

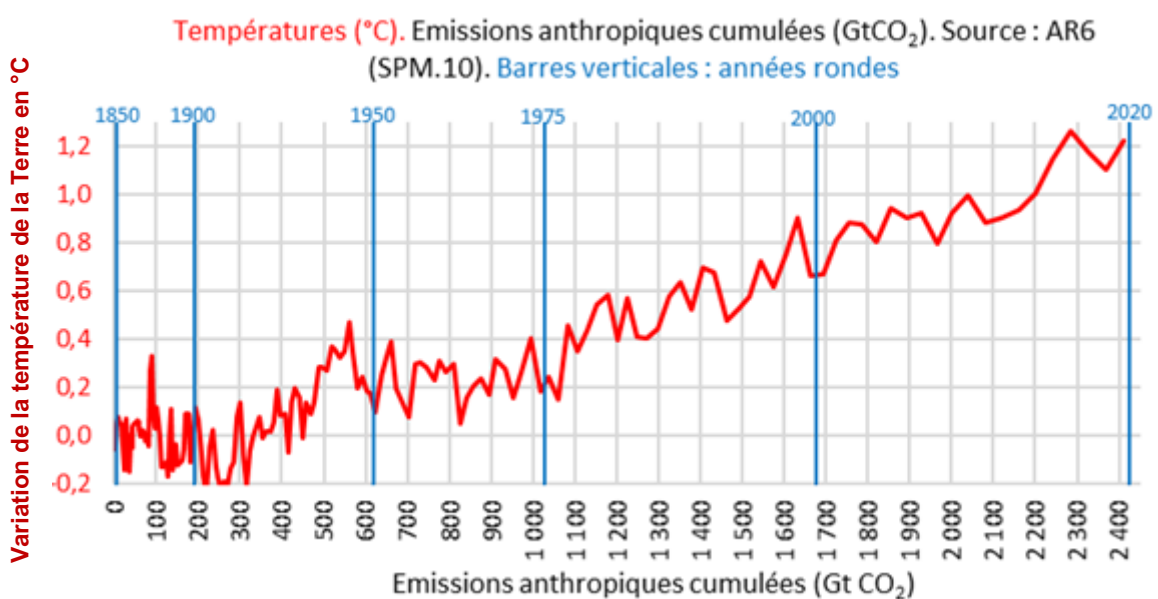


- les émissions anthropiques cumulées de CO₂ ont augmenté jusqu'à la valeur de 2020 Gigatonnes ;
- sur la période 1900-2020, la température de la Terre s'est accrue d'environ 1,1 à 1,2°C ;
- sur la période 1900-2020, les émissions anthropiques cumulées ont doublé.

Document 3 – Le GIEC

Au niveau international, le Groupe d'experts intergouvernemental sur l'évolution du climat (GIEC) a été créé en 1988 par l'Organisation météorologique mondiale (OMM) et le Programme des Nations unies pour l'environnement (PNUE). Pour chaque rapport, les experts du GIEC analysent plusieurs milliers de publications scientifiques. Unique au monde, ce réseau de scientifiques a pour mission de compiler et de rendre compte des connaissances les plus avancées relatives à l'évolution du climat mondial, à ses impacts et aux moyens de les atténuer. Le GIEC est organisé de manière à garantir la qualité et l'indépendance du travail scientifique.

Le GIEC s'appuie sur la représentation ci-dessous pour suggérer une relation entre la température terrestre moyenne et les émissions anthropiques cumulées de dioxyde de carbone, gaz à effet de serre (1 Gt = 1 milliard de tonnes). Cette relation est représentée graphiquement ci-dessous.



Source : <https://www.climato-realistes.fr>

Modèle CCYC : ©DNE

Nom de famille (naissance) :


(Suivi s'il y a lieu, du nom d'usage)

Prénom(s) :

N° candidat : N° d'inscription :

(Les numéros figurent sur la convocation.)

Né(e) le : / /



1.1

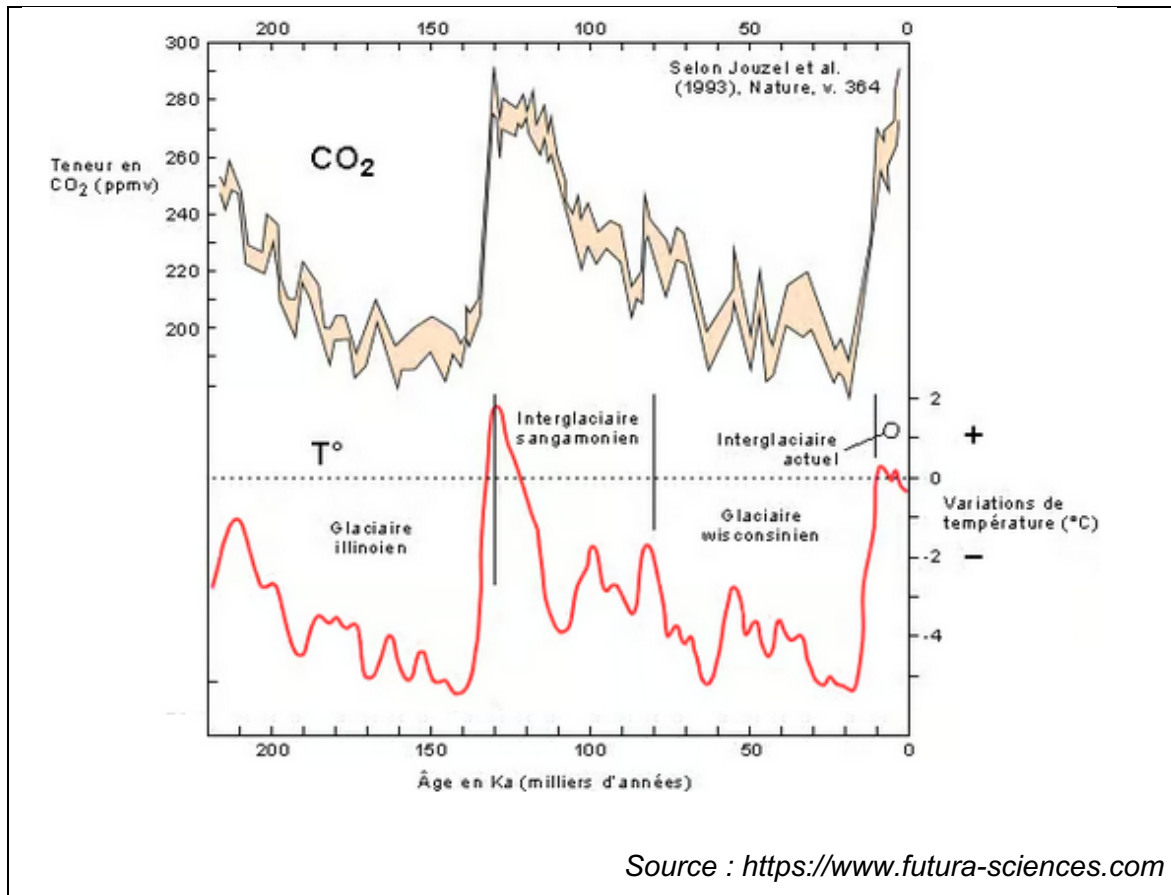
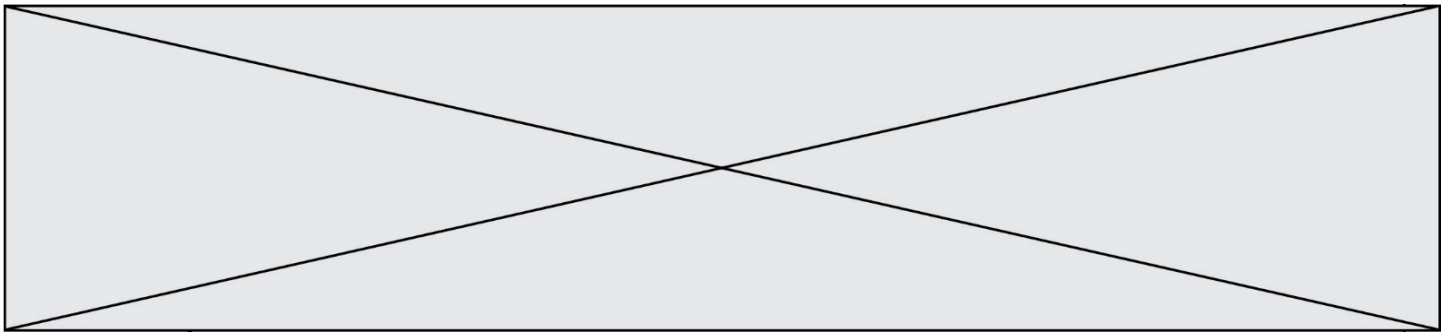
Document 4 – Lien causal et savoirs scientifiques

Bien conscients du fait que la corrélation n'implique pas forcément une causalité, les scientifiques ont recours à des méthodes qui leur permettent d'identifier les causes d'un phénomène avec le plus grand degré de certitude et, notamment, d'exclure que l'effet observé ne soit attribué à d'autres causes possibles. Les scientifiques cherchent à valider leurs hypothèses à l'aide de nombreuses expériences – et notamment la répétition de la même expérience par d'autres chercheurs, dans d'autres laboratoires – par la recherche d'un mécanisme permettant de rendre compte du lien entre la variable et l'effet, et donc, à préciser le lien causal à travers des causes de plus en plus précises et non ambiguës. Toute cette procédure garantit au mieux d'exclure les variables confondantes : on augmente fortement notre confiance dans le lien causal que l'on cherche à établir entre le facteur observé et la variable suspectée. Déterminer un lien causal est l'une des étapes qui permettent aux scientifiques de parvenir à établir des connaissances scientifiques.

Source : d'après <https://cqfd-lamap.org/esprit-critique/competences/cause-et-correlation/>

Document 5 – Graphiques représentant les fluctuations des teneurs en dioxyde de carbone et les fluctuations des températures depuis 220 000 ans sur Terre

Les teneurs en CO₂ sont obtenues par l'analyse de minuscules bulles d'air piégées dans la glace d'une carotte prélevée au nord de la Russie. Les fluctuations de température sont indiquées selon leur déviation par rapport aux températures actuelles (1993).



5- À l'aide de l'ensemble des documents, développer une argumentation permettant de confirmer ou d'infirmer les propos tenus dans la publication énoncée en introduction : « Le climat a toujours changé, mais cela n'a rien à voir avec l'homme ».

Partie B : Niveau terminale

Sur 8 points

Thème « Le futur des énergies »

L'île de Samsø

L'île de Samsø est une petite île danoise située à l'est du Jutland, dans le détroit de Kattegat. En 1997, cette île est devenue la première île à énergie durable du Danemark et a atteint l'autosuffisance énergétique en dix ans.

Modèle CCYC : ©DNE

Nom de famille (naissance) :

(Suivi s'il y a lieu, du nom d'usage)

Prénom(s) :

N° candidat :

N° d'inscription :



Liberté • Égalité • Fraternité
RÉPUBLIQUE FRANÇAISE

Né(e) le :

(Les numéros figurent sur la convocation.)

1.1

Document 1 : Samsø, une île laboratoire

« Les premières mesures ont été d'assurer une production électrique par 11 éoliennes terrestres réparties en trois parcs puis 10 grandes éoliennes off-shore à 3 km des côtes. Un relais électrique collecte la production de chaque parc et la dispache à la fois vers les habitations de l'île, jusqu'à satisfaction des besoins, et vers le réseau national danois. La balance est très nettement en faveur des exportations : trois quarts des 105 000 MWh annuels vont approvisionner le réseau national. »

Extrait d'un article de Planètes Énergies, 21 février 2018

Document 2 : Caractéristiques d'une éolienne

Le physicien allemand Albert Betz affirme que 60 % seulement de l'énergie cinétique du vent est transformée en énergie mécanique au niveau des pâles de l'éolienne.

Énergie cinétique du vent : 17 630 MWh

Diamètre du rotor : 110 m

Hauteur totale : 150 m

Énergie moyenne produite par an : 4 200 MWh



6- Schématiser la chaîne énergétique d'une éolienne.

7- À l'aide des informations du document 2, montrer que l'énergie reçue par une éolienne est de 10 578 MWh.

8- Montrer que les onze éoliennes terrestres présentes sont suffisantes pour satisfaire les besoins en énergie électrique de l'île de Samsø.

9- L'île de Samsø exporte son énergie électrique sur le territoire. Citer un avantage et un inconvénient de cette exportation. Une justification est attendue pour chacune des réponses apportées.



Exercice 3 (au choix) – Niveaux première et terminale de l'enseignement scientifique

Partie A : Niveau première

Sur 8 points

Thème « Une longue histoire de la matière »

Mise en évidence des échanges cellulaires par marquage radioactif

Les molécules organiques sont constituées de différents atomes, dont l'atome de carbone. Dans les techniques de marquages radioactifs, les scientifiques peuvent synthétiser, en laboratoire, des molécules contenant des atomes radioactifs. Grâce à ce procédé, on peut détecter la présence et les mouvements de ces molécules radioactives au sein de la cellule ainsi qu'entre la cellule et son environnement.

L'objectif est de comprendre l'utilisation d'un marquage radioactif pour déterminer l'action d'une substance, la cytochalasine, sur les échanges entre la Levure (Champignon unicellulaire) et son environnement.

Les documents 1 à 5, à consulter, sont fournis sur les pages suivantes.

- 1- À partir des documents 1 et 2, expliquer la démarche qui permet de déterminer graphiquement les demi-vies du ^{11}C et du ^{14}C et donner leurs valeurs.

Afin de comprendre le mode d'action de la cytochalasine B sur la Levure *Saccharomyces cerevisiae*, qui est un organisme unicellulaire, des molécules de glucose sont marquées au carbone 14 (document 3).

Afin de comprendre le rôle des transporteurs GLUT présents dans la membrane des Levures, des expériences sont réalisées en présence de ^{14}C -glucose. Les résultats sont présentés dans le document 4.

- 2- Montrer, à partir des documents 3 et 4, que la Levure est en interaction avec son milieu grâce à des transporteurs GLUT.
- 3- À partir des informations tirées du document 5 et des connaissances, indiquer les effets de la cytochalasine B sur les Levures et justifier son utilisation commerciale comme antifongique (substance permettant de tuer les Champignons).

Modèle CCYC : ©DNE

Nom de famille (naissance) :

(Suivi s'il y a lieu, du nom d'usage)

Prénom(s) :

N° candidat :

N° d'inscription :



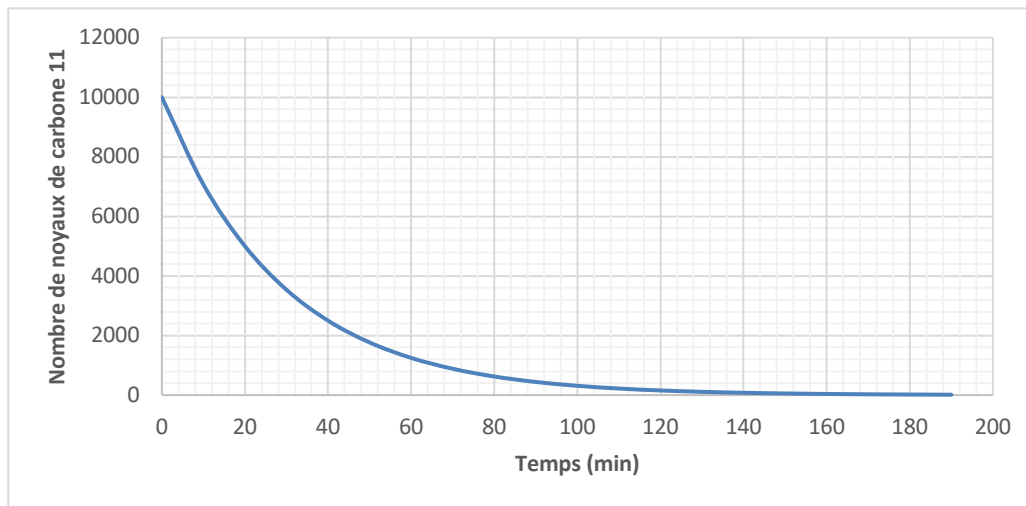
Liberté • Égalité • Fraternité
RÉPUBLIQUE FRANÇAISE

Né(e) le :

(Les numéros figurent sur la convocation.)

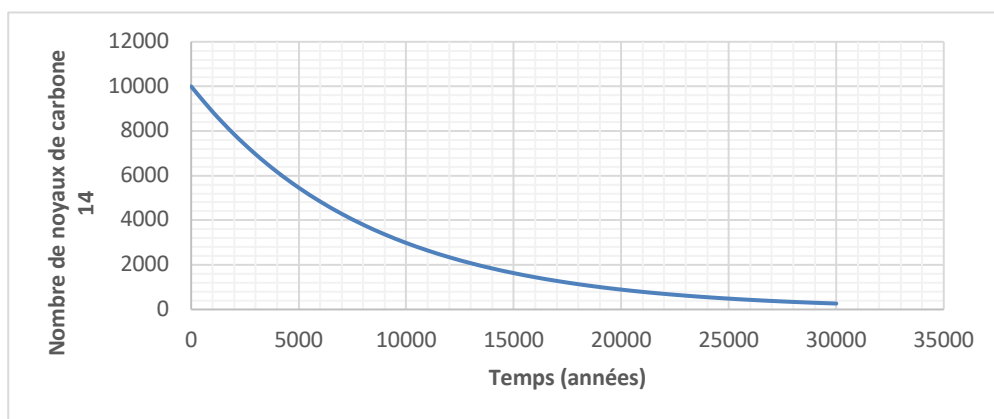
1.1

Document 1 – Courbe de décroissance radioactive du carbone 11



Source personnelle

Document 2 – Courbe de décroissance radioactive du carbone 14



Source personnelle

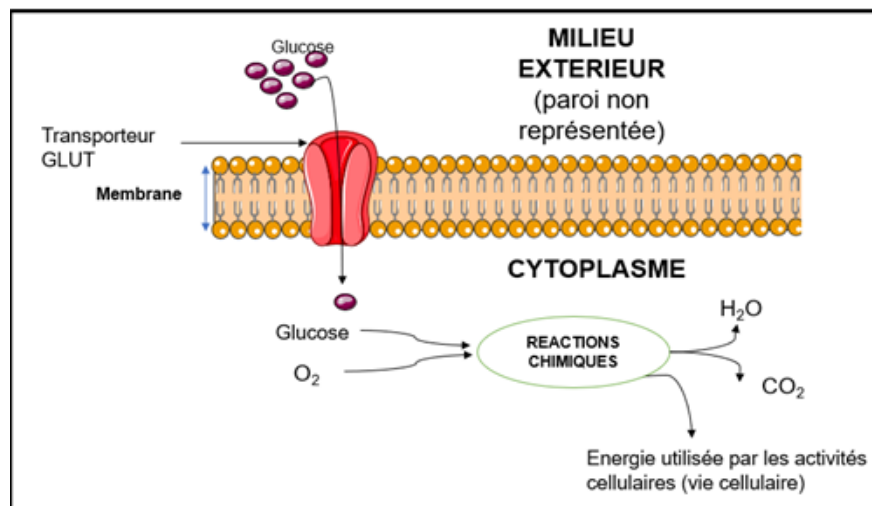
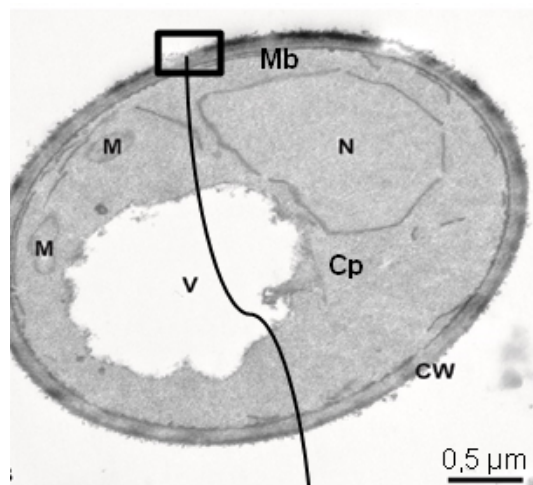


Document 3 – Observation de *Saccharomyces cerevisiae* et schéma d'interprétation de la membrane plasmique

La photographie de *Saccharomyces cerevisiae* ci-dessous présente les différentes structures qui la composent avec un schéma interprétatif d'une portion de la membrane plasmique.

Légendes :

CW = Paroi ; Mb
= Membrane
plasmique ; N =
Noyau ; V =
vacuole ; M =
Mitochondries ;
Cp =
Cytoplasme.



Source : photographie modifiée d'après Frankl, Andri et al. "Electron microscopy for ultrastructural analysis and protein localization in *Saccharomyces cerevisiae*." *Microbial Cell 2* (2015). Schéma d'après <https://smart.servier.com/>

Modèle CCYC : ©DNE

Nom de famille (naissance) :

(Suivi s'il y a lieu, du nom d'usage)

--	--	--	--	--	--	--	--	--	--	--	--	--	--	--	--	--	--	--	--	--

Prénom(s) :

--	--	--	--	--	--	--	--	--	--	--	--	--	--	--	--	--	--	--	--	--

N° candidat :

--	--	--	--	--	--	--	--	--	--	--	--	--	--	--	--	--	--

N° d'inscription :

--	--	--	--



Né(e) le :

(Les numéros figurent sur la convocation.)

		/			/						
--	--	---	--	--	---	--	--	--	--	--	--

1.1

Document 4 – Absorption du glucose marqué au carbone 14 par des cellules

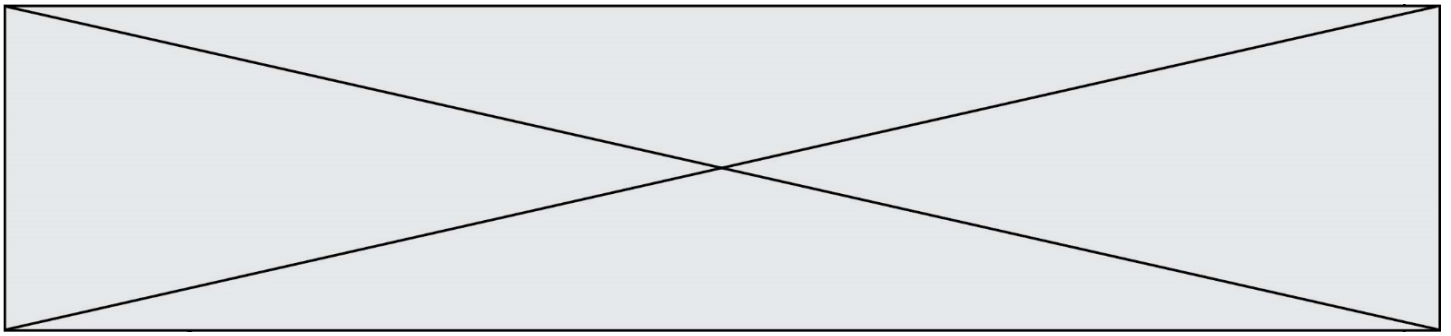
Des cellules dont les membranes contiennent des transporteurs GLUT fonctionnels sont cultivées dans un milieu contenant du glucose marqué radioactivement au ^{14}C . La quantité de glucose marqué au ^{14}C absorbée par la cellule est ensuite déterminée. Les résultats sont présentés dans le tableau ci-dessous.

Temps (minutes)	0	1	2	6	10
Quantité de glucose marqué au ^{14}C absorbée par la cellule (en unités arbitraires)	0	1,8	2,2	2,5	2,7

Dans le cas d'une inactivation des transporteurs GLUT, l'absorption de glucose marqué au ^{14}C est très fortement inhibée.

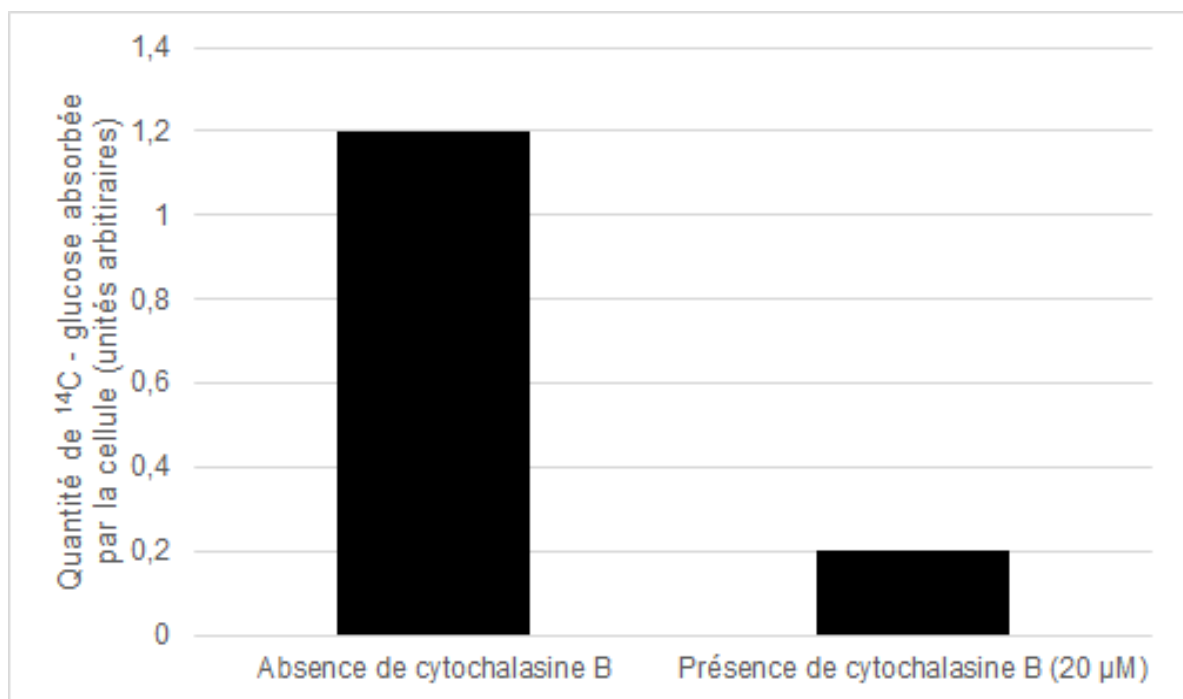
Des résultats similaires sont observés chez la Levure.

Source : d'après Lundgaard, I., Li, B., Xie, L. et al. Direct neuronal glucose uptake heralds activity-dependent increases in cerebral metabolism. *Nat Commun* 6, 6807 (2015).




Document 5 – Absorption par des cellules de glucose marqué au ^{14}C , en présence de cytochalasine B

Des cellules sont cultivées dans un milieu en présence de glucose marqué au ^{14}C et soit, en présence de cytochalasine B, soit en son absence. La quantité de glucose marqué au ^{14}C absorbée par la cellule, en un temps donné, est déterminée. Les résultats sont présentés dans la figure ci-dessous. Des résultats similaires sont obtenus sur des Levures.



Source : d'après Lundgaard, I., Li, B., Xie, L. et al. *Direct neuronal glucose uptake heralds activity-dependent increases in cerebral metabolism*. *Nat Commun* 6, 6807 (2015).

Modèle CCYC : ©DNE																				
Nom de famille (naissance) : <small>(Suivi s'il y a lieu, du nom d'usage)</small>																				
Prénom(s) :																				
N° candidat :											N° d'inscription :									
 RÉPUBLIQUE FRANÇAISE	<small>(Les numéros figurent sur la convocation.)</small>																			
	Né(e) le :			/			/													

1.1

Partie B : Niveau terminale

Sur 8 points

Thème « Science, climat et société »

Réchauffement climatique et pêche au carrelet

La préfecture de Charente-Maritime annonce, fin 2020, la mise en vente de onze emplacements permettant la réalisation de pontons de pêche au carrelet sur six communes du littoral. La pêche au carrelet utilise un filet mis à l'eau à partir d'une cabane sur pilotis.

Ces petites cabanes en bois perchées, construites sur les rochers ou la vase des zones côtières, font partie du patrimoine de Charente-Maritime et sont très recherchées. Elles transmettent souvent de génération en génération.

D'après Franceinfo.fr, octobre 2020

On cherche à comprendre les conséquences du réchauffement climatique sur le niveau marin et son impact sur le littoral, en particulier concernant la pêche au carrelet.

Document 1 : variation du niveau des océans par dilatation thermique

L'un des indicateurs du réchauffement climatique global est l'élévation du niveau marin. L'une des causes de cette augmentation est la dilatation thermique de l'eau.

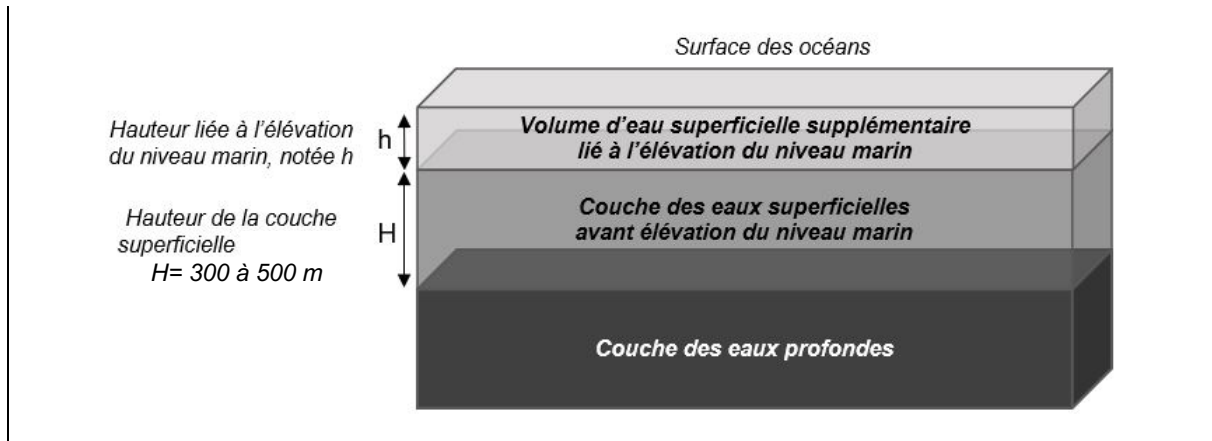
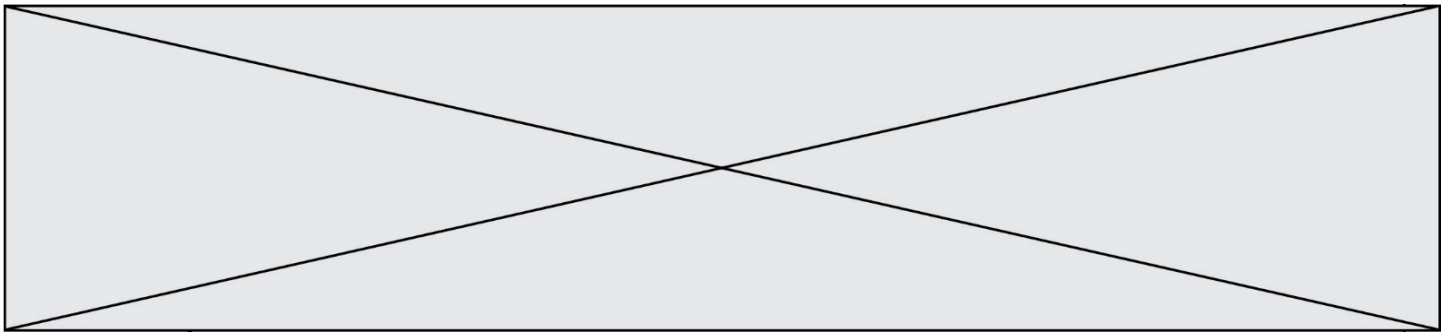
On peut modéliser les océans par un parallélépipède comme sur le schéma suivant.

Seule la couche superficielle (de hauteur $H = 300$ à 500 m sur le schéma) est en fait sensible au réchauffement et donc impactée par cette dilatation thermique.

On peut modéliser l'élévation du niveau marin (notée h sur le schéma) grâce à la formule suivante :

$$h = \alpha \times H \times \Delta T$$

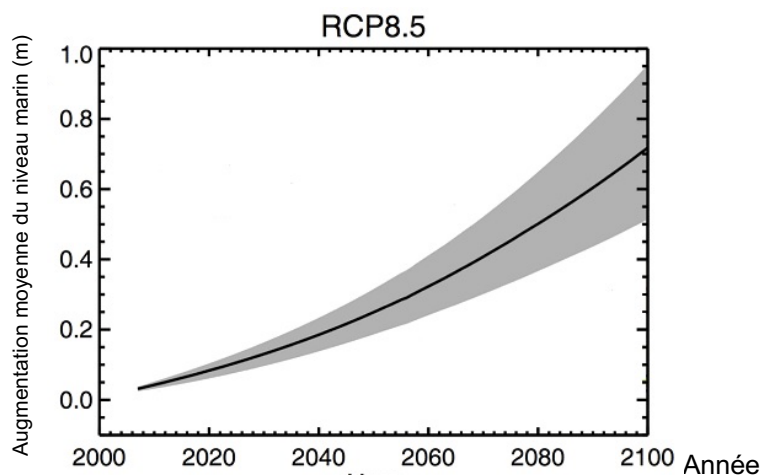
avec α le coefficient de dilatation thermique et ΔT la variation de température.



Document 2 : scénarios du GIEC et projections climatiques

Le 5^{ème} rapport du GIEC (Groupe d'experts intergouvernemental sur l'évolution du climat) propose plusieurs scénarios, établis à l'aide de modélisations climatiques, en fonction du forçage radiatif estimé. Le scénario RCP 8.5 (forçage de $8,5 \text{ W.m}^{-2}$) est le plus pessimiste, mais c'est un scénario tout à fait envisageable car il correspond à la poursuite des émissions actuelles de gaz à effet de serre.

Le graphique ci-dessous montre les prédictions de l'élévation du niveau marin (en mètres) dans le scénario RCP 8.5 d'ici à 2100.



RCP (Representative Concentration Pathways) :
profils représentatifs d'évolution de concentration de gaz à effet de serre

D'après Yale Climate connections

Modèle CCYC : ©DNE

Nom de famille (naissance) :


(Suivi s'il y a lieu, du nom d'usage)

Prénom(s) :

N° candidat : N° d'inscription :

(Les numéros figurent sur la convocation.)

Né(e) le : / /



1.1

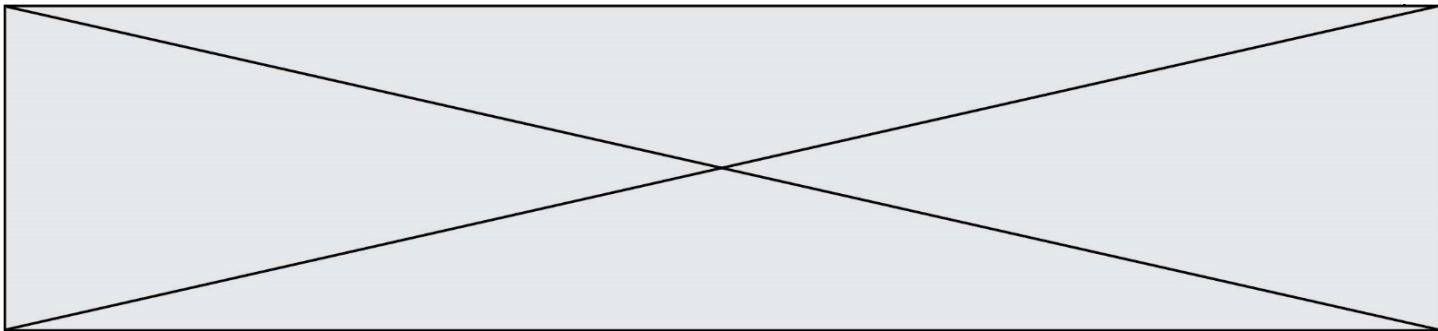
4- Les scénarios RCP du GIEC prennent en compte les émissions anthropiques de gaz à effet de serre : citer deux des principaux gaz à effet de serre ainsi qu'une source liée à l'activité humaine pour chacun d'eux.

5- Dans le scénario RCP 8.5, on peut estimer qu'à l'horizon 2100, l'augmentation de la température moyenne des océans (ΔT) sera de l'ordre de 3°C . D'autre part, on considère que le coefficient de dilatation thermique des océans, dans la gamme des températures considérées, est $\alpha = 2,7 \times 10^{-4} \text{ }^\circ\text{C}^{-1}$. On considère une hauteur H de la couche superficielle de l'océan de 500 m. Calculer l'élévation h du niveau marin en 2100 selon le scénario RCP 8.5.

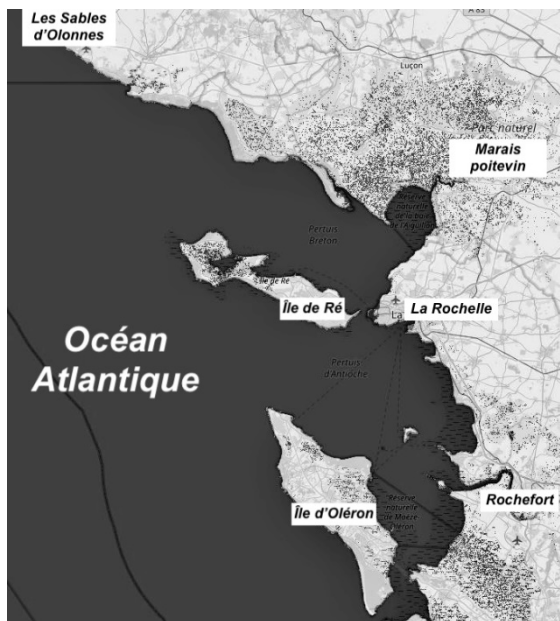
6- Par lecture graphique, estimer le niveau d'élévation moyen prédit en 2100 par le scénario RCP 8.5.

7- Indiquer si la dilatation thermique des océans est la seule cause de l'augmentation du niveau des océans. Justifier et proposer une autre cause possible.

8- À partir de l'exploitation du document 3 de la page suivante, discuter de la durabilité d'une cabane sur pilotis pour la pêche au carrelet dans le contexte du scénario RCP 8.5. Justifier.



Document 3 : carte des terres émergées du littoral de Charente-Maritime en fonction de l'élévation du niveau marin




Niveau actuel

Sur les cartes, les zones foncées correspondent aux zones immergées (sous l'eau) et les zones claires correspondent aux terres émergées.

Le scénario RCP 8.5 prévoit une augmentation de 3 m en 2250.

D'après flood.firetree.net



Élévation de 1 m



Élévation de 3 m en 2250