

Modèle CCYC : ©DNE

**Nom de famille** (naissance) :


(Suivi s'il y a lieu, du nom d'usage)

**Prénom(s)** :

**N° candidat** :  **N° d'inscription** :

(Les numéros figurent sur la convocation.)

**Né(e) le** :  /  /



1.1

## Évaluation

**CLASSE** : Première

**VOIE** :  Générale  Technologique  Toutes voies (LV)

**ENSEIGNEMENT** : histoire-géographie

**DURÉE DE L'ÉPREUVE** : 2h

Niveaux visés (LV) : LVA                      LVB

Axes de programme : 10 août 1792, Waterloo

**CALCULATRICE AUTORISÉE** :  Oui  Non

**DICTIONNAIRE AUTORISÉ** :  Oui  Non

Ce sujet contient des parties à rendre par le candidat avec sa copie. De ce fait, il ne peut être dupliqué et doit être imprimé pour chaque candidat afin d'assurer ensuite sa bonne numérisation.

Ce sujet intègre des éléments en couleur. S'il est choisi par l'équipe pédagogique, il est nécessaire que chaque élève dispose d'une impression en couleur.

Ce sujet contient des pièces jointes de type audio ou vidéo qu'il faudra télécharger et jouer le jour de l'épreuve.

**Nombre total de pages** : 6



**Première partie : questions (sur 10 points)**

1. Pour chacune des propositions suivantes répondez par vrai ou par faux :  
(reportez les réponses sur votre copie)

Une agglomération urbaine se caractérise par la continuité des espaces bâtis entre la ville centre et sa banlieue.	V	F
La ville-centre concentre la totalité des activités et fonctions de commandement d'une métropole.	V	F
Une périphérie est un espace délaissé par un centre urbain.	V	F

2. « Les métropoles sont inégalement attractives et n'exercent pas la même influence ». Justifiez cette affirmation.

3. Dater la fin de la Deuxième République.

4. Donnez deux exemples des transformations économiques et sociales de la France sous le Second Empire.

5. Justifiez l'affirmation suivante : « l'activité économique sous le Second Empire est liée au développement de l'industrie ».

Modèle CCYC : ©DNE

Nom de famille (naissance) :


(Suivi s'il y a lieu, du nom d'usage)

Prénom(s) :

N° candidat :  N° d'inscription :

(Les numéros figurent sur la convocation.)

Né(e) le :  /  /



1.1

## Deuxième partie : analyse de document(s) (sur 10 points)

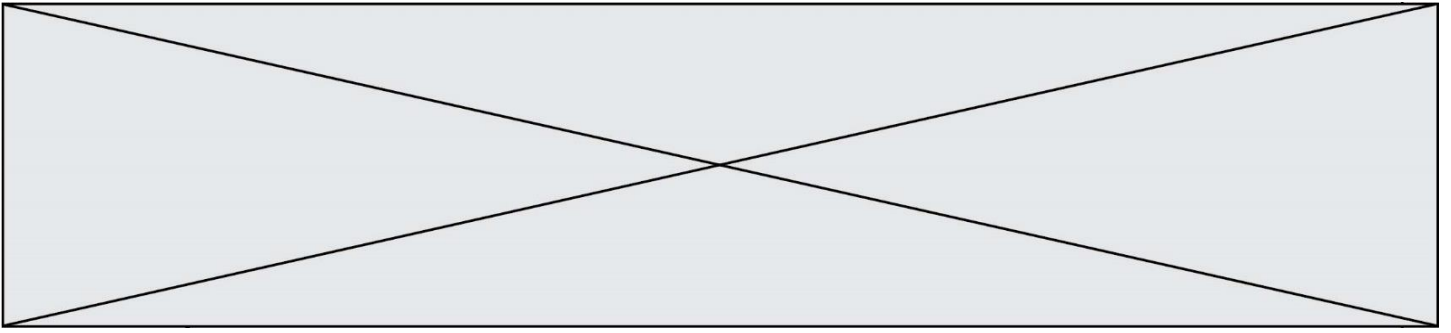
Le candidat choisit l'un des deux sujets.

### Sujet d'étude : 10 août 1792 : la chute de la monarchie et le basculement vers une république révolutionnaire

Document : *Le 10 août 1792* par François GÉRARD, vers 1794-1795.

Légende : Ce dessin remporte le concours de l'an II, instauré en 1794 par la Convention. Ce concours invitait « tous les artistes de la République à représenter à leur choix sur la toile les époques les plus glorieuses de la République française ». Il s'agit d'un dessin préparatoire à un tableau qui devait s'intituler « Le peuple français demandant la destitution du tyran à la journée du 10 août ». Le tableau n'est pas achevé.





Notes :

1- Sur les pancartes : « Plus de roi » ; « Patrie, Égalité, Liberté ».

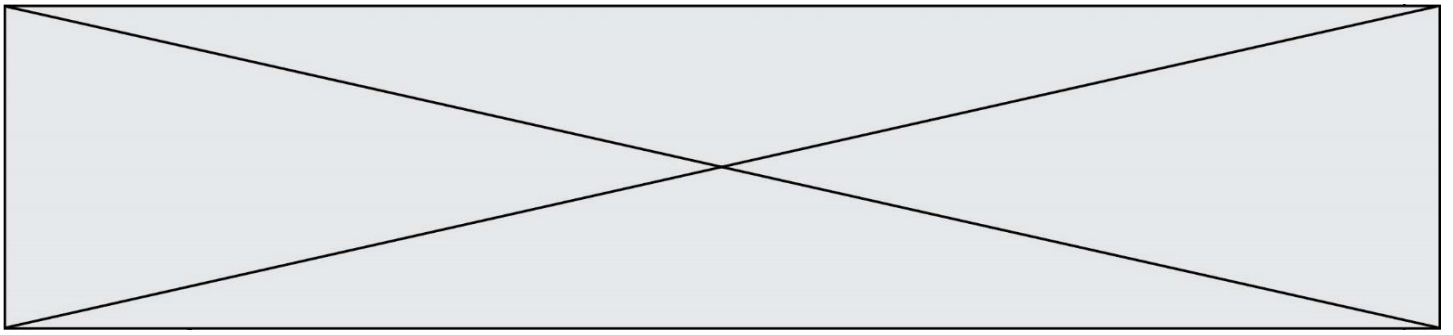
2- La famille royale.

Source : François GÉRARD, Le 10 août 1792, Dessin à la plume. 67 cm X 92 cm.  
Musée du Louvre.

Questions :

- 1) Quels protagonistes de cette journée pouvez-vous identifier sur ce dessin ?
- 2) Relevez des symboles et des valeurs qui font référence à la Révolution.
- 3) Dans quel contexte politique et dans quel lieu s'inscrit cette scène ?
- 4) Expliquez pour quelles raisons cette journée est considérée comme une journée révolutionnaire.





4. Emmanuel de Grouchy (1766-1847) est le maréchal d'Empire français.
5. Gebhard Leberecht von Blücher (1742-1819) est le général de l'armée prussienne.
6. Les tambours-majors sont les soldats-musiciens placés en tête des régiments de l'armée napoléonienne sur le champ de bataille, chargés de rythmer l'assaut avec leurs tambours.

Source : Extrait du poème "L'Expiation" de Victor Hugo (1802-1885), *Les châtiments*, 1853.

Questions :

- 1) Présentez le document en insistant sur son auteur, sa forme originale et l'événement relaté.
- 2) À l'aide du document, identifiez les forces en présence.
- 3) Présentez les enjeux de cette bataille.
- 4) Montrez comment l'auteur montre la violence des combats. Cette représentation est-elle conforme à la réalité ?
- 5) Expliquez les deux derniers vers du texte en vous attachant à montrer les conséquences de cette bataille pour Napoléon I<sup>er</sup>, pour la France et pour l'Europe.