



Exercice 1 : Un antiseptique : l'eau oxygénée (5 points)

L'eau oxygénée est une solution aqueuse de peroxyde d'hydrogène H_2O_2 . C'est un antiseptique de la famille des oxydants, dont la concentration est exprimée dans le commerce par un titre en volume. Ainsi une solution à 10 volumes est utilisée comme antiseptique et hémostatique pour des plaies et des brûlures superficielles peu étendues. Une eau oxygénée à 40 volumes est 4 fois plus concentrée qu'une solution à 10 volumes ; elle est employée pour blanchir certains bois et traiter l'eau d'un aquarium.

Le **document 1** indique les conditions d'utilisation et de conservation d'une eau oxygénée.

Données : le peroxyde d'hydrogène intervient dans deux couples oxydant/réducteur.

Couple oxydant/réducteur	Demi-équation d'oxydoréduction
Peroxyde d'hydrogène / eau : $\text{H}_2\text{O}_2(\text{aq}) / \text{H}_2\text{O}(\text{l})$	$\text{H}_2\text{O}_2(\text{aq}) + 2\text{H}^+(\text{aq}) + 2\text{e}^- = 2\text{H}_2\text{O}(\text{l})$
Dioxygène / peroxyde d'hydrogène : $\text{O}_2(\text{g}) / \text{H}_2\text{O}_2(\text{aq})$	$\text{O}_2(\text{g}) + 2\text{H}^+(\text{aq}) + 2\text{e}^- = \text{H}_2\text{O}_2(\text{aq})$

Document 1 : conditions d'utilisation et de conservation de l'eau oxygénée.

L'eau oxygénée est généralement conditionnée dans un flacon en verre ou en polyéthylène, ces flacons sont à conserver à l'abri de la lumière et de la chaleur.

Pour les médicaments à usage multiple comme l'eau oxygénée, il est primordial d'inscrire la date d'ouverture de l'emballage. Le produit fini qui est vendu en pharmacie ou parapharmacie est stable 12 mois, toutefois après une première utilisation, le liquide restant doit être utilisé dans les 30 jours qui suivent l'ouverture du flacon.





Exercice : Adolescents et fast-food (5 points)

Document 1 : Apports nutritionnels des produits les plus consommés

Les fast-foods sont particulièrement appréciés des adolescents qui les fréquenteraient en moyenne deux fois par mois, selon une enquête publiée en 2014 par le CERIN (Centre de recherche et d'informations nutritionnelles).

Outre la nourriture que l'on y sert, rapide et peu chère, ils aiment particulièrement le fait de s'y retrouver en groupe.

Si certains s'y rendent de façon occasionnelle, d'autres font du fast-food leur cantine quotidienne, engendrant de ce fait une consommation importante de graisses et de sucres. Quel peut être l'impact sur la santé d'une fréquentation régulière du fast-food ? Dans ce cas, quels sont les conseils nutritionnels que l'on peut donner ?

Produit	Portion (g)	Apport énergétique (kcal)	Protéines (g)	Lipides (g)	Glucides (g)
Hamburger	103	262	13,1	9,2	31,5
Cheeseburger	117	305	15,6	12,9	31,8
Double hamburger	214	512	25,9	25,8	43,8
Frites (petite portion)	106	299	3,8	14,7	37,9
Nuggets de poulet	200	496	2,6	20,6	42,4
Salade César au poulet	309	349	25,7	16,4	19,2
Fruits à croquer	80	44	-	-	11
Muffin chocolat	100	347	5	19	39
Sundae caramel	178	309	8,5	15,1	34,8
Milk shake vanille	345	385	11,6	10,4	61,2



2. En utilisant les données, vérifier que l'apport énergétique d'une petite portion de frites est bien de 299 kcal.

Un jeune homme décide de se rendre au fast-food pour le dîner. Dans la journée, son alimentation lui a apporté environ 1500 kcal. Voici le menu qu'il choisit :

- un cheeseburger,
- une petite portion de frites,
- un sundae caramel,
- un soda au cola.

3. Calculer l'apport énergétique de ce repas à l'aide du **document 1**.

4. Proposer un commentaire, à l'aide des informations contenues dans le **document 2**, permettant d'envisager si ce menu convient au jeune homme pour compléter ses besoins caloriques journaliers.

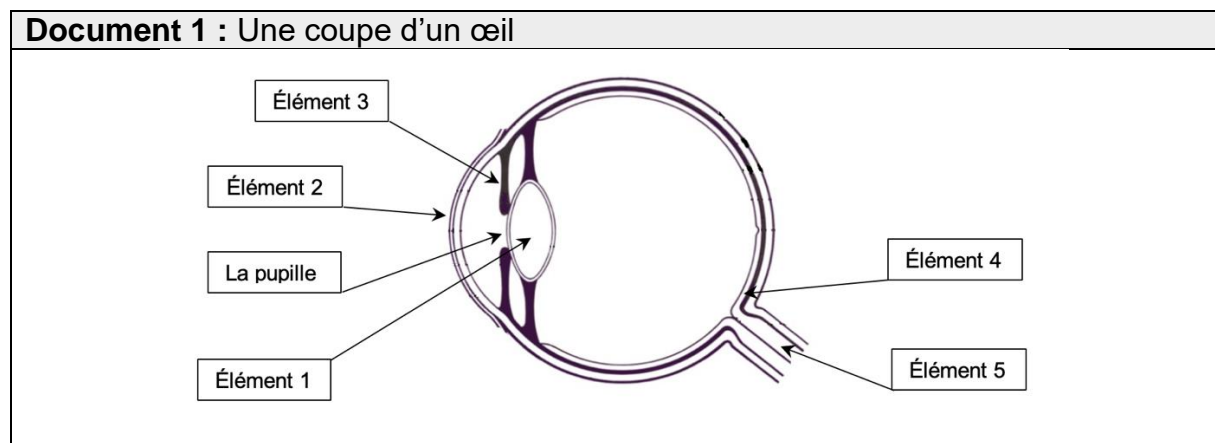
5. Indiquer si ce menu vérifie la règle du « 421 GPL » décrite dans le **document 2**, à partir du calcul des masses de protéines, glucides et lipides apportées par le menu.

6. Porter un regard critique sur ce menu. Donner alors quelques conseils au jeune homme en termes de nutrition à l'appui du **document 2**.

7. Prévoir quelles peuvent être les conséquences d'une fréquentation quotidienne des fast-foods sur la santé des adolescents.

Exercice 3 : Une consultation ophtalmologique (5 points)

L'ophtalmologie est la branche de la médecine chargée, entre autres, du traitement des maladies de l'œil, l'un des organes les plus complexes et perfectionnés de notre corps.





2. Associer à chaque élément de l'œil, cité précédemment, son rôle parmi les suivants :

Endroit où l'image se forme	Fait converger les rayons lumineux	Transmet les informations de l'œil au cerveau	Paroi transparente qui se trouve à l'avant de l'œil et le protège	Partie colorée qui permet de régler la quantité de lumière entrant dans l'œil
-----------------------------	------------------------------------	---	---	---

3. Décrire comment varie le diamètre de la pupille lorsque la luminosité augmente.

On appelle œil emmétrope, un œil « normal », ne nécessitant aucune correction. Pour simplifier sa représentation, on peut modéliser l'ensemble des milieux transparents de l'œil par une unique lentille équivalente convergente. Pour un œil emmétrope au repos, les rayons issus d'un objet à l'infini sont déviés et forment l'image sur la rétine, la distance focale f de la lentille équivalente est, alors, égale à $1,67 \times 10^{-2}$ m.

4. À l'appui des **documents 2 et 3**, calculer la vergence, notée V_E , d'un œil emmétrope au repos.

Un patient qui a des difficultés à voir les objets lointains se rend chez son ophtalmologiste. L'examen du patient révèle que, pour une vision à l'infini, son œil droit a une vergence V_P égale à $62,0 \delta$. Le **document 4** schématise la progression des rayons lumineux issus d'un objet à l'infini pour cet œil au repos.

5. Écrire les phrases suivantes en choisissant le mot qui convient parmi les propositions en italique.

L'œil droit de ce patient est trop *divergent/convergent*. Ce patient souffre de *myopie/d'hypermétropie* pour cet œil.

6. Indiquer quel type de lentille (convergente ou divergente), l'ophtalmologiste devra prescrire au patient pour améliorer sa vision.

On note : V_E la vergence d'un œil emmétrope,
 V_C la vergence de la lentille correctrice,
 V_P la vergence de l'œil du patient.

Modèle CCYC : ©DNE

Nom de famille (naissance) :

(Suivi s'il y a lieu, du nom d'usage)

Prénom(s) :

N° candidat : N° d'inscription :

(Les numéros figurent sur la convocation.)

Né(e) le : / /

 Liberté • Égalité • Fraternité
RÉPUBLIQUE FRANÇAISE

1.1

7. Donner la relation liant V_E , V_C et V_P .

8. Calculer la vergence de la lentille correctrice V_C prescrite par l'ophtalmologiste pour l'œil droit du patient.

Exercice 4 : Signalisation en agglomération pour la sécurité des enfants (5 points)

En agglomération, plusieurs panneaux de signalisation font référence à la vitesse du véhicule.

A l'entrée d'une petite agglomération, on trouve le panneau 1, indiquant la vitesse maximale autorisée, en $\text{km}\cdot\text{h}^{-1}$:

Panneau 1



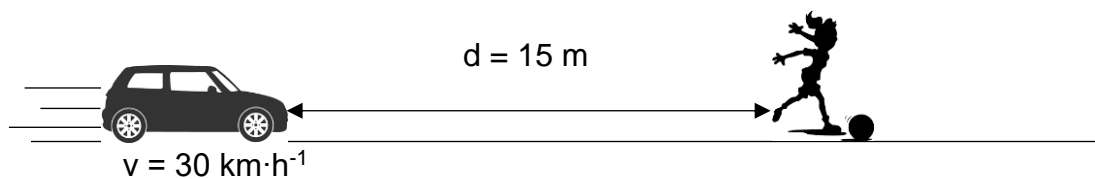
Dans le centre du village, aux abords d'un groupe scolaire, on trouve également le panneau 2 :

Panneau 2



Un automobiliste traverse ce village à la vitesse de $50 \text{ km}\cdot\text{h}^{-1}$ et réduit sa vitesse à $30 \text{ km}\cdot\text{h}^{-1}$ à l'approche de l'école primaire, lorsqu'il aperçoit le panneau 2.

Soudain, une fillette bondit brusquement sur la route, devant la voiture, pour récupérer son ballon, comme l'indique le schéma ci-dessous :



La voiture pourra-t-elle s'arrêter avant de percuter l'enfant ?

Données :

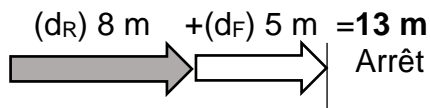
$$50 \text{ km}\cdot\text{h}^{-1} = 14 \text{ m}\cdot\text{s}^{-1}$$



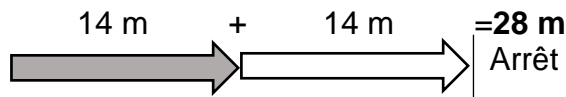
Document 1 : Distances d'arrêt incompressibles avec un temps de réaction normal d'une seconde à différentes vitesses

Distance d'arrêt = distance d_R parcourue pendant le temps de réaction + distance de freinage d_F

A 30 km/h :



A 50 km/h :



Source : d'après <http://www.securite-routiere.gouv.fr>

1. A partir du **document 1**, nommer et définir les deux distances qui composent la distance d'arrêt.

2. *Distance d_R parcourue pendant le temps de réaction*

2.1. Convertir la vitesse indiquée sur le panneau 2 dans l'unité du système international.

2.2. Exprimer la distance d_R , parcourue par la voiture, en fonction de la vitesse v de la voiture et du temps de réaction Δt . Préciser l'unité de chaque grandeur dans le système international d'unités.

2.3. Vérifier par le calcul que cette distance d_R correspond à celle donnée dans le document 1, si l'on considère que le conducteur a un temps de réaction normal d'1 s.

2.4. Citer un facteur qui pourrait augmenter le temps de réaction de l'automobiliste.

3. Citer un facteur qui pourrait augmenter la distance de freinage d_F .

4. *Distance d'arrêt du véhicule*

4.1. D'après le **document 1**, le conducteur pourra-t-il arrêter sa voiture assez tôt pour ne pas percuter l'enfant à la vitesse de $30 \text{ km}\cdot\text{h}^{-1}$? Justifier la réponse.

4.2. La réponse serait-elle la même si le conducteur n'avait pas réduit sa vitesse et roulait à $50 \text{ km}\cdot\text{h}^{-1}$ quand il aperçoit la fillette ? La réponse doit être argumentée par des valeurs numériques.

5. Préciser en quoi l'utilisation du panneau 2 à côté de l'école semble justifiée ?