

Modèle CCYC : ©DNE

**Nom de famille** (naissance) :


(Suivi s'il y a lieu, du nom d'usage)

**Prénom(s)** :

**N° candidat** :  **N° d'inscription** :

(Les numéros figurent sur la convocation.)

**Né(e) le** :  /  /



1.1

## ÉVALUATION

**CLASSE** : Terminale

**VOIE** :  Générale  Technologique  Toutes voies (LV)

**ENSEIGNEMENT** : Enseignement scientifique

**DURÉE DE L'ÉPREUVE** : 2h

Niveaux visés (LV) : LVA LVB

Axes de programme :

**CALCULATRICE AUTORISÉE** :  Oui  Non

**DICTIONNAIRE AUTORISÉ** :  Oui  Non

Ce sujet contient des parties à rendre par le candidat avec sa copie. De ce fait, il ne peut être dupliqué et doit être imprimé pour chaque candidat afin d'assurer ensuite sa bonne numérisation.

Ce sujet intègre des éléments en couleur. S'il est choisi par l'équipe pédagogique, il est nécessaire que chaque élève dispose d'une impression en couleur.

Ce sujet contient des pièces jointes de type audio ou vidéo qu'il faudra télécharger et jouer le jour de l'épreuve.

**Nombre total de pages** : 6

**Le candidat traite les deux exercices  
qui sont proposés dans ce sujet.**



## Exercice 1 – Niveau terminale

Thème « Le futur des énergies »

### L'île de Samsø

Sur 10 points

L'île de Samsø est une petite île danoise située à l'est du Jutland, dans le détroit de Kattegat. En 1997, cette île est devenue la première île à énergie durable du Danemark et a atteint l'autosuffisance énergétique en dix ans.

#### Document 1 : Samsø, une île laboratoire

« Les premières mesures ont été d'assurer une production électrique par 11 éoliennes terrestres réparties en trois parcs puis 10 grandes éoliennes off-shore à 3 km des côtes. Un relais électrique collecte la production de chaque parc et la dispatche à la fois vers les habitations de l'île, jusqu'à satisfaction des besoins, et vers le réseau national danois. La balance est très nettement en faveur des exportations : trois quarts des 105 000 MWh annuels vont approvisionner le réseau national. »

*Extrait d'un article de Planètes Énergies, 21 février 2018*

#### Document 2 : Caractéristiques d'une éolienne

Le physicien allemand Albert Betz affirme que 60 % seulement de l'énergie cinétique du vent est transformée en énergie mécanique au niveau des pâles de l'éolienne.

Énergie cinétique du vent : 17 630 MWh

Diamètre du rotor : 110 m

Hauteur totale : 150 m

Énergie moyenne produite par an : 4 200 MWh



1- Schématiser la chaîne énergétique d'une éolienne.

2- À l'aide des informations du document 2, montrer que l'énergie reçue par une éolienne est de 10 578 MWh.





## Exercice 2 – Niveau terminale

Thème « Science, climat et société »

### L'histoire du dioxygène terrestre

Sur 10 points

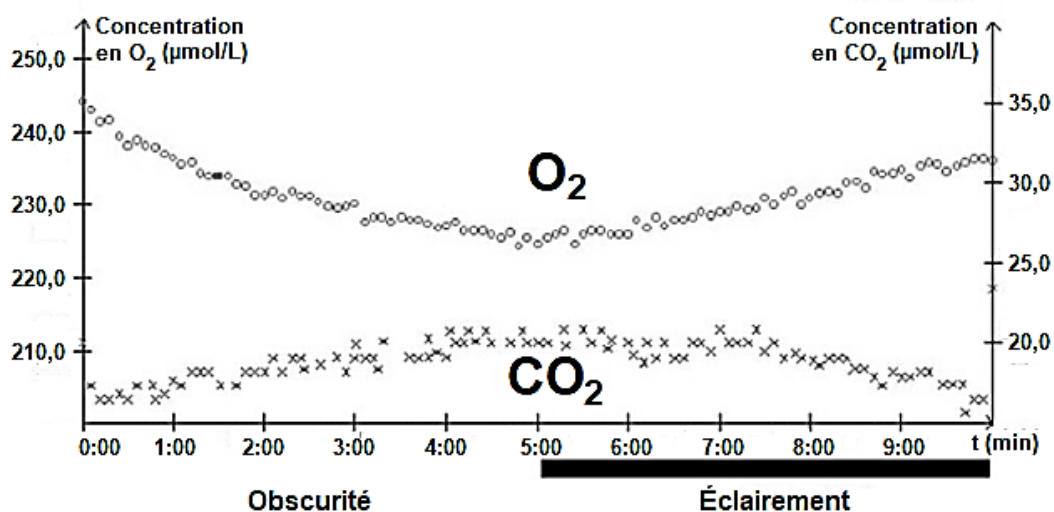
L'atmosphère primitive de la Terre, issue du dégazage au cours du refroidissement de la Terre, était très différente de l'atmosphère actuelle. La transformation de l'atmosphère au cours du temps est marquée en particulier par un fort enrichissement en dioxygène, ce qui lui a conféré un caractère oxydant.

L'objectif de cet exercice est de rechercher des arguments expliquant l'enrichissement de l'atmosphère en dioxygène, il y a 2,4 milliards d'années.

#### **Document 1 : métabolisme des cyanobactéries actuelles**

Une culture de cyanobactéries est placée dans une enceinte hermétique. Les teneurs en dioxygène et en dioxyde de carbone sont relevées sous différentes conditions d'éclairage. Les résultats sont présentés sur le graphique ci-dessous.

Évolution des teneurs en dioxygène et dioxyde de carbone de la culture de cyanobactéries



Modèle CCYC : ©DNE

Nom de famille (naissance) :


(Suivi s'il y a lieu, du nom d'usage)

Prénom(s) :

N° candidat :  N° d'inscription :

(Les numéros figurent sur la convocation.)

Né(e) le :  /  /



RÉPUBLIQUE FRANÇAISE

1.1

### Données :

Il existe différents types de métabolismes, notamment :

- La respiration :  $\text{sucre} + \text{O}_2 \rightarrow \text{CO}_2 + \text{H}_2\text{O}$
- La photosynthèse :  $\text{CO}_2 + \text{H}_2\text{O}$  en présence de lumière  $\rightarrow$  sucre +  $\text{O}_2$
- La fermentation alcoolique : sucre  $\rightarrow$   $\text{CO}_2$  + éthanol

Les réactions ne sont pas ajustées, elles indiquent seulement la nature des réactifs et des produits.

1- À l'aide du document 1, donner, en le justifiant, le nom du métabolisme utilisé par les cyanobactéries, dans l'expérience, entre 0 et 5 minutes puis entre 5 et 10 minutes.

2- Les stromatolithes sont des constructions carbonatées d'origine biologique formées par des micro-organismes, dont les cyanobactéries. Les plus anciens ont été datés à environ 3,5 milliards d'années. À partir du document 1 et des connaissances, justifier l'origine de la production de dioxygène à partir de 3,5 milliards d'années.

### Document 2 : les formations sédimentaires d'oxydes de fer

La grande majorité des minerais de fer du monde est constituée de ce qu'on appelle des fers rubanés (*Banded Iron Formation* ou BIF, en anglais). Ces BIF existent sous plusieurs formes, plus ou moins ferrugineuses, et contiennent un oxyde de fer composé de deux atomes de fer et de trois atomes d'oxygène.

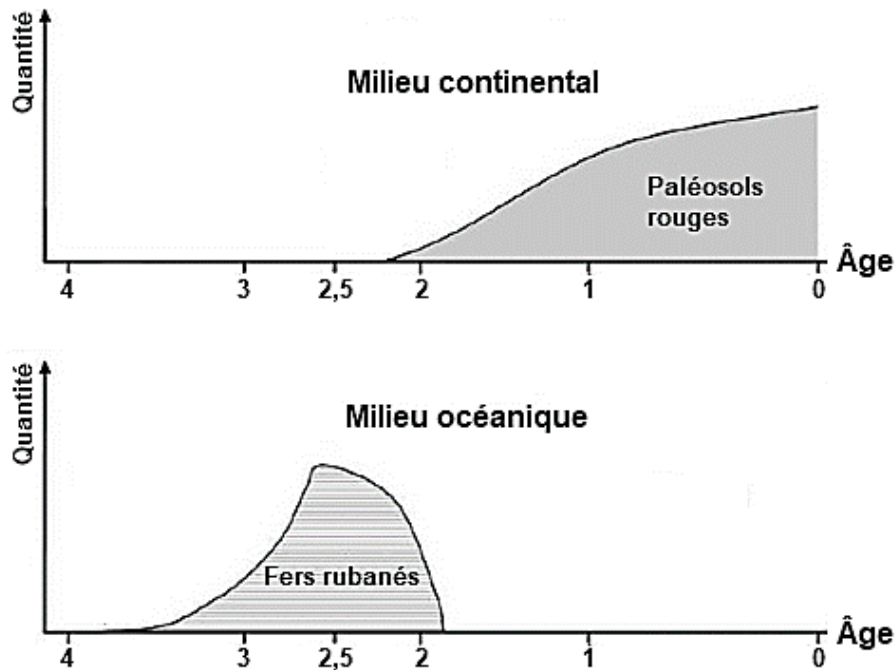
Le tableau ci-dessous présente différents oxydes de fer :

Oxyde de fer	Formule brute	Description	Équation chimique de formation de l'oxyde de fer, non ajustée
Wustite	$\text{FeO}$	Poudre grise	$\text{Fe} + \text{O}_2 \rightarrow \text{FeO}$
Hématite	$\text{Fe}_2\text{O}_3$	Minéral de couleur rouille	$\text{Fe} + \text{O}_2 \rightarrow \text{Fe}_2\text{O}_3$
Magnétite	$\text{Fe}_3\text{O}_4$	Minéral de couleur noire	$\text{Fe} + \text{O}_2 \rightarrow \text{Fe}_3\text{O}_4$

3- Justifier que l'oxyde de fer majoritaire présent dans les BIF correspond à l'hématite et ajuster l'équation chimique de sa formation après l'avoir recopiée sur la copie.



**Document 3 : évolution de la formation des paléosols rouges et des fers rubanés au cours du temps**



D'après C. Klein, Nature, 1997

*L'axe des abscisses correspond à l'âge des roches en milliard d'années avant le présent. L'axe des ordonnées correspond à la quantité relative des roches formées.*

Les paléosols, ou sols fossiles, se sont formés par altération de roches continentales au contact de l'atmosphère. La couleur rouge de certains de ces sols provient de la forte teneur en hématite. Les fers rubanés sont toujours des formations sédimentaires marines.

Le volcanisme continental et marin relâchent une quantité importante de fer sous forme d'ions  $\text{Fe}^{2+}$  oxydés en  $\text{Fe}^{3+}$  par le dioxygène entraînant la formation de l'hématite.

4- À l'aide du document 3, proposer une chronologie d'évènements ayant conduit à la mise en place d'une atmosphère riche en dioxygène.

5- D'après les connaissances, indiquer comment se forme l'ozone ( $\text{O}_3$ ) dans la stratosphère et quel est son rôle sur le développement de la vie terrestre.