



Exercice 1 – Niveau terminale

Thème « Science, climat et société »

Photosynthèse et transition écologique

Sur 10 points

Les panneaux solaires photovoltaïques convertissent directement l'énergie radiative du soleil en électricité. Il en existe différents types. Dans le cadre de la transition énergétique actuelle, les chercheurs continuent à explorer différentes pistes d'évolution des techniques afin de les rendre plus efficaces et/ou plus respectueuses de l'environnement.



Document 1 : Les panneaux voltaïques monocristallins

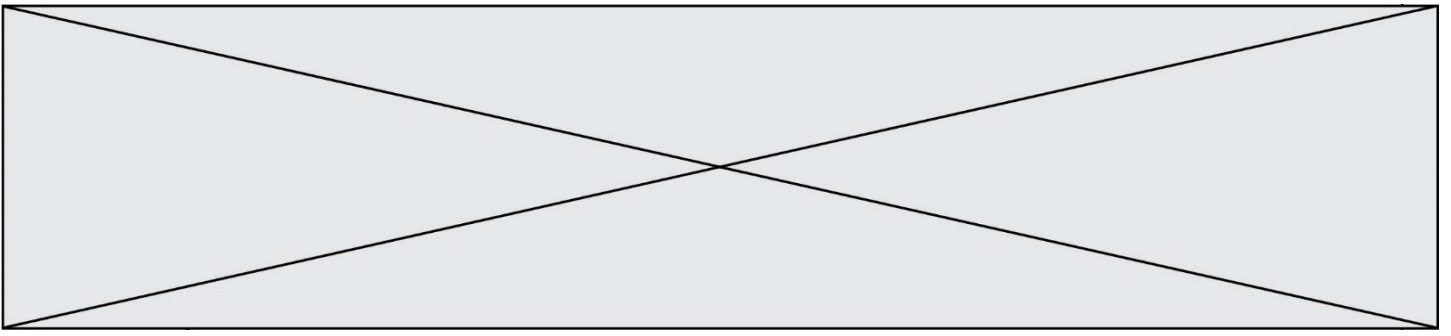
Un panneau photovoltaïque est constitué de divers matériaux dont l'extraction n'est pas neutre du point de vue environnemental et social. La production de panneaux solaires, fortement encouragée par les subventions d'État, a explosé ces dernières années.

La très grande majorité des panneaux solaires est constituée de silicium cristallin, élément que l'on extrait du sable ou du quartz. Ces panneaux monocristallins sont ceux qui présentent les taux de rentabilité les plus élevés. Leur fabrication étant complexe, ils coûtent cher.

En Chine, des scandales de rejets massifs dans l'atmosphère de poudre de silicium (matière première de la cellule photovoltaïque, disponible en abondance), et de pollution causée par les opérations de raffinage du silicium ont été dénoncés et documentés au cours des dix dernières années.

Aujourd'hui, au terme de leur durée de vie optimale (estimée à environ 25 ans), les panneaux photovoltaïques, qu'ils aient été construits en Chine ou en Europe, sont recyclables entre 95 et 99 % pour la plupart des constructeurs.

Source : d'après les sites Greenpeace.fr et engie.fr



1- À partir des éléments donnés dans les documents 1 et 2, présenter les avantages et les limites des panneaux photovoltaïques biologiques et des panneaux photovoltaïques monocristallins.

2- En vous basant sur les données chiffrées mentionnées dans les documents 2 et 3 :

a- Montrer que la surface de panneaux monocristallins nécessaire pour couvrir les besoins d'une maison basse consommation de 100 m² est environ 47 m².


b- Calculer la surface de panneaux monocristallins qui serait nécessaire pour couvrir les besoins de la ville de Paris.

c- Réaliser ensuite, pour une maison de 100 m² et pour la ville de Paris, les mêmes calculs dans le cadre d'une installation photovoltaïque biologique.


3- En vous appuyant sur l'ensemble de vos résultats, montrer que, malgré leurs avantages, les panneaux solaires biologiques ne seraient pas une alternative pertinente à explorer par les chercheurs au regard des éléments donnés dans les documents.



Document 1 : représentation simplifiée de l'évolution de la forêt tropicale dans la région de Kalimantan entre 1970 et 2020 (île de Bornéo)



Zone étudiée de la région de Kalimantan en 1970



Zone étudiée de la région de Kalimantan en 2020

Chaque carré a une aire de 100 km².

Les carrés sombres correspondent à des zones recouvertes par de la forêt et les carrés blancs à des zones défrichées

1- À l'aide du quadrillage fourni sur le document 1, déterminer l'impact de l'activité humaine sur la surface disponible pour les orangs-outans. Pour cela, calculer :

- l'aire \mathcal{A}_{1970} de la surface de forêt disponible en 1970 dans la région de Kalimantan étudiée ;
- l'aire \mathcal{A}_{2020} de la surface de forêt disponible en 2020 dans la région de Kalimantan étudiée ;
- le pourcentage de diminution de l'aire de la surface disponible entre 1970 et 2020.

Nom de famille (naissance) :

(Suivi s'il y a lieu, du nom d'usage)

Prénom(s) :

N° candidat :

N° d'inscription :



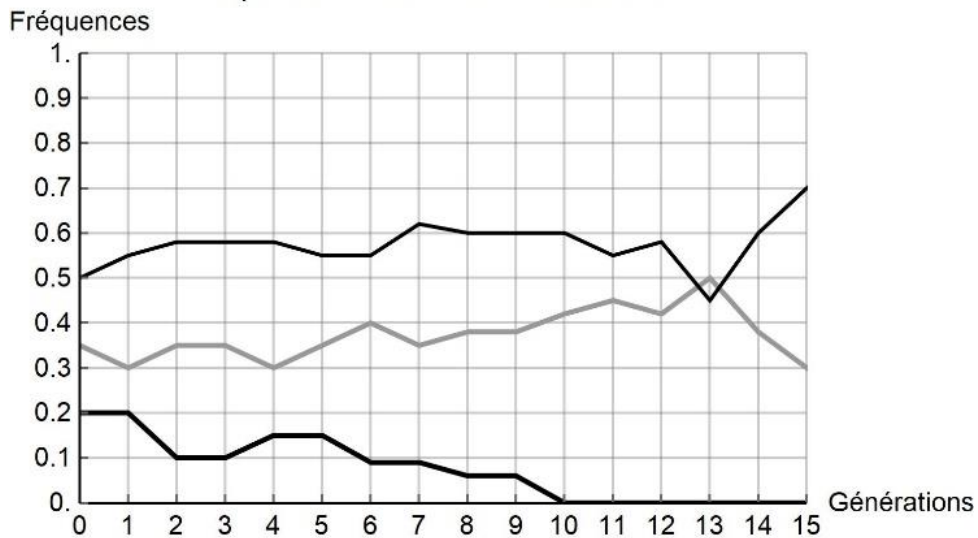
Né(e) le :

(Les numéros figurent sur la convocation.)

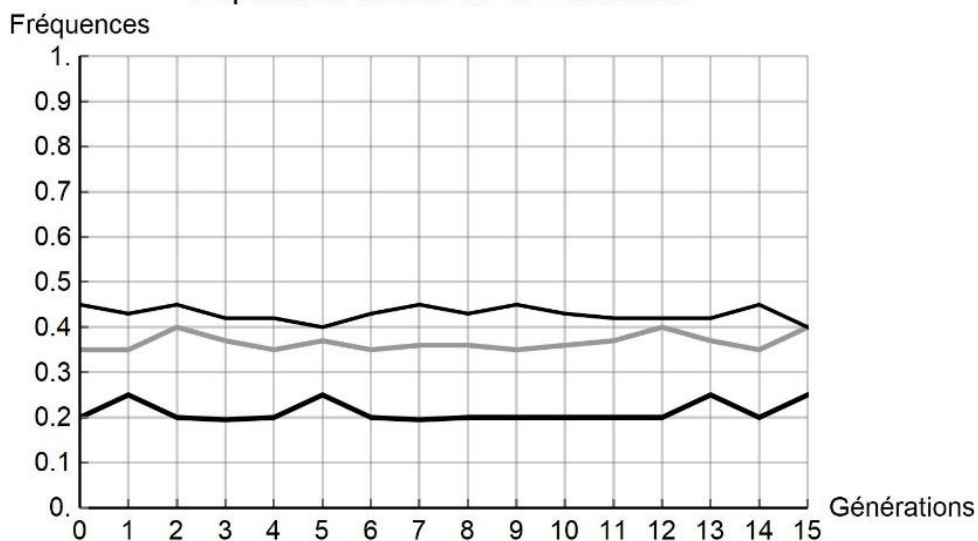
Document 2 : simulation de l'évolution de la fréquence de trois allèles d'un gène donné au cours des générations

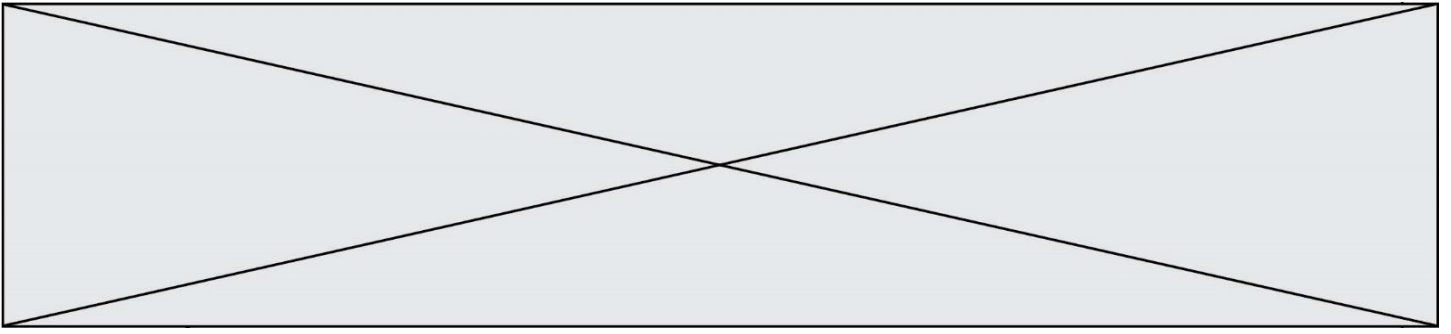
Pour chaque graphique issu d'une simulation informatique, les différentes courbes représentent chacune l'évolution de la fréquence d'un des trois allèles d'un même gène au cours de quinze générations (pour une population théorique). On réalise des simulations en faisant varier le nombre d'individus de la population initiale : 10 et 100 individus. Les résultats des simulations sont donnés ci-dessous.

Population initiale de 10 individus



Population initiale de 100 individus





2- À partir de l'analyse de la simulation présentée dans le document 2, montrer que la taille de la population joue un rôle dans l'évolution des fréquences alléliques au cours des générations.

3- D'après vos connaissances, indiquer quelle force évolutive est à l'œuvre dans l'évolution des fréquences alléliques pour une petite population de 10 individus. Justifier votre réponse.

4- À l'aide des documents 1 et 2 et des connaissances, rédiger un paragraphe argumenté reliant la déforestation d'origine anthropique au risque d'appauvrissement génétique des populations d'orangs-outans de Bornéo. Proposer des mesures qui permettraient prioritairement de protéger les populations d'orangs-outans et également de conserver leur diversité génétique.