



Exercice 1 – Niveau terminale


Thème « Le futur des énergies »

Des sphères géantes immergées sous l'eau

Sur 10 points

Le projet de recherche scientifique baptisé StEnSEA (pour « Stored Energy in the Sea ») développé par l'institut allemand Fraunhofer IWES propose un nouveau dispositif de stockage de l'électricité constitué de sphères géantes immergées en mer.

On cherche à comprendre en quoi ce type de dispositif pourrait être intéressant pour stocker l'énergie et en pallier l'intermittence.



Installation d'une sphère géante et schéma de leur position en mer
(<https://lenergeek.com>)

PARTIE 1 – Fonctionnement des sphères

Document 1 : fonctionnement général et paramètres des sphères

Chacune de ces sphères est connectée à un système de production d'électricité (ferme éolienne, ferme solaire...).

Lors des périodes de forte production d'énergie, l'énergie électrique excédentaire qui ne peut être injectée dans le réseau est utilisée pour faire fonctionner des pompes qui expulsent l'eau présente à l'intérieur des sphères. À l'inverse, en période de faible production, on laisse l'eau s'engouffrer dans les sphères à travers un jeu de turbines qui génèrent de l'énergie électrique.

L'objectif de ce projet est que chacune sphères soit en mesure de stocker 20 MWh.

Modèle CCYC : ©DNE

Nom de famille (naissance) :

(Suivi s'il y a lieu, du nom d'usage)

Prénom(s) :

N° candidat :

N° d'inscription :



Liberté • Égalité • Fraternité
RÉPUBLIQUE FRANÇAISE

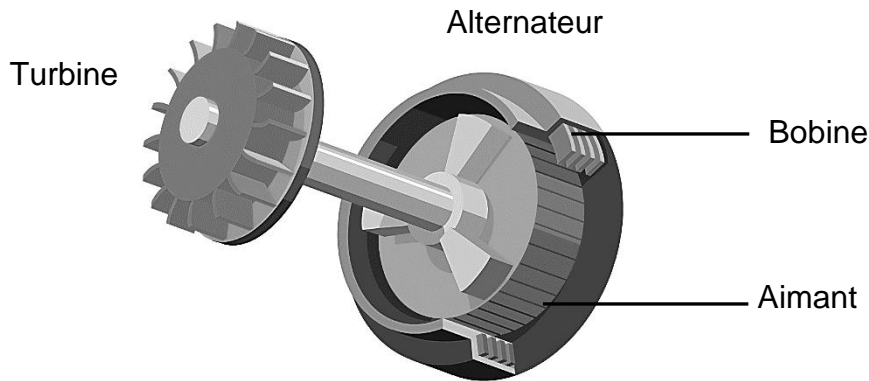
Né(e) le :

(Les numéros figurent sur la convocation.)

1.1

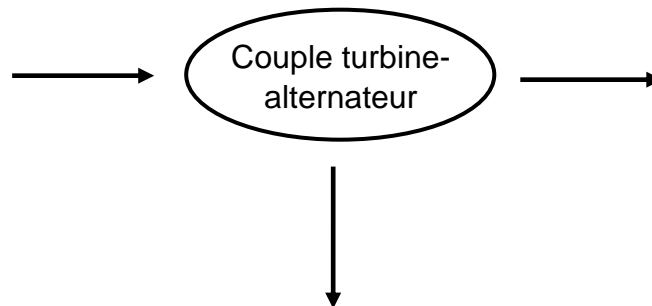
Paramètre	Valeur
Profondeur de d'installation	750 m
Diamètre intérieur de la sphère	28,6 m
Énergie stockée	20 MWh
Énergie restituée	18,3 MWh

Document 2 : schéma simplifié du couple turbine- alternateur



1- À partir du schéma simplifié du couple turbine-alternateur (document 2), indiquer quel élément (aimant ou bobine) constitue la source de champ magnétique et aux bornes de quel élément (aimant ou bobine) peut apparaître une tension électrique.

2- Recopier et compléter le schéma représentant la chaîne de transformation énergétique du couple turbine-alternateur lors du remplissage d'une sphère.



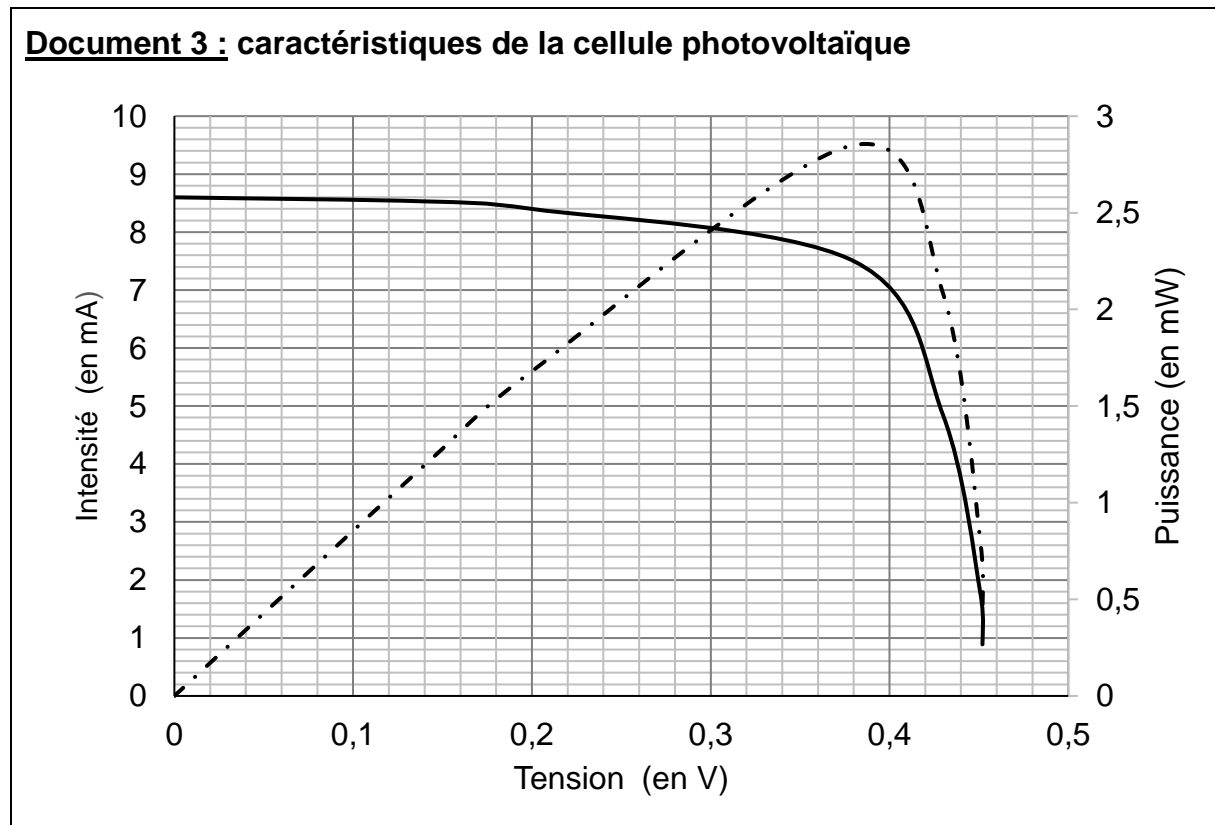
3- Calculer le rendement de l'opération de stockage d'énergie réalisée par l'une des sphères.



PARTIE 2 – Alimentation des sphères par une ferme photovoltaïque

Les sphères immergées sont reliées à une ferme solaire. On se propose d'étudier le fonctionnement d'une cellule photovoltaïque, élément de base de chaque panneau photovoltaïque de la ferme solaire.

Grâce aux mesures réalisées aux bornes de la cellule, on trace la caractéristique tension - intensité (en trait plein) et la caractéristique tension - puissance (en pointillé).



- 4- Déterminer graphiquement la valeur de la puissance maximale P_{\max} .
- 5- En déduire la valeur de l'intensité maximale I_{\max} et celle de la tension maximale U_{\max} .
- 6- En déduire que la valeur de la résistance du récepteur à utiliser avec le panneau pour fonctionnement optimal est environ égale à 50Ω .

Modèle CCYC : ©DNE

Nom de famille (naissance) :

(Suivi s'il y a lieu, du nom d'usage)

Prénom(s) :

N° candidat : **N° d'inscription** :

(Les numéros figurent sur la convocation.)

Né(e) le : / /



RÉPUBLIQUE FRANÇAISE

1.1

PARTIE 3 – Conclusion

7- Rédiger un paragraphe argumenté d'une dizaine de lignes environ expliquant en quoi cette association sphères immergées-panneaux solaires permet de « pallier l'intermittence des énergies » mais n'est pas sans impact sur l'environnement et la biodiversité.



Exercice 2 – Niveau terminale

Thème « Une histoire du vivant »

Les conséquences de la déforestation à Bornéo sur les populations d'orang-outans

Sur 10 points

Située en Asie du Sud-Est, à la jonction entre l'océan Indien et l'océan Pacifique, l'île de Bornéo représente 1 % des terres émergées. Elle détient 6 % de la biodiversité en lien avec sa richesse en écosystèmes (forêts tropicales, mangroves...). Ses forêts sont actuellement défrichées, notamment pour laisser place à des exploitations agricoles comme les palmeraies.

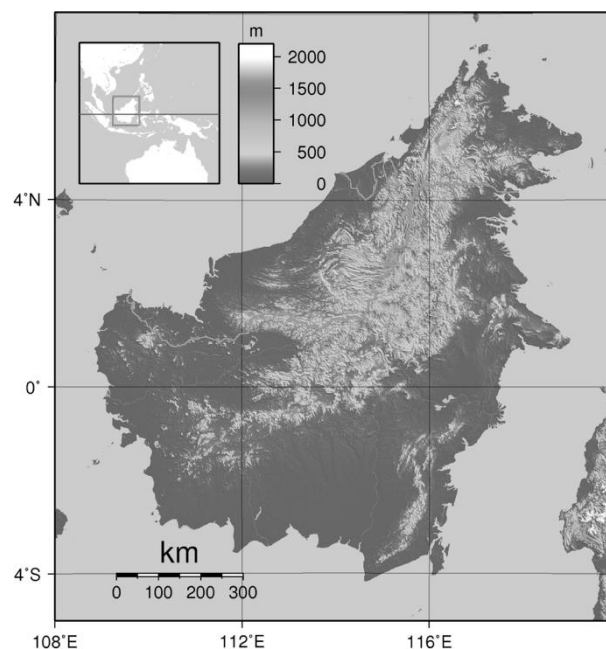
Dans les forêts de Bornéo, vit une espèce de grand-singe, l'orang-outan (*Pongo pygmaeus*), qui est en danger critique d'extinction (selon l'UICN). L'espèce est menacée par la perte de son habitat naturel.

Bien que l'ADN des orangs-outans est beaucoup plus diversifié que celui de l'espèce humaine, on s'intéresse aux conséquences possibles de la déforestation sur la diversité génétique des populations d'orang-outans.

Orang-outan



Île de Bornéo (Asie du Sud-Est)



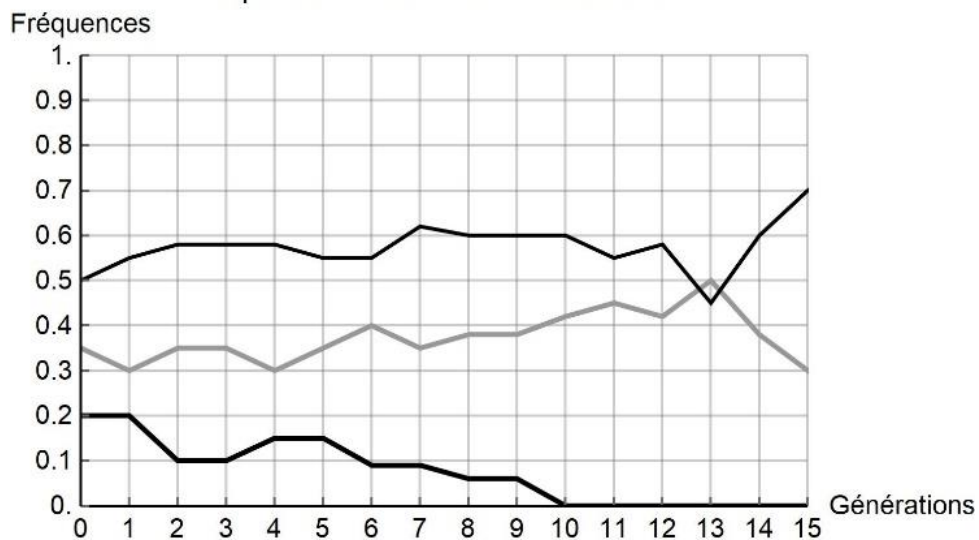
Source : wikipedia



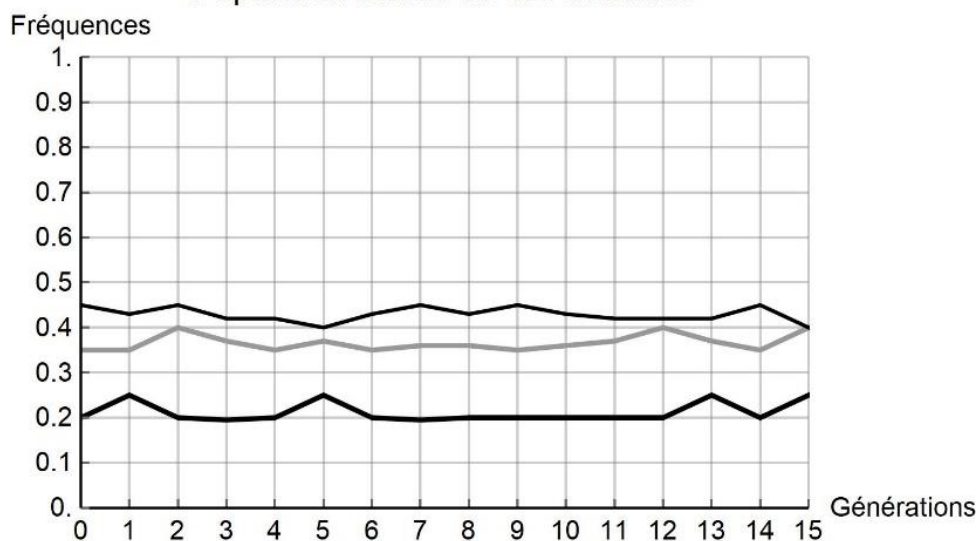
Document 2 : simulation de l'évolution de la fréquence de trois allèles d'un gène donné au cours des générations

Pour chaque graphique issu d'une simulation informatique, les différentes courbes représentent chacune l'évolution de la fréquence d'un des trois allèles d'un même gène au cours de quinze générations (pour une population théorique). On réalise des simulations en faisant varier le nombre d'individus de la population initiale : 10 et 100 individus. Les résultats des simulations sont donnés ci-dessous.

Population initiale de 10 individus



Population initiale de 100 individus



Modèle CCYC : ©DNE

Nom de famille (naissance) :


(Suivi s'il y a lieu, du nom d'usage)

Prénom(s) :

N° candidat : **N° d'inscription** :

(Les numéros figurent sur la convocation.)

Né(e) le : / /



1.1

2- À partir de l'analyse de la simulation présentée dans le document 2, montrer que la taille de la population joue un rôle dans l'évolution des fréquences alléliques au cours des générations.

3- D'après vos connaissances, indiquer quelle force évolutive est à l'œuvre dans l'évolution des fréquences alléliques pour une petite population de 10 individus. Justifier votre réponse.

4- À l'aide des documents 1 et 2 et des connaissances, rédiger un paragraphe argumenté reliant la déforestation d'origine anthropique au risque d'appauvrissement génétique des populations d'orangs-outans de Bornéo. Proposer des mesures qui permettraient prioritairement de protéger les populations d'orangs-outans et également de conserver leur diversité génétique.