





## Exercice 1 – Niveau terminale

Thème « Science, climat et société »

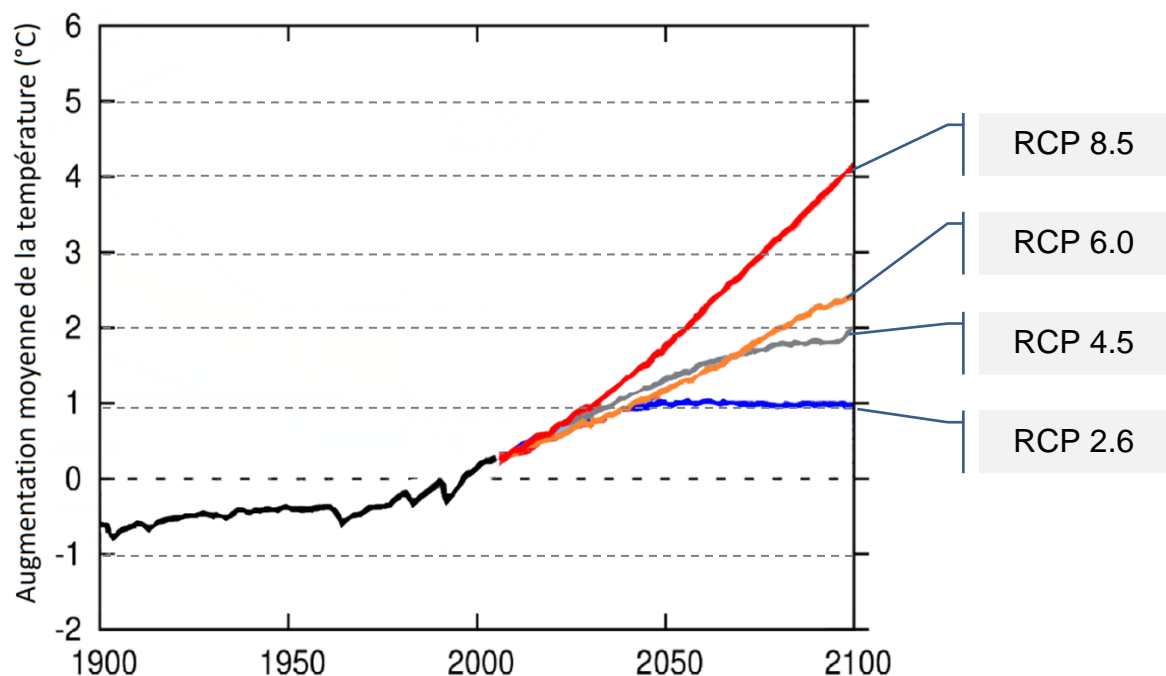
### Forçage radiatif et conséquences

Sur 10 points

L'Agence de la transition écologique (ADEME) publie en octobre 2020 une prévision des impacts climatiques à venir d'ici 2050 en France. Ces impacts concernent principalement l'augmentation des températures et les risques d'inondation qui en découlent.

L'objectif de cet exercice est de comprendre quelques effets sur le climat de la variation du forçage radiatif.

**Document 1** : les scénarios RCP (*Representative Concentration Pathway*) sont quatre scénarios de trajectoire du forçage radiatif jusqu'à l'horizon 2100

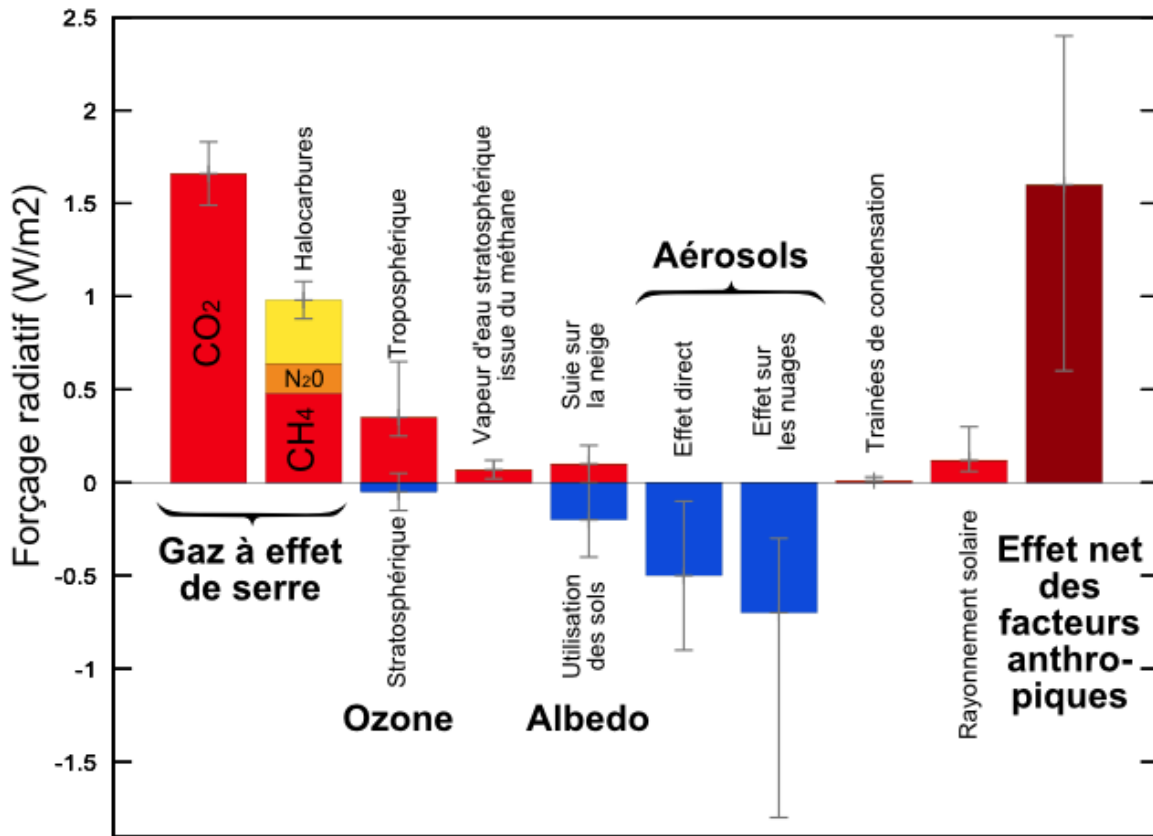


Chaque scénario RCP est caractérisé par un nombre qui correspond à une valeur d'élévation du forçage radiatif par unité de temps et de surface, exprimé en  $W \cdot m^{-2}$ .

Source : d'après <https://www.climate-chance.org>



**Document 2 : composantes du forçage radiatif terrestre**



Source : Wikimedias

1.a. Définir la notion de « forçage radiatif ».

1.b. Justifier que, par unité de temps et de surface terrestre, ce forçage radiatif s'exprime en  $W \cdot m^{-2}$ .

1.c. Expliquer en quoi le forçage radiatif est lié à la variation de la température terrestre.

2. Expliquer les causes de l'augmentation du forçage radiatif depuis la révolution industrielle (1850).



3. On analyse l'effet du forçage radiatif sur le niveau des océans.

En tenant compte uniquement de la dilatation des océans, estimer la variation du niveau marin  $\Delta e$  à l'échelle du globe, en 2100, pour un RCP 4.5 qui correspond aux accords de Paris, à l'aide des données ci-dessous.

**Données :**

La variation  $\Delta V$  d'un volume  $V_0$  d'eau est proportionnelle à la variation de température  $\Delta T$  selon la relation  $\Delta V = \beta \cdot V_0 \cdot \Delta T$  avec le coefficient de dilatation thermique de l'eau  $\beta = 2,6 \times 10^{-4} \text{ }^\circ\text{C}^{-1}$ .

La surface totale des océans est  $S = 360 \times 10^6 \text{ km}^2$ .

L'épaisseur de la couche superficielle océanique concernée est  $e = 300 \text{ m}$ .

4. À l'effet de la dilatation thermique s'ajoutent d'autres causes qui pourraient conduire à une élévation du niveau des océans de l'ordre du mètre.

Présenter les conséquences sur l'environnement et les activités humaines qu'aurait une telle élévation du niveau des océans.

L'un des paramètres qui influe sur le forçage radiatif est l'albédo terrestre moyen. On rappelle que l'albédo d'une surface correspond au rapport de l'énergie lumineuse réfléchie sur l'énergie lumineuse incidente. Le tableau suivant fournit quelques valeurs d'albédo suivant la nature des surfaces.

Type de Surface	Albédo
Mer / Océan	0,26
Glace	0,6
Neige fraîche	0,85

Albédo de différentes surfaces (source : Météo France)

5. Préciser si une augmentation de l'albédo terrestre produit une augmentation ou une diminution du forçage radiatif. En déduire que la fonte des glaces (terrestres et marines) se traduit par une augmentation du forçage radiatif.

6. Expliquer pourquoi la fonte des glaces est un facteur de rétroaction positive de l'échauffement global du climat. Il est possible d'appuyer le raisonnement sur un schéma.

Modèle CCYC : ©DNE

Nom de famille (naissance) :


(Suivi s'il y a lieu, du nom d'usage)

Prénom(s) :

N° candidat :  N° d'inscription :

(Les numéros figurent sur la convocation.)

Né(e) le :  /  /



1.1

## Exercice 2 – Niveau terminale

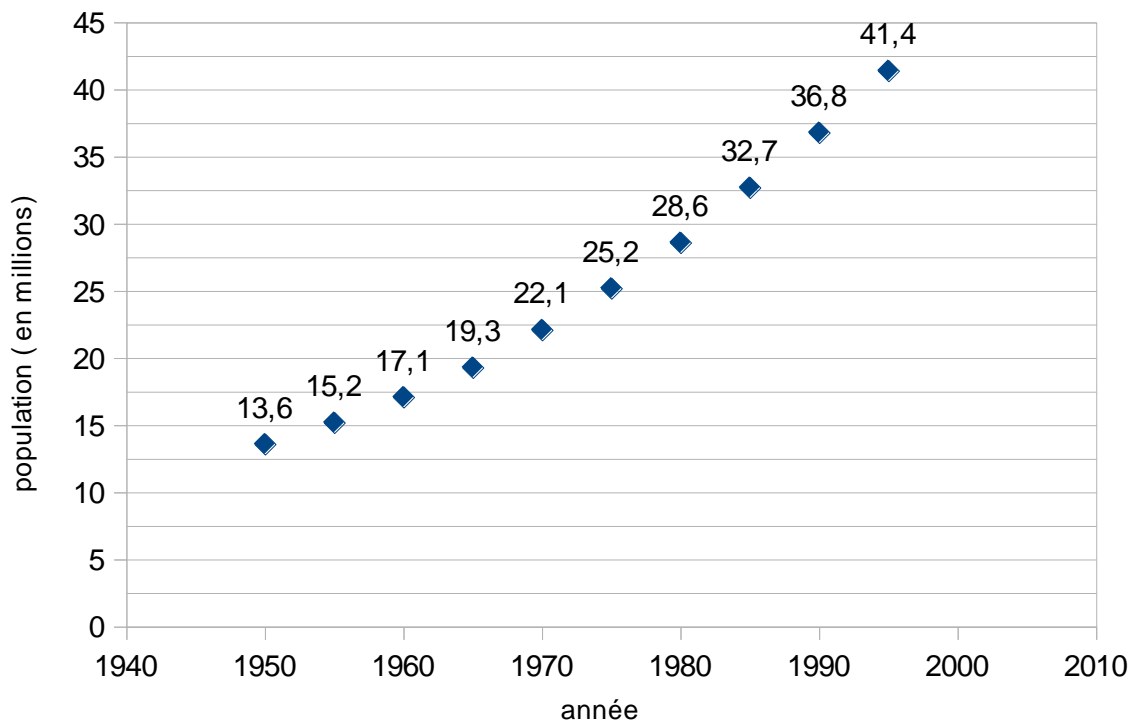
Thème « Une histoire du vivant »

### Étude démographique de la population d’Afrique du Sud

Sur 10 points

Cet exercice a pour objet l’étude démographique d’une population.

**Document 1 : effectifs de la population en Afrique du Sud depuis 1950**



Source : d'après World population prospects



### **Document 2 : données démographiques d'Afrique du Sud**

Année	Taux de natalité (pour mille)	Taux de mortalité (pour mille)	Taux d'accroissement annuel moyen (pour cent)
1950	43,3	20,3	2,3
1960	41,6	16,7	2,5
1970	37,1	13,1	2,4
1980	33,9	10,2	2,4
1990	28,3	8,1	2
2000	22,6	16,9	0,6

*Source : d'après World population prospects*

### **Document 3 : la démographie dans différents pays d'Afrique sub-saharienne**

Depuis 1990, l'Afrique sub-saharienne, globalement, est entrée dans une phase de ralentissement démographique, passant de 2,9 % de croissance par an vers 1985 à 2,3 % en 2000.

Mais ce ralentissement se fait à des rythmes variables, et même divergents entre les pays.

À un extrême, on trouve une petite vingtaine de pays, de différentes sous-régions, dont les croissances n'ont pas changé ou même ont légèrement augmenté depuis 1985 (le Niger, le Mali, le Mozambique, la Somalie, etc.) ; à l'autre extrême, les cinq pays d'Afrique australe, le Zimbabwe et la Zambie dont les taux de croissance s'effondrent littéralement à partir de 1995 avec la surmortalité due au SIDA[...] : l'Afrique du Sud et le Botswana par exemple passent respectivement d'une croissance de 2,0 % et 2,8 % en 1990-1994 à 0,6 % et 0,9 % dix ans plus tard. C'est un exemple unique dans l'histoire.

*Source : d'après Tabutin-Schoumaker, « la démographie de l'Afrique au sud du Sahara des années 1950 aux années 2000 », Population, 2004, [www.cairn-int.info/revue-population-2004-3-page-521.htm](http://www.cairn-int.info/revue-population-2004-3-page-521.htm)*

Modèle CCYC : ©DNE

Nom de famille (naissance) :

(Suivi s'il y a lieu, du nom d'usage)

Prénom(s) :

N° candidat :  N° d'inscription :

(Les numéros figurent sur la convocation.)

Né(e) le :  /  /



RÉPUBLIQUE FRANÇAISE

1.1

En 1950, l'Afrique du Sud est peuplée de 13,6 millions d'habitants. Entre 1950 et 1990, on a constaté que la population sud-africaine a augmenté en moyenne, d'une année sur l'autre, de 2,5 %.

On modélise la population sud-africaine à l'aide d'une suite  $u$ . On note  $u(0)$  le nombre d'habitants en Afrique du Sud en 1950 et  $u(n)$  la population d'Afrique du Sud  $n$  années après 1950. Ainsi,  $u(1)$  est le nombre d'habitants en 1951.

1- Justifier que l'on a la relation  $u(n+1) = 1,025 \times u(n)$  pour  $n$  entier naturel.

2- Vérifier qu'à l'aide de ce modèle, la population sud-africaine en 1951 est estimée à environ 13,9 millions d'habitants.

3- À l'aide de ce modèle, estimer le nombre d'habitants en 1995 et comparer avec la valeur donnée sur le document 1. Indiquer si la modélisation de la variation de la population sud-africaine semble satisfaisante et justifier la réponse.


4- Selon ce modèle, indiquer à partir de quelle année la population d'Afrique du sud dépassera 50 millions d'habitants.

5- La population d'Afrique du Sud comptait respectivement 44 millions d'habitants en 2000 et 45,3 millions en 2005. Compléter avec ces données le graphique fourni **en annexe (à rendre avec la copie)**. Indiquer si ces données sont conformes au modèle proposé. Justifier la réponse.

6- En utilisant le document 2, justifier que le taux d'accroissement annuel moyen en 1970 est de 2,4 %.

7- Au regard du document 2, on émet l'hypothèse qu'à partir de 1950, le taux de mortalité de la population diminue de 3 points sur mille tous les 10 ans. Calculer les taux de mortalité attendus en 1990 et 2000. Les comparer aux valeurs réelles.

8- À partir de 1995, la population sud-africaine n'a plus suivi la variation prévue par ce dernier modèle. À l'aide des documents 2 et 3, donner des arguments permettant d'expliquer ce phénomène.





Modèle CCYC : ©DNE

Nom de famille (naissance) :

(Suivi s'il y a lieu, du nom d'usage)

Prénom(s) :

N° candidat :

N° d'inscription :



Liberté • Égalité • Fraternité  
RÉPUBLIQUE FRANÇAISE

Né(e) le :

(Les numéros figurent sur la convocation.)

1.1

## Document réponse à rendre avec la copie

### Exercice 2

### Étude démographique de la population d'Afrique du Sud

Réponse à la question 5

