

Modèle CCYC : ©DNE

**Nom de famille** (naissance) :


(Suivi s'il y a lieu, du nom d'usage)

**Prénom(s)** :

**N° candidat** :  **N° d'inscription** :

(Les numéros figurent sur la convocation.)

**Né(e) le** :  /  /



RÉPUBLIQUE FRANÇAISE

1.1

<b>ÉVALUATION</b>
<p><b>CLASSE</b> : Première</p> <p><b>VOIE</b> : <input checked="" type="checkbox"/> Générale <input type="checkbox"/> Technologique <input type="checkbox"/> Toutes voies (LV)</p> <p><b>ENSEIGNEMENT</b> : <b>spécialité Numérique et Sciences Informatiques (NSI)</b></p> <p><b>DURÉE DE L'ÉPREUVE</b> : 02 h 00</p> <p><b>Niveaux visés (LV)</b> : LVA                      LVB</p> <p><b>Axes de programme</b> :</p> <p><b>CALCULATRICE AUTORISÉE</b> : <input type="checkbox"/> Oui <input checked="" type="checkbox"/> Non</p> <p><b>DICTIONNAIRE AUTORISÉ</b> :    <input type="checkbox"/> Oui <input checked="" type="checkbox"/> Non</p> <p><input checked="" type="checkbox"/> Ce sujet contient des parties à rendre par le candidat avec sa copie. De ce fait, il ne peut être dupliqué et doit être imprimé pour chaque candidat afin d'assurer ensuite sa bonne numérisation.</p> <p><input type="checkbox"/> Ce sujet intègre des éléments en couleur. S'il est choisi par l'équipe pédagogique, il est nécessaire que chaque élève dispose d'une impression en couleur.</p> <p><input type="checkbox"/> Ce sujet contient des pièces jointes de type audio ou vidéo qu'il faudra télécharger et jouer le jour de l'épreuve.</p> <p><b>Nombre total de pages</b> : 20</p>

L'épreuve consiste en 42 questions, rangées en 7 thèmes.

Pour chaque question, le candidat gagne 3 points s'il choisit la bonne réponse, perd 1 point s'il choisit une réponse fautive. S'il ne répond pas ou choisit plusieurs réponses, il ne gagne ni ne perd aucun point.

Le total sur chacun des 7 thèmes est ramené à 0 s'il est négatif.

La note finale s'obtient en divisant le total des points par 6,3 et en arrondissant à l'entier supérieur.

**Le candidat indique ses réponses aux questions en pages 2 et 3.**

**Seules les pages 1 à 4 sont rendues par le candidat à la fin de l'épreuve, pour être numérisées.**

Les questions figurent sur les pages suivantes.



### **Thème A : types de base**

Réponse à la question 1	A <input type="checkbox"/>	B <input type="checkbox"/>	C <input type="checkbox"/>	D <input type="checkbox"/>
Réponse à la question 2	A <input type="checkbox"/>	B <input type="checkbox"/>	C <input type="checkbox"/>	D <input type="checkbox"/>
Réponse à la question 3	A <input type="checkbox"/>	B <input type="checkbox"/>	C <input type="checkbox"/>	D <input type="checkbox"/>
Réponse à la question 4	A <input type="checkbox"/>	B <input type="checkbox"/>	C <input type="checkbox"/>	D <input type="checkbox"/>
Réponse à la question 5	A <input type="checkbox"/>	B <input type="checkbox"/>	C <input type="checkbox"/>	D <input type="checkbox"/>
Réponse à la question 6	A <input type="checkbox"/>	B <input type="checkbox"/>	C <input type="checkbox"/>	D <input type="checkbox"/>

### **Thème B : types construits**

Réponse à la question 1	A <input type="checkbox"/>	B <input type="checkbox"/>	C <input type="checkbox"/>	D <input type="checkbox"/>
Réponse à la question 2	A <input type="checkbox"/>	B <input type="checkbox"/>	C <input type="checkbox"/>	D <input type="checkbox"/>
Réponse à la question 3	A <input type="checkbox"/>	B <input type="checkbox"/>	C <input type="checkbox"/>	D <input type="checkbox"/>
Réponse à la question 4	A <input type="checkbox"/>	B <input type="checkbox"/>	C <input type="checkbox"/>	D <input type="checkbox"/>
Réponse à la question 5	A <input type="checkbox"/>	B <input type="checkbox"/>	C <input type="checkbox"/>	D <input type="checkbox"/>
Réponse à la question 6	A <input type="checkbox"/>	B <input type="checkbox"/>	C <input type="checkbox"/>	D <input type="checkbox"/>

### **Thème C : traitement de données en tables**

Réponse à la question 1	A <input type="checkbox"/>	B <input type="checkbox"/>	C <input type="checkbox"/>	D <input type="checkbox"/>
Réponse à la question 2	A <input type="checkbox"/>	B <input type="checkbox"/>	C <input type="checkbox"/>	D <input type="checkbox"/>
Réponse à la question 3	A <input type="checkbox"/>	B <input type="checkbox"/>	C <input type="checkbox"/>	D <input type="checkbox"/>
Réponse à la question 4	A <input type="checkbox"/>	B <input type="checkbox"/>	C <input type="checkbox"/>	D <input type="checkbox"/>
Réponse à la question 5	A <input type="checkbox"/>	B <input type="checkbox"/>	C <input type="checkbox"/>	D <input type="checkbox"/>
Réponse à la question 6	A <input type="checkbox"/>	B <input type="checkbox"/>	C <input type="checkbox"/>	D <input type="checkbox"/>

### **Thème D : interactions entre l'homme et la machine sur le Web**

Réponse à la question 1	A <input type="checkbox"/>	B <input type="checkbox"/>	C <input type="checkbox"/>	D <input type="checkbox"/>
Réponse à la question 2	A <input type="checkbox"/>	B <input type="checkbox"/>	C <input type="checkbox"/>	D <input type="checkbox"/>
Réponse à la question 3	A <input type="checkbox"/>	B <input type="checkbox"/>	C <input type="checkbox"/>	D <input type="checkbox"/>
Réponse à la question 4	A <input type="checkbox"/>	B <input type="checkbox"/>	C <input type="checkbox"/>	D <input type="checkbox"/>
Réponse à la question 5	A <input type="checkbox"/>	B <input type="checkbox"/>	C <input type="checkbox"/>	D <input type="checkbox"/>
Réponse à la question 6	A <input type="checkbox"/>	B <input type="checkbox"/>	C <input type="checkbox"/>	D <input type="checkbox"/>

Modèle CCYC : ©DNE

Nom de famille (naissance) :


(Suivi s'il y a lieu, du nom d'usage)

Prénom(s) :

N° candidat :  N° d'inscription :

(Les numéros figurent sur la convocation.)

Né(e) le :  /  /



Liberté • Égalité • Fraternité  
RÉPUBLIQUE FRANÇAISE

1.1

### Thème E : architectures matérielles et systèmes d'exploitation


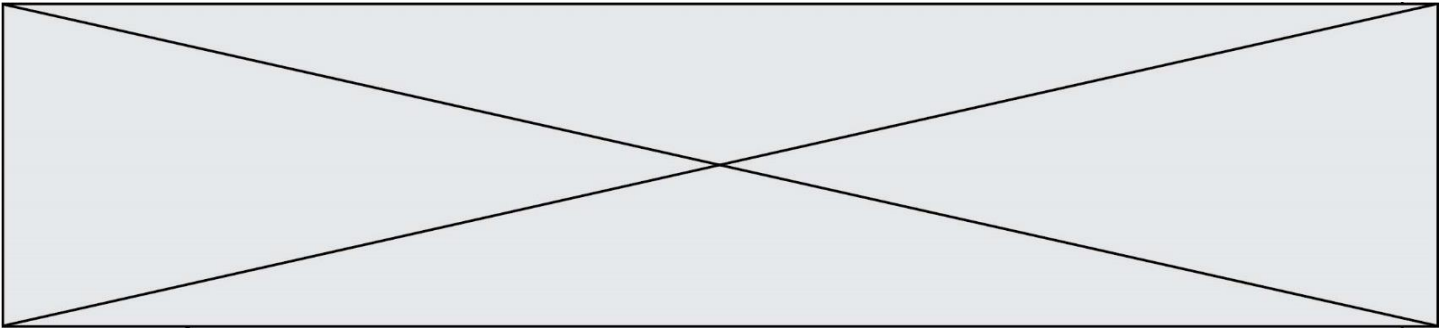
- Réponse à la question 1    A     B     C     D
- Réponse à la question 2    A     B     C     D
- Réponse à la question 3    A     B     C     D
- Réponse à la question 4    A     B     C     D
- Réponse à la question 5    A     B     C     D
- Réponse à la question 6    A     B     C     D

### Thème F : langages et programmation

- Réponse à la question 1    A     B     C     D
- Réponse à la question 2    A     B     C     D
- Réponse à la question 3    A     B     C     D
- Réponse à la question 4    A     B     C     D
- Réponse à la question 5    A     B     C     D
- Réponse à la question 6    A     B     C     D

### Thème G : algorithmique

- Réponse à la question 1    A     B     C     D
- Réponse à la question 2    A     B     C     D
- Réponse à la question 3    A     B     C     D
- Réponse à la question 4    A     B     C     D
- Réponse à la question 5    A     B     C     D
- Réponse à la question 6    A     B     C     D



Modèle CCYC : ©DNE

Nom de famille (naissance) :


(Suivi s'il y a lieu, du nom d'usage)

Prénom(s) :

N° candidat :  N° d'inscription :

(Les numéros figurent sur la convocation.)

Né(e) le :  /  /



1.1

## Thème A : types de base

### Question A.1

Quel est le résultat de l'addition binaire  $0010\ 0110 + 1000\ 1110$  ?

#### Réponses

- A 1010 1110
- B 0000 0110
- C 1011 0100
- D 0101 0001

### Question A.2

Laquelle de ces affirmations concernant le codage UTF-8 des caractères est vraie ?

#### Réponses

- A le codage UTF-8 est sur 7 bits
- B le codage UTF-8 est sur 8 bits
- C le codage UTF-8 est sur 1 à 4 octets
- D le codage UTF-8 est sur 8 octets

### Question A.3

Quelle est la représentation en binaire de l'entier 64 sur un octet ?

#### Réponses

- A 0101 0000
- B 1100 0100
- C 0100 0000
- D 0000 1100

### Question A.4

Quelle est la représentation binaire de l'entier positif 51 sur 8 bits ?

#### Réponses

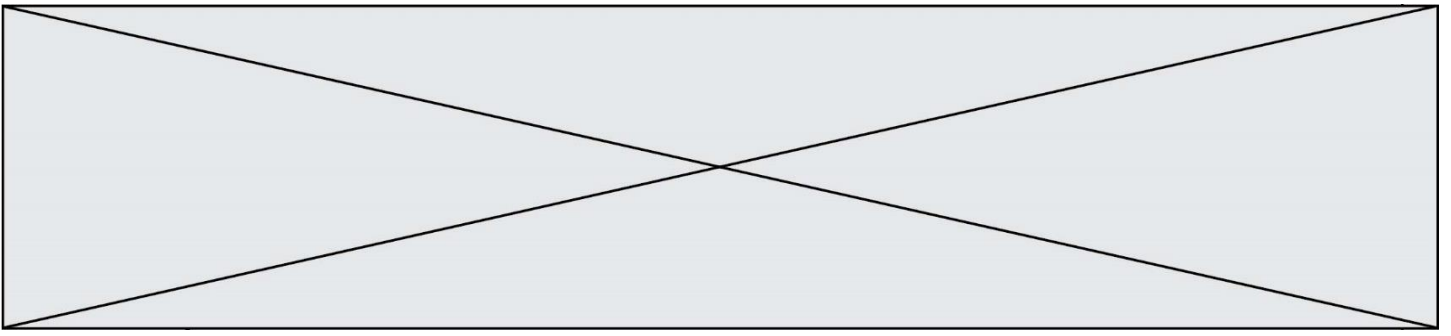
- A 0010 0001
- B 0010 1001
- C 0011 0001
- D 0011 0011

### Question A.5

Parmi les nombres suivants, quel est celui dont la représentation sous forme de nombre flottant peut être écrite de manière exacte avec un nombre fini de chiffres en base 2 ?

#### Réponses

- A  $1/5$
- B  $1/6$
- C  $1/7$
- D  $1/8$



**Question A.6**

Le résultat de l'addition en binaire  $101001 + 101$  est égal au nombre binaire :

Réponses

- A 101102
- B 010101
- C 101110
- D 110000

Modèle CCYC : ©DNE

Nom de famille (naissance) :

(Suivi s'il y a lieu, du nom d'usage)

Prénom(s) :

N° candidat :

N° d'inscription :



Liberté • Égalité • Fraternité  
RÉPUBLIQUE FRANÇAISE

Né(e) le :

(Les numéros figurent sur la convocation.)

1.1

## Thème B : types construits

### Question B.1

Laquelle des quatre expressions suivantes a-t-elle pour valeur la liste [1, 2, 5, 10] ?

#### Réponses

- A `[i for i in range(4) if i<2]`
- B `[i for i in range(4)]`
- C `[i*i + 1 for i in range(4)]`
- D `[i*i - 2*i + 2 for i in range(4)]`

### Question B.2

Quelle est la valeur de L à la fin de l'exécution du script suivant ?

```
def f(L):  
    temp = L[0]  
    for i in range(len(L)-1):  
        L[i] = L[i+1]  
    L[-1] = temp
```

```
L = [1, 2, 3, 4, 5]  
f(L)
```

#### Réponses

- A [2, 3, 4, 5, 1]
- B [5, 1, 2, 3, 4]
- C [5, 4, 3, 2, 1]
- D [3, 4, 5, 1, 2]

### Question B.3

On construit une matrice par compréhension :

```
M = [ [i*j for j in range(4)] for i in range(4) ]
```

Laquelle des conditions suivantes est-elle vérifiée ?

#### Réponses

- A `M[4][4] == 16`
- B `M[0][1] == 1`
- C `M[2][3] == 6`
- D `M[1][2] == 3`

**Question B.4**

On considère le code suivant :

```
def s(tuple1, tuple2):  
    (x1,y1) = tuple1  
    (x2,y2) = tuple2  
    return (x1+x2, y1+y2)
```

Que renvoie l'appel `s((1,3), (2,4))` ?

**Réponses**

- A le tuple (3,7)
- B le tuple (4,6)
- C un entier
- D une erreur

**Question B.5**

Quelle est la valeur de l'expression `[(i,i+1) for i in range(2)]` ?

**Réponses**

- A `[0,1,1,2]`
- B `[(1,2), (2,3)]`
- C `[(0,1), (1,2)]`
- D `[[0,1], [1,2]]`

**Question B.6**

On considère le code suivant :

```
t = [1, 6, 8, 3, 21]  
u = [x for x in t if x > 3]
```

Que vaut `u` à la fin de son exécution ?

**Réponses**

- A `[1, 6, 8, 21]`
- B `[6, 8, 3, 21]`
- C `[6, 8, 21]`
- D `[1, 3, 6, 21]`



Modèle CCYC : ©DNE

Nom de famille (naissance) :

(Suivi s'il y a lieu, du nom d'usage)

Prénom(s) :

N° candidat :

N° d'inscription :



Né(e) le :

(Les numéros figurent sur la convocation.)

1.1

## Thème C : traitement de données en tables

### Question C.1

On exécute le code suivant :

```
def maxi(t):  
    m = t[0]  
    for x in t:  
        if x[1] >= m[1]:  
            m = x  
    return m
```

```
L = [ ('Alice', 17), ('Barnabé', 17),  
      ('Casimir', 17), ('Doriane', 17),  
      ('Emilien', 14), ('Fabienne', 16) ]
```

Quelle est alors la valeur de `maxi(L)` ?

### Réponses

- A ('Alice', 17)
- B ('Doriane', 17)
- C ('Fabienne', 17)
- D ('Emilien', 14)

### Question C.2

On a défini :

```
mendeleeiev = [['H', 'Li', 'Be', 'B', 'C', 'N', 'O', 'F', 'Ne'],  
               ['Na', 'Mg', 'Al', 'Si', 'P', 'S', 'Cl', 'Ar'],  
               ..... ]
```

Une erreur s'est glissée dans le tableau, car le symbole du Fluor est F et non Fl. Quelle instruction permet de rectifier ce tableau ?

### Réponses

- A `mendeleeiev.append('F')`
- B `mendeleeiev[1][6] = 'F'`
- C `mendeleeiev[6][1] = 'F'`
- D `mendeleeiev[-1][-1] = 'F'`

### Question C.3

Un fichier CSV ...

### Réponses

- A ne peut être lu que par un tableur
- B est l'unique format utilisé pour construire une base de données
- C est un fichier texte
- D est un format propriétaire



#### Question C.4

Qu'est-ce que le CSV ?

#### Réponses

- A Un langage de programmation
- B Un format de fichier permettant de stocker de l'information
- C Un algorithme permettant de rechercher une information dans un fichier
- D Un format de fichier permettant de définir le style d'une page web

#### Question C.5

On définit ainsi une liste `t` :

```
t = [ {'id':1, 'age':23, 'sejour':'PEKIN'},
      {'id':2, 'age':27, 'sejour':'ISTANBUL'},
      {'id':3, 'age':53, 'sejour':'LONDRES'},
      {'id':4, 'age':41, 'sejour':'ISTANBUL'},
      {'id':5, 'age':62, 'sejour':'RIO'},
      {'id':6, 'age':28, 'sejour':'ALGER'}]
```

Quelle affirmation est correcte ?

#### Réponses

- A `t` est une liste de listes
- B `t` est une liste de dictionnaires
- C `t` est un dictionnaire de listes
- D `t` est une liste de tuples

#### Question C.6

On définit la fonction suivante qui prend en argument un tableau non vide d'entiers.

```
def f(T):
    s = 0
    for k in T:
        if k == 8:
            s = s+1
    if s > 1:
        return True
    else:
        return False
```

Dans quel cas cette fonction renvoie-t-elle la valeur `True` ?

#### Réponses

- A dans le cas où 8 est présent au moins une fois dans le tableau `T`
- B dans le cas où 8 est présent au moins deux fois dans le tableau `T`
- C dans le cas où 8 est présent exactement une fois dans le tableau `T`
- D dans le cas où 8 est présent exactement deux fois dans le tableau `T`

Modèle CCYC : ©DNE

Nom de famille (naissance) :

(Suivi s'il y a lieu, du nom d'usage)

Prénom(s) :

N° candidat :

N° d'inscription :

(Les numéros figurent sur la convocation.)

Né(e) le :



1.1

## Thème D : interactions entre l'homme et la machine sur le Web

### Question D.1

Lors de la consultation d'une page HTML, contenant un bouton auquel est associée la fonction javascript suivante, que se passe-t-il quand on clique sur ce bouton ?

```
function action(event) {  
  this.style.color = "red"  
}
```

#### Réponses

- A le pointeur de souris devient rouge lorsqu'il arrive sur le bouton
- B le texte du bouton devient rouge
- C le texte du bouton est remplacé par le mot "red"
- D le texte de la page passe en rouge

### Question D.2

Quel est le protocole utilisé pour accéder à la page <https://www.domaine.gouv.fr/qcm.php?nom=Martin> ?

#### Réponses

- A HTTPS
- B HTTP
- C WWW
- D FTP

### Question D.3

Charles veut accéder à son forum favori. Il saisit son adresse (URL) sur son navigateur Web, qui lui affiche une erreur 404.

Quelle cas de figure n'explique pas sa situation ?

#### Réponses

- A une mise à jour du serveur qui héberge le forum
- B une erreur de saisie de sa part
- C une panne de sa connexion internet
- D un changement de titre du forum qu'il veut consulter

### Question D.4

Mehdi a écrit une page HTML contenant des éléments input de formulaire. Il place ces éléments de formulaire :

#### Réponses

- A entre la balise <form> et la balise </form>
- B entre la balise <formulary> et la balise </formulary>
- C entre la balise <code> et la balise </code>
- D entre la balise <script> et la balise </script>



**Question D.5**

Un fichier HTML contient la ligne suivante.

```
<p>Coucou ! Ca va?</p>
```

Quelle commande CSS écrire pour que le texte apparaisse en rose sur fond jaune ?

**Réponses**

- A `p { couleur: rose ; fond: jaune;}`
- B `<p> { color = pink background-color = yellow}`
- C `<p> { color = pink ; background-color: yellow} </p>`
- D `p { color: pink ; background-color: yellow ;}`

**Question D.6**

Lorsque la méthode POST est associée à un formulaire au sein d'une page HTML, comment les réponses du formulaire sont-elles envoyées au serveur ?

**Réponses**

- A Elles sont visibles dans l'URL
- B Elles sont cachées de l'URL
- C Elles sont transmises via un service postal spécifique
- D Elles sont découpées en plusieurs petites URL limitées à 4 mots

Modèle CCYC : ©DNE

Nom de famille (naissance) :


(Suivi s'il y a lieu, du nom d'usage)

Prénom(s) :

N° candidat :  N° d'inscription :

(Les numéros figurent sur la convocation.)

Né(e) le :  /  /



Liberté • Égalité • Fraternité  
RÉPUBLIQUE FRANÇAISE

1.1

## Thème E : architectures matérielles et systèmes d'exploitation

### Question E.1

Dans la console Linux, étant positionné dans le répertoire `/home/marcelH/travail`, quelle commande faut-il exécuter pour remonter dans l'arborescence vers le répertoire `/home/marcelH` ?

#### Réponses

- A `cd .`
- B `cd ..`
- C `cd ...`
- D `cd ../../`

### Question E.2

Lequel de ces objets n'est pas un périphérique ?

#### Réponses

- A le clavier
- B une clé USB
- C la carte graphique
- D la carte mère

### Question E.3

Qu'effectue-t-on en lançant la commande suivante dans un terminal Linux :

```
cp /etc/professeur/fichier.conf /home/nsi/fichier.conf
```

#### Réponses

- A un déplacement de fichier
- B une copie de fichier
- C un renommage de fichier
- D un changement de répertoire

### Question E.4

La commande suivante vient d'être exécutée en ligne de commande sous Linux :

```
cp /users/luc/interro.txt ./
```

Que réalise cette commande ?

#### Réponses

- A copie du fichier `users` vers le répertoire `luc`
- B copie du fichier `interro.txt` vers le répertoire `luc`
- C copie du fichier `interro.txt` vers le répertoire courant
- D copie du fichier `interro.txt` vers le répertoire `users`



#### Question E.5

Sous Linux, on se place dans un répertoire appelé `documents`. Dans quel répertoire se trouve-t-on après avoir exécuté la commande `cd ../images` ?

#### Réponses

- A dans un répertoire `images`, qui est un sous-répertoire du répertoire `documents`
- B dans un répertoire `images`, qui est à la racine du système de fichiers
- C dans un répertoire `images`, qui est dans l'arborescence de fichiers à la même hauteur que le répertoire `documents`
- D dans un répertoire `images`, qui est sur le CD-ROM du lecteur de l'ordinateur

#### Question E.6

Dans un terminal, on exécute la suite de commandes système suivante :

```
cd ~  
cd seances/tp  
mv exercice.txt ../../../../exercice.txt
```

Où se trouve finalement placé le fichier `exercice.txt` ?

#### Réponses

- A dans le répertoire `~/seance/tp`
- B dans le répertoire `~/seance`
- C dans le répertoire `~`
- D dans le répertoire `/home`





### Question F.3

$n$  étant un entier strictement positif, la fonction suivante calcule sa factorielle, c'est-à-dire le produit  $1 \times 2 \times 3 \times \dots \times (n-1) \times n$ . Comment faut-il écrire la ligne en pointillée ci-dessous pour ce faire ?

```
def factorielle(n):  
    f = 1  
    .....  
    f = f * i  
    return f
```

### Réponses

- A for i in range(1,n):
- B for i in range(n+1):
- C for i in range(0,n):
- D for i in range(1,n+1):

### Question F.4

Dans le programme JavaScript suivant, quelle est la notation qui délimite le bloc d'instructions exécuté à chaque passage dans la boucle `while` ?

```
i  
while (i < 10) {  
    alert(i)  
    i = i + 1  
}  
alert("Fin")
```

### Réponses

- A le fait que les instructions soient encadrées entre `{` et `}`
- B le fait que les instructions soient indentées de 4 caractères comme en Python
- C le fait que les instructions suivent le mot clé `while`
- D le fait que les instructions suivent la parenthèse `)`

### Question F.5

La fonction Python suivante ne calcule pas toujours correctement le résultat de  $x^y$  pour des arguments entiers. Parmi les tests suivants, lequel va permettre de détecter l'erreur ?

```
def puissance(x,y):  
    p = x  
    for i in range(y-1):  
        p = p * x  
    return p
```

### Réponses

- A puissance(2,0)
- B puissance(2,1)
- C puissance(2,2)
- D puissance(2,10)



Modèle CCYC : ©DNE

Nom de famille (naissance) :

(Suivi s'il y a lieu, du nom d'usage)

Prénom(s) :

N° candidat :

N° d'inscription :



Liberté • Égalité • Fraternité  
RÉPUBLIQUE FRANÇAISE

Né(e) le :

(Les numéros figurent sur la convocation.)

1.1

**Question F.6**

Quelle est la valeur de la variable **b** à la fin de l'exécution du script suivant ?

```
a = 3
b = 6
if a > 5 or b != 3:
    b = 4
else:
    b = 2
```

**Réponses**

- A 2
- B 4
- C 5
- D 6



## Thème G : algorithmique

### Question G.1

$a$  et  $m$  étant deux entiers supérieurs à 1, la fonction suivante renvoie  $a^m$ .

```
def puissance(a,m):  
    p = 1  
    n = 0  
    while n < m:  
        p = p * a  
        #  
        n = n + 1  
    return p
```

Quelle est l'égalité qui est vérifiée à chaque passage par la ligne marquée # ?

#### Réponses

- A  $p = a^{n-1}$
- B  $p = a^n$
- C  $p = a^{n+1}$
- D  $p = a^m$

### Question G.2

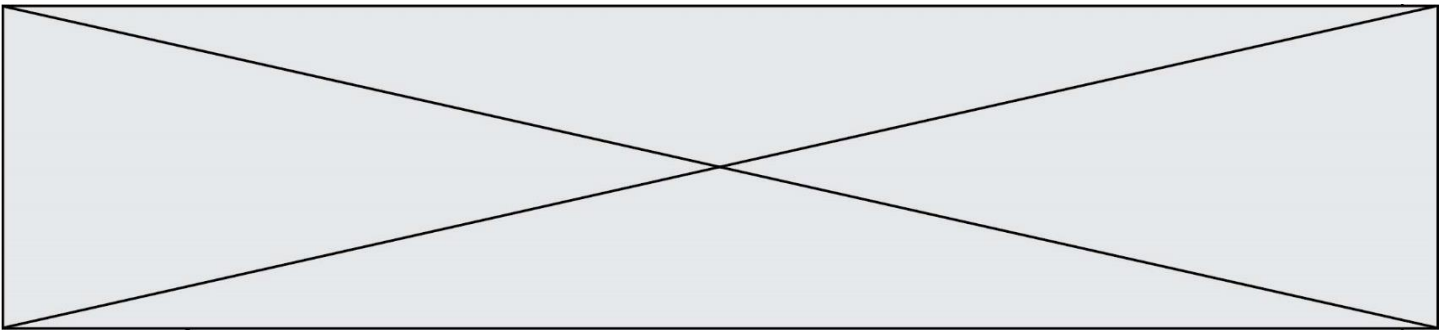
La fonction suivante doit déterminer la valeur maximale d'un tableau de nombres passé en argument. Avec quelles expressions faut-il remplacer les pointillés du script suivant pour que la fonction soit correcte ?

```
def maximum(T):  
    maxi = T[0]  
    n = len(T)  
    for i in range(i, .....):  
        if T[i] > maxi:  
            maxi = .....  
    return maxi
```

#### Réponses

- A n puis T[i]
- B n puis T[i-1]
- C n-1 puis T[i]
- D n-1 puis T[i-1]





### Question G.5

On suppose qu'au début de l'exécution la variable K contient un entier positif non nul.  
Lequel des scripts suivants va boucler indéfiniment ?

#### Réponses

A

```
i = K+1
while i < K:
    i = i + 1
```

B

```
i = K-1
while i < K:
    i = i - 1
```

C

```
i = K-1
while i < K:
    i = i + 1
```

D

```
i = K+1
while i >= K:
    i = i - 1
```

### Question G.6

La fonction suivante doit calculer le produit de tous les éléments de la liste passée en paramètre. Avec quelles expressions doit-on la compléter pour que cette fonction soit correcte ?

```
def produit (L):
    p = ...
    for elt in L:
        .....
    return p
```

#### Réponses

- A 1 puis  $p = p * elt$
- B 0 puis  $p = p * elt$
- C 1 puis  $p = elt$
- D 0 puis  $p = elt$