



Thème A : types de base

Réponse à la question 1	A <input type="checkbox"/>	B <input type="checkbox"/>	C <input type="checkbox"/>	D <input type="checkbox"/>
Réponse à la question 2	A <input type="checkbox"/>	B <input type="checkbox"/>	C <input type="checkbox"/>	D <input type="checkbox"/>
Réponse à la question 3	A <input type="checkbox"/>	B <input type="checkbox"/>	C <input type="checkbox"/>	D <input type="checkbox"/>
Réponse à la question 4	A <input type="checkbox"/>	B <input type="checkbox"/>	C <input type="checkbox"/>	D <input type="checkbox"/>
Réponse à la question 5	A <input type="checkbox"/>	B <input type="checkbox"/>	C <input type="checkbox"/>	D <input type="checkbox"/>
Réponse à la question 6	A <input type="checkbox"/>	B <input type="checkbox"/>	C <input type="checkbox"/>	D <input type="checkbox"/>

Thème B : types construits

Réponse à la question 1	A <input type="checkbox"/>	B <input type="checkbox"/>	C <input type="checkbox"/>	D <input type="checkbox"/>
Réponse à la question 2	A <input type="checkbox"/>	B <input type="checkbox"/>	C <input type="checkbox"/>	D <input type="checkbox"/>
Réponse à la question 3	A <input type="checkbox"/>	B <input type="checkbox"/>	C <input type="checkbox"/>	D <input type="checkbox"/>
Réponse à la question 4	A <input type="checkbox"/>	B <input type="checkbox"/>	C <input type="checkbox"/>	D <input type="checkbox"/>
Réponse à la question 5	A <input type="checkbox"/>	B <input type="checkbox"/>	C <input type="checkbox"/>	D <input type="checkbox"/>
Réponse à la question 6	A <input type="checkbox"/>	B <input type="checkbox"/>	C <input type="checkbox"/>	D <input type="checkbox"/>

Thème C : traitement de données en tables

Réponse à la question 1	A <input type="checkbox"/>	B <input type="checkbox"/>	C <input type="checkbox"/>	D <input type="checkbox"/>
Réponse à la question 2	A <input type="checkbox"/>	B <input type="checkbox"/>	C <input type="checkbox"/>	D <input type="checkbox"/>
Réponse à la question 3	A <input type="checkbox"/>	B <input type="checkbox"/>	C <input type="checkbox"/>	D <input type="checkbox"/>
Réponse à la question 4	A <input type="checkbox"/>	B <input type="checkbox"/>	C <input type="checkbox"/>	D <input type="checkbox"/>
Réponse à la question 5	A <input type="checkbox"/>	B <input type="checkbox"/>	C <input type="checkbox"/>	D <input type="checkbox"/>
Réponse à la question 6	A <input type="checkbox"/>	B <input type="checkbox"/>	C <input type="checkbox"/>	D <input type="checkbox"/>

Thème D : interactions entre l'homme et la machine sur le Web

Réponse à la question 1	A <input type="checkbox"/>	B <input type="checkbox"/>	C <input type="checkbox"/>	D <input type="checkbox"/>
Réponse à la question 2	A <input type="checkbox"/>	B <input type="checkbox"/>	C <input type="checkbox"/>	D <input type="checkbox"/>
Réponse à la question 3	A <input type="checkbox"/>	B <input type="checkbox"/>	C <input type="checkbox"/>	D <input type="checkbox"/>
Réponse à la question 4	A <input type="checkbox"/>	B <input type="checkbox"/>	C <input type="checkbox"/>	D <input type="checkbox"/>
Réponse à la question 5	A <input type="checkbox"/>	B <input type="checkbox"/>	C <input type="checkbox"/>	D <input type="checkbox"/>
Réponse à la question 6	A <input type="checkbox"/>	B <input type="checkbox"/>	C <input type="checkbox"/>	D <input type="checkbox"/>

Modèle CCYC : ©DNE

Nom de famille (naissance) :

(Suivi s'il y a lieu, du nom d'usage)

Prénom(s) :

N° candidat :

N° d'inscription :



Liberté • Égalité • Fraternité
RÉPUBLIQUE FRANÇAISE

Né(e) le :

(Les numéros figurent sur la convocation.)

1.1

Thème E : architectures matérielles et systèmes d'exploitation


Réponse à la question 1	A <input type="checkbox"/>	B <input type="checkbox"/>	C <input type="checkbox"/>	D <input type="checkbox"/>
Réponse à la question 2	A <input type="checkbox"/>	B <input type="checkbox"/>	C <input type="checkbox"/>	D <input type="checkbox"/>
Réponse à la question 3	A <input type="checkbox"/>	B <input type="checkbox"/>	C <input type="checkbox"/>	D <input type="checkbox"/>
Réponse à la question 4	A <input type="checkbox"/>	B <input type="checkbox"/>	C <input type="checkbox"/>	D <input type="checkbox"/>
Réponse à la question 5	A <input type="checkbox"/>	B <input type="checkbox"/>	C <input type="checkbox"/>	D <input type="checkbox"/>
Réponse à la question 6	A <input type="checkbox"/>	B <input type="checkbox"/>	C <input type="checkbox"/>	D <input type="checkbox"/>

Thème F : langages et programmation

Réponse à la question 1	A <input type="checkbox"/>	B <input type="checkbox"/>	C <input type="checkbox"/>	D <input type="checkbox"/>
Réponse à la question 2	A <input type="checkbox"/>	B <input type="checkbox"/>	C <input type="checkbox"/>	D <input type="checkbox"/>
Réponse à la question 3	A <input type="checkbox"/>	B <input type="checkbox"/>	C <input type="checkbox"/>	D <input type="checkbox"/>
Réponse à la question 4	A <input type="checkbox"/>	B <input type="checkbox"/>	C <input type="checkbox"/>	D <input type="checkbox"/>
Réponse à la question 5	A <input type="checkbox"/>	B <input type="checkbox"/>	C <input type="checkbox"/>	D <input type="checkbox"/>
Réponse à la question 6	A <input type="checkbox"/>	B <input type="checkbox"/>	C <input type="checkbox"/>	D <input type="checkbox"/>

Thème G : algorithmique

Réponse à la question 1	A <input type="checkbox"/>	B <input type="checkbox"/>	C <input type="checkbox"/>	D <input type="checkbox"/>
Réponse à la question 2	A <input type="checkbox"/>	B <input type="checkbox"/>	C <input type="checkbox"/>	D <input type="checkbox"/>
Réponse à la question 3	A <input type="checkbox"/>	B <input type="checkbox"/>	C <input type="checkbox"/>	D <input type="checkbox"/>
Réponse à la question 4	A <input type="checkbox"/>	B <input type="checkbox"/>	C <input type="checkbox"/>	D <input type="checkbox"/>
Réponse à la question 5	A <input type="checkbox"/>	B <input type="checkbox"/>	C <input type="checkbox"/>	D <input type="checkbox"/>
Réponse à la question 6	A <input type="checkbox"/>	B <input type="checkbox"/>	C <input type="checkbox"/>	D <input type="checkbox"/>



Modèle CCYC : ©DNE

Nom de famille (naissance) :

(Suivi s'il y a lieu, du nom d'usage)

Prénom(s) :

N° candidat : N° d'inscription :

(Les numéros figurent sur la convocation.)

Né(e) le : / /



1.1

Thème A : types de base

Question A.1

Quelle est l'écriture binaire de l'entier n dont l'écriture hexadécimale est 7C8 ?

Réponses

- A 111 1100 1010
- B 110 0011 1111
- C 110 0111 0101
- D 111 1100 1000

Question A.2

Combien de bits doit-on utiliser au minimum pour représenter en base 2 le nombre entier 72 ?

Réponses

- A 2
- B 6
- C 7
- D 8

Question A.3

Combien de bits sont nécessaires pour représenter 15 en binaire ?

Réponses

- A 2
- B 3
- C 4
- D 5

Question A.4

Quelle est la représentation binaire du nombre entier 173 ?

Réponses

- A 1010 1101
- B 1011 0101
- C 1011 0100
- D 1011 1101

Question A.5

Deux entiers positifs ont pour écriture en base 16 : A7 et 84.

Quelle est l'écriture en base 16 de leur somme ?

Réponses

- A 1811
- B 12B
- C 13A
- D A784



Question A.6

On considère les codes ASCII en écriture hexadécimale (en base 16).

Le code ASCII de la lettre A est 0x41, celui de la lettre B est 0x42, celui de la lettre C est 0x43, etc.

Quel est le code ASCII, en hexadécimal, de la lettre X (c'est la 24^e lettre de l'alphabet usuel).

Réponses

- A 0x58
- B 0x64
- C 0x7A
- D 0x88

Modèle CCYC : ©DNE

Nom de famille (naissance) :

(Suivi s'il y a lieu, du nom d'usage)

Prénom(s) :

N° candidat :

N° d'inscription :



Né(e) le :

(Les numéros figurent sur la convocation.)

1.1

Thème B : types construits

Question B.1

On dispose d'une liste définie par $L = [[1, 2, 3], [4, 5, 6], [7, 8, 9]]$.
Quelle est la valeur de `L[1][2]` ?

Réponses

- A 2
- B 4
- C 6
- D 8

Question B.2

Soit le code ci-dessous :

```
tableau = [5, 8, 6, 9]
a = tableau[2]
```

Après son exécution, quelle valeur contient la variable `a` ?

Réponses

- A 2
- B 6
- C 8
- D [5, 8]

Question B.3

Quelle est l'expression qui a pour valeur la liste `[1, 4, 9, 16, 25, 36]` ?

Réponses

- A `{ n*n for n in range(1,7) }`
- B `{ n*n for n in range(6) }`
- C `[n*n for n in range(1,7)]`
- D `[n*n for n in range(6)]`

Question B.4

Considérons le tableau suivant :

```
tableau = [[1,2], [3,4], [5,6]]
```

Quelle est la valeur de l'expression `tableau[2][1]` ?

Réponses

- A 3
- B 6
- C [3, 4], [1, 2]
- D [5, 6], [2, 4]



Question B.5

On définit le dictionnaire suivant $d = \{ 'A': 3, 'B': 7, 'C': 2 \}$. Quelle expression permet de récupérer la valeur de la clé 'B' ?

Réponses

- A `d['B']`
- B `d[1]`
- C `d[7]`
- D `d[B]`

Question B.6

Quelle est la valeur de l'expression `[(a,b) for a in range(3) for b in range(3) if a > b]` ?

Réponses

- A `[(a,b), (a,b), (a,b), (a,b), (a,b), (a,b), (a,b), (a,b), (a,b)]`
- B `[(0,0), (0,1), (0,2), (1,0), (1,1), (1,2), (2,0), (2,1), (2,2)]`
- C `[(1,0), (2,0), (2,1)]`
- D `[(0,0), (0,1), (0,2), (1,0), (1,1), (1,2), (1,0), (1,1), (1,2)]`

Modèle CCYC : ©DNE

Nom de famille (naissance) :


(Suivi s'il y a lieu, du nom d'usage)

Prénom(s) :

N° candidat : N° d'inscription :

(Les numéros figurent sur la convocation.)

Né(e) le : / /



RÉPUBLIQUE FRANÇAISE

1.1

Thème C : traitement de données en tables

Question C.1

Quelle est la valeur de la variable `table` à la fin de l'exécution du script suivant :

```
table = [[1, 2, 3], [1, 2, 3], [1, 2, 3], [1, 2, 3]]
table [1][2] = 5
```

Réponses

- A `[[1, 5, 3], [1, 2, 3], [1, 2, 3], [1, 2, 3]]`
- B `[[1, 2, 3], [5, 2, 3], [1, 2, 3], [1, 2, 3]]`
- C `[[1, 2, 3], [1, 2, 5], [1, 2, 3], [1, 2, 3]]`
- D `[[1, 2, 3], [1, 2, 3], [1, 2, 3], [1, 5, 3]]`

Question C.2

On a défini deux tables de données :

```
data1 = [('Bruce', 'Wayne'), ('Chuck', 'Norris'), ('Bruce', 'Lee'),
         ('Clark', 'Kent')]
data2 = [('Diana', 'Prince'), ('Chuck', 'Norris'), ('Peter', 'Parker')]
```

Quelle instruction permet de construire une table `data` regroupant l'ensemble des informations de `data1` et `data2` ?

Réponses

- A `data = data1 + data2`
- B `data == data1 + data2`
- C `data = [element for element in data1 or data2]`
- D `data = [data1] + [data2]`

Question C.3

On exécute le code suivant :

```
a = [5, 4, 3, 4, 7]
a.append(4)
```

Quelle est la valeur de la variable `a` à la fin de cette exécution ?

Réponses

- A `2`
- B `[4, 4]`
- C `[5, 4, 3, 4, 7, 4]`
- D `True`



Question C.4

Parmi les extensions suivantes, laquelle caractérise un fichier contenant des données que l'on peut associer à un tableau de pixels ?

Réponses

- A pdf
- B xls
- C png
- D exe

Question C.5

Qu'est-ce que le format de fichier CSV ?

Réponses

- A un format de fichier mis au point par Microsoft pour Excel
- B un format de fichier pour décrire une base de données
- C un format de fichier où les données sont séparées par un caractère tel qu'une virgule
- D un format de fichier décrivant une page Web

Question C.6

On considère des dictionnaires comme

```
{ 'nom': 'Jérôme', 'NSI': 16.2, 'maths': 11.4, 'physique': 13.0 }
```

pour retenir les notes d'un élève.

On définit :

```
def somme(notes):  
    return notes['NSI'] + notes['maths'] + notes['physique']  
  
def plusPetit(n1, n2):  
    if n1['NSI'] < n2['NSI']:  
        return True  
    if n1['NSI'] == n2['NSI']:  
        if somme(n1) < somme(n2):  
            return True  
        elif somme(n1) == somme(n2) and n1['nom'] < n2['nom']:  
            return True  
    return False
```

pour définir un ordre croissant sur ces dictionnaires.

Ranger dans l'ordre croissant les dictionnaires suivants :

```
n1 = { 'nom': "Albert", 'NSI': 12.3, 'maths': 14.0, 'physique': 8.7 }  
n2 = { 'nom': "Béatrice", 'NSI': 12.3, 'maths': 11.0, 'physique': 12.5 }  
n3 = { 'nom': "Colin", 'NSI': 12.3, 'maths': 7.0, 'physique': 15.7 }  
n4 = { 'nom': "Daniel", 'NSI': 13.4, 'maths': 9.0, 'physique': 5.2 }  
n5 = { 'nom': "Emilie", 'NSI': 16.1, 'maths': 5.3, 'physique': 14.4 }
```

Réponses

- A n1, n2, n3, n4, n5
- B n1, n4, n2, n4, n5
- C n1, n3, n2, n4, n5
- D n5, n4, n2, n3, n1

Modèle CCYC : ©DNE

Nom de famille (naissance) :

(Suivi s'il y a lieu, du nom d'usage)

Prénom(s) :

N° candidat :

N° d'inscription :



Né(e) le :

(Les numéros figurent sur la convocation.)

1.1

Thème D : interactions entre l'homme et la machine sur le Web

Question D.1

Comment doit-on procéder pour insérer des instructions en javascript dans un fichier html ?

Réponses

- A Il suffit de mettre les instructions entre les balises <javascript> et </javascript>
- B Il faut utiliser une balise <script>
- C Il faut les insérer dans le fichier CSS
- D Il est inutile de mettre des balises spéciales

Question D.2

Après avoir tenté d'accéder à un site, le navigateur affiche : 403 Forbidden.

Cela signifie que :

Réponses

- A la connexion à Internet est défectueuse
- B le navigateur a refusé d'envoyer la requête
- C le serveur a répondu par un code d'erreur
- D le serveur n'a jamais répondu

Question D.3

Voici un extrait d'une page HTML :

```
<script>
  fonction sommeNombres(formulaire) {
    var somme = formulaire.n1.value + formulaire.n2.value;
    console.log(somme);
  }
</script>

<form>
  Nombre 1 : <input name="n1" value="30"> <br>
  Nombre 2 : <input name="n2" value="10"> <br>
  <input type="button" value="Somme" onclick="sommeNombres(this.form)">
</form>
```

Quand l'utilisateur clique sur le bouton Somme, le calcul de la fonction sommeNombres() se fait :

Réponses

- A uniquement dans le navigateur
- B uniquement sur le serveur qui héberge la page
- C à la fois dans le navigateur et sur le serveur
- D si le calcul est complexe, le navigateur demande au serveur de faire le calcul

Question D.4

Parmi les langages suivants, lequel est exécuté sur le serveur lors de la consultation d'une page Web ?

Réponses

- A JavaScript
- B HTML
- C CSS
- D PHP



Question D.5

Qu'affiche cet extrait de code HTML ?

```
<a href='photo.html'><img src=images/photo-lycee.jpg' alt='Photo du Lycée' /></a>
```

Réponses

- A seulement l'image contenue dans le fichier photo-lycee.jpg
- B seulement le texte Photo du Lycée
- C l'image contenue dans le fichier photo-lycee.jpg avec le texte Photo du Lycée en légende
- D la page Web photo.html

Question D.6

Dans une page web, on souhaite créer un bouton permettant l'appel de la fonction javascript traitement(). Quelle ligne d'instructions permettra de le faire ?

Réponses

- A <button onclick = "traitement()">Cliquez ici</button>
- B Cliquez ici
- C <button>Cliquez ici</button = traitement()>
- D <button>Cliquez ici = traitement()</button>

Modèle CCYC : ©DNE


Nom de famille (naissance) : (Suivi s'il y a lieu, du nom d'usage)

Prénom(s) :

N° candidat : (Les numéros figurent sur la convocation.)

N° d'inscription :

Né(e) le :



1.1

Thème E : architectures matérielles et systèmes d'exploitation

Question E.1

Dans la console Linux, étant positionné dans le répertoire `/home/marcelH/travail`, quelle commande faut-il exécuter pour remonter dans l'arborescence vers le répertoire `/home/marcelH` ?

Réponses

- A `cd .`
- B `cd ..`
- C `cd ...`
- D `cd ../../`

Question E.2

Sachant que le répertoire courant contient les fichiers `fich.txt`, `mafich.txt` et `programme.py`, quel est le résultat de la commande `ls fich*` dans un shell Linux ?

Réponses

- A `fich.txt mafich.txt`
- B `mafich.txt`
- C `fich.txt`
- D `programme.py`

Question E.3

Parmi tous les registres internes que possède une architecture mono-processeur, il en existe un appelé compteur ordinal (*program counter*).

Quel est le rôle de ce registre ?

Réponses

- A il contient l'adresse mémoire de la prochaine instruction à exécuter
- B il contient le nombre d'instructions contenues dans le programme
- C il contient l'adresse mémoire de l'opérande à récupérer
- D il contient le nombre d'opérandes utilisés

Question E.4

Lorsqu'un utilisateur lance une application, le système d'exploitation va l'ouvrir dans :

Réponses

- A un espace disponible du disque SSD
- B un espace disponible du disque HDD
- C un espace disponible de la RAM
- D un espace disponible de la ROM



Question E.5

Quel est l'effet de la commande shell suivante ?

```
cp NSI_ex1_Franck.txt NSI_ex1_Marie.txt
```

Réponses


- A Le fichier `NSI_ex1_Franck.txt` est copié sous le nom `NSI_ex1_Marie.txt`
- B Le fichier `NSI_ex1_Franck.txt` est renommé sous le nom `NSI_ex1_Marie.txt`
- C Le fichier `NSI_ex1_Marie.txt` est copié sous le nom `NSI_ex1_Franck.txt`
- D Le fichier `NSI_ex1_Marie.txt` est renommé sous le nom `NSI_ex1_Franck.txt`

Question E.6

Dans quel but le protocole du bit alterné peut-il être utilisé ?

Réponses

- A Pour chiffrer des données lors de transmission de données sur un réseau
- B Pour détecter des pertes de paquets de données lors de transmission de données sur un réseau
- C Pour créer des paquets de données lors de transmission de données sur un réseau
- D Pour envoyer les paquets de données à la bonne l'adresse IP de la machine de destination

Modèle CCYC : ©DNE																				
Nom de famille (naissance) : (Suivi s'il y a lieu, du nom d'usage)																				
Prénom(s) :																				
N° candidat :											N° d'inscription :									
	(Les numéros figurent sur la convocation.)																			
	Né(e) le :			/			/													

1.1

Thème F : langages et programmation

Question F.1

La documentation de la bibliothèque random de Python précise :

`random.randint(a, b)`
 Renvoie un entier aléatoire N tel que $a \leq N \leq b$. b)

Quelle est l'expression Python permettant de simuler le tirage d'un dé à 6 faces après avoir exécuté `import random` ?

Réponses

- A `random.randint(6)`
- B `random.randint(1,6)`
- C `random.randint(1,7)`
- D `random.randint(0,6)`

Question F.2

On souhaite écrire une fonction qui renvoie le maximum d'une liste d'entiers :

```
def maximum(L):
    m = L[0]
    for i in range(1, len(L)):
        if .....:
            m = L[i]
    return m
```

Par quoi faut-il remplacer les pointillés pour que cette fonction produise bien le résultat attendu ?

Réponses

- A `i > m`
- B `L[i] > m`
- C `L[i] > L[i-1]`
- D `L[i] > L[i+1]`

Question F.3


On exécute le code suivant

```
def calculPourcentage (prix, réduction):
    assert réduction >= 0, 'la réduction doit être un nombre positif'
    assert réduction < 100, 'la réduction doit être inférieure à 100'
    assert prix > 0, 'le prix doit être un nombre strictement positif'
    remise = (réduction*prix)/100
    prix_remise = prix - remise
    return prix_remise
```

Quelle est la valeur renvoyée par l'appel `calcul(30,100)` ?

Réponses

- A AssertionError: la réduction doit être un nombre positif
- B AssertionError: la réduction doit être inférieure à 100
- C AssertionError: le prix doit être un nombre strictement positif
- D 70





Question F.4

On a défini une liste L de nombres entiers.

Quelle est la valeur de la variable m à la fin de l'exécution du script suivant ?

```
m = L[0]
for j in range(len(L)):
    if m < L[j]:
        m = L[j]
```

Réponses

- A la moyenne de la liste L
- B le minimum de la liste L
- C le maximum de la liste L
- D la longueur de la liste L

Question F.5

Quel est le seul langage de programmation parmi les propositions suivantes ?

Réponses

- A HTML
- B CSS
- C C++
- D WEB

Modèle CCYC : ©DNE

Nom de famille (naissance) :

(Suivi s'il y a lieu, du nom d'usage)

Prénom(s) :

N° candidat :

N° d'inscription :



Né(e) le :

(Les numéros figurent sur la convocation.)

1.1

Question F.6

Soit n un entier naturel. Sa factorielle est le produit des nombres entiers strictement positifs qui sont plus petits ou égaux à n . Par exemple la factorielle de 4 vaut $1 \times 2 \times 3 \times 4 = 24$.

Quelle est la fonction correcte parmi les suivantes ?

Réponses

- A `def factorielle(n):
 i = 0
 fact = 1
 while i <= n:
 fact = fact * i
 i = i + 1
 return fact`
- B `def factorielle(n):
 i = 1
 fact = 1
 while i < n:
 fact = fact * i
 i = i + 1
 return fact`
- C `def factorielle(n):
 i = 0
 fact = 1
 while i < n:
 i = i + 1
 fact = fact * i
 return fact`
- D `def factorielle(n):
 i = 0
 fact = 1
 while i <= n:
 i = i + 1
 fact = fact * i
 return fact`



Thème G : algorithmique

Question G.1

On conçoit un algorithme permettant de déterminer la valeur maximale parmi une liste quelconque de valeurs comparables.

Pour une liste de 100 valeurs, le nombre minimal de comparaisons que doit effectuer cet algorithme est :

Réponses

- A 7
- B 99
- C 200
- D 10000

Question G.2

Quelle est la valeur du couple (s, i) à la fin de l'exécution du script suivant ?

```
s = 0
i = 1
while i < 5:
    s = s + i
    i = i + 1
```

Réponses

- A (4, 5)
- B (10, 4)
- C (10, 5)
- D (15, 5)

Question G.3

On décide d'effectuer une recherche dans un tableau trié contenant 42000 valeurs. On procède par dichotomie. Le nombre maximal d'itérations de l'algorithme sera :

Réponses

- A 21000 car une recherche dichotomique divise le nombre de tests maximal par deux.
- B 42000 car la valeur recherchée pourrait très bien être la dernière du tableau.
- C 41999 car si on n'a pas trouvé l'élément recherché à l'avant-dernière position du tableau, il n'est plus utile d'effectuer de test pour la dernière position.
- D 16 car à chaque itération, le nombre d'éléments à examiner est divisé par deux et que $2^{15} \leq 42000 \leq 2^{16}$.

Question G.4

À quelle catégorie appartient l'algorithme des k plus proches voisins ?

Réponses

- A algorithmes de tri
- B algorithmes gloutons
- C algorithmes de recherche de chemins
- D algorithmes de classification et d'apprentissage

