



Thème A : types de base

Réponse à la question 1	A <input type="checkbox"/>	B <input type="checkbox"/>	C <input type="checkbox"/>	D <input type="checkbox"/>
Réponse à la question 2	A <input type="checkbox"/>	B <input type="checkbox"/>	C <input type="checkbox"/>	D <input type="checkbox"/>
Réponse à la question 3	A <input type="checkbox"/>	B <input type="checkbox"/>	C <input type="checkbox"/>	D <input type="checkbox"/>
Réponse à la question 4	A <input type="checkbox"/>	B <input type="checkbox"/>	C <input type="checkbox"/>	D <input type="checkbox"/>
Réponse à la question 5	A <input type="checkbox"/>	B <input type="checkbox"/>	C <input type="checkbox"/>	D <input type="checkbox"/>
Réponse à la question 6	A <input type="checkbox"/>	B <input type="checkbox"/>	C <input type="checkbox"/>	D <input type="checkbox"/>

Thème B : types construits

Réponse à la question 1	A <input type="checkbox"/>	B <input type="checkbox"/>	C <input type="checkbox"/>	D <input type="checkbox"/>
Réponse à la question 2	A <input type="checkbox"/>	B <input type="checkbox"/>	C <input type="checkbox"/>	D <input type="checkbox"/>
Réponse à la question 3	A <input type="checkbox"/>	B <input type="checkbox"/>	C <input type="checkbox"/>	D <input type="checkbox"/>
Réponse à la question 4	A <input type="checkbox"/>	B <input type="checkbox"/>	C <input type="checkbox"/>	D <input type="checkbox"/>
Réponse à la question 5	A <input type="checkbox"/>	B <input type="checkbox"/>	C <input type="checkbox"/>	D <input type="checkbox"/>
Réponse à la question 6	A <input type="checkbox"/>	B <input type="checkbox"/>	C <input type="checkbox"/>	D <input type="checkbox"/>

Thème C : traitement de données en tables

Réponse à la question 1	A <input type="checkbox"/>	B <input type="checkbox"/>	C <input type="checkbox"/>	D <input type="checkbox"/>
Réponse à la question 2	A <input type="checkbox"/>	B <input type="checkbox"/>	C <input type="checkbox"/>	D <input type="checkbox"/>
Réponse à la question 3	A <input type="checkbox"/>	B <input type="checkbox"/>	C <input type="checkbox"/>	D <input type="checkbox"/>
Réponse à la question 4	A <input type="checkbox"/>	B <input type="checkbox"/>	C <input type="checkbox"/>	D <input type="checkbox"/>
Réponse à la question 5	A <input type="checkbox"/>	B <input type="checkbox"/>	C <input type="checkbox"/>	D <input type="checkbox"/>
Réponse à la question 6	A <input type="checkbox"/>	B <input type="checkbox"/>	C <input type="checkbox"/>	D <input type="checkbox"/>

Thème D : interactions entre l'homme et la machine sur le Web

Réponse à la question 1	A <input type="checkbox"/>	B <input type="checkbox"/>	C <input type="checkbox"/>	D <input type="checkbox"/>
Réponse à la question 2	A <input type="checkbox"/>	B <input type="checkbox"/>	C <input type="checkbox"/>	D <input type="checkbox"/>
Réponse à la question 3	A <input type="checkbox"/>	B <input type="checkbox"/>	C <input type="checkbox"/>	D <input type="checkbox"/>
Réponse à la question 4	A <input type="checkbox"/>	B <input type="checkbox"/>	C <input type="checkbox"/>	D <input type="checkbox"/>
Réponse à la question 5	A <input type="checkbox"/>	B <input type="checkbox"/>	C <input type="checkbox"/>	D <input type="checkbox"/>
Réponse à la question 6	A <input type="checkbox"/>	B <input type="checkbox"/>	C <input type="checkbox"/>	D <input type="checkbox"/>

Modèle CCYC : ©DNE

Nom de famille (naissance) :


(Suivi s'il y a lieu, du nom d'usage)

Prénom(s) :

N° candidat : N° d'inscription :

(Les numéros figurent sur la convocation.)

Né(e) le : / /


Liberté • Égalité • Fraternité
RÉPUBLIQUE FRANÇAISE

1.1

Thème E : architectures matérielles et systèmes d'exploitation


Réponse à la question 1 A B C D
Réponse à la question 2 A B C D
Réponse à la question 3 A B C D
Réponse à la question 4 A B C D
Réponse à la question 5 A B C D
Réponse à la question 6 A B C D


Thème F : langages et programmation

Réponse à la question 1 A B C D
Réponse à la question 2 A B C D
Réponse à la question 3 A B C D
Réponse à la question 4 A B C D
Réponse à la question 5 A B C D
Réponse à la question 6 A B C D

Thème G : algorithmique

Réponse à la question 1 A B C D
Réponse à la question 2 A B C D
Réponse à la question 3 A B C D
Réponse à la question 4 A B C D
Réponse à la question 5 A B C D
Réponse à la question 6 A B C D





Modèle CCYC : ©DNE

Nom de famille (naissance) :


(Suivi s'il y a lieu, du nom d'usage)

Prénom(s) :

N° candidat : N° d'inscription :

(Les numéros figurent sur la convocation.)

Né(e) le : / /



1.1

Thème A : types de base

Question A.1

Quelle est la séquence de bit qui représente -25 en complément à 2 sur 8 bits ?

Réponses

- A 0001 1001
- B 0001 1010
- C 1110 0110
- D 1110 0111

Question A.2

L'écriture décimale du nombre $1001\ 1101$ écrit sur 8 bits en complément à 2 est :

Réponses

- A -4
- B -29
- C -99
- D 157

Question A.3

Quel est le nombre minimum de bits qui permet de représenter les 7 couleurs de l'arc-en-ciel ?

Réponses

- A 2
- B 3
- C 4
- D 5

Question A.4

Sur une page web qui s'affiche sur notre navigateur on peut lire : « En conséquence, l'Assemblée Nationale reconnaît et déclare, en présence [...] »

Quelle peut être la cause des affichages étranges de cette page ?

Réponses

- A l'encodage des caractères n'est pas celui attendu par le navigateur
- B le texte original est en japonais
- C la taille des caractères n'est pas celui attendu par le navigateur
- D la connexion à Internet présente des coupures



Question A.5

Si A et B sont des variables booléennes, laquelle de ces expressions booléennes est équivalente à $(\text{not } A) \text{ or } B$?

Réponses

- A $(A \text{ and } B) \text{ or } (\text{not } A \text{ and } B)$
- B $(A \text{ and } B) \text{ or } (\text{not } A \text{ and } B) \text{ or } (\text{not } A \text{ and not } B)$
- C $(\text{not } A \text{ and } B) \text{ or } (\text{not } A \text{ and not } B)$
- D $(A \text{ and } B) \text{ or } (\text{not } A \text{ and not } B)$

Question A.6

Combien de bits faut-il au minimum pour coder le nombre décimal 4085 ?

Réponses

- A 4
- B 12
- C 2042
- D 2043

Modèle CCYC : ©DNE

Nom de famille (naissance) :

(Suivi s'il y a lieu, du nom d'usage)

Prénom(s) :

N° candidat :

N° d'inscription :



Liberté • Égalité • Fraternité
RÉPUBLIQUE FRANÇAISE

Né(e) le :

(Les numéros figurent sur la convocation.)

1.1

Thème B : types construits

Question B.1

On considère le code suivant :

```
t = [1, 6, 8, 3, 21]
u = [x for x in t if x > 3]
```

Que vaut u à la fin de son exécution ?

Réponses

- A [1, 6, 8, 21]
- B [6, 8, 3, 21]
- C [6, 8, 21]
- D [1, 3, 6, 21]

Question B.2

Quelle est l'expression qui a pour valeur la liste [1, 4, 9, 16, 25, 36] ?

Réponses

- A { n*n for n in range(1,7) }
- B { n*n for n in range(6) }
- C [n*n for n in range(1,7)]
- D [n*n for n in range(6)]

Question B.3

Quelle expression a pour valeur la liste [7, 14, 21, 28, 35, 42, 49, 56, 63] ?

Réponses

- A [7*k for k in range(9)]
- B [7*k for k in range(1,10)]
- C [7*k for k in range(10)]
- D [[7*k for k in range(1,9)]]

Question B.4

On définit la liste L ainsi :

```
L = [ [1], [1,2], [1,2,3] ]
```

Des égalités suivantes, une seule est fausse. Laquelle ?

Réponses

- A len(L[0]) == 1
- B len(L) == 6
- C len(L[2]) == 3
- D L[2][2] == 3



Question B.5

Quelle instruction permet d'affecter la liste `[0, 1, 4, 9, 16]` à la variable `tableau` ?

Réponses

- A `tableau = [i**2 for i in range(4)]`
- B `tableau = [i**2 for i in range(5)]`
- C `tableau = [i**2 for i in range(16)]`
- D `tableau = [i**2 for i in range(17)]`

Question B.6

On considère le code suivant :

```
D = { 'a': '1', '2': 'a', 'b': 'a', 'c': '3' }
```

Que vaut `D['a']` à la fin de son exécution ?

Réponses

- A `'1'`
- B `2`
- C `['2', 'b']`
- D `['1', '3']`

Modèle CCYC : ©DNE

Nom de famille (naissance) :

(Suivi s'il y a lieu, du nom d'usage)

Prénom(s) :

N° candidat : **N° d'inscription** :

(Les numéros figurent sur la convocation.)

Né(e) le : / /



RÉPUBLIQUE FRANÇAISE

1.1

Thème C : traitement de données en tables

Question C.1

Quelle expression Python permet d'accéder au numéro de téléphone de Tournesol, sachant que le répertoire a été défini par l'affectation suivante :

```
repertoire = [{'nom': 'Dupont', 'tel': '5234'},
              {'nom': 'Tournesol', 'tel': '5248'},
              {'nom': 'Dupond', 'tel': '3452'}]
```

Réponses

- A repertoire['Tournesol']
- B repertoire['tel'][1]
- C repertoire[1]['tel']
- D repertoire['Tournesol']['tel']

Question C.2

On définit ainsi une liste t :

```
t = [ {'id':1, 'age':23, 'sejour':'PEKIN'},
      {'id':2, 'age':27, 'sejour':'ISTANBUL'},
      {'id':3, 'age':53, 'sejour':'LONDRES'},
      {'id':4, 'age':41, 'sejour':'ISTANBUL'},
      {'id':5, 'age':62, 'sejour':'RIO'},
      {'id':6, 'age':28, 'sejour':'ALGER'}]
```

Quelle affirmation est correcte ?

Réponses

- A t est une liste de listes
- B t est une liste de dictionnaires
- C t est un dictionnaire de listes
- D t est une liste de tuples



Question C.3

On exécute le code suivant :

```
def maxi(t):  
    m = t[0]  
    for x in t:  
        if x[1] >= m[1]:  
            m = x  
    return m
```

```
L = [ ('Alice', 17), ('Barnabé', 17),  
      ('Casimir', 17), ('Doriane', 17),  
      ('Emilien', 14), ('Fabienne', 16) ]
```

Quelle est alors la valeur de maxi(L) ?

Réponses

- A ('Alice',17)
- B ('Doriane',17)
- C ('Fabienne',17)
- D ('Emilien',14)

Question C.4

Par quoi faut-il remplacer les pointillés dans le script suivant :

```
relevé = [ {'matière':'EPS','moyenne':11},  
          {'matière':'Sciences','moyenne':6},  
          {'matière':'LV1','moyenne':14},    {'matière':'Histoire','moyenne':9},  
          {'matière':'LV2','moyenne':15} ]  
  
a = .....  
b = .....  
for i in relevé :  
    if i[a] > 10:  
        print(i[b])
```

pour qu'il affiche

```
EPS  
LV1  
LV2
```

Réponses

- A a = 'moyenne'
b = 'matière'
- B a = 'matière'
b = 'moyenne'
- C a = 0
b = 1
- D a = 1
b = 0

Modèle CCYC : ©DNE	
Nom de famille (naissance) : <small>(Suivi s'il y a lieu, du nom d'usage)</small>	<input type="text"/>
Prénom(s) :	<input type="text"/>
N° candidat :	<input type="text"/> N° d'inscription : <input type="text"/>
<small>(Les numéros figurent sur la convocation.)</small>	
Né(e) le :	<input type="text"/> / <input type="text"/> / <input type="text"/>



Question C.5

Dans la plupart des fichiers CSV, que contient la première ligne ?

Réponses

- A des notes concernant la table de données
- B les sources des données
- C les descripteurs des champs de la table de données
- D l'auteur de la table de données

Question C.6

Quel type de fichier est le plus adapté au traitement des données ?

Réponses

- A PNG
- B PDF
- C CSV
- D DOC





Thème D : interactions entre l'homme et la machine sur le Web

Question D.1

Quel langage est interprété ou exécuté côté serveur ?

Réponses

- A JavaScript
- B PHP
- C HTML
- D CSS

Question D.2

Dans un formulaire sur un page web, pour transmettre des données sécurisées comme un mot de passe ou un numéro de carte bancaire, il vaut mieux utiliser la méthode :

Réponses

- A HEAD
- B GET
- C HTTPS
- D POST

Question D.3

Dans le code HTML les délimiteurs tels que `<body>` et `</body>` s'appellent ?

Réponses

- A des bornes
- B des balises
- C des paragraphes
- D des liens

Question D.4

Les pages HTML sont affichées par ...

Réponses

- A le compilateur
- B le serveur
- C l'interpréteur
- D le navigateur Web

Question D.5

Dans une page HTML, lequel de ces codes permet la présence d'un bouton qui appelle la fonction javascript `afficher_reponse()` lorsque l'utilisateur clique dessus ?

Réponses

- A `Cliquez ici`
- B `<button if_clicked="afficher_reponse()">Cliquez ici</button>`
- C `<button value="Cliquez ici"><a afficher_reponse()</button>`
- D `<button onclick="afficher_reponse()">Cliquez ici</button>`

Modèle CCYC : ©DNE

Nom de famille (naissance) :


(Suivi s'il y a lieu, du nom d'usage)

Prénom(s) :

N° candidat : **N° d'inscription** :

(Les numéros figurent sur la convocation.)

Né(e) le : / /



1.1

Question D.6

Quelle est la machine qui exécute un programme JavaScript inclus dans une page HTML ?

Réponses

- A le serveur WEB qui contient la page HTML
- B la machine de l'utilisateur qui consulte la page HTML
- C un serveur du réseau
- D un routeur du réseau



Thème E : architectures matérielles et systèmes d'exploitation

Question E.1

Qu'effectue-t-on en lançant la commande suivante dans un terminal Linux :

```
cp /etc/professeur/fichier.conf /home/nsi/fichier.conf
```

Réponses

- A un déplacement de fichier
- B une copie de fichier
- C un renommage de fichier
- D un changement de répertoire

Question E.2

Dans un terminal sous Linux, à quoi sert la commande `traceroute` ?

Réponses

- A à afficher un itinéraire routier entre deux villes
- B c'est un synonyme pour la commande `ping`
- C à afficher le chemin suivi par des paquets à travers un protocole IP
- D à suivre pas à pas l'exécution d'un programme

Question E.3

Parmi les affirmations suivantes, laquelle est vraie ?

Réponses

- A la mémoire RAM est une mémoire accessible en lecture seulement
- B la mémoire RAM est une mémoire accessible en écriture seulement
- C la mémoire RAM est une mémoire accessible en lecture et en écriture
- D la mémoire RAM permet de stocker des données après extinction de la machine

Question E.4

Dans un terminal sous Linux, quelle commande faut-il écrire pour donner à tout le monde le droit d'écriture sur un fichier `information.py` ?

Réponses

- A `chmod o+w information.py`
- B `chmod a+w information.py`
- C `chmod o+x information.py`
- D `chmod a+x information.py`

Modèle CCYC : ©DNE

Nom de famille (naissance) :


(Suivi s'il y a lieu, du nom d'usage)

Prénom(s) :

N° candidat : N° d'inscription :

(Les numéros figurent sur la convocation.)

Né(e) le : / /



1.1

Question E.5

Parmi tous les registres internes que possède une architecture mono-processeur, il en existe un appelé compteur ordinal (*program counter*).

Quel est le rôle de ce registre ?

Réponses

- A il contient l'adresse mémoire de la prochaine instruction à exécuter
- B il contient le nombre d'instructions contenues dans le programme
- C il contient l'adresse mémoire de l'opérande à récupérer
- D il contient le nombre d'opérandes utilisés

Question E.6

Lorsque, en ligne de commande, on saisit la commande

`rm *`

ceci a pour effet :

Réponses

- A d'activer une télécommande
- B d'accéder au répertoire parent du répertoire courant
- C d'effacer tous les fichiers du répertoire courant et ses sous-répertoires
- D d'effacer tous les fichiers du répertoire courant



Thème F : langages et programmation

Question F.1

On exécute le script suivant :

```
def calcul(a,b):  
    a = a + 2  
    b = b + 5  
    c = a + b  
    return c
```

```
a,b = 3,5  
calcul(a,b)
```

À la fin de cette exécution :

Réponses

- A a vaut 3, b vaut 5 et c vaut 15
- B a vaut 3, b vaut 5 et c n'est pas défini
- C a vaut 5, b vaut 10 et c vaut 15
- D a vaut 5, b vaut 10 et c n'est pas défini

Question F.2

On définit la fonction :

```
def f(a,b):  
    assert b!=0,'le deuxième argument est nul'  
    result = a/b  
    return result
```

Qu'obtient-on en exécutant la commande `r = f(4,0)` ?

Réponses

- A une erreur `ZeroDivisionError: division by zero` et l'arrêt de l'exécution
- B une erreur `NameError: name 'b' is not defined` et l'arrêt de l'exécution
- C une erreur `AssertionError: le deuxième argument est nul` et la variable `r` prend la valeur 0
- D une erreur `AssertionError: le deuxième argument est nul` et l'arrêt de l'exécution

Modèle CCYC : ©DNE

Nom de famille (naissance) :

(Suivi s'il y a lieu, du nom d'usage)

Prénom(s) :

N° candidat :

N° d'inscription :



Né(e) le :

(Les numéros figurent sur la convocation.)

1.1

Question F.3

On définit la fonction suivante :

```
def rey(n):  
    i = 0  
    while i <= n:  
        i = 2*i  
    return i
```

Quelle valeur renvoie l'appel `rey(100)` ?

Réponses

- A 0
- B 64
- C 100
- D 128

Question F.4

Quelle est la valeur de la variable `n` à la fin de l'exécution du script ci-dessous ?

```
n = 1  
for i in range(4):  
    n = n + 2
```

Réponses

- A 1
- B 8
- C 9
- D 18

Question F.5

Dans le programme JavaScript suivant, quelle est la notation qui délimite le bloc d'instructions exécuté à chaque passage dans la boucle `while` ?

```
i = 0  
while (i < 10) {  
    alert(i)  
    i = i + 1  
}  
alert("Fin")
```

Réponses

- A le fait que les instructions soient encadrées entre `{` et `}`
- B le fait que les instructions soient indentées de 4 caractères comme en Python
- C le fait que les instructions suivent le mot clé `while`
- D le fait que les instructions suivent la parenthèse `)`



Question F.6

On définit la fonction :

```
def fib(n):  
    t = [0] * n  
    t[1] = 1  
    for i in range(2,n):  
        t[i] = t[i-1] + t[i-2]  
    return t
```

Quelle est la valeur renvoyée par l'appel fib(6) ?

Réponses

- A [0, 1, 1, 2, 3]
- B [0, 1, 1, 2, 3, 5]
- C [0, 1, 1, 2, 3, 5, 8]
- D [0, 1, 2, 3, 5, 8]


Modèle CCYC : ©DNE
Nom de famille (naissance) :
(Suivi s'il y a lieu, du nom d'usage)

Prénom(s) :

N° candidat : **N° d'inscription** :

(Les numéros figurent sur la convocation.)

Né(e) le : / /



1.1

Thème G : algorithmique

Question G.1

On considère le code incomplet suivant qui recherche le maximum dans une liste.

```
liste = [5,12,15,3,15,17,29,1]
iMax = 0
for i in range(1,len(liste)):
    .....
    iMax = i

print (liste[iMax])
```

Par quoi faut-il remplacer la ligne pointillée ?

Réponses

- A if i > iMax:
- B if liste[i] > liste[iMax]:
- C if liste[i] > iMax:
- D if i > liste[iMax]:

Question G.2

Lors de l'exécution du code suivant, combien de fois l'opération $a = 2*a$ sera-t-elle effectuée ?

```
a = 1
cpt = 1
while cpt < 8:
    a = 2*a
    cpt = cpt+1
```

Réponses

- A 0
- B 1
- C 7
- D 8

Question G.3

Avec un algorithme de recherche par dichotomie, combien de comparaisons sont-elles nécessaires pour s'assurer que 22 n'est pas dans la liste suivante :

[1, 5, 9, 12, 20, 21, 24, 32, 35, 40, 41, 47, 53, 60, 70]

Réponses

- A 2
- B 4
- C 7
- D 13



Question G.4

La recherche dichotomique est un algorithme rapide qui permet de trouver ou non la présence d'un élément dans un tableau. Mais, pour l'utiliser, une contrainte est indispensable, laquelle ?

Réponses

- A le tableau ne contient que des nombres positifs
- B la longueur du tableau est une puissance de 2
- C le tableau est trié en ordre croissant
- D le tableau ne contient pas la valeur 0

Question G.5

Un algorithme de tri d'une liste d'entiers est implémenté de la façon suivante :

```
def trier(L) :
    for i in range(len(L)):
        indice_min = i
        for j in range(i+1, len(L)):
            if L[j] < L[indice_min] :
                indice_min = j
            L[i], L[indice_min] = L[indice_min], L[i]
        # assertion vraie à cet endroit
    return L
```

Parmi les assertions suivantes laquelle reste vraie à chaque itération de la boucle, à l'endroit indiqué ci-dessus ?

Réponses

- A la sous-liste $L[0:i+1]$ contient les i plus grandes valeurs de L triées par ordre décroissant
- B la sous-liste $L[0:i+1]$ contient les i plus grandes valeurs de L triées par ordre croissant
- C la sous-liste $L[0:i+1]$ contient les i plus petites valeurs de L triées par ordre décroissant
- D la sous-liste $L[0:i+1]$ contient les i plus petites valeurs de L triées par ordre croissant

Question G.6

Un algorithme est dit glouton si :

Réponses

- A Il consomme énormément de mémoire
- B Il contient de nombreuses lignes de code
- C Il s'inspire de la méthode de John Elwood Glouton
- D Il fait à chaque étape le choix localement optimum