

Modèle CCYC : ©DNE

Nom de famille (naissance) :

(Suivi s'il y a lieu, du nom d'usage)

Prénom(s) :

N° candidat :

N° d'inscription :

(Les numéros figurent sur la convocation.)

Né(e) le :

 Liberté • Égalité • Fraternité
RÉPUBLIQUE FRANÇAISE

1.1

ÉVALUATION

CLASSE : Première

VOIE : Générale Technologique Toutes voies (LV)

ENSEIGNEMENT : spécialité Numérique et Sciences Informatiques (NSI)

DURÉE DE L'ÉPREUVE : 02 h 00

Niveaux visés (LV) : LVA LVB

Axes de programme :

CALCULATRICE AUTORISÉE : Oui Non

DICTIONNAIRE AUTORISÉ : Oui Non

Ce sujet contient des parties à rendre par le candidat avec sa copie. De ce fait, il ne peut être dupliqué et doit être imprimé pour chaque candidat afin d'assurer ensuite sa bonne numérisation.

Ce sujet intègre des éléments en couleur. S'il est choisi par l'équipe pédagogique, il est nécessaire que chaque élève dispose d'une impression en couleur.

Ce sujet contient des pièces jointes de type audio ou vidéo qu'il faudra télécharger et jouer le jour de l'épreuve.

Nombre total de pages : 19

L'épreuve consiste en 42 questions, rangées en 7 thèmes.

Pour chaque question, le candidat gagne 3 points s'il choisit la bonne réponse, perd 1 point s'il choisit une réponse fautive. S'il ne répond pas ou choisit plusieurs réponses, il ne gagne ni ne perd aucun point.

Le total sur chacun des 7 thèmes est ramené à 0 s'il est négatif.

La note finale s'obtient en divisant le total des points par 6,3 et en arrondissant à l'entier supérieur.

Le candidat indique ses réponses aux questions en pages 2 et 3.

Seules les pages 1 à 4 sont rendues par le candidat à la fin de l'épreuve, pour être numérisées.

Les questions figurent sur les pages suivantes.



Thème A : types de base

Réponse à la question 1	A <input type="checkbox"/>	B <input type="checkbox"/>	C <input type="checkbox"/>	D <input type="checkbox"/>
Réponse à la question 2	A <input type="checkbox"/>	B <input type="checkbox"/>	C <input type="checkbox"/>	D <input type="checkbox"/>
Réponse à la question 3	A <input type="checkbox"/>	B <input type="checkbox"/>	C <input type="checkbox"/>	D <input type="checkbox"/>
Réponse à la question 4	A <input type="checkbox"/>	B <input type="checkbox"/>	C <input type="checkbox"/>	D <input type="checkbox"/>
Réponse à la question 5	A <input type="checkbox"/>	B <input type="checkbox"/>	C <input type="checkbox"/>	D <input type="checkbox"/>
Réponse à la question 6	A <input type="checkbox"/>	B <input type="checkbox"/>	C <input type="checkbox"/>	D <input type="checkbox"/>

Thème B : types construits

Réponse à la question 1	A <input type="checkbox"/>	B <input type="checkbox"/>	C <input type="checkbox"/>	D <input type="checkbox"/>
Réponse à la question 2	A <input type="checkbox"/>	B <input type="checkbox"/>	C <input type="checkbox"/>	D <input type="checkbox"/>
Réponse à la question 3	A <input type="checkbox"/>	B <input type="checkbox"/>	C <input type="checkbox"/>	D <input type="checkbox"/>
Réponse à la question 4	A <input type="checkbox"/>	B <input type="checkbox"/>	C <input type="checkbox"/>	D <input type="checkbox"/>
Réponse à la question 5	A <input type="checkbox"/>	B <input type="checkbox"/>	C <input type="checkbox"/>	D <input type="checkbox"/>
Réponse à la question 6	A <input type="checkbox"/>	B <input type="checkbox"/>	C <input type="checkbox"/>	D <input type="checkbox"/>

Thème C : traitement de données en tables

Réponse à la question 1	A <input type="checkbox"/>	B <input type="checkbox"/>	C <input type="checkbox"/>	D <input type="checkbox"/>
Réponse à la question 2	A <input type="checkbox"/>	B <input type="checkbox"/>	C <input type="checkbox"/>	D <input type="checkbox"/>
Réponse à la question 3	A <input type="checkbox"/>	B <input type="checkbox"/>	C <input type="checkbox"/>	D <input type="checkbox"/>
Réponse à la question 4	A <input type="checkbox"/>	B <input type="checkbox"/>	C <input type="checkbox"/>	D <input type="checkbox"/>
Réponse à la question 5	A <input type="checkbox"/>	B <input type="checkbox"/>	C <input type="checkbox"/>	D <input type="checkbox"/>
Réponse à la question 6	A <input type="checkbox"/>	B <input type="checkbox"/>	C <input type="checkbox"/>	D <input type="checkbox"/>

Thème D : interactions entre l'homme et la machine sur le Web

Réponse à la question 1	A <input type="checkbox"/>	B <input type="checkbox"/>	C <input type="checkbox"/>	D <input type="checkbox"/>
Réponse à la question 2	A <input type="checkbox"/>	B <input type="checkbox"/>	C <input type="checkbox"/>	D <input type="checkbox"/>
Réponse à la question 3	A <input type="checkbox"/>	B <input type="checkbox"/>	C <input type="checkbox"/>	D <input type="checkbox"/>
Réponse à la question 4	A <input type="checkbox"/>	B <input type="checkbox"/>	C <input type="checkbox"/>	D <input type="checkbox"/>
Réponse à la question 5	A <input type="checkbox"/>	B <input type="checkbox"/>	C <input type="checkbox"/>	D <input type="checkbox"/>
Réponse à la question 6	A <input type="checkbox"/>	B <input type="checkbox"/>	C <input type="checkbox"/>	D <input type="checkbox"/>

Modèle CCYC : ©DNE

Nom de famille (naissance) :
(Suivi s'il y a lieu, du nom d'usage)

--	--	--	--	--	--	--	--	--	--	--	--	--	--	--	--	--	--	--	--	--	--	--

Prénom(s) :

--	--	--	--	--	--	--	--	--	--	--	--	--	--	--	--	--	--	--	--	--	--	--

N° candidat :

--	--	--	--	--	--	--	--	--	--	--	--	--	--	--	--	--	--	--	--	--	--	--

N° d'inscription :

--	--	--	--	--



Né(e) le :

(Les numéros figurent sur la convocation.)

						/						/									
--	--	--	--	--	--	---	--	--	--	--	--	---	--	--	--	--	--	--	--	--	--

1.1

Thème E : architectures matérielles et systèmes d'exploitation


- Réponse à la question 1 A B C D
- Réponse à la question 2 A B C D
- Réponse à la question 3 A B C D
- Réponse à la question 4 A B C D
- Réponse à la question 5 A B C D
- Réponse à la question 6 A B C D


Thème F : langages et programmation

- Réponse à la question 1 A B C D
- Réponse à la question 2 A B C D
- Réponse à la question 3 A B C D
- Réponse à la question 4 A B C D
- Réponse à la question 5 A B C D
- Réponse à la question 6 A B C D

Thème G : algorithmique

- Réponse à la question 1 A B C D
- Réponse à la question 2 A B C D
- Réponse à la question 3 A B C D
- Réponse à la question 4 A B C D
- Réponse à la question 5 A B C D
- Réponse à la question 6 A B C D



Modèle CCYC : ©DNE	
Nom de famille <i>(naissance)</i> : <small>(Suivi s'il y a lieu, du nom d'usage)</small>	
Prénom(s) :	
N° candidat :	N° d'inscription :
<small>(Les numéros figurent sur la convocation.)</small>	
Né(e) le :	
	
Liberté • Égalité • Fraternité RÉPUBLIQUE FRANÇAISE	

1.1

Thème A : types de base

Question A.1

Quel est le nombre minimum de bits qui permet de représenter les 26 lettres majuscules de l'alphabet ?

Réponses

- A 4
- B 5
- C 25
- D 26

Question A.2

Quelle est la représentation en base 2 du nombre représenté dans la base 16 par A6B ?

Réponses

- A 2667
- B 10101101011
- C 101001101011
- D 110100110101

Question A.3

Quelle est l'écriture décimale du nombre qui s'écrit 11,0101 en binaire ?

Réponses

- A 3
- B 3,0101
- C 3,05
- D 3,3125

Question A.4

Choisir une expression booléenne pour la variable S qui satisfait la table de vérité suivante.

A	B	S
0	0	1
0	1	0
1	0	1
1	1	1

Réponses

- A A ou (non B)
- B (non A) ou B
- C (non A) ou (non B)
- D non (A ou B)



Question A.5

Quelle est la représentation décimale de l'entier négatif codé en complément à 2 sur un octet par 1100 1011 ?

Réponses

- A -84
- B -53
- C -35
- D -21

Question A.6

Laquelle de ces affirmations concernant le codage UTF-8 des caractères est vraie ?

Réponses

- A le codage UTF-8 est sur 7 bits
- B le codage UTF-8 est sur 8 bits
- C le codage UTF-8 est sur 1 à 4 octets
- D le codage UTF-8 est sur 8 octets

Modèle CCYC : ©DNE

Nom de famille (naissance) :


(Suivi s'il y a lieu, du nom d'usage)

Prénom(s) :

N° candidat : N° d'inscription :

(Les numéros figurent sur la convocation.)

Né(e) le : / /

 Liberté • Égalité • Fraternité
RÉPUBLIQUE FRANÇAISE

1.1

Thème B : types construits

Question B.1

Quelle expression permet d'accéder à la valeur 'hello' après qu'on a défini

`L = [['a', 'b', 'c'], ['bonjour', 'hello']]`

Réponses

- A `L[5]`
- B `L[1][1]`
- C `L[2][2]`
- D `L['hello']`

Question B.2

Quelle est la valeur de l'expression `[[i, 2*i] for i in range(3)]` ?

Réponses

- A `[0, 0, 1, 2, 2, 4]`
- B `[[0, 0], [1, 2], [2, 4]]`
- C `[1, 2, 2, 4, 3, 6]`
- D `[[1, 2], [2, 4], [3, 6]]`

Question B.3

On s'intéresse à la valeur 14 présente dans la liste suivante:

`L = [[1, 2, 3, 4, 5], [6, 7, 8, 9, 10], [11, 12, 13, 14, 15], [16, 17, 18, 19, 20]]`.

Quelle expression vaut 14 parmi les suivantes ?

Réponses

- A `L[2][3]`
- B `L[3][4]`
- C `L[3][2]`
- D `L[4][3]`

Question B.4

On définit : `matrice = [[1, 2, 3], [4, 5, 6], [7, 8, 9], [10, 11, 12]]`.

Quelle est la valeur de `matrice[1][2]` ?

Réponses

- A 2
- B 4
- C 6
- D 8



Question B.5

On considère la fonction suivante :

```
def somme(tab):  
    s = 0  
    for i in range(len(tab)):  
        .....  
    return s
```

Par quelle instruction faut-il remplacer les points de suspension pour que l'appel `somme([10,11,12,13,14])` renvoie 60 ?

Réponses

- A `s = tab[i]`
- B `s = s + tab[i]`
- C `tab[i] = tab[i] + s`
- D `s = s + i`

Question B.6

On a défini : `T = [[1,2,3], [4,5,6], [7,8,9]]`.

Quelle expression parmi les suivantes a pour valeur le nombre 8 ?

Réponses

- A `T[1,2]`
- B `T[1][2]`
- C `T[2,1]`
- D `T[2][1]`

Modèle CCYC : ©DNE

Nom de famille (naissance) :

(Suivi s'il y a lieu, du nom d'usage)

Prénom(s) :

N° candidat : N° d'inscription :

(Les numéros figurent sur la convocation.)

Né(e) le : / /



1.1

Thème C : traitement de données en tables

Question C.1

Un fichier CSV ...

Réponses

- A ne peut être lu que par un tableur
- B est l'unique format utilisé pour construire une base de données
- C est un fichier texte
- D est un format propriétaire

Question C.2

Dans la plupart des fichiers CSV, que contient la première ligne ?

Réponses

- A des notes concernant la table de données
- B les sources des données
- C les descripteurs des champs de la table de données
- D l'auteur de la table de données

Question C.3

On a défini deux tables de données :

```
data1 = [('Bruce', 'Wayne'), ('Chuck', 'Norris'), ('Bruce', 'Lee'),
         ('Clark', 'Kent')]
data2 = [('Diana', 'Prince'), ('Chuck', 'Norris'), ('Peter', 'Parker')]
```

Quelle instruction permet de construire une table data regroupant l'ensemble des informations de data1 et data2 ?

Réponses

- A data = data1 + data2
- B data == data1 + data2
- C data = [element for element in data1 or data2]
- D data = [data1] + [data2]

Question C.4

On définit la variable suivante : lettres = {"a": 1, "b": 2, "c": 3}.

Quelle est la valeur de l'expression list(lettres.keys()) ?

Réponses

- A [a,b,c]
- B [1,2,3]
- C ["a","b","c"]
- D {"a": 1, "b": 2, "c": 3}

**Question C.5**

On exécute le code suivant :

```
collection = [('Renault', '4L', 1974, 30),  
              ('Peugeot', '504', 1970, 82),  
              ('Citroën', 'Traction', 1950, 77)]
```

Que vaut `collection[1][2]` ?

Réponses


- A 1970
- B '4L'
- C ('Peugeot', '504', 1970, 82)
- D ('Renault', '4L', 1974, 30)

Question C.6

Laquelle de ces listes de chaînes de caractères est triée en ordre croissant ?

Réponses

- A ['8', '12', '142', '21']
- B ['8', '12', '21', '142']
- C ['12', '142', '21', '8']
- D ['12', '21', '8', '142']

Modèle CCYC : ©DNE																								
Nom de famille (naissance) : <small>(Suivi s'il y a lieu, du nom d'usage)</small>																								
Prénom(s) :																								
N° candidat :													N° d'inscription :											
 <small>Liberté • Égalité • Fraternité</small> <small>RÉPUBLIQUE FRANÇAISE</small>	<small>(Les numéros figurent sur la convocation.)</small>																							
	Né(e) le :			/			/																	

1.1

Thème D : interactions entre l'homme et la machine sur le Web

Question D.1

Quelle méthode est utilisée via une requête HTTP pour envoyer une image via un formulaire HTML ?

Réponses

- A HEAD
- B PUT
- C POST
- D GET

Question D.2

Parmi les langages suivants, lequel est exécuté sur le serveur lors de la consultation d'une page Web ?

Réponses

- A JavaScript
- B HTML
- C CSS
- D PHP

Question D.3

Quelle est la fonction principale d'un fichier CSS ?

Réponses

- A Définir le style d'une page web
- B Assurer l'interaction entre une page web et l'utilisateur
- C Créer une page web dynamique
- D Créer un bouton dans une page web



Question D.4

Un navigateur affiche la page HTML suivante :

```
<html lang="fr">
<head>
  <meta charset="utf-8">
  <link rel="stylesheet" href="style.css">
  <title>Un bouton</title>
</head>
<body>
  <button onclick="maFonction()">Cliquer ici</button>
</body>
<script src="script.js"></script>
</html>
```

Lorsque l'on clique sur le bouton, l'action déclenchée `maFonction()` est définie :

Réponses

- A dans le fichier HTML seul
- B dans le fichier `style.css`
- C dans une bibliothèque prédéfinie du navigateur
- D dans le fichier `script.js`

Question D.5

Lorsque la méthode POST est associée à un formulaire au sein d'une page HTML, comment les réponses du formulaire sont-elles envoyées au serveur ?

Réponses

- A Elles sont visibles dans l'URL
- B Elles sont cachées de l'URL
- C Elles sont transmises via un service postal spécifique
- D Elles sont découpées en plusieurs petites URL limitées à 4 mots

Question D.6

Parmi ces quatre éléments d'un formulaire HTML, lequel est prévu pour envoyer les données saisies ?

Réponses

- A `<input name="file" type="file"/>`
- B `<input value="here we go !" type="submit"/>`
- C `<input name="email" type="email"/>`
- D `<input value="once again !" type="reset"/>`

Modèle CCYC : ©DNE

Nom de famille (naissance) :

(Suivi s'il y a lieu, du nom d'usage)

Prénom(s) :

N° candidat :

N° d'inscription :



Né(e) le :

(Les numéros figurent sur la convocation.)

1.1

Thème E : architectures matérielles et systèmes d'exploitation

Question E.1

Le répertoire personnel de l'utilisateur contient deux répertoires `tempo` et `sauve`.
On souhaite déplacer le fichier `bac.txt` du repertoire `tempo` vers le repertoire `sauve`.
Quelle commande permet de réaliser ce déplacement ?

Réponses

- A `mkdir ~/tempo/bac.txt ~/sauve`
- B `mkdir ~/sauve ~/tempo/bac.txt`
- C `mv ~/tempo/bac.txt ~/sauve`
- D `mv ~/sauve ~/tempo/bac.txt`

Question E.2

Sous Linux, la console indique que l'utilisateur se trouve dans le dossier `/var/lib`. Quelle commande doit-il exécuter pour revenir dans son dossier personnel `/home/martin` ?

Réponses

- A `cd ~`
- B `cd /home`
- C `dir`
- D `dir /home/martin`

Question E.3

La mémoire RAM :

Réponses

- A ne fonctionne qu'en mode lecture
- B ne fonctionne qu'en mode écriture
- C conserve les données en cas de coupure de l'alimentation
- D perd les données en cas de coupure de l'alimentation

Question E.4

Dans un réseau informatique, que peut-on dire de la transmission de données par paquets ?

Réponses

- A cela empêche l'interception des données transmises
- B cela garantit que toutes les données empruntent le même chemin
- C cela assure une utilisation efficace des liens de connexion
- D cela nécessite la réservation d'un chemin entre l'émetteur et le récepteur

Question E.5

Parmi les dispositifs d'entrée et de sortie suivants, lequel est uniquement un capteur ?

Réponses

- A la diode
- B l'écran tactile
- C le thermomètre
- D le moteur pas à pas



Question E.6

Dans la console Linux, quelle commande faut-il exécuter pour obtenir la documentation sur la commande `pwd` ?

Réponses

- A `man pwd`
- B `cd pwd`
- C `mkdir pwd`
- D `ls pwd`

Modèle CCYC : ©DNE

Nom de famille (naissance) :

(Suivi s'il y a lieu, du nom d'usage)

Prénom(s) :

N° candidat : N° d'inscription :

(Les numéros figurent sur la convocation.)

Né(e) le : / /

Liberté • Égalité • Fraternité
RÉPUBLIQUE FRANÇAISE

1.1

Thème F : langages et programmation

Question F.1

On définit la fonction :

```
def fib(n):
    t = [0] * n
    t[1] = 1
    for i in range(2,n):
        t[i] = t[i-1] + t[i-2]
    return t
```

Quelle est la valeur renvoyée par l'appel fib(6) ?

Réponses

- A [0, 1, 1, 2, 3]
- B [0, 1, 1, 2, 3, 5]
- C [0, 1, 1, 2, 3, 5, 8]
- D [0, 1, 2, 3, 5, 8]

Question F.2

La fonction Python suivante ne calcule pas toujours correctement le résultat de x^y pour des arguments entiers. Parmi les tests suivants, lequel va permettre de détecter l'erreur ?

```
def puissance (x,y):
    p = x
    for i in range (y - 1):
        p = p * x
    return p
```

Réponses

- A puissance(2,0)
- B puissance(2,1)
- C puissance(2,2)
- D puissance(2,10)



Question F.3

On considère le code incomplet suivant, où la fonction `maximum` renvoie le plus grand élément d'une liste de nombres :

```
def maximum(L):  
    m = L[0]  
    for i in range(1, len(L)):  
        .....  
        .....  
    return m
```

Que faut-il écrire à la place des lignes pointillées ?

Réponses

- A `if m < L[i]:`
 `L[i] = m`
- B `if L[i-1] < L[i]:`
 `m = L[i]`
- C `if L[i] < L[0]:`
 `L[i], L[0] = L[0], L[i]`
- D `if L[i] > m:`
 `m = L[i]`

Question F.4

La fonction `maximum` codée ci-dessous en Python doit renvoyer la plus grande valeur contenue dans le tableau d'entiers passé en argument.

```
def maximum(tableau):  
    tmp = tableau[0]  
    for i in range(.....): # à compléter  
        if tableau[i] > tmp:  
            tmp = tableau[i]  
    return tmp
```

Quelle expression faut-il écrire à la place des pointillés ?

Réponses

- A `len(tableau) - 1`
- B `1, len(tableau) - 1`
- C `1, len(tableau)`
- D `1, len(tableau) + 1`

Modèle CCYC : ©DNE

Nom de famille (naissance) :
(Suivi s'il y a lieu, du nom d'usage)

Prénom(s) :

N° candidat :

N° d'inscription :



Liberté • Égalité • Fraternité
RÉPUBLIQUE FRANÇAISE

Né(e) le : / /

(Les numéros figurent sur la convocation.)

1.1

Question F.5

On exécute le script Python suivant :

```
def cube(a):  
    a = a*a*a  
    return a  
a = 2  
b = cube(a)
```

Que vaut le couple (a, b) à la fin de l'exécution ?

Réponses

- A (8, 8)
- B (8, 2)
- C (2, 2)
- D (2, 8)

Question F.6

Lequel des langages suivants n'est pas un langage de programmation :

Réponses

- A PHP
- B Javascript
- C HTML
- D Python



Thème G : algorithmique

Question G.1

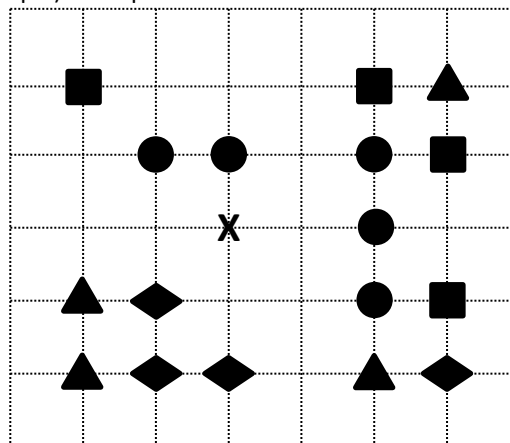
Pour trier par sélection une liste de 2500 entiers, le nombre de comparaisons nécessaires à l'algorithme est de l'ordre de :

Réponses

- A $\sqrt{2500}$
- B 2500
- C 2500^2
- D 2^{2500}

Question G.2

On a représenté sur un quadrillage les éléments de quatre classes (chaque classe est représentée par un carré, un triangle, un losange ou un disque) ainsi qu'un nouvel élément X.



En appliquant l'algorithme des k plus proches voisins pour la distance usuelle dans le plan, avec $k=5$, à quelle classe est affecté le nouvel élément X ?

Réponses

- A la classe des carrés
- B la classe des triangles
- C la classe des losanges
- D la classe des disques

Modèle CCYC : ©DNE

Nom de famille (naissance) :

(Suivi s'il y a lieu, du nom d'usage)

Prénom(s) :

N° candidat : N° d'inscription :

(Les numéros figurent sur la convocation.)

Né(e) le : / /



RÉPUBLIQUE FRANÇAISE

1.1

Question G.3

Lors de l'exécution du code suivant, combien de fois l'opération $a = 2 * a$ sera-t-elle effectuée ?

```
a = 1
cpt = 1
while cpt < 8:
    a = 2*a
    cpt = cpt+1
```

Réponses

- A 0
- B 1
- C 7
- D 8

Question G.4

À quelle catégorie appartient l'algorithme des k plus proches voisins ?

Réponses

- A algorithmes de tri
- B algorithmes gloutons
- C algorithmes de recherche de chemins
- D algorithmes de classification et d'apprentissage

Question G.5

Soit T le temps nécessaire pour trier, à l'aide de l'algorithme du tri par insertion, une liste de 1000 nombres entiers. Quel est l'ordre de grandeur du temps nécessaire, avec le même algorithme, pour trier une liste de 10 000 entiers, c'est-à-dire une liste dix fois plus grande ?

Réponses

- A à peu près le même temps T
- B environ $10 \times T$
- C environ $100 \times T$
- D environ T^2

Question G.6

La fonction maximum doit renvoyer la valeur maximale d'un tableau de nombres. Par quoi doit-on remplacer les pointillés pour qu'elle donne le résultat attendu ?

```
def maximum(T):
    maxi = T[0]
    for i in range(len(T)):
        .... T[i] > maxi:
        .....
    return maxi
```

Réponses

- A if puis, sur la ligne suivante, $maxi = T[i]$
- B while puis, sur la ligne suivante, $maxi = T[i]$
- C if puis, sur la ligne suivante, $maxi = maxi + 1$
- D while puis, sur la ligne suivante, $maxi = maxi + 1$