


Modèle CCYC : ©DNE
Nom de famille (naissance) : (Suivi s'il y a lieu, du nom d'usage)

Prénom(s) :

N° candidat : **N° d'inscription** :

Né(e) le : / / (Les numéros figurent sur la convocation.)


Liberté • Égalité • Fraternité
RÉPUBLIQUE FRANÇAISE

1.1

ÉVALUATION

CLASSE : Première

VOIE : Générale Technologique Toutes voies (LV)

ENSEIGNEMENT : spécialité Numérique et Sciences Informatiques (NSI)

DURÉE DE L'ÉPREUVE : 02 h 00

Niveaux visés (LV) : LVA LVB

Axes de programme :

CALCULATRICE AUTORISÉE : Oui Non

DICTIONNAIRE AUTORISÉ : Oui Non

Ce sujet contient des parties à rendre par le candidat avec sa copie. De ce fait, il ne peut être dupliqué et doit être imprimé pour chaque candidat afin d'assurer ensuite sa bonne numérisation.

Ce sujet intègre des éléments en couleur. S'il est choisi par l'équipe pédagogique, il est nécessaire que chaque élève dispose d'une impression en couleur.

Ce sujet contient des pièces jointes de type audio ou vidéo qu'il faudra télécharger et jouer le jour de l'épreuve.

Nombre total de pages : 19

L'épreuve consiste en 42 questions, rangées en 7 thèmes.

Pour chaque question, le candidat gagne 3 points s'il choisit la bonne réponse, perd 1 point s'il choisit une réponse fautive. S'il ne répond pas ou choisit plusieurs réponses, il ne gagne ni ne perd aucun point.

Le total sur chacun des 7 thèmes est ramené à 0 s'il est négatif.

La note finale s'obtient en divisant le total des points par 6,3 et en arrondissant à l'entier supérieur.

Le candidat indique ses réponses aux questions en pages 2 et 3.

Seules les pages 1 à 4 sont rendues par le candidat à la fin de l'épreuve, pour être numérisées.

Les questions figurent sur les pages suivantes.



Thème A : types de base

Réponse à la question 1	A <input type="checkbox"/>	B <input type="checkbox"/>	C <input type="checkbox"/>	D <input type="checkbox"/>
Réponse à la question 2	A <input type="checkbox"/>	B <input type="checkbox"/>	C <input type="checkbox"/>	D <input type="checkbox"/>
Réponse à la question 3	A <input type="checkbox"/>	B <input type="checkbox"/>	C <input type="checkbox"/>	D <input type="checkbox"/>
Réponse à la question 4	A <input type="checkbox"/>	B <input type="checkbox"/>	C <input type="checkbox"/>	D <input type="checkbox"/>
Réponse à la question 5	A <input type="checkbox"/>	B <input type="checkbox"/>	C <input type="checkbox"/>	D <input type="checkbox"/>
Réponse à la question 6	A <input type="checkbox"/>	B <input type="checkbox"/>	C <input type="checkbox"/>	D <input type="checkbox"/>

Thème B : types construits

Réponse à la question 1	A <input type="checkbox"/>	B <input type="checkbox"/>	C <input type="checkbox"/>	D <input type="checkbox"/>
Réponse à la question 2	A <input type="checkbox"/>	B <input type="checkbox"/>	C <input type="checkbox"/>	D <input type="checkbox"/>
Réponse à la question 3	A <input type="checkbox"/>	B <input type="checkbox"/>	C <input type="checkbox"/>	D <input type="checkbox"/>
Réponse à la question 4	A <input type="checkbox"/>	B <input type="checkbox"/>	C <input type="checkbox"/>	D <input type="checkbox"/>
Réponse à la question 5	A <input type="checkbox"/>	B <input type="checkbox"/>	C <input type="checkbox"/>	D <input type="checkbox"/>
Réponse à la question 6	A <input type="checkbox"/>	B <input type="checkbox"/>	C <input type="checkbox"/>	D <input type="checkbox"/>

Thème C : traitement de données en tables

Réponse à la question 1	A <input type="checkbox"/>	B <input type="checkbox"/>	C <input type="checkbox"/>	D <input type="checkbox"/>
Réponse à la question 2	A <input type="checkbox"/>	B <input type="checkbox"/>	C <input type="checkbox"/>	D <input type="checkbox"/>
Réponse à la question 3	A <input type="checkbox"/>	B <input type="checkbox"/>	C <input type="checkbox"/>	D <input type="checkbox"/>
Réponse à la question 4	A <input type="checkbox"/>	B <input type="checkbox"/>	C <input type="checkbox"/>	D <input type="checkbox"/>
Réponse à la question 5	A <input type="checkbox"/>	B <input type="checkbox"/>	C <input type="checkbox"/>	D <input type="checkbox"/>
Réponse à la question 6	A <input type="checkbox"/>	B <input type="checkbox"/>	C <input type="checkbox"/>	D <input type="checkbox"/>

Thème D : interactions entre l'homme et la machine sur le Web

Réponse à la question 1	A <input type="checkbox"/>	B <input type="checkbox"/>	C <input type="checkbox"/>	D <input type="checkbox"/>
Réponse à la question 2	A <input type="checkbox"/>	B <input type="checkbox"/>	C <input type="checkbox"/>	D <input type="checkbox"/>
Réponse à la question 3	A <input type="checkbox"/>	B <input type="checkbox"/>	C <input type="checkbox"/>	D <input type="checkbox"/>
Réponse à la question 4	A <input type="checkbox"/>	B <input type="checkbox"/>	C <input type="checkbox"/>	D <input type="checkbox"/>
Réponse à la question 5	A <input type="checkbox"/>	B <input type="checkbox"/>	C <input type="checkbox"/>	D <input type="checkbox"/>
Réponse à la question 6	A <input type="checkbox"/>	B <input type="checkbox"/>	C <input type="checkbox"/>	D <input type="checkbox"/>

Modèle CCYC : ©DNE

Nom de famille (naissance) :


(Suivi s'il y a lieu, du nom d'usage)

Prénom(s) :

N° candidat : **N° d'inscription** :

(Les numéros figurent sur la convocation.)

Né(e) le : / /



Liberté • Égalité • Fraternité
RÉPUBLIQUE FRANÇAISE

Thème E : architectures matérielles et systèmes d'exploitation


- Réponse à la question 1 A B C D
- Réponse à la question 2 A B C D
- Réponse à la question 3 A B C D
- Réponse à la question 4 A B C D
- Réponse à la question 5 A B C D
- Réponse à la question 6 A B C D

Thème F : langages et programmation

- Réponse à la question 1 A B C D
- Réponse à la question 2 A B C D
- Réponse à la question 3 A B C D
- Réponse à la question 4 A B C D
- Réponse à la question 5 A B C D
- Réponse à la question 6 A B C D

Thème G : algorithmique

- Réponse à la question 1 A B C D
- Réponse à la question 2 A B C D
- Réponse à la question 3 A B C D
- Réponse à la question 4 A B C D
- Réponse à la question 5 A B C D
- Réponse à la question 6 A B C D



Modèle CCYC : ©DNE

Nom de famille (naissance) :


(Suivi s'il y a lieu, du nom d'usage)

Prénom(s) :

N° candidat : N° d'inscription :

(Les numéros figurent sur la convocation.)

Né(e) le : / /



RÉPUBLIQUE FRANÇAISE

1.1

Thème A : types de base

Question A.1

Le résultat de l'addition en binaire $101001 + 101$ est égal au nombre binaire :

Réponses

- A 101102
- B 010101
- C 101110
- D 110000

Question A.2

Quelle est la représentation binaire en complément à deux sur huit bits du nombre -3 ?

Réponses

- A 1000 0011
- B 1111 1100
- C 1111 1101
- D 1 0000 0011

Question A.3

Quelle est l'écriture en base 2, sur 8 bits et en complément à 2 du nombre -113 ?

Réponses

- A 0111 0001
- B 1000 1110
- C 1000 1111
- D 1011 0011

Question A.4

On considère les nombres dont l'écriture en base 16 (en hexadécimal) sont de la forme suivante : un 1 suivi de 0 en nombre quelconque, comme 1, 10, 100, 1000 etc.

Tous ces nombres sont exactement :

Réponses

- A les puissances de 2
- B les puissances de 8
- C les puissances de 10
- D les puissances de 16



Question A.5

En ajoutant trois chiffres 0 à droite de l'écriture binaire d'un entier N strictement positif, on obtient l'écriture binaire de :

Réponses

- A $6 \times N$
- B $8 \times N$
- C $1000 \times N$
- D aucune des réponses précédentes

Question A.6

Combien de bits sont nécessaires pour représenter 15 en binaire ?

Réponses

- A 2
- B 3
- C 4
- D 5

Modèle CCYC : ©DNE

Nom de famille (naissance) :

(Suivi s'il y a lieu, du nom d'usage)

Prénom(s) :

N° candidat :

N° d'inscription :



Liberté • Égalité • Fraternité
RÉPUBLIQUE FRANÇAISE

Né(e) le :

Form fields for name, first name, candidate number, registration number, and date of birth.

1.1

Thème B : types construits

Question B.1

On veut affecter à `t` la valeur `[[0,1,2], [3,4,5], [6,7,8], [9,10,11], [12,13,14]]`.

Pour cela on utilise le code suivant. Par quoi doit-on remplacer les pointillés ?

$$n = 5$$

$$p = 3$$

```
t = [ [ ..... for j in range(p) ] for i in range(n) ]
```

Réponses

- A `i*j + j`
- B `p*i + j`
- C `p*j + i`
- D `i*(j+1)`

Question B.2

On définit : `t = [2, 8, 9, 2]`

Quelle est la valeur de l'expression `[x*x for x in t]` ?

Réponses

- A une erreur
- B `[[2, 8, 9, 2], [2, 8, 9, 2]]`
- C `[2, 8, 8, 9, 9, 9, 2, 2, 2, 2]`
- D `[4, 64, 81, 4]`

Question B.3

On dispose d'une table `patients` de personnes décrits par 4 colonnes « Nom », « Prénom », « Age », « Numéro de sécurité sociale » et d'une table `affections` contenant « Nom », « Prénom », « Numéro de sécurité sociale », « Maladie », « Date d'entrée à l'hôpital ».

On souhaite fusionner ces deux tables pour faciliter la gestion des patients et leur distribution entre les services pédiatriques, gériatriques et autres. Quelle donnée doit-on utiliser pour unifier ces tables :

Réponses

- A Le nom du patient
- B Le prénom du patient
- C Le numéro de sécurité sociale du patient
- D La maladie du patient

Question B.4

On définit : `T = [7*n for n in range(10)]`.

Quelle est la valeur de l'expression `T[7]` ?

Réponses

- A 42
- B 49
- C 56
- D 70



Question B.5

On considère le script suivant :

```
t = [2, 8, 9, 2]
t[2] = t[2] + 5
```

Quelle est la valeur de t à la fin de son exécution ?

Réponses

- A [2, 13, 9, 2]
- B [2, 8, 14, 2]
- C [7, 13, 14, 7]
- D [7, 13, 9, 2]

Question B.6

Après avoir défini :

```
d = { 'tigre': 'félin', 'tortue': 'reptile', 'renard': 'canidé' }
```

laquelle des quatre expressions suivantes est correcte ?

Réponses

- A d['tortue']
- B d['reptile']
- C d['tortue': 'reptile']
- D d[1]

Modèle CCYC : ©DNE

Nom de famille (naissance) :
(Suivi s'il y a lieu, du nom d'usage)

Prénom(s) :

N° candidat :

N° d'inscription :



Né(e) le :

(Les numéros figurent sur la convocation.)

1.1

Thème C : traitement de données en tables

Question C.1

On a défini :

```
mendeleiev = [['H', '.', '.', '.', '.', '.', '.', '.', '.', '.', '.', '.', '.', '.', '.', '.', '.', '.', '.', '.', 'He'],  
              ['Li', 'Be', 'B', 'C', 'N', 'O', 'F', 'Ne'],  
              ['Na', 'Mg', 'Al', 'Si', 'P', 'S', 'Cl', 'Ar'],  
              ..... ]
```

Une erreur s'est glissée dans le tableau, car le symbole du Fluor est F et non Fl. Quelle instruction permet de rectifier ce tableau ?

Réponses

- A `mendeleiev.append('F')`
- B `mendeleiev[1][6] = 'F'`
- C `mendeleiev[6][1] = 'F'`
- D `mendeleiev[-1][-1] = 'F'`

Question C.2

On souhaite construire une table de 4 lignes de 3 éléments que l'on va remplir de 0. Quelle syntaxe Python utilisera-t-on ?

Réponses

- A `[[0] * 3 for i in range (4)]`
- B `for i in range (4) [0] * 3`
- C `[0] * 3 for i in range (4)`
- D `[for i in range (4) [0] * 3]`

Question C.3

Quelle est la valeur de la variable `table` à la fin de l'exécution du script suivant :

```
table = [[1, 2, 3], [1, 2, 3], [1, 2, 3], [1, 2, 3]]  
table [1][2] = 5
```

Réponses

- A `[[1, 5, 3], [1, 2, 3], [1, 2, 3], [1, 2, 3]]`
- B `[[1, 2, 3], [5, 2, 3], [1, 2, 3], [1, 2, 3]]`
- C `[[1, 2, 3], [1, 2, 5], [1, 2, 3], [1, 2, 3]]`
- D `[[1, 2, 3], [1, 2, 3], [1, 2, 3], [1, 5, 3]]`



Question C.4

On considère l'extraction suivante d'une base de données des départements français. Cette extraction a ensuite été sauvegardée dans un fichier texte.

```
"1","01","Ain","AIN","ain","A500"  
"2","02","Aisne","AISNE","aisne","A250"  
"3","03","Allier","ALLIER","allier","A460"  
"4","04","Alpes-de-Haute-Provence","ALPES-DE-HAUTE-PROVENCE","alpes-de-  
haute-provence","A412316152"  
"5","05","Hautes-Alpes","HAUTES-ALPES","hautes-alpes","H32412"
```

Quel est le format de ce fichier ?

Réponses

- A YML
- B XML
- C CSV
- D JSON

Question C.5

Qu'est-ce que le format de fichier CSV ?

Réponses

- A un format de fichier mis au point par Microsoft pour Excel
- B un format de fichier pour décrire une base de données
- C un format de fichier où les données sont séparées par un caractère tel qu'une virgule
- D un format de fichier décrivant une page Web

Question C.6

On définit la fonction suivante qui prend en argument un tableau non vide d'entiers.

```
def f(T):  
    s = 0  
    for k in T:  
        if k == 8:  
            s = s+1  
    if s > 1:  
        return True  
    else:  
        return False
```

Dans quel cas cette fonction renvoie-t-elle la valeur True ?

Réponses

- A dans le cas où 8 est présent au moins une fois dans le tableau T
- B dans le cas où 8 est présent au moins deux fois dans le tableau T
- C dans le cas où 8 est présent exactement une fois dans le tableau T
- D dans le cas où 8 est présent exactement deux fois dans le tableau T

Modèle CCYC : ©DNE

Nom de famille (naissance) :


(Suivi s'il y a lieu, du nom d'usage)

Prénom(s) :

N° candidat : N° d'inscription :

(Les numéros figurent sur la convocation.)

Né(e) le : / /



1.1

Thème D : interactions entre l'homme et la machine sur le Web

Question D.1

Quel est le protocole utilisé pour accéder à la page <https://www.domaine.gouv.fr/qcm.php?nom=Martin?>

Réponses

- A HTTPS
- B HTTP
- C WWW
- D FTP

Question D.2

Quelle est la machine qui exécute un programme JavaScript inclus dans une page HTML ?

Réponses

- A le serveur WEB qui contient la page HTML
- B la machine de l'utilisateur qui consulte la page HTML
- C un serveur du réseau
- D un routeur du réseau

Question D.3

On considère le formulaire ci-dessous :

Quel est votre langage préféré ?

Python Java Php

Quelle balise parmi les quatre suivantes a été utilisée pour les cases à cocher ?

Réponses

- A `<input type="radio">`
- B `<input type="circle">`
- C `<input type="checkbox">`
- D `<input type="square">`



Question D.4

Voici un formulaire contenu dans une page HTML :

```
<form action="traitement.php" method="get">
  <div>
    <label for="nom">Classe:</label>
    <input type="text" id="nom" name="leNom" />
  </div>
  <div>
    <label for="effectif">Effectif:</label>
    <input type="number" id="effectif" name="n" />
  </div>
  <div>
    <button type="submit">Go!</button>
  </div>
</form>
```

Un utilisateur remplit le formulaire comme suit :

Classe:

Effectif:

Quelle est l'adresse de la page obtenue lorsque l'utilisateur clique sur le bouton Go! ?

Réponses

- A traitement.php?leNom=Seconde B&n=35
- B traitement.php?leNom=Seconde+B&n=35
- C traitement.php?nom=Seconde+B&effectif=35
- D traitement.php

Question D.5

Quelle est la balise HTML utilisée pour indiquer un titre de niveau d'importance maximal ?

Réponses

- A la balise <h0>
- B la balise <h1>
- C la balise <head>
- D la balise <header>

Modèle CCYC : ©DNE

Nom de famille (naissance) :

(Suivi s'il y a lieu, du nom d'usage)

Prénom(s) :

N° candidat : **N° d'inscription** :

(Les numéros figurent sur la convocation.)

Né(e) le : / /



1.1

Question D.6

Une page Web contient un formulaire dont le code HTML est le suivant :

```
<form action="/action_page.php" method="post">
  First name : <input type="text" name = "fname"><br>
  Last name : <input type="text" name = "lname"><br>
  <input type="submit" value="Submit">
</form>
```

Que peut-on dire des informations transmises dans ce formulaire ?

Réponses

- A elles seront enregistrées dans l'historique du navigateur
- B elles seront enregistrées dans le cache du navigateur
- C elles ne devront pas dépasser une limite en nombre de caractères transmis
- D elles ne seront pas visibles dans la barre du navigateur



Thème E : architectures matérielles et systèmes d'exploitation

Question E.1

Une et une seule de ces affirmations est **fausse**. Laquelle ?

Réponses

- A Un système d'exploitation libre est la plupart du temps gratuit
- B Je peux contribuer à un système d'exploitation libre
- C Il est interdit d'étudier un système d'exploitation propriétaire
- D Un système d'exploitation propriétaire est plus sécurisé

Question E.2

Dans un shell sous Linux, Alice utilise la commande `pwd`.

Cette commande :

Réponses

- A liste les fichiers du répertoire courant
- B liste les répertoires du répertoire courant
- C affiche le chemin du répertoire courant
- D affiche les permissions relatives au répertoire courant

Question E.3

Comment s'appelle l'ensemble des règles qui régissent les échanges sur Internet ?

Réponses

- A les couches
- B le wifi
- C les protocoles
- D les commutateurs

Question E.4

À partir du dossier `~/DOC/QCM`, quelle commande permet de rejoindre le dossier `~/Hack/Reponses` ?

Réponses

- A `cd Hack/Reponses`
- B `cd /Hack/Reponses`
- C `cd /~/Hack/Reponses`
- D `cd ../../Hack/Reponses`

Question E.5

Sur un ordinateur, où est stocké de manière permanente le système d'exploitation ?

Réponses

- A dans la mémoire RAM
- B sur le bus de donnée
- C sur le disque dur ou le disque SSD
- D dans le Cloud

Modèle CCYC : ©DNE

Nom de famille (naissance) :


(Suivi s'il y a lieu, du nom d'usage)

Prénom(s) :

N° candidat : N° d'inscription :

(Les numéros figurent sur la convocation.)

Né(e) le : / /



1.1

Question E.6

Un ordinateur possède les caractéristiques matérielles suivantes :

- mémoire DDR SDRAM : 8 Go
- antémémoire (mémoire cache) : 1 Mo
- disque dur SSD : 1 To

Parmi les classements ci-dessous lequel est celui de l'accès mémoire le plus rapide au moins rapide ?

Réponses

- A Antémémoire puis SDRAM puis SSD
- B SSD puis Antémémoire puis SDRAM
- C SSD puis SDRAM puis Antémémoire
- D SDRAM puis SSD puis Antémémoire



Thème F : langages et programmation

Question F.1

La documentation de la fonction `floor` de la bibliothèque `math` est :

```
floor(x)
Return the floor of x as an Integral. This is the largest integer <= x.
```

Que vaut `floor(-2.2)` ?

Réponses

- A -2
- B -3
- C on obtient une erreur, car -2.2 n'est pas un entier
- D 2.2

Question F.2

On définit la fonction :

```
def fib(n):
    t = [0] * n
    t[1] = 1
    for i in range(2,n):
        t[i] = t[i-1] + t[i-2]
    return t
```

Quelle est la valeur renvoyée par l'appel `fib(6)` ?

Réponses

- A [0, 1, 1, 2, 3]
- B [0, 1, 1, 2, 3, 5]
- C [0, 1, 1, 2, 3, 5, 8]
- D [0, 1, 2, 3, 5, 8]

Question F.3

On exécute le code suivant :

```
def f(t):
    n = len(t)
    for i in range(n-1):
        if t[i] > t[i+1]:
            t[i],t[i+1] = t[i+1],t[i]

L = [4, 8, -7, 0, 1]
f(L)
```

Quelle est la valeur de L après l'exécution de ce code ?

Réponses

- A [4, -7, 8, 0, 1]
- B [-7, 0, 1, 4, 8]
- C [4, 8, -7, 0, 1]
- D [4, -7, 0, 1, 8]

Modèle CCYC : ©DNE

Nom de famille (naissance) :

(Suivi s'il y a lieu, du nom d'usage)

Prénom(s) :

N° candidat :

N° d'inscription :



Né(e) le :

(Les numéros figurent sur la convocation.)

1.1

Question F.4

Quelle est la valeur de la variable n à la fin de l'exécution du script ci-dessous ?

```
n = 1
while n != 20:
    n = n + 2
```

1

Réponses

- A 1
- B 20
- C 22
- D le programme ne termine pas, la boucle tourne indéfiniment

Question F.5

T est un tableau de nombres entiers non vide. Que représente la valeur de S renvoyée par cette fonction ?

```
def mystere(T):
    s = 0
    for k in T:
        if k % 2 == 0:
            s = s+k
    return s
```

Réponses

- A la somme des valeurs du tableau T
- B la somme des valeurs positives du tableau T
- C la somme des valeurs impaires du tableau T
- D la somme des valeurs paires du tableau T

Question F.6

En voulant programmer une fonction qui calcule la valeur minimale d'une liste d'entiers, on a écrit :

```
def minimum(L):
    mini = 0
    for e in L:
        if e < mini:
            mini = e
    return mini
```

Cette fonction a été mal programmée. Pour quelle liste ne donnera-t-elle pas le résultat attendu, c'est-à-dire son minimum ?

Réponses

- A [-1, -8, 12, 2, 23]
- B [0, 18, 12, 2, 3]
- C [-1, -1, 12, 12, 23]
- D [1, 8, 12, 2, 23]



Thème G : algorithmique

Question G.1

En utilisant une recherche dichotomique, combien faut-il de comparaisons pour trouver une valeur dans un tableau trié de 1000 nombres ?

Réponses

- A 3
- B 10
- C 1000
- D 1024

Question G.2

Pour rendre la monnaie, il est possible d'utiliser un algorithme glouton.

Une seule des affirmations suivantes est vraie :

Réponses

- A Avec un algorithme glouton, on rend la monnaie en commençant toujours par la pièce ayant la plus grande valeur possible et en procédant ensuite par valeurs décroissantes.
- B Avec un algorithme glouton, on rend la monnaie en commençant toujours par la pièce de plus petite valeur afin de maximiser le nombre de pièces rendues.
- C Quel que soit le type de pièces dans un pays donné, un algorithme glouton donne toujours la monnaie de manière optimale.
- D Un algorithme glouton procède en testant toutes les combinaisons possibles de pièces afin de trouver le rendu optimal.

Question G.3

Soit l'algorithme suivant, qui permet de retrouver l'index de l'élément maximum dans un tableau de données :

```
def maximum(T) :  
    index= 0  
    for i in range(len(T)) :  
        if ..... :  
            index = i  
    return index
```

Compléter l'instruction conditionnelle pour que la fonction calcule le résultat attendu :

Réponses

- A `i > index`
- B `T[i] < T[index]`
- C `T[i] > T[index]`
- D `T[index] > T[i]`

Modèle CCYC : ©DNE

Nom de famille (naissance) :


(Suivi s'il y a lieu, du nom d'usage)

Prénom(s) :

N° candidat : **N° d'inscription** :

(Les numéros figurent sur la convocation.)

Né(e) le : / /

 RÉPUBLIQUE FRANÇAISE

1.1

Question G.4

À quelle catégorie appartient l'algorithme des k plus proches voisins ?

Réponses

- A algorithmes de tri
- B algorithmes gloutons
- C algorithmes de recherche de chemins
- D algorithmes de classification et d'apprentissage

Question G.5

La fonction suivante doit calculer la moyenne d'un tableau de nombres, passé en paramètre. Avec quelles expressions faut-il remplacer les points de suspension pour que la fonction soit correcte ?

```
def moyenne(tableau):
    total = 0
    for valeur in tableau:
        total = total + valeur
    return total / ...
```

Réponses

- A 1 et (len(tableau) + 1)
- B 1 et len(tableau)
- C 0 et (len(tableau) + 1)
- D 0 et len(tableau)

Question G.6

On définit la fonction f comme suit :

```
def f(L):
    a = L[0]
    for x in L:
        if x < a:
            a = x
    return a
```

Quelle est la valeur renvoyée par l'appel f([7, 10.3, -4, 12, 7, 2, 0.7, -5, 14, 1.4]) ?

Réponses

- A -5
- B 1.4
- C 7
- D 14