

Modèle CCYC : ©DNE
Nom de famille (naissance) :
(Suivi s'il y a lieu, du nom d'usage)

Prénom(s) :

N° candidat : **N° d'inscription** :

(Les numéros figurent sur la convocation.)

Né(e) le : / /


Liberté • Égalité • Fraternité
RÉPUBLIQUE FRANÇAISE

1.1

ÉVALUATION	
CLASSE : Première	
VOIE : <input checked="" type="checkbox"/> Générale <input type="checkbox"/> Technologique <input type="checkbox"/> Toutes voies (LV)	
ENSEIGNEMENT : spécialité Numérique et Sciences Informatiques (NSI)	
DURÉE DE L'ÉPREUVE : 02 h 00	
Niveaux visés (LV) : LVA LVB	
Axes de programme :	
CALCULATRICE AUTORISÉE : <input type="checkbox"/> Oui <input checked="" type="checkbox"/> Non	
DICTIONNAIRE AUTORISÉ : <input type="checkbox"/> Oui <input checked="" type="checkbox"/> Non	
 <input checked="" type="checkbox"/> Ce sujet contient des parties à rendre par le candidat avec sa copie. De ce fait, il ne peut être dupliqué et doit être imprimé pour chaque candidat afin d'assurer ensuite sa bonne numérisation.	
<input type="checkbox"/> Ce sujet intègre des éléments en couleur. S'il est choisi par l'équipe pédagogique, il est nécessaire que chaque élève dispose d'une impression en couleur.	
<input type="checkbox"/> Ce sujet contient des pièces jointes de type audio ou vidéo qu'il faudra télécharger et jouer le jour de l'épreuve.	
Nombre total de pages : 19	

L'épreuve consiste en 42 questions, rangées en 7 thèmes.
Pour chaque question, le candidat gagne 3 points s'il choisit la bonne réponse, perd 1 point s'il choisit une réponse fausse. S'il ne répond pas ou choisit plusieurs réponses, il ne gagne ni ne perd aucun point.
Le total sur chacun des 7 thèmes est ramené à 0 s'il est négatif.
La note finale s'obtient en divisant le total des points par 6,3 et en arrondissant à l'entier supérieur.

Le candidat indique ses réponses aux questions en pages 2 et 3.
Seules les pages 1 à 4 sont rendues par le candidat à la fin de l'épreuve, pour être numérisées.
Les questions figurent sur les pages suivantes.



Thème A : types de base

Réponse à la question 1	A <input type="checkbox"/>	B <input type="checkbox"/>	C <input type="checkbox"/>	D <input type="checkbox"/>
Réponse à la question 2	A <input type="checkbox"/>	B <input type="checkbox"/>	C <input type="checkbox"/>	D <input type="checkbox"/>
Réponse à la question 3	A <input type="checkbox"/>	B <input type="checkbox"/>	C <input type="checkbox"/>	D <input type="checkbox"/>
Réponse à la question 4	A <input type="checkbox"/>	B <input type="checkbox"/>	C <input type="checkbox"/>	D <input type="checkbox"/>
Réponse à la question 5	A <input type="checkbox"/>	B <input type="checkbox"/>	C <input type="checkbox"/>	D <input type="checkbox"/>
Réponse à la question 6	A <input type="checkbox"/>	B <input type="checkbox"/>	C <input type="checkbox"/>	D <input type="checkbox"/>

Thème B : types construits


Réponse à la question 1	A <input type="checkbox"/>	B <input type="checkbox"/>	C <input type="checkbox"/>	D <input type="checkbox"/>
Réponse à la question 2	A <input type="checkbox"/>	B <input type="checkbox"/>	C <input type="checkbox"/>	D <input type="checkbox"/>
Réponse à la question 3	A <input type="checkbox"/>	B <input type="checkbox"/>	C <input type="checkbox"/>	D <input type="checkbox"/>
Réponse à la question 4	A <input type="checkbox"/>	B <input type="checkbox"/>	C <input type="checkbox"/>	D <input type="checkbox"/>
Réponse à la question 5	A <input type="checkbox"/>	B <input type="checkbox"/>	C <input type="checkbox"/>	D <input type="checkbox"/>
Réponse à la question 6	A <input type="checkbox"/>	B <input type="checkbox"/>	C <input type="checkbox"/>	D <input type="checkbox"/>

Thème C : traitement de données en tables

Réponse à la question 1	A <input type="checkbox"/>	B <input type="checkbox"/>	C <input type="checkbox"/>	D <input type="checkbox"/>
Réponse à la question 2	A <input type="checkbox"/>	B <input type="checkbox"/>	C <input type="checkbox"/>	D <input type="checkbox"/>
Réponse à la question 3	A <input type="checkbox"/>	B <input type="checkbox"/>	C <input type="checkbox"/>	D <input type="checkbox"/>
Réponse à la question 4	A <input type="checkbox"/>	B <input type="checkbox"/>	C <input type="checkbox"/>	D <input type="checkbox"/>
Réponse à la question 5	A <input type="checkbox"/>	B <input type="checkbox"/>	C <input type="checkbox"/>	D <input type="checkbox"/>
Réponse à la question 6	A <input type="checkbox"/>	B <input type="checkbox"/>	C <input type="checkbox"/>	D <input type="checkbox"/>

Thème D : interactions entre l'homme et la machine sur le Web

Réponse à la question 1	A <input type="checkbox"/>	B <input type="checkbox"/>	C <input type="checkbox"/>	D <input type="checkbox"/>
Réponse à la question 2	A <input type="checkbox"/>	B <input type="checkbox"/>	C <input type="checkbox"/>	D <input type="checkbox"/>
Réponse à la question 3	A <input type="checkbox"/>	B <input type="checkbox"/>	C <input type="checkbox"/>	D <input type="checkbox"/>
Réponse à la question 4	A <input type="checkbox"/>	B <input type="checkbox"/>	C <input type="checkbox"/>	D <input type="checkbox"/>
Réponse à la question 5	A <input type="checkbox"/>	B <input type="checkbox"/>	C <input type="checkbox"/>	D <input type="checkbox"/>
Réponse à la question 6	A <input type="checkbox"/>	B <input type="checkbox"/>	C <input type="checkbox"/>	D <input type="checkbox"/>



Modèle CCYC : ©DNE

Nom de famille (naissance) :
(Suivi s'il y a lieu, du nom d'usage)

--	--	--	--	--	--	--	--	--	--	--	--	--	--	--	--	--	--	--	--	--	--	--	--	--	--	--	--	--	--	--	--	--	--	--	--	--	--	--	--	--	--	--

Prénom(s) :

--	--	--	--	--	--	--	--	--	--	--	--	--	--	--	--	--	--	--	--	--	--	--	--	--	--	--	--	--	--	--	--	--	--	--	--	--	--	--	--	--	--	--

N° candidat :

--	--	--	--	--	--	--	--	--	--	--	--	--	--	--

N° d'inscription :

--	--	--



Né(e) le :

(Les numéros figurent sur la convocation.)

--	--	--	--	--	--	--	--	--	--	--	--	--	--	--	--

1.1

Thème A : types de base

Question A.1

Combien d'entiers positifs ou nuls (entiers non signés) peut-on représenter en machine sur 32 bits ?

Réponses

- A $2^{32} - 1$
- B 2^{32}
- C 2×32
- D 32^2

Question A.2

Parmi les quatre propositions, quelle est celle qui correspond au résultat de la soustraction en écriture binaire $1010\ 1101 - 101\ 1000$?

Réponses

- A $101\ 0101$
- B $110\ 0001$
- C $100\ 1111$
- D $1\ 1000\ 0111$

Question A.3

À quoi sert le codage en complément à 2 ?

Réponses

- A à inverser un nombre binaire
- B à coder des nombres entiers négatifs en binaire
- C à convertir un nombre en hexadécimal
- D à multiplier par 2 un nombre en binaire

Question A.4

Quand on ajoute deux bits a et b , on obtient un bit de somme s et un bit de retenue r . On peut exprimer s et r à l'aide de formules logiques, lesquelles ?

Réponses

- A $r = a ET b$ $s = a OU b$
- B $r = a ET b$ $s = a ET b$
- C $r = a ET b$ $s = a OU EXCLUSIF b$
- D $r = a OU EXCLUSIF b$ $s = a ET b$



Question A.5

Voici les écritures binaires de quatre nombres entiers positifs.

Lequel est pair ?

Réponses

- A 10 0001
- B 10 0010
- C 11 0001
- D 11 1111

Question A.6

Quelle est l'écriture décimale de l'entier dont la représentation en binaire non signé est 0001 0101 ?

Réponses

- A 15
- B 21
- C 111
- D 420

Modèle CCYC : ©DNE

Nom de famille (naissance) :

(Suivi s'il y a lieu, du nom d'usage)

Prénom(s) :

N° candidat :

N° d'inscription :

(Les numéros figurent sur la convocation.)

Né(e) le :



1.1

Thème B : types construits

Question B.1

Voici une définition incomplète d'une fonction qui renvoie le couple du quotient et du reste de la division euclidienne :

```
def divEuclid(n,d):  
    '''renvoie le couple formé du quotient et du reste dans la division de  
    n par d'''  
    q = 0  
    while n-d > 0:  
        q = q + 1  
        n = n - d  
    .....
```

Par quelle instruction faut-il remplacer la ligne en pointillés pour que l'appel
(quotient, reste) = divEuclid(15,6)

affecte les valeurs attendues ?

Réponses

- A (q,n)
- B (quotient,reste)
- C return (q,n)
- D return (quotient,reste)

Question B.2

De quelle expression la liste suivante est-elle la valeur ?

[[0,0,0,0], [1,1,1,1], [2,2,2,2]]

Réponses

- A [[i] * 4 for i in range(4)]
- B [[i] * 3 for i in range(4)]
- C [[i] * 4 for i in range(3)]
- D [[i] * 3 for i in range(3)]

Question B.3


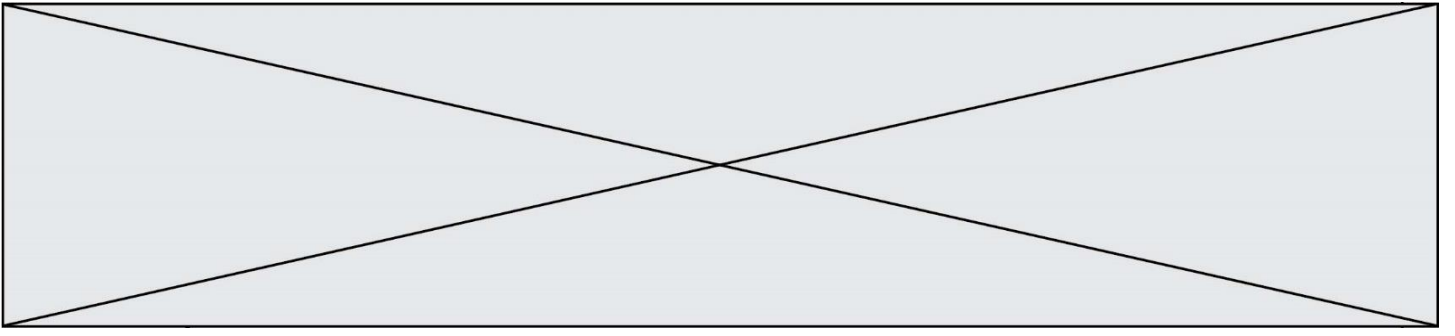
Après l'affectation suivante :

```
alphabet = [ 'A', 'B', 'C', 'D', 'E', 'F', 'G', 'H', 'I', 'J', 'K', 'L',  
'M',  
            'N', 'O', 'P', 'Q', 'R', 'S', 'T', 'U', 'V', 'W', 'X', 'Y',  
'Z' ]
```

quelle est l'expression qui permet d'accéder à la lettre E ?

Réponses

- A alphabet.E
- B alphabet['E']
- C alphabet[4]
- D alphabet[5]





Thème C : traitement de données en tables

Question C.1

On exécute le script suivant :

```
a = [[1, 5], [-3, 2]]
b = [[3,-2], [4, -6]]
c = [[None, None], [None, None]]
for i in range(2):
    for j in range(2):
        c[i][j] = a[i][0]*b[0][j] + a[i][1]*b[1][j]
```

Que vaut `c[0][1]` à la fin de l'exécution ?

Réponses

- A None
- B -1
- C -32
- D 1

Question C.2

Parmi les extensions suivantes, laquelle caractérise un fichier contenant des données que l'on peut associer à un tableau de pixels ?

Réponses

- A pdf
- B xls
- C png
- D exe

Question C.3

Un fichier CSV ...

Réponses

- A ne peut être lu que par un tableur
- B est l'unique format utilisé pour construire une base de données
- C est un fichier texte
- D est un format propriétaire

Modèle CCYC : ©DNE

Nom de famille (naissance) :

(Suivi s'il y a lieu, du nom d'usage)

Prénom(s) :

N° candidat :

N° d'inscription :

(Les numéros figurent sur la convocation.)

Né(e) le : / /



RÉPUBLIQUE FRANÇAISE

1.1

Question C.4

On a défini :

```
mendeleeiev = [['H', ' ', 'Li', 'Be', 'B', 'C', 'N', 'O', 'F', 'Ne'],
                ['Na', 'Mg', 'Al', 'Si', 'P', 'S', 'Cl', 'Ar'],
                .....]
```

Une erreur s'est glissée dans le tableau, car le symbole du Fluor est F et non Fl. Quelle instruction permet de rectifier ce tableau ?

Réponses

- A `mendeleeiev.append('F')`
- B `mendeleeiev[1][6] = 'F'`
- C `mendeleeiev[6][1] = 'F'`
- D `mendeleeiev[-1][-1] = 'F'`

Question C.5

On exécute le script suivant :

```
a = [1, 2, 3]
b = [4, 5, 6]
c = a + b
```

Que contient la variable c à la fin de cette exécution ?

Réponses

- A `[5, 7, 9]`
- B `[1, 4, 2, 5, 3, 6]`
- C `[1, 2, 3, 4, 5, 6]`
- D `[1, 2, 3, 5, 7, 9]`

Question C.6

Qu'est-ce qu'un fichier CSV ?

Réponses

- A une librairie Python permettant l'affichage des images
- B un utilitaire de traitement d'image
- C un format d'image
- D un format de données



Thème D : interactions entre l'homme et la machine sur le Web

Question D.1

Quel est le nom de l'événement généré lorsque l'utilisateur clique sur un bouton de type button dans une page HTML ?

Réponses

- A action
- B mouse
- C submit
- D click

Question D.2

Dans une page HTML, lequel de ces codes permet la présence d'un bouton qui appelle la fonction javascript `afficher_reponse()` lorsque l'utilisateur clique dessus ?

Réponses

- A `Cliquez ici`
- B `<button if_clicked="afficher_reponse()">Cliquez ici</button>`
- C `<button value="Cliquez ici"><a afficher_reponse()</button>`
- D `<button onclick="afficher_reponse()">Cliquez ici</button>`

Question D.3

On considère cet extrait de fichier HTML représentant les onglets d'une barre de navigation :

```
function BoutonGris() {  
    var btn = document.createElement("BUTTON");  
    btn.innerHTML = "Annulation";  
    document.getElementById("DIV").appendChild(btn);  
}
```

Réponses

- A elle remplace un élément DIV par un bouton
- B elle annule l'élément BUTTON
- C elle crée un bouton comportant le texte "Annulation"
- D elle recherche le bouton "BUTTON" et crée une copie appelée "btn"

Question D.4

Un élève a écrit une fonction javascript qui détermine la moyenne des valeurs entrées par l'utilisateur dans un formulaire de sa page HTML.

Il place sa fonction javascript :

Réponses

- A entre la balise `<js>` et la balise `</js>`
- B entre la balise `<code>` et la balise `</code>`
- C entre la balise `<script>` et la balise `</script>`
- D entre la balise `<javascript>` et la balise `</javascript>`



Thème E : architectures matérielles et systèmes d'exploitation

Question E.1

Quel est le rôle de la commande shell `ls` ?

Réponses

- A basculer en mode administrateur
- B lister le contenu du répertoire courant
- C donner un accès complet à un fichier
- D effacer le contenu du répertoire courant

Question E.2

La commande suivante vient d'être exécutée en ligne de commande sous Linux :

```
cp /users/luc/interro.txt ./
```

Que réalise cette commande ?

Réponses

- A copie du fichier `users` vers le répertoire `luc`
- B copie du fichier `interro.txt` vers le répertoire `luc`
- C copie du fichier `interro.txt` vers le répertoire courant
- D copie du fichier `interro.txt` vers le répertoire `users`

Question E.3

Sous Linux, les droits d'accès à un fichier dont le propriétaire est `Joseph` sont les suivants : `-rwxr-xr--`. Laquelle des affirmations suivantes est **fausse** ?

Réponses

- A `Joseph` a l'autorisation de lire ce fichier
- B les membres du groupe de `Joseph` ont l'autorisation de lire ce fichier
- C tous les utilisateurs ont l'autorisation de lire ce fichier
- D les membres du groupe de `Joseph` ont l'autorisation de modifier ce fichier

Question E.4

Dans une machine sous Linux, dans le répertoire `Documents` se trouvent un répertoire `Final` ainsi qu'un répertoire `Initial` contenant deux fichiers `fichier1.txt` et `fichier2.txt`.

En étant dans le répertoire `Initial`, quel est l'effet de la commande `cp * ../Final` ?

Réponses

- A se placer dans le répertoire `Final`
- B déplacer dans le répertoire `Initial` les fichiers du répertoire `Final`
- C copier dans le répertoire `Initial` les fichiers du répertoire `Final`
- D copier dans le répertoire `Final` les fichiers du répertoire `Initial`

Modèle CCYC : ©DNE

Nom de famille (naissance) :

(Suivi s'il y a lieu, du nom d'usage)

Prénom(s) :

N° candidat :

N° d'inscription :



Liberté • Égalité • Fraternité
RÉPUBLIQUE FRANÇAISE

Né(e) le :

(Les numéros figurent sur la convocation.)

1.1

Question E.5

Sous Linux, la console indique que l'utilisateur se trouve dans le dossier `/var/lib`. Quelle commande doit-il exécuter pour revenir dans son dossier personnel `/home/martin` ?

Réponses

- A `cd ~`
- B `cd /home`
- C `dir`
- D `dir /home/martin`

Question E.6

En informatique, que signifie l'acronyme ROM ?

Réponses

- A Rewrite Only Memory
- B Reset Only Memory
- C Read Only Memory
- D Recall Only Memory



Thème F : langages et programmation

Question F.1

On considère le code suivant :

```
if x < 4:  
    x = x + 3  
else:  
    x = x - 3
```

Quelle construction élémentaire peut-on identifier ?

Réponses

- A une boucle non bornée
- B une structure conditionnelle
- C une boucle bornée
- D un appel de fonction

Question F.2

On considère l'instruction suivante :

```
resultat = [0] * 7
```

Que contient la variable `resultat` après son exécution ?

Réponses

- A 0
- B [0]
- C [[0], [0], [0], [0], [0], [0], [0]]
- D [0, 0, 0, 0, 0, 0, 0]

Question F.3

Lequel des langages suivants n'est pas un langage de programmation :

Réponses

- A PHP
- B Javascript
- C HTML
- D Python


Modèle CCYC : ©DNE

Nom de famille *(naissance)* :
(Suivi s'il y a lieu, du nom d'usage)

Prénom(s) :

N° candidat : N° d'inscription :

Né(e) le : / /
(Les numéros figurent sur la convocation.)



RÉPUBLIQUE FRANÇAISE

1.1

Question F.4

On exécute le code suivant :

```
def f(t):
    n = len(t)
    tmp = t[0]
    for i in range(1,n-1):
        t[i] = t[i+1]
        t[n-1] = tmp
```

```
L = [1, 3, 4, 5, 2]
f(L)
```

Quelle est la valeur de L après l'exécution de ce code ?

Réponses

- A [1, 3, 4, 5, 2]
- B [2, 1, 3, 4, 5]
- C [3, 4, 5, 2, 1]
- D [2, 5, 4, 3, 1]

Question F.5

La fonction suivante ne calcule pas toujours correctement le maximum des deux nombres donnés en argument. On rappelle que $\text{abs}(z)$ calcule la valeur absolue du nombre z .

```
def maxi(x,y) :
    m = (x-y+abs(x+y))/2
    return m
```

Parmi les tests suivants, lequel va détecter l'erreur ?

Réponses

- A $\text{maxi}(3, -2)$
- B $\text{maxi}(2, 2)$
- C $\text{maxi}(3, 2)$
- D $\text{maxi}(2, 3)$

Question F.6

On exécute le script suivant.

```
a,b = 10,3
if a < 10:
    a,b = a+2,b+a
```

Quelle est la valeur de b à la fin de son exécution ?

Réponses

- A 3
- B 12
- C 13
- D 15



Thème G : algorithmique

Question G.1

On définit la fonction suivante :

```
def traitement(liste) :  
    m = liste[0]  
    for i in range (len(liste)) :  
        if liste[i] > m:  
            m = liste[i]  
    return m
```

Que vaut `traitement([-2, 5, 6, -10, 35])` ?

Réponses

- A None
- B -10
- C -6
- D 35

Question G.2

En utilisant une recherche dichotomique, combien faut-il de comparaisons pour trouver une valeur dans un tableau trié de 1000 nombres ?

Réponses

- A 3
- B 10
- C 1000
- D 1024

Question G.3

À quelle catégorie appartient l'algorithme des k plus proches voisins ?

Réponses

- A algorithmes de tri
- B algorithmes gloutons
- C algorithmes de recherche de chemins
- D algorithmes de classification et d'apprentissage

Modèle CCYC : ©DNE

Nom de famille (naissance) :


(Suivi s'il y a lieu, du nom d'usage)

Prénom(s) :

N° candidat : N° d'inscription :

(Les numéros figurent sur la convocation.)

Né(e) le : / /



1.1

Question G.4

On considère la fonction Python suivante, qui prend en argument une liste L et renvoie le maximum des éléments de la liste :

```
def rechercheMaximum(L):
    max = L[0]
    for i in range(len(L)):
        if L[i] > max:
            max = L[i]
    return max
```

On note n la taille de la liste.

Quelle est la complexité en nombre d'opérations de l'algorithme ?

Réponses

- A constante, c'est-à-dire ne dépend pas de n
- B linéaire, c'est-à-dire de l'ordre de n
- C quadratique, c'est-à-dire de l'ordre de n^2
- D cubique, c'est-à-dire de l'ordre de n^3

Question G.5

Une seule des affirmations suivantes est vraie :

Réponses

- A L'algorithme des k plus proches voisins a pour but de déterminer les k plus proches voisins d'une observation dans un ensemble de données.
- B L'algorithme des k plus proches voisins a pour but de déterminer la classe d'une observation à partir des classes de ses k plus proches voisins.
- C L'algorithme des k plus proches voisins a pour but de déterminer dans un ensemble de données le sous-ensemble à k éléments qui sont les plus proches les uns des autres.
- D L'algorithme des k plus proches voisins a pour but de déterminer les éléments d'un ensemble de données appartenant à une même classe.

Question G.6

On considère le code incomplet suivant qui recherche le maximum dans une liste.

```
liste = [5,12,15,3,15,17,29,1]
iMax = 0
for i in range(1,len(liste)):
    .....
    iMax = i

print (liste[iMax])
```

Par quoi faut-il remplacer la ligne pointillée ?

Réponses

- A `if i > iMax:`
- B `if liste[i] > liste[iMax]:`
- C `if liste[i] > iMax:`
- D `if i > liste[iMax]:`