

Modèle CCYC : ©DNE

Nom de famille (naissance) :


(Suivi s'il y a lieu, du nom d'usage)

Prénom(s) :

N° candidat : N° d'inscription :

(Les numéros figurent sur la convocation.)

Né(e) le : / /



RÉPUBLIQUE FRANÇAISE

1.1

ÉVALUATION

CLASSE : Première

VOIE : Générale Technologique Toutes voies (LV)

ENSEIGNEMENT : spécialité Numérique et Sciences Informatiques (NSI)

DURÉE DE L'ÉPREUVE : 02 h 00

Niveaux visés (LV) : LVA LVB

Axes de programme :

CALCULATRICE AUTORISÉE : Oui Non

DICTIONNAIRE AUTORISÉ : Oui Non

Ce sujet contient des parties à rendre par le candidat avec sa copie. De ce fait, il ne peut être dupliqué et doit être imprimé pour chaque candidat afin d'assurer ensuite sa bonne numérisation.

Ce sujet intègre des éléments en couleur. S'il est choisi par l'équipe pédagogique, il est nécessaire que chaque élève dispose d'une impression en couleur.

Ce sujet contient des pièces jointes de type audio ou vidéo qu'il faudra télécharger et jouer le jour de l'épreuve.

Nombre total de pages : 19

L'épreuve consiste en 42 questions, rangées en 7 thèmes.

Pour chaque question, le candidat gagne 3 points s'il choisit la bonne réponse, perd 1 point s'il choisit une réponse fautive. S'il ne répond pas ou choisit plusieurs réponses, il ne gagne ni ne perd aucun point.

Le total sur chacun des 7 thèmes est ramené à 0 s'il est négatif.

La note finale s'obtient en divisant le total des points par 6,3 et en arrondissant à l'entier supérieur.

Le candidat indique ses réponses aux questions en pages 2 et 3.

Seules les pages 1 à 4 sont rendues par le candidat à la fin de l'épreuve, pour être numérisées.

Les questions figurent sur les pages suivantes.



Thème A : types de base

Réponse à la question 1	A <input type="checkbox"/>	B <input type="checkbox"/>	C <input type="checkbox"/>	D <input type="checkbox"/>
Réponse à la question 2	A <input type="checkbox"/>	B <input type="checkbox"/>	C <input type="checkbox"/>	D <input type="checkbox"/>
Réponse à la question 3	A <input type="checkbox"/>	B <input type="checkbox"/>	C <input type="checkbox"/>	D <input type="checkbox"/>
Réponse à la question 4	A <input type="checkbox"/>	B <input type="checkbox"/>	C <input type="checkbox"/>	D <input type="checkbox"/>
Réponse à la question 5	A <input type="checkbox"/>	B <input type="checkbox"/>	C <input type="checkbox"/>	D <input type="checkbox"/>
Réponse à la question 6	A <input type="checkbox"/>	B <input type="checkbox"/>	C <input type="checkbox"/>	D <input type="checkbox"/>

Thème B : types construits


Réponse à la question 1	A <input type="checkbox"/>	B <input type="checkbox"/>	C <input type="checkbox"/>	D <input type="checkbox"/>
Réponse à la question 2	A <input type="checkbox"/>	B <input type="checkbox"/>	C <input type="checkbox"/>	D <input type="checkbox"/>
Réponse à la question 3	A <input type="checkbox"/>	B <input type="checkbox"/>	C <input type="checkbox"/>	D <input type="checkbox"/>
Réponse à la question 4	A <input type="checkbox"/>	B <input type="checkbox"/>	C <input type="checkbox"/>	D <input type="checkbox"/>
Réponse à la question 5	A <input type="checkbox"/>	B <input type="checkbox"/>	C <input type="checkbox"/>	D <input type="checkbox"/>
Réponse à la question 6	A <input type="checkbox"/>	B <input type="checkbox"/>	C <input type="checkbox"/>	D <input type="checkbox"/>

Thème C : traitement de données en tables

Réponse à la question 1	A <input type="checkbox"/>	B <input type="checkbox"/>	C <input type="checkbox"/>	D <input type="checkbox"/>
Réponse à la question 2	A <input type="checkbox"/>	B <input type="checkbox"/>	C <input type="checkbox"/>	D <input type="checkbox"/>
Réponse à la question 3	A <input type="checkbox"/>	B <input type="checkbox"/>	C <input type="checkbox"/>	D <input type="checkbox"/>
Réponse à la question 4	A <input type="checkbox"/>	B <input type="checkbox"/>	C <input type="checkbox"/>	D <input type="checkbox"/>
Réponse à la question 5	A <input type="checkbox"/>	B <input type="checkbox"/>	C <input type="checkbox"/>	D <input type="checkbox"/>
Réponse à la question 6	A <input type="checkbox"/>	B <input type="checkbox"/>	C <input type="checkbox"/>	D <input type="checkbox"/>

Thème D : interactions entre l'homme et la machine sur le Web

Réponse à la question 1	A <input type="checkbox"/>	B <input type="checkbox"/>	C <input type="checkbox"/>	D <input type="checkbox"/>
Réponse à la question 2	A <input type="checkbox"/>	B <input type="checkbox"/>	C <input type="checkbox"/>	D <input type="checkbox"/>
Réponse à la question 3	A <input type="checkbox"/>	B <input type="checkbox"/>	C <input type="checkbox"/>	D <input type="checkbox"/>
Réponse à la question 4	A <input type="checkbox"/>	B <input type="checkbox"/>	C <input type="checkbox"/>	D <input type="checkbox"/>
Réponse à la question 5	A <input type="checkbox"/>	B <input type="checkbox"/>	C <input type="checkbox"/>	D <input type="checkbox"/>
Réponse à la question 6	A <input type="checkbox"/>	B <input type="checkbox"/>	C <input type="checkbox"/>	D <input type="checkbox"/>



Modèle CCYC : ©DNE

Nom de famille (*naissance*) :

(Suivi s'il y a lieu, du nom d'usage)


Prénom(s) :

N° candidat :

N° d'inscription :

(Les numéros figurent sur la convocation.)

Né(e) le :



1.1

Thème A : types de base

Question A.1

Quelle est la représentation en binaire signé en complément à 2 de l'entier -1 sur un octet ?

Réponses

- A 1000 0000
- B 1000 0001
- C 1111 1110
- D 1111 1111

Question A.2

On considère les nombres dont l'écriture en base 16 (en hexadécimal) sont de la forme suivante : un 1 suivi de 0 en nombre quelconque, comme 1, 10, 100, 1000 etc.

Tous ces nombres sont exactement :

Réponses

- A les puissances de 2
- B les puissances de 8
- C les puissances de 10
- D les puissances de 16

Question A.3

Parmi les quatre propositions, quelle est celle qui correspond au résultat de la soustraction en écriture hexadécimale $CD8FA - 9FF81$?

Réponses

- A 2E979
- B 3D989
- C 2D979
- D 2DA979

Question A.4

Combien d'entiers positifs ou nuls (entiers non signés) peut-on représenter en machine sur 32 bits ?

Réponses

- A $2^{32} - 1$
- B 2^{32}
- C 2×32
- D 32^2



Question A.5

Quelle est l'écriture binaire de 199 ?

Réponses

- A 1111 1001
- B 1100 0111
- C 1100 1110
- D 0111 0111

Question A.6

On exécute le code suivant

```
a = 2
b = 3
c = a ** b
d = c % b
```

Quelle est la valeur de d à la fin de l'exécution ?

Réponses

- A 1
- B 2
- C 3
- D 4

Modèle CCYC : ©DNE

Nom de famille (naissance) :

(Suivi s'il y a lieu, du nom d'usage)

Prénom(s) :

N° candidat :

N° d'inscription :



Liberté • Égalité • Fraternité
RÉPUBLIQUE FRANÇAISE

Né(e) le :

(Les numéros figurent sur la convocation.)

1.1

Thème B : types construits

Question B.1

On a défini : $T = [[1, 2, 3], [4, 5, 6], [7, 8, 9]]$.

Quelle expression parmi les suivantes a pour valeur le nombre 8 ?

Réponses

- A $T[1, 2]$
- B $T[1][2]$
- C $T[2, 1]$
- D $T[2][1]$

Question B.2

Quelle affectation permet de donner à L la valeur $[1, 9, 25, 49, 81]$?

Réponses

- A $L = [i*2 \text{ for } i \text{ in range}(9) \text{ if } i\%2 == 0]$
- B $L = [i**2 \text{ for } i \text{ in range}(10) \text{ if } i\%2 == 0]$
- C $L = [i**2 \text{ for } i \text{ in range}(10) \text{ if } i\%2 == 1]$
- D $L = [i**2 \text{ for } i \text{ in range}(10) \text{ if } i//2 == 1]$

Question B.3

On considère le script suivant :

```
t = [2, 8, 9, 2]
t[2] = t[2] + 5
```

Quelle est la valeur de t à la fin de son exécution ?

Réponses

- A $[2, 13, 9, 2]$
- B $[2, 8, 14, 2]$
- C $[7, 13, 14, 7]$
- D $[7, 13, 9, 2]$

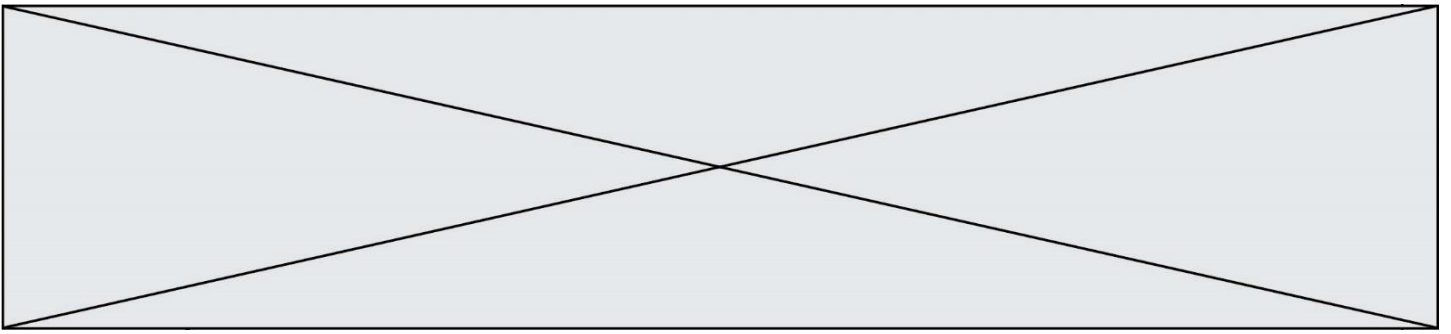
Question B.4

On définit ainsi le tableau $t = [[1, 5, 7], [8, 4, 2], [3, 9, 6]]$

Quel jeu d'indices permet d'obtenir l'élément "9" de ce tableau ?

Réponses

- A $t[3][2]$
- B $t[2][3]$
- C $t[1][2]$
- D $t[2][1]$



Question B.5

On définit en Python la fonction suivante :

```
def f(L):  
    S = []  
    for i in range(len(L)-1):  
        S.append(L[i] + L[i+1])  
    return S
```

Quelle est la liste renvoyée par `f([1, 2, 3, 4, 5, 6])` ?

Réponses

- A [3, 5, 7, 9, 11, 13]
- B [1, 3, 5, 7, 9, 11]
- C [3, 5, 7, 9, 11]
- D cet appel de fonction déclenche un message d'erreur

Question B.6

On considère la liste de listes suivante :

```
tictactoe = [ ['X', 'O', 'O'],  
              ['O', 'O', 'O'],  
              ['O', 'O', 'X'] ]
```

Quelle instruction permet d'obtenir une diagonale de 'X' ?

Réponses

- A `tictactoe[3] = 'X'`
- B `tictactoe[4] = 'X'`
- C `tictactoe[1][1] = 'X'`
- D `tictactoe[2][2] = 'X'`

Modèle CCYC : ©DNE

Nom de famille (naissance) :


(Suivi s'il y a lieu, du nom d'usage)

Prénom(s) :

N° candidat : N° d'inscription :

(Les numéros figurent sur la convocation.)

Né(e) le : / /



1.1

Thème C : traitement de données en tables

Question C.1

On a défini :

```
mendeleiev = [ ['H', '.', '.', '.', '.', '.', '.', '.', '.', 'He'],
               ['Li', 'Be', 'B', 'C', 'N', 'O', 'F', 'Ne'],
               ['Na', 'Mg', 'Al', 'Si', 'P', 'S', 'Cl', 'Ar'],
               ..... ]
```

Comment construire la liste des gaz rares, c'est-à-dire la liste des éléments de la dernière colonne ?

Réponses

- A `gaz_rares=[periode[7] for periode in mendeleiev]`
- B `gaz_rares=[periode for periode in mendeleiev[7]]`
- C `gaz_rares=[periode for periode[7] in mendeleiev]`
- D `gaz_rares=[periode[8] for periode in mendeleiev]`

Question C.2

On considère la liste de p-uplets suivante :

```
table = [ ('Grace', 'Hopper', 'F', 1906),
          ('Tim', 'Berners-Lee', 'H', 1955),
          ('Ada', 'Lovelace', 'F', 1815),
          ('Alan', 'Turing', 'H', 1912) ]
```

où chaque p-uplet représente un informaticien ou une informaticienne célèbre ; le premier élément est son prénom, le deuxième élément son nom, le troisième élément son sexe ('H' pour un homme, 'F' pour une femme) et le quatrième élément son année de naissance (un nombre entier entre 1000 et 2000).

On définit une fonction :

```
def fonctionMystere(table):
    mystere = []
    for ligne in table:
        if ligne[2] == 'F':
            mystere.append(ligne[1])
    return mystere
```

Que vaut fonctionMystere(table) ?

Réponses

- A `['Grace', 'Ada']`
- B `[('Grace', 'Hopper', 'F', 1906), ('Ada', 'Lovelace', 'F', 1815)]`
- C `['Hopper', 'Lovelace']`
- D `[]`



Question C.3

Laquelle de ces affirmations est vraie ?

Réponses

- A on peut ouvrir un fichier CSV à l'aide d'un tableur
- B un fichier CSV permet de gérer l'apparence du code dans l'éditeur
- C un fichier CSV permet de gérer l'apparence d'une page HTML
- D un fichier CSV contient un programme à compiler

Question C.4

On utilise habituellement un fichier d'extension csv pour quel type de données ?

Réponses

- A des données structurées graphiquement
- B des données sonores
- C des données compressées
- D des données structurées en tableau

Question C.5

Qu'est-ce qu'un fichier CSV ?

Réponses

- A une librairie Python permettant l'affichage des images
- B un utilitaire de traitement d'image
- C un format d'image
- D un format de données

Question C.6

On considère une table de données <films> qui est une liste de dictionnaires "Titre", "Réalisateur", "Date".

Un enregistrement de la table contient un titre de film, le nom de son réalisateur et l'année de sortie du film.

```
films = [{"Titre": "ET", "Réalisateur": "Spielberg", "Date": 1982},  
         {"Titre": "Ready Player One", "Réalisateur": "Spielberg",  
          "Date": 2018},  
         {"Titre": "The Artist", "Réalisateur": "Hazanavicius", "Date":  
          2011},  
         ...]
```




Question D.2

Voici un extrait d'une page HTML :

```
<script>
  fonction sommeNombres(formulaire) {
    var somme = formulaire.n1.value + formulaire.n2.value;
    console.log(somme);
  }
</script>

<form>
  Nombre 1 : <input name="n1" value="30"> <br>
  Nombre 2 : <input name="n2" value="10"> <br>
  <input type="button" value="Somme" onclick="sommeNombres(this.form)">
</form>
```

Quand l'utilisateur clique sur le bouton Somme, le calcul de la fonction sommeNombres() se fait :

Réponses

- A uniquement dans le navigateur
- B uniquement sur le serveur qui héberge la page
- C à la fois dans le navigateur et sur le serveur
- D si le calcul est complexe, le navigateur demande au serveur de faire le calcul

Question D.3

Quelle méthode doit utiliser la requête envoyée au serveur lorsque vous entrez votre identifiant et votre mot de passe dans un formulaire sécurisé ?

Réponses

- A GET
- B POST
- C FORM
- D SUBMIT

Question D.4

Quelle URL parmi les suivantes témoigne que l'échange entre le navigateur et le serveur est chiffré ?

Réponses

- A <http://www.mabanque.com/>
- B <http://www.mabanque.fr/>
- C <https://www.mabanque.fr/>
- D <http://secure.mabanque.fr/>

Question D.5

Lors de la consultation d'une page HTML, contenant un bouton auquel est associée la fonction javascript suivante, que se passe-t-il quand on clique sur ce bouton ?

```
function action(event) {
  this.style.color = "red"
}
```

Réponses

- A le pointeur de souris devient rouge lorsqu'il arrive sur le bouton
- B le texte du bouton devient rouge
- C le texte du bouton est remplacé par le mot "red"
- D le texte de la page passe en rouge

Modèle CCYC : ©DNE
Nom de famille (naissance) :

--	--	--	--	--	--	--	--	--	--	--	--	--	--	--	--	--	--	--	--

(Suivi s'il y a lieu, du nom d'usage)

Prénom(s) :

--	--	--	--	--	--	--	--	--	--	--	--	--	--	--	--	--	--	--	--

N° candidat :


--	--	--	--	--	--	--	--	--	--

N° d'inscription :

--	--	--

(Les numéros figurent sur la convocation.)
Né(e) le :

		/			/				
--	--	---	--	--	---	--	--	--	--


Liberté • Égalité • Fraternité
 RÉPUBLIQUE FRANÇAISE

1.1

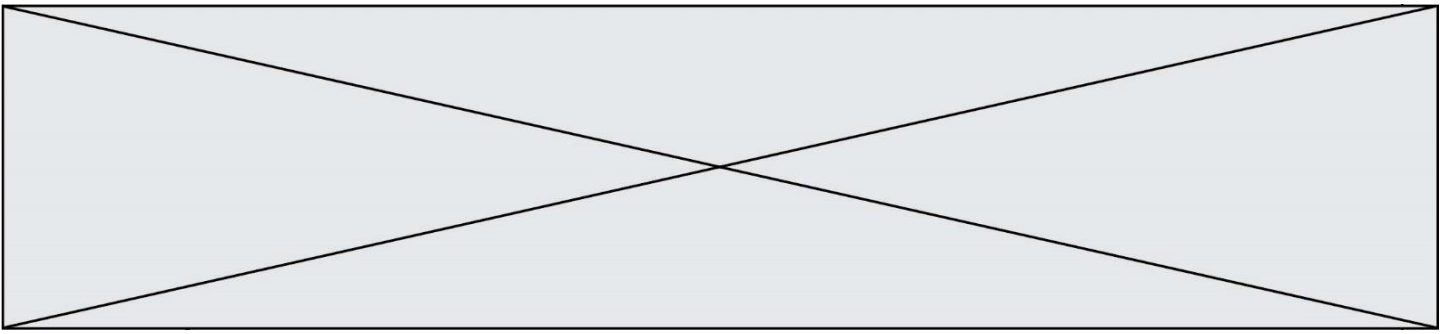
Question D.6

Quel langage est interprété ou exécuté côté serveur ?

Réponses

- A JavaScript
- B PHP
- C HTML
- D CSS





Thème E : architectures matérielles et systèmes d'exploitation

Question E.1

Que peut-on dire du système de fichier, suite à l'exécution des commandes suivantes ?

```
% cd
% ls
Documents Images Videos help.txt tutorial.txt script.py
% mv *.txt Documents
```

Réponses

- A L'utilisateur Documents a pris possession des fichiers `help.txt` et `tutorial.txt`
- B Le répertoire `/Documents` contient maintenant les fichiers `help.txt` et `tutorial.txt`
- C Le répertoire `Documents` du répertoire de l'utilisateur contient maintenant les fichiers `help.txt` et `tutorial.txt`
- D `script.py` a été exécuté et a déplacé les fichiers textes

Question E.2

Lequel de ces objets n'est pas un périphérique ?

Réponses

- A le clavier
- B une clé USB
- C la carte graphique
- D la carte mère

Question E.3

La commande suivante vient d'être exécutée en ligne de commande sous Linux :

```
cp /users/luc/interro.txt ./
```

Que réalise cette commande ?

Réponses


- A copie du fichier `users` vers le répertoire `luc`
- B copie du fichier `interro.txt` vers le répertoire `luc`
- C copie du fichier `interro.txt` vers le répertoire courant
- D copie du fichier `interro.txt` vers le répertoire `users`

Question E.4

Sous Linux, dans quel but utilise-t-on la commande `ls` ?

Réponses

- A pour afficher le chemin vers le répertoire courant
- B pour afficher les noms de fichiers et répertoires du répertoire courant
- C pour effacer un fichier
- D pour copier un fichier

Modèle CCYC : ©DNE																		
Nom de famille (naissance) : <small>(Suivi s'il y a lieu, du nom d'usage)</small>																		
Prénom(s) :																		
N° candidat :										N° d'inscription :								
 <small>Liberté • Égalité • Fraternité RÉPUBLIQUE FRANÇAISE</small>	<small>(Les numéros figurent sur la convocation.)</small>																	
Né(e) le :			/			/												

1.1

Question E.5

Dans l'architecture générale de Von Neumann, la partie qui a pour rôle d'effectuer les opérations de base est :

Réponses

- A l'unité de contrôle
- B la mémoire
- C l'unité arithmétique et logique
- D les dispositifs d'entrée-sortie

Question E.6

Parmi les commandes suivantes, laquelle permet à n'importe quel utilisateur d'exécuter le fichier appelé jeu ?

Réponses

- A `chmod u+x jeu`
- B `chmod u+rwx jeu`
- C `chmod a+x jeu`
- D `chmod a-x jeu`



Thème F : langages et programmation

Question F.1

n étant un entier strictement positif, la fonction suivante calcule sa factorielle, c'est-à-dire le produit $1 \times 2 \times 3 \times \dots \times (n-1) \times n$. Comment faut-il écrire la ligne en pointillée ci-dessous pour ce faire ?

```
def factorielle(n):  
    f = 1  
    .....  
    f = f * i  
    return f
```

Réponses

- A for i in range(1,n):
- B for i in range(n+1):
- C for i in range(0,n):
- D for i in range(1,n+1):

Question F.2

On définit la fonction suivante :

```
def f(x,y,z):  
    if x+y == z:  
        return True  
    else:  
        return False
```

Quel type de paramètres est-il déconseillé d'utiliser avec cette fonction ?

Réponses

- A les entiers
- B les chaînes de caractères
- C les flottants
- D les tableaux

Question F.3

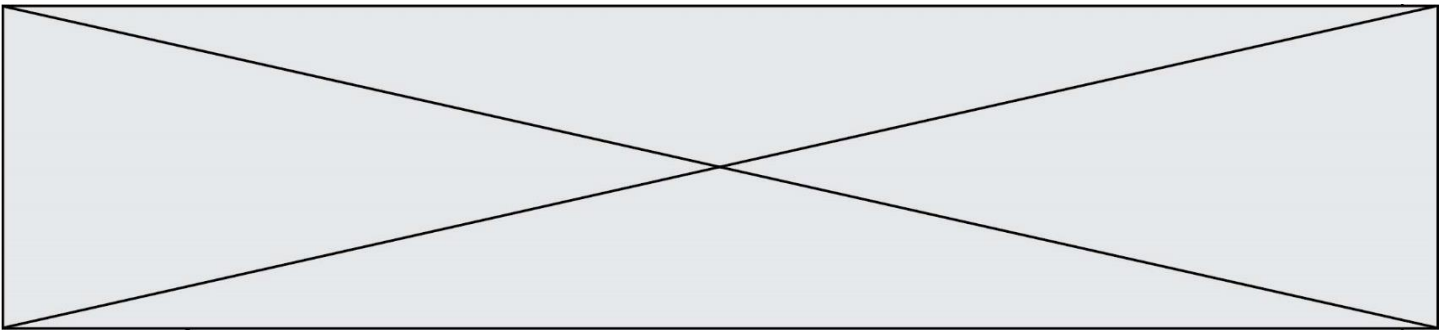
La documentation de la fonction `floor` de la bibliothèque `math` est :

```
floor(x)  
Return the floor of x as an Integral. This is the largest integer <= x.
```

Que vaut `floor(-2.2)` ?

Réponses

- A -2
- B -3
- C on obtient une erreur, car -2.2 n'est pas un entier
- D 2.2



Thème G : algorithmique

Question G.1

Un algorithme de recherche dichotomique dans une liste triée de taille n nécessite, dans le pire des cas, exactement k comparaisons.

Combien cet algorithme va-t-il utiliser, dans le pire des cas, de comparaisons sur une liste de taille $2n$?

Réponses

- A k
- B $k + 1$
- C $2k$
- D $2k + 1$

Question G.2

Un algorithme de tri d'une liste d'entiers est implémenté de la façon suivante :

```
def trier(L) :  
    for i in range(len(L)):  
        indice_min = i  
        for j in range(i+1, len(L)):  
            if L[j] < L[indice_min] :  
                indice_min = j  
            L[i], L[indice_min] = L[indice_min], L[i]  
            # assertion vraie à cet endroit  
    return L
```

Parmi les assertions suivantes laquelle reste vraie à chaque itération de la boucle, à l'endroit indiqué ci-dessus ?

Réponses

- A la sous-liste $L[0:i+1]$ contient les i plus grandes valeurs de L triées par ordre décroissant
- B la sous-liste $L[0:i+1]$ contient les i plus grandes valeurs de L triées par ordre croissant
- C la sous-liste $L[0:i+1]$ contient les i plus petites valeurs de L triées par ordre décroissant
- D la sous-liste $L[0:i+1]$ contient les i plus petites valeurs de L triées par ordre croissant

Question G.3

On définit la fonction suivante :

```
def traitement(liste) :  
    m = liste[0]  
    for i in range (len(liste)) :  
        if liste[i] > m:  
            m = liste[i]  
    return m
```

Que vaut `traitement([-2, 5, 6, -10, 35])` ?

Réponses

- A None
- B -10
- C -6
- D 35

Modèle CCYC : ©DNE

Nom de famille (naissance) :

(Suivi s'il y a lieu, du nom d'usage)

Prénom(s) :

N° candidat :

N° d'inscription :



Liberté • Égalité • Fraternité
RÉPUBLIQUE FRANÇAISE

Né(e) le :

(Les numéros figurent sur la convocation.)

1.1

Question G.4

On conçoit un algorithme permettant de déterminer la valeur maximale parmi une liste quelconque de valeurs comparables.

Pour une liste de 100 valeurs, le nombre minimal de comparaisons que doit effectuer cet algorithme est :

Réponses

- A 7
- B 99
- C 200
- D 10000

Question G.5

Qu'affiche le programme suivant :

```
a = 3
b = 4
if a > b and a == 3:
    print('vert')
if a > b and b == 4:
    print('rouge')
if a == 4 or b > a:
    print('bleu')
if a == 3 or a < b:
    print('jaune')
```

Réponses

- A vert
rouge
- B bleu
jaune
- C bleu
- D vert
jaune

Question G.6

Un algorithme est dit glouton si :

Réponses

- A Il consomme énormément de mémoire
- B Il contient de nombreuses lignes de code
- C Il s'inspire de la méthode de John Elwood Glouton
- D Il fait à chaque étape le choix localement optimum