

Modèle CCYC : ©DNE


Nom de famille (naissance) : (Suivi s'il y a lieu, du nom d'usage)

Prénom(s) :

N° candidat : N° d'inscription :

(Les numéros figurent sur la convocation.)

Né(e) le :



RÉPUBLIQUE FRANÇAISE

1.1

ÉVALUATION

CLASSE : Première

VOIE : Générale Technologique Toutes voies (LV)

ENSEIGNEMENT : spécialité Numérique et Sciences Informatiques (NSI)

DURÉE DE L'ÉPREUVE : 02 h 00

Niveaux visés (LV) : LVA LVB

Axes de programme :

CALCULATRICE AUTORISÉE : Oui Non

DICTIONNAIRE AUTORISÉ : Oui Non

Ce sujet contient des parties à rendre par le candidat avec sa copie. De ce fait, il ne peut être dupliqué et doit être imprimé pour chaque candidat afin d'assurer ensuite sa bonne numérisation.

Ce sujet intègre des éléments en couleur. S'il est choisi par l'équipe pédagogique, il est nécessaire que chaque élève dispose d'une impression en couleur.

Ce sujet contient des pièces jointes de type audio ou vidéo qu'il faudra télécharger et jouer le jour de l'épreuve.

Nombre total de pages : 19

L'épreuve consiste en 42 questions, rangées en 7 thèmes.

Pour chaque question, le candidat gagne 3 points s'il choisit la bonne réponse, perd 1 point s'il choisit une réponse fautive. S'il ne répond pas ou choisit plusieurs réponses, il ne gagne ni ne perd aucun point.

Le total sur chacun des 7 thèmes est ramené à 0 s'il est négatif.

La note finale s'obtient en divisant le total des points par 6,3 et en arrondissant à l'entier supérieur.

Le candidat indique ses réponses aux questions en pages 2 et 3.

Seules les pages 1 à 4 sont rendues par le candidat à la fin de l'épreuve, pour être numérisées.

Les questions figurent sur les pages suivantes.



Thème A : types de base

Réponse à la question 1	A <input type="checkbox"/>	B <input type="checkbox"/>	C <input type="checkbox"/>	D <input type="checkbox"/>
Réponse à la question 2	A <input type="checkbox"/>	B <input type="checkbox"/>	C <input type="checkbox"/>	D <input type="checkbox"/>
Réponse à la question 3	A <input type="checkbox"/>	B <input type="checkbox"/>	C <input type="checkbox"/>	D <input type="checkbox"/>
Réponse à la question 4	A <input type="checkbox"/>	B <input type="checkbox"/>	C <input type="checkbox"/>	D <input type="checkbox"/>
Réponse à la question 5	A <input type="checkbox"/>	B <input type="checkbox"/>	C <input type="checkbox"/>	D <input type="checkbox"/>
Réponse à la question 6	A <input type="checkbox"/>	B <input type="checkbox"/>	C <input type="checkbox"/>	D <input type="checkbox"/>

Thème B : types construits

Réponse à la question 1	A <input type="checkbox"/>	B <input type="checkbox"/>	C <input type="checkbox"/>	D <input type="checkbox"/>
Réponse à la question 2	A <input type="checkbox"/>	B <input type="checkbox"/>	C <input type="checkbox"/>	D <input type="checkbox"/>
Réponse à la question 3	A <input type="checkbox"/>	B <input type="checkbox"/>	C <input type="checkbox"/>	D <input type="checkbox"/>
Réponse à la question 4	A <input type="checkbox"/>	B <input type="checkbox"/>	C <input type="checkbox"/>	D <input type="checkbox"/>
Réponse à la question 5	A <input type="checkbox"/>	B <input type="checkbox"/>	C <input type="checkbox"/>	D <input type="checkbox"/>
Réponse à la question 6	A <input type="checkbox"/>	B <input type="checkbox"/>	C <input type="checkbox"/>	D <input type="checkbox"/>

Thème C : traitement de données en tables

Réponse à la question 1	A <input type="checkbox"/>	B <input type="checkbox"/>	C <input type="checkbox"/>	D <input type="checkbox"/>
Réponse à la question 2	A <input type="checkbox"/>	B <input type="checkbox"/>	C <input type="checkbox"/>	D <input type="checkbox"/>
Réponse à la question 3	A <input type="checkbox"/>	B <input type="checkbox"/>	C <input type="checkbox"/>	D <input type="checkbox"/>
Réponse à la question 4	A <input type="checkbox"/>	B <input type="checkbox"/>	C <input type="checkbox"/>	D <input type="checkbox"/>
Réponse à la question 5	A <input type="checkbox"/>	B <input type="checkbox"/>	C <input type="checkbox"/>	D <input type="checkbox"/>
Réponse à la question 6	A <input type="checkbox"/>	B <input type="checkbox"/>	C <input type="checkbox"/>	D <input type="checkbox"/>

Thème D : interactions entre l'homme et la machine sur le Web

Réponse à la question 1	A <input type="checkbox"/>	B <input type="checkbox"/>	C <input type="checkbox"/>	D <input type="checkbox"/>
Réponse à la question 2	A <input type="checkbox"/>	B <input type="checkbox"/>	C <input type="checkbox"/>	D <input type="checkbox"/>
Réponse à la question 3	A <input type="checkbox"/>	B <input type="checkbox"/>	C <input type="checkbox"/>	D <input type="checkbox"/>
Réponse à la question 4	A <input type="checkbox"/>	B <input type="checkbox"/>	C <input type="checkbox"/>	D <input type="checkbox"/>
Réponse à la question 5	A <input type="checkbox"/>	B <input type="checkbox"/>	C <input type="checkbox"/>	D <input type="checkbox"/>
Réponse à la question 6	A <input type="checkbox"/>	B <input type="checkbox"/>	C <input type="checkbox"/>	D <input type="checkbox"/>

Modèle CCYC : ©DNE

Nom de famille (naissance) :

(Suivi s'il y a lieu, du nom d'usage)

Prénom(s) :

N° candidat :

N° d'inscription :



Liberté • Égalité • Fraternité
RÉPUBLIQUE FRANÇAISE

Né(e) le :

(Les numéros figurent sur la convocation.)

1.1

Thème E : architectures matérielles et systèmes d'exploitation


- Réponse à la question 1 A B C D
- Réponse à la question 2 A B C D
- Réponse à la question 3 A B C D
- Réponse à la question 4 A B C D
- Réponse à la question 5 A B C D
- Réponse à la question 6 A B C D


Thème F : langages et programmation

- Réponse à la question 1 A B C D
- Réponse à la question 2 A B C D
- Réponse à la question 3 A B C D
- Réponse à la question 4 A B C D
- Réponse à la question 5 A B C D
- Réponse à la question 6 A B C D

Thème G : algorithmique

- Réponse à la question 1 A B C D
- Réponse à la question 2 A B C D
- Réponse à la question 3 A B C D
- Réponse à la question 4 A B C D
- Réponse à la question 5 A B C D
- Réponse à la question 6 A B C D







Question A.5

Parmi les caractères ci-dessous, lequel ne fait pas partie du code ASCII ?

Réponses

- A a
- B B
- C @
- D é

Question A.6

Quelle est la représentation décimale de l'entier négatif codé en complément à 2 sur un octet par 1100 1011 ?

Réponses

- A -84
- B -53
- C -35
- D -21

Modèle CCYC : ©DNE

Nom de famille (naissance) :

(Suivi s'il y a lieu, du nom d'usage)

Prénom(s) :

N° candidat :

N° d'inscription :



Liberté • Égalité • Fraternité
RÉPUBLIQUE FRANÇAISE

Né(e) le :

(Les numéros figurent sur la convocation.)

1.1

Thème B : types construits

Question B.1

Quelle instruction permet d'affecter la liste `[0, 1, 4, 9, 16]` à la variable `tableau` ?

Réponses

- A `tableau = [i**2 for i in range(4)]`
- B `tableau = [i**2 for i in range(5)]`
- C `tableau = [i**2 for i in range(16)]`
- D `tableau = [i**2 for i in range(17)]`

Question B.2

Soit une liste définie de la manière suivante : `liste = [18, 23, 45, 38, 12]`

On exécute l'instruction `liste.append(45)`, la liste a alors pour valeur :

Réponses

- A `[18, 23, 38, 12, 45]`
- B `[18, 23, 38, 12]`
- C `[45, 18, 23, 45, 38, 12]`
- D `[18, 23, 45, 38, 12, 45]`

Question B.3

On définit ainsi une liste `P` :

```
P = [ {"nom": "Turing", "prénom": "Alan", "âge": 28},  
      {"nom": "LoveLace", "prénom": "Ada", "âge": 27} ]
```

Comment accéder à la chaîne de caractères "Alan" ?

Réponses

- A `P[0]`
- B `P[1]`
- C `P[0]["prénom"]`
- D `P[1]["prénom"]`

Question B.4

Quelle est l'expression qui a pour valeur la liste `[1, 4, 9, 16, 25, 36]` ?

Réponses

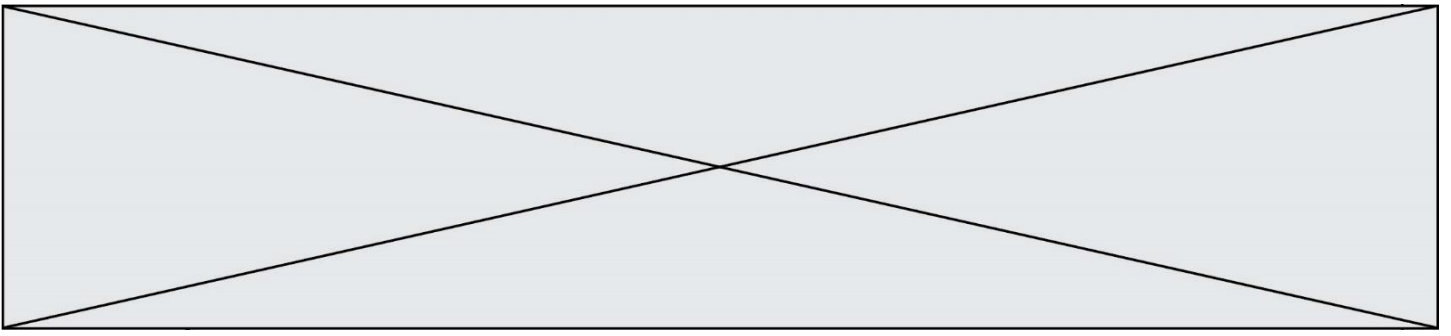
- A `{ n*n for n in range(1,7) }`
- B `{ n*n for n in range(6) }`
- C `[n*n for n in range(1,7)]`
- D `[n*n for n in range(6)]`

Question B.5

Quelle affectation permet de donner à `L` la valeur `[1, 9, 25, 49, 81]` ?

Réponses

- A `L = [i*2 for i in range(9) if i%2 == 0]`
- B `L = [i**2 for i in range(10) if i%2 == 0]`
- C `L = [i**2 for i in range(10) if i%2 == 1]`
- D `L = [i**2 for i in range(10) if i//2 == 1]`



Question B.6

Quelle est la valeur de :

[$x - y$ for x in range(4) for y in range(3) if $x > y$]

Réponses

- A [1, 2, 1, 3, 2, 1]
- B [1, 2, 3, 1, 2, 1]
- C [1, 2, 3, 3, 2, 1]
- D [1, 2, 1, 2, 3, 1]

Modèle CCYC : ©DNE

Nom de famille (naissance) :


(Suivi s'il y a lieu, du nom d'usage)

Prénom(s) :

N° candidat : N° d'inscription :

(Les numéros figurent sur la convocation.)

Né(e) le : / /



1.1

Thème C : traitement de données en tables

Question C.1

Par quelle expression remplacer les pointillés dans le programme Python suivant, pour que son exécution affiche le numéro de Dupond ?

```
repertoire = [{'nom': 'Dupont', 'tel': '5234'},
              {'nom': 'Tournesol', 'tel': '5248'}, {'nom': 'Dupond',
              'tel': '3452'}]
for i in range(len(repertoire)):
    if ..... :
        print(repertoire[i]['tel'])
```

Réponses

- A nom == 'Dupond'
- B repertoire['nom'] == 'Dupond'
- C repertoire[i] == 'Dupond'
- D repertoire[i]['nom'] == 'Dupond'

Question C.2

Quelle est la valeur de la variable `table` après exécution du programme Python suivant ?

```
table = [12, 43, 6, 22, 37]
for i in range(len(table) - 1):
    if table[i] > table[i+1]:
        table[i], table[i+1] = table[i+1], table[i]
```

Réponses

- A [6, 12, 22, 37, 43]
- B [12, 6, 22, 37, 43]
- C [43, 12, 22, 37, 6]
- D [43, 37, 22, 12, 6]

Question C.3

Quelle expression Python permet d'accéder au numéro de téléphone de Tournesol, sachant que le répertoire a été défini par l'affectation suivante :

```
repertoire = [{'nom': 'Dupont', 'tel': '5234'},
              {'nom': 'Tournesol', 'tel': '5248'}, {'nom': 'Dupond',
              'tel': '3452'}]
```

Réponses

- A repertoire['Tournesol']
- B repertoire['tel'][1]
- C repertoire[1]['tel']
- D repertoire['Tournesol']['tel']



Question C.4

Laquelle de ces affirmations est vraie ?

Réponses

- A on peut ouvrir un fichier CSV à l'aide d'un tableur
- B un fichier CSV permet de gérer l'apparence du code dans l'éditeur
- C un fichier CSV permet de gérer l'apparence d'une page HTML
- D un fichier CSV contient un programme à compiler

Question C.5

On a défini :

```
mendeleiev = [['H', ' ', ' ', ' ', ' ', ' ', ' ', ' ', 'He'],  
             ['Li', 'Be', 'B', 'C', 'N', 'O', 'F', 'Ne'],  
             ['Na', 'Mg', 'Al', 'Si', 'P', 'S', 'Cl', 'Ar'],  
             ..... ]
```

Une erreur s'est glissée dans le tableau, car le symbole du Fluor est F et non Fl. Quelle instruction permet de rectifier ce tableau ?

Réponses

- A `mendeleiev.append('F')`
- B `mendeleiev[1][6] = 'F'`
- C `mendeleiev[6][1] = 'F'`
- D `mendeleiev[-1][-1] = 'F'`

Question C.6

Parmi les extensions suivantes, laquelle caractérise un fichier contenant des données que l'on peut associer à un tableau de pixels ?

Réponses

- A pdf
- B xls
- C png
- D exe

Modèle CCYC : ©DNE

Nom de famille (naissance) :


(Suivi s'il y a lieu, du nom d'usage)

Prénom(s) :

N° candidat : N° d'inscription :

(Les numéros figurent sur la convocation.)

Né(e) le : / /



RÉPUBLIQUE FRANÇAISE

1.1

Thème D : interactions entre l'homme et la machine sur le Web

Question D.1

onmouseover est une méthode qui permet de traiter un événement de quel type ?

Réponses

- A l'appui d'une touche du clavier
- B un clic sur un bouton de souris
- C un mouvement de la souris
- D le survol par la souris d'un élément de la page

Question D.2

Comment doit-on procéder pour insérer des instructions en javascript dans un fichier html ?

Réponses

- A Il suffit de mettre les instructions entre les balises <javascript> et </javascript>
- B Il faut utiliser une balise <script>
- C Il faut les insérer dans le fichier CSS
- D Il est inutile de mettre des balises spéciales

Question D.3

Les pages HTML sont affichées par ...

Réponses

- A le compilateur
- B le serveur
- C l'interpréteur
- D le navigateur Web

Question D.4

Un élève a écrit une fonction javascript qui détermine la moyenne des valeurs entrées par l'utilisateur dans un formulaire de sa page HTML.

Il place sa fonction javascript :

Réponses

- A entre la balise <js> et la balise </js>
- B entre la balise <code> et la balise </code>
- C entre la balise <script> et la balise </script>
- D entre la balise <javascript> et la balise </javascript>



Question D.5

Une page Web contient un formulaire dont le code HTML est le suivant :

```
<form action="/action_page.php" method="post">  
  First name : <input type="text" name = "fname"><br>  
  Last name : <input type="text" name = "lname"><br>  
  <input type="submit" value="Submit">  
</form>
```

Que peut-on dire des informations transmises dans ce formulaire ?

Réponses

- A elles seront enregistrées dans l'historique du navigateur
- B elles seront enregistrées dans le cache du navigateur
- C elles ne devront pas dépasser une limite en nombre de caractères transmis
- D elles ne seront pas visibles dans la barre du navigateur

Question D.6

Quel est le nom d'un protocole qui permet à un client de faire une requête de page Web auprès d'un serveur ?

Réponses

- A WWW
- B FTP
- C HTTP
- D DNS

Modèle CCYC : ©DNE

Nom de famille (naissance) :


(Suivi s'il y a lieu, du nom d'usage)

Prénom(s) :

N° candidat : **N° d'inscription :**

(Les numéros figurent sur la convocation.)

Né(e) le : / /



1.1

Thème E : architectures matérielles et systèmes d'exploitation

Question E.1

Quel est l'élément qui ne fait pas partie de l'architecture du modèle de Von Neumann ?

Réponses

- A l'unité d'entrée
- B l'unité arithmétique et logique
- C la mémoire centrale
- D l'unité d'affichage

Question E.2

Sous UNIX, que va réaliser la ligne de commande `cat file.txt` ?

Réponses

- A rien du tout
- B l'affichage du contenu du fichier `file.txt` dans la console
- C la création d'un fichier `file.txt`
- D la suppression du fichier `file.txt`

Question E.3

Un ordinateur possède les caractéristiques matérielles suivantes :

- mémoire DDR SDRAM : 8 Go
- antémémoire (mémoire cache) : 1 Mo
- disque dur SSD : 1 To

Parmi les classements ci-dessous lequel est celui de l'accès mémoire le plus rapide au moins rapide ?

Réponses

- A Antémémoire puis SDRAM puis SSD
- B SSD puis Antémémoire puis SDRAM
- C SSD puis SDRAM puis Antémémoire
- D SDRAM puis SSD puis Antémémoire

Question E.4

En informatique, que signifie l'acronyme ROM ?

Réponses

- A Rewrite Only Memory
- B Reset Only Memory
- C Read Only Memory
- D Recall Only Memory



Question E.5

Le shell Linux renvoie ce résultat à la commande `ls -al` :

```
lrwxr--r-- 2 toto toto 807 juin 26 14:06 eclipse
drwxr-xr-x 2 toto toto 4096 juin 26 15:00 Doc_1
-rw-r-xr-x 2 toto toto 4096 juin 26 14:06 QCM
-rwxr-xr-x 2 toto toto 4096 juin 26 14:06 Doc_Travail
```

Quel est le nom du fichier du répertoire courant, de taille 4096 octets, exécutable par son propriétaire ?

Réponses

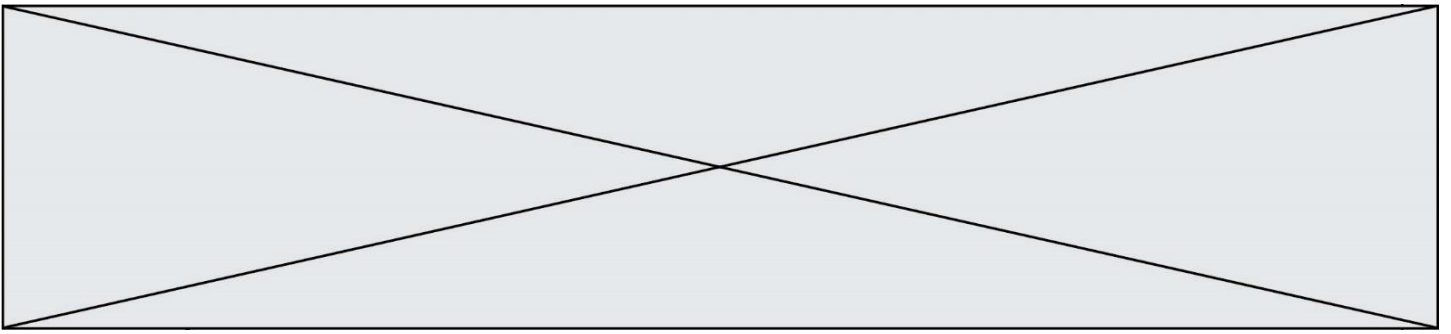
- A eclipse
- B Doc_1
- C QCM
- D Doc_Travail

Question E.6

Un protocole est un ensemble de ...

Réponses

- A matériels connectés entre eux
- B serveurs et de clients connectés entre eux
- C règles qui régissent les échanges entre équipements informatiques
- D règles qui régissent les échanges entre un système d'exploitation et les applications



Question F.3

On exécute le script suivant :

```
a = 4
b = 4
c = 4
while a < 5:
    a = a - 1
    b = b + 1
    c = c * b
```

Que peut-on dire ?

Réponses

- A ce programme ne termine pas
- B à la fin de l'exécution, la variable a vaut 5
- C à la fin de l'exécution, la variable b vaut 34
- D à la fin de l'exécution, la variable c vaut 42

Question F.4

Quelle est la valeur de la variable b à la fin de l'exécution du script suivant ?

```
a = 2
b = 5
if a > 8:
    b = 10
elif a > 6:
    b = 3
```

Réponses

- A 3
- B 5
- C 6
- D 10

Question F.5

Remplacer les pointillés par l'expression correcte pour que la fonction suivante renvoie le plus petit écart entre deux éléments d'une liste de 10 entiers :

```
def plusPetitEcart(L):
    m = abs(L[1] - L[0])
    for i in range(0, 9):
        for j in ..... :
            ecart = abs(L[j] - L[i])
            if ecart < m:
                m = ecart
    return m
```

Réponses

- A range(0,10)
- B range(0,i)
- C range(i,10)
- D range(i+1,10)

Modèle CCYC : ©DNE

Nom de famille (naissance) :


(Suivi s'il y a lieu, du nom d'usage)

Prénom(s) :

N° candidat : **N° d'inscription** :

(Les numéros figurent sur la convocation.)

Né(e) le : / /



1.1

Question F.6

On considère l'instruction suivante :

$$\text{resultat} = [0] * 7$$

Que contient la variable resultat après son exécution ?

Réponses

- A 0
- B [0]
- C [[0], [0], [0], [0], [0], [0], [0]]
- D [0, 0, 0, 0, 0, 0, 0]



Thème G : algorithmique

Question G.1

À quelle catégorie appartient l'algorithme des k plus proches voisins ?

Réponses

- A algorithmes de tri
- B algorithmes gloutons
- C algorithmes de recherche de chemins
- D algorithmes de classification et d'apprentissage

Question G.2

Pour pouvoir utiliser un algorithme de recherche par dichotomie dans une liste, quelle précondition doit être vraie ?

Réponses

- A la liste doit être triée
- B la liste ne doit pas comporter de doublons
- C la liste doit comporter uniquement des entiers positifs
- D la liste doit être de longueur inférieure à 1024

Question G.3

Quelle est la complexité du tri par sélection ?

Réponses

- A inconnue
- B linéaire
- C quadratique
- D exponentielle

Question G.4

a et m étant deux entiers supérieurs à 1, la fonction suivante renvoie a^m .

```
def puissance(a, m) :  
    p = 1  
    n = 0  
    while n < m:  
        #  
        p = p * a  
        n = n + 1  
    return p
```

Quelle est l'égalité qui est vérifiée à chaque passage par la ligne marquée # ?

Réponses

- A $p = a^{n-1}$
- B $p = a^n$
- C $p = a^{n+1}$
- D $p = a^m$

Modèle CCYC : ©DNE

Nom de famille (naissance) :


(Suivi s'il y a lieu, du nom d'usage)

Prénom(s) :

N° candidat : N° d'inscription :

(Les numéros figurent sur la convocation.)

Né(e) le : / /



1..1

Question G.5

Quelle précondition suppose l'algorithme de recherche dichotomique dans un tableau ?

Réponses

- A que le tableau soit à éléments positifs
- B que le tableau soit trié
- C que l'élément cherché dans le tableau soit positif
- D que l'élément cherché figure effectivement dans le tableau

Question G.6

Quelle est la valeur du couple (s, i) à la fin de l'exécution du script suivant ?

```
s = 0
i = 1
while i < 5:
    s = s + i
    i = i + 1
```

Réponses

- A (4, 5)
- B (10, 4)
- C (10, 5)
- D (15, 5)