

Modèle CCYC : ©DNE

Nom de famille (naissance) :

(Suivi s'il y a lieu, du nom d'usage)

Prénom(s) :

N° candidat : N° d'inscription :

(Les numéros figurent sur la convocation.)

Né(e) le : / /



Liberté • Égalité • Fraternité
RÉPUBLIQUE FRANÇAISE

1.1

ÉVALUATION

CLASSE : Première

VOIE : Générale Technologique Toutes voies (LV)

ENSEIGNEMENT : spécialité Numérique et Sciences Informatiques (NSI)

DURÉE DE L'ÉPREUVE : 02 h 00

Niveaux visés (LV) : LVA LVB

Axes de programme :

CALCULATRICE AUTORISÉE : Oui Non

DICTIONNAIRE AUTORISÉ : Oui Non

Ce sujet contient des parties à rendre par le candidat avec sa copie. De ce fait, il ne peut être dupliqué et doit être imprimé pour chaque candidat afin d'assurer ensuite sa bonne numérisation.

Ce sujet intègre des éléments en couleur. S'il est choisi par l'équipe pédagogique, il est nécessaire que chaque élève dispose d'une impression en couleur.

Ce sujet contient des pièces jointes de type audio ou vidéo qu'il faudra télécharger et jouer le jour de l'épreuve.

Nombre total de pages : 19

L'épreuve consiste en 42 questions, rangées en 7 thèmes.

Pour chaque question, le candidat gagne 3 points s'il choisit la bonne réponse, perd 1 point s'il choisit une réponse fautive. S'il ne répond pas ou choisit plusieurs réponses, il ne gagne ni ne perd aucun point.

Le total sur chacun des 7 thèmes est ramené à 0 s'il est négatif.

La note finale s'obtient en divisant le total des points par 6,3 et en arrondissant à l'entier supérieur.

Le candidat indique ses réponses aux questions en pages 2 et 3.

Seules les pages 1 à 4 sont rendues par le candidat à la fin de l'épreuve, pour être numérisées.

Les questions figurent sur les pages suivantes.



Thème A : types de base

Réponse à la question 1	A <input type="checkbox"/>	B <input type="checkbox"/>	C <input type="checkbox"/>	D <input type="checkbox"/>
Réponse à la question 2	A <input type="checkbox"/>	B <input type="checkbox"/>	C <input type="checkbox"/>	D <input type="checkbox"/>
Réponse à la question 3	A <input type="checkbox"/>	B <input type="checkbox"/>	C <input type="checkbox"/>	D <input type="checkbox"/>
Réponse à la question 4	A <input type="checkbox"/>	B <input type="checkbox"/>	C <input type="checkbox"/>	D <input type="checkbox"/>
Réponse à la question 5	A <input type="checkbox"/>	B <input type="checkbox"/>	C <input type="checkbox"/>	D <input type="checkbox"/>
Réponse à la question 6	A <input type="checkbox"/>	B <input type="checkbox"/>	C <input type="checkbox"/>	D <input type="checkbox"/>

Thème B : types construits

Réponse à la question 1	A <input type="checkbox"/>	B <input type="checkbox"/>	C <input type="checkbox"/>	D <input type="checkbox"/>
Réponse à la question 2	A <input type="checkbox"/>	B <input type="checkbox"/>	C <input type="checkbox"/>	D <input type="checkbox"/>
Réponse à la question 3	A <input type="checkbox"/>	B <input type="checkbox"/>	C <input type="checkbox"/>	D <input type="checkbox"/>
Réponse à la question 4	A <input type="checkbox"/>	B <input type="checkbox"/>	C <input type="checkbox"/>	D <input type="checkbox"/>
Réponse à la question 5	A <input type="checkbox"/>	B <input type="checkbox"/>	C <input type="checkbox"/>	D <input type="checkbox"/>
Réponse à la question 6	A <input type="checkbox"/>	B <input type="checkbox"/>	C <input type="checkbox"/>	D <input type="checkbox"/>

Thème C : traitement de données en tables

Réponse à la question 1	A <input type="checkbox"/>	B <input type="checkbox"/>	C <input type="checkbox"/>	D <input type="checkbox"/>
Réponse à la question 2	A <input type="checkbox"/>	B <input type="checkbox"/>	C <input type="checkbox"/>	D <input type="checkbox"/>
Réponse à la question 3	A <input type="checkbox"/>	B <input type="checkbox"/>	C <input type="checkbox"/>	D <input type="checkbox"/>
Réponse à la question 4	A <input type="checkbox"/>	B <input type="checkbox"/>	C <input type="checkbox"/>	D <input type="checkbox"/>
Réponse à la question 5	A <input type="checkbox"/>	B <input type="checkbox"/>	C <input type="checkbox"/>	D <input type="checkbox"/>
Réponse à la question 6	A <input type="checkbox"/>	B <input type="checkbox"/>	C <input type="checkbox"/>	D <input type="checkbox"/>

Thème D : interactions entre l'homme et la machine sur le Web

Réponse à la question 1	A <input type="checkbox"/>	B <input type="checkbox"/>	C <input type="checkbox"/>	D <input type="checkbox"/>
Réponse à la question 2	A <input type="checkbox"/>	B <input type="checkbox"/>	C <input type="checkbox"/>	D <input type="checkbox"/>
Réponse à la question 3	A <input type="checkbox"/>	B <input type="checkbox"/>	C <input type="checkbox"/>	D <input type="checkbox"/>
Réponse à la question 4	A <input type="checkbox"/>	B <input type="checkbox"/>	C <input type="checkbox"/>	D <input type="checkbox"/>
Réponse à la question 5	A <input type="checkbox"/>	B <input type="checkbox"/>	C <input type="checkbox"/>	D <input type="checkbox"/>
Réponse à la question 6	A <input type="checkbox"/>	B <input type="checkbox"/>	C <input type="checkbox"/>	D <input type="checkbox"/>

Nom de famille (naissance) :
(Suivi s'il y a lieu, du nom d'usage)

--	--	--	--	--	--	--	--	--	--	--	--	--	--	--	--	--	--	--	--	--	--

Prénom(s) :

--	--	--	--	--	--	--	--	--	--	--	--	--	--	--	--	--	--	--	--	--	--

N° candidat :

--	--	--	--	--	--	--	--	--	--	--	--	--	--	--	--	--

N° d'inscription :

--	--	--	--

(Les numéros figurent sur la convocation.)



Né(e) le :

		/			/				
--	--	---	--	--	---	--	--	--	--

Thème E : architectures matérielles et systèmes d'exploitation


Réponse à la question 1	A <input type="checkbox"/>	B <input type="checkbox"/>	C <input type="checkbox"/>	D <input type="checkbox"/>
Réponse à la question 2	A <input type="checkbox"/>	B <input type="checkbox"/>	C <input type="checkbox"/>	D <input type="checkbox"/>
Réponse à la question 3	A <input type="checkbox"/>	B <input type="checkbox"/>	C <input type="checkbox"/>	D <input type="checkbox"/>
Réponse à la question 4	A <input type="checkbox"/>	B <input type="checkbox"/>	C <input type="checkbox"/>	D <input type="checkbox"/>
Réponse à la question 5	A <input type="checkbox"/>	B <input type="checkbox"/>	C <input type="checkbox"/>	D <input type="checkbox"/>
Réponse à la question 6	A <input type="checkbox"/>	B <input type="checkbox"/>	C <input type="checkbox"/>	D <input type="checkbox"/>

Thème F : langages et programmation

Réponse à la question 1	A <input type="checkbox"/>	B <input type="checkbox"/>	C <input type="checkbox"/>	D <input type="checkbox"/>
Réponse à la question 2	A <input type="checkbox"/>	B <input type="checkbox"/>	C <input type="checkbox"/>	D <input type="checkbox"/>
Réponse à la question 3	A <input type="checkbox"/>	B <input type="checkbox"/>	C <input type="checkbox"/>	D <input type="checkbox"/>
Réponse à la question 4	A <input type="checkbox"/>	B <input type="checkbox"/>	C <input type="checkbox"/>	D <input type="checkbox"/>
Réponse à la question 5	A <input type="checkbox"/>	B <input type="checkbox"/>	C <input type="checkbox"/>	D <input type="checkbox"/>
Réponse à la question 6	A <input type="checkbox"/>	B <input type="checkbox"/>	C <input type="checkbox"/>	D <input type="checkbox"/>

Thème G : algorithmique

Réponse à la question 1	A <input type="checkbox"/>	B <input type="checkbox"/>	C <input type="checkbox"/>	D <input type="checkbox"/>
Réponse à la question 2	A <input type="checkbox"/>	B <input type="checkbox"/>	C <input type="checkbox"/>	D <input type="checkbox"/>
Réponse à la question 3	A <input type="checkbox"/>	B <input type="checkbox"/>	C <input type="checkbox"/>	D <input type="checkbox"/>
Réponse à la question 4	A <input type="checkbox"/>	B <input type="checkbox"/>	C <input type="checkbox"/>	D <input type="checkbox"/>
Réponse à la question 5	A <input type="checkbox"/>	B <input type="checkbox"/>	C <input type="checkbox"/>	D <input type="checkbox"/>
Réponse à la question 6	A <input type="checkbox"/>	B <input type="checkbox"/>	C <input type="checkbox"/>	D <input type="checkbox"/>



Modèle CCYC : ©DNE

Nom de famille (naissance) :

(Suivi s'il y a lieu, du nom d'usage)

Prénom(s) :

N° candidat : N° d'inscription :

(Les numéros figurent sur la convocation.)

Né(e) le : / /



1.1

Thème A : types de base

Question A.1

Si A et B sont des variables booléennes, laquelle de ces expressions booléennes est équivalente à (not A) or B ?

Réponses

- A (A and B) or (not A and B)
- B (A and B) or (not A and B) or (not A and not B)
- C (not A and B) or (not A and not B)
- D (A and B) or (not A and not B)

Question A.2

Parmi les nombres suivants, quel est celui dont la représentation sous forme de nombre flottant peut être écrite de manière exacte avec un nombre fini de chiffres en base 2 ?

Réponses

- A 1/5
- B 1/6
- C 1/7
- D 1/8

Question A.3

L'entier positif 255 se représente en hexadécimal (base 16) par :

Réponses

- A 99
- B AA
- C CC
- D FF

Question A.4

La variable x contient la valeur 3, la variable y contient la variable 4.
Quelle expression s'évalue en TRUE parmi les quatre propositions suivantes ?

Réponses

- A $x == 3$ or $y == 5$
- B $x == 3$ and $y == 5$
- C $x != 3$ or $y == 5$
- D $y < 4$



Question A.5

Quelle est l'écriture décimale de l'entier positif dont l'écriture hexadécimale (en base 16) est 3F ?

Réponses

- A 18
- B 45
- C 63
- D 315

Question A.6

On exécute le code suivant

```
a = 2
b = 3
c = a ** b
d = c % b
```

Quelle est la valeur de d à la fin de l'exécution ?

Réponses

- A 1
- B 2
- C 3
- D 4



Question B.3

On définit :

```
L = [ ["lundi",10,0.87], ["mardi",11,0.82], ["mercredi",12,0.91] ]
```

Quel est le type de la variable a définie par `a = L[1][2]` ?

Réponses

- A nombre entier
- B liste
- C nombre flottant
- D chaîne de caractères

Question B.4

On définit le dictionnaire `d = {'a': 1, 'b': 2, 'c': 3, 'z': 26}`. Quelle expression permet de récupérer la valeur de la clé 'z' ?

Réponses

- A `d[4]`
- B `d[26]`
- C `d[z]`
- D `d['z']`

Question B.5

On définit : `L = [10,9,8,7,6,5,4,3,2,1]`.

Quelle est la valeur de `L[L[3]]` ?

Réponses

- A 3
- B 4
- C 7
- D 8

Question B.6

Considérons le tableau suivant :

```
tableau = [ [i+2*j for j in range(4)] for i in range(4)]
```

Quelle est la valeur de l'expression `tableau[1]` ?

Réponses

- A `[0,1,2,3]`
- B `[1,2,3,4]`
- C `[0,2,4,6]`
- D `[1,3,5,7]`

Modèle CCYC : ©DNE

Nom de famille (naissance) :


(Suivi s'il y a lieu, du nom d'usage)

Prénom(s) :

N° candidat : N° d'inscription :

(Les numéros figurent sur la convocation.)

Né(e) le : / /



RÉPUBLIQUE FRANÇAISE

1.1

Thème C : traitement de données en tables

Question C.1

Quelle expression Python permet d'accéder au numéro de téléphone de Tournesol, sachant que le répertoire a été défini par l'affectation suivante :

```
repertoire = [{'nom': 'Dupont', 'tel': '5234'},
              {'nom': 'Tournesol', 'tel': '5248'},
              {'nom': 'Dupond', 'tel': '3452'}]
```

Réponses

- A repertoire['Tournesol']
- B repertoire['tel'][1]
- C repertoire[1]['tel']
- D repertoire['Tournesol']['tel']

Question C.2

On a défini :

```
mendeleiev = [['H', 'He'],
              ['Li', 'Be', 'B', 'C', 'N', 'O', 'F', 'Ne'],
              ['Na', 'Mg', 'Al', 'Si', 'P', 'S', 'Cl', 'Ar'],
              .....]
```

Une erreur s'est glissée dans le tableau, car le symbole du Fluor est F et non FI. Quelle instruction permet de rectifier ce tableau ?

Réponses

- A mendeleiev.append('F')
- B mendeleiev[1][6] = 'F'
- C mendeleiev[6][1] = 'F'
- D mendeleiev[-1][-1] = 'F'

Question C.3

Quelle est la valeur de la variable `image` après exécution du programme Python suivant ?

```
image = [[0, 0, 0, 0], [0, 0, 0, 0], [0, 0, 0, 0], [0, 0, 0, 0]]
for i in range(4):
    for j in range(4):
        if (i+j) == 3:
            image[i][j] = 1
```

Réponses

- A [[0, 0, 0, 0], [0, 0, 0, 0], [0, 0, 0, 0], [1, 1, 1, 1]]
- B [[0, 0, 0, 1], [0, 0, 0, 1], [0, 0, 0, 1], [0, 0, 0, 1]]
- C [[0, 0, 0, 1], [0, 0, 1, 0], [0, 1, 0, 0], [1, 0, 0, 0]]
- D [[0, 0, 0, 1], [0, 0, 1, 1], [0, 1, 1, 1], [1, 1, 1, 1]]



Question C.4

Laquelle de ces listes de chaînes de caractères est triée en ordre croissant ?

Réponses

- A ['Chat', 'Chien', 'Cheval', 'Cochon']
- B ['Chat', 'Cheval', 'Chien', 'Cochon']
- C ['Chien', 'Cheval', 'Cochon', 'Chat']
- D ['Cochon', 'Chien', 'Cheval', 'Chat']

Question C.5

On définit une table d'élèves et une liste finale de la façon suivante :

```
table_eleves = [ {"prenom": "Ada", "nom" : "Lovelace", "age" : 17},  
                 {"prenom": "Charles", "nom" : "Babbage", "age" : 18},  
                 {"prenom": "John", "nom" : "Von Neumann", "age" : 16} ]  
liste_finale = [ eleve for eleve in table_eleves if eleve["age"] >= 18 ]
```

Que contient cette liste finale ?

Réponses

- A La liste des prénoms des élèves majeurs de la table.
- B La liste des âges des élèves majeurs de la table.
- C La liste des élèves majeurs de la table, chaque élément de la liste étant représenté par un dictionnaire.
- D La liste des élèves majeurs de la table, chaque élément de la liste étant représenté par une liste.

Question C.6

Quelle est la valeur de la variable `table` à la fin de l'exécution du script suivant :

```
table = [[1, 2, 3], [1, 2, 3], [1, 2, 3], [1, 2, 3]]  
table [1][2] = 5
```

Réponses

- A [[1, 5, 3], [1, 2, 3], [1, 2, 3], [1, 2, 3]]
- B [[1, 2, 3], [5, 2, 3], [1, 2, 3], [1, 2, 3]]
- C [[1, 2, 3], [1, 2, 5], [1, 2, 3], [1, 2, 3]]
- D [[1, 2, 3], [1, 2, 3], [1, 2, 3], [1, 5, 3]]

Modèle CCYC : ©DNE

Nom de famille (naissance) :


(Suivi s'il y a lieu, du nom d'usage)

Prénom(s) :

N° candidat : **N° d'inscription :**

(Les numéros figurent sur la convocation.)

Né(e) le : / /

 Liberté • Égalité • Fraternité
RÉPUBLIQUE FRANÇAISE

1.1

Thème D : interactions entre l'homme et la machine sur le Web

Question D.1

Par quoi commence l'URL d'une page Web sécurisée ?

Réponses

- A http
- B https
- C ftp
- D smtp

Question D.2

Lequel des termes suivants ne désigne pas un protocole de transmission par un réseau :

Réponses

- A HTTP
- B WWW
- C TCP
- D IP

Question D.3

Comment doit-on procéder pour insérer des instructions en javascript dans un fichier html ?

Réponses

- A Il suffit de mettre les instructions entre les balises `<javascript>` et `</javascript>`
- B Il faut utiliser une balise `<script>`
- C Il faut les insérer dans le fichier CSS
- D Il est inutile de mettre des balises spéciales

Question D.4

Un élément `form` (un formulaire) d'une page HTML contient un élément `button` de type `submit`. Un clic sur ce bouton :

Réponses

- A envoie les données du formulaire vers la page définie par l'attribut `action` de l'élément `form`
- B efface les données entrées par l'utilisateur dans le formulaire
- C envoie les données du formulaire vers la page définie par l'attribut `method` de l'élément `form`
- D ne fait rien du tout si un script javascript n'est pas associé au bouton

Question D.5

Que peut-on comprendre en lisant l'URL :
`https://www.myfalselink.com/results?search_query=NSI ?`

Réponses

- A Le protocole utilisé pour naviguer est sécurisé
- B Une recherche sur le mot NSI a été faite mais il n'y a pas de réponse
- C Ce site est situé dans un pays anglophone
- D Le lien ne fonctionnera pas car le caractère '?' n'est pas autorisé dans une URL



Question D.6

Quelle est la machine qui va exécuter un programme JavaScript inclus dans une page HTML ?

Réponses

- A la machine de l'utilisateur sur laquelle s'exécute le navigateur Web
- B le serveur Web sur lequel est stockée la page HTML
- C la machine de l'utilisateur ou du serveur, selon celle qui est la plus disponible
- D la machine de l'utilisateur ou du serveur, suivant la confidentialité des données manipulées

Modèle CCYC : ©DNE

Nom de famille (naissance) :

(Suivi s'il y a lieu, du nom d'usage)

Prénom(s) :

N° candidat : N° d'inscription :

(Les numéros figurent sur la convocation.)

Né(e) le : / /



1.1

Thème E : architectures matérielles et systèmes d'exploitation

Question E.1

Pour renommer un fichier `text1.txt` en `text1.old` dans un même répertoire, quelle commande faut-il utiliser ?

Réponses

- A `mv text1.txt ../text1.old`
- B `mv text1.txt text1.old`
- C `cp text1.txt text1.old`
- D `lns text1.txt text1.old`

Question E.2

Par quelle ligne de commande peut-on créer, sous le système d'exploitation Linux, trois répertoires nommés : JAVA, PYTHON et PHP ?

Réponses

- A `mkdir JAVA, PYTHON, PHP`
- B `mk -dir JAVA PYTHON PHP`
- C `mkdir JAVA PYTHON PHP`
- D `mk dir JAVA PYTHON PHP`

Question E.3

Sachant que `hibou` est un fichier présent dans le répertoire courant, quel est l'effet de la commande suivante : `mv hibou chouette`

Réponses

- A déplacer le fichier `hibou` dans le répertoire `chouette`
- B ajouter le contenu du fichier `hibou` à la fin du fichier `chouette`
- C renommer le fichier `hibou` en `chouette`
- D créer le fichier `chouette`, copie du fichier `hibou`

Question E.4

Comment s'appelle l'ensemble des règles qui régissent les échanges sur Internet ?

Réponses

- A les couches
- B le wifi
- C les protocoles
- D les commutateurs



Question E.5

Depuis le répertoire `/home/ubuntu/` on exécute la commande

```
mkdir ./Documents/Holidays
```

Quel est son effet ?

Réponses

- A supprimer le dossier `Holidays` situé dans `Documents`
- B changer de répertoire pour se retrouver dans le répertoire `/home/Documents/Holidays`
- C créer un dossier `Holidays` dans le répertoire `/home/ubuntu/Documents`
- D lister le contenu du répertoire `Holidays` de `Documents`

Question E.6

Laquelle des mémoires suivantes est volatile ?

Réponses

- A RAM
- B disque dur
- C ROM
- D clef USB

Modèle CCYC : ©DNE

Nom de famille (naissance) :

(Suivi s'il y a lieu, du nom d'usage)

Prénom(s) :

N° candidat :

N° d'inscription :



Liberté • Égalité • Fraternité
RÉPUBLIQUE FRANÇAISE

Né(e) le :

(Les numéros figurent sur la convocation.)

1.1

Thème F : langages et programmation

Question F.1

Quelle est la valeur de la variable `b` à la fin de l'exécution du script suivant ?

```
a = 2
b = 5
if a > 8:
    b = 10
elif a > 6:
    b = 3
```

Réponses

- A 3
- B 5
- C 6
- D 10

Question F.2

Voici un programme en Python :

```
tableau = [8, 1, 6, 6, 9, 6, 9, 3, 8, 6, 3, 4, 9, 6, 7, 1]
m = -1
rang = -1
for i in range(len(tableau)):
    if m <= tableau[i]:
        m = tableau[i]
        rang = i
```

Quelle est la valeur du couple `(m, rang)` à la fin de l'exécution du programme ?

Réponses

- A (1,1)
- B (1,15)
- C (9,4)
- D (9,12)



Question F.3

On a défini une fonction `somme` qui doit calculer la somme des éléments de la liste passée en argument de la façon suivante :

```
def somme(L):  
    s = L[0]  
    for i in range(len(L)):  
        s = s + L[i]  
    return s
```

Cette fonction a été mal programmée. Quel appel parmi les suivants permet de mettre en évidence son incorrection ?

Réponses

- A `somme([0,0,0,0])`
- B `somme([0,1,2,3])`
- C `somme([0,3,2,1])`
- D `somme([3,2,1,0])`

Question F.4

n étant un entier strictement positif, la fonction suivante calcule sa factorielle, c'est-à-dire le produit $1 \times 2 \times 3 \times \dots \times (n-1) \times n$. Comment faut-il écrire la ligne en pointillée ci-dessous pour ce faire ?

```
def factorielle(n):  
    f = 1  
    .....  
    f = f * i  
    return f
```

Réponses

- A `for i in range(1,n):`
- B `for i in range(n+1):`
- C `for i in range(0,n):`
- D `for i in range(1,n+1):`

Question F.5

On considère l'instruction suivante :

```
resultat = [0] * 7
```

Que contient la variable `resultat` après son exécution ?

Réponses

- A 0
- B [0]
- C [[0], [0], [0], [0], [0], [0], [0]]
- D [0, 0, 0, 0, 0, 0, 0]

Modèle CCYC : ©DNE

Nom de famille (naissance) :


(Suivi s'il y a lieu, du nom d'usage)

Prénom(s) :

N° candidat : N° d'inscription :

(Les numéros figurent sur la convocation.)

Né(e) le : / /



RÉPUBLIQUE FRANÇAISE

1.1

Question F.6

On considère la fonction ci-dessous :

```

def maFonction(c):
    if c <= 10:
        p = 12
    if c <= 18:
        p = 15
    if c <= 40:
        p = 19
    else:
        p = 20
    return p

```

Que renvoie `maFonction(18)` ?

Réponses

- A 12
- B 15
- C 19
- D 20



Thème G : algorithmique

Question G.1

Quelle est la valeur de X/m à la fin de l'exécution du code suivant :

```
L = [1, 2, 3, 4, 1, 2, 3, 4, 0, 2]
```

```
X = 0
m = 0
for k in L:
    X = X + k
    m = m + 1
```

Réponses

- A 2
- B 2.2
- C 10
- D 22

Question G.2

Pour trier par sélection une liste de 2500 entiers, le nombre de comparaisons nécessaires à l'algorithme est de l'ordre de :

Réponses

- A $\sqrt{2500}$
- B 2500
- C 2500^2
- D 2^{2500}

Question G.3

À quelle catégorie appartient l'algorithme classique de rendu de monnaie ?

Réponses

- A les algorithmes de classification et d'apprentissage
- B les algorithmes de tri
- C les algorithmes gloutons
- D les algorithmes de mariages stables

Modèle CCYC : ©DNE

Nom de famille (naissance) :


(Suivi s'il y a lieu, du nom d'usage)

Prénom(s) :

N° candidat : N° d'inscription :

(Les numéros figurent sur la convocation.)

Né(e) le : / /



Liberté • Égalité • Fraternité
RÉPUBLIQUE FRANÇAISE

1.1

Question G.4

Un algorithme de tri d'une liste d'entiers est implémenté de la façon suivante :

```
def trier(L) :
    for i in range(len(L)):
        indice_min = i
        for j in range(i+1, len(L)):
            if L[j] < L[indice_min] :
                indice_min = j
        L[i], L[indice_min] = L[indice_min], L[i]
        # assertion vraie à cet endroit
    return L
```

Parmi les assertions suivantes laquelle reste vraie à chaque itération de la boucle, à l'endroit indiqué ci-dessus ?

Réponses

- A la sous-liste L[0:i+1] contient les i plus grandes valeurs de L triées par ordre décroissant
- B la sous-liste L[0:i+1] contient les i plus grandes valeurs de L triées par ordre croissant
- C la sous-liste L[0:i+1] contient les i plus petites valeurs de L triées par ordre décroissant
- D la sous-liste L[0:i+1] contient les i plus petites valeurs de L triées par ordre croissant

Question G.5

Quel est le coût d'un algorithme de recherche du maximum d'un tableau de nombres ?

Réponses

- A constant
- B logarithmique
- C linéaire
- D quadratique

Question G.6

On considère la fonction suivante :

```
def trouverLettre(phrase, lettre):
    indexResultat = 0
    for i in range(len(phrase)):
        if phrase[i] == lettre:
            indexResultat = i
    return indexResultat
```

Que renvoie l'appel trouverLettre("vive l'informatique", "e") ?

Réponses

- A 3
- B 4
- C 18
- D "e"