

Modèle CCYC : ©DNE

Nom de famille (naissance) :


(Suivi s'il y a lieu, du nom d'usage)

Prénom(s) :

N° candidat : N° d'inscription :

(Les numéros figurent sur la convocation.)

Né(e) le : / /



1.1

ÉVALUATION

CLASSE : Première

VOIE : Générale Technologique Toutes voies (LV)

ENSEIGNEMENT : spécialité Numérique et Sciences Informatiques (NSI)

DURÉE DE L'ÉPREUVE : 02 h 00

Niveaux visés (LV) : LVA LVB

Axes de programme :

CALCULATRICE AUTORISÉE : Oui Non

DICTIONNAIRE AUTORISÉ : Oui Non

Ce sujet contient des parties à rendre par le candidat avec sa copie. De ce fait, il ne peut être dupliqué et doit être imprimé pour chaque candidat afin d'assurer ensuite sa bonne numérisation.

Ce sujet intègre des éléments en couleur. S'il est choisi par l'équipe pédagogique, il est nécessaire que chaque élève dispose d'une impression en couleur.

Ce sujet contient des pièces jointes de type audio ou vidéo qu'il faudra télécharger et jouer le jour de l'épreuve.

Nombre total de pages : 19

L'épreuve consiste en 42 questions, rangées en 7 thèmes.

Pour chaque question, le candidat gagne 3 points s'il choisit la bonne réponse, perd 1 point s'il choisit une réponse fausse. S'il ne répond pas ou choisit plusieurs réponses, il ne gagne ni ne perd aucun point.

Le total sur chacun des 7 thèmes est ramené à 0 s'il est négatif.

La note finale s'obtient en divisant le total des points par 6,3 et en arrondissant à l'entier supérieur.

Le candidat indique ses réponses aux questions en pages 2 et 3.

Seules les pages 1 à 4 sont rendues par le candidat à la fin de l'épreuve, pour être numérisées.

Les questions figurent sur les pages suivantes.



Thème A : types de base

Réponse à la question 1	A <input type="checkbox"/>	B <input type="checkbox"/>	C <input type="checkbox"/>	D <input type="checkbox"/>
Réponse à la question 2	A <input type="checkbox"/>	B <input type="checkbox"/>	C <input type="checkbox"/>	D <input type="checkbox"/>
Réponse à la question 3	A <input type="checkbox"/>	B <input type="checkbox"/>	C <input type="checkbox"/>	D <input type="checkbox"/>
Réponse à la question 4	A <input type="checkbox"/>	B <input type="checkbox"/>	C <input type="checkbox"/>	D <input type="checkbox"/>
Réponse à la question 5	A <input type="checkbox"/>	B <input type="checkbox"/>	C <input type="checkbox"/>	D <input type="checkbox"/>
Réponse à la question 6	A <input type="checkbox"/>	B <input type="checkbox"/>	C <input type="checkbox"/>	D <input type="checkbox"/>

Thème B : types construits

Réponse à la question 1	A <input type="checkbox"/>	B <input type="checkbox"/>	C <input type="checkbox"/>	D <input type="checkbox"/>
Réponse à la question 2	A <input type="checkbox"/>	B <input type="checkbox"/>	C <input type="checkbox"/>	D <input type="checkbox"/>
Réponse à la question 3	A <input type="checkbox"/>	B <input type="checkbox"/>	C <input type="checkbox"/>	D <input type="checkbox"/>
Réponse à la question 4	A <input type="checkbox"/>	B <input type="checkbox"/>	C <input type="checkbox"/>	D <input type="checkbox"/>
Réponse à la question 5	A <input type="checkbox"/>	B <input type="checkbox"/>	C <input type="checkbox"/>	D <input type="checkbox"/>
Réponse à la question 6	A <input type="checkbox"/>	B <input type="checkbox"/>	C <input type="checkbox"/>	D <input type="checkbox"/>

Thème C : traitement de données en tables

Réponse à la question 1	A <input type="checkbox"/>	B <input type="checkbox"/>	C <input type="checkbox"/>	D <input type="checkbox"/>
Réponse à la question 2	A <input type="checkbox"/>	B <input type="checkbox"/>	C <input type="checkbox"/>	D <input type="checkbox"/>
Réponse à la question 3	A <input type="checkbox"/>	B <input type="checkbox"/>	C <input type="checkbox"/>	D <input type="checkbox"/>
Réponse à la question 4	A <input type="checkbox"/>	B <input type="checkbox"/>	C <input type="checkbox"/>	D <input type="checkbox"/>
Réponse à la question 5	A <input type="checkbox"/>	B <input type="checkbox"/>	C <input type="checkbox"/>	D <input type="checkbox"/>
Réponse à la question 6	A <input type="checkbox"/>	B <input type="checkbox"/>	C <input type="checkbox"/>	D <input type="checkbox"/>

Thème D : interactions entre l'homme et la machine sur le Web

Réponse à la question 1	A <input type="checkbox"/>	B <input type="checkbox"/>	C <input type="checkbox"/>	D <input type="checkbox"/>
Réponse à la question 2	A <input type="checkbox"/>	B <input type="checkbox"/>	C <input type="checkbox"/>	D <input type="checkbox"/>
Réponse à la question 3	A <input type="checkbox"/>	B <input type="checkbox"/>	C <input type="checkbox"/>	D <input type="checkbox"/>
Réponse à la question 4	A <input type="checkbox"/>	B <input type="checkbox"/>	C <input type="checkbox"/>	D <input type="checkbox"/>
Réponse à la question 5	A <input type="checkbox"/>	B <input type="checkbox"/>	C <input type="checkbox"/>	D <input type="checkbox"/>
Réponse à la question 6	A <input type="checkbox"/>	B <input type="checkbox"/>	C <input type="checkbox"/>	D <input type="checkbox"/>

Modèle CCYC : ©DNE

Nom de famille (naissance) :
(Suivi s'il y a lieu, du nom d'usage)

Prénom(s) :

N° candidat :

N° d'inscription :

(Les numéros figurent sur la convocation.)



Né(e) le :

1.1

Thème E : architectures matérielles et systèmes d'exploitation


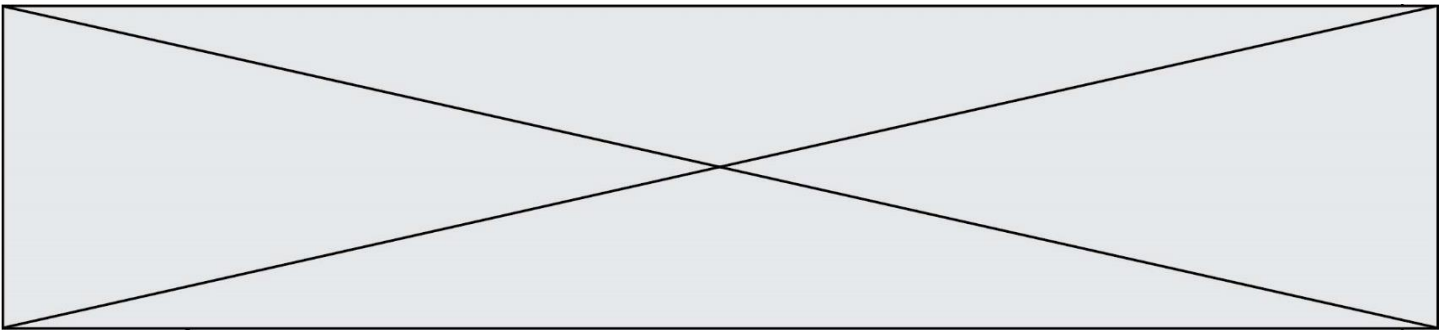
- Réponse à la question 1 A B C D
- Réponse à la question 2 A B C D
- Réponse à la question 3 A B C D
- Réponse à la question 4 A B C D
- Réponse à la question 5 A B C D
- Réponse à la question 6 A B C D

Thème F : langages et programmation

- Réponse à la question 1 A B C D
- Réponse à la question 2 A B C D
- Réponse à la question 3 A B C D
- Réponse à la question 4 A B C D
- Réponse à la question 5 A B C D
- Réponse à la question 6 A B C D

Thème G : algorithmique

- Réponse à la question 1 A B C D
- Réponse à la question 2 A B C D
- Réponse à la question 3 A B C D
- Réponse à la question 4 A B C D
- Réponse à la question 5 A B C D
- Réponse à la question 6 A B C D



Modèle CCYC : ©DNE

Nom de famille (naissance) :


(Suivi s'il y a lieu, du nom d'usage)

Prénom(s) :

N° candidat : N° d'inscription :

(Les numéros figurent sur la convocation.)

Né(e) le :



RÉPUBLIQUE FRANÇAISE

1.1

Thème A : types de base

Question A.1

On considère les nombres dont l'écriture en base 16 (en hexadécimal) sont de la forme suivante : un 1 suivi de 0 en nombre quelconque, comme 1, 10, 100, 1000 etc.

Tous ces nombres sont exactement :

Réponses

- A les puissances de 2
- B les puissances de 8
- C les puissances de 10
- D les puissances de 16

Question A.2

Combien de valeurs entières positives ou nulles un octet peut-il représenter ?

Réponses

- A 2
- B 8
- C 16
- D 256

Question A.3

Parmi les quatre propositions, quelle est celle qui correspond au résultat de l'addition en écriture hexadécimale $7B692 + 4C81E$?

Réponses

- A C8EB0
- B C5EB0
- C C7EC0
- D C7EB0

Question A.4

Quel est le plus grand entier positif que l'on peut coder sur un mot de 16 bits ?

Réponses

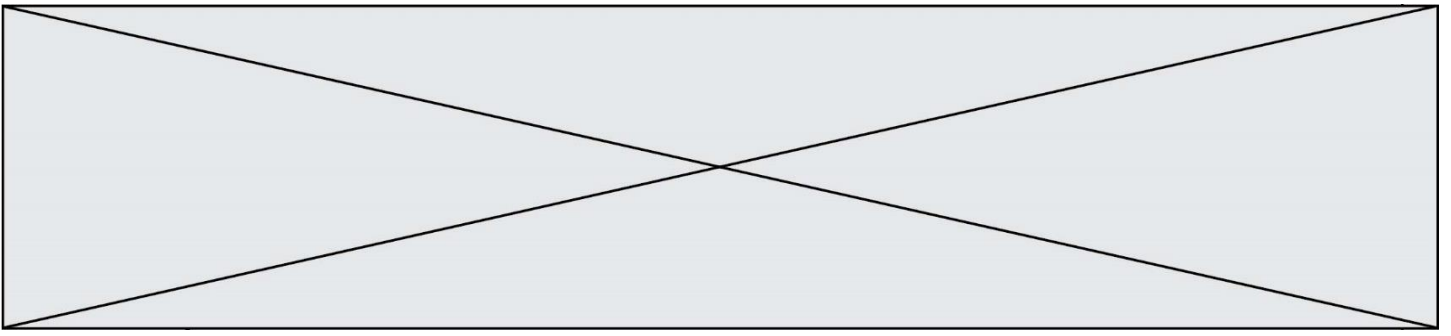
- A $2^{15} - 1 = 32767$
- B $2^{15} = 32768$
- C $2^{16} - 1 = 65535$
- D $2^{16} = 65536$

Question A.5

Quelle est la représentation binaire, en complément à 2 sur 8 bits, de l'entier négatif -25 ?

Réponses

- A 0001 1001
- B 1001 1001
- C 1110 0110
- D 1110 0111



Question A.6

Comment s'écrit en base 16 (en hexadécimal) le nombre dont l'écriture binaire est 0010 1100 ?

Réponses

- A 1D
- B 2C
- C 3C
- D 3E

Modèle CCYC : ©DNE

Nom de famille (naissance) :


(Suivi s'il y a lieu, du nom d'usage)

Prénom(s) :

N° candidat : N° d'inscription :

(Les numéros figurent sur la convocation.)

Né(e) le : / /



RÉPUBLIQUE FRANÇAISE

1.1

Thème B : types construits

Question B.1

La fonction ci-dessous prend en argument deux nombres entiers.

```
def f(n1,n2):
    etendue = max(n1,n2)-min(n1,n2)
    moyenne = (n1+n2)/2
    return etendue,moyenne
```

Quel est le type de la valeur renvoyée par un appel à cette fonction ?

Réponses

- A un entier
- B un réel (ou flottant)
- C un tuple
- D une liste

Question B.2

Soit le code ci-dessous :

```
tableau = [5,8,6,9]
a = tableau[2]
```

Après son exécution, quelle valeur contient la variable a ?

Réponses

- A 2
- B 6
- C 8
- D [5, 8]

Question B.3

On s'intéresse à la valeur 14 présente dans la liste suivante:

```
L = [[1,2,3,4,5], [6,7,8,9,10], [11,12,13,14,15], [16,17,18,19,20]]
```

Quelle expression vaut 14 parmi les suivantes ?

Réponses

- A T[2][3]
- B T[3][4]
- C T[3][2]
- D T[4][3]

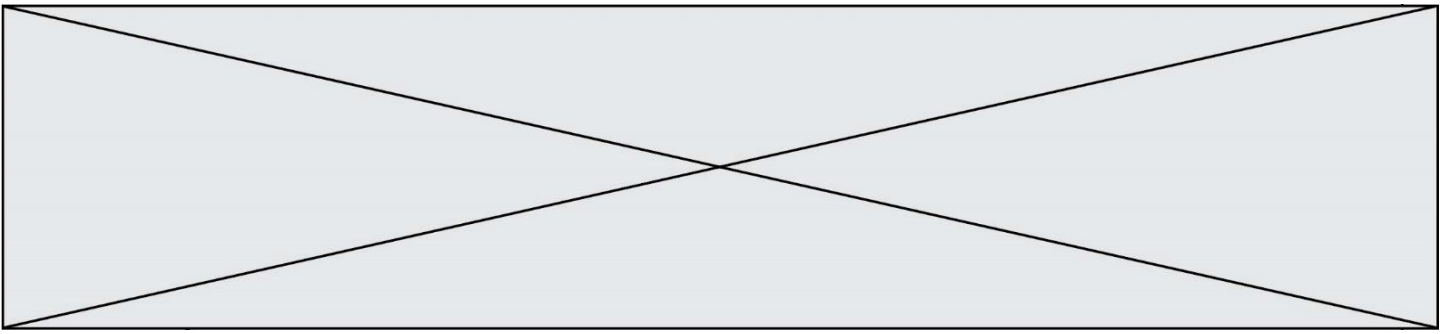
Question B.4

On dispose d'une liste définie par L = [15, 17, 12, 23].

Quelle est la valeur de L après l'instruction L[2] = 25 ?

Réponses

- A [15, 25, 12, 23]
- B [15, 17, 25, 12, 23]
- C [15, 17, 25, 23]
- D [15, 17, 12, 25, 23]

**Question B.5**

On dispose d'une liste L :

```
L = [6, 2, 8, 24, 3, 6, 7, 8]
```

Quelle est la valeur de M après exécution du code suivant ?

```
p = 8
M = [x for x in L if x < p] + [x for x in L if x == p]
  + [x for x in L if x > p]
```

Réponses

- A [2, 3, 6, 6, 7, 8, 8, 24]
- B [6, 2, 3, 6, 7, 8, 8, 24]
- C [6, 2, 8, 24, 3, 6, 7, 8]
- D [[6, 2, 3, 6, 7], [8, 8], [24]]

Question B.6

On exécute le code suivant :

```
t = [1, 2, 3, 4, 5, 6, 7, 8, 9]
v = [c for c in t if c % 3 == 0]
```

Quelle est la valeur de la variable v à la fin de cette exécution ?

Réponses

- A 18
- B [1, 4, 7]
- C [3, 6, 9]
- D [1, 2, 3, 4, 5, 6, 7, 8, 9]

Modèle CCYC : ©DNE

Nom de famille (naissance) :


(Suivi s'il y a lieu, du nom d'usage)

Prénom(s) :

N° candidat : N° d'inscription :

(Les numéros figurent sur la convocation.)

Né(e) le : / /



1.1

Thème C : traitement de données en tables

Question C.1

On définit :

```
contacts = { 'Toto': 'toto@nsi.fr', 'Chloé': 'chloe@nsi.com',
            'Paul': 'paul@nsi.net', 'Clémence': 'clemence@nsi.org' }
```

Parmi les propositions suivantes, laquelle est exacte ?

Réponses

- A 'Chloé' est une **valeur** de la variable contacts
- B 'Chloé' est une **clé** de la variable contacts
- C 'Chloé' est un **attribut** de la variable contacts
- D 'Chloé' est un **champ** de la variable contacts

Question C.2

On a défini :

```
mendeleiev = [ ['H', 'He'],
                ['Li', 'Be', 'B', 'C', 'N', 'O', 'F', 'Ne'],
                ['Na', 'Mg', 'Al', 'Si', 'P', 'S', 'Cl', 'Ar'],
                ..... ]
```

Une erreur s'est glissée dans le tableau, car le symbole du Fluor est F et non Fl. Quelle instruction permet de rectifier ce tableau ?

Réponses

- A `mendeleiev.append('F')`
- B `mendeleiev[1][6] = 'F'`
- C `mendeleiev[6][1] = 'F'`
- D `mendeleiev[-1][-1] = 'F'`

Question C.3

Quel type de fichier est le plus adapté au traitement des données ?

Réponses

- A PNG
- B PDF
- C CSV
- D DOC



Question C.4

On considère une table de données <films> qui est une liste de dictionnaires "Titre", "Réalisateur", "Date".
Un enregistrement de la table contient un titre de film, le nom de son réalisateur et l'année de sortie du film.

```
films = [{"Titre": "ET", "Réalisateur": "Spielberg", "Date": 1982},  
        {"Titre": "Ready Player One", "Réalisateur": "Spielberg",  
         "Date": 2018},  
        {"Titre": "The Artist", "Réalisateur": "Hazanavicius", "Date":  
         2011},  
        ...]
```

On souhaite obtenir la liste des films réalisés par "Spielberg" ou par "Hazanavicius" depuis l'année 2000.
Quelle doit être la condition utilisée pour sélectionner les enregistrements correspondants, lors du parcours de la table ?

Réponses

- A `(film["Réalisateur"] == "Spielberg" or film["Réalisateur"] == "Hazanavicius") and film["Date"] >= 2000`
- B `film["Réalisateur"] == "Spielberg" and film["Réalisateur"] == "Hazanavicius" and film["Date"] >= 2000`
- C `film["Réalisateur"] == "Spielberg" or film["Réalisateur"] == "Hazanavicius" or film["Date"] >= 2000`
- D `(film["Réalisateur"] == "Spielberg" and film["Réalisateur"] == "Hazanavicius") or film["Date"] >= 2000`

Question C.5

Que réalise l'instruction suivante :

```
mon_fichier = open("exemple.txt", "r")
```

Réponses

- A Elle permet d'ouvrir le fichier "exemple.txt" en mode lecture si le fichier est dans le même dossier que le fichier du programme Python comportant cette instruction.
- B Elle permet d'ouvrir le fichier "exemple.txt" en mode lecture même si le fichier n'est pas dans le même dossier que le fichier du programme Python comportant cette instruction.
- C Elle permet d'ouvrir le fichier "exemple.txt" en mode écriture si le fichier est dans le même dossier que le fichier du programme Python comportant cette instruction.
- D Elle permet d'ouvrir le fichier "exemple.txt" en mode écriture même si le fichier n'est pas dans le même dossier que le fichier du programme Python comportant cette instruction.

Question C.6

Quelle expression Python permet d'accéder au numéro de téléphone de Tournesol, sachant que le répertoire a été défini par l'affectation suivante :

```
repertoire = [{"nom": 'Dupont', 'tel': '5234'},  
             {"nom": 'Tournesol', 'tel': '5248'}, {"nom": 'Dupond',  
             'tel': '3452'}]
```

Modèle CCYC : ©DNE

Nom de famille (naissance) :


(Suivi s'il y a lieu, du nom d'usage)

Prénom(s) :

N° candidat : N° d'inscription :

(Les numéros figurent sur la convocation.)

Né(e) le : / /



1.1

Réponses

- A repertoire['Tourneso1']
- B repertoire['te1'][1]
- C repertoire[1]['te1']
- D repertoire['Tourneso1'][te1]



Thème D : interactions entre l'homme et la machine sur le Web

Question D.1

Les pages HTML sont affichées par ...

Réponses

- A le compilateur
- B le serveur
- C l'interpréteur
- D le navigateur Web

Question D.2

Lorsque la méthode POST est associée à un formulaire au sein d'une page HTML, comment les réponses du formulaire sont-elles envoyées au serveur ?

Réponses

- A Elles sont visibles dans l'URL
- B Elles sont cachées de l'URL
- C Elles sont transmises via un service postal spécifique
- D Elles sont découpées en plusieurs petites URL limitées à 4 mots

Question D.3

Saisir l'URL `http://monsie.com/monprogramme.py?id=25` dans la barre d'adresse d'un navigateur ne peut jamais permettre :

Réponses

- A d'obtenir une image
- B d'envoyer une requête GET
- C d'envoyer une requête POST
- D d'exécuter un programme Python sur le serveur

Question D.4

Qu'affiche cet extrait de code HTML ?

```
<a href='photo.html'><img src=images/photo-lycee.jpg' alt='Photo du Lycée' /></a>
```

Réponses

- A seulement l'image contenue dans le fichier `photo-lycee.jpg`
- B seulement le texte `Photo du Lycée`
- C l'image contenue dans le fichier `photo-lycee.jpg` avec le texte `Photo du Lycée` en légende
- D la page Web `photo.html`


Modèle CCYC : ©DNE

Nom de famille (naissance) :

(Suivi s'il y a lieu, du nom d'usage)

Prénom(s) :

N° candidat : **N° d'inscription :**

 **Né(e) le :** / /

(Les numéros figurent sur la convocation.)

1.1

Question D.5

Quelle URL parmi les suivantes témoigne que l'échange entre le navigateur et le serveur est chiffré ?

Réponses

- A <http://www.mabanque.com/>
- B <http://www.mabanque.fr/>
- C <https://www.mabanque.fr/>
- D <http://secure.mabanque.fr/>

Question D.6

Quelle est la balise HTML utilisée pour indiquer un titre de niveau d'importance maximal ?

Réponses

- A la balise <h0>
- B la balise <h1>
- C la balise <head>
- D la balise <header>



Thème E : architectures matérielles et systèmes d'exploitation

Question E.1

Lequel de ces périphériques n'est pas un périphérique d'entrée ?

Réponses

- A le moniteur
- B le clavier
- C la souris
- D le scanner

Question E.2

Pour renommer un fichier `text1.txt` en `text1.old` dans un même répertoire, quelle commande faut-il utiliser ?

Réponses

- A `mv text1.txt ../text1.old`
- B `mv text1.txt text1.old`
- C `cp text1.txt text1.old`
- D `lns text1.txt text1.old`

Question E.3

Dans la console Linux, quelle commande faut-il exécuter pour effacer le fichier `test0.csv` ?

Réponses

- A `rm test0.csv`
- B `cp test0.csv`
- C `ls test0.csv`
- D `mv test0.csv`

Question E.4

Dans un shell sous Linux, Alice utilise la commande `pwd`.

Cette commande :

Réponses

- A liste les fichiers du répertoire courant
- B liste les répertoires du répertoire courant
- C affiche le chemin du répertoire courant
- D affiche les permissions relatives au répertoire courant

Question E.5

Dans la console Linux, quelle commande faut-il exécuter pour copier le fichier `test0.csv` en un nouveau fichier nommé `test1.csv` ?

Réponses

- A `ls test0.csv test1.csv`
- B `cp test0.csv test1.csv`
- C `cp test1.csv test0.csv`

Modèle CCYC : ©DNE

Nom de famille (naissance) :


(Suivi s'il y a lieu, du nom d'usage)

Prénom(s) :

N° candidat : **N° d'inscription** :

(Les numéros figurent sur la convocation.)

Né(e) le : / /



1.1

D mv test1.csv test0.csv

Question E.6

L'adresse IP du site `www.education.gouv.fr` est `185.75.143.24`.

Quel dispositif permet d'associer l'adresse IP et l'URL `www.education.gouv.fr` ?

Réponses

- A un routeur
- B un serveur DNS
- C un serveur de temps
- D un serveur Web



Thème F : langages et programmation

Question F.1

On considère le code suivant :

```
if x < 4:  
    x = x + 3  
else:  
    x = x - 3
```

Quelle construction élémentaire peut-on identifier ?

Réponses

- A une boucle non bornée
- B une structure conditionnelle
- C une boucle bornée
- D un appel de fonction

Question F.2

Quel est le seul langage de programmation parmi les propositions suivantes ?

Réponses

- A HTML
- B CSS
- C C++
- D WEB

Question F.3

On exécute le script suivant.

```
n = 6  
s = 0  
while n >= 0:  
    s = s + n  
    n = n - 1
```

Que contient la variable s à la fin de cette exécution ?

Réponses

- A 0
- B 6
- C 15
- D 21

Modèle CCYC : ©DNE

Nom de famille (naissance) :


(Suivi s'il y a lieu, du nom d'usage)

Prénom(s) :

N° candidat : N° d'inscription :

(Les numéros figurent sur la convocation.)

Né(e) le : / /



1.1

Question F.4

On a écrit une fonction qui prend en paramètre une liste non vide et qui renvoie son plus grand élément. Combien de tests faudrait-il écrire pour garantir que la fonction donne un résultat correct pour toute liste ?

Réponses

- A deux tests : pour une liste à un élément et pour une liste à deux éléments ou plus
- B deux tests : pour le cas où le plus grand élément est en début de liste, et pour le cas où le plus grand élément n'est pas en début de liste
- C trois tests : pour une liste vide, pour une liste à un élément, et pour une liste à deux éléments ou plus
- D il faudrait écrire une infinité de tests : on ne peut pas prouver que cette fonction est correcte, simplement en la testant

Question F.5

T est un tableau de nombres entiers non vide. Que représente la valeur de s renvoyée par cette fonction ?

```
def mystere(T):
    s = 0
    for k in T:
        if k % 2 == 0:
            s = s+k
    return s
```

Réponses

- A la somme des valeurs du tableau T
- B la somme des valeurs positives du tableau T
- C la somme des valeurs impaires du tableau T
- D la somme des valeurs paires du tableau T

Question F.6

La documentation de la fonction floor de la bibliothèque math est :

```
floor(x)
Return the floor of x as an Integral. This is the largest integer <= x.
```

Que vaut floor(-2.2) ?

Réponses

- A -2
- B -3
- C on obtient une erreur, car -2.2 n'est pas un entier
- D 2.2



Thème G : algorithmique

Question G.1

On définit la fonction suivante :

```
def traitement(liste) :  
    m = liste[0]  
    for i in range (len(liste)) :  
        if liste[i] > m:  
            m = liste[i]  
    return m
```

Que vaut `traitement([-2, 5, 6, -10, 35])` ?

Réponses

- A None
- B -10
- C -6
- D 35

Question G.2

Pour pouvoir utiliser un algorithme de recherche par dichotomie dans une liste, quelle précondition doit être vraie ?

Réponses

- A la liste doit être triée
- B la liste ne doit pas comporter de doublons
- C la liste doit comporter uniquement des entiers positifs
- D la liste doit être de longueur inférieure à 1024

Question G.3


La fonction suivante prend en arguments deux entiers positifs et renvoie leur produit.

```
def produit(a,b):  
    c = 0  
    i = 0  
    while i < b:  
        #  
        i = i + 1  
        c = c + a  
    return c
```

Quelle propriété reste vraie à chaque passage par la ligne marquée d'un # ?

Réponses

- A $c = a \times (i + 1)$
- B $c = a \times (i - 1)$
- C $c = a \times i$
- D $c = a \times b$

Modèle CCYC : ©DNE																						
Nom de famille (naissance) : <i>(Suivi s'il y a lieu, du nom d'usage)</i>																						
Prénom(s) :																						
N° candidat :											N° d'inscription :											
	<small>(Les numéros figurent sur la convocation.)</small>																					
Né(e) le :			/			/																

1.1

Question G.4

À quelle catégorie appartient l'algorithme classique de rendu de monnaie ?

Réponses

- A les algorithmes de classification et d'apprentissage
- B les algorithmes de tri
- C les algorithmes gloutons
- D les algorithmes de mariages stables

Question G.5

À quelle catégorie appartient l'algorithme des k plus proches voisins ?

Réponses

- A algorithmes de tri
- B algorithmes gloutons
- C algorithmes de recherche de chemins
- D algorithmes de classification et d'apprentissage

Question G.6

La fonction `mystere` suivante prend en argument un tableau d'entiers.

```
def mystere(t):
    for i in range(len(t) - 1):
        if t[i] + 1 != t[i+1]:
            return False
    return True
```

À quelle condition la valeur renvoyée par la fonction est-elle True ?

Réponses

- A si le tableau passé en argument est une suite d'entiers consécutifs
- B si le tableau passé en argument est trié en ordre croissant
- C si le tableau passé en argument est trié en ordre décroissant
- D si le tableau passé en argument contient des entiers tous identiques