

Modèle CCYC : ©DNE

Nom de famille (naissance) :

(Suivi s'il y a lieu, du nom d'usage)

Prénom(s) :

N° candidat :

N° d'inscription :



Né(e) le :

(Les numéros figurent sur la convocation.)

1.1

## ÉVALUATION

**CLASSE** : Première

**VOIE** :  Générale  Technologique  Toutes voies (LV)

**ENSEIGNEMENT** : spécialité Numérique et Sciences Informatiques (NSI)

**DURÉE DE L'ÉPREUVE** : 02 h 00

**Niveaux visés (LV)** : LVA LVB

**Axes de programme** :

**CALCULATRICE AUTORISÉE** :  Oui  Non

**DICTIONNAIRE AUTORISÉ** :  Oui  Non

Ce sujet contient des parties à rendre par le candidat avec sa copie. De ce fait, il ne peut être dupliqué et doit être imprimé pour chaque candidat afin d'assurer ensuite sa bonne numérisation.

Ce sujet intègre des éléments en couleur. S'il est choisi par l'équipe pédagogique, il est nécessaire que chaque élève dispose d'une impression en couleur.

Ce sujet contient des pièces jointes de type audio ou vidéo qu'il faudra télécharger et jouer le jour de l'épreuve.

**Nombre total de pages** : 19

L'épreuve consiste en 42 questions, rangées en 7 thèmes.

Pour chaque question, le candidat gagne 3 points s'il choisit la bonne réponse, perd 1 point s'il choisit une réponse fautive. S'il ne répond pas ou choisit plusieurs réponses, il ne gagne ni ne perd aucun point.

Le total sur chacun des 7 thèmes est ramené à 0 s'il est négatif.

La note finale s'obtient en divisant le total des points par 6,3 et en arrondissant à l'entier supérieur.

**Le candidat indique ses réponses aux questions en pages 2 et 3.**

**Seules les pages 1 à 4 sont rendues par le candidat à la fin de l'épreuve, pour être numérisées.**

Les questions figurent sur les pages suivantes.



### **Thème A : types de base**

Réponse à la question 1	A <input type="checkbox"/>	B <input type="checkbox"/>	C <input type="checkbox"/>	D <input type="checkbox"/>
Réponse à la question 2	A <input type="checkbox"/>	B <input type="checkbox"/>	C <input type="checkbox"/>	D <input type="checkbox"/>
Réponse à la question 3	A <input type="checkbox"/>	B <input type="checkbox"/>	C <input type="checkbox"/>	D <input type="checkbox"/>
Réponse à la question 4	A <input type="checkbox"/>	B <input type="checkbox"/>	C <input type="checkbox"/>	D <input type="checkbox"/>
Réponse à la question 5	A <input type="checkbox"/>	B <input type="checkbox"/>	C <input type="checkbox"/>	D <input type="checkbox"/>
Réponse à la question 6	A <input type="checkbox"/>	B <input type="checkbox"/>	C <input type="checkbox"/>	D <input type="checkbox"/>

### **Thème B : types construits**

Réponse à la question 1	A <input type="checkbox"/>	B <input type="checkbox"/>	C <input type="checkbox"/>	D <input type="checkbox"/>
Réponse à la question 2	A <input type="checkbox"/>	B <input type="checkbox"/>	C <input type="checkbox"/>	D <input type="checkbox"/>
Réponse à la question 3	A <input type="checkbox"/>	B <input type="checkbox"/>	C <input type="checkbox"/>	D <input type="checkbox"/>
Réponse à la question 4	A <input type="checkbox"/>	B <input type="checkbox"/>	C <input type="checkbox"/>	D <input type="checkbox"/>
Réponse à la question 5	A <input type="checkbox"/>	B <input type="checkbox"/>	C <input type="checkbox"/>	D <input type="checkbox"/>
Réponse à la question 6	A <input type="checkbox"/>	B <input type="checkbox"/>	C <input type="checkbox"/>	D <input type="checkbox"/>

### **Thème C : traitement de données en tables**

Réponse à la question 1	A <input type="checkbox"/>	B <input type="checkbox"/>	C <input type="checkbox"/>	D <input type="checkbox"/>
Réponse à la question 2	A <input type="checkbox"/>	B <input type="checkbox"/>	C <input type="checkbox"/>	D <input type="checkbox"/>
Réponse à la question 3	A <input type="checkbox"/>	B <input type="checkbox"/>	C <input type="checkbox"/>	D <input type="checkbox"/>
Réponse à la question 4	A <input type="checkbox"/>	B <input type="checkbox"/>	C <input type="checkbox"/>	D <input type="checkbox"/>
Réponse à la question 5	A <input type="checkbox"/>	B <input type="checkbox"/>	C <input type="checkbox"/>	D <input type="checkbox"/>
Réponse à la question 6	A <input type="checkbox"/>	B <input type="checkbox"/>	C <input type="checkbox"/>	D <input type="checkbox"/>

### **Thème D : interactions entre l'homme et la machine sur le Web**

Réponse à la question 1	A <input type="checkbox"/>	B <input type="checkbox"/>	C <input type="checkbox"/>	D <input type="checkbox"/>
Réponse à la question 2	A <input type="checkbox"/>	B <input type="checkbox"/>	C <input type="checkbox"/>	D <input type="checkbox"/>
Réponse à la question 3	A <input type="checkbox"/>	B <input type="checkbox"/>	C <input type="checkbox"/>	D <input type="checkbox"/>
Réponse à la question 4	A <input type="checkbox"/>	B <input type="checkbox"/>	C <input type="checkbox"/>	D <input type="checkbox"/>
Réponse à la question 5	A <input type="checkbox"/>	B <input type="checkbox"/>	C <input type="checkbox"/>	D <input type="checkbox"/>
Réponse à la question 6	A <input type="checkbox"/>	B <input type="checkbox"/>	C <input type="checkbox"/>	D <input type="checkbox"/>

Modèle CCYC : ©DNE

Nom de famille (naissance) :  
(Suivi s'il y a lieu, du nom d'usage)

--	--	--	--	--	--	--	--	--	--	--	--	--	--	--	--	--	--	--	--

Prénom(s) :

--	--	--	--	--	--	--	--	--	--	--	--	--	--	--	--	--	--	--	--

N° candidat :

--	--	--	--	--	--	--	--	--	--	--	--	--	--	--

N° d'inscription :

--	--	--	--

(Les numéros figurent sur la convocation.)



Né(e) le :

		/			/				
--	--	---	--	--	---	--	--	--	--

1.1

### Thème E : architectures matérielles et systèmes d'exploitation

- |                         |                            |                            |                            |                            |
|-------------------------|----------------------------|----------------------------|----------------------------|----------------------------|
| Réponse à la question 1 | A <input type="checkbox"/> | B <input type="checkbox"/> | C <input type="checkbox"/> | D <input type="checkbox"/> |
| Réponse à la question 2 | A <input type="checkbox"/> | B <input type="checkbox"/> | C <input type="checkbox"/> | D <input type="checkbox"/> |
| Réponse à la question 3 | A <input type="checkbox"/> | B <input type="checkbox"/> | C <input type="checkbox"/> | D <input type="checkbox"/> |
| Réponse à la question 4 | A <input type="checkbox"/> | B <input type="checkbox"/> | C <input type="checkbox"/> | D <input type="checkbox"/> |
| Réponse à la question 5 | A <input type="checkbox"/> | B <input type="checkbox"/> | C <input type="checkbox"/> | D <input type="checkbox"/> |
| Réponse à la question 6 | A <input type="checkbox"/> | B <input type="checkbox"/> | C <input type="checkbox"/> | D <input type="checkbox"/> |

### Thème F : langages et programmation

- |                         |                            |                            |                            |                            |
|-------------------------|----------------------------|----------------------------|----------------------------|----------------------------|
| Réponse à la question 1 | A <input type="checkbox"/> | B <input type="checkbox"/> | C <input type="checkbox"/> | D <input type="checkbox"/> |
| Réponse à la question 2 | A <input type="checkbox"/> | B <input type="checkbox"/> | C <input type="checkbox"/> | D <input type="checkbox"/> |
| Réponse à la question 3 | A <input type="checkbox"/> | B <input type="checkbox"/> | C <input type="checkbox"/> | D <input type="checkbox"/> |
| Réponse à la question 4 | A <input type="checkbox"/> | B <input type="checkbox"/> | C <input type="checkbox"/> | D <input type="checkbox"/> |
| Réponse à la question 5 | A <input type="checkbox"/> | B <input type="checkbox"/> | C <input type="checkbox"/> | D <input type="checkbox"/> |
| Réponse à la question 6 | A <input type="checkbox"/> | B <input type="checkbox"/> | C <input type="checkbox"/> | D <input type="checkbox"/> |

### Thème G : algorithmique

- |                         |                            |                            |                            |                            |
|-------------------------|----------------------------|----------------------------|----------------------------|----------------------------|
| Réponse à la question 1 | A <input type="checkbox"/> | B <input type="checkbox"/> | C <input type="checkbox"/> | D <input type="checkbox"/> |
| Réponse à la question 2 | A <input type="checkbox"/> | B <input type="checkbox"/> | C <input type="checkbox"/> | D <input type="checkbox"/> |
| Réponse à la question 3 | A <input type="checkbox"/> | B <input type="checkbox"/> | C <input type="checkbox"/> | D <input type="checkbox"/> |
| Réponse à la question 4 | A <input type="checkbox"/> | B <input type="checkbox"/> | C <input type="checkbox"/> | D <input type="checkbox"/> |
| Réponse à la question 5 | A <input type="checkbox"/> | B <input type="checkbox"/> | C <input type="checkbox"/> | D <input type="checkbox"/> |
| Réponse à la question 6 | A <input type="checkbox"/> | B <input type="checkbox"/> | C <input type="checkbox"/> | D <input type="checkbox"/> |



Modèle CCYC : ©DNE

Nom de famille (naissance) :

(Suivi s'il y a lieu, du nom d'usage)

Prénom(s) :

N° candidat :  N° d'inscription :

(Les numéros figurent sur la convocation.)

Né(e) le :  /  /



RÉPUBLIQUE FRANÇAISE

1.1

## Thème A : types de base

### Question A.1

Quelle est l'écriture décimale de l'entier dont la représentation en binaire non signé est 0001 0101 ?

#### Réponses

- A 15
- B 21
- C 111
- D 420

### Question A.2

Quel est un avantage du codage UTF8 par rapport au codage ASCII ?

#### Réponses

- A il permet de coder un caractère sur un octet au lieu de deux
- B il permet de coder les majuscules
- C il permet de coder tous les caractères
- D il permet de coder différentes polices de caractères

### Question A.3

Choisir une expression booléenne pour la variable S qui satisfait la table de vérité suivante.

A	B	S
0	0	1
0	1	0
1	0	1
1	1	1

#### Réponses

- A A ou (non B)
- B (non A) ou B
- C (non A) ou (non B)
- D non (A ou B)

### Question A.4

Le code ASCII permet de représenter en binaire les caractères alphanumériques. Quel est son principal inconvénient ?

#### Réponses

- A Il utilise beaucoup de bits.
- B Il ne différencie pas les majuscules des minuscules.
- C Il ne représente pas les caractères accentués.
- D Il n'est pas compatible avec la plupart des systèmes informatiques.



**Question A.5**

Quelle est l'écriture binaire de l'entier  $n$  dont l'écriture hexadécimale est 7C8 ?

**Réponses**

- A 111 1100 1010
- B 110 0011 1111
- C 110 0111 0101
- D 111 1100 1000

**Question A.6**

En ajoutant trois chiffres 0 à droite de l'écriture binaire d'un entier  $N$  strictement positif, on obtient l'écriture binaire de :

**Réponses**

- A  $6 \times N$
- B  $8 \times N$
- C  $1000 \times N$
- D aucune des réponses précédentes

Modèle CCYC : ©DNE

Nom de famille (naissance) :

(Suivi s'il y a lieu, du nom d'usage)

Prénom(s) :

N° candidat :

N° d'inscription :



Liberté • Égalité • Fraternité  
RÉPUBLIQUE FRANÇAISE

Né(e) le :

(Les numéros figurent sur la convocation.)

1.1

## Thème B : types construits

### Question B.1

On dispose du dictionnaire suivant :

$D = \{0: 7, 1: 4, 25: 8, 16: 16, 4: 32\}$

On crée une liste L après les lignes suivantes ?

$L = [ 2, 3, 4, 5, 7, 8 ]$

$h(L, 0, 2)$

$h(L, 3, 5)$

$h(L, 0, 5)$

### Réponses

A [8, 7, 5, 4, 3, 2]

B [2, 3, 4, 5, 7, 8]

C [4, 3, 2, 8, 7, 5]

D [5, 7, 8, 2, 3, 4]

### Question B.2

Quelle expression Python a pour valeur la liste [1, 3, 5, 7, 9, 11] ?

### Réponses

A `[2*i - 1 for i in range(6)]`

B `[2*i + 1 for i in range(6)]`

C `[2*i + 1 for i in range(5)]`

D `[2*i - 1 for i in range(7)]`

### Question B.3

On définit le dictionnaire dico par les instructions suivantes :

```
def f(x):  
    return x*x
```

```
def g(x):  
    return x + x
```

```
def h(x):  
    return 3*x
```

```
dico = { 'F': f, 'G': g(6), 'H': h }
```

Une seule des affirmations suivantes est incorrecte. Laquelle ?

### Réponses

A dico['F'] est une fonction

B dico['F'](5) est un entier

C dico['G'] est une fonction

D dico['G'] est un entier

**Question B.4**

Parmi les propositions suivantes, laquelle permet de créer en Python la liste des nombres impairs de 1 à 399 (inclus) ?

**Réponses**

- A `impairs = [1 + nb*2 for nb in range(200)]`
- B `for nb in range(400) :`  
`impairs = 1 + 2 * nb`
- C `impairs = [i + 2 for i in range(1,200)]`
- D `impairs = [1, 3, 5, 7, 9] * 40`

**Question B.5**

On définit :

```
L = [ ["lundi",10,0.87], ["mardi",11,0.82], ["mercredi",12,0.91] ]
```

Quel est le type de la variable a définie par `a = L[1][2]` ?

**Réponses**

- A nombre entier
- B liste
- C nombre flottant
- D chaîne de caractères

**Question B.6**

Quelle expression a pour valeur la liste `[7, 14, 21, 28, 35, 42, 49, 56, 63]` ?

**Réponses**

- A `[7*k for k in range(9)]`
- B `[7*k for k in range(1,10)]`
- C `[7*k for k in range(10)]`
- D `[[7*k for k in range(1,9)]`



Modèle CCYC : ©DNE

Nom de famille (naissance) :

(Suivi s'il y a lieu, du nom d'usage)

Prénom(s) :

N° candidat :

N° d'inscription :



Né(e) le :

(Les numéros figurent sur la convocation.)

1.1

## Thème C : traitement de données en tables

### Question C.1

On a récupéré le contenu d'un fichier CSV contenant le nom, le prénom et l'âge de personnes dans une table implémentée par la liste de dictionnaires suivante :

```
table = [{"nom": "dupont", "prenom": "jean", "age": 16},  
        {"nom": "durant", "prenom": "pierre", "age": 15},  
        .....  
        {"nom": "doe", "prenom": "jane", "age": 16}]
```

Quelle expression représente-t-elle la liste des noms des personnes dont l'âge a pour valeur 16 ?

#### Réponses

- A [personne[nom] for personne in table if personne[age]==16]
- B [personne["nom"] for personne in table if personne["age"]==16]
- C [personne["nom"] for personne in table if personne["age"]=16]
- D [nom if age==16 for nom,age in table ]

### Question C.2

Quelle est la valeur de la variable `table` à la fin de l'exécution du script suivant :

```
table = [[1, 2, 3], [1, 2, 3], [1, 2, 3], [1, 2, 3]]  
table [1][2] = 5
```

#### Réponses

- A [[1, 5, 3], [1, 2, 3], [1, 2, 3], [1, 2, 3]]
- B [[1, 2, 3], [5, 2, 3], [1, 2, 3], [1, 2, 3]]
- C [[1, 2, 3], [1, 2, 5], [1, 2, 3], [1, 2, 3]]
- D [[1, 2, 3], [1, 2, 3], [1, 2, 3], [1, 5, 3]]

### Question C.3

Dans la plupart des fichiers CSV, que contient la première ligne ?

#### Réponses

- A des notes concernant la table de données
- B les sources des données
- C les descripteurs des champs de la table de données
- D l'auteur de la table de données

### Question C.4

L'entier positif dont l'écriture binaire est 0011 1011 se représente en hexadécimal (base 16) par :

#### Réponses

- A 32
- B 33
- C 3B
- D B3



### Question C.5

Laquelle de ces listes de chaînes de caractères est triée en ordre croissant ?

#### Réponses

- A ['Chat', 'Chien', 'Cheval', 'Cochon']
- B ['Chat', 'Cheval', 'Chien', 'Cochon']
- C ['Chien', 'Cheval', 'Cochon', 'Chat']
- D ['Cochon', 'Chien', 'Cheval', 'Chat']

### Question C.6

On exécute le code suivant :

```
table = [ ['lovelace', 'ada', 1815, 1852],  
          ['von neumann', 'john', 1903, 1957],  
          ['turing', 'alan', 1912, 1954],  
          ['mccarthy', 'john', 1927, 2011],  
          ['floyd', 'robert', 1936, 2001] ]
```

```
def age(personnage):  
    return personnage[3] - personnage[2]
```

```
table.sort(key=age, reverse=True)
```

Quelle est la première ligne de la table `table` à la suite de cette exécution ?

#### Réponses

- A ['lovelace', 'ada', 1815, 1852]
- B ['mccarthy', 'john', 1927, 2011]
- C ['turing', 'alan', 1912, 1954]
- D ['mccarthy', 'floyd', 'von neumann', 'turing', 'lovelace']

Modèle CCYC : ©DNE

Nom de famille (naissance) :

(Suivi s'il y a lieu, du nom d'usage)

Prénom(s) :

N° candidat :

N° d'inscription :



Né(e) le :

(Les numéros figurent sur la convocation.)

1.1

## Thème D : interactions entre l'homme et la machine sur le Web

### Question D.1

Charles veut accéder à son forum favori. Il saisit son adresse (URL) sur son navigateur Web, qui lui affiche une erreur 404.

Quelle cas de figure **n'explique pas** sa situation ?

#### Réponses

- A une mise à jour du serveur qui héberge le forum
- B une erreur de saisie de sa part
- C une panne de sa connexion internet
- D un changement de titre du forum qu'il veut consulter

### Question D.2

Parmi les quatre propositions suivantes, laquelle est la seule à correspondre à un entête correct de formulaire d'une page HTML ?

#### Réponses

- A `<form method="formulaire.php" action="submit">`
- B `<form method="post" action=onclick()>`
- C `<form method="get" action="arret.php">`
- D `<form method="post" action=arret.php>`

### Question D.3

Quel est le nom d'un protocole qui permet à un client de faire une requête de page Web auprès d'un serveur ?

#### Réponses

- A WWW
- B FTP
- C HTTP
- D DNS

### Question D.4

Le site internet d'un quotidien d'information permet aux visiteurs de laisser des commentaires textuels. Ces commentaires doivent être visibles par les autres visiteurs.

Laquelle des affirmations suivantes est correcte ?

#### Réponses

- A Il suffit que la page HTML contienne des champs de la forme `<textarea >`
- B Il suffit que la page HTML contienne des champs de la forme `<textarea >` et d'utiliser JavaScript pour enregistrer les commentaires
- C Il faut un programme en PHP ou un script Python sur le serveur pour traiter les données
- D Non, ce n'est pas possible avec la technologie actuelle



**Question D.5**

Quelle est la machine qui exécute un programme JavaScript inclus dans une page HTML ?

**Réponses**

- A le serveur WEB qui contient la page HTML
- B la machine de l'utilisateur qui consulte la page HTML
- C un serveur du réseau
- D un routeur du réseau

**Question D.6**

Après avoir tenté d'accéder à un site, le navigateur affiche : 403 Forbidden.

Cela signifie que :

**Réponses**


- A la connexion à Internet est défectueuse
- B le navigateur a refusé d'envoyer la requête
- C le serveur a répondu par un code d'erreur
- D le serveur n'a jamais répondu

**Modèle CCYC : ©DNE**

**Nom de famille** (naissance) : (Suivi s'il y a lieu, du nom d'usage) :

**Prénom(s)** :

**N° candidat** :  **N° d'inscription** :

 **Né(e) le** : / /  (Les numéros figurent sur la convocation.)

Liberté • Égalité • Fraternité  
RÉPUBLIQUE FRANÇAISE

1.1

## Thème E : architectures matérielles et systèmes d'exploitation

### Question E.1

Parmi ces composants électroniques, lequel est d'échelle microscopique dans un ordinateur ?

#### Réponses

- A le bus
- B le radiateur
- C le transistor
- D le disque dur

### Question E.2

Quel est l'élément qui ne fait pas partie de l'architecture du modèle de Von Neumann ?

#### Réponses

- A l'unité d'entrée
- B l'unité arithmétique et logique
- C la mémoire centrale
- D l'unité d'affichage

### Question E.3

Quel composant électronique, inventé vers le milieu du 20<sup>e</sup> siècle, a permis le développement des ordinateurs actuels ?

#### Réponses

- A le condensateur
- B la résistance
- C le transistor
- D la diode

### Question E.4

Une et une seule de ces affirmations est **fausse**. Laquelle ?

#### Réponses

- A Un système d'exploitation libre est la plupart du temps gratuit
- B Je peux contribuer à un système d'exploitation libre
- C Il est interdit d'étudier un système d'exploitation propriétaire
- D Un système d'exploitation propriétaire est plus sécurisé

### Question E.5

Quelles sont les quatre parties distinctes de l'architecture de Von Neumann ?

#### Réponses

- A L'unité logique, l'unité de contrôle, la mémoire et les dispositifs d'entrée-sortie
- B L'écran, le clavier, le disque dur et le micro-processeur
- C Le disque dur, le micro-processeur, la carte-mère et la carte graphique
- D La mémoire des programmes, la mémoire des données, les entrées-sorties et l'unité logique



**Question E.6**


Dans un terminal, on exécute la suite de commandes système suivante :

```
cd ~  
cd seances/tp  
mv exercice.txt ../../../exercice.txt
```

Où se trouve finalement placé le fichier `exercice.txt` ?

**Réponses**

- A dans le répertoire `~/seance/tp`
- B dans le répertoire `~/seance`
- C dans le répertoire `~`
- D dans le répertoire `/home`

Modèle CCYC : ©DNE	
Nom de famille (naissance) : <small>(Suivi s'il y a lieu, du nom d'usage)</small>	
Prénom(s) :	
N° candidat :	
	N° d'inscription :
<small>(Les numéros figurent sur la convocation.)</small>	
Né(e) le :	
	

1.1

## Thème F : langages et programmation

### Question F.1

On exécute le script suivant :

```
a = 10
if a < 5:
    a = 20
elif a < 100:
    a = 500
elif a < 1000:
    a = 1
else:
    a = 0
```

Quelle est la valeur de la variable a à la fin de cette exécution ?

#### Réponses

- A 1
- B 10
- C 20
- D 500

### Question F.2

On exécute le script suivant :

```
a = 4
b = 4
c = 4
while a < 5:
    a = a - 1
    b = b + 1
    c = c * b
```

Que peut-on dire ?

#### Réponses

- A ce programme ne termine pas
- B à la fin de l'exécution, la variable a vaut 5
- C à la fin de l'exécution, la variable b vaut 34
- D à la fin de l'exécution, la variable c vaut 42



### Question F.3

La fonction `ajoute(n, p)` codée ci-dessous en Python doit calculer la somme de tous les entiers compris entre `n` et `p` (`n` et `p` compris).

Par exemple, `ajoute(2, 4)` doit renvoyer  $2+3+4 = 9$ .

```
def ajoute(n,p):  
    somme = 0  
    for i in range(.....): # ligne à modifier  
        somme = somme + i  
    return somme
```

Quelle est la bonne écriture de la ligne marquée à modifier ?

### Réponses

- A `for i in range(n,1,p):`
- B `for i in range(n,p):`
- C `for i in range(n,p+1):`
- D `for i in range(n-1,p):`

### Question F.4

En voulant programmer une fonction qui calcule la valeur minimale d'une liste d'entiers, on a écrit :

```
def minimum(L):  
    mini = 0  
    for e in L:  
        if e < mini:  
            mini = e  
    return mini
```

Cette fonction a été mal programmée. Pour quelle liste ne donnera-t-elle pas le résultat attendu, c'est-à-dire son minimum ?

### Réponses

- A `[-1, -8, 12, 2, 23]`
- B `[0, 18, 12, 2, 3]`
- C `[-1, -1, 12, 12, 23]`
- D `[1, 8, 12, 2, 23]`



Modèle CCYC : ©DNE

Nom de famille (naissance) :

(Suivi s'il y a lieu, du nom d'usage)

Prénom(s) :

N° candidat :

N° d'inscription :



Né(e) le :


(Les numéros figurent sur la convocation.)

--	--	--	--	--	--	--	--	--	--	--	--	--	--	--	--	--	--	--	--	--	--	--

1.1

### Question F.5

On définit la fonction suivante :

```
def f(n):
    c = 0
    while n > 0:
        c = c + 1
        n = n // 2
    return c
```

Quel est la valeur renvoyée par l'appel  $f(35)$  ?

### Réponses

- A 1
- B 5
- C 6
- D 7

### Question F.6

La fonction suivante calcule la racine carrée du double d'un nombre flottant.

```
from math import sqrt

def racine_double(x):
    return sqrt(2*x)
```

Quelle est la précondition sur l'argument de cette fonction ?

### Réponses

- A  $x < 0$
- B  $x \geq 0$
- C  $2 * x > 0$
- D  $\sqrt{x} \geq 0$



## Thème G : algorithmique

### Question G.1

Quel est le coût d'un algorithme de recherche du maximum d'un tableau de nombres ?

#### Réponses

- A constant
- B logarithmique
- C linéaire
- D quadratique

### Question G.2

Un algorithme est dit glouton si :

#### Réponses

- A Il consomme énormément de mémoire
- B Il contient de nombreuses lignes de code
- C Il s'inspire de la méthode de John Elwood Glouton
- D Il fait à chaque étape le choix localement optimum

### Question G.3


On dispose d'un distributeur de boissons qui rend la monnaie uniquement en pièces de 1 centime, 10 centimes, 50 centimes et 1 euro. On veut que le distributeur rende le moins de pièces possibles pour une somme donnée. On commence par rendre le plus de pièces possibles de 1 euro (sans dépasser la somme à rendre), puis le plus possible de pièces de 50 centimes, etc.

Par exemple, s'il faut rendre 3 euros et 25 centimes, on doit rendre 3 pièces de 1 euro (il reste alors 25 centimes à rendre), puis 2 pièces de 10 centimes et enfin 5 pièces de 1 centime.

Comment s'appelle le type d'algorithme décrit pour rendre la monnaie ?

#### Réponses

- A Un algorithme de type « diviser pour régner »
- B Un algorithme de tri
- C Un algorithme de type « glouton »
- D Un algorithme probabiliste

<b>Modèle CCYC : ©DNE</b>																															
<b>Nom de famille</b> (naissance) : <small>(Suivi s'il y a lieu, du nom d'usage)</small>																															
<b>Prénom(s) :</b>																															
<b>N° candidat :</b>											<b>N° d'inscription :</b>																				
 <small>Liberté • Égalité • Fraternité</small> <small>RÉPUBLIQUE FRANÇAISE</small>	<small>(Les numéros figurent sur la convocation.)</small>																														
	<b>Né(e) le :</b>			/			/																								

1.1

#### Question G.4

La fonction ci-dessous compte le nombre d'occurrences d'un élément  $x$  dans une liste  $L$  :

```
def compteur(L,x):
    n = 0
    for item in L:
        if item == x:
            n = n + 1
    return n
```

Comment évolue le temps d'exécution d'un appel de cette fonction si on prend comme argument une liste deux fois plus grande ?

#### Réponses

- A c'est le même temps d'exécution
- B le temps d'exécution est à peu près doublé
- C le temps d'exécution est à peu près quadruplé
- D impossible de le prévoir, cela dépend aussi de l'argument  $x$

#### Question G.5

La fonction suivante doit calculer la moyenne d'un tableau de nombres, passé en paramètre. Avec quelles expressions faut-il remplacer les points de suspension pour que la fonction soit correcte ?

```
def moyenne(tableau):
    total = ...
    for valeur in tableau:
        total = total + valeur
    return total / ...
```

#### Réponses

- A 1 et  $(\text{len}(\text{tableau}) + 1)$
- B 1 et  $\text{len}(\text{tableau})$
- C 0 et  $(\text{len}(\text{tableau}) + 1)$
- D 0 et  $\text{len}(\text{tableau})$

#### Question G.6

À quelle catégorie appartient l'algorithme des  $k$  plus proches voisins ?

#### Réponses

- A algorithmes de tri
- B algorithmes gloutons
- C algorithmes de recherche de chemins
- D algorithmes de classification et d'apprentissage