



Thème A : types de base

Réponse à la question 1	A <input type="checkbox"/>	B <input type="checkbox"/>	C <input type="checkbox"/>	D <input type="checkbox"/>
Réponse à la question 2	A <input type="checkbox"/>	B <input type="checkbox"/>	C <input type="checkbox"/>	D <input type="checkbox"/>
Réponse à la question 3	A <input type="checkbox"/>	B <input type="checkbox"/>	C <input type="checkbox"/>	D <input type="checkbox"/>
Réponse à la question 4	A <input type="checkbox"/>	B <input type="checkbox"/>	C <input type="checkbox"/>	D <input type="checkbox"/>
Réponse à la question 5	A <input type="checkbox"/>	B <input type="checkbox"/>	C <input type="checkbox"/>	D <input type="checkbox"/>
Réponse à la question 6	A <input type="checkbox"/>	B <input type="checkbox"/>	C <input type="checkbox"/>	D <input type="checkbox"/>

Thème B : types construits


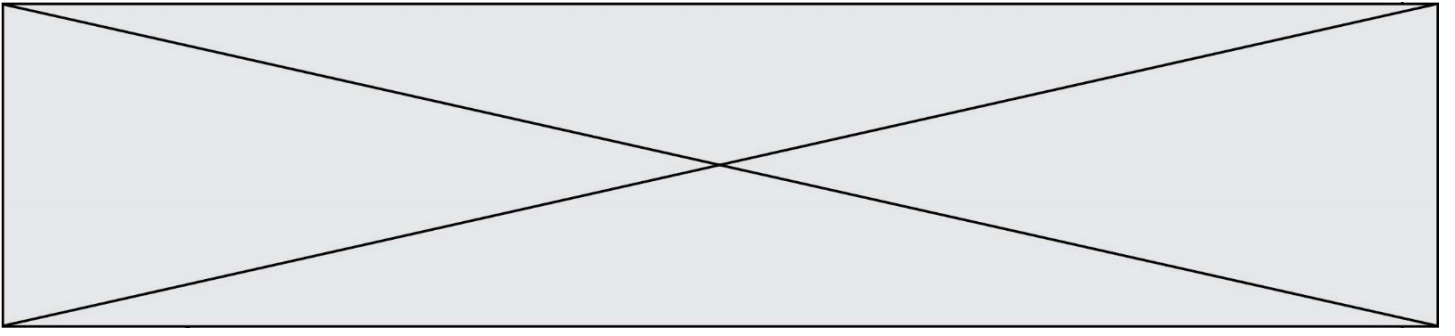
Réponse à la question 1	A <input type="checkbox"/>	B <input type="checkbox"/>	C <input type="checkbox"/>	D <input type="checkbox"/>
Réponse à la question 2	A <input type="checkbox"/>	B <input type="checkbox"/>	C <input type="checkbox"/>	D <input type="checkbox"/>
Réponse à la question 3	A <input type="checkbox"/>	B <input type="checkbox"/>	C <input type="checkbox"/>	D <input type="checkbox"/>
Réponse à la question 4	A <input type="checkbox"/>	B <input type="checkbox"/>	C <input type="checkbox"/>	D <input type="checkbox"/>
Réponse à la question 5	A <input type="checkbox"/>	B <input type="checkbox"/>	C <input type="checkbox"/>	D <input type="checkbox"/>
Réponse à la question 6	A <input type="checkbox"/>	B <input type="checkbox"/>	C <input type="checkbox"/>	D <input type="checkbox"/>

Thème C : traitement de données en tables

Réponse à la question 1	A <input type="checkbox"/>	B <input type="checkbox"/>	C <input type="checkbox"/>	D <input type="checkbox"/>
Réponse à la question 2	A <input type="checkbox"/>	B <input type="checkbox"/>	C <input type="checkbox"/>	D <input type="checkbox"/>
Réponse à la question 3	A <input type="checkbox"/>	B <input type="checkbox"/>	C <input type="checkbox"/>	D <input type="checkbox"/>
Réponse à la question 4	A <input type="checkbox"/>	B <input type="checkbox"/>	C <input type="checkbox"/>	D <input type="checkbox"/>
Réponse à la question 5	A <input type="checkbox"/>	B <input type="checkbox"/>	C <input type="checkbox"/>	D <input type="checkbox"/>
Réponse à la question 6	A <input type="checkbox"/>	B <input type="checkbox"/>	C <input type="checkbox"/>	D <input type="checkbox"/>

Thème D : interactions entre l'homme et la machine sur le Web

Réponse à la question 1	A <input type="checkbox"/>	B <input type="checkbox"/>	C <input type="checkbox"/>	D <input type="checkbox"/>
Réponse à la question 2	A <input type="checkbox"/>	B <input type="checkbox"/>	C <input type="checkbox"/>	D <input type="checkbox"/>
Réponse à la question 3	A <input type="checkbox"/>	B <input type="checkbox"/>	C <input type="checkbox"/>	D <input type="checkbox"/>
Réponse à la question 4	A <input type="checkbox"/>	B <input type="checkbox"/>	C <input type="checkbox"/>	D <input type="checkbox"/>
Réponse à la question 5	A <input type="checkbox"/>	B <input type="checkbox"/>	C <input type="checkbox"/>	D <input type="checkbox"/>
Réponse à la question 6	A <input type="checkbox"/>	B <input type="checkbox"/>	C <input type="checkbox"/>	D <input type="checkbox"/>





Question A.6

En ajoutant trois chiffres 0 à droite de l'écriture binaire d'un entier N strictement positif, on obtient l'écriture binaire de :

Réponses

- A $6 \times N$
- B $8 \times N$
- C $1000 \times N$
- D aucune des réponses précédentes



Question B.4

On dispose dans le tableau `annee2019` les températures mensuelles moyennes d'une région française.
On exécute le script suivant :

```
annee2019 = [('janvier',6), ('février',6), ('mars',12),
             ('avril',20), ('mai',23), ('juin',25),
             ('juillet',29), ('août',25), ('septembre',22),
             ('octobre',15), ('novembre',11), ('décembre',7)]

m = annee2019[0][1]
for mois in annee2019:
    if (m > mois[1]):
        m = mois[1]
```

Que contient la variable `m` à la fin de cette exécution ?

Réponses

- A le mois le plus froid
- B le mois le plus chaud
- C la température moyenne la plus basse
- D la température moyenne la plus haute

Question B.5

La fonction ci-dessous prend en argument deux nombres entiers.

```
def f(n1,n2):
    etendue = max(n1,n2)-min(n1,n2)
    moyenne = (n1+n2)/2
    return etendue,moyenne
```

Quel est le type de la valeur renvoyée par un appel à cette fonction ?

Réponses

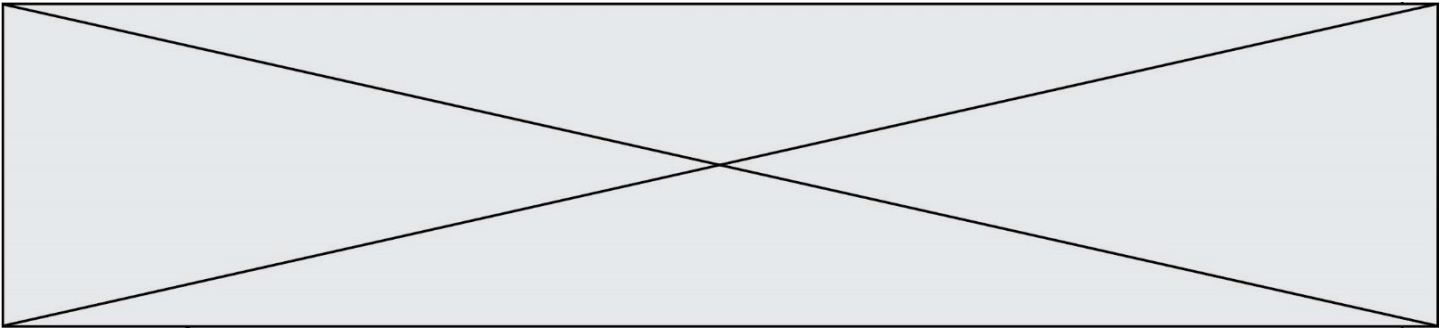
- A un entier
- B un réel (ou flottant)
- C un tuple
- D une liste

Question B.6

Quelle est la valeur de l'expression `[[0] * 3 for i in range(2)]` ?

Réponses

- A `[[0,0], [0,0], [0,0]]`
- B `[[0,0,0], [0,0,0]]`
- C `[[0.000], [0.000]]`
- D `[[0.00], [0.00], [0.00]]`



Question C.4

Quelle expression Python permet d'accéder au numéro de téléphone de Tournesol, sachant que le répertoire a été défini par l'affectation suivante :

```
repertoire = [{'nom': 'Dupont', 'tel': '5234'},  
              {'nom': 'Tournesol', 'tel': '5248'},  
              {'nom': 'Dupond',  
              'tel': '3452'}]
```

Réponses

- A repertoire['Tournesol']
- B repertoire['tel'][1]
- C repertoire[1]['tel']
- D repertoire['Tournesol']['tel']

Question C.5

On considère le code suivant :

```
def sort(f):  
    n = len(f)  
    for i in range(n-1):  
        indice_min = i  
        for j in range(i+1, n):  
            if f[j]['nom'] < f[indice_min]['nom']:  
                indice_min = j  
        f[i], f[indice_min] = f[indice_min], f[i]  
    return f  
  
fiche = [{"nom": "verveine", "prix": 5.99, "code": 135},  
         {"nom": "the", "prix": 2.99, "code": 81},  
         {"nom": "cafe", "prix": 7.99, "code": 125} ]
```

Que renvoie sort(fiche) ?

Réponses

- A [{"nom": 'verveine', 'prix': 5.99, 'code': 135},
 {'nom': 'the', 'prix': 2.99, 'code': 81},
 {'nom': 'cafe', 'prix': 7.99, 'code': 125}]
- B [{"nom": 'cafe', 'prix': 7.99, 'code': 125},
 {'nom': 'the', 'prix': 2.99, 'code': 81},
 {'nom': 'verveine', 'prix': 5.99, 'code': 135}]
- C [{"nom": 'the', 'prix': 2.99, 'code': 81},
 {'nom': 'verveine', 'prix': 5.99, 'code': 135},
 {'nom': 'cafe', 'prix': 7.99, 'code': 125}]
- D [{"nom": 'the', 'prix': 2.99, 'code': 81},
 {'nom': 'cafe', 'prix': 7.99, 'code': 125},
 {'nom': 'verveine', 'prix': 5.99, 'code': 135}]



Thème D : interactions entre l'homme et la machine sur le Web

Question D.1

Quelle balise HTML permet de créer des liens entre pages ?

Réponses

- A <r>
- B <l>
- C <link>
- D <a>

Question D.2

Mehdi a écrit une page HTML contenant des éléments `input` de formulaire. Il place ces éléments de formulaire :

Réponses

- A entre la balise `<form>` et la balise `</form>`
- B entre la balise `<formulary>` et la balise `</formulary>`
- C entre la balise `<code>` et la balise `</code>`
- D entre la balise `<script>` et la balise `</script>`

Question D.3

Dans un formulaire sur un page web, pour transmettre des données sécurisées comme un mot de passe ou un numéro de carte bancaire, il vaut mieux utiliser la méthode :

Réponses

- A HEAD
- B GET
- C HTTPS
- D POST

Question D.4

Dans une page HTML se trouve le formulaire suivant :

```
<form method="....." action="traitement.html">
  <p>Nom : <input type="text" name="nom"></p>
  <p>Mot de passe : <input type="password" name="mdp"></p>
  <p><input type="submit" name="envoi" value="Envoyer"></p>
</form>
```

Par quoi faut-il remplacer les pointillés pour que les données du formulaire n'apparaissent pas dans l'URL au moment où l'utilisateur soumet le formulaire au serveur ?

Réponses

- A GET
- B POST
- C SECRET
- D HIDDEN

Modèle CCYC : ©DNE

Nom de famille (naissance) :


(Suivi s'il y a lieu, du nom d'usage)

Prénom(s) :

N° candidat : N° d'inscription :

(Les numéros figurent sur la convocation.)

Né(e) le : / /



Liberté • Égalité • Fraternité
RÉPUBLIQUE FRANÇAISE

1.1

Question D.5

Parmi les langages suivants, lequel est exécuté sur le serveur lors de la consultation d'une page Web ?

Réponses

- A JavaScript
- B HTML
- C CSS
- D PHP

Question D.6

Après avoir tenté d'accéder à un site, le navigateur affiche : 403 Forbidden.

Cela signifie que :

Réponses

- A la connexion à Internet est défectueuse
- B le navigateur a refusé d'envoyer la requête
- C le serveur a répondu par un code d'erreur
- D le serveur n'a jamais répondu



Thème E : architectures matérielles et systèmes d'exploitation

Question E.1

Dans un établissement scolaire, tous les ordinateurs sont reliés au réseau local par l'intermédiaire de câbles Ethernet ; il n'existe pas de liaisons sans fil. Dans chaque salle d'ordinateurs, les machines sont reliées à un commutateur. Chaque commutateur est relié par un câble jusqu'à la salle où se situe le serveur contrôleur de domaine et la passerelle internet (routeur).

En début de séance, aucune personne de votre classe n'arrive à se connecter. Le même message d'erreur s'affiche « Aucun serveur d'authentification n'est joignable sur le réseau. » Parmi ces quatre propositions, laquelle est la plus vraisemblable ?

Réponses

- A Un de vos camarades a débranché accidentellement le câble Ethernet de votre machine.
- B Le routeur de l'étage est indisponible (il a été débranché ou est en panne).
- C Le commutateur de la salle est indisponible (il a été débranché ou est en panne).
- D La passerelle internet de l'établissement est indisponible (elle a été débranchée ou est en panne).

Question E.2

Dans un réseau informatique, que peut-on dire de la transmission de données par paquets ?

Réponses

- A cela empêche l'interception des données transmises
- B cela garantit que toutes les données empruntent le même chemin
- C cela assure une utilisation efficace des liens de connexion
- D cela nécessite la réservation d'un chemin entre l'émetteur et le récepteur

Question E.3

Quel matériel permet d'interconnecter des **ordinateurs** entre eux :

Réponses

- A un routeur
- B un commutateur (ou *switch*)
- C un interconnecteur
- D un serveur

Question E.4

Lorsqu'un utilisateur lance une application, le système d'exploitation va l'ouvrir dans :

Réponses

- A un espace disponible du disque SSD
- B un espace disponible du disque HDD
- C un espace disponible de la RAM
- D un espace disponible de la ROM

Modèle CCYC : ©DNE

Nom de famille (naissance) :


(Suivi s'il y a lieu, du nom d'usage)

Prénom(s) :

N° candidat : N° d'inscription :

(Les numéros figurent sur la convocation.)

Né(e) le : / /



1.1

Question E.5

Que peut-on dire du système de fichier, suite à l'exécution des commandes suivantes ?

```
% cd
% ls
Documents Images Videos help.txt tutorial.txt script.py
% mv *.txt Documents
```

Réponses

- A L'utilisateur Documents a pris possession des fichiers help.txt et tutorial.txt
- B Le répertoire /Documents contient maintenant les fichiers help.txt et tutorial.txt
- C Le répertoire Documents du répertoire de l'utilisateur contient maintenant les fichiers help.txt et tutorial.txt
- D script.py a été exécuté et a déplacé les fichiers textes

Question E.6

Parmi les adresses suivantes, laquelle est une adresse Ethernet non valide ?

Réponses

- A 8D:A9:D5:67:E6:F3
- B 8d:a9:d5:67:e6:f3
- C 8H:A9:D5:67:E6:F3
- D FF:A9:D5:67:E6:F3



Thème F : langages et programmation

Question F.1

Quelle est la valeur de la variable b à la fin de l'exécution du script suivant ?

```
a = 3
b = 6
if a > 5 or b != 3:
    b = 4
else:
    b = 2
```

Réponses

- A 2
- B 4
- C 5
- D 6

Question F.2

La fonction suivante ne calcule pas toujours correctement le maximum des deux nombres donnés en argument. On rappelle que $\text{abs}(z)$ calcule la valeur absolue du nombre z .

```
def maxi(x,y) :
    m = (x-y+abs(x+y))/2
    return m
```

Parmi les tests suivants, lequel va détecter l'erreur ?

Réponses

- A $\text{maxi}(3, -2)$
- B $\text{maxi}(2, 2)$
- C $\text{maxi}(3, 2)$
- D $\text{maxi}(2, 3)$

Question F.3

Parmi ces langages, lequel n'est pas un langage de programmation ?

Réponses

- A HTML
- B JavaScript
- C PHP
- D Python

Modèle CCYC : ©DNE

Nom de famille (naissance) :


(Suivi s'il y a lieu, du nom d'usage)

Prénom(s) :

N° candidat : N° d'inscription :

(Les numéros figurent sur la convocation.)

Né(e) le : / /



RÉPUBLIQUE FRANÇAISE

1.1

Question F.4

n étant un entier strictement positif, la fonction suivante calcule sa factorielle, c'est-à-dire le produit $1 \times 2 \times 3 \times \dots \times (n - 1) \times n$. Comment faut-il écrire la ligne en pointillée ci-dessous pour ce faire ?

```
def factorielle(n):
    f = 1
    .....
    f = f * i
    return f
```

Réponses

- A for i in range(1,n):
- B for i in range(n+1):
- C for i in range(0,n):
- D for i in range(1,n+1):

Question F.5

Quelle est la valeur de la variable n à la fin de l'exécution du script ci-dessous ?

```
n = 1
for i in range(4):
    n = n + 2
```

Réponses

- A 1
- B 8
- C 9
- D 18

Question F.6

Avec la définition de fonction `capital_double` suivante, que peut-on toujours affirmer à propos du résultat n retourné par la fonction ?

```
def capital_double (capital, interet):
    montant = capital
    n = 0
    while montant <= 2 * capital:
        montant = montant + interet
        n = n + 1
    return n
```

Réponses

- A `n == capital / interet`
- B `capital * n * interet > 2 * capital`
- C `capital + n * interet > 2 * capital`
- D `n == 2 * capital / interet`



Thème G : algorithmique

Question G.1

Pour trier par sélection une liste de 2500 entiers, le nombre de comparaisons nécessaires à l'algorithme est de l'ordre de :

Réponses

- A $\sqrt{2500}$
- B 2500
- C 2500^2
- D 2^{2500}

Question G.2

Un algorithme de recherche dichotomique dans une liste triée de taille n nécessite, dans le pire des cas, exactement k comparaisons.

Combien cet algorithme va-t-il utiliser, dans le pire des cas, de comparaisons sur une liste de taille $2n$?

Réponses

- A k
- B $k + 1$
- C $2k$
- D $2k + 1$

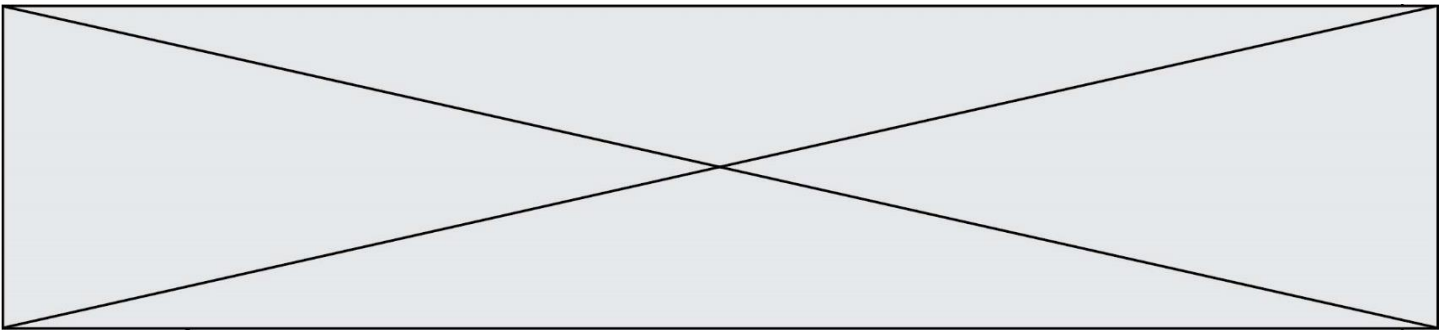
Question G.3

La fonction suivante doit calculer le produit de tous les éléments de la liste passée en paramètre. Avec quelles expressions doit-on la compléter pour que cette fonction soit correcte ?

```
def produit (L):  
    p = ...  
    for elt in L:  
        .....  
    return p
```

Réponses

- A 1 puis $p = p * elt$
- B 0 puis $p = p * elt$
- C 1 puis $p = elt$
- D 0 puis $p = elt$



Question G.6

On considère le code incomplet suivant qui recherche le maximum dans une liste.

```
liste = [5,12,15,3,15,17,29,1]
iMax = 0
for i in range(1,len(liste)):
    .....
    iMax = i

print (liste[iMax])
```

Par quoi faut-il remplacer la ligne pointillée ?

Réponses

- A if i > iMax:
- B if liste[i] > liste[iMax]:
- C if liste[i] > iMax:
- D if i > liste[iMax]: