


<b>Modèle CCYC : ©DNE</b>	
<b>Nom de famille (naissance) :</b> <i>(Suivi s'il y a lieu, du nom d'usage)</i>	
<b>Prénom(s) :</b>	
<b>N° candidat :</b>	<b>N° d'inscription :</b>
<i>(Les numéros figurent sur la convocation.)</i>	
<b>Né(e) le :</b>	



Liberté • Égalité • Fraternité  
RÉPUBLIQUE FRANÇAISE

1.1

## ÉVALUATION

**CLASSE :** Première

**VOIE :**  Générale  Technologique  Toutes voies (LV)

**ENSEIGNEMENT :** spécialité Numérique et Sciences Informatiques (NSI)

**DURÉE DE L'ÉPREUVE :** 02 h 00

**Niveaux visés (LV) :** LVA LVB

**Axes de programme :**

**CALCULATRICE AUTORISÉE :**  Oui  Non

**DICTIONNAIRE AUTORISÉ :**  Oui  Non

Ce sujet contient des parties à rendre par le candidat avec sa copie. De ce fait, il ne peut être dupliqué et doit être imprimé pour chaque candidat afin d'assurer ensuite sa bonne numérisation.

Ce sujet intègre des éléments en couleur. S'il est choisi par l'équipe pédagogique, il est nécessaire que chaque élève dispose d'une impression en couleur.

Ce sujet contient des pièces jointes de type audio ou vidéo qu'il faudra télécharger et jouer le jour de l'épreuve.

**Nombre total de pages :** 16

L'épreuve consiste en 42 questions, rangées en 7 thèmes.

Pour chaque question, le candidat gagne 3 points s'il choisit la bonne réponse, perd 1 point s'il choisit une réponse fautive. S'il ne répond pas ou choisit plusieurs réponses, il ne gagne ni ne perd aucun point.

Le total sur chacun des 7 thèmes est ramené à 0 s'il est négatif.

La note finale s'obtient en divisant le total des points par 6,3 et en arrondissant à l'entier supérieur.

**Le candidat indique ses réponses aux questions en pages 2 et 3.**

**Seules les pages 1 à 4 sont rendues par le candidat à la fin de l'épreuve, pour être numérisées.**

Les questions figurent sur les pages suivantes.



### **Thème A : types de base**

Réponse à la question 1	A <input type="checkbox"/>	B <input type="checkbox"/>	C <input type="checkbox"/>	D <input type="checkbox"/>
Réponse à la question 2	A <input type="checkbox"/>	B <input type="checkbox"/>	C <input type="checkbox"/>	D <input type="checkbox"/>
Réponse à la question 3	A <input type="checkbox"/>	B <input type="checkbox"/>	C <input type="checkbox"/>	D <input type="checkbox"/>
Réponse à la question 4	A <input type="checkbox"/>	B <input type="checkbox"/>	C <input type="checkbox"/>	D <input type="checkbox"/>
Réponse à la question 5	A <input type="checkbox"/>	B <input type="checkbox"/>	C <input type="checkbox"/>	D <input type="checkbox"/>
Réponse à la question 6	A <input type="checkbox"/>	B <input type="checkbox"/>	C <input type="checkbox"/>	D <input type="checkbox"/>

### **Thème B : types construits**

Réponse à la question 1	A <input type="checkbox"/>	B <input type="checkbox"/>	C <input type="checkbox"/>	D <input type="checkbox"/>
Réponse à la question 2	A <input type="checkbox"/>	B <input type="checkbox"/>	C <input type="checkbox"/>	D <input type="checkbox"/>
Réponse à la question 3	A <input type="checkbox"/>	B <input type="checkbox"/>	C <input type="checkbox"/>	D <input type="checkbox"/>
Réponse à la question 4	A <input type="checkbox"/>	B <input type="checkbox"/>	C <input type="checkbox"/>	D <input type="checkbox"/>
Réponse à la question 5	A <input type="checkbox"/>	B <input type="checkbox"/>	C <input type="checkbox"/>	D <input type="checkbox"/>
Réponse à la question 6	A <input type="checkbox"/>	B <input type="checkbox"/>	C <input type="checkbox"/>	D <input type="checkbox"/>

### **Thème C : traitement de données en tables**

Réponse à la question 1	A <input type="checkbox"/>	B <input type="checkbox"/>	C <input type="checkbox"/>	D <input type="checkbox"/>
Réponse à la question 2	A <input type="checkbox"/>	B <input type="checkbox"/>	C <input type="checkbox"/>	D <input type="checkbox"/>
Réponse à la question 3	A <input type="checkbox"/>	B <input type="checkbox"/>	C <input type="checkbox"/>	D <input type="checkbox"/>
Réponse à la question 4	A <input type="checkbox"/>	B <input type="checkbox"/>	C <input type="checkbox"/>	D <input type="checkbox"/>
Réponse à la question 5	A <input type="checkbox"/>	B <input type="checkbox"/>	C <input type="checkbox"/>	D <input type="checkbox"/>
Réponse à la question 6	A <input type="checkbox"/>	B <input type="checkbox"/>	C <input type="checkbox"/>	D <input type="checkbox"/>

### **Thème D : interactions entre l'homme et la machine sur le Web**

Réponse à la question 1	A <input type="checkbox"/>	B <input type="checkbox"/>	C <input type="checkbox"/>	D <input type="checkbox"/>
Réponse à la question 2	A <input type="checkbox"/>	B <input type="checkbox"/>	C <input type="checkbox"/>	D <input type="checkbox"/>
Réponse à la question 3	A <input type="checkbox"/>	B <input type="checkbox"/>	C <input type="checkbox"/>	D <input type="checkbox"/>
Réponse à la question 4	A <input type="checkbox"/>	B <input type="checkbox"/>	C <input type="checkbox"/>	D <input type="checkbox"/>
Réponse à la question 5	A <input type="checkbox"/>	B <input type="checkbox"/>	C <input type="checkbox"/>	D <input type="checkbox"/>
Réponse à la question 6	A <input type="checkbox"/>	B <input type="checkbox"/>	C <input type="checkbox"/>	D <input type="checkbox"/>

Modèle CCYC : ©DNE

Nom de famille (naissance) :

(Suivi s'il y a lieu, du nom d'usage)

Prénom(s) :

N° candidat :

(Les numéros figurent sur la convocation.)

N° d'inscription :



Liberté • Égalité • Fraternité  
RÉPUBLIQUE FRANÇAISE

Né(e) le :

1.1

**Thème E : architectures matérielles et systèmes d'exploitation**


- Réponse à la question 1    A     B     C     D   
Réponse à la question 2    A     B     C     D   
Réponse à la question 3    A     B     C     D   
Réponse à la question 4    A     B     C     D   
Réponse à la question 5    A     B     C     D   
Réponse à la question 6    A     B     C     D

**Thème F : langages et programmation**

- Réponse à la question 1    A     B     C     D   
Réponse à la question 2    A     B     C     D   
Réponse à la question 3    A     B     C     D   
Réponse à la question 4    A     B     C     D   
Réponse à la question 5    A     B     C     D   
Réponse à la question 6    A     B     C     D

**Thème G : algorithmique**

- Réponse à la question 1    A     B     C     D   
Réponse à la question 2    A     B     C     D   
Réponse à la question 3    A     B     C     D   
Réponse à la question 4    A     B     C     D   
Réponse à la question 5    A     B     C     D   
Réponse à la question 6    A     B     C     D



Modèle CCYC : ©DNE

Nom de famille (naissance) :  
(Suivi s'il y a lieu, du nom d'usage)

--	--	--	--	--	--	--	--	--	--	--	--	--	--	--	--	--	--	--	--	--	--	--	--	--	--

Prénom(s) :

--	--	--	--	--	--	--	--	--	--	--	--	--	--	--	--	--	--	--	--	--	--	--	--	--	--

N° candidat :

--	--	--	--	--	--	--	--	--	--	--	--	--	--	--	--

N° d'inscription :

--	--	--	--	--



Liberté · Égalité · Fraternité  
RÉPUBLIQUE FRANÇAISE

Né(e) le :

(Les numéros figurent sur la convocation.)

		/			/				
--	--	---	--	--	---	--	--	--	--

1..1

## Thème A : types de base

### Question A.1

Quel est le nombre minimum de bits qui permet de représenter les 26 lettres majuscules de l'alphabet ?

#### Réponses

- A 4
- B 5
- C 25
- D 26

### Question A.2

Quel est le nombre minimal de bits nécessaire pour représenter l'entier positif 79 en binaire ?

#### Réponses

- A 2
- B 6
- C 7
- D 8

### Question A.3

Quel est le résultat de l'addition binaire  $0100\ 1110 + 0110\ 1101$  ?

#### Réponses

- A 0101 1011
- B 1010 1101
- C 1011 0110
- D 1011 1011

### Question A.4

Dans quel système de numération 3F5 représente-t-il un nombre entier ?

#### Réponses

- A binaire (base 2)
- B octal (base 8)
- C décimal (base 10)
- D hexadécimal (base 16)

### Question A.5

Quelle est l'écriture en base 10 du nombre qui s'écrit F1 en base 16 ?

#### Réponses

- A 15
- B 150
- C 241
- D 256



### Question A.6

Combien de valeurs entières positives ou nulles un octet peut-il représenter ?

#### Réponses

- A 2
- B 8
- C 16
- D 256

## Thème B : types construits

### Question B.1

On dispose d'une table `tab` constituée d'une liste de trois sous-listes contenant chacune quatre caractères.

```
tab = [ ['A', 'B', 'C', 'D'],  
        ['E', 'F', 'G', 'H'],  
        ['I', 'J', 'K', 'L'] ]
```

Parmi les propositions suivantes, laquelle permet de convertir cette table en une liste `L` contenant dans l'ordre, ligne par ligne, les 12 caractères de `tab` ?

# à la fin, on a l'égalité :

```
L = [ 'A', 'B', 'C', 'D', 'E', 'F', 'G', 'H', 'I', 'J', 'K', 'L' ]
```

#### Réponses

- A 

```
L = []  
for i in range(3):  
    for j in range(4):  
        L.append(tab[i][j])
```
- B 

```
L = []  
for i in range(4):  
    for j in range(3):  
        L.append(tab[i][j])
```
- C 

```
L = []  
for i in range(3):  
    L.append(tab[i])
```
- D 

```
L = []  
for i in range(4):  
    L.append(tab[i])
```

Modèle CCYC : ©DNE

Nom de famille (naissance) :  
(Suivi s'il y a lieu, du nom d'usage)

--	--	--	--	--	--	--	--	--	--	--	--	--	--	--	--	--	--	--	--	--	--	--

Prénom(s) :

--	--	--	--	--	--	--	--	--	--	--	--	--	--	--	--	--	--	--	--	--	--	--

N° candidat :

--	--	--	--	--	--	--	--	--	--	--	--	--	--	--

N° d'inscription :

--	--	--	--



Né(e) le :

(Les numéros figurent sur la convocation.)

		/			/				
--	--	---	--	--	---	--	--	--	--

1.1

### Question B.2

On considère le code suivant :

```
D = { 'a': '1', '2': 'a', 'b': 'a', 'c': '3' }
```

Que vaut D['a'] à la fin de son exécution ?

#### Réponses

- A '1'
- B 2
- C [ '2', 'b' ]
- D [ '1', '3' ]

### Question B.3

On définit : t = [2, 8, 9, 2]

Quelle est la valeur de l'expression [ x\*x for x in t ] ?

#### Réponses

- A une erreur
- B [[2, 8, 9, 2], [2, 8, 9, 2]]
- C [2, 8, 8, 9, 9, 9, 2, 2, 2, 2]
- D [4, 64, 81, 4]

### Question B.4

Laquelle de ces expressions a pour valeur la liste [[0,1,2],[3,4,5],[6,7,8]] ?

#### Réponses

- A [[i+j for i in range(3)] for j in range(3)]
- B [[i]\*3 for i in range(3)]\*3
- C [[i+j\*3 for i in range(3)] for j in range(3)]
- D [[i+j for i in range(3)] for j in range(3)]\*3

### Question B.5

Que vaut l'expression [ 2\*k for k in range(5) ] ?

#### Réponses

- A [0,2,4,6,8]
- B [2,4,6,8,10]
- C [1,2,4,8,16]
- D [2,4,8,16,32]

### Question B.6

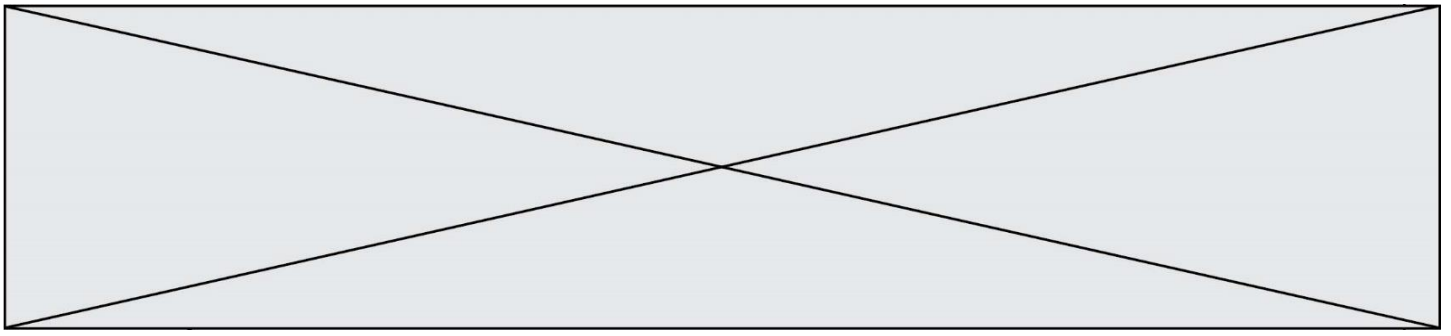
On considère le code suivant :

```
t = [0, 3, 5, 7, 9]
t[9] = 3 + t[5]
```

Que vaut t à la fin de son exécution ?

#### Réponses

- A [0, 3, 5, 7, 9]
- B [0, 3, 5, 7, 9, 3]
- C [0, 3, 5, 7, 9, 8]
- D l'exécution déclenche une erreur



## Thème C : traitement de données en tables

### Question C.1

Laquelle de ces listes de chaînes de caractères est triée en ordre croissant ?

#### Réponses

- A ['8', '12', '142', '21']
- B ['8', '12', '21', '142']
- C ['12', '142', '21', '8']
- D ['12', '21', '8', '142']

### Question C.2

On définit :

```
T = [ {'fruit': 'banane', 'nombre': 25}, {'fruit': 'orange', 'nombre': 124},  
      {'fruit': 'pomme', 'nombre': 75}, {'fruit': 'kiwi', 'nombre': 51} ]
```

Quelle expression a-t-elle pour valeur le nombre de pommes ?

#### Réponses

- A T[2]['nombre']
- B T[2,'nombre']
- C T[3]['nombre']
- D T[3,'nombre']

### Question C.3

L'entier positif dont l'écriture binaire est 0011 1011 se représente en hexadécimal (base 16) par :

#### Réponses

- A 32
- B 33
- C 3B
- D B3

### Question C.4

On considère la table suivants :

```
t = [ {'type': 'marteau', 'prix': 17, 'quantité': 32},  
      {'type': 'scie', 'prix': 24, 'quantité': 3},  
      {'type': 'tournevis', 'prix': 8, 'quantité': 45} ]
```

Quelle expression permet d'obtenir la quantité de scies ?

#### Réponses

- A t[2]['quantité']
- B t[1]['quantité']
- C t['quantité'][1]
- D t['scies']['quantité']



**Modèle CCYC : ©DNE**


**Nom de famille** (naissance) :   
*(Suivi s'il y a lieu, du nom d'usage)*

**Prénom(s)** :

**N° candidat** :  **N° d'inscription** :

(Les numéros figurent sur la convocation.)

**Né(e) le** :  /  /



Liberté • Égalité • Fraternité  
RÉPUBLIQUE FRANÇAISE

1.1

### Question C.5

On considère une table de données <films> qui est une liste de dictionnaires "Titre", "Réalisateur", "Date".  
 Un enregistrement de la table contient un titre de film, le nom de son réalisateur et l'année de sortie du film.

```
films = [{"Titre": "ET", "Réalisateur": "Spielberg", "Date": 1982},
         {"Titre": "Ready Player One", "Réalisateur": "Spielberg", "Date": 2018},
         {"Titre": "The Artist", "Réalisateur": "Hazanavicius", "Date": 2011},
         ...]
```

On souhaite obtenir la liste des films réalisés par "Spielberg" ou par "Hazanavicius" depuis l'année 2000.  
 Quelle doit être la condition utilisée pour sélectionner les enregistrements correspondants, lors du parcours de la table ?

#### Réponses

- A film["Réalisateur"] == "Spielberg" or film["Réalisateur"] == "Hazanavicius")  
and film["Date"] >= 2000
- B film["Réalisateur"] == "Spielberg" and film["Réalisateur"] == "Hazanavicius"  
and film["Date"] >= 2000
- C film["Réalisateur"] == "Spielberg" or film["Réalisateur"] == "Hazanavicius"  
or film["Date"] >= 2000
- D (film["Réalisateur"] == "Spielberg" and film["Réalisateur"] == "Hazanavicius")  
or film["Date"] >= 2000

### Question C.6

On considère l'extraction suivante d'une base de données des départements français. Cette extraction a ensuite été sauvegardée dans un fichier texte.

```
"1","01","Ain","AIN","ain","A500"
"2","02","Aisne","AISNE","aisne","A250"
"3","03","Allier","ALLIER","allier","A460"
"4","04","Alpes-de-Haute-Provence","ALPES-DE-HAUTE-PROVENCE","alpes-de-haute-
provence","A412316152"
"5","05","Hautes-Alpes","HAUTES-ALPES","hautes-alpes","H32412"
```

Quel est le format de ce fichier ?

#### Réponses

- A YML
- B XML
- C CSV
- D JSON



## Thème D : interactions entre l'homme et la machine sur le Web

### Question D.1

Lequel des termes suivants ne désigne pas un protocole de transmission par un réseau :

#### Réponses

- A HTTP
- B WWW
- C TCP
- D IP

### Question D.2

Quel est le nom d'un protocole qui permet à un client de faire une requête de page Web auprès d'un serveur ?

#### Réponses

- A WWW
- B FTP
- C HTTP
- D DNS

### Question D.3

Lors de la consultation d'une page HTML, contenant un bouton auquel est associée la fonction javascript suivante, que se passe-t-il quand on clique sur ce bouton ?

```
function action(event) {  
    this.style.color = "red"  
}
```

#### Réponses


- A le pointeur de souris devient rouge lorsqu'il arrive sur le bouton
- B le texte du bouton devient rouge
- C le texte du bouton est remplacé par le mot "red"
- D le texte de la page passe en rouge

### Question D.4

Dans quels langages les balises <img> et <form> sont-elles utilisées ?

#### Réponses

- A Python
- B HTML
- C Javascript
- D PHP

Modèle CCYC : ©DNE																				
Nom de famille (naissance) : <small>(Suivi s'il y a lieu, du nom d'usage)</small>																				
Prénom(s) :																				
N° candidat :											N° d'inscription :									
 Liberté • Égalité • Fraternité RÉPUBLIQUE FRANÇAISE	(Les numéros figurent sur la convocation.)																			
Né(e) le :			/			/														

1.1

#### Question D.5

Quel est le nom de l'événement généré lorsque l'utilisateur clique sur un bouton de type button dans une page HTML ?

#### Réponses

- A action
- B mouse
- C submit
- D click

#### Question D.6

Charles veut accéder à son forum favori. Il saisit son adresse (URL) sur son navigateur Web, qui lui affiche une erreur 404.

Quelle cas de figure n'explique pas sa situation ?

#### Réponses

- A une mise à jour du serveur qui héberge le forum
- B une erreur de saisie de sa part
- C une panne de sa connexion internet
- D un changement de titre du forum qu'il veut consulter

## Thème E : architectures matérielles et systèmes d'exploitation

#### Question E.1

Depuis le répertoire /home/ubuntu/ on exécute la commande

```
mkdir ./Documents/Holidays
```

Quel est son effet ?

#### Réponses

- A supprimer le dossier Holidays situé dans Documents
- B changer de répertoire pour se retrouver dans le répertoire /home/Documents/Holidays
- C créer un dossier Holidays dans le répertoire /home/ubuntu/Documents
- D lister le contenu du répertoire Holidays de Documents

#### Question E.2

Quel matériel permet d'interconnecter des ordinateurs entre eux :

#### Réponses

- A un routeur
- B un commutateur (ou switch)
- C un interconnecteur
- D un serveur

#### Question E.3

Dans le protocole de communication IP :

#### Réponses

- A Les données sont envoyées en une seule partie.
- B Les données sont envoyées en plusieurs parties qui suivent le même itinéraire au sein du réseau.
- C Les données sont envoyées en plusieurs parties qui suivent des itinéraires différents au sein du réseau et arrivent à destination en respectant l'ordre de leur envoi.
- D Les données sont envoyées en plusieurs parties qui suivent des itinéraires différents au sein du réseau et arrivent à destination dans un ordre quelconque.

**Question E.4**

Dans la console Linux, quelle commande faut-il exécuter pour effacer le fichier test0.csv ?

**Réponses**

- A rm test0.csv
- B cp test0.csv
- C ls test0.csv
- D mv test0.csv

**Question E.5**

Un protocole est un ensemble de ...

**Réponses**

- A matériels connectés entre eux
- B serveurs et de clients connectés entre eux
- C règles qui régissent les échanges entre équipements informatiques
- D règles qui régissent les échanges entre un système d'exploitation et les applications

**Question E.6**

Dans un établissement scolaire, tous les ordinateurs sont reliés au réseau local par l'intermédiaire de câbles Ethernet ; il n'existe pas de liaisons sans fil. Dans chaque salle d'ordinateurs, les machines sont reliées à un commutateur. Chaque commutateur est relié par un câble jusqu'à la salle où se situe le serveur contrôleur de domaine et la passerelle internet (routeur).

En début de séance, aucune personne de votre classe n'arrive à se connecter. Le même message d'erreur s'affiche « Aucun serveur d'authentification n'est joignable sur le réseau. » Parmi ces quatre propositions, laquelle est la plus vraisemblable ?

**Réponses**

- A Un de vos camarades a débranché accidentellement le câble Ethernet de votre machine.
- B Le routeur de l'étage est indisponible (il a été débranché ou est en panne).
- C Le commutateur de la salle est indisponible (il a été débranché ou est en panne).
- D La passerelle internet de l'établissement est indisponible (elle a été débranchée ou est en panne).

Modèle CCYC : ©DNE

Nom de famille (naissance) :

(Suivi s'il y a lieu, du nom d'usage)

Prénom(s) :

N° candidat :  N° d'inscription :

(Les numéros figurent sur la convocation.)

Né(e) le :  /  /



RÉPUBLIQUE FRANÇAISE

1.1

## Thème F : langages et programmation

### Question F.1

On définit la fonction :

```
def f(a,b):
    assert b!=0,'le deuxième argument est nul'
    result = a/b
    return result
```

Qu'obtient-on en exécutant la commande  $r = f(4,0)$  ?

#### Réponses

- A une erreur ZeroDivisionError: division by zero et l'arrêt de l'exécution
- B une erreur NameError: name 'b' is not defined et l'arrêt de l'exécution
- C une erreur AssertionError: le deuxième argument est nul et la variable r prend la valeur 0
- D une erreur AssertionError: le deuxième argument est nul et l'arrêt de l'exécution

### Question F.2

On exécute le code suivant :

```
def f(t):
    n = len(t)
    for k in range(1,n):
        t[k] = t[k] + t[k-1]
```

L = [1, 3, 4, 5, 2]  
f(L)

Quelle est la valeur de L après l'exécution de ce code ?

#### Réponses

- A [1, 3, 4, 5, 2]
- B [1, 4, 7, 9, 7]
- C [1, 4, 8, 13, 15]
- D [3, 6, 10, 15, 17]

### Question F.3

Quelles sont les valeurs des variables x et y à la fin de l'exécution du script suivant :

```
x = 4
while x > 0:
    y = 1
    while y < x:
        y = y + 1
        x = x - 1
```

#### Réponses

- A l'exécution ne termine pas !
- B la valeur de x est 0, celle de y est 0
- C la valeur de x est 0, celle de y est 1
- D la valeur de x est -1, celle de y est 0



#### Question F.4

On considère le code suivant

```
def moyenne(notes):  
    somme = 0  
    for cpt in range(len(notes)):  
        ....  
    m = somme/len(notes)  
    return m
```

Par quoi remplacer la ligne en pointillée pour que cette fonction calcule la moyenne d'une liste de nombres ?

#### Réponses

- A somme = somme + notes[cpt]
- B somme = notes[cpt]
- C somme = cpt
- D somme = somme + cpt

#### Question F.5

La fonction Python suivante ne calcule pas toujours correctement le résultat de  $x^y$  pour des arguments entiers.

Parmi les tests suivants, lequel va permettre de détecter l'erreur ?

```
def puissance (x,y):  
    p = x  
    for i in range (y - 1):  
        p = p * x  
    return p
```

#### Réponses

- A puissance(2,0)
- B puissance(2,1)
- C puissance(2,2)
- D puissance(2,10)

#### Question F.6

On considère le code suivant :

```
if x < 4:  
    x = x + 3  
else:  
    x = x - 3
```

Quelle construction élémentaire peut-on identifier ?

#### Réponses

- A une boucle non bornée
- B une structure conditionnelle
- C une boucle bornée
- D un appel de fonction

Modèle CCYC : ©DNE

Nom de famille (naissance) :


(Suivi s'il y a lieu, du nom d'usage)

Prénom(s) :

N° candidat :  N° d'inscription :

(Les numéros figurent sur la convocation.)

Né(e) le :  /  /



Liberté • Égalité • Fraternité  
RÉPUBLIQUE FRANÇAISE

1.1

## Thème G : algorithmique

### Question G.1

La fonction suivante doit calculer le produit de tous les éléments de la liste passée en paramètre. Avec quelles expressions doit-on la compléter pour que cette fonction soit correcte ?

```
def produit (L):
    p = ...
    for elt in L:
        .....
    return p
```

### Réponses

- A 1 puis  $p = p * elt$
- B 0 puis  $p = p * elt$
- C 1 puis  $p = elt$
- D 0 puis  $p = elt$

### Question G.2

Quelle est la valeur du couple (s,i) à la fin de l'exécution du script suivant ?

```
s = 0
i = 1
while i < 5:
    s = s + i
    i = i + 1
```

### Réponses

- A (4, 5)
- B (10, 4)
- C (10, 5)
- D (15, 5)

### Question G.3

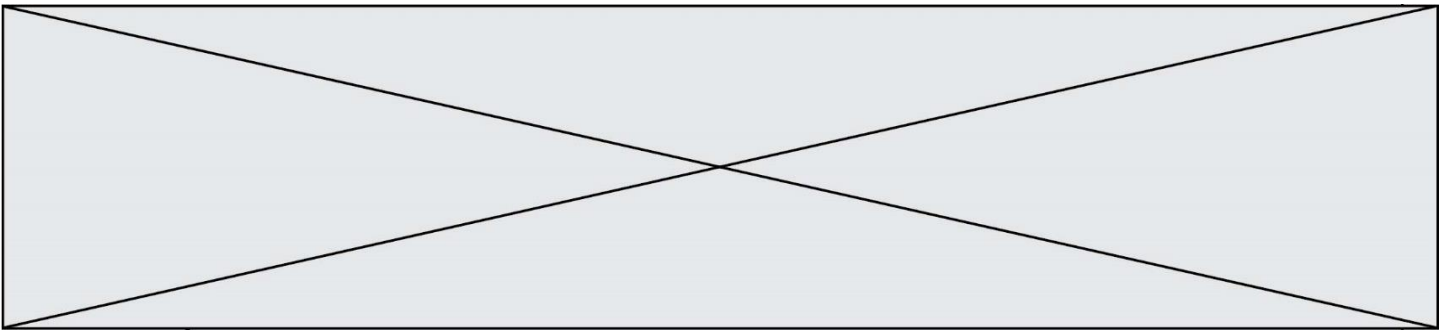
On exécute le script suivant :

```
for i in range(n):
    for j in range(i):
        print('NSI')
```

Combien de fois le mot NSI est-il affiché ?

### Réponses

- A  $n^2$
- B  $(n + 1)^2$
- C  $1 + 2 + \dots + (n - 1)$
- D  $1 + 2 + \dots + (n - 1) + n$



#### Question G.4

On considère la fonction suivante :

```
def trouverLettre(phrase,lettre):  
    indexResultat = 0  
    for i in range(len(phrase)):  
        if phrase[i]== lettre:  
            indexResultat=i  
    return indexResultat
```

Que renvoie l'appel trouverLettre("Vive l'informatique","e") ?

#### Réponses

- A 3
- B 4
- C 18
- D "e"

#### Question G.5

Quelle est la valeur de X/m à la fin de l'exécution du code suivant :

```
L = [1,2,3,4,1,2,3,4,0,2]  
X = 0  
m = 0  
for k in L:  
    X = X + k  
    m = m + 1
```

#### Réponses

- A 2
- B 2.2
- C 10
- D 22

#### Question G.6

La fonction suivante doit déterminer la valeur maximale d'un tableau de nombres passé en argument. Avec quelles expressions faut-il remplacer les pointillés du script suivant pour que la fonction soit correcte ?

```
def maximum(T):  
    maxi = T[0]  
    n = len(T)  
    for i in range(i, .....):  
        if T[i] > maxi:  
            maxi = .....  
    return maxi
```

#### Réponses

- A n puis T[i]
- B n puis T[i-1]
- C n-1 puis T[i]
- D n-1 puis T[i-1]