

**Modèle CCYC : ©DNE**


**Nom de famille** (naissance) : (S'inscrit s'il y a lieu, du nom d'usage)

**Prénom(s) :**

**N° candidat :**  **N° d'inscription :**

(Les numéros figurent sur la convocation.)

**Né(e) le :**  /  /



1.1

**ÉVALUATION**

**CLASSE :** Première

**VOIE :**  Générale  Technologique  Toutes voies (LV)

**ENSEIGNEMENT :** spécialité Numérique et Sciences Informatiques (NSI)

**DURÉE DE L'ÉPREUVE :** 02 h 00

**Niveaux visés (LV) :** LVA                      LVB

**Axes de programme :**

**CALCULATRICE AUTORISÉE :**  Oui  Non

**DICTIONNAIRE AUTORISÉ :**     Oui  Non

Ce sujet contient des parties à rendre par le candidat avec sa copie. De ce fait, il ne peut être dupliqué et doit être imprimé pour chaque candidat afin d'assurer ensuite sa bonne numérisation.

Ce sujet intègre des éléments en couleur. S'il est choisi par l'équipe pédagogique, il est nécessaire que chaque élève dispose d'une impression en couleur.

Ce sujet contient des pièces jointes de type audio ou vidéo qu'il faudra télécharger et jouer le jour de l'épreuve.

**Nombre total de pages : 16**

L'épreuve consiste en 42 questions, rangées en 7 thèmes.

Pour chaque question, le candidat gagne 3 points s'il choisit la bonne réponse, perd 1 point s'il choisit une réponse fautive. S'il ne répond pas ou choisit plusieurs réponses, il ne gagne ni ne perd aucun point.

Le total sur chacun des 7 thèmes est ramené à 0 s'il est négatif.

La note finale s'obtient en divisant le total des points par 6,3 et en arrondissant à l'entier supérieur.

**Le candidat indique ses réponses aux questions en pages 2 et 3.**

**Seules les pages 1 à 4 sont rendues par le candidat à la fin de l'épreuve, pour être numérisées.**

Les questions figurent sur les pages suivantes.



### **Thème A : types de base**

Réponse à la question 1	A <input type="checkbox"/>	B <input type="checkbox"/>	C <input type="checkbox"/>	D <input type="checkbox"/>
Réponse à la question 2	A <input type="checkbox"/>	B <input type="checkbox"/>	C <input type="checkbox"/>	D <input type="checkbox"/>
Réponse à la question 3	A <input type="checkbox"/>	B <input type="checkbox"/>	C <input type="checkbox"/>	D <input type="checkbox"/>
Réponse à la question 4	A <input type="checkbox"/>	B <input type="checkbox"/>	C <input type="checkbox"/>	D <input type="checkbox"/>
Réponse à la question 5	A <input type="checkbox"/>	B <input type="checkbox"/>	C <input type="checkbox"/>	D <input type="checkbox"/>
Réponse à la question 6	A <input type="checkbox"/>	B <input type="checkbox"/>	C <input type="checkbox"/>	D <input type="checkbox"/>

### **Thème B : types construits**

Réponse à la question 1	A <input type="checkbox"/>	B <input type="checkbox"/>	C <input type="checkbox"/>	D <input type="checkbox"/>
Réponse à la question 2	A <input type="checkbox"/>	B <input type="checkbox"/>	C <input type="checkbox"/>	D <input type="checkbox"/>
Réponse à la question 3	A <input type="checkbox"/>	B <input type="checkbox"/>	C <input type="checkbox"/>	D <input type="checkbox"/>
Réponse à la question 4	A <input type="checkbox"/>	B <input type="checkbox"/>	C <input type="checkbox"/>	D <input type="checkbox"/>
Réponse à la question 5	A <input type="checkbox"/>	B <input type="checkbox"/>	C <input type="checkbox"/>	D <input type="checkbox"/>
Réponse à la question 6	A <input type="checkbox"/>	B <input type="checkbox"/>	C <input type="checkbox"/>	D <input type="checkbox"/>

### **Thème C : traitement de données en tables**

Réponse à la question 1	A <input type="checkbox"/>	B <input type="checkbox"/>	C <input type="checkbox"/>	D <input type="checkbox"/>
Réponse à la question 2	A <input type="checkbox"/>	B <input type="checkbox"/>	C <input type="checkbox"/>	D <input type="checkbox"/>
Réponse à la question 3	A <input type="checkbox"/>	B <input type="checkbox"/>	C <input type="checkbox"/>	D <input type="checkbox"/>
Réponse à la question 4	A <input type="checkbox"/>	B <input type="checkbox"/>	C <input type="checkbox"/>	D <input type="checkbox"/>
Réponse à la question 5	A <input type="checkbox"/>	B <input type="checkbox"/>	C <input type="checkbox"/>	D <input type="checkbox"/>
Réponse à la question 6	A <input type="checkbox"/>	B <input type="checkbox"/>	C <input type="checkbox"/>	D <input type="checkbox"/>

### **Thème D : interactions entre l'homme et la machine sur le Web**

Réponse à la question 1	A <input type="checkbox"/>	B <input type="checkbox"/>	C <input type="checkbox"/>	D <input type="checkbox"/>
Réponse à la question 2	A <input type="checkbox"/>	B <input type="checkbox"/>	C <input type="checkbox"/>	D <input type="checkbox"/>
Réponse à la question 3	A <input type="checkbox"/>	B <input type="checkbox"/>	C <input type="checkbox"/>	D <input type="checkbox"/>
Réponse à la question 4	A <input type="checkbox"/>	B <input type="checkbox"/>	C <input type="checkbox"/>	D <input type="checkbox"/>
Réponse à la question 5	A <input type="checkbox"/>	B <input type="checkbox"/>	C <input type="checkbox"/>	D <input type="checkbox"/>
Réponse à la question 6	A <input type="checkbox"/>	B <input type="checkbox"/>	C <input type="checkbox"/>	D <input type="checkbox"/>

Modèle CCYC : ©DNE

Nom de famille (naissance) :


*(Suivi s'il y a lieu, du nom d'usage)*

Prénom(s) :

N° candidat :  N° d'inscription :

(Les numéros figurent sur la convocation.)

Né(e) le :  /  /



Liberté • Égalité • Fraternité  
RÉPUBLIQUE FRANÇAISE

1.1

### Thème E : architectures matérielles et systèmes d'exploitation


- Réponse à la question 1      A      B      C      D
- Réponse à la question 2      A      B      C      D
- Réponse à la question 3      A      B      C      D
- Réponse à la question 4      A      B      C      D
- Réponse à la question 5      A      B      C      D
- Réponse à la question 6      A      B      C      D

### Thème F : langages et programmation

- Réponse à la question 1      A      B      C      D
- Réponse à la question 2      A      B      C      D
- Réponse à la question 3      A      B      C      D
- Réponse à la question 4      A      B      C      D
- Réponse à la question 5      A      B      C      D
- Réponse à la question 6      A      B      C      D

### Thème G : algorithmique

- Réponse à la question 1      A      B      C      D
- Réponse à la question 2      A      B      C      D
- Réponse à la question 3      A      B      C      D
- Réponse à la question 4      A      B      C      D
- Réponse à la question 5      A      B      C      D
- Réponse à la question 6      A      B      C      D



**Modèle CCYC : ©DNE**

**Nom de famille** (naissance) :

(Suivi s'il y a lieu, du nom d'usage)


**Prénom(s)** :

**N° candidat** :

**N° d'inscription** :

(Les numéros figurent sur la convocation.)

**Né(e) le** :   /   /

 Liberté • Égalité • Fraternité  
RÉPUBLIQUE FRANÇAISE

1.1

## Thème A : types de base

### Question A.1

Quelle est l'écriture hexadécimale (en base 16) du nombre entier 157 ?

#### Réponses

- A 8F
- B 9C
- C 9D
- D AD

### Question A.2

Le résultat de l'addition en binaire  $101001 + 101$  est égal au nombre binaire :

#### Réponses

- A 101102
- B 010101
- C 101110
- D 110000

### Question A.3

Un entier positif est représenté sur 8 bits par 0001 0110.

En utilisant le complément à 2, quelle est la représentation sur 8 bits de son opposé ?

#### Réponses

- A 1001 0110
- B 1110 1001
- C 1110 1010
- D 1001 0111

### Question A.4

Si A et B sont des variables booléennes, laquelle de ces expressions booléennes est équivalente à (not A) or B ?

#### Réponses

- A (A and B) or (not A and B)
- B (A and B) or (not A and B) or (not A and not B)
- C (not A and B) or (not A and not B)
- D (A and B) or (not A and not B)

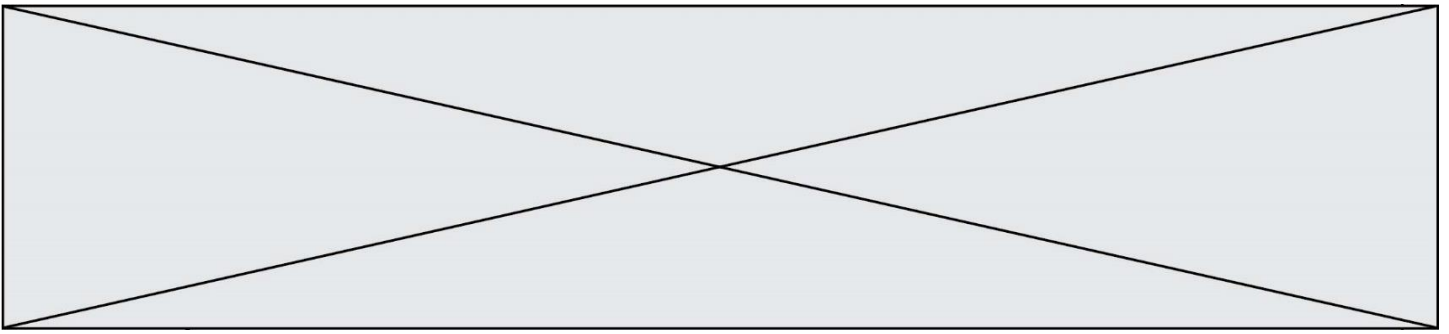
### Question A.5

Choisir une expression booléenne pour la variable S qui satisfait la table de vérité suivante.

A	B	S
0	0	1
0	1	0
1	0	1
1	1	1

#### Réponses

- A A ou (non B)
- B (non A) ou B
- C (non A) ou (non B)
- D non (A ou B)



### Question A.6

Combien de bits sont nécessaires pour écrire le nombre entier 16 en base 2 ?

#### Réponses

- A 4
- B 5
- C 6
- D 7

## Thème B : types construits

### Question B.1

Quelle est la valeur de la variable S à la fin de l'exécution du script suivant ?

```
res = [ [1,2,3], [4,5,6], [7,8,9] ]
S = 0
for i in range(3):
    S = S + res[i][2]
```

#### Réponses

- A 12
- B 15
- C 18
- D 24

### Question B.2

Quelle est la valeur de l'expression [ 2\*k + 1 for k in range(4) ] ?

#### Réponses

- A [1,3,5,7]
- B [0,1,2,3]
- C [3,5,7,9]
- D [1,2,3,4]

### Question B.3

On construit une matrice par compréhension :

```
M = [ [i*j for j in range(4)] for i in range(4) ]
```

Laquelle des conditions suivantes est-elle vérifiée ?

#### Réponses

- A  $M[4][4] == 16$
- B  $M[0][1] == 1$
- C  $M[2][3] == 6$
- D  $M[1][2] == 3$

Modèle CCYC : ©DNE

Nom de famille (naissance) :

(Suivi s'il y a lieu, du nom d'usage)

Prénom(s) :

N° candidat :

N° d'inscription :



Liberté • Égalité • Fraternité  
RÉPUBLIQUE FRANÇAISE

Né(e) le :

(Les numéros figurent sur la convocation.)

1.1

#### Question B.4

Si a vaut False et b vaut True, que vaut l'expression booléenne NOT(a AND b) ?

##### Réponses

- A 0
- B False
- C True
- D None

#### Question B.5

Quel est le type de la variable billes définie par :

```
billes = {'vert': 6, 'rouge': 15, 'bleu': 11, 'jaune': 2, 'orange': 17 }
```

##### Réponses

- A c'est une séquence
- B c'est une liste
- C c'est une liste de listes
- D c'est un dictionnaire

#### Question B.6

Quelle est la valeur de l'expression `[[i,2*i] for i in range(3)]` ?

##### Réponses

- A [0,0,1,2,2,4]
- B [[0,0],[1,2],[2,4]]
- C [1,2,2,4,3,6]
- D [[1,2],[2,4],[3,6]]

## Thème C : traitement de données en tables

#### Question C.1

Quelle expression Python permet d'accéder au numéro de téléphone de Tournesol, sachant que le répertoire a été défini par l'affectation suivante :

```
repertoire = [ {'nom':'Dupont', 'tel':'5234'},  
               {'nom':'Tournesol', 'tel':'5248'}, {'nom':'Dupond', 'tel':'3452'}]
```

##### Réponses

- A repertoire["Tournesol"]
- B repertoire['tel'][1]
- C repertoire[1]['tel']
- D repertoire["Tournesol"]['tel']

#### Question C.2

On exécute le code suivant :

```
table = [ ['lovelace', 'ada', 1815, 1852],  
          ['von neumann', 'john', 1903, 1957],  
          ['turing', 'alan', 1912, 1954],  
          ['mccarthy', 'john', 1927, 2011],  
          ['floyd', 'robert', 1936, 2001] ]
```



L = []

```
for index in range(len(table)):
    if table[index][3] > 1954:
        L.append(index)
```

Quelle est la valeur de la liste L à la suite de cette exécution ?

**Réponses**

- A ['von neumann', 'mccarthy', 'floyd']
- B [1957, 2011, 2001]
- C [1, 3, 4]
- D ['lovelace', 'turing']

**Question C.3**

Quel type de fichier est le plus adapté au traitement des données ?

**Réponses**

- A PNG
- B PDF
- C CSV
- D DOC

**Question C.4**

On définit :

```
T = [ {'fruit': 'banane', 'nombre': 25}, {'fruit': 'orange', 'nombre': 124},
      {'fruit': 'pomme', 'nombre': 75}, {'fruit': 'kiwi', 'nombre': 51} ]
```

Quelle expression a-t-elle pour valeur le nombre de pommes ?

**Réponses**

- A T[2]['nombre']
- B T[2,'nombre']
- C T[3]['nombre']
- D T[3,'nombre']




Modèle CCYC : ©DNE  
**Nom de famille** (naissance) :   
(Suivi s'il y a lieu, du nom d'usage)

**Prénom(s)** :

**N° candidat** :  **N° d'inscription** :

(Les numéros figurent sur la convocation.)

**Né(e) le** :  /  /



Liberté • Égalité • Fraternité  
 RÉPUBLIQUE FRANÇAISE

1.1

**Question C.5**

On exécute le code suivant :

```
dict = { "alexandre" : 17, "mehdi" : 18, "jeanne" : 16,
        "charlotte" : 19, "celina" : 18, "noé" : 19 }
```

```
def f(dic):
    for cle, valeur in dic.items():
        if valeur > 18:
            return cle
```

Que renvoie l'appel f(dict) ?

**Réponses**

- A 19
- B 19,19
- C "charlotte"
- D "charlotte", "noé"

**Question C.6**

Qu'est-ce que le format de fichier CSV ?

**Réponses**

- A un format de fichier mis au point par Microsoft pour Excel
- B un format de fichier pour décrire une base de données
- C un format de fichier où les données sont séparées par un caractère tel qu'une virgule
- D un format de fichier décrivant une page Web

## Thème D : interactions entre l'homme et la machine sur le Web

**Question D.1**

On souhaite qu'un menu apparaisse à chaque fois que l'utilisateur passe sa souris sur l'image de bannière du site. L'attribut de la balise img dans lequel on doit mettre un code Javascript à cet effet est :

**Réponses**

- A onclick
- B src
- C alt
- D onmouseover

**Question D.2**

Après avoir tenté d'accéder à un site, le navigateur affiche : 403 Forbidden.

Cela signifie que :

**Réponses**

- A la connexion à Internet est défectueuse
- B le navigateur a refusé d'envoyer la requête
- C le serveur a répondu par un code d'erreur
- D le serveur n'a jamais répondu



### Question D.3

Une page HTML comporte ce bout de code :

```
<article>
  <h1>Les auteurs de ce site</h1>
  <button onclick="auteurs()">Appuyer ici</button>
</article>

<script src="java_script/ScriptJava.js"></script>

<script>
  function auteurs() { alert("Auteurs anonymes"); }
</script>
```

Quel sera le résultat d'un clic sur le bouton "Appuyer ici" ?

#### Réponses

- A Rien
- B La page du navigateur se fermera
- C La page affichera à la place du bouton "Appuyer ici" le message "Auteurs anonymes"
- D Cela provoquera l'ouverture d'une fenêtre comportant le message "Auteurs anonymes"

### Question D.4

Lors de la consultation d'une page HTML, contenant un bouton auquel est associée la fonction javascript suivante, que se passe-t-il quand on clique sur ce bouton ?

```
function action(event) {
  this.style.color = "red"
}
```

#### Réponses

- A le pointeur de souris devient rouge lorsqu'il arrive sur le bouton
- B le texte du bouton devient rouge
- C le texte du bouton est remplacé par le mot "red"
- D le texte de la page passe en rouge

### Question D.5

Les pages HTML sont affichées par ...

#### Réponses

- A le compilateur
- B le serveur
- C l'interpréteur
- D le navigateur Web

### Question D.6

Dans une page HTML, lequel de ces codes permet la présence d'un bouton qui appelle la fonction javascript afficher\_reponse() lorsque l'utilisateur clique dessus ?

#### Réponses

- A <a href="afficher\_reponse()">Cliquez ici</a>
- B <button if\_clicked="afficher\_reponse()">Cliquez ici</button>
- C <button value="Cliquez ici"><a afficher\_reponse()</a></button>
- D <button onclick="afficher\_reponse()">Cliquez ici</button>

Modèle CCYC : ©DNE


Nom de famille (naissance) : (Suivi s'il y a lieu, du nom d'usage)

Prénom(s) :

N° candidat : N° d'inscription :

(Les numéros figurent sur la convocation.)

Né(e) le :

 Liberté • Égalité • Fraternité  
RÉPUBLIQUE FRANÇAISE

1.1

## Thème E : architectures matérielles et systèmes d'exploitation

### Question E.1

Sous Linux, les droits d'accès à un fichier dont le propriétaire est Joseph sont les suivants : -rwxr-xr--. Laquelle des affirmations suivantes est **fausse** ?

#### Réponses

- A Joseph a l'autorisation de lire ce fichier
- B les membres du groupe de Joseph ont l'autorisation de lire ce fichier
- C tous les utilisateurs ont l'autorisation de lire ce fichier
- D les membres du groupe de Joseph ont l'autorisation de modifier ce fichier

### Question E.2

Le répertoire personnel de l'utilisateur contient deux répertoires tempo et sauve. On souhaite déplacer le fichier bac.txt du repertoire tempo vers le repertoire sauve. Quelle commande permet de réaliser ce déplacement ?

#### Réponses

- A mkdir ~/tempo/bac.txt ~/sauve
- B mkdir ~/sauve ~/tempo/bac.txt
- C mv ~/tempo/bac.txt ~/sauve
- D mv ~/sauve ~/tempo/bac.txt

### Question E.3

À partir du dossier ~/Doc/QCM, quelle commande permet de rejoindre le dossier ~/Hack/Reponses ?

#### Réponses

- A cd Hack/Reponses
- B cd /Hack/Reponses
- C cd ~/Hack/Reponses
- D cd ../../Hack/Reponses

### Question E.4

Dans quel but le protocole du bit alterné peut-il être utilisé ?

#### Réponses

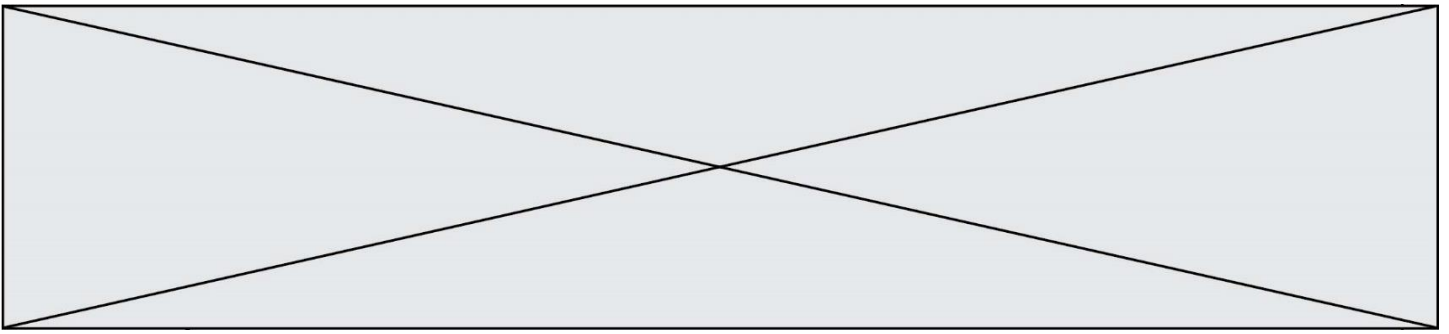
- A Pour chiffrer des données lors de transmission de données sur un réseau
- B Pour détecter des pertes de paquets de données lors de transmission de données sur un réseau
- C Pour créer des paquets de données lors de transmission de données sur un réseau
- D Pour envoyer les paquets de données à la bonne l'adresse IP de la machine de destination

### Question E.5

Sous UNIX, que va réaliser la ligne de commande cat file.txt ?

#### Réponses

- A rien du tout
- B l'affichage du contenu du fichier file.txt dans la console
- C la création d'un fichier file.txt
- D la suppression du fichier file.txt



### Question E.6

Dans un terminal, on exécute la suite de commandes système suivante :

```
cd ~  
cd seances/tp  
mv exercice.txt ../../exercice.txt
```

Où se trouve finalement placé le fichier exercice.txt ?

#### Réponses

- A dans le répertoire ~/seance/tp
- B dans le répertoire ~/seance
- C dans le répertoire ~
- D dans le répertoire /home

## Thème F : langages et programmation

### Question F.1

Soit T un tableau de flottants, a et b deux entiers. On considère une fonction nommée somme renvoyant la somme des éléments du tableau d'indice compris entre a et b définie par :

```
def somme(T, a, b):  
    S = 0  
    for i in range(a, b+1) :  
        S = S + T[i]  
    return S
```

Quel ensemble de préconditions doit-on prévoir pour cette fonction ?

#### Réponses

- A  $a < b$
- B  $a < \text{longueur}(T)$  et  $b < \text{longueur}(T)$
- C  $a \leq b < \text{longueur}(T)$
- D  $a \leq b < \text{longueur}(T)$  et T est un tableau trié

### Question F.2

On souhaite écrire une fonction qui renvoie le maximum d'une liste d'entiers :

```
def maximum(L):  
    m = L[0]  
    for i in range(1, len(L)):  
        if .....:  
            m = L[i]  
    return m
```

Par quoi faut-il remplacer les pointillés pour que cette fonction produise bien le résultat attendu ?

#### Réponses

- A  $i > m$
- B  $L[i] > m$
- C  $L[i] > L[i-1]$
- D  $L[i] > L[i+1]$

Modèle CCYC : ©DNE

Nom de famille (naissance) :

(Suivi s'il y a lieu, du nom d'usage)

Prénom(s) :

N° candidat :

N° d'inscription :



Né(e) le :

(Les numéros figurent sur la convocation.)

1.1

### Question F.3

Quelle est la valeur de la variable x à la fin de l'exécution du script suivant :

```
def f(x):  
    x = x + 1  
    return x + 1
```

```
x = 0  
f(x+1)
```

### Réponses

- A 0
- B 1
- C 2
- D 3

### Question F.4

On construit une liste L de la façon suivante :

```
L = []  
for i in range(1,11,2)  
    L.append(5*i)
```

et on obtient ainsi la liste [5, 15, 25, 35, 45].

On pourrait aussi procéder de la façon suivante :

```
L = []  
# ligne 1 .....  
while i < 11:  
    L.append(5*i)  
# ligne 2 .....
```

Que faudrait-il écrire en ligne 1 et en ligne 2 pour obtenir le même résultat ?

### Réponses

- A i = 0 en ligne 1, et i = i + 1 en ligne 2
- B i = 0 en ligne 1, et i = i + 2 en ligne 2
- C i = 1 en ligne 1, et i = i + 1 en ligne 2
- D i = 1 en ligne 1, et i = i + 2 en ligne 2

### Question F.5

On exécute le code suivant

```
def calculPourcentage (prix,reduction):  
    assert reduction >= 0, 'la réduction doit être un nombre positif'  
    assert reduction < 100, 'la réduction doit être inférieure à 100'  
    assert prix > 0, 'le prix doit être un nombre strictement positif'  
    remise = (reduction*prix)/100  
    prix_remise = prix - remise  
    return prix_remise
```

Quelle est la valeur renvoyée par l'appel calcul(30,100) ?

### Réponses

- A AssertionError: la réduction doit être un nombre positif
- B AssertionError: la réduction doit être inférieure à 100
- C AssertionError: le prix doit être un nombre strictement positif
- D 70



### Question F.6

La fonction maximum codée ci-dessous en Python doit renvoyer la plus grande valeur contenue dans le tableau d'entiers passé en argument.

```
def maximum(tableau):  
    tmp = tableau[0]  
    for i in range(.....): # à compléter  
        if tableau[i] > tmp:  
            tmp = tableau[i]  
    return tmp
```

Quelle expression faut-il écrire à la place des pointillés ?

#### Réponses

- A `len(tableau) - 1`
- B `1, len(tableau) - 1`
- C `1, len(tableau)`
- D `1, len(tableau) + 1`

## Thème G : algorithmique

### Question G.1

Un algorithme de recherche dichotomique dans une liste triée de taille  $n$  nécessite, dans le pire des cas, exactement  $k$  comparaisons.

Combien cet algorithme va-t-il utiliser, dans le pire des cas, de comparaisons sur une liste de taille  $2n$  ?

#### Réponses

- A  $k$
- B  $k + 1$
- C  $2k$
- D  $2k + 1$

### Question G.2

On considère le code suivant de recherche d'une valeur dans une liste :

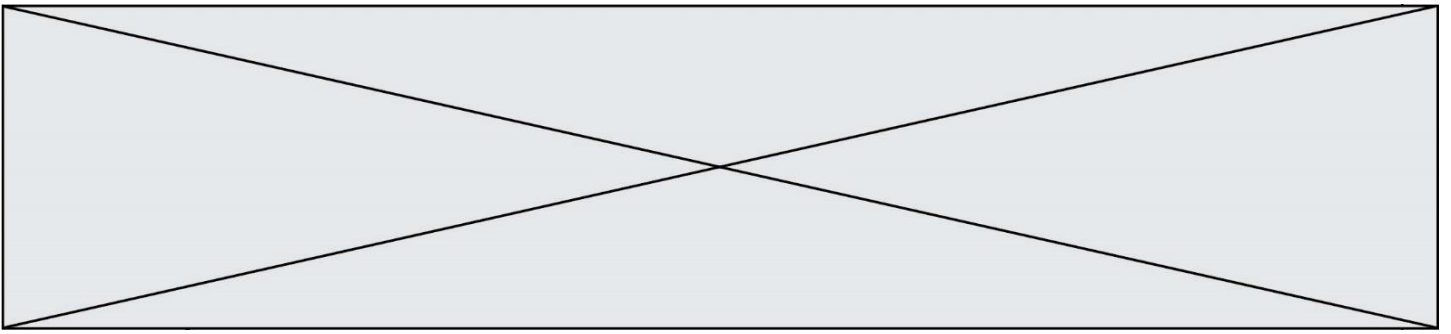
```
def search(x, y):  
    # x est la valeur à chercher  
    # y est une liste de valeurs  
    for i in range(len(y)):  
        if x == y[i]:  
            return i  
    return None
```

Quel est le coût de cet algorithme ?

#### Réponses

- A constant
- B logarithmique
- C linéaire
- D quadratique





### Question G.5

Soit  $L$  une liste de  $n$  nombres réels ( $n$  entier naturel non nul). On considère l'algorithme suivant, en langage Python, calculant la moyenne des éléments de  $L$ .

```
M = 0
for k in range(n):
    M = M + L[k]
M = M/n
```

Si le nombre  $n$  de données double alors le temps d'exécution de ce script :

#### Réponses

- A reste le même
- B double aussi
- C est multiplié par  $n$
- D est multiplié par 4

### Question G.6

La fonction maximum doit renvoyer la valeur maximale d'un tableau de nombres. Par quoi doit-on remplacer les pointillés pour qu'elle donne le résultat attendu ?

```
def maximum(T):
    maxi = T[0]
    for i in range(len(T)):
        .... T[i] > maxi:
            .....
    return maxi
```

#### Réponses

- A if puis, sur la ligne suivante,  $\text{maxi} = T[i]$
- B while puis, sur la ligne suivante,  $\text{maxi} = T[i]$
- C if puis, sur la ligne suivante,  $\text{maxi} = \text{maxi} + 1$
- D while puis, sur la ligne suivante,  $\text{maxi} = \text{maxi} + 1$