



Exercice 1 – Niveau première

Thème « Son et musique, porteurs d'information »

Perte auditive après un concert

Sur 10 points

Fabrice a passé une soirée au concert donné par les élèves du lycée. Dans les semaines qui suivent, il ressent une grande fatigue et ne semble pas toujours entendre les questions qu'on lui pose. Ses parents lui reprochent d'écouter la musique trop fort. Inquiet, Fabrice passe des examens médicaux fonctionnels et anatomiques.

En utilisant les documents des pages suivantes :

- 1-** Montrer que la perte auditive moyenne de Fabrice sur les deux oreilles est comprise entre 40 et 45 dB.
- 2-** Indiquer si les symptômes présentés par Fabrice correspondent à la perte auditive constatée.
- 3-** Expliquer l'origine physiologique de ces troubles en mobilisant vos connaissances.



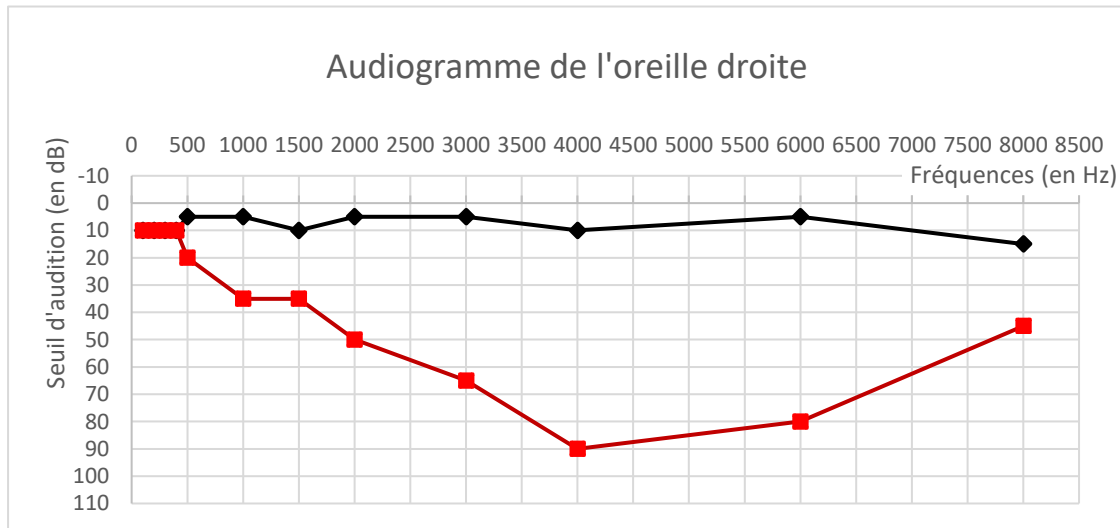
Document 1. Audiogrammes de Fabrice

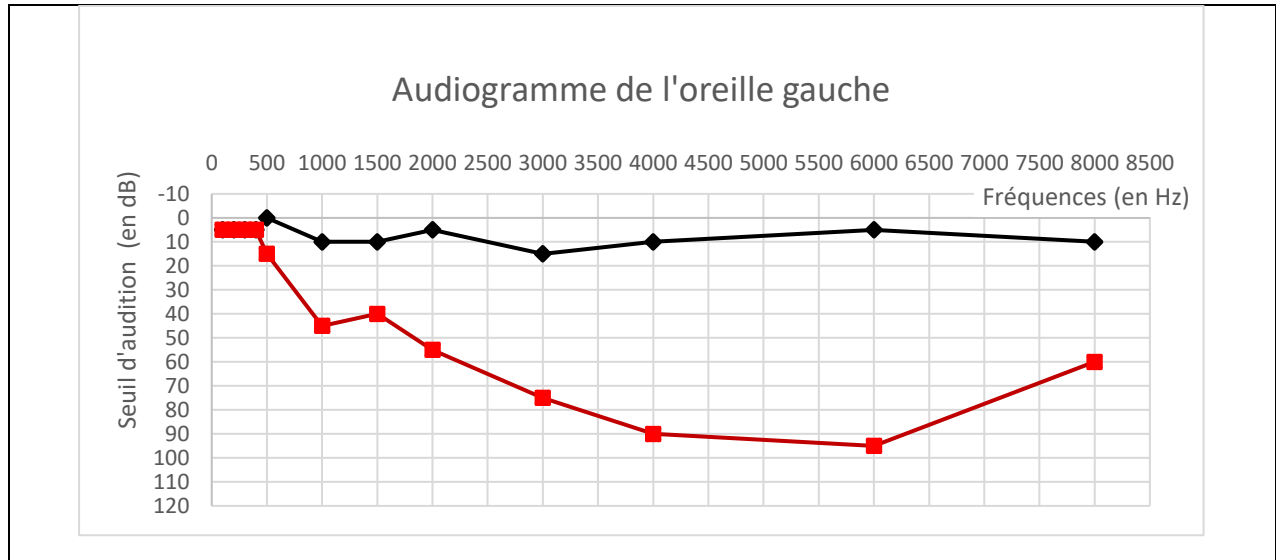
Un audiogramme permet d'évaluer la perte d'audition d'une personne mesurée en décibel (dB) en fonction de la fréquence du son émis en Hertz (Hz). Il s'obtient par un test réalisé chez un médecin spécialisé.

L'objectif du test est de mesurer, pour différentes fréquences, le niveau d'intensité sonore minimal (seuil d'audition) pour que le son soit entendu par Fabrice. Les fréquences sonores testées sont comprises entre 500 et 8 000 Hz.

Légende des audiogrammes :

- ◆— : norme auditive moyenne
- : réponse auditive de Fabrice lors du test médical





Document 2. Méthode de calcul de la perte auditive moyenne sur les deux oreilles

- Pour chacune des fréquences 500 Hz, 1000 Hz, 2000 Hz et 4000 Hz, et pour chaque oreille, on calcule la différence entre l'intensité du son audible par le patient et la norme auditive moyenne.
- On note Pmd la moyenne de ces 4 valeurs pour l'oreille droite et Pmg la moyenne de ces valeurs pour l'oreille gauche.
- La fonction Python ci-dessous permet alors de calculer la perte auditive moyenne (sur les deux oreilles) :

```
def Perte_auditive_moyenne(Pmd,Pmg):  
    if -15 <= Pmg - Pmd <= 15 :  
        Pm = 0.5 * Pmd + 0.5 * Pmg  
    else :  
        if Pmg - Pmd > 15 :  
            Pm = 0.7 * Pmd + 0.3 * Pmg  
        else :  
            Pm = 0.3 * Pmd + 0.7 * Pmg  
    return Pm
```

Modèle CCYC : ©DNE

Nom de famille (naissance) :

(Suivi s'il y a lieu, du nom d'usage)

Prénom(s) :

N° candidat :

N° d'inscription :



Liberté • Égalité • Fraternité
RÉPUBLIQUE FRANÇAISE

Né(e) le :

(Les numéros figurent sur la convocation.)

1.1

Document 3. Niveaux de surdité et symptômes associés

Degré de la perte auditive	Perte auditive moyenne	Symptômes, conséquences
Audition "normale"	de 0 à 20 dB	Vous n'éprouvez aucune difficulté particulière, <u>en milieu calme ou bruyant.</u>
Perte légère	de 20 à 40 dB	Vous avez des difficultés à percevoir <u>les voix faibles ou lointaines</u> et les conversations, surtout lorsque vous êtes en milieu bruyant.
Perte moyenne	de 40 à 70 dB	<u>La perception des paroles devient difficile</u> , il faut que celles-ci soient fortes pour que vous puissiez les comprendre aisément. Vous avez <u>tendance à augmenter le volume</u> de la télévision, radio, mp3... Suivre une conversation en groupe devient très compliqué et fatigant.
Perte sévère	de 70 à 90 dB	Vous n'entendez pas les paroles, à moins que celles-ci soient fortes ou proche de vous. Il est très difficile pour vous de suivre une conversation, voire impossible si vous n'êtes pas équipé d'aides auditives. Certains sons forts restent audibles.
Perte profonde	90 dB et +	La plupart des sons deviennent imperceptibles, quel que soit l'environnement d'écoute. Vous n'arrivez pas à communiquer, <u>suivre une conversation est impossible sans appareil auditif</u> , certains sons extrêmement forts restent toutefois audibles.
Surdit� totale	120 dB	Aucune capacit� d'audition mesurable.

D'apr s : <https://www.laboratoires-unisson.com/perte-auditive-causes-et-consequence-de-la-perde-d-audition.html>



Exercice 2 – Niveau première

Thème « Une longue histoire de la matière »

L'or : exploitation et conséquences sanitaires

Sur 10 points

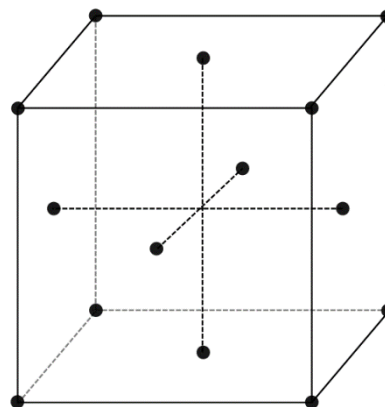
L'objectif de cet exercice est d'étudier la structure cristalline de l'or puis de comprendre en quoi l'exploitation de l'or peut favoriser le développement de troubles neurologiques dans les populations humaines.

Partie 1. La structure du cristal d'or

Document 1. Représentations de la maille cristalline de l'or

L'or cristallise en réseau cubique à faces centrées. Les atomes d'or sont assimilés à des sphères rigides, tangentes entre elles, de rayon $r = 144,2 \text{ pm}$ ($1 \text{ pm} = 10^{-12} \text{ m}$). Les points de tangence sont situés sur la diagonale d'une face du cube.

Ci-dessous, les points représentent la position des centres des atomes d'or dans la maille : chaque atome au sommet du cube appartient à huit mailles et ceux au centre de chaque face appartiennent à deux mailles.



réseau



Document 2. Les effets du méthyl-mercure sur les êtres-vivants

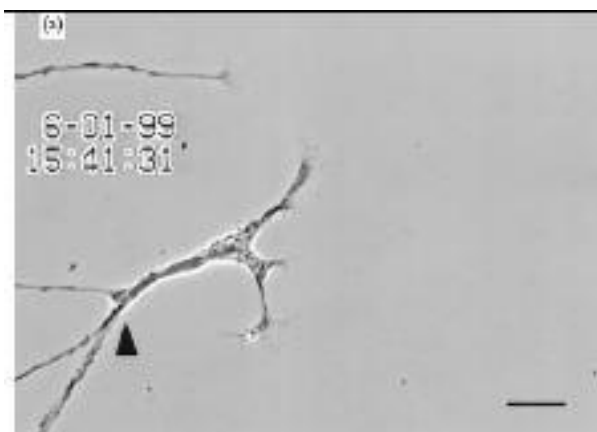
Le cyanure et le mercure, utilisés sans précaution pour l'extraction de l'or, contaminent les sols et les nappes phréatiques à jamais. Même après la fermeture des mines, les gravats traités au cyanure génèrent pendant des décennies des acides sulfuriques toxiques.

Le mercure peut se transformer dans l'environnement en méthyl-mercure. Ce méthyl-mercure tend à s'accumuler dans les eaux et dans les espèces aquatiques. [...]

Le méthyl-mercure a la capacité de provoquer une réaction chimique dégradant les phospholipides de la membrane plasmique. Le méthyl-mercure peut pénétrer dans la cellule à travers ces membranes et peut se fixer sur certains organites notamment les mitochondries, et sur des protéines cytoplasmiques, dont le fonctionnement est alors altéré. Les cellules nerveuses sont particulièrement touchées.

D'après Segall H.J., Wood J.M.(1974). Reaction of methyl mercury with plasmalogens suggests a mechanism for neurotoxicity of metal-alkyls. Nature, 248 : 456-8

Document 3. Suivi microscopique de la croissance de cellules nerveuses dans différentes conditions (sans et avec exposition au méthyl-mercure)



La même cellule nerveuse est suivie, dans différentes conditions environnementales.

a – Avant exposition au méthyl-mercure.



Exercice 3 – Niveau première

Thème « La Terre, un astre singulier »

Les phases de la Lune

Sur 10 points

Les astres dans le ciel, en particulier le deuxième plus brillant d'entre eux, la Lune, fascinent les humains. Depuis l'antiquité, les phases de la Lune et ses éclipses ont permis d'en étudier quelques caractéristiques.

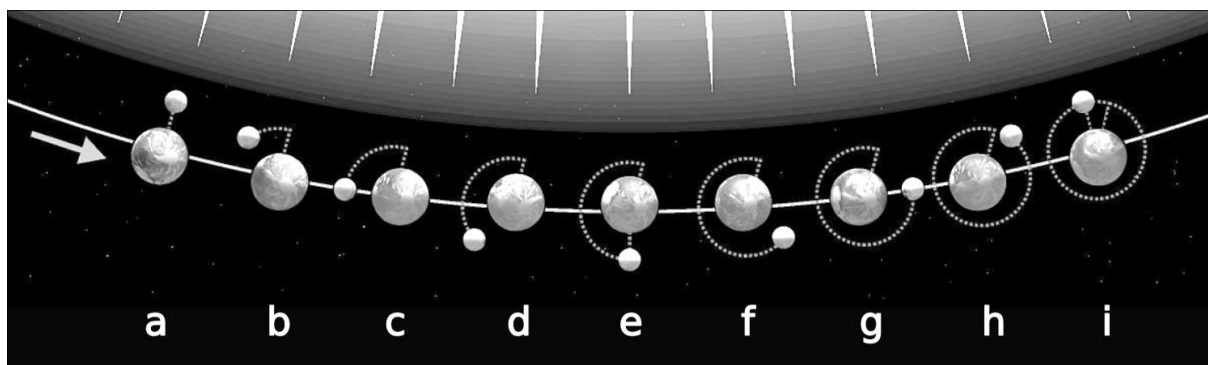
Cet exercice s'intéresse aux phases de la Lune ainsi qu'à une méthode géométrique pour déterminer son rayon.

Partie A – Les phases de la Lune

La Lune tourne autour de la Terre sur une orbite quasi-circulaire, avec une période de révolution de 27 jours, 7 h et 43 min. Dans le même temps, la Terre poursuit son mouvement sur une orbite quasi-circulaire autour du Soleil.

Pour un observateur terrestre, la position relative des trois astres engendre un aspect de la lune qui varie au cours du temps et que l'on appelle les "phases de la Lune". Ce cycle au bout duquel la Lune retrouve son aspect initial, s'appelle la lunaison, et dure 29 jours, 12 h et 44 min.

Document 1. Le schéma ci-dessous représente quelques positions de la Terre et de la Lune lors d'une lunaison. Le Soleil est considéré comme fixe et on en a représenté quelques rayons.



D'après commons.wikimedia.org/wiki/File:Moon_phases_00.jpg



Document 3. Construction géométrique du centre d'un cercle

Sur le schéma ci-contre, la Lune est modélisée par le cercle \mathcal{C} dont on veut déterminer le centre. Pour cela, on choisit 3 points M, N, P sur ce cercle.

La droite \mathcal{D}_1 est la médiatrice du segment [MN].

La droite \mathcal{D}_2 est la médiatrice du segment [NP].

Ces deux médiatrices se coupent en un point O.

On rappelle que tout point appartenant à la médiatrice d'un segment est situé à égale distance des extrémités de ce segment.

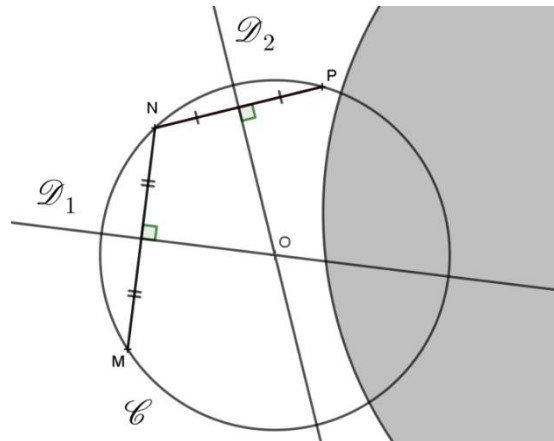


Schéma de la Lune partiellement cachée par l'ombre de la Terre

5- Démontrer que O est le centre du cercle \mathcal{C} .

6- Dans le document donné en annexe, à rendre avec la copie, reproduire cette construction géométrique pour déterminer le centre de la Lune sur la photo, puis réaliser une mesure en centimètres de son rayon r_L .

7- Une construction similaire a permis de mesurer le rayon de la Terre sur la photo. On admet qu'elle a donné $r_T \approx 16,5$ cm. Sachant que le rayon R_T de la Terre vaut 6400 km, déterminer une valeur (en km) du rayon R_L de la Lune.

Modèle CCYC : ©DNE

Nom de famille (naissance) :


(Suivi s'il y a lieu, du nom d'usage)

Prénom(s) :

N° candidat : N° d'inscription :

(Les numéros figurent sur la convocation.)

Né(e) le : / /



1.1

Document réponse à rendre avec la copie

Exercice 3

Les phases de la Lune

Question 7



Éclipse de Lune

Photo : Jean-Michel Vienney