

Modèle CCYC : ©DNE

Nom de famille (naissance) :


(Suivi s'il y a lieu, du nom d'usage)

Prénom(s) :

N° candidat : N° d'inscription :

(Les numéros figurent sur la convocation.)

Né(e) le : / /



1.1

ÉVALUATION

CLASSE : Première

VOIE : Générale Technologique Toutes voies (LV)

ENSEIGNEMENT : Enseignement scientifique

DURÉE DE L'ÉPREUVE : 2h

Niveaux visés (LV) : LVA LVB

Axes de programme :

CALCULATRICE AUTORISÉE : Oui Non

DICTIONNAIRE AUTORISÉ : Oui Non

Ce sujet contient des parties à rendre par le candidat avec sa copie. De ce fait, il ne peut être dupliqué et doit être imprimé pour chaque candidat afin d'assurer ensuite sa bonne numérisation.

Ce sujet intègre des éléments en couleur. S'il est choisi par l'équipe pédagogique, il est nécessaire que chaque élève dispose d'une impression en couleur.

Ce sujet contient des pièces jointes de type audio ou vidéo qu'il faudra télécharger et jouer le jour de l'épreuve.

Nombre total de pages : 11

**Le candidat traite seulement deux exercices, de son choix,
parmi les trois qui sont proposés dans ce sujet.**

Il indique son choix en début de copie.



Exercice 1 – Niveau première

Thème « Le Soleil, notre source d'énergie »

Température moyenne de la surface de la Terre

Sur 10 points

La Terre reçoit l'essentiel de son énergie du soleil. Cette énergie conditionne sa température de surface.

- 1- Préciser le phénomène physique à l'origine de l'énergie dégagée par le soleil.
- 2- Calculer la masse solaire transformée chaque seconde en énergie, sachant que la puissance rayonnée par le soleil a pour valeur $3,9 \times 10^{26}$ W.

Donnée : vitesse de la lumière dans le vide $c = 3,0 \times 10^8$ m·s⁻¹

L'étude du spectre du rayonnement émis par le Soleil, que l'on peut modéliser comme un spectre de corps noir, permet de déterminer la température de la surface du Soleil.

À l'aide du document 1 fourni sur la page ci-après, répondre aux questions suivantes :

3-a- Déterminer les longueurs d'ondes correspondant au maximum d'émission pour les températures de 4000, 5000 et 6000 K. Décrire qualitativement l'évolution de la longueur d'onde au maximum d'émission en fonction de la température du corps.

3-b- Justifier à partir de la valeur de la longueur d'onde d'émission maximale du spectre solaire que la température du Soleil est comprise entre 5500 K et 6000 K.

3-c- La température de surface du Soleil peut être déterminée plus précisément à partir de la loi de Wien. Cette loi permet de déterminer la température d'un corps noir à partir de la longueur d'onde λ_{\max} de son maximum d'émission par la relation :

$$\lambda_{\max} = k/T$$

avec :

T : température du corps noir, en kelvins (K)

k : constante égale à $2,898 \times 10^{-3}$ m·K

En considérant que le Soleil se comporte comme un corps noir, déterminer sa température de surface T à partir de la loi de Wien.

Modèle CCYC : ©DNE

Nom de famille (naissance) :

(Suivi s'il y a lieu, du nom d'usage)

Prénom(s) :

N° candidat :

N° d'inscription :



Né(e) le :

(Les numéros figurent sur la convocation.)

1.1

Document 1 : spectres d'émission

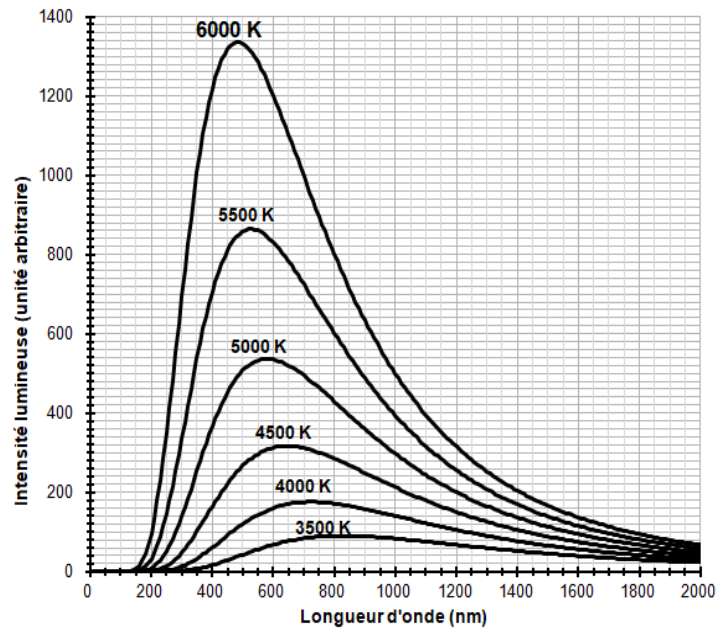


Figure 1a : spectres d'émission du corps noir à différentes températures

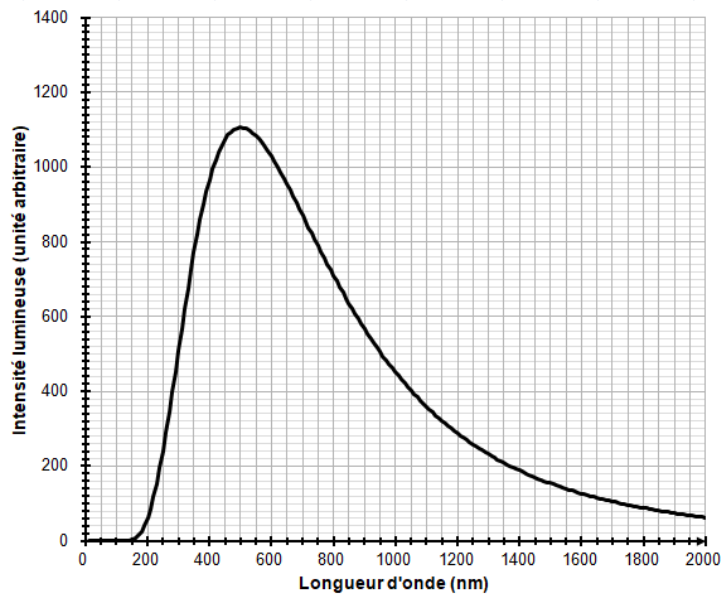


Figure 1b : modèle du spectre d'émission du soleil.



4-a- Sachant que l'albedo terrestre est en moyenne égal à 0,30 et que la puissance surfacique transportée par la lumière solaire vers la Terre est en moyenne de $342 \text{ W}\cdot\text{m}^{-2}$, calculer la puissance surfacique solaire moyenne absorbée par le sol terrestre.

4-b- Préciser, en justifiant la réponse, si une augmentation de l'albedo terrestre conduirait à une augmentation ou une diminution de la température moyenne à la surface de la Terre.

Modèle CCYC : ©DNE

Nom de famille (naissance) :

(Suivi s'il y a lieu, du nom d'usage)

Prénom(s) :

N° candidat : N° d'inscription :

(Les numéros figurent sur la convocation.)

Né(e) le : / /



1.1

Exercice 2 – Niveau première

Thème « La Terre, un astre singulier »

Histoire d'eau : deux méthodes historiques permettant d'estimer l'âge de la Terre

Sur 10 points

Deux approches ont permis d'estimer l'âge de la Terre au cours du XIX^e siècle. La première utilise la mesure de la salinité de l'eau des océans tandis que la seconde se base sur l'étude des phénomènes de sédimentation et d'érosion.

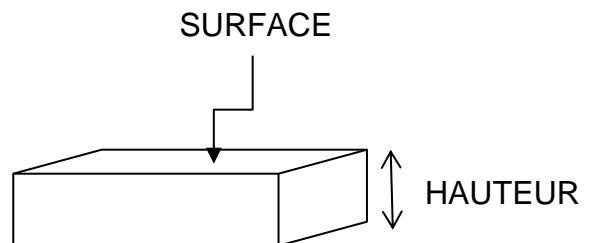
Partie 1. Estimation de l'âge de la Terre à l'aide de la salinité des eaux de mer

À la toute fin du XIX^e siècle, le physicien irlandais John Joly proposa une méthode d'estimation de l'âge de la Terre basée sur le taux de sel dans les océans : la salinité.

Les eaux de pluie ruissellent à la surface de la Terre et se chargent en sel contenu dans les roches de la croûte terrestre pour ensuite alimenter les rivières qui, à leur tour, se déversent dans les océans. La quantité de sel dissous dans les océans résulterait donc du déversement du sel contenu dans les rivières.

La première question porte sur le calcul de la masse de sel contenue dans les océans.

1-a Calculer, en km³, le volume total des océans modélisés sous la forme d'un parallélépipède rectangle (cf. schéma ci-contre).



Données utilisées par John Joly :

- Superficie totale des océans : 360×10^6 km²
- Profondeur moyenne des océans : 3,797 km
- Masse volumique moyenne des océans : $1,03 \times 10^9$ tonnes par km³
- L'eau des océans contient environ 1,07 % en masse de sel dissous
- Déversement des rivières dans les océans : $2,72 \times 10^4$ km³ par an
- Concentration moyenne du sel dissous dans les rivières : 5 250 tonnes par km³

1-b Calculer la masse totale des océans en tonnes.

1-c En déduire que la masse de sel contenue dans les océans est de $1,5 \times 10^{16}$ tonnes environ. On fera apparaître le calcul.



2- Calculer la masse de sel apportée chaque année par les rivières à l'océan.

3- En déduire, comme l'a fait John Joly, que l'âge de la Terre calculé par cette méthode est d'environ 100 millions d'années.

4- En réalité, une partie du sel dissous subit une sédimentation dans certaines régions littorales et peut également être échangé avec du calcium lors de l'altération sous-marine du basalte. Commenter la validité de la méthode de calcul proposée par John Joly.

Partie 2. Érosion et sédimentation

Document 1 : un exemple de destruction due à l'érosion

Le "Grind of the Navir" correspond à une ouverture faite par la mer dans une falaise des îles Shetland. Cette ouverture est élargie d'hiver en hiver par la houle qui s'y engouffre.



Extrait de la sixième édition de *Principles of geology* (1833) par Charles Lyell

Modèle CCYC : ©DNE

Nom de famille (naissance) :

(Suivi s'il y a lieu, du nom d'usage)

Prénom(s) :

N° candidat :

N° d'inscription :



Liberté • Égalité • Fraternité
RÉPUBLIQUE FRANÇAISE

Né(e) le :

(Les numéros figurent sur la convocation.)

1.1

Document 2 : l'argument des temps de sédimentation et d'érosion par Charles Darwin

« Ainsi que Lyell l'a très justement fait remarquer, l'étendue et l'épaisseur de nos couches de sédiments sont le résultat et donnent la mesure de la dénudation¹ que la croûte terrestre a éprouvée ailleurs. Il faut donc examiner par soi-même ces énormes entassements de couches superposées, étudier les petits ruisseaux charriant de la boue, contempler les vagues rongant les antiques falaises, pour se faire quelque notion de la durée des périodes écoulées [...]. Il faut surtout errer le long des côtes formées de roches modérément dures, et constater les progrès de leur désagrégation. [...] Rien ne peut mieux nous faire concevoir ce qu'est l'immense durée du temps, selon les idées que nous nous faisons du temps, que la vue des résultats si considérables produits par des agents atmosphériques² qui nous paraissent avoir si peu de puissance et agir si lentement. Après s'être ainsi convaincu de la lenteur avec laquelle les agents atmosphériques et l'action des vagues sur les côtes rongent la surface terrestre, il faut ensuite, pour apprécier la durée des temps passés, considérer, d'une part, le volume immense des rochers qui ont été enlevés sur des étendues considérables, et, de l'autre, examiner l'épaisseur de nos formations sédimentaires. [...]

J'ai vu, dans les Cordillères [une chaîne de montagnes], une masse de conglomérats³ dont j'ai estimé l'épaisseur à environ 10 000 pieds [3 km] ; et, bien que les conglomérats aient dû probablement s'accumuler plus vite que des couches de sédiments plus fins, ils ne sont cependant composés que de cailloux roulés et arrondis qui, portant chacun l'empreinte du temps, prouvent avec quelle lenteur des masses aussi considérables ont dû s'entasser. [...] M. Croll démontre, relativement à la dénudation produite par les agents atmosphériques, en calculant le rapport de la quantité connue de matériaux sédimentaires que charrient annuellement certaines rivières, relativement à l'étendue des surfaces drainées, qu'il faudrait six millions d'années pour désagréger et pour enlever au niveau moyen de l'aire totale qu'on considère une épaisseur de 1 000 pieds [305 mètres] de roches. Un tel résultat peut paraître étonnant, et le serait encore si, d'après quelques considérations qui peuvent faire supposer qu'il est exagéré, on le réduisait à la moitié ou au quart. Bien peu de personnes, d'ailleurs, se rendent un compte exact de ce que signifie réellement un million ».

Extrait "Du laps de temps écoulé, déduit de l'appréciation de la rapidité des dépôts et de l'étendue des dénudations", *L'origine des espèces*, Charles Darwin, p. 393-398 (1859).

- 1 - La dénudation correspond à l'effacement des reliefs par érosion.
- 2 - Les agents atmosphériques désignent les agents responsables de l'érosion comme la pluie, le gel, le vent.
- 3 - Un conglomérat est une roche issue de la dégradation mécanique d'autres roches et composée de sédiments liés par un ciment naturel.



5- Expliquer la démarche utilisée par C. Darwin permettant d'estimer un âge minimal pour la Terre. La réponse ne doit pas excéder une demi-page.

6- Commenter les résultats obtenus par ces deux méthodes au regard de l'âge de la Terre estimé aujourd'hui.

Modèle CCYC : ©DNE

Nom de famille (naissance) :

(Suivi s'il y a lieu, du nom d'usage)

Prénom(s) :

N° candidat : N° d'inscription :

(Les numéros figurent sur la convocation.)

Né(e) le : / /



RÉPUBLIQUE FRANÇAISE

1.1

Exercice 3 – Niveau première

Thème « Son et musique, porteurs d'information »

La numérisation et le stockage d'un son

Sur 10 points

Cet exercice s'intéresse à différents aspects de la numérisation d'un son et du stockage du fichier obtenu.

Partie A. Échantillonnage et quantification

1- Une plateforme de service de musique en ligne propose de la musique avec une qualité « 16-Bit/44.1 kHz ». Expliquer ce que cela signifie.

2- Pour chacune des questions suivantes, recopier sur la copie la réponse qui convient :

2-a- Pour échantillonner à 20 000 Hz un signal audio analogique, quelle est la durée de l'intervalle de temps entre deux mesures de la tension du signal audio ?

$5 \times 10^{-5} \text{ s}$ $5 \times 10^{-4} \text{ s}$ $5 \times 10^{-3} \text{ s}$ $2 \times 10^{-4} \text{ s}$

2-b- Lorsqu'on quantifie un échantillon sur 24 bits, combien de niveaux de tension différents a-t-on la possibilité de coder ?

$2 \times 24 = 48$; $24^2 = 576$; $2^{24} = 16\,777\,216$; 24

2-c- Dans cette question, on s'appuie sur le document 1 fourni en annexe. Parmi les choix ci-dessous, quelle est la fréquence d'échantillonnage choisie pour le signal audio représenté ?

2 000 Hz ; 12 500 Hz ; 26 000 Hz ; 44 100 Hz

3- Cette question s'appuie également sur le document 1 fourni en annexe. On procède à la quantification, par codage sur 3 bits, des valeurs de la tension obtenues après l'échantillonnage du signal audio. Après quantification, la tension (exprimée en volt), peut prendre pour valeurs les 8 nombres entiers relatifs compris entre -4 et $+3$, la valeur quantifiée d'une tension étant l'entier le plus proche de cette tension.

Sur le document 1, à rendre avec la copie, représenter la courbe des tensions après échantillonnage et quantification.



Partie B. Taille de fichier

La taille T (en bit) d'un fichier audio numérique s'exprime en fonction de la fréquence d'échantillonnage f_e (en hertz), du nombre n de bits utilisés pour la quantification, de la durée Δt de l'enregistrement (en secondes) et du nombre k de voies d'enregistrement (une en mono, deux en stéréo) selon la relation :

$$T = f_e \times n \times \Delta t \times k$$

Dans un studio d'enregistrement, on enregistre un morceau de musique en stéréo en choisissant un encodage sur 24 bits et une fréquence d'échantillonnage de 192 kHz.

4- Vérifier que l'espace de stockage nécessaire pour enregistrer une seconde de musique avec cette qualité est de 1,152 Mo.

5- Un espace de stockage de 200 Mo est-il suffisant pour enregistrer un fichier contenant un morceau de musique de cinq minutes dans cette qualité ?

6- Le dispositif d'encodage et de compression FLAC (Free Lossless Audio Codec) permet de compresser le fichier obtenu à la question précédente avec un taux de compression de 45 %. Avec 200 Mo de stockage, dispose-t-on de suffisamment d'espace pour enregistrer ce fichier compressé ?

On rappelle que le taux de compression est le quotient de la taille du fichier compressé par la taille du fichier initial.

Modèle CCYC : ©DNE
 Nom de famille (naissance) :


(Suivi s'il y a lieu, du nom d'usage)

Prénom(s) :

N° candidat : N° d'inscription :

(Les numéros figurent sur la convocation.)

Né(e) le : / /



1.1

Document réponse à rendre avec la copie

Exercice 3
La numérisation et le stockage d'un son

Document 1 : Signal audio en fonction du temps

En ordonnée, la tension U est exprimée en volt, en abscisse le temps t est exprimé en seconde.

Lors de l'échantillonnage du signal, les mesures sont réalisées aux instants repérés par des lignes verticales.

