

Modèle CCYC : ©DNE

Nom de famille (naissance) :

(Suivi s'il y a lieu, du nom d'usage)

Prénom(s) :

N° candidat :

N° d'inscription :



Liberté • Égalité • Fraternité
RÉPUBLIQUE FRANÇAISE

Né(e) le :

(Les numéros figurent sur la convocation.)

1.1

ÉVALUATION

CLASSE : Première

VOIE : Générale Technologique Toutes voies (LV)

ENSEIGNEMENT : Enseignement scientifique

DURÉE DE L'ÉPREUVE : 2h

Niveaux visés (LV) : LVA

LVB

Axes de programme :

CALCULATRICE AUTORISÉE : Oui Non

DICTIONNAIRE AUTORISÉ : Oui Non

Ce sujet contient des parties à rendre par le candidat avec sa copie. De ce fait, il ne peut être dupliqué et doit être imprimé pour chaque candidat afin d'assurer ensuite sa bonne numérisation.

Ce sujet intègre des éléments en couleur. S'il est choisi par l'équipe pédagogique, il est nécessaire que chaque élève dispose d'une impression en couleur.

Ce sujet contient des pièces jointes de type audio ou vidéo qu'il faudra télécharger et jouer le jour de l'épreuve.

Nombre total de pages : 11

**Le candidat traite seulement deux exercices, de son choix,
parmi les trois qui sont proposés dans ce sujet.**

Il indique son choix en début de copie.



Exercice 1 – Niveau première

Thème « Une longue histoire de la matière »

Les structures microscopiques de la silice et du silicium

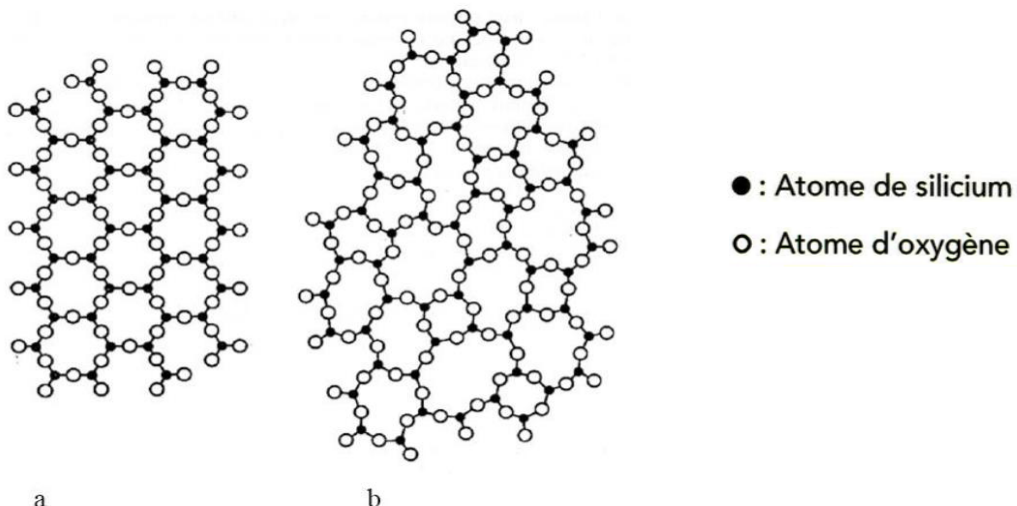
Sur 10 points

La silice est la forme naturelle du dioxyde de silicium (SiO_2) qui entre dans la composition de nombreux minéraux (quartz, etc.). La silice représente 60,6 % de la masse de la croûte terrestre continentale. De nombreuses roches sont constituées de silice (sable, grès, granite, etc.) et l'étude des différentes structures possibles permet d'en savoir plus sur les conditions de formation des roches.

Le verre utilisé dans l'industrie est un solide non cristallin (amorphe), dur, fragile (cassant) et transparent. Sa composition chimique contient une part importante de silice.

Partie A. La silice : une structure amorphe ou cristalline

Document 1. Deux structures en coupe de la silice



Source : d'après CHAGUETMI, Salem (2010), *Élaboration et caractérisation de nouveaux verres de fluorohafnates de strontium et de phosphosulfates*. Thèse, Université Mohamed Khider Biskra <http://thesis.univ-biskra.dz/1006/3/Chapitre%201.pdf>

Modèle CCYC : ©DNE

Nom de famille (naissance) :

(Suivi s'il y a lieu, du nom d'usage)

Prénom(s) :

N° candidat :

N° d'inscription :



Né(e) le :

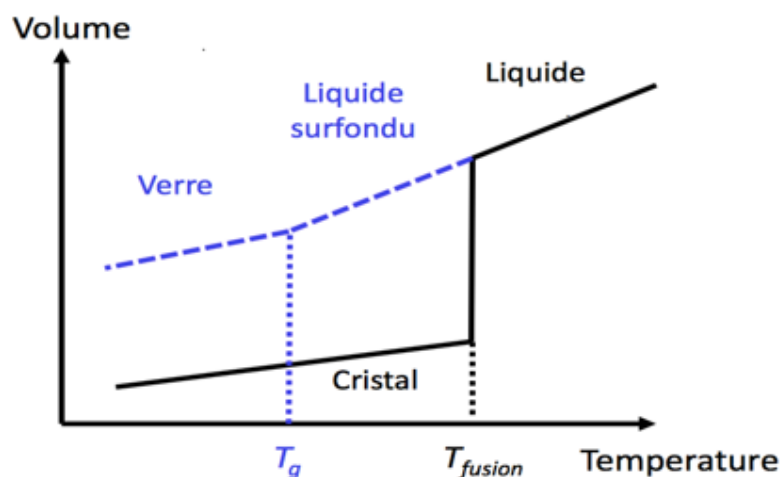
(Les numéros figurent sur la convocation.)

1.1

1- La figure du document 1 montre deux structures possibles de la silice. L'une d'elles est dite cristalline, l'autre amorphe (verre). Parmi les représentations a et b, laquelle correspond à une structure cristalline ? Justifier votre choix.

À partir de deux échantillons identiques de silice liquide, on peut obtenir soit un verre, soit un cristal selon la vitesse de refroidissement.

Document 2. Évolution du volume d'un échantillon de silice lors d'un changement d'état



Température de transition vitreuse :
 $T_g = 1473 \text{ K}$

Température de fusion :
 $T_{\text{fusion}} = 1996 \text{ K}$

2- Comparer qualitativement les volumes des deux échantillons obtenus (verre ou cristal) à la température de 1400 K.

3- Proposer une explication à cette différence de volume en s'appuyant sur le document 1.

Partie B. Étude de la maille cristalline du silicium

On s'intéresse dans cette partie au silicium pur. On fait l'hypothèse que la structure cristalline du silicium est cubique à faces centrées, avec les caractéristiques suivantes :

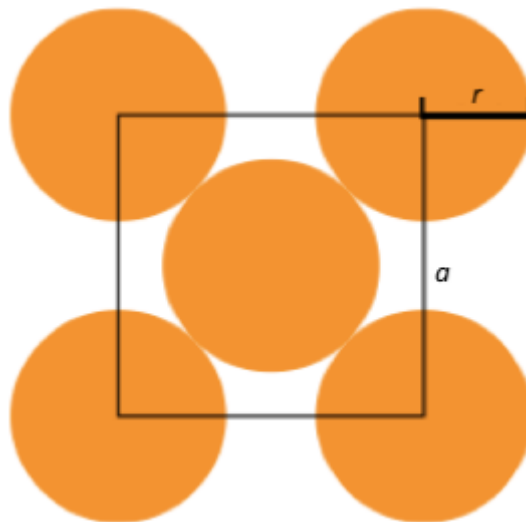
Rayon d'un atome de silicium : $r = 118 \times 10^{-12} \text{ m}$

Masse d'un atome de silicium : $m = 4,66 \times 10^{-26} \text{ kg}$



4- Le but de cette partie est de déterminer la masse volumique du silicium afin de valider ou d'invalidier l'hypothèse formulée sur sa structure (cubique à faces centrées).

Document 3. Coupe d'une maille selon le modèle cubique à faces centrées



La mesure a correspond au paramètre de la maille et on suppose que les atomes de silicium sont sphériques et tangents. Le rayon d'un atome de silicium est noté r .

4-a- À l'aide de la figure du document 3, démontrer que : $a = 2\sqrt{2} r$ et calculer sa valeur.

4-b- Représenter en perspective cavalière la maille cubique à faces centrées.

4-c- On rappelle que, dans la structure cubique à faces centrées, une maille contient l'équivalent de 4 atomes de silicium. Calculer la masse volumique d'un cristal de silicium dans cette hypothèse.

4-d- En réalité, la masse volumique du cristal de silicium est $2,33 \text{ g.cm}^{-3}$. L'hypothèse de la structure cristalline cubique à faces centrées peut-elle être validée ?

Modèle CCYC : ©DNE

Nom de famille (naissance) :
(Suivi s'il y a lieu, du nom d'usage)

--	--	--	--	--	--	--	--	--	--	--	--	--	--	--	--	--	--	--	--	--

Prénom(s) :

--	--	--	--	--	--	--	--	--	--	--	--	--	--	--	--	--	--	--	--	--

N° candidat :

--	--	--	--	--	--	--	--	--	--	--	--	--	--

N° d'inscription :

--	--	--



Né(e) le :

(Les numéros figurent sur la convocation.)

		/			/				
--	--	---	--	--	---	--	--	--	--

1.1

Exercice 2 – Niveau première

Thème « Son et musique, porteurs d'information »

Autour d'une gamme

Sur 10 points

Les parties 1 et 2 peuvent être traitées indépendamment l'une de l'autre.

Partie 1. Masse et fréquence

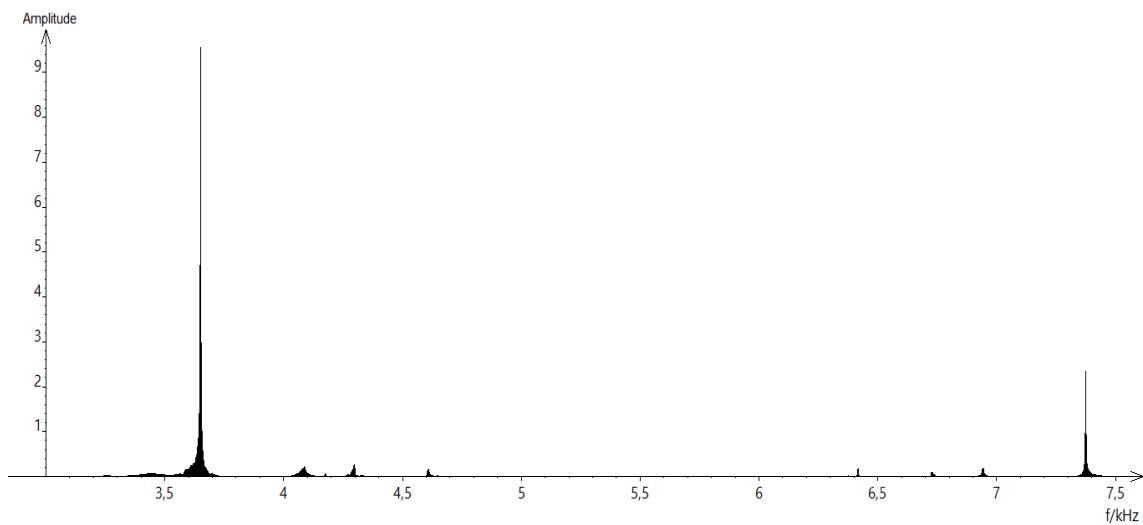
On dispose de trois marteaux M_1 , M_2 et M_3 de masses respectives $m_1 = 0,24 \text{ kg}$, $m_2 = 0,48 \text{ kg}$ et $m_3 = 1,44 \text{ kg}$.

L'expérience consiste à les laisser tomber sur une enclume. Un logiciel d'acquisition enregistre le signal sonore émis.

On désigne respectivement par f_1 , f_2 et f_3 les fréquences fondamentales des sons émis par les marteaux M_1 , M_2 et M_3 lors de l'expérience.

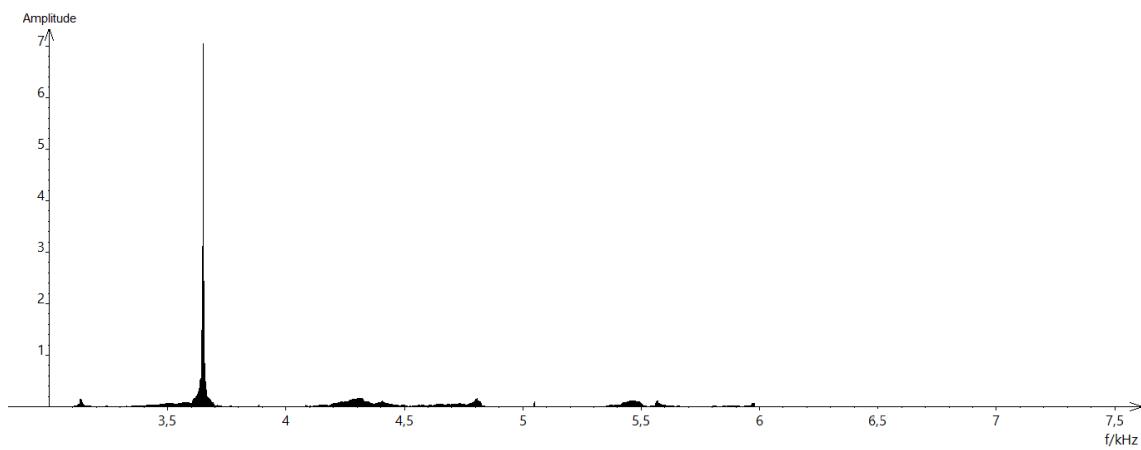
Document 1 : Spectres des fréquences des sons émis lors de la chute des marteaux

Spectre du son obtenu avec le marteau 1 :

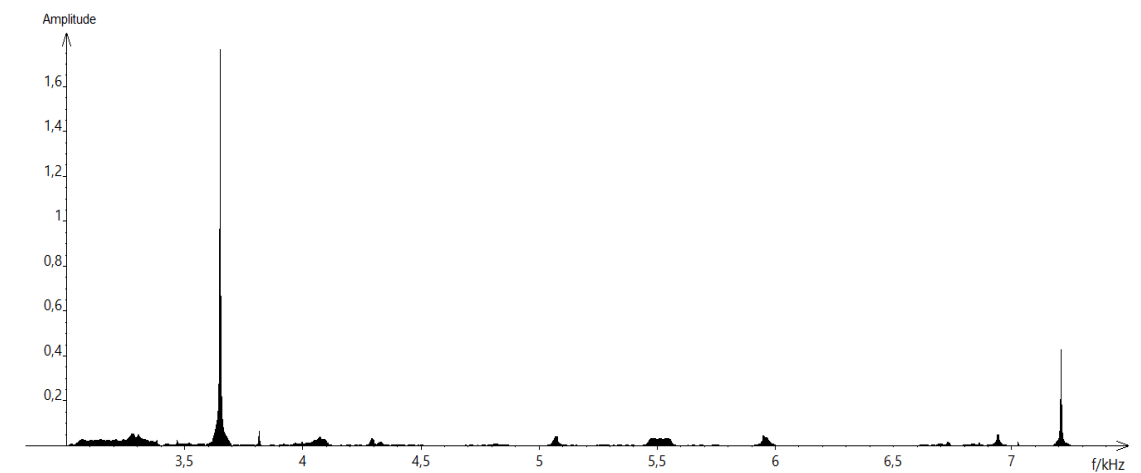




Spectre du son obtenu avec le marteau 2 :



Spectre du son obtenu avec le marteau 3 :



1- Lire sur le document 1 les fréquences fondamentales f_1 , f_2 , et f_3 des sons émis lors de l'expérience et noter leurs valeurs sur la copie.

2- Comparer ces fréquences. La masse du marteau influe-t-elle sur la fréquence fondamentale du son émis ?

Modèle CCYC : ©DNE

Nom de famille (naissance) :

(Suivi s'il y a lieu, du nom d'usage)

Prénom(s) :

N° candidat : N° d'inscription :

(Les numéros figurent sur la convocation.)

Né(e) le : / /



RÉPUBLIQUE FRANÇAISE

1.1

Partie 2. Construction d'une gamme

On souhaite construire une gamme musicale en harmonie avec la note obtenue en tapant sur l'enclume de la partie 1. On admet que cette fréquence vaut environ 3600 Hz.

3- Cette note, jugée trop aigüe, doit être diminuée de plusieurs octaves pour obtenir une fréquence proche de 440 Hz, qui correspond à la fréquence du La3 servant communément de référence. Combien d'octaves séparent la note obtenue en tapant sur l'enclume et le La3 ?

4- Dans une gamme de douze notes au tempérament égal (aussi appelée gamme tempérée), la fréquence de chaque note est obtenue en multipliant la fréquence de la note précédente par la racine douzième de deux, notée $\sqrt[12]{2}$ ou $2^{\frac{1}{12}}$.

4-a- Recopier et compléter l'algorithme ci-dessous pour qu'il permette de construire la gamme de douze notes au tempérament égal à partir de la note de fréquence $F = f_0$.

```

F ← ...
Pour i allant de ... à ...
    Afficher F
    F ← ...
Fin Pour

```

4-b- Donner la valeur de B dans le tableau des fréquences ci-dessous :

	Note 0	Note 1	Note 2	Note 3	Note 4	Note 5	Note 6	Note 7	Note 8	Note 9	Note 10	Note 11	Note 11
Fréquence f (Hz)	455 $=f_0$	482	511	541	573	607	A	682	723	765	811	859	910
Rapport f/f_0	1	$2^{1/12}$	$2^{2/12}$	$2^{3/12}$	$2^{4/12}$	$2^{5/12}$	B	$2^{7/12}$	$2^{8/12}$	$2^{9/12}$	$2^{10/12}$	$2^{11/12}$	2

4-c- Expliquer pourquoi $A^2 = 682 \times 607$ puis donner la valeur de A.

5- On rappelle que la quinte juste introduite pour construire les gammes de Pythagore est exactement $3/2$.

Déterminer la note de la gamme qui forme avec la note 0 l'intervalle le plus proche de la quinte juste.



Exercice 3 – Niveau première

Thème « Le Soleil, notre source d'énergie »

Seul sur Mars

Sur 10 points



En 2035, lors d'une expédition de la mission *Ares III* sur Mars, l'astronaute Mark Watney est laissé pour mort par ses coéquipiers, une tempête les ayant obligés à décoller de la planète en urgence.

Le lendemain, Mark Watney, qui n'est que blessé, se réveille et découvre qu'il est seul sur Mars.

Pour survivre, il décide de cultiver des pommes de terre sous le dôme de la base, en utilisant le sol martien fertilisé avec les excréments de l'équipage, de l'eau et l'énergie solaire.

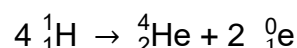
Source : <http://www.allocine.fr/film/fichefilm-221524/dvd-blu-ray/?cproduct=443240>

Partie 1. Puissance rayonnée par le Soleil

Le Soleil, d'une masse totale de $2,0 \times 10^{30}$ kg, est l'étoile du système solaire. Il est composé majoritairement d'atomes d'hydrogène H et d'atomes d'hélium He. Autour de lui gravitent la Terre et d'autres planètes comme Mars. La puissance rayonnée par le Soleil est voisine de $3,9 \times 10^{26}$ W.

Document 1. Réaction nucléaire de synthèse de l'hélium à partir de l'hydrogène dans le Soleil

Sous l'effet de la température suffisamment élevée existant au cœur du Soleil, quatre noyaux d'hydrogène peuvent réagir pour former un noyau d'hélium et deux positons selon l'équation de la réaction nucléaire simplifiée, dans laquelle ${}^0_1\text{e}$ représente un positon (particule de charge opposée à celle de l'électron) :



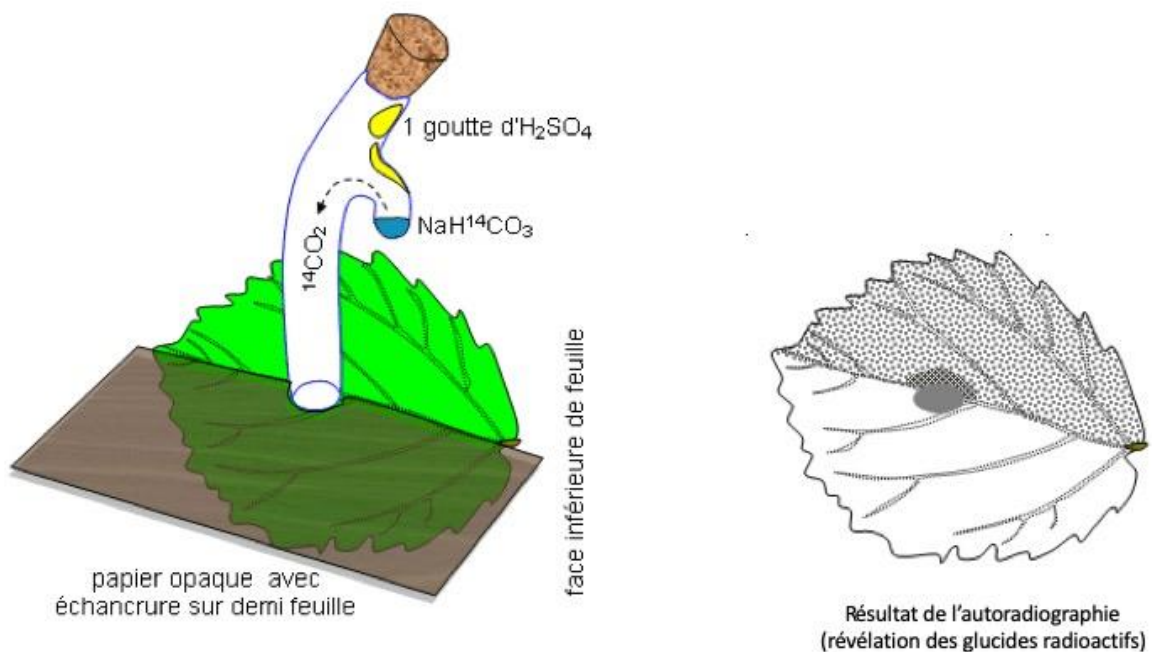
Cette réaction s'accompagne d'une perte de masse et donc d'un dégagement d'énergie.

1- Indiquer en le justifiant, si la formation de l'hélium dans le Soleil est une réaction de fusion ou de fission nucléaire.



Document 3. Fixation du CO₂ par une feuille

Une feuille est mise au contact en son centre avec du CO₂ marqué au ¹⁴C radioactif durant 5 minutes. Le CO₂ marqué peut diffuser dans la feuille à partir de la zone centrale. Seule la moitié de la feuille est exposée à la lumière. La technique d'autoradiographie permet de localiser des sucres radioactifs qui impressionnent fortement une plaque photographique mise au contact de la feuille (zone sombre sur le document).



D'après : http://svt.ac-dijon.fr/schemassvt/IMG/gif/co2_feuill_maz.gif

Modèle CCYC : ©DNE

Nom de famille (naissance) :

(Suivi s'il y a lieu, du nom d'usage)

Prénom(s) :

N° candidat : N° d'inscription :

(Les numéros figurent sur la convocation.)

Né(e) le : / /



RÉPUBLIQUE FRANÇAISE

1.1

5- Au 79^{ème} jour, Mark Watney récolte les tubercules de pomme de terre, qui ont stocké de l'énergie sous forme chimique.

Calculer le nombre de jours d'autonomie dont dispose Mark Watney grâce à sa récolte de pommes de terre avant qu'une nouvelle mission ne vienne le récupérer sur Mars.

Expliciter la démarche.

Données :

- Surface du champ de pommes de terre : $S = 126 \text{ m}^2$
- Rendement* de la pomme de terre : $r = 3 \text{ kg}\cdot\text{m}^{-2}$
- Apport énergétique des pommes de terre : $A = 3400 \text{ kJ}\cdot\text{kg}^{-1}$
- Dépense énergétique moyenne par sol martien de Mark Watney : $D = 11000 \text{ kJ}$

* En agriculture, on appelle rendement la masse végétale récoltée par unité de surface et par saison.