



Exercice 1 – Niveau première

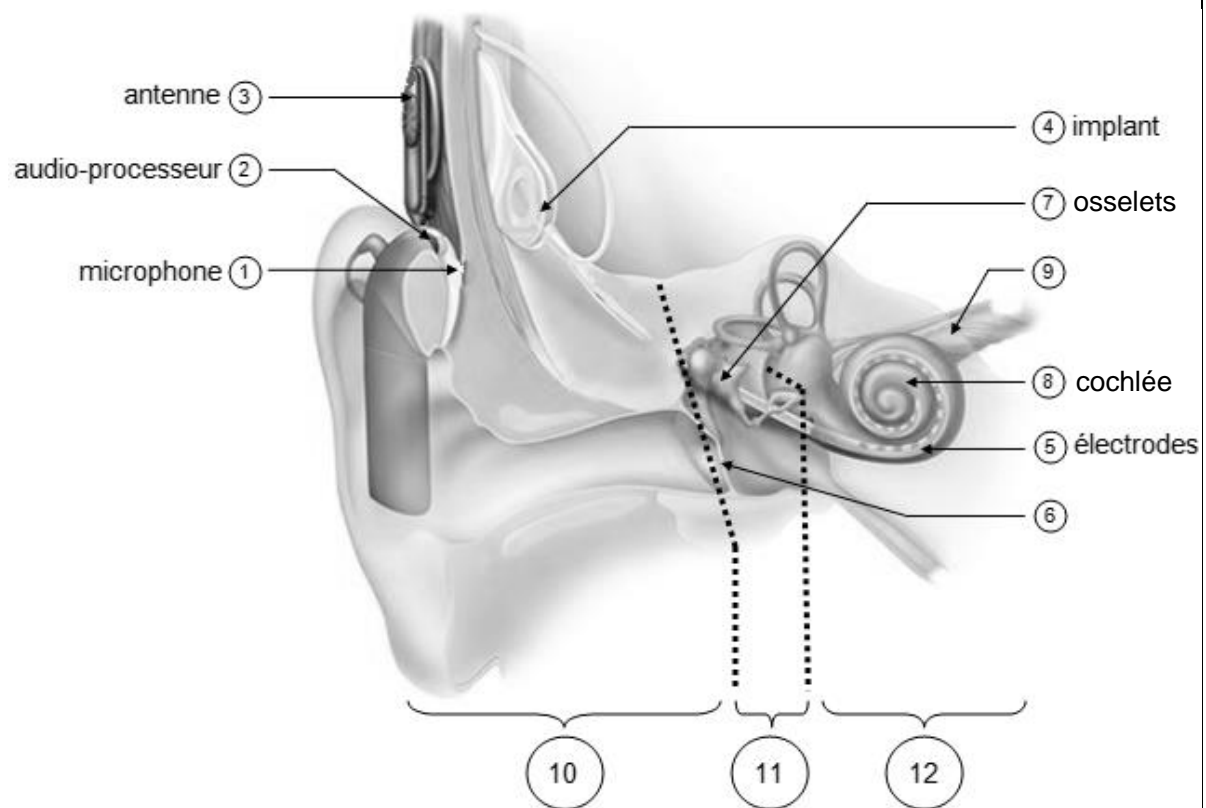
Thème « Son et musique, porteurs d'information »

Implant cochléaire

Sur 10 points

L'implant cochléaire est un dispositif auditif destiné aux personnes atteintes d'une surdité sévère ou profonde. Il transforme les sons en signaux électriques envoyés directement au nerf auditif grâce à des électrodes posées chirurgicalement.

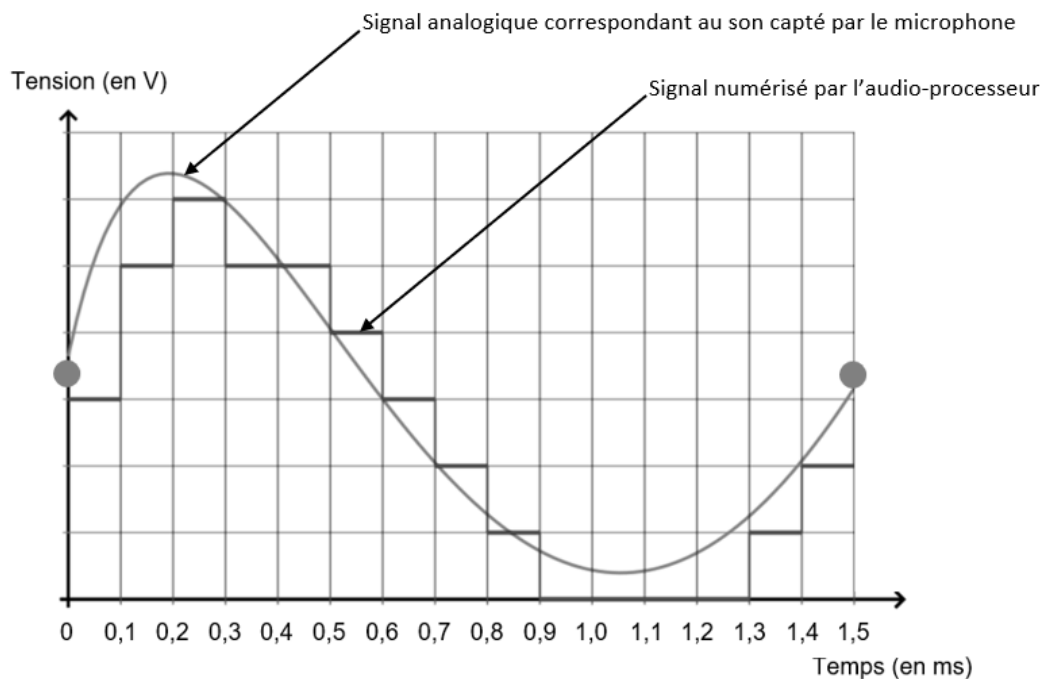
Document 1. Fonctionnement d'un implant cochléaire



Modifié d'après : <https://idataresearch.com/cascination-and-med-el-collaborate-on-state-of-the-art-cochlear-implantation-method>



Document 2. Son capté par le microphone et numérisation par l'audio-processeur



Source : http://www.ostralo.net/3_animations/js/CAN/index_v2nmoins1.htm

5-a- Sachant qu'une quantification sur n bits permet 2^n paliers numériques, indiquer, en le justifiant, pourquoi ici $n=3$.

5-b- La taille L en octet d'un fichier audio est donnée par la formule :

$$L = f_e \times \frac{n}{8} \times \Delta t$$

avec f_e la fréquence d'échantillonnage (en hertz), n la quantification (en bits) et Δt la durée (en secondes).

Pendant une journée, l'audio-processeur numérise en moyenne 10 heures de sons différents. Calculer la taille L d'un fichier audio équivalent à une journée de fonctionnement de l'implant cochléaire.

Modèle CCYC : ©DNE

Nom de famille (naissance) :

(Suivi s'il y a lieu, du nom d'usage)

Prénom(s) :

N° candidat :

N° d'inscription :

(Les numéros figurent sur la convocation.)

Né(e) le :



1.1

Exercice 2 – Niveau première

Thème « Le Soleil, notre source d'énergie »

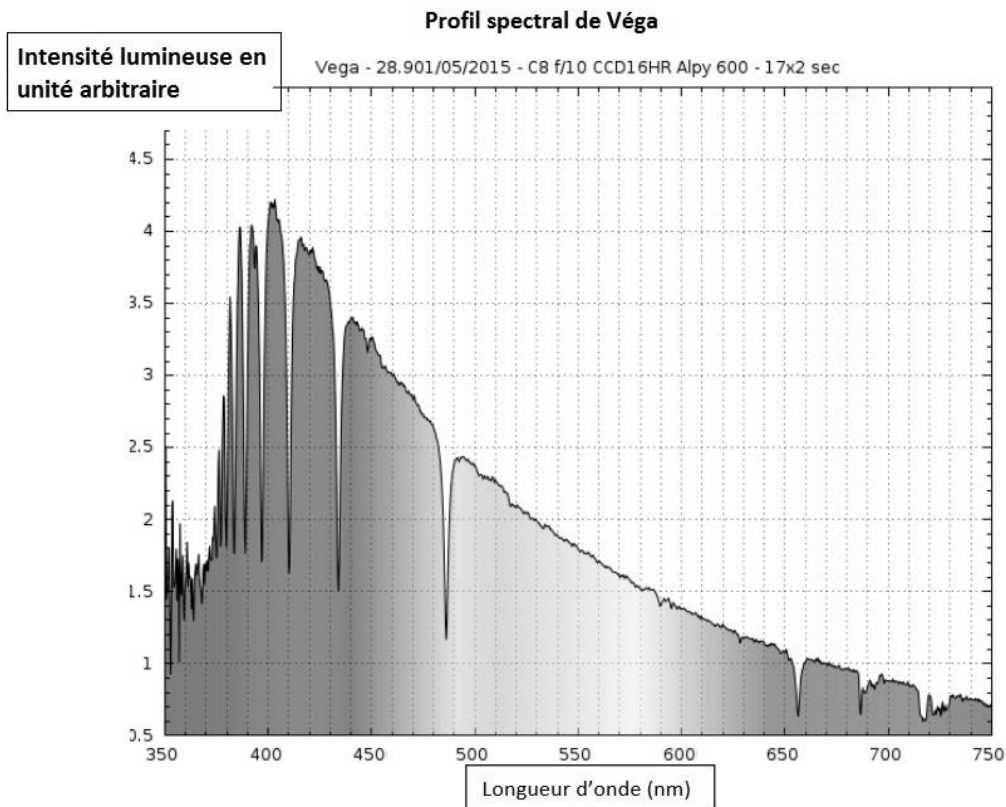
L'énergie rayonnée par les étoiles et utilisation biologique du rayonnement solaire

Sur 10 points

Les étoiles, comme notre Soleil ou Véga de la constellation de la Lyre, sont des sources d'énergie.

1- Nommer et décrire le mécanisme qui est à l'origine de l'énergie rayonnée par une étoile.

Document 1. Informations sur la lumière émise par Véga et sur l'influence de la température de surface



Source : ci2mrdutoit.weebly.com



Rappel sur la loi de Wien : la longueur d'onde correspondant à l'intensité lumineuse maximale λ_{\max} est donnée par

$$\lambda_{\max} = \frac{2,89 \cdot 10^{-3}}{T}$$

avec λ_{\max} en mètres et T en kelvins.

Relation entre température Θ en degrés Celsius ($^{\circ}\text{C}$) et température T en kelvins (K) : $\Theta = T - 273,15$.

La longueur d'onde correspondante à l'intensité lumineuse maximale pour le Soleil est $\lambda_{\max} = 500 \text{ nm}$.

À partir de vos connaissances et des informations apportées par les documents, répondre aux questions suivantes.

2- Indiquer si la température de surface de l'étoile Véga est supérieure ou inférieure à celle du Soleil. Justifier votre réponse.

3- Recopier sur votre copie la proposition la plus juste parmi les suivantes et justifier votre réponse.

La température de surface de l'étoile Véga vaut environ :

- 750 K
- 7500 K
- 7200 $^{\circ}\text{C}$
- 72000 $^{\circ}\text{C}$

4- L'énergie nécessaire à la production de biomasse par les animaux provient indirectement du Soleil. Justifier cette affirmation en s'appuyant sur des informations extraites des documents 2 et 3 suivants, ainsi que de vos connaissances.

La réponse ne doit pas excéder une page.

Modèle CCYC : ©DNE

Nom de famille (naissance) :

(Suivi s'il y a lieu, du nom d'usage)

Prénom(s) :

N° candidat :

N° d'inscription :



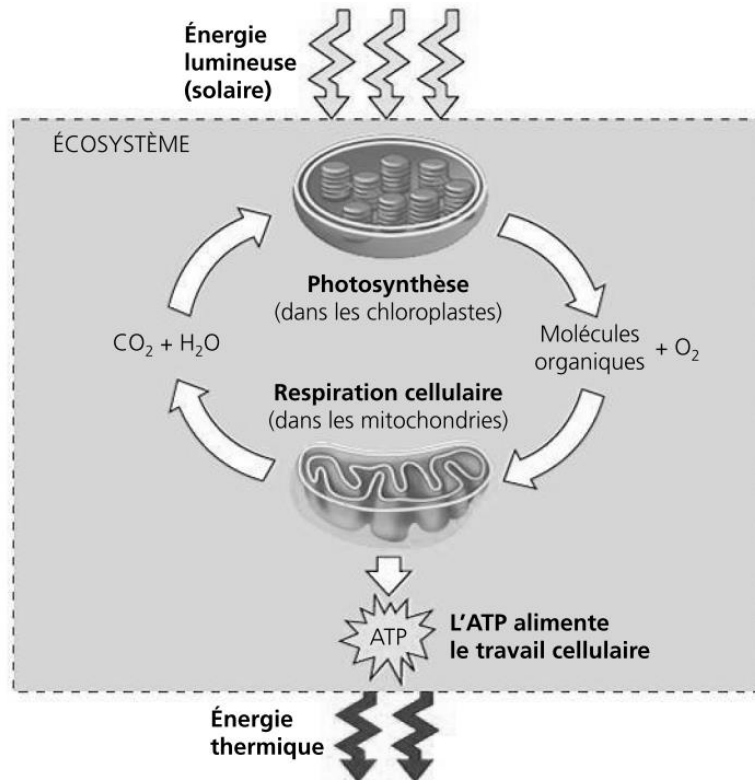
Liberté • Égalité • Fraternité
RÉPUBLIQUE FRANÇAISE

Né(e) le :

(Les numéros figurent sur la convocation.)

1.1

Document 2. Photosynthèse, respiration et fonctionnement d'une plante



La photosynthèse est un métabolisme qui se déroule dans les cellules chlorophylliennes. La respiration cellulaire est un métabolisme se déroulant dans toutes les cellules et qui produit un type de molécule permettant des transferts d'énergie donc le fonctionnement cellulaire : l'ATP (adénosine tri-phosphate).

Source : d'après *Biologie, Reece, Urry et al ; 4^{ème} édition*

Document 3. Représentation schématique des flux d'énergie et de matière organique (biomasse) dans un écosystème

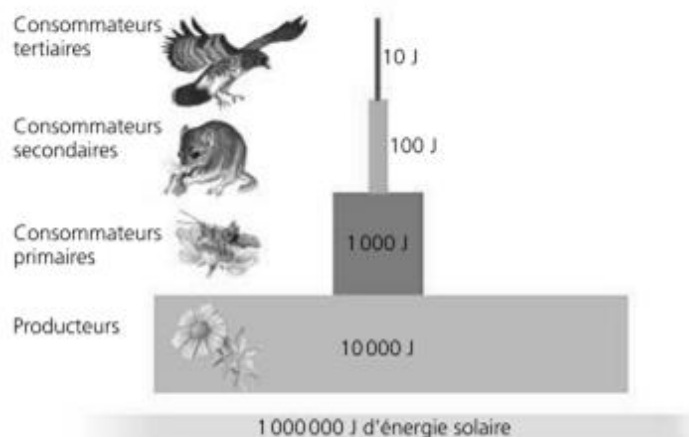


Figure 1 : une pyramide énergétique dans un écosystème terrestre

Les différents maillons d'un réseau trophique sont positionnés verticalement en fonction de leur place fonctionnelle (des producteurs primaires à la base aux consommateurs tertiaires en haut). Dans cet exemple d'écosystème, environ 10 % de l'énergie disponible à chaque niveau trophique sont convertis en nouvelle biomasse au niveau suivant, ce qui représente une efficacité trophique de 10 %.

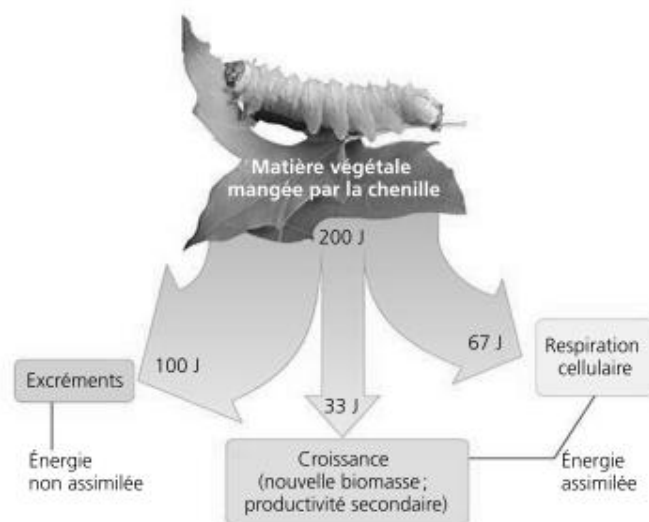


Figure 2 : la répartition de l'énergie dans un niveau de chaîne trophique

Moins de 17 % de la nourriture d'une chenille sert réellement à la production de biomasse (croissance).

D'après *Biologie*, Reece, Urry *et al* ; 4^{ème} édition.

Modèle CCYC : ©DNE

Nom de famille (naissance) :
(Suivi s'il y a lieu, du nom d'usage)

--	--	--	--	--	--	--	--	--	--	--	--	--	--	--	--	--	--	--	--	--	--	--	--

Prénom(s) :

--	--	--	--	--	--	--	--	--	--	--	--	--	--	--	--	--	--	--	--	--	--	--	--

N° candidat :

--	--	--	--	--	--	--	--	--	--	--	--	--	--	--

N° d'inscription :

--	--	--	--

(Les numéros figurent sur la convocation.)

Né(e) le :

		/		/			
--	--	---	--	---	--	--	--



1.1

Exercice 3 – Niveau première

Thème « Une longue histoire de la matière »

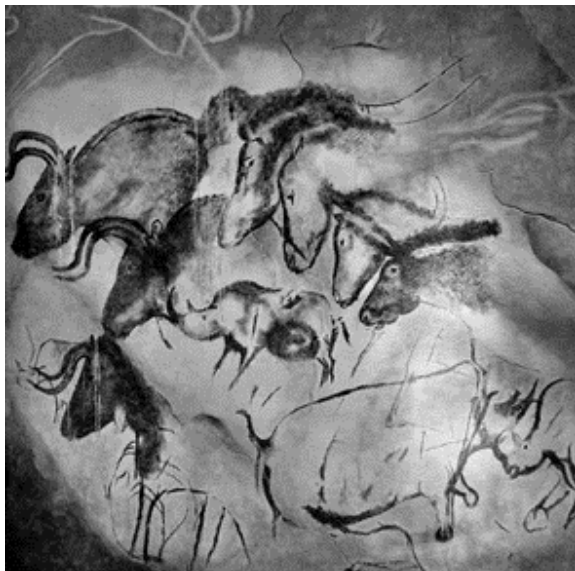
Les peintures et les gravures de la grotte Chauvet

Sur 10 points

La grotte Chauvet, découverte en décembre 1994, s'ouvre au pied d'une falaise bordant les gorges de l'Ardèche. Elle contient de nombreuses peintures et gravures mais ne semble pas avoir servi d'habitat car les outils de silex et les restes de faune apportés par les humains sont rares.

Document 1. Photographies de deux œuvres de la grotte Chauvet

1-a Peintures de chevaux, aurochs et rhinocéros



1-b Gravure du hibou moyen-duc



Source : wikipedia

On cherche à associer la peinture de chevaux, aurochs et rhinocéros (document 1-a) à l'une des phases d'occupation de la grotte. Pour cela, on utilise une méthode de datation basée sur la désintégration des noyaux radioactifs.

L'évolution du nombre de noyaux radioactifs d'une composition donnée au cours du temps suit une loi de décroissance représentée dans le document réponse à rendre avec la copie.



1- Rappeler la définition de la demi-vie $t_{1/2}$ associée à cette désintégration radioactive. Sur le document réponse, faire apparaître la construction graphique permettant de repérer la valeur de la demi-vie du noyau.

La grotte a connu deux phases d'occupation, l'une à l'Aurignacien (entre 37 000 et 33 500 années avant aujourd'hui), l'autre au Gravettien (31 000 à 28 000 années avant aujourd'hui).

Il existe de nombreux noyaux radioactifs mais leur demi-vie est différente (quelques exemples sont donnés dans le document 2).

Document 2. Différents noyaux radioactifs et leur demi-vie

Noyaux radioactifs	Demi-vie (années)
Uranium 238	$4,4688 \times 10^9$
Uranium 235	$7,03 \times 10^8$
Potassium 40	$1,248 \times 10^9$
Carbone 14	$5,568 \times 10^3$
Iode 131	2×10^{-2}

2- Déterminer le noyau radioactif dont la demi-vie est la mieux adaptée pour dater l'occupation de la grotte. Justifier.

Le charbon de bois est obtenu à partir du bois, qui est un matériau d'origine végétale. La peinture des chevaux (document 1-a) a été réalisée sur les parois de la grotte avec du charbon de bois.

On rappelle que le carbone radioactif (^{14}C) est présent naturellement dans le dioxyde de carbone (CO_2) atmosphérique.

Les végétaux fixent le carbone atmosphérique au sein de leur matière organique grâce à la photosynthèse. Après leur mort ou leur prélèvement par l'être humain, ils n'échangent plus de carbone avec l'atmosphère.

3-a Compléter le document réponse représentant la désintégration de ^{14}C au sein du charbon de bois.

Modèle CCYC : ©DNE

Nom de famille (naissance) :

(Suivi s'il y a lieu, du nom d'usage)

Prénom(s) :

N° candidat : N° d'inscription :

(Les numéros figurent sur la convocation.)

Né(e) le : / /



RÉPUBLIQUE FRANÇAISE

1.1


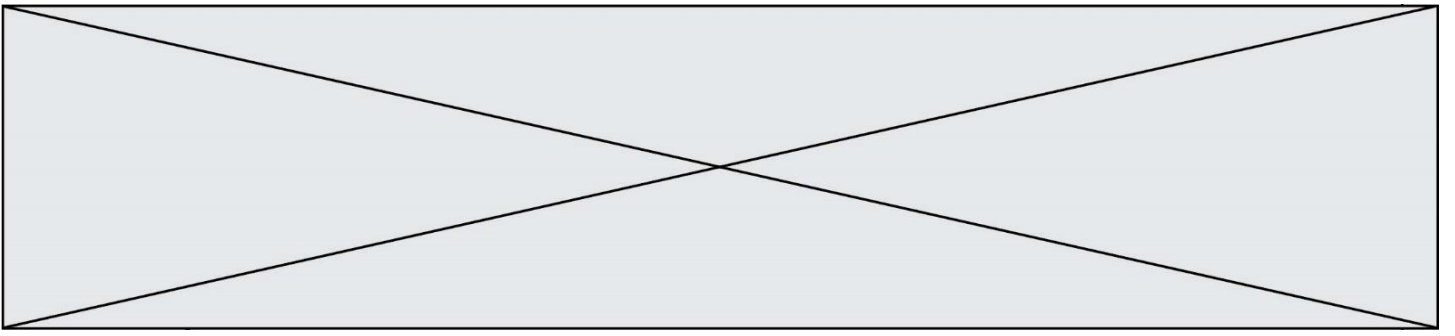
3-b Indiquer si, en principe, la datation pourrait être réalisée avec un échantillon comprenant initialement *un seul* noyau de ^{14}C , en admettant que l'on dispose d'appareils susceptibles de détecter la présence d'un seul noyau de ^{14}C .

4-a Sachant qu'il ne reste que 2,34 % du ^{14}C initial dans le charbon de la peinture, donner un encadrement en nombres entiers de demi-vies de la date de la mort du bois qui a servi – sous forme de charbon de bois – à réaliser la peinture.

4-b On utilise la figure 1 du document réponse dans laquelle on prend comme origine des âges l'instant correspondant à 5 demi-vies du ^{14}C , pour lequel N_0 représente 3,13 % du nombre initial de noyaux de ^{14}C présents dans le charbon de la peinture. Déterminer graphiquement en années la durée nécessaire pour que le pourcentage de ^{14}C restant dans le charbon de bois passe de 3,13 % à 2,34 %.

4-c Indiquer si cette peinture a été faite lors de l'occupation à l'Aurignacien ou au Gravettien. Justifier.

5- Au sein de cette grotte, on trouve également des gravures réalisées dans le calcaire (exemple de la gravure du hibou moyen-duc du document 1-b). La méthode précédente ne peut pas être utilisée pour la dater. Proposer une explication.



Modèle CCYC : ©DNE

Nom de famille (naissance) :

(Suivi s'il y a lieu, du nom d'usage)

Prénom(s) :

N° candidat :

N° d'inscription :



Liberté • Égalité • Fraternité
RÉPUBLIQUE FRANÇAISE

Né(e) le :

(Les numéros figurent sur la convocation.)

1.1

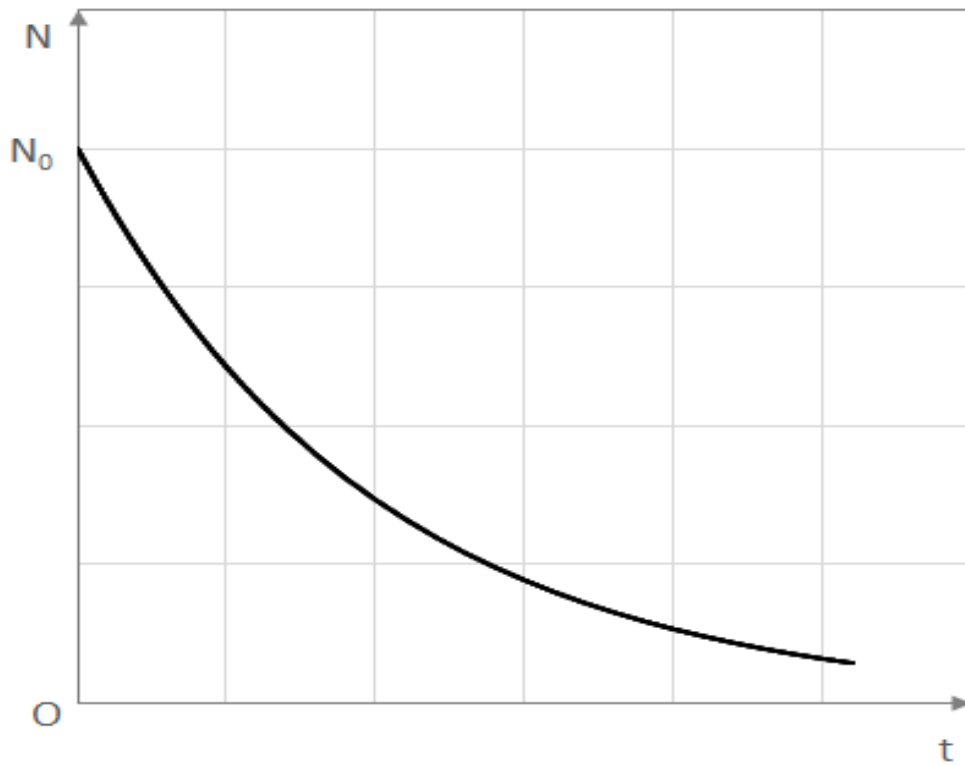
Document réponse à rendre avec la copie

Exercice 3

Les peintures et les gravures de la grotte Chauvet

Questions 1 et 4-b




Figure 1. Évolution du nombre de noyaux radioactifs en fonction du temps





Question 3-a

Évolution du nombre de noyaux de ^{14}C dans le charbon de bois au cours du temps

Age	0 ans	5570 ans	11140 ans
			
Pourcentage de ^{14}C par rapport au ^{14}C initial			

Dans la première ligne du tableau, chaque point représente un très grand nombre de noyaux de ^{14}C .

Compléter cette première ligne avec les nombres de points appropriés.

Compléter la deuxième ligne en indiquant les pourcentages de ^{14}C restant par rapport à la valeur initiale au moment de la mort.