

Modèle CCYC : ©DNE

Nom de famille (naissance) :

(Suivi s'il y a lieu, du nom d'usage)

Prénom(s) :

N° candidat :

N° d'inscription :



Liberté • Égalité • Fraternité
RÉPUBLIQUE FRANÇAISE

Né(e) le :

(Les numéros figurent sur la convocation.)

1.1

ÉVALUATION

CLASSE : Terminale – Épreuve de fin de cycle

VOIE : Générale Technologique Toutes voies (LV)

ENSEIGNEMENT : Enseignement scientifique

DURÉE DE L'ÉPREUVE : 2h

Niveaux visés (LV) : LVA LVB

Axes de programme :

CALCULATRICE AUTORISÉE : Oui Non

DICTIONNAIRE AUTORISÉ : Oui Non

Ce sujet contient des parties à rendre par le candidat avec sa copie. De ce fait, il ne peut être dupliqué et doit être imprimé pour chaque candidat afin d'assurer ensuite sa bonne numérisation.

Ce sujet intègre des éléments en couleur. S'il est choisi par l'équipe pédagogique, il est nécessaire que chaque élève dispose d'une impression en couleur.

Ce sujet contient des pièces jointes de type audio ou vidéo qu'il faudra télécharger et jouer le jour de l'épreuve.

Nombre total de pages : 11

Parmi les trois exercices qui composent ce sujet, le candidat en traite obligatoirement deux.

L'exercice 1, du niveau de la classe de terminale, doit être obligatoirement abordé.

Pour le deuxième exercice, le candidat choisit entre l'exercice 2 et l'exercice 3 qui sont du niveau de la classe de première. Il indique son choix en début de copie.



Exercice 1 (obligatoire) – Niveau terminale

Thème « Science, climat et société »

Confinement et atmosphère

Sur 10 points

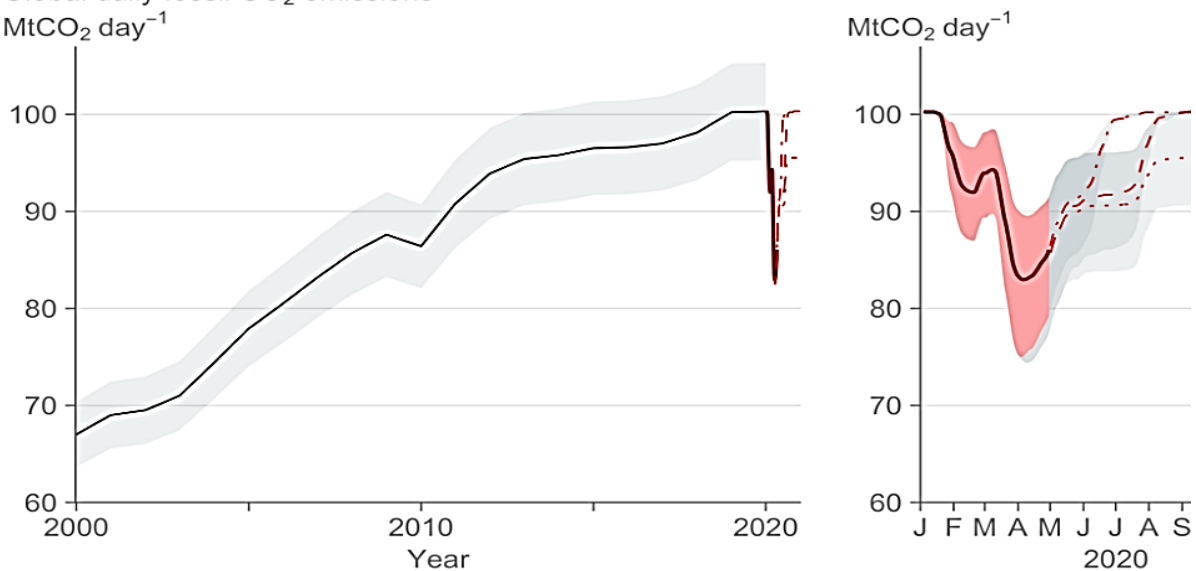
L'activité humaine a des conséquences sur la composition de l'atmosphère, notamment parce qu'elle conditionne les émissions de CO₂.

Nous nous proposons ici d'étudier une évolution récente de l'atmosphère durant les premiers mois de la crise sanitaire de la Covid 19 et les mesures qui l'ont accompagnées.

Document 1 : émissions globales de CO₂ en mégatonnes par jour d'origine fossile

Le document présente l'évolution du total des émissions journalières dues à l'utilisation de combustibles fossiles, à l'échelle de la Terre, au cours du temps. Les parties grisées représentent la marge d'erreur.

Global daily fossil CO₂ emissions
MtCO₂ day⁻¹



Source: Le Quéré et al. Nature Climate Change (2020); Global Carbon Project

1. En s'appuyant sur l'analyse du document 1, préciser comment ont évolué les émissions de CO₂ de 2000 à 2020, à l'échelle globale de la Terre et proposer une hypothèse quant aux causes des variations constatées pendant les premiers mois de l'année 2020.

Modèle CCYC : ©DNE

Nom de famille (naissance) :

(Suivi s'il y a lieu, du nom d'usage)

Prénom(s) :

N° candidat :

N° d'inscription :



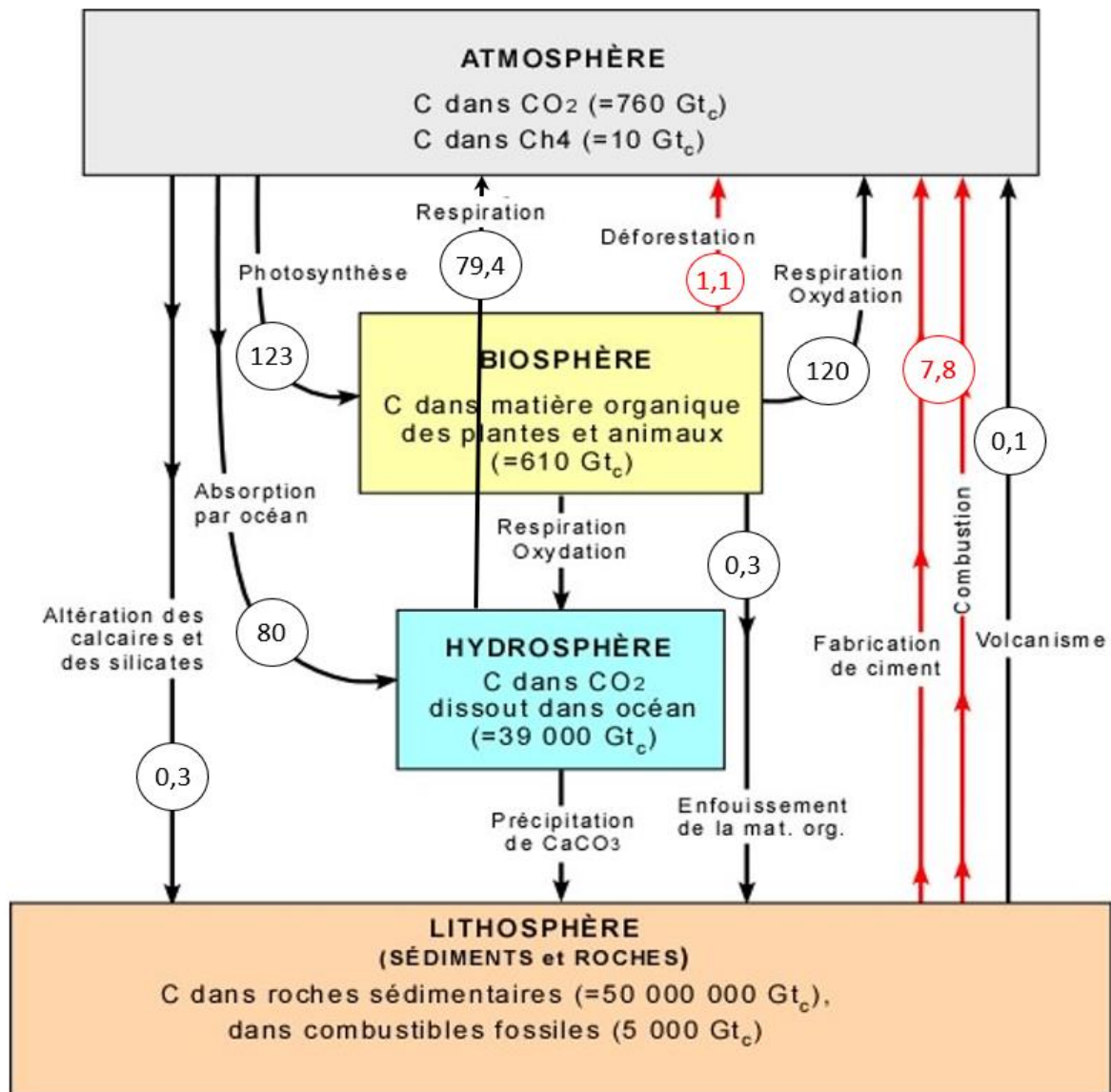
Liberté • Égalité • Fraternité
RÉPUBLIQUE FRANÇAISE

Né(e) le :

(Les numéros figurent sur la convocation.)

1.1

Document 2 : cycle et flux de carbone (en Gt / an)




Flux en GtC/an

Valeurs en Gt_c (gigatonnes de carbone),
selon Berner et Berner (1996),
Kump, Kasting et Crane (1999) Prentice Hall



2. À l'aide de connaissances et en s'appuyant sur le document 2, identifier les deux réservoirs de carbone les plus importants et préciser les flux de carbone entre ces deux réservoirs.
3. En s'appuyant sur le document 2, identifier les flux de nature anthropique sur ce cycle.
4. En effectuant un bilan à partir de données du document 2, montrer que la quantité de carbone augmente avec le temps dans l'atmosphère.
5. Expliquer pourquoi on qualifie un combustible fossile de ressource non renouvelable.
6. Sachant qu'une mole d'essence produit huit moles de CO_2 , prouver par le calcul qu'un kilogramme d'essence produit une masse de CO_2 d'environ 3,1 kg, en utilisant les données suivantes.

En première approche, l'équation de la réaction de combustion de l'essence peut être assimilée à celle de la combustion de l'octane (C_8H_{18}) :



Données : Une mole d'octane C_8H_{18} a une masse de 114,0 g. Une mole de CO_2 a une masse de 44,0 g.

7. En déduire la masse de CO_2 produite pour une quantité de $2,8 \cdot 10^9$ kg d'essence correspondant à la consommation mondiale journalière sans crise sanitaire.
- 8.a. Comparer la valeur des émissions de CO_2 calculée à la question 7 à la valeur lue sur le graphique du document 1 pour le mois d'avril 2020.
- 8.b. Formuler des hypothèses pour expliquer la différence constatée.

Modèle CCYC : ©DNE

Nom de famille (naissance) :
(Suivi s'il y a lieu, du nom d'usage)

--	--	--	--	--	--	--	--	--	--	--	--	--	--	--	--	--	--	--	--	--

Prénom(s) :

--	--	--	--	--	--	--	--	--	--	--	--	--	--	--	--	--	--	--	--	--

N° candidat :

--	--	--	--	--	--	--	--	--	--

N° d'inscription :

--	--	--



Né(e) le :

(Les numéros figurent sur la convocation.)

		/			/				
--	--	---	--	--	---	--	--	--	--

1.1

Exercice 2 (au choix) – Niveau première

Thème « Une longue histoire de la matière »

Les structures microscopiques de la silice et du silicium

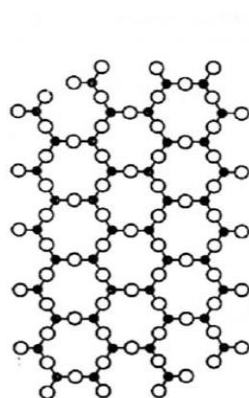
Sur 10 points

La silice est la forme naturelle du dioxyde de silicium (SiO_2) qui entre dans la composition de nombreux minéraux (quartz, etc.). La silice représente 60,6 % de la masse de la croûte terrestre continentale. De nombreuses roches sont constituées de silice (sable, grès, granite, etc.) et l'étude des différentes structures possibles permet d'en savoir plus sur les conditions de formation des roches.

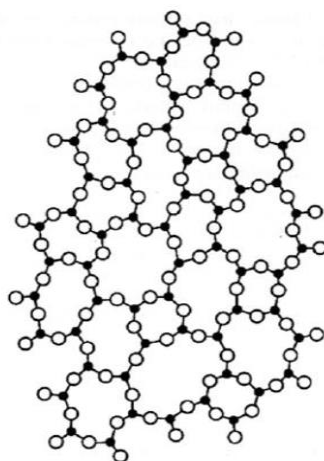
Le verre utilisé dans l'industrie est un solide non cristallin (amorphe), dur, fragile (cassant) et transparent. Sa composition chimique contient une part importante de silice.

Partie A. La silice : une structure amorphe ou cristalline

Document 1. Deux structures en coupe de la silice



a



b

● : Atome de silicium

○ : Atome d'oxygène

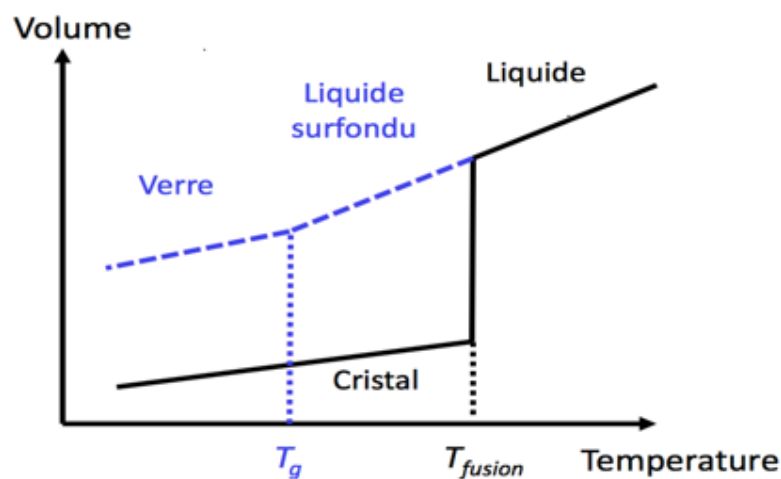
Source : d'après CHAGUETMI, Salem (2010), *Élaboration et caractérisation de nouveaux verres de fluorohafnates de strontium et de phosphosulfates*. Thèse, Université Mohamed Khider Biskra
<http://thesis.univ-biskra.dz/1006/3/Chapitre%201.pdf>



1- La figure du document 1 montre deux structures possibles de la silice. L'une d'elles est dite cristalline, l'autre amorphe (verre). Parmi les représentations a et b, laquelle correspond à une structure cristalline ? Justifier votre choix.

À partir de deux échantillons identiques de silice liquide, on peut obtenir soit un verre, soit un cristal selon la vitesse de refroidissement.

Document 2. Évolution du volume d'un échantillon de silice lors d'un changement d'état



Température de transition vitreuse :
 $T_g = 1473 \text{ K}$

Température de fusion :
 $T_{\text{fusion}} = 1996 \text{ K}$

2- Comparer qualitativement les volumes des deux échantillons obtenus (verre ou cristal) à la température de 1400 K.

3- Proposer une explication à cette différence de volume en s'appuyant sur le document 1.

Partie B. Étude de la maille cristalline du silicium

On s'intéresse dans cette partie au silicium pur. On fait l'hypothèse que la structure cristalline du silicium est cubique à faces centrées, avec les caractéristiques suivantes :

Rayon d'un atome de silicium : $r = 118 \times 10^{-12} \text{ m}$

Masse d'un atome de silicium : $m = 4,66 \times 10^{-26} \text{ kg}$

Modèle CCYC : ©DNE

Nom de famille (naissance) :

(Suivi s'il y a lieu, du nom d'usage)

Prénom(s) :

N° candidat :

N° d'inscription :



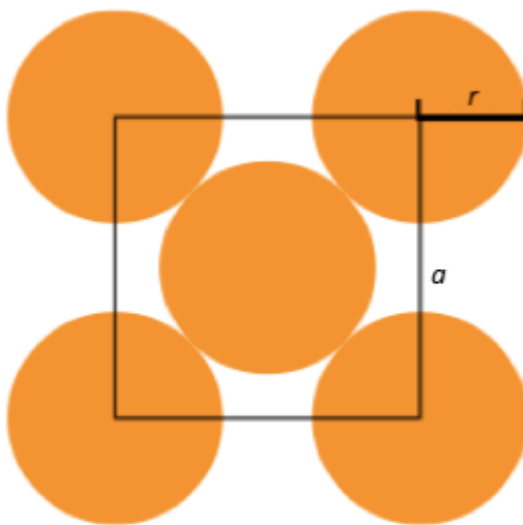
Né(e) le :

(Les numéros figurent sur la convocation.)

1.1

4- Le but de cette partie est de déterminer la masse volumique du silicium afin de valider ou d'invalider l'hypothèse formulée sur sa structure (cubique à faces centrées).

Document 3. Coupe d'une maille selon le modèle cubique à faces centrées



La mesure a correspond au paramètre de la maille et on suppose que les atomes de silicium sont sphériques et tangents. Le rayon d'un atome de silicium est noté r .

4-a- À l'aide de la figure du document 3, démontrer que : $a = 2\sqrt{2} r$ et calculer sa valeur.

4-b- Représenter en perspective cavalière la maille cubique à faces centrées.

4-c- On rappelle que, dans la structure cubique à faces centrées, une maille contient l'équivalent de 4 atomes de silicium. Calculer la masse volumique d'un cristal de silicium dans cette hypothèse.

4-d- En réalité, la masse volumique du cristal de silicium est $2,33 \text{ g.cm}^{-3}$. L'hypothèse de la structure cristalline cubique à faces centrées peut-elle être validée ?



Exercice 3 (au choix) – Niveau première

Thème « Son et musique, porteurs d'information »

Un décret qui fait grand bruit

Sur 10 points

« À partir d'aujourd'hui, les salles de spectacles, mais aussi les cinémas et les festivals vont devoir limiter le maximum de leur volume sonore, en le baissant de 105 décibels (c'était jusqu'ici la norme) à 102. C'est donc 3 décibels en moins. Cela n'a l'air de rien comme ça, mais cela revient tout de même à diviser par deux l'intensité sonore. 102 décibels, cela reste toutefois encore beaucoup. Beaucoup trop disent certains, des médecins notamment, qui rappellent par exemple qu'un marteau piqueur équivaut à 100 décibels. »

D'après un article de <https://www.rtl.fr> publié le 01/10/2018

1- À partir du document 1 et de vos connaissances, expliquer pourquoi il est nécessaire de baisser le niveau sonore dans les salles de spectacles. Une réponse argumentée et structurée est attendue.

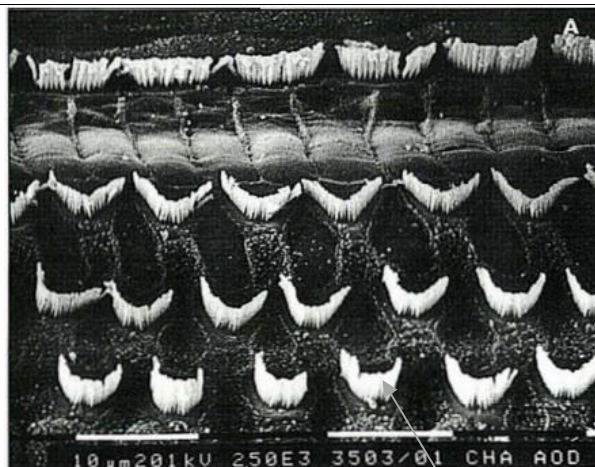
Document 1. Vues de surface d'une cochlée de chat avant et après des traumatismes auditifs

La cochlée représente la partie auditive de l'oreille interne. On observe une cochlée de chat au microscope électronique à balayage dans différentes conditions.

Partie de cochlée normale

On observe une rangée de cellules ciliées internes (CCI) et 3 rangées de cellules ciliées externes (CCE).

Les cellules ciliées sont toutes visibles.



} CCI

} CCE

Cils vibratiles des cellules de la CCE

Modèle CCYC : ©DNE

Nom de famille (naissance) :

(Suivi s'il y a lieu, du nom d'usage)

Prénom(s) :

N° candidat :

N° d'inscription :




Né(e) le :

(Les numéros figurent sur la convocation.)

1.1

Partie de cochlée
après une exposition à
un son pur de 8 kHz à
120 dB pendant 20
minutes

Les cils vibratiles des
cellules ciliées internes
sont absents ainsi que
certains des cellules
ciliées externes



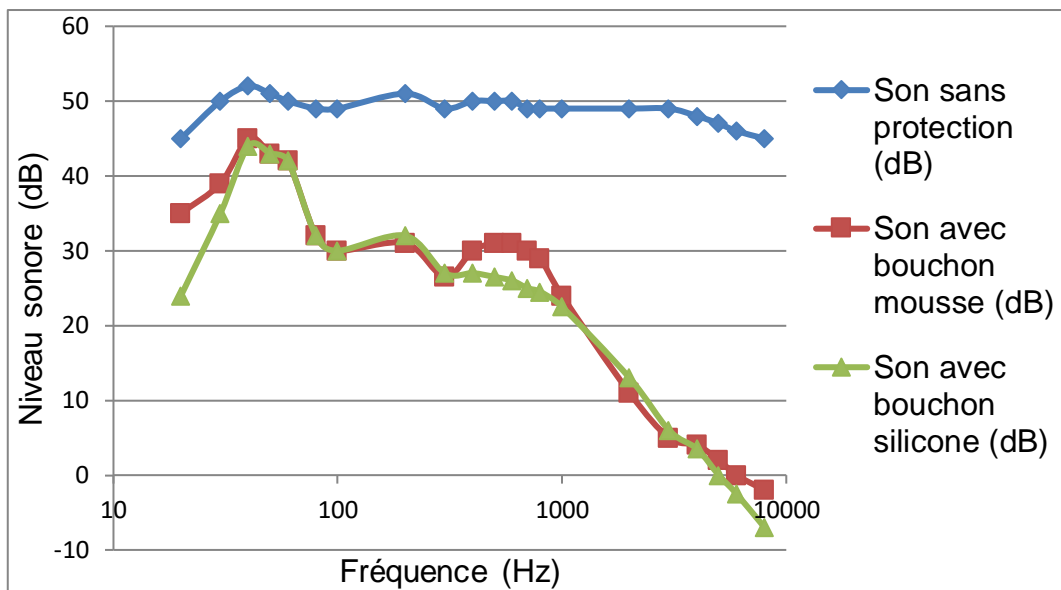
CCI

CCE

D'après http://www.ipubli.inserm.fr/bitstream/handle/10608/4361/MS_1991_4_357.pdf?sequence=1

2- À partir de vos connaissances et des documents 2, 3 et 4, expliquer les précautions à adopter afin de réduire les risques d'un traumatisme sonore au niveau de l'oreille interne. Une réponse argumentée et structurée est attendue.

Document 2. Effet d'un bouchon d'oreille sur le niveau sonore d'un son au sein de l'oreille interne en fonction de sa fréquence



D'après <https://www.lesnumeriques.com/accessoire-audio/risques-auditifs-quelle-protection-auditive-choisir-a3795.html>



Document 3. Durées admissibles d'exposition quotidienne au bruit

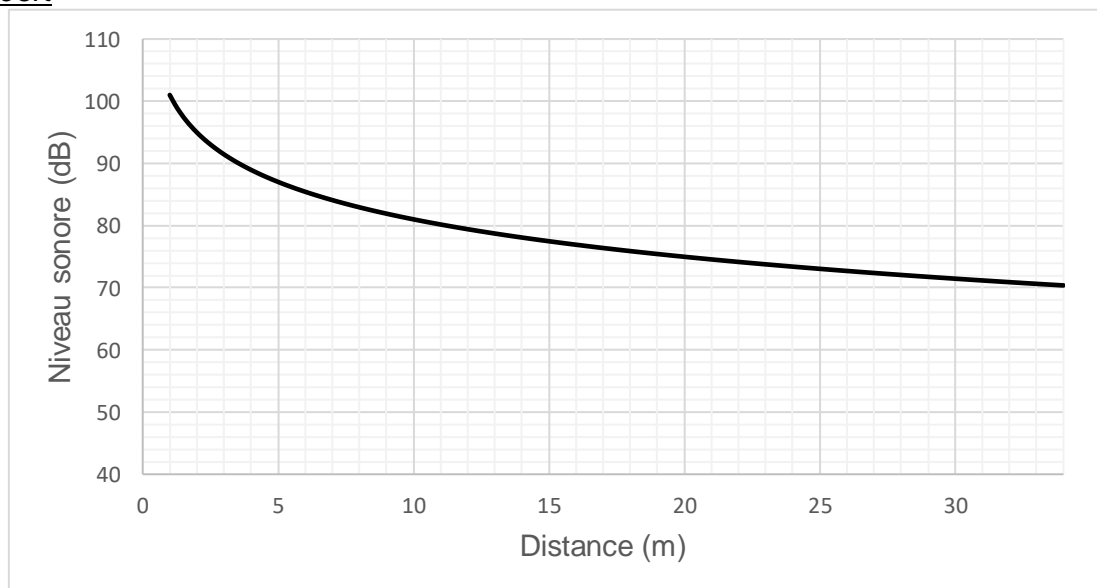
DURÉE D'EXPOSITION AU BRUIT RECOMMANDÉE

Niveau sonore en dB	Durée d'exposition maximale
80	8h
83	4h
86	2h
89	1h
92	30min.
95	15min.
98	7min. et 30sec.
101	3min. et 45sec.
104	1min. et 20sec.
107	40sec.
111	20sec.

Ce document indique la durée admissible d'exposition quotidienne au bruit à différents niveaux d'intensité en décibels (dB). Au-dessous de 80 dB, il n'y a pas de risque de dégradation brutale de l'audition.

D'après <https://www.journee-audition.org/pdf/guide-jeunes.pdf>

Document 4. Évolution du niveau sonore en fonction de la distance à la scène du concert



Modèle CCYC : ©DNE

Nom de famille (naissance) :

(Suivi s'il y a lieu, du nom d'usage)

Prénom(s) :

N° candidat : N° d'inscription :

(Les numéros figurent sur la convocation.)

Né(e) le : / /



1.1

3- Louise écoute son groupe de rock préféré et ne veut rien rater du concert dont elle ne connaît pas la durée exacte.

Pour cela, elle se met au plus près de la scène à une distance d'environ 1,0 m.

Les mesures effectuées par les techniciens de la salle montrent que le groupe respecte la nouvelle législation en vigueur : le niveau sonore à l'endroit où est Louise est de 101 dB. Pourtant au bout de quelques minutes, Louise ressent une gêne et décide de s'éloigner un peu de la scène.

À partir des documents 3 et 4, déterminer graphiquement à quelle distance de la scène Louise doit se placer pour être sûre de ne subir aucun risque de dégradation brutale de son audition.