

Modèle CCYC : ©DNE

Nom de famille (naissance) :
(Suivi s'il y a lieu, du nom d'usage)

--	--	--	--	--	--	--	--	--	--	--	--	--	--	--	--	--	--	--	--	--

Prénom(s) :

--	--	--	--	--	--	--	--	--	--	--	--	--	--	--	--	--	--	--	--	--

N° candidat :

--	--	--	--	--	--	--	--	--	--	--	--	--

N° d'inscription :

--	--	--	--



Liberté • Égalité • Fraternité
RÉPUBLIQUE FRANÇAISE

Né(e) le :

(Les numéros figurent sur la convocation.)

		/			/				
--	--	---	--	--	---	--	--	--	--

1.1

ÉVALUATION

CLASSE : Terminale – Épreuve de fin de cycle

VOIE : Générale Technologique Toutes voies (LV)

ENSEIGNEMENT : Enseignement scientifique

DURÉE DE L'ÉPREUVE : 2h

Niveaux visés (LV) : LVA LVB

Axes de programme :

CALCULATRICE AUTORISÉE : Oui Non

DICTIONNAIRE AUTORISÉ : Oui Non

Ce sujet contient des parties à rendre par le candidat avec sa copie. De ce fait, il ne peut être dupliqué et doit être imprimé pour chaque candidat afin d'assurer ensuite sa bonne numérisation.

Ce sujet intègre des éléments en couleur. S'il est choisi par l'équipe pédagogique, il est nécessaire que chaque élève dispose d'une impression en couleur.

Ce sujet contient des pièces jointes de type audio ou vidéo qu'il faudra télécharger et jouer le jour de l'épreuve.

Nombre total de pages : 13

Parmi les trois exercices qui composent ce sujet, le candidat en traite obligatoirement deux.

L'exercice 1, du niveau de la classe de terminale, doit être obligatoirement abordé.

Pour le deuxième exercice, le candidat choisit entre l'exercice 2 et l'exercice 3 qui sont du niveau de la classe de première. Il indique son choix en début de copie.



Exercice 1 (obligatoire) – Niveau terminale

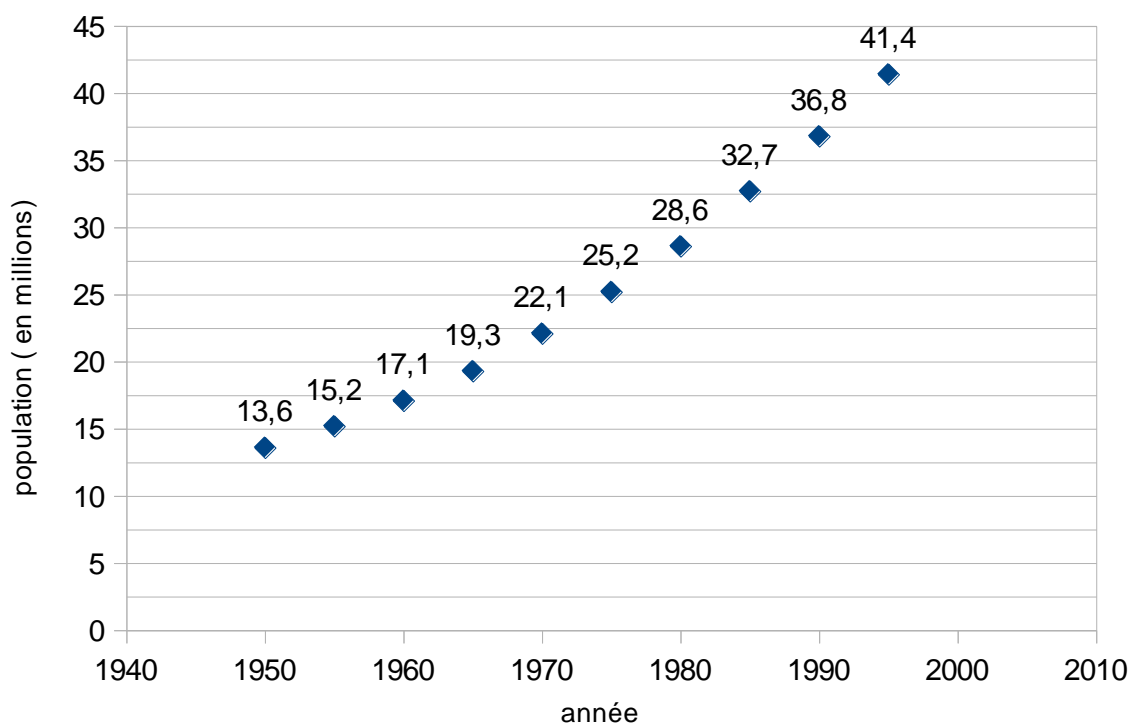
Thème « Une histoire du vivant »

Étude démographique de la population d'Afrique du Sud

Sur 10 points

Cet exercice a pour objet l'étude démographique d'une population.

Document 1 : effectifs de la population en Afrique du Sud depuis 1950



Source : d'après World population prospects

Modèle CCYC : ©DNE

Nom de famille (naissance) :

(Suivi s'il y a lieu, du nom d'usage)

Prénom(s) :

N° candidat :

N° d'inscription :



Liberté • Égalité • Fraternité
RÉPUBLIQUE FRANÇAISE

Né(e) le :

(Les numéros figurent sur la convocation.)

1.1

Document 2 : données démographiques d'Afrique du Sud

Année	Taux de natalité (pour mille)	Taux de mortalité (pour mille)	Taux d'accroissement annuel moyen (pour cent)
1950	43,3	20,3	2,3
1960	41,6	16,7	2,5
1970	37,1	13,1	2,4
1980	33,9	10,2	2,4
1990	28,3	8,1	2
2000	22,6	16,9	0,6

Source : d'après World population prospects

Document 3 : la démographie dans différents pays d'Afrique sub-saharienne

Depuis 1990, l'Afrique sub-saharienne, globalement, est entrée dans une phase de ralentissement démographique, passant de 2,9 % de croissance par an vers 1985 à 2,3 % en 2000.

Mais ce ralentissement se fait à des rythmes variables, et même divergents entre les pays.

À un extrême, on trouve une petite vingtaine de pays, de différentes sous-régions, dont les croissances n'ont pas changé ou même ont légèrement augmenté depuis 1985 (le Niger, le Mali, le Mozambique, la Somalie, etc.) ; à l'autre extrême, les cinq pays d'Afrique australe, le Zimbabwe et la Zambie dont les taux de croissance s'effondrent littéralement à partir de 1995 avec la surmortalité due au SIDA[...] : l'Afrique du Sud et le Botswana par exemple passent respectivement d'une croissance de 2,0 % et 2,8 % en 1990-1994 à 0,6 % et 0,9 % dix ans plus tard. C'est un exemple unique dans l'histoire.

Source : d'après Tabutin-Schoumaker, « la démographie de l'Afrique au sud du Sahara des années 1950 aux années 2000 », Population, 2004, www.cairn-int.info/revue-population-2004-3-page-521.htm



En 1950, l'Afrique du Sud est peuplée de 13,6 millions d'habitants. Entre 1950 et 1990, on a constaté que la population sud-africaine a augmenté en moyenne, d'une année sur l'autre, de 2,5 %.

On modélise la population sud-africaine à l'aide d'une suite u . On note $u(0)$ le nombre d'habitants en Afrique du Sud en 1950 et $u(n)$ la population d'Afrique du Sud n années après 1950. Ainsi, $u(1)$ est le nombre d'habitants en 1951.

1- Justifier que l'on a la relation $u(n+1) = 1,025 \times u(n)$ pour n entier naturel.

2- Vérifier qu'à l'aide de ce modèle, la population sud-africaine en 1951 est estimée à environ 13,9 millions d'habitants.

3- À l'aide de ce modèle, estimer le nombre d'habitants en 1995 et comparer avec la valeur donnée sur le document 1. Indiquer si la modélisation de la variation de la population sud-africaine semble satisfaisante et justifier la réponse.

4- Selon ce modèle, indiquer à partir de quelle année la population d'Afrique du sud dépassera 50 millions d'habitants.

5- La population d'Afrique du Sud comptait respectivement 44 millions d'habitants en 2000 et 45,3 millions en 2005. Compléter avec ces données le graphique fourni **en annexe (à rendre avec la copie)**. Indiquer si ces données sont conformes au modèle proposé. Justifier la réponse.

6- En utilisant le document 2, justifier que le taux d'accroissement annuel moyen en 1970 est de 2,4 %.

7- Au regard du document 2, on émet l'hypothèse qu'à partir de 1950, le taux de mortalité de la population diminue de 3 points sur mille tous les 10 ans. Calculer les taux de mortalité attendus en 1990 et 2000. Les comparer aux valeurs réelles.

8- À partir de 1995, la population sud-africaine n'a plus suivi la variation prévue par ce dernier modèle. À l'aide des documents 2 et 3, donner des arguments permettant d'expliquer ce phénomène.

Modèle CCYC : ©DNE

Nom de famille (naissance) :
(Suivi s'il y a lieu, du nom d'usage)

Prénom(s) :

N° candidat : N° d'inscription :

(Les numéros figurent sur la convocation.)

Né(e) le : / /

Liberté • Égalité • Fraternité
RÉPUBLIQUE FRANÇAISE

1.1

Exercice 2 (au choix) – Niveau première

Thème « La Terre, un astre singulier »

Approche historique de l'âge de la Terre

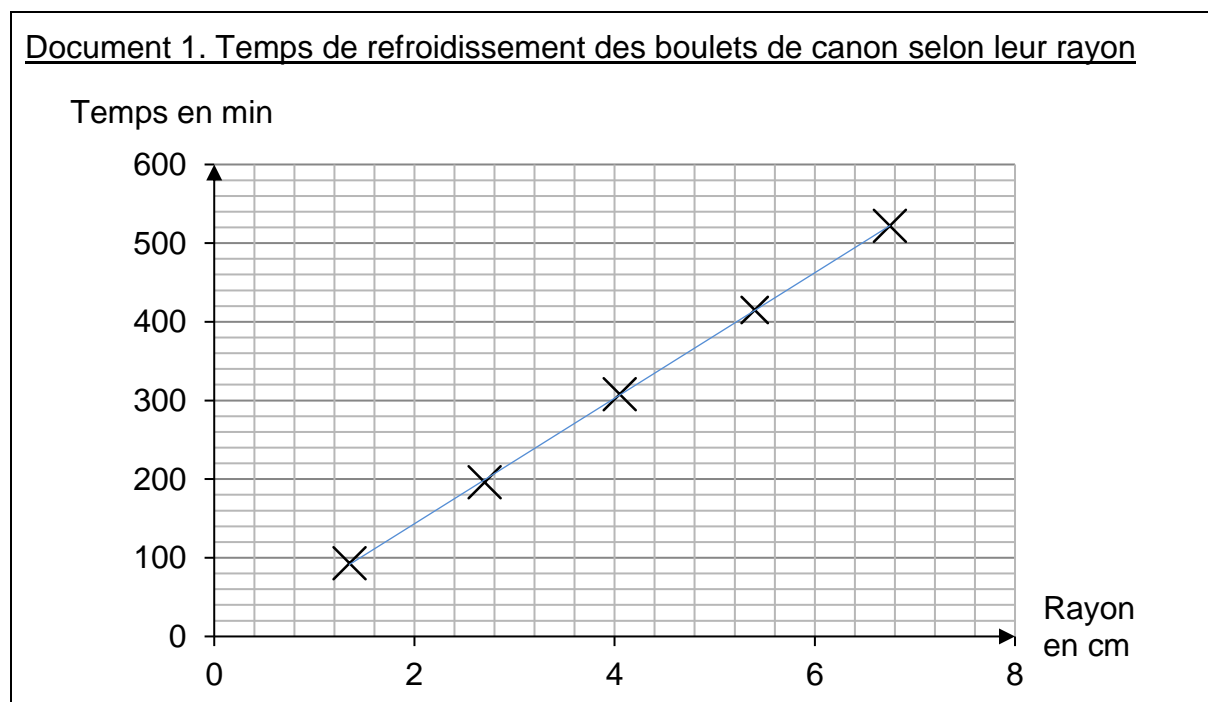
Sur 10 points

Depuis l'Antiquité, la question de l'âge de la Terre a soulevé de nombreuses controverses. On se propose d'étudier différentes méthodes ayant permis d'estimer l'âge de la Terre au cours de l'histoire des sciences.

Partie A. Les précurseurs : Buffon et Kelvin

- La démarche de Buffon

Georges Louis Leclerc, comte de Buffon, est le premier à réaliser une expérience pour déterminer l'âge de la Terre. Partant de l'hypothèse que la Terre a d'abord été une sphère de matière en fusion qui a refroidi, il chauffe au rouge 10 boulets de fer forgé de tailles différentes et inférieures à 5 pouces (1 pouce = 2,54 cm). Buffon mesure la durée de leur refroidissement et extrapole ensuite ses résultats au globe terrestre, dont le diamètre connu à l'époque est proche de 13 000 km. Pendant plusieurs années et avec des métaux différents, il effectuera plus de 60 expériences, chacune répétée trois fois.





Buffon écrit :

« Maintenant, si l'on voulait chercher [...] combien il faudrait de temps à un globe gros comme la Terre pour se refroidir, on trouverait, d'après les expériences précédentes, [...] quatre-vingt-seize-mille six cent soixante-dix ans et cent trente-deux jours pour la refroidir à la température actuelle » (extrait de *L'Histoire Naturelle, générale et particulière*, Buffon, 1774).

- La démarche de Kelvin

Presque un siècle plus tard, le Britannique Lord Kelvin utilise la théorie de la conduction de la chaleur établie par Fourier et modélisée par « l'équation de la chaleur ». En considérant que l'intérieur de la Terre est homogène et rigide, il estime l'âge de la Terre entre 20 et 400 millions d'années en utilisant l'équation de transfert de chaleur.

Lord Kelvin écrit :

« Le fait que la température de la Terre augmente avec la profondeur sous la surface implique une perte continue de chaleur de l'intérieur par conduction vers l'extérieur, à travers ou dans la croûte supérieure. Puisque la croûte supérieure ne devient pas plus chaude d'année en année, il doit donc y avoir une perte de chaleur séculaire de la Terre entière... Mais il est certain que la Terre devient de plus en plus froide d'âge en âge... » (d'après *On the Secular Cooling of the Earth*, Lord Kelvin, 1862).

En s'appuyant sur le document 1, les informations précédentes et sur les connaissances personnelles, répondre aux questions suivantes.

- 1- Expliciter la démarche mise en œuvre par Buffon, ses points forts et ses limites.
- 2- Expliciter la démarche mise en œuvre par Lord Kelvin, ses points forts et ses limites.
- 3- Commenter les âges de la Terre proposés par Buffon et Kelvin. On attend une comparaison des valeurs, de leur précision et de leur ordre de grandeur.

Modèle CCYC : ©DNE

Nom de famille (naissance) :

(Suivi s'il y a lieu, du nom d'usage)

Prénom(s) :

N° candidat :

N° d'inscription :



Né(e) le :

(Les numéros figurent sur la convocation.)

1.1

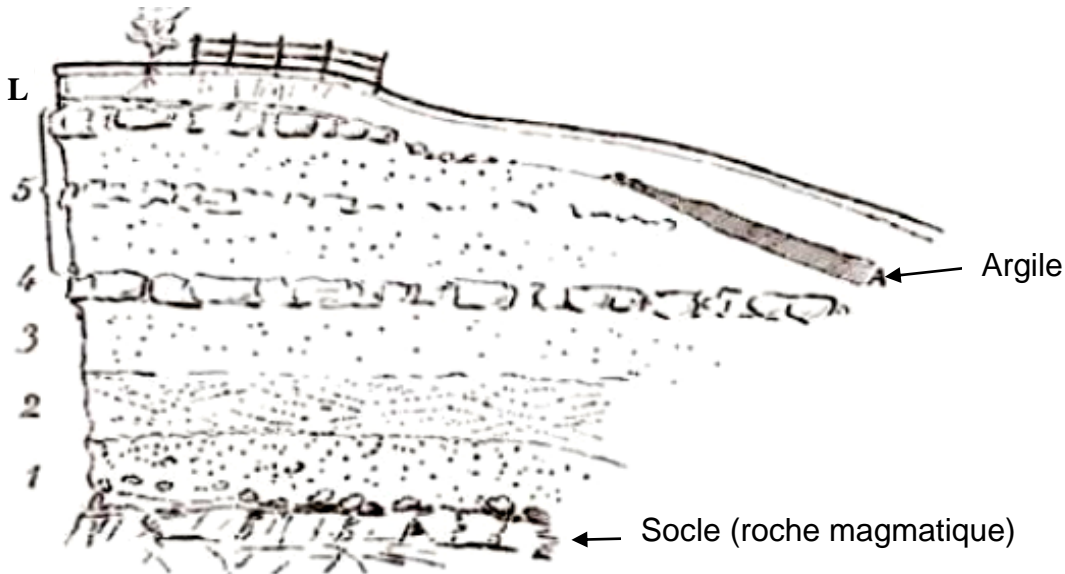
Partie B. Les positions des géologues et de Charles Darwin

Au XIX^e siècle, des géologues à l'instar de Charles Lyell, affirment que l'explication du passé de la Terre réside dans l'étude des phénomènes géologiques actuels. Ils utilisent la vitesse de sédimentation pour évaluer l'âge de la Terre.

En considérant que les sédiments se déposent à un rythme compris entre 1 mm et 1 cm par an, ils estiment l'âge de la Terre à environ 3 milliards d'années.

Quant à Charles Darwin, il s'oppose à Kelvin dans son ouvrage « De l'origine des espèces » paru en 1859. Selon lui, la théorie de l'évolution permet d'expliquer la diversité du vivant, mais elle nécessite des temps très longs, de l'ordre du milliard d'années.

Document 2. Coupe géologique d'un affleurement géologique à Wöllstein (Allemagne)



L Terre végétale limoneuse	0,60	3 Sable blanc	1,20
A Argile grise, fendillée	0,20	2 Sable jaune à stratification oblique, débris fossilifères, <i>Ostrea callifera</i>	1,00
5 Sable gris et jaune avec blocs de grès arrondis	3,50	1 Sable graveleux, grossier	1,50
4 Grès jaune, dur, tabulaire	0,40		


L'épaisseur de chaque couche est en mètres.

D'après Gustave-F. Dollfus, *Bulletin de la société géologique de France*, 1911



4- En considérant que la vitesse de sédimentation est de 0,1 mm par an et que les sédiments formant ces différentes strates (couches 1 à 5) se sont déposés de manière uniforme, estimer la durée de formation de l'ensemble des strates de Wöllstein surmontant le socle.

5- Comparer cet âge à celui estimé par Darwin. Proposer une hypothèse pour laquelle cette estimation de l'âge de la Terre à partir de cette coupe géologique est très différente.

Modèle CCYC : ©DNE																				
Nom de famille (naissance) : <small>(Suivi s'il y a lieu, du nom d'usage)</small>																				
Prénom(s) :																				
N° candidat :											N° d'inscription :									
 Liberté • Égalité • Fraternité RÉPUBLIQUE FRANÇAISE	<small>(Les numéros figurent sur la convocation.)</small>																			
Né(e) le :			/			/														

1.1

Exercice 3 (au choix) – Niveau première

Thème « Son et musique, porteurs d'information »

Perte auditive après un concert

Sur 10 points

Fabrice a passé une soirée au concert donné par les élèves du lycée. Dans les semaines qui suivent, il ressent une grande fatigue et ne semble pas toujours entendre les questions qu'on lui pose. Ses parents lui reprochent d'écouter la musique trop fort. Inquiet, Fabrice passe des examens médicaux fonctionnels et anatomiques.

En utilisant les documents des pages suivantes :

- 1- Montrer que la perte auditive moyenne de Fabrice sur les deux oreilles est comprise entre 40 et 45 dB.
- 2- Indiquer si les symptômes présentés par Fabrice correspondent à la perte auditive constatée.
- 3- Expliquer l'origine physiologique de ces troubles en mobilisant vos connaissances.



Document 1. Audiogrammes de Fabrice

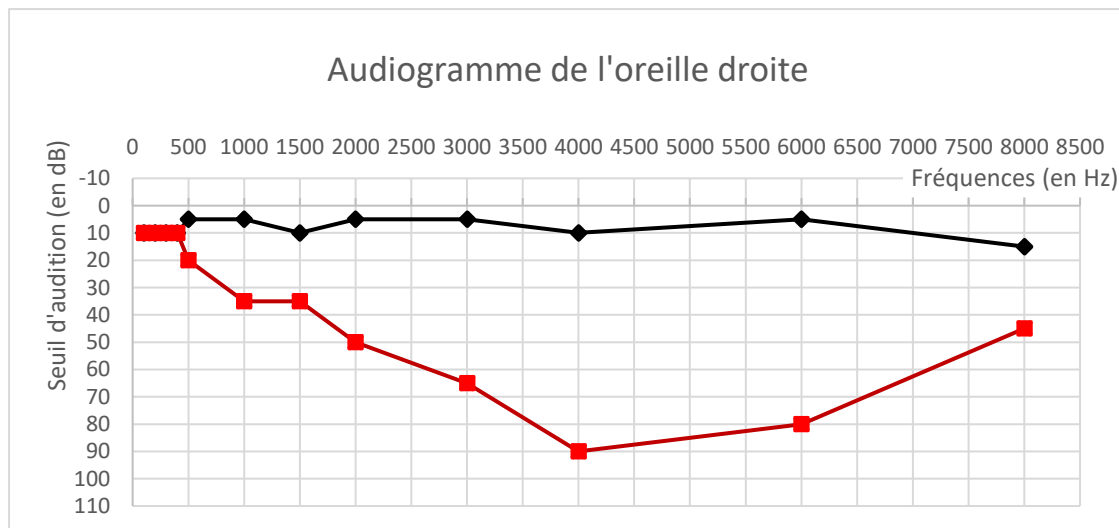
Un audiogramme permet d'évaluer la perte d'audition d'une personne mesurée en décibel (dB) en fonction de la fréquence du son émis en Hertz (Hz). Il s'obtient par un test réalisé chez un médecin spécialisé.

L'objectif du test est de mesurer, pour différentes fréquences, le niveau d'intensité sonore minimal (seuil d'audition) pour que le son soit entendu par Fabrice. Les fréquences sonores testées sont comprises entre 500 et 8 000 Hz.

Légende des audiogrammes :

—◆— : norme auditive moyenne

—■— : réponse auditive de Fabrice lors du test médical



Modèle CCYC : ©DNE

Nom de famille (naissance) :
(Suivi s'il y a lieu, du nom d'usage)

Prénom(s) :

N° candidat :

N° d'inscription :



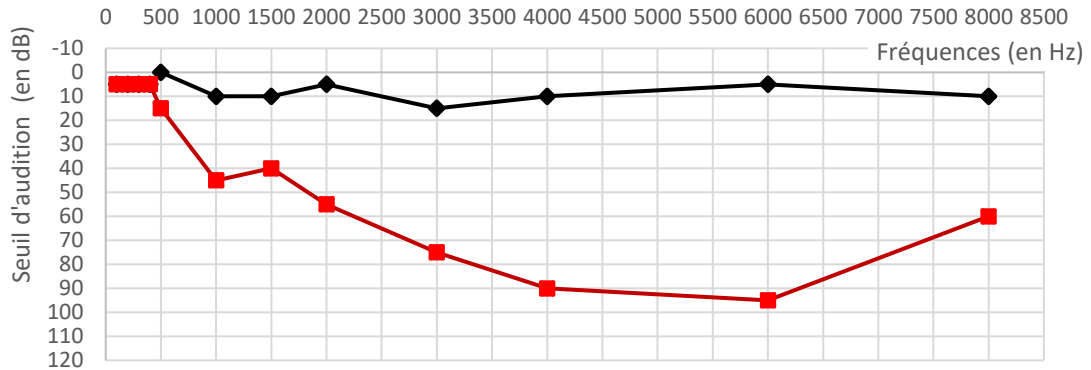
Liberté • Égalité • Fraternité
RÉPUBLIQUE FRANÇAISE

Né(e) le :

(Les numéros figurent sur la convocation.)

1.1

Audiogramme de l'oreille gauche



Document 2. Méthode de calcul de la perte auditive moyenne sur les deux oreilles

- Pour chacune des fréquences 500 Hz, 1000 Hz, 2000 Hz et 4000 Hz, et pour chaque oreille, on calcule la différence entre l'intensité du son audible par le patient et la norme auditive moyenne.

- On note Pmd la moyenne de ces 4 valeurs pour l'oreille droite et Pmg la moyenne de ces valeurs pour l'oreille gauche.

- La fonction Python ci-dessous permet alors de calculer la perte auditive moyenne (sur les deux oreilles) :

```
def Perte_auditive_moyenne(Pmd,Pmg):  
    if -15 <= Pmg - Pmd <= 15 :  
        Pm = 0.5 * Pmd + 0.5 * Pmg  
    else :  
        if Pmg - Pmd > 15 :  
            Pm = 0.7 * Pmd + 0.3 * Pmg  
        else :  
            Pm = 0.3 * Pmd + 0.7 * Pmg  
    return Pm
```



Document 3. Niveaux de surdité et symptômes associés

Degré de la perte auditive	Perte auditive moyenne	Symptômes, conséquences
Audition "normale"	de 0 à 20 dB	Vous n'éprouvez aucune difficulté particulière, <u>en milieu calme ou bruyant.</u>
Perte légère	de 20 à 40 dB	Vous avez des difficultés à percevoir <u>les voix faibles ou lointaines</u> et les conversations, surtout lorsque vous êtes en milieu bruyant.
Perte moyenne	de 40 à 70 dB	<u>La perception des paroles devient difficile</u> , il faut que celles-ci soient fortes pour que vous puissiez les comprendre aisément. Vous avez <u>tendance à augmenter le volume</u> de la télévision, radio, mp3... Suivre une conversation en groupe devient très compliqué et fatigant.
Perte sévère	de 70 à 90 dB	Vous n'entendez pas les paroles, à moins que celles-ci soient fortes ou proche de vous. Il est très difficile pour vous de suivre une conversation, voire impossible si vous n'êtes pas équipé d'aides auditives. Certains sons forts restent audibles.
Perte profonde	90 dB et +	La plupart des sons deviennent imperceptibles, quel que soit l'environnement d'écoute. Vous n'arrivez pas à communiquer, <u>suivre une conversation est impossible sans appareil auditif</u> , certains sons extrêmement forts restent toutefois audibles.
Surdité totale	120 dB	Aucune capacité d'audition mesurable.

D'après : <https://www.laboratoires-unisson.com/perte-auditive-causes-et-consequence-de-la-perde-d-audition.html>

Modèle CCYC : ©DNE

Nom de famille (naissance) :

(Suivi s'il y a lieu, du nom d'usage)

Prénom(s) :

N° candidat :

N° d'inscription :



Liberté • Égalité • Fraternité
RÉPUBLIQUE FRANÇAISE

Né(e) le :

(Les numéros figurent sur la convocation.)

1.1

Document réponse à rendre avec la copie

Exercice 1

Étude démographique de la population d'Afrique du Sud

Réponse à la question 5

