

Modèle CCYC : ©DNE

Nom de famille (naissance) :

(Suivi s'il y a lieu, du nom d'usage)

Prénom(s) :

N° candidat :  N° d'inscription :

(Les numéros figurent sur la convocation.)

Né(e) le :  /  /



Liberté • Égalité • Fraternité  
RÉPUBLIQUE FRANÇAISE

1.1

## ÉVALUATION

**CLASSE** : Terminale – Épreuve de fin de cycle

**VOIE** :  Générale  Technologique  Toutes voies (LV)

**ENSEIGNEMENT** : Enseignement scientifique

**DURÉE DE L'ÉPREUVE** : 2h

Niveaux visés (LV) : LVA                      LVB

Axes de programme :

**CALCULATRICE AUTORISÉE** :  Oui  Non

**DICTIONNAIRE AUTORISÉ** :  Oui  Non

Ce sujet contient des parties à rendre par le candidat avec sa copie. De ce fait, il ne peut être dupliqué et doit être imprimé pour chaque candidat afin d'assurer ensuite sa bonne numérisation.

Ce sujet intègre des éléments en couleur. S'il est choisi par l'équipe pédagogique, il est nécessaire que chaque élève dispose d'une impression en couleur.

Ce sujet contient des pièces jointes de type audio ou vidéo qu'il faudra télécharger et jouer le jour de l'épreuve.

**Nombre total de pages** : 12

**Parmi les trois exercices qui composent ce sujet, le candidat en traite obligatoirement deux.**

**L'exercice 1, du niveau de la classe de terminale, doit être obligatoirement abordé.**

**Pour le deuxième exercice, le candidat choisit entre l'exercice 2 et l'exercice 3 qui sont du niveau de la classe de première. Il indique son choix en début de copie.**



## Exercice 1 (obligatoire) – Niveau terminale

Thème « Une histoire du vivant »

### Le crapaud sonneur à ventre jaune

Sur 10 points

L'objectif de cet exercice est de s'intéresser aux actions humaines entreprises pour la sauvegarde d'une espèce d'Amphibien.

#### Document 1 : le crapaud sonneur à ventre jaune, une espèce en danger




Photo de l'aspect général



Photo de la face ventrale

Le crapaud sonneur à ventre jaune, *Bombina variegata*, est une espèce d'Amphibien qui fait partie des espèces vulnérables et menacées. Elle fait l'objet d'une protection en France.

Ce crapaud de 3,5 à 5,5 cm de long tient son nom de sa face ventrale jaune tachetée de noir, qui contraste avec sa face dorsale marron-grisâtre.

Les mares et les flaques d'eau en forêt constituent l'habitat naturel de cette espèce. Ces lieux sont menacés par l'industrialisation mais aussi par l'agriculture.

La maturité sexuelle du crapaud sonneur à ventre jaune est atteinte au bout de 3 ou 4 ans. Ce crapaud utilise plusieurs mares pour se reproduire accrochant quelques œufs de façon regroupée ou isolée aux plantes aquatiques. Après éclosion des œufs, les têtards se métamorphosent en 34 à 130 jours.

*D'après Wikipédia (consulté le 04/11/2020)*

Modèle CCYC : ©DNE

Nom de famille (naissance) :

(Suivi s'il y a lieu, du nom d'usage)

Prénom(s) :

N° candidat :

N° d'inscription :



Né(e) le :

(Les numéros figurent sur la convocation.)

1.1

## Document 2 : le crapaud sonneur à ventre jaune, une espèce suivie

Le marquage peut être un marquage de groupe (un point de couleur par exemple pour chaque individu capturé lors d'une session donnée), mais on utilise de préférence le marquage individuel, car il permet d'obtenir beaucoup plus d'informations. Chez le crapaud sonneur, on identifie facilement les individus grâce à leur motif ventral unique. Ce motif de coloration est en effet propre à chaque individu et stable dans le temps (hormis pour les stades les plus jeunes).

Photos de motifs ventraux du même individu à des stades différents.

De gauche à droite : juvénile, subadulte, adulte (apte à la reproduction)



D'après *Synthèse de la méthode de suivi de population par C.M.R. appliquée au Sonneur à ventre jaune*, ONF-MEDDE, 2016

Des biologistes veulent estimer l'abondance d'une population isolée de sonneurs à ventre jaune dans la forêt domaniale de Darney en Lorraine. Pour cela, ils utilisent la méthode CMR (capture, marquage, recapture) qui permet d'estimer l'abondance d'une population. Ils ont ainsi capturé, marqué puis relâché 548 sonneurs à ventre jaune. Une deuxième capture de sonneurs à ventre jaune a été effectuée quelques mois plus tard : 554 ont été capturés dont 133 qui avaient été marqués lors de la première capture.



**1-** Présenter les principes de la méthode CMR (capture, marquage, recapture).

**2-** Donner la fréquence  $f$  de la population marquée rapportée à l'échantillon des  $n = 554$  individus recapturés. En déduire une première estimation de l'abondance de la population de sonneurs à ventre jaune dans la zone d'étude.

**3-** Pour tenir compte de la fluctuation d'échantillonnage, on considère, avec un indice de confiance de 95 %, que la proportion de la population marquée rapportée à la population totale de sonneurs à ventre jaune se situe dans l'intervalle :

$$\left[ f - \frac{1}{\sqrt{n}}; f + \frac{1}{\sqrt{n}} \right]$$

Déterminer dans ces conditions un encadrement de l'abondance de la population de sonneurs à ventre jaune.

**4-** À partir de vos connaissances et des documents, formuler des hypothèses sur les causes possibles de la baisse d'abondance de ce crapaud.

**5-** On cherche à élaborer un plan national d'action pour la protection du crapaud sonneur à ventre jaune. Proposer différentes mesures permettant d'éviter l'extinction de cette espèce, en se basant sur les documents 1 et 2 précédents, ainsi que sur le document 3 de la page suivante et vos connaissances.

Modèle CCYC : ©DNE

Nom de famille (naissance) :

(Suivi s'il y a lieu, du nom d'usage)

Prénom(s) :

N° candidat :  N° d'inscription :

(Les numéros figurent sur la convocation.)

Né(e) le :  /  /



RÉPUBLIQUE FRANÇAISE

1.1

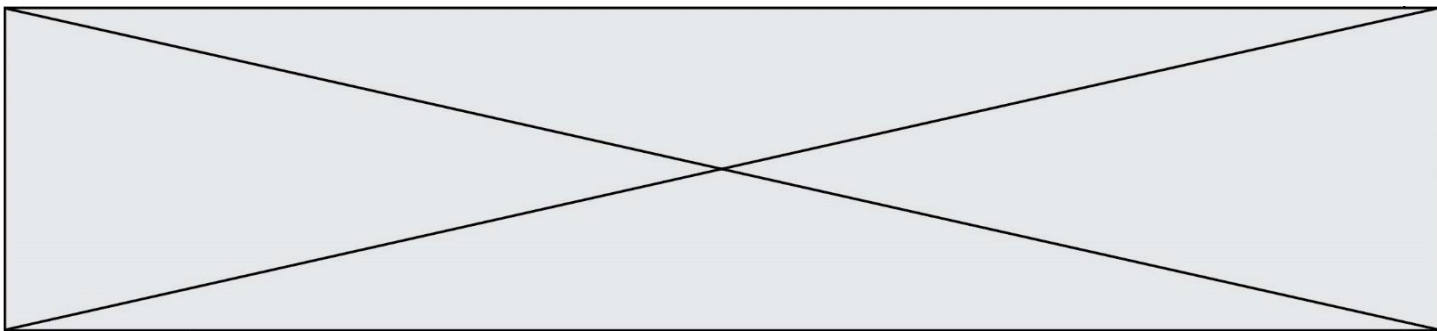
### Document 3 : le crapaud sonneur à ventre jaune, mesures relatives à sa conservation

Afin de travailler à la conservation du sonneur à ventre jaune (*Bombina variegata*) dont le statut est critique en Normandie, l'Union régionale des Centres permanents d'initiatives pour l'environnement de Normandie propose la mise en place d'un élevage conservatoire de cinq années (2018-2023) permettant, d'une part, de protéger un groupe d'individus d'éventuelles menaces pouvant affecter le site de prélèvement et, d'autre part, d'optimiser la reproduction des géniteurs afin de tenter la réintroduction dans deux sites restaurés dans le département de l'Eure.

L'élevage conservatoire s'articule en 3 étapes :

- 1/ Prélèvement d'un groupe de 20 adultes du site de l'Eure ; élevage et reproduction en conditions contrôlées. Le nombre de spécimens prélevés permet de garantir la diversité génétique de la population d'origine.
- 2/ Libération de 10 % des individus issus de la reproduction de ce groupe dans la population d'origine.
- 3/ Réintroduction de l'espèce (*minimum 2000 et 2500 juvéniles*) sur 2 sites favorables identifiés afin de tenter de restaurer une population stable.

D'après <http://www.normandie.developpement-durable.gouv.fr/ur-cpie-sonneur-a-ventre-jaune-27-derogation-a2589.html>



## Exercice 2 (au choix) – Niveau première

Thème « Une longue histoire de la matière »

### L'or, un élément chimique précieux

Sur 10 points

L'or, élément de numéro atomique  $Z=79$ , a de tout temps été un métal fort prisé notamment pour son caractère ductile et inoxydable. C'est une valeur refuge en économie et un métal précieux tant en orfèvrerie qu'en médecine ou dans l'industrie.

#### Partie 1 : Estimation de quelques masses d'or

Le World Gold Council, union des principales compagnies mondiales de l'industrie aurifère, estime que si tout l'or extrait depuis le début de l'humanité – bijoux, lingots et masque de Toutankhamon inclus – était fondu en un seul bloc, il formerait un cube de 21 mètres de côté. Bien plus petit que l'Arc de triomphe de l'Étoile à Paris !

En 2016, 13% de l'extraction d'or au niveau mondial a été réalisée en Chine, ce qui représente 455 tonnes.

1- Sachant que la masse volumique de l'or est  $19,3 \text{ g.cm}^{-3}$ , calculer la masse totale de l'or extrait depuis le début de l'humanité. On exprimera le résultat en tonnes.

2- Calculer la masse de l'or extrait dans le monde en 2016.

#### Partie 2 : Peut-on transformer du plomb en or ?

La transmutation<sup>1</sup> de métaux non précieux en or était, dès le Moyen-Âge, l'objectif principal des alchimistes. Aucun n'a jamais atteint cet objectif.

Le développement de la science moderne a cependant permis de montrer qu'il est effectivement possible de réaliser cette transmutation, mais avec des méthodes bien différentes de ce que les alchimistes avaient pu proposer.

Voici un extrait du tableau établi par Dmitri Mendeleïev (1834 – 1907) donnant la classification périodique des éléments :

---

<sup>1</sup> Transmutation : changement d'une substance en une autre.

Modèle CCYC : ©DNE

Nom de famille (naissance) :


(Suivi s'il y a lieu, du nom d'usage)

Prénom(s) :

N° candidat :  N° d'inscription :

(Les numéros figurent sur la convocation.)

Né(e) le :  /  /



RÉPUBLIQUE FRANÇAISE

1.1

<b>78</b>	195,078	<b>79</b>	196,9665	<b>80</b>	200,59	<b>81</b>	204,3833	<b>82</b>	207,2
<b>Pt</b>		<b>Au</b>		<b>Hg</b>		<b>Tl</b>		<b>Pb</b>	
Platine		Or		Mercure		Thallium		Plomb	

**3-** Préciser le nombre de protons que l'on doit arracher à un noyau de mercure pour obtenir un noyau d'or. Préciser si ce type de transformation est une transformation chimique, physique ou nucléaire.

**4-** En utilisant le tableau de Mendeleiev, indiquer pourquoi il semble *a priori* plus facile de transformer du mercure en or que du plomb en or.

**Document 1 : Peut-on obtenir de l'or à partir d'un autre métal ?**

Pour casser un noyau de plomb, on sait aujourd'hui qu'il faut fournir beaucoup d'énergie, de l'ordre de celle mise en jeu dans les réacteurs nucléaires et les accélérateurs de particules.

Du coup, réaliser la transformation coûte vraiment très cher et le prix de revient de l'or obtenu est infiniment plus élevé que celui du marché. L'obtention d'un gramme d'or se chiffrerait en effet en centaines de millions d'euros. L'opération perd donc tout son intérêt et personne n'a tenté de la réaliser.

Pourtant il arrive que de l'or soit créé en quantité infime dans les réacteurs nucléaires ou les accélérateurs de particules comme une conséquence collatérale de leur fonctionnement normal. [...]

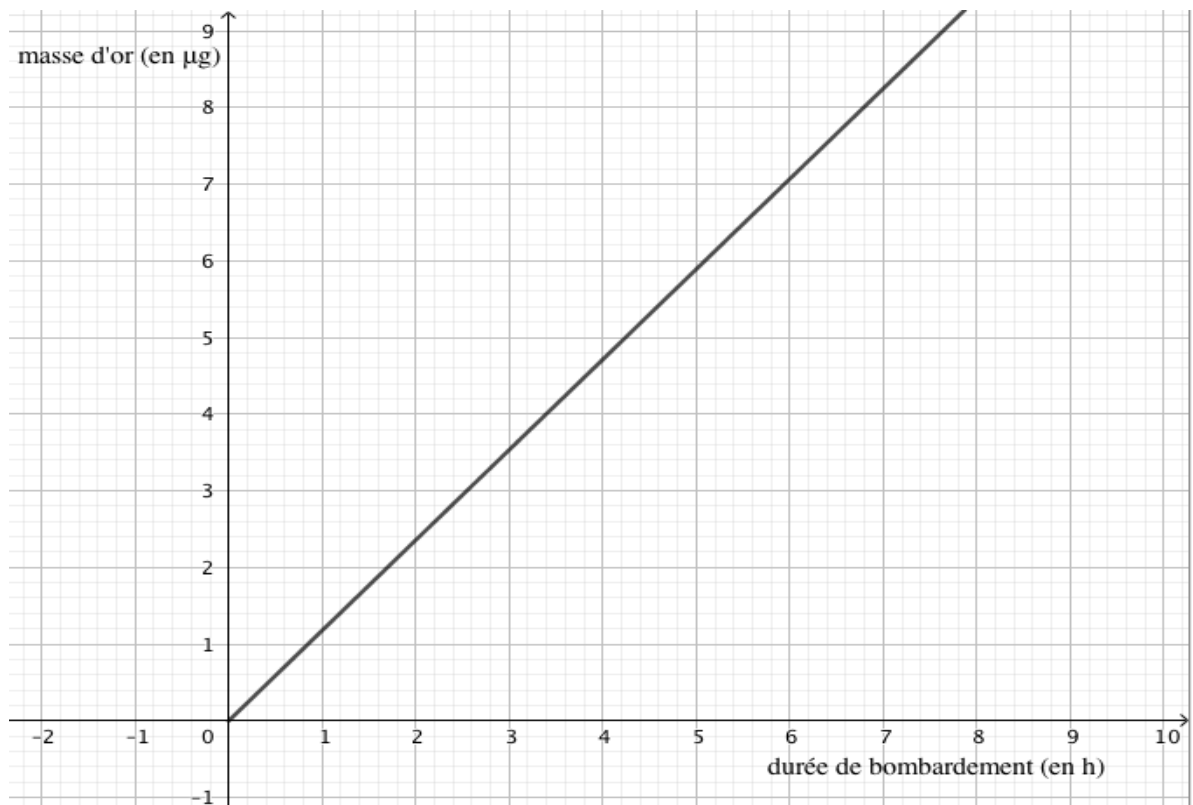
Il existe, dans le Tennessee aux États Unis, un complexe du département de l'énergie américain, le laboratoire d'Oak Ridge, qui possède l'une des plus puissantes sources de neutrons dans le monde. Le principe de cet instrument est de bombarder une cible de mercure avec des neutrons afin d'extraire des protons de très haute énergie. Au cours des collisions entre les protons et les noyaux de mercure, il se passe beaucoup de choses : certains protons sont capturés par des noyaux, certains noyaux se cassent en émettant des protons et des neutrons, ... au final, un ou deux atomes de mercure sont transformés en atome d'or. Mais la quantité est bien trop infime pour être exploitable.

*Inspiré de la vidéo KESAKO <https://www.youtube.com/watch?v=MHipsgUGUP8>*





**Document 2 :** Représentation graphique de la fonction donnant la masse d'or obtenue par bombardement de neutrons d'un échantillon de mercure en fonction de la durée du bombardement



**Document 3 :** Cours de l'or

Sur les marchés, l'or est coté à la bourse. La cotation se fait en<sup>2</sup> USD/once (une once correspond à environ 31 g d'or). Au 31 mai 2019, le cours était 1 305,80 USD/once, soit 1 166,05 EUR/once.

<sup>2</sup> USD : United States Dollar.



Modèle CCYC : ©DNE

**Nom de famille** (naissance) :

(Suivi s'il y a lieu, du nom d'usage)

**Prénom(s)** :

**N° candidat** :  **N° d'inscription** :

(Les numéros figurent sur la convocation.)

**Né(e) le** :  /  /



RÉPUBLIQUE FRANÇAISE

1.1

**5-a-** À partir du document 2, identifier l'affirmation exacte parmi les 4 affirmations suivantes. Recopier l'affirmation exacte sur la copie et justifier la réponse.

- (a) La masse d'or obtenue à partir du mercure par bombardement de neutrons est une fonction décroissante de la durée du bombardement.
- (b) La masse d'or obtenue à partir du mercure par bombardement de neutrons est proportionnelle à la durée du bombardement.
- (c) La masse d'or obtenue à partir du mercure par bombardement de neutrons est proportionnelle au carré de la durée du bombardement.
- (d) La masse d'or obtenue à partir du mercure par bombardement de neutrons ne dépend pas de la durée du bombardement.

**5-b-** Avec la précision permise par le graphique, déterminer la durée du bombardement permettant d'obtenir 6 µg d'or, puis la masse d'or obtenu à l'issue de 3 heures de bombardement.

**5-c-** Montrer qu'en une année, on peut ainsi produire environ 10 mg d'or.

**6-** Estimer le prix (en euro) d'un gramme d'or acheté sur le marché.

**7-** Justifier l'affirmation du document 1 « *L'opération perd donc tout son intérêt* ».



## Exercice 3 (au choix) – Niveau première

Thème « Son et musique, porteurs d'information »

### Autour d'une gamme

Sur 10 points

Les parties 1 et 2 peuvent être traitées indépendamment l'une de l'autre.

#### Partie 1. Masse et fréquence

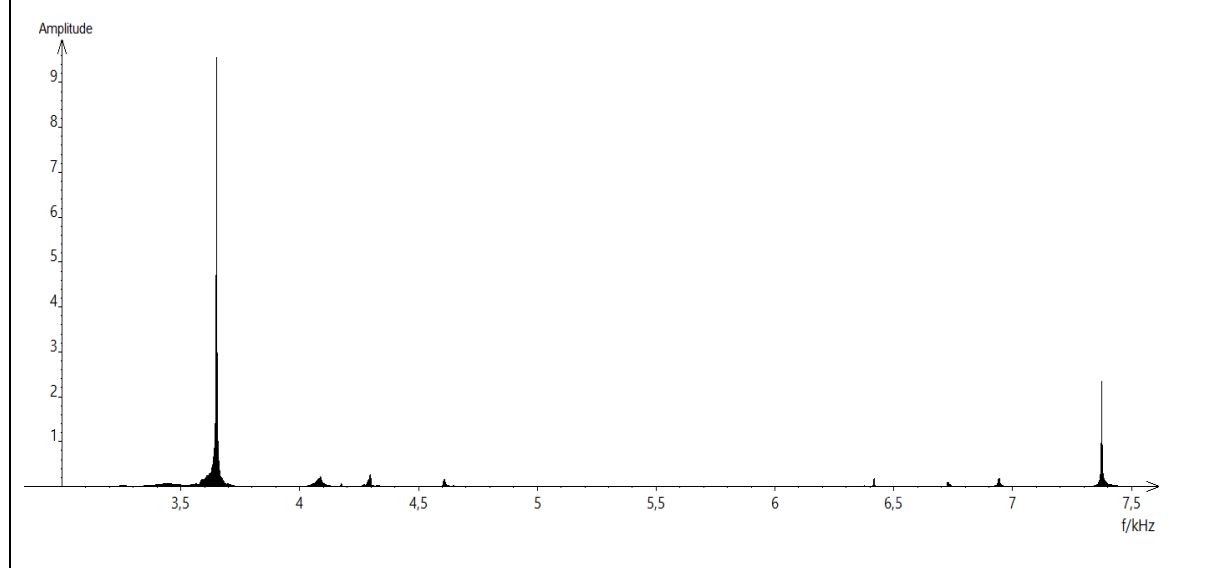
On dispose de trois marteaux  $M_1$ ,  $M_2$  et  $M_3$  de masses respectives  $m_1 = 0,24$  kg,  $m_2 = 0,48$  kg et  $m_3 = 1,44$  kg.

L'expérience consiste à les laisser tomber sur une enclume. Un logiciel d'acquisition enregistre le signal sonore émis.

On désigne respectivement par  $f_1$ ,  $f_2$  et  $f_3$  les fréquences fondamentales des sons émis par les marteaux  $M_1$ ,  $M_2$  et  $M_3$  lors de l'expérience.

Document 1 : Spectres des fréquences des sons émis lors de la chute des marteaux

Spectre du son obtenu avec le marteau 1 :



Modèle CCYC : ©DNE

Nom de famille (naissance) :

(Suivi s'il y a lieu, du nom d'usage)

Prénom(s) :

N° candidat :

N° d'inscription :



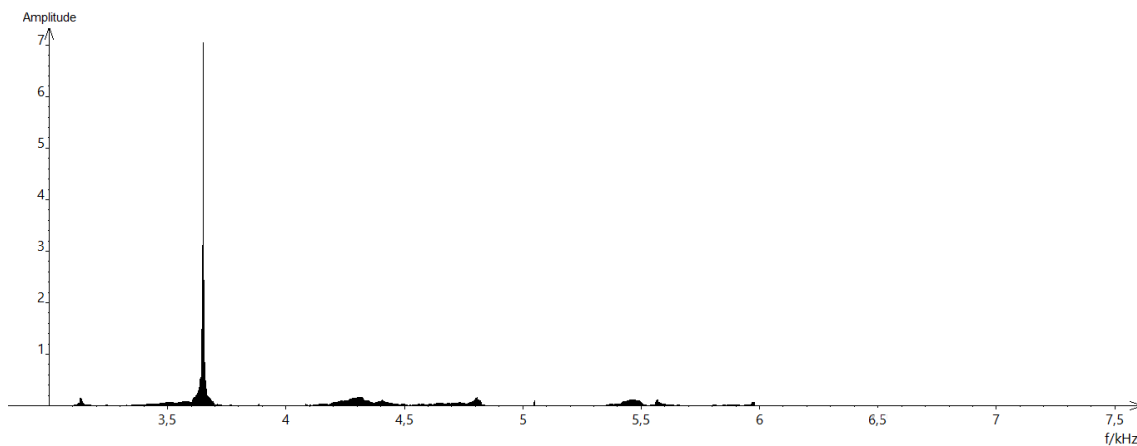
Liberté • Égalité • Fraternité  
RÉPUBLIQUE FRANÇAISE

Né(e) le :

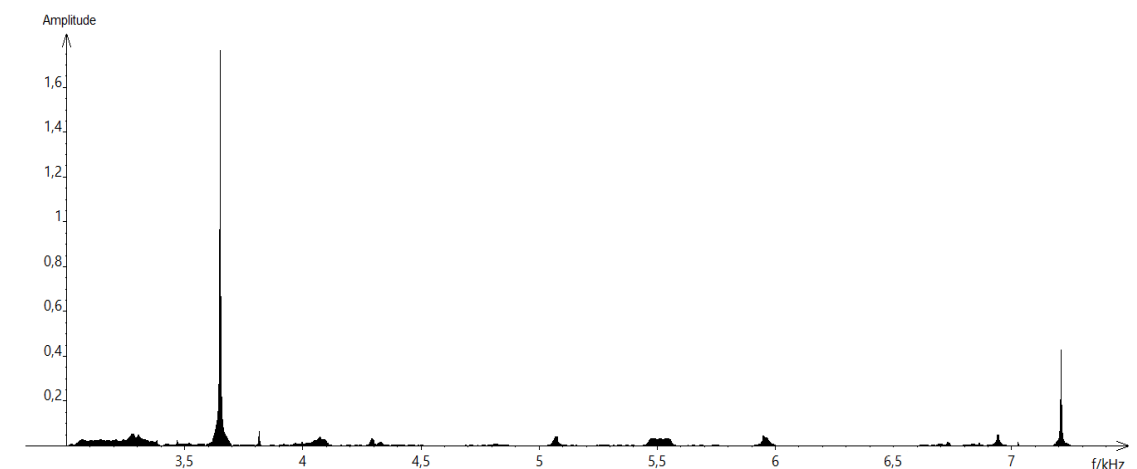
(Les numéros figurent sur la convocation.)

1.1

Spectre du son obtenu avec le marteau 2 :



Spectre du son obtenu avec le marteau 3 :



1- Lire sur le document 1 les fréquences fondamentales  $f_1$ ,  $f_2$ , et  $f_3$  des sons émis lors de l'expérience et noter leurs valeurs sur la copie.

2- Comparer ces fréquences. La masse du marteau influe-t-elle sur la fréquence fondamentale du son émis ?



## Partie 2. Construction d'une gamme

On souhaite construire une gamme musicale en harmonie avec la note obtenue en tapant sur l'enclume de la partie 1. On admet que cette fréquence vaut environ 3600 Hz.

**3-** Cette note, jugée trop aigüe, doit être diminuée de plusieurs octaves pour obtenir une fréquence proche de 440 Hz, qui correspond à la fréquence du La3 servant communément de référence. Combien d'octaves séparent la note obtenue en tapant sur l'enclume et le La3 ?

**4-** Dans une gamme de douze notes au tempérament égal (aussi appelée gamme tempérée), la fréquence de chaque note est obtenue en multipliant la fréquence de la note précédente par la racine douzième de deux, notée  $\sqrt[12]{2}$  ou  $2^{\frac{1}{12}}$ .

**4-a-** Recopier et compléter l'algorithme ci-dessous pour qu'il permette de construire la gamme de douze notes au tempérament égal à partir de la note de fréquence  $F = f_0$ .

```

F ← ...
Pour i allant de ... à ...
    Afficher F
    F ← ...
Fin Pour
    
```

**4-b-** Donner la valeur de B dans le tableau des fréquences ci-dessous :

	Note 0	Note 1	Note 2	Note 3	Note 4	Note 5	Note 6	Note 7	Note 8	Note 9	Note 10	Note 11	Note 11
Fréquence $f$ (Hz)	455 $=f_0$	482	511	541	573	607	<b>A</b>	682	723	765	811	859	910
Rapport $f/f_0$	1	$2^{1/12}$	$2^{2/12}$	$2^{3/12}$	$2^{4/12}$	$2^{5/12}$	<b>B</b>	$2^{7/12}$	$2^{8/12}$	$2^{9/12}$	$2^{10/12}$	$2^{11/12}$	2

**4-c-** Expliquer pourquoi  $A^2 = 682 \times 607$  puis donner la valeur de A.

**5-** On rappelle que la quinte juste introduite pour construire les gammes de Pythagore est exactement  $3/2$ .

Déterminer la note de la gamme qui forme avec la note 0 l'intervalle le plus proche de la quinte juste.