



Exercice 1 (obligatoire) – Niveau terminale


Thème « Le futur des énergies »

Des sphères géantes immergées sous l'eau

Sur 10 points

Le projet de recherche scientifique baptisé StEnSEA (pour « Stored Energy in the Sea ») développé par l'institut allemand Fraunhofer IWES propose un nouveau dispositif de stockage de l'électricité constitué de sphères géantes immergées en mer.

On cherche à comprendre en quoi ce type de dispositif pourrait être intéressant pour stocker l'énergie et en pallier l'intermittence.



Installation d'une sphère géante et schéma de leur position en mer

(<https://lenergeek.com>)

PARTIE 1 – Fonctionnement des sphères

Document 1 : fonctionnement général et paramètres des sphères

Chacune de ces sphères est connectée à un système de production d'électricité (ferme éolienne, ferme solaire...).

Lors des périodes de forte production d'énergie, l'énergie électrique excédentaire qui ne peut être injectée dans le réseau est utilisée pour faire fonctionner des pompes qui expulsent l'eau présente à l'intérieur des sphères. À l'inverse, en période de faible production, on laisse l'eau s'engouffrer dans les sphères à travers un jeu de turbines qui génèrent de l'énergie électrique.

L'objectif de ce projet est que chacune sphères soit en mesure de stocker 20 MWh.

Modèle CCYC : ©DNE

Nom de famille (naissance) :

(Suivi s'il y a lieu, du nom d'usage)

Prénom(s) :

N° candidat :

N° d'inscription :



Liberté • Égalité • Fraternité
RÉPUBLIQUE FRANÇAISE

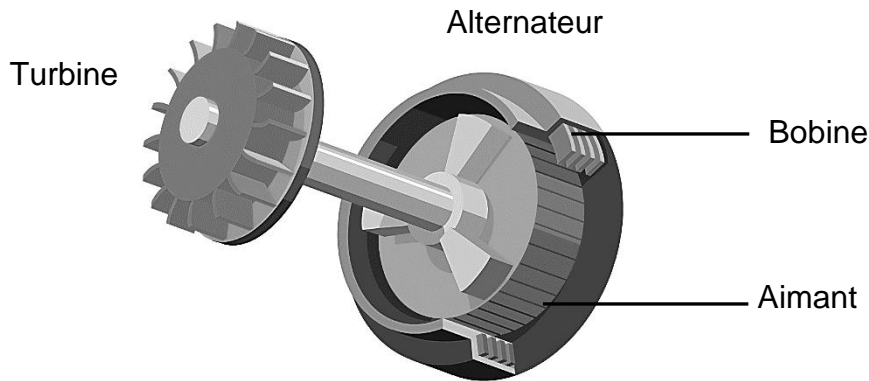
Né(e) le :

(Les numéros figurent sur la convocation.)

1.1

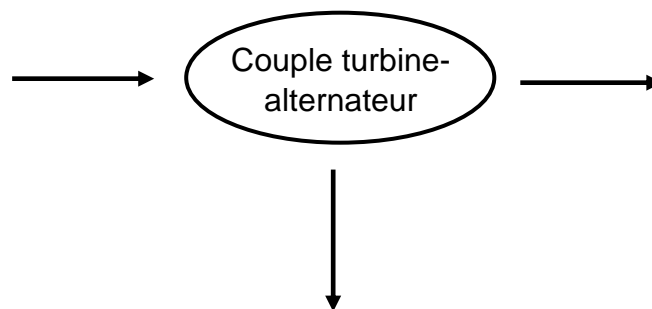
Paramètre	Valeur
Profondeur de d'installation	750 m
Diamètre intérieur de la sphère	28,6 m
Énergie stockée	20 MWh
Énergie restituée	18,3 MWh

Document 2 : schéma simplifié du couple turbine- alternateur



1- À partir du schéma simplifié du couple turbine-alternateur (document 2), indiquer quel élément (aimant ou bobine) constitue la source de champ magnétique et aux bornes de quel élément (aimant ou bobine) peut apparaître une tension électrique.

2- Recopier et compléter le schéma représentant la chaîne de transformation énergétique du couple turbine-alternateur lors du remplissage d'une sphère.



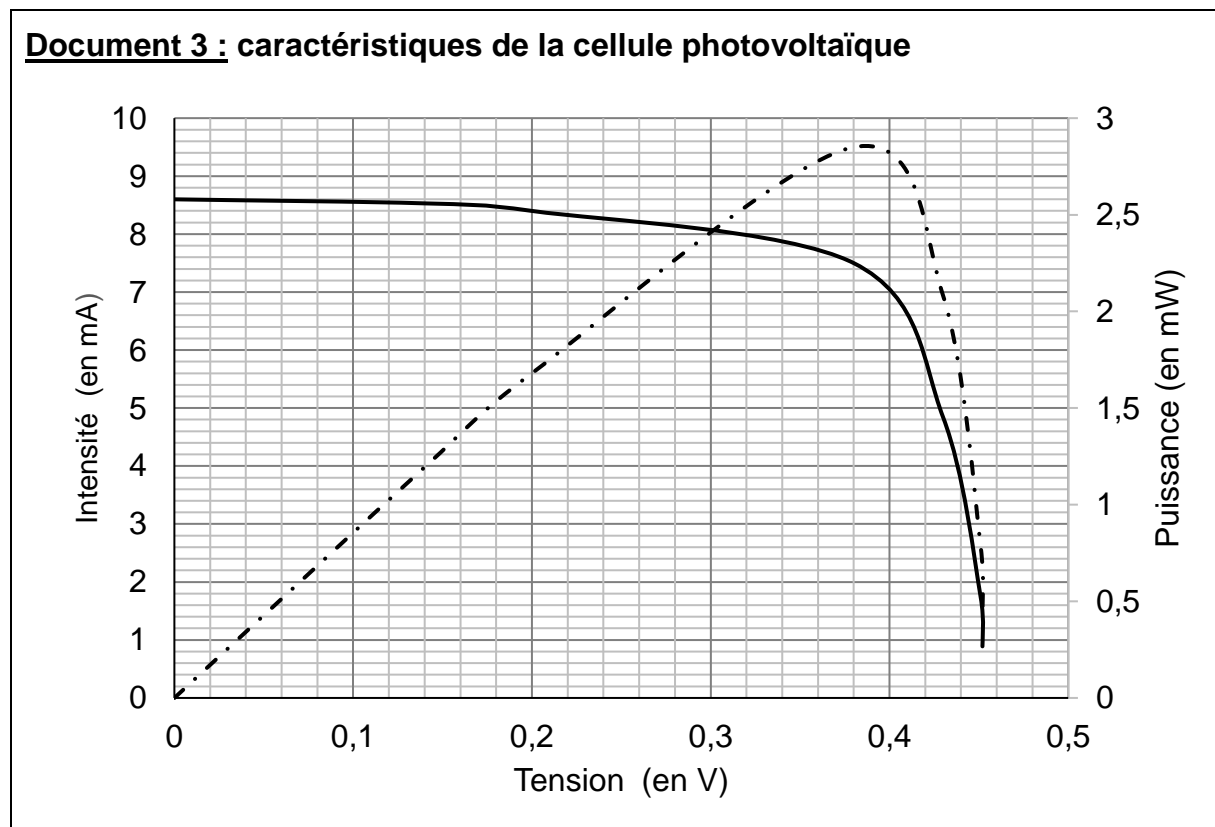
3- Calculer le rendement de l'opération de stockage d'énergie réalisée par l'une des sphères.



PARTIE 2 – Alimentation des sphères par une ferme photovoltaïque

Les sphères immergées sont reliées à une ferme solaire. On se propose d'étudier le fonctionnement d'une cellule photovoltaïque, élément de base de chaque panneau photovoltaïque de la ferme solaire.

Grâce aux mesures réalisées aux bornes de la cellule, on trace la caractéristique tension - intensité (en trait plein) et la caractéristique tension - puissance (en pointillé).



- 4- Déterminer graphiquement la valeur de la puissance maximale P_{\max} .
- 5- En déduire la valeur de l'intensité maximale I_{\max} et celle de la tension maximale U_{\max} .
- 6- En déduire que la valeur de la résistance du récepteur à utiliser avec le panneau pour fonctionnement optimal est environ égale à 50Ω .

Modèle CCYC : ©DNE

Nom de famille (naissance) :

(Suivi s'il y a lieu, du nom d'usage)

Prénom(s) :

N° candidat : **N° d'inscription** :

(Les numéros figurent sur la convocation.)

Né(e) le : / /



1.1

PARTIE 3 – Conclusion

7- Rédiger un paragraphe argumenté d'une dizaine de lignes environ expliquant en quoi cette association sphères immergées-panneaux solaires permet de « pallier l'intermittence des énergies » mais n'est pas sans impact sur l'environnement et la biodiversité.



Exercice 2 (au choix) – Niveau première

Thème « Le Soleil, notre source d'énergie »

Seul sur Mars

Sur 10 points



En 2035, lors d'une expédition de la mission *Ares III* sur Mars, l'astronaute Mark Watney est laissé pour mort par ses coéquipiers, une tempête les ayant obligés à décoller de la planète en urgence.

Le lendemain, Mark Watney, qui n'est que blessé, se réveille et découvre qu'il est seul sur Mars.

Pour survivre, il décide de cultiver des pommes de terre sous le dôme de la base, en utilisant le sol martien fertilisé avec les excréments de l'équipage, de l'eau et l'énergie solaire.

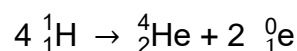
Source : <http://www.allocine.fr/film/fichefilm-221524/dvd-blu-ray/?cproduct=443240>

Partie 1. Puissance rayonnée par le Soleil

Le Soleil, d'une masse totale de $2,0 \times 10^{30}$ kg, est l'étoile du système solaire. Il est composé majoritairement d'atomes d'hydrogène H et d'atomes d'hélium He. Autour de lui gravitent la Terre et d'autres planètes comme Mars. La puissance rayonnée par le Soleil est voisine de $3,9 \times 10^{26}$ W.

Document 1. Réaction nucléaire de synthèse de l'hélium à partir de l'hydrogène dans le Soleil

Sous l'effet de la température suffisamment élevée existant au cœur du Soleil, quatre noyaux d'hydrogène peuvent réagir pour former un noyau d'hélium et deux positons selon l'équation de la réaction nucléaire simplifiée, dans laquelle ${}^0_1\text{e}$ représente un positon (particule de charge opposée à celle de l'électron) :



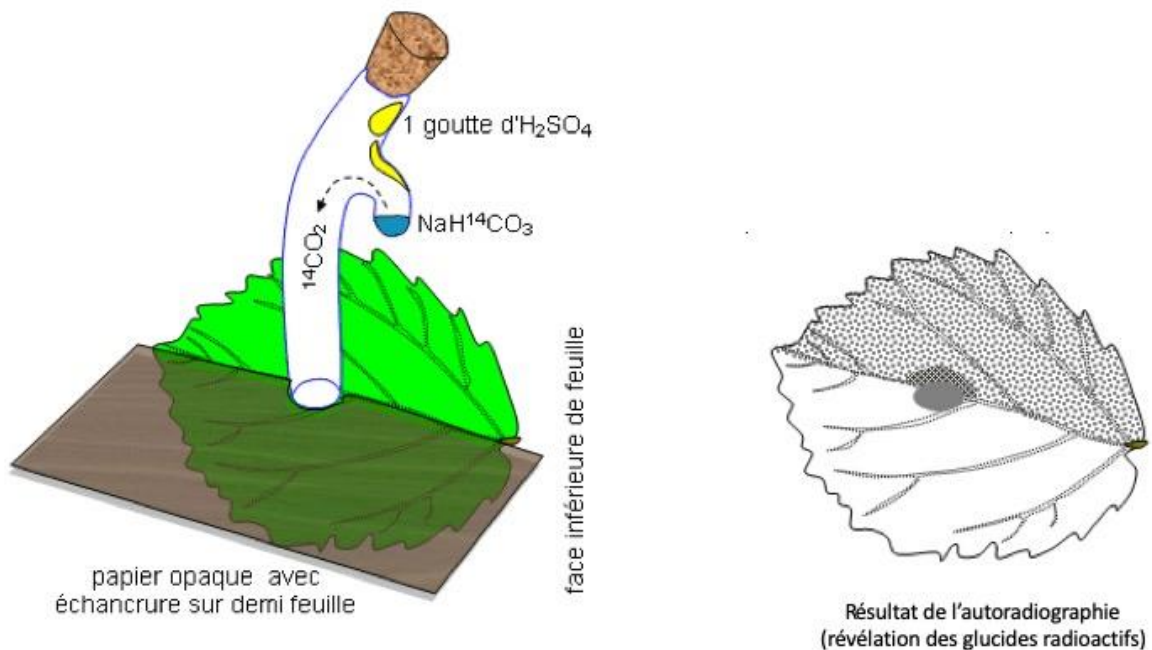
Cette réaction s'accompagne d'une perte de masse et donc d'un dégagement d'énergie.

1- Indiquer en le justifiant, si la formation de l'hélium dans le Soleil est une réaction de fusion ou de fission nucléaire.



Document 3. Fixation du CO₂ par une feuille

Une feuille est mise au contact en son centre avec du CO₂ marqué au ¹⁴C radioactif durant 5 minutes. Le CO₂ marqué peut diffuser dans la feuille à partir de la zone centrale. Seule la moitié de la feuille est exposée à la lumière. La technique d'autoradiographie permet de localiser des sucres radioactifs qui impressionnent fortement une plaque photographique mise au contact de la feuille (zone sombre sur le document).



D'après : http://svt.ac-dijon.fr/schemassvt/IMG/gif/co2_feuill_maz.gif

Modèle CCYC : ©DNE

Nom de famille (naissance) :


(Suivi s'il y a lieu, du nom d'usage)

Prénom(s) :

N° candidat : N° d'inscription :

(Les numéros figurent sur la convocation.)

Né(e) le : / /



1.1

5- Au 79^{ème} jour, Mark Watney récolte les tubercules de pomme de terre, qui ont stocké de l'énergie sous forme chimique.

Calculer le nombre de jours d'autonomie dont dispose Mark Watney grâce à sa récolte de pommes de terre avant qu'une nouvelle mission ne vienne le récupérer sur Mars.

Expliciter la démarche.

Données :

- Surface du champ de pommes de terre : $S = 126 \text{ m}^2$
- Rendement* de la pomme de terre : $r = 3 \text{ kg}\cdot\text{m}^{-2}$
- Apport énergétique des pommes de terre : $A = 3400 \text{ kJ}\cdot\text{kg}^{-1}$
- Dépense énergétique moyenne par sol martien de Mark Watney : $D = 11000 \text{ kJ}$

* En agriculture, on appelle rendement la masse végétale récoltée par unité de surface et par saison.



Exercice 3 (au choix) – Niveau première

Thème « La Terre, un astre singulier »

Les phases de la Lune

Sur 10 points

Les astres dans le ciel, en particulier le deuxième plus brillant d'entre eux, la Lune, fascinent les humains. Depuis l'antiquité, les phases de la Lune et ses éclipses ont permis d'en étudier quelques caractéristiques.

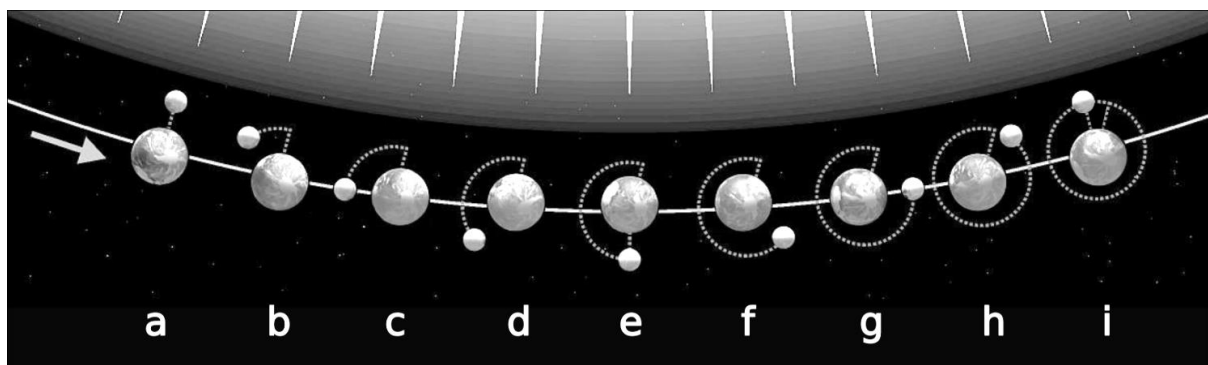
Cet exercice s'intéresse aux phases de la Lune ainsi qu'à une méthode géométrique pour déterminer son rayon.

Partie A – Les phases de la Lune

La Lune tourne autour de la Terre sur une orbite quasi-circulaire, avec une période de révolution de 27 jours, 7 h et 43 min. Dans le même temps, la Terre poursuit son mouvement sur une orbite quasi-circulaire autour du Soleil.

Pour un observateur terrestre, la position relative des trois astres engendre un aspect de la lune qui varie au cours du temps et que l'on appelle les "phases de la Lune". Ce cycle au bout duquel la Lune retrouve son aspect initial, s'appelle la lunaison, et dure 29 jours, 12 h et 44 min.

Document 1. Le schéma ci-dessous représente quelques positions de la Terre et de la Lune lors d'une lunaison. Le Soleil est considéré comme fixe et on a représenté quelques rayons.



D'après commons.wikimedia.org/wiki/File:Moon_phases_00.jpg



Document 3. Construction géométrique du centre d'un cercle

Sur le schéma ci-contre, la Lune est modélisée par le cercle \mathcal{C} dont on veut déterminer le centre. Pour cela, on choisit 3 points M, N, P sur ce cercle.

La droite \mathcal{D}_1 est la médiatrice du segment [MN].

La droite \mathcal{D}_2 est la médiatrice du segment [NP].

Ces deux médiatrices se coupent en un point O.

On rappelle que tout point appartenant à la médiatrice d'un segment est situé à égale distance des extrémités de ce segment.

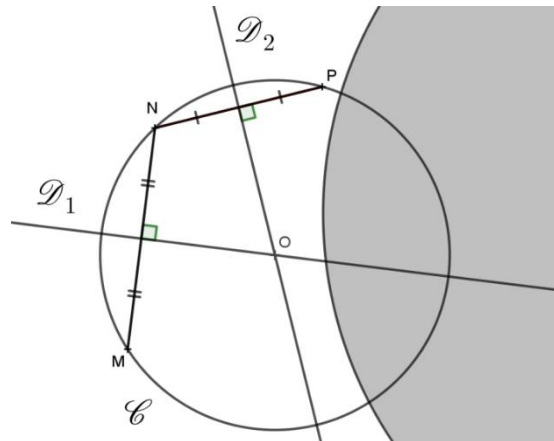


Schéma de la Lune partiellement cachée par l'ombre de la Terre

5- Démontrer que O est le centre du cercle \mathcal{C} .

6- Dans le document donné en annexe, à rendre avec la copie, reproduire cette construction géométrique pour déterminer le centre de la Lune sur la photo, puis réaliser une mesure en centimètres de son rayon r_L .

7- Une construction similaire a permis de mesurer le rayon de la Terre sur la photo. On admet qu'elle a donné $r_T \approx 16,5$ cm. Sachant que le rayon R_T de la Terre vaut 6400 km, déterminer une valeur (en km) du rayon R_L de la Lune.

