

Modèle CCYC : ©DNE

Nom de famille (naissance) :

(Suivi s'il y a lieu, du nom d'usage)

Prénom(s) :

N° candidat : **N° d'inscription** :

(Les numéros figurent sur la convocation.)

Né(e) le : / /



1.1

ÉVALUATION

CLASSE : Terminale – Épreuve de fin de cycle

VOIE : Générale Technologique Toutes voies (LV)

ENSEIGNEMENT : Enseignement scientifique

DURÉE DE L'ÉPREUVE : 2h

Niveaux visés (LV) : LVA LVB

Axes de programme :

CALCULATRICE AUTORISÉE : Oui Non

DICTIONNAIRE AUTORISÉ : Oui Non

Ce sujet contient des parties à rendre par le candidat avec sa copie. De ce fait, il ne peut être dupliqué et doit être imprimé pour chaque candidat afin d'assurer ensuite sa bonne numérisation.

Ce sujet intègre des éléments en couleur. S'il est choisi par l'équipe pédagogique, il est nécessaire que chaque élève dispose d'une impression en couleur.

Ce sujet contient des pièces jointes de type audio ou vidéo qu'il faudra télécharger et jouer le jour de l'épreuve.

Nombre total de pages : 13

Parmi les trois exercices qui composent ce sujet, le candidat en traite obligatoirement deux.

L'exercice 1, du niveau de la classe de terminale, doit être obligatoirement abordé.

Pour le deuxième exercice, le candidat choisit entre l'exercice 2 et l'exercice 3 qui sont du niveau de la classe de première. Il indique son choix en début de copie.



Exercice 1 (obligatoire) – Niveau terminale

Thème « Une histoire du vivant »

La dengue, une maladie transmise par les moustiques

Sur 10 points

La dengue est une maladie virale transmise à l'être humain par un moustique du genre *Aedes*. Ses symptômes les plus fréquents sont de la fièvre et des douleurs articulaires. Originaires des régions tropicales, la dengue a fait son apparition en France métropolitaine en 2010 et progresse depuis (51 départements touchés en 2019 selon Santé Publique France).

On s'intéresse aux méthodes de dépistage et de prévention de cette maladie.

Partie 1- Le dépistage de la dengue dans une population humaine

Tout test de dépistage est caractérisé par :

- sa sensibilité : probabilité qu'un test soit positif quand la personne est atteinte ;
- sa spécificité : probabilité qu'un test soit négatif quand une personne n'est pas atteinte (on dit aussi que la personne est saine).

Un test de dépistage de la dengue est basé sur la détection de l'antigène NS1 dans le sang. La notice du test indique que sa sensibilité est de 97,7 %.

Document 1 : tableau de contingence pour le test de détection de l'antigène NS1

	Personnes atteintes de la dengue	Personnes saines	Effectif total
Test positif			
Test négatif		8 990	
Effectif total	365	9 635	10 000

Source : Haute autorité de santé

Modèle CCYC : ©DNE

Nom de famille (naissance) :

(Suivi s'il y a lieu, du nom d'usage)

Prénom(s) :

N° candidat : N° d'inscription :

(Les numéros figurent sur la convocation.)

Né(e) le : / /



RÉPUBLIQUE FRANÇAISE

1.1

- 1- Calculer, à partir du tableau de contingence, la spécificité du test de dépistage de la dengue.
- 2- Recopier et compléter le tableau de contingence (arrondir au besoin à l'unité).
- 3- Une personne vient de se faire tester et son résultat est positif, calculer la probabilité que cette personne soit effectivement atteinte de la dengue.

Partie 2 - La lutte contre les moustiques

Le virus de la dengue étant transmis par les moustiques, une des mesures de prévention consiste à diminuer le risque d'être piqué. Deux méthodes sont actuellement à l'étude avant leur mise sur le marché : un traitement homéopathique et un piège à CO₂.

Document de référence (aucune exploitation n'est demandée) : mesure de l'attractivité vis-à-vis des moustiques par le test du mollet

Le « test du mollet » consiste à demander à des individus d'exposer leur mollet aux moustiques, dans un même environnement peuplé d'un grand nombre de moustiques, pendant 15 minutes, et de capturer chaque moustique dès qu'il se pose sur le mollet pour tenter de le piquer.

On peut classer les personnes en 3 catégories en fonction de leur pouvoir d'attractivité vis-à-vis des moustiques :

- Attractivité faible : une personne subit de 1 à 9 tentatives de piqûres en 15 minutes ;
- Attractivité moyenne : une personne subit de 10 à 20 tentatives de piqûres en 15 minutes ;
- Attractivité élevée : une personne subit plus de 20 tentatives de piqûres en 15 minutes.



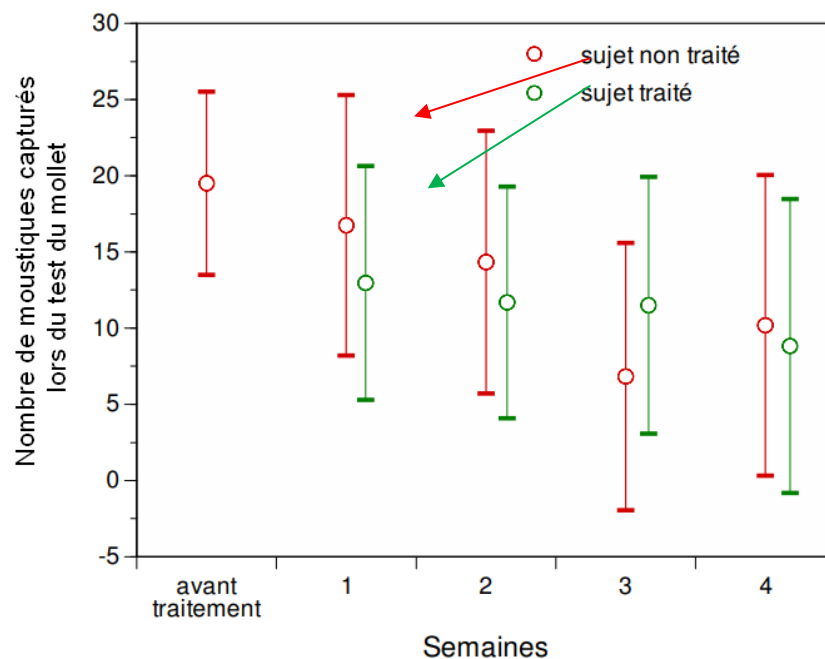
Document 2 : un traitement homéopathique pour éloigner les moustiques

En Camargue (dans le sud de la France), pendant l'été 2014, deux groupes de volontaires ayant la même attractivité vis-à-vis des moustiques ont accepté de tester l'efficacité du traitement : juste avant l'expérience, les membres du premier groupe ont reçu le traitement homéopathique, les membres du second groupe un placebo (constituant le groupe témoin).

Résultats du test du mollet sur les deux groupes de volontaires

Les sujets qualifiés de « traités » ont reçu le traitement homéopathique, les sujets « non traités » le placebo.

Les barres verticales indiquent les intervalles de confiance à 95 %.



D'après le site du parc de Camargue

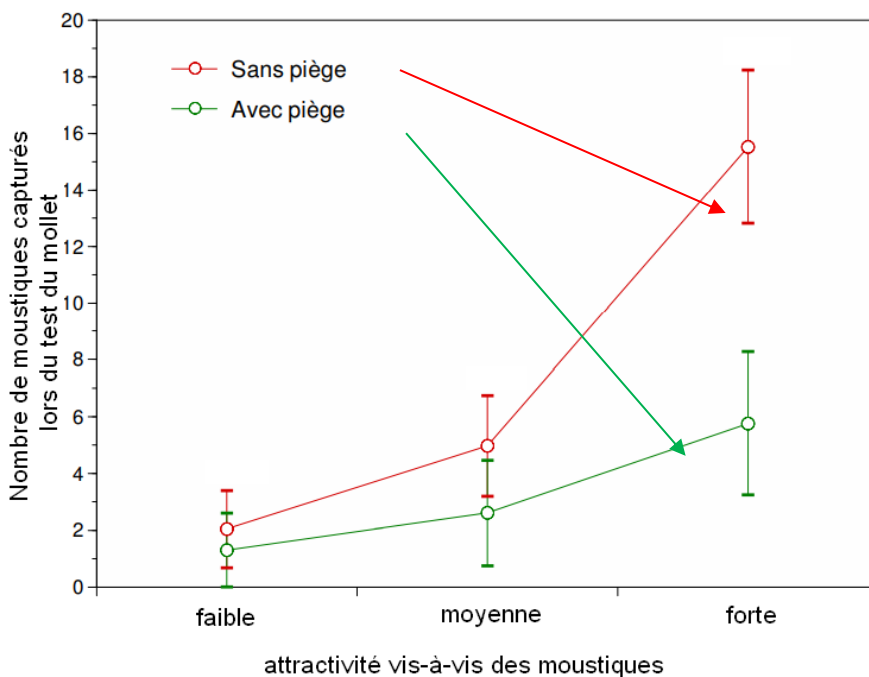


Document 3 : une méthode utilisant des pièges à CO₂.

Les pièges à dioxyde de carbone (CO₂) sont constitués d'un diffuseur de CO₂ et d'une cuve. Les moustiques qui entrent dans la cuve sont piégés. Des groupes de volontaires ayant la même attractivité vis-à-vis des moustiques, sont constitués : pour chaque type d'attractivité, l'un des groupes est placé à proximité d'un piège à CO₂, l'autre dans une zone sans piège.

Résultats du test du mollet sur les différents groupes de volontaires

Les barres verticales indiquent les intervalles de confiance à 95 %.



D'après le site du parc de Camargue

4- En vous appuyant sur l'étude des documents 2 et 3, comparer l'efficacité de chacune des deux méthodes (traitement homéopathique et piège à CO₂) comme moyen de protection contre la dengue.



Exercice 2 (au choix) – Niveau première

Thème « Son et musique, porteurs d'information »

Le son : de l'analogique au numérique

Sur 10 points

L'industrie de la musique a connu au cours des dernières décennies de nombreuses évolutions (disque vinyle, CD, MP3, plateformes de musique en ligne). Ces évolutions sont dues au développement de la numérisation du son qui permet un stockage, une transmission et un accès plus aisés.

L'objectif de l'exercice est de comprendre l'influence de certains paramètres sur la qualité du son numérisé.

Les documents mentionnés dans l'exercice sont placés en fin d'énoncé de cet exercice.

1- À partir de l'exploitation des graphiques du document 1, recopier la ou les bonnes réponses pour chaque situation ci-dessous.

- La fréquence d'échantillonnage est plus élevée dans le cas du graphique (a) que dans le cas du graphique (b).
- Le son numérisé est plus fidèle au signal analogique dans la situation correspondant au graphique (b) que dans celle correspondant au graphique (a).
- Le fichier numérique correspondant à la situation du graphique (c) a une plus petite taille que le cas du graphique (d).
- Le son numérisé est plus fidèle au signal analogique dans la situation correspondant au graphique (c) que dans celle correspondant au graphique (d).

2- À partir de vos connaissances, indiquer la condition que doit vérifier la fréquence d'échantillonnage si on veut numériser fidèlement un son analogique sinusoïdal de fréquence f .

3- Justifier à partir des informations du document 2 que le choix de la fréquence d'échantillonnage permet une numérisation fidèle des sons sur un CD audio.

3- Justifier à partir des informations du document 2 que le choix de la fréquence d'échantillonnage permet une numérisation fidèle des sons sur un CD audio.



4- À partir de vos connaissances, donner l'intervalle des fréquences des sons audibles par les humains. Indiquer, en justifiant, si tous les sons correspondant à ces fréquences sont transmis lors d'une audioconférence numérisée.

5- Un morceau de musique de 4 minutes 27 secondes est enregistré en stéréo sur un CD audio. Justifier par un calcul que la taille du fichier enregistré est de 47 Mo.

6- Le format MP3 est un format de compression audio avec perte d'informations. Si on admet que le taux de compression du format CD au format MP3 à 128 kbits/s est égal à 9%, calculer la taille du fichier MP3 à 128 kbits/s correspondant à l'enregistrement précédent.

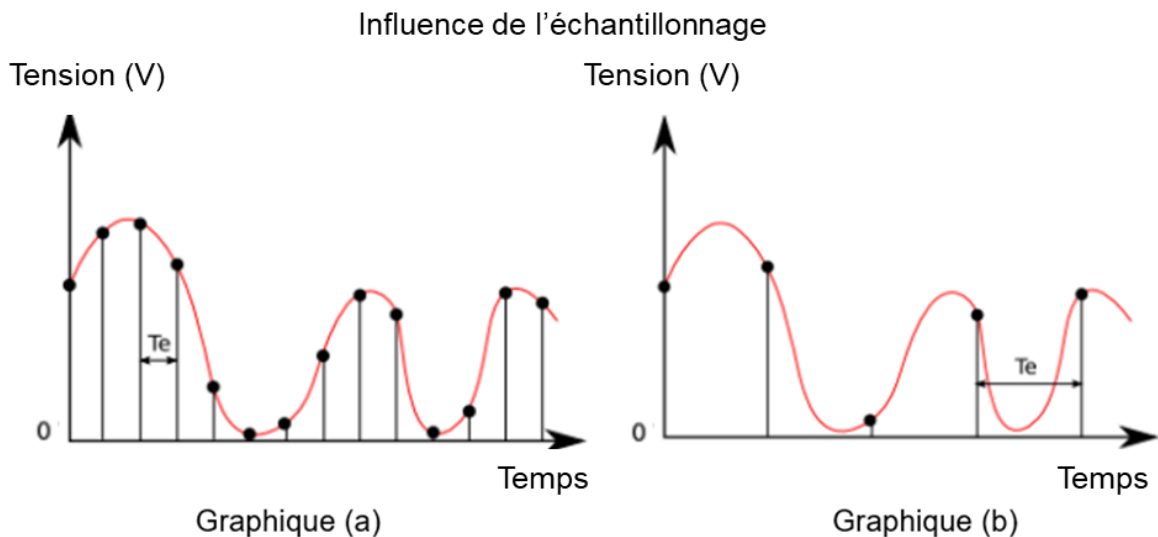
7- Comparer, en termes d'avantages et d'inconvénients, les formats CD audio et MP3.

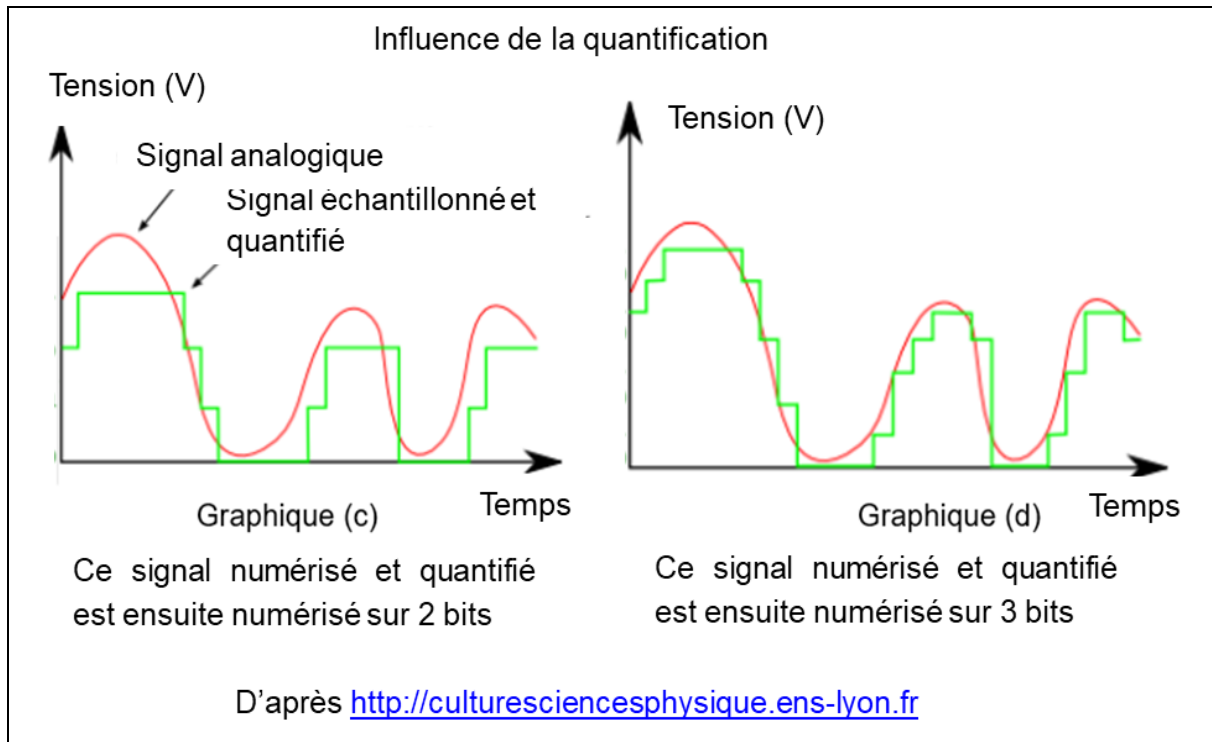
Document 1. Discrétisation du signal analogique d'un même son

Pour numériser un son, on procède à la discrétisation du signal analogique sonore (échantillonnage et quantification), comme l'illustrent les graphiques ci-après.

Les échelles de tension et de temps sont les mêmes pour tous les graphiques.

On note T_e , la période d'échantillonnage.





Document 2. Caractéristiques de numérisation de signaux audio suivant l'application

	Plage des fréquences transmises	Fréquence d'échantillonnage	Nombre de bits pour la quantification	Applications
<i>Qualité téléphonie</i>	300-3400 Hz	8 kHz	8	Téléphonie
<i>Qualité bande élargie</i>	50-7000 Hz	16 kHz	8	Audioconférence
<i>Haute qualité</i>	50-15000 Hz	32 kHz	14	Radiodiffusion
<i>Qualité « Hi-Fi »</i>	20-20000 Hz	44,1 kHz	16	CD audio

D'après *Des données à l'information* de Florent Chavand (ISTE éditions)

Modèle CCYC : ©DNE

Nom de famille (naissance) :


(Suivi s'il y a lieu, du nom d'usage)

Prénom(s) :

N° candidat : N° d'inscription :

(Les numéros figurent sur la convocation.)

Né(e) le : / /



RÉPUBLIQUE FRANÇAISE

1.1

Document 3. Taille d'un fichier numérique et taux de compression

La taille T d'un fichier audio numérique (en bit) peut être calculée à partir de la fréquence d'échantillonnage f_e (en Hertz), du nombre n de bits utilisés pour la quantification, de la durée Δt (en secondes) de l'enregistrement et du nombre k de voies ou canaux utilisés (1 en mono, 2 en stéréo...), à l'aide de la formule suivante :

$$T = f_e \times n \times \Delta t \times k$$

Le taux de compression est ici défini comme le rapport de la taille du fichier compressé sur la taille du fichier original.



Exercice 3 (au choix) – Niveau première

Thème « La Terre, un astre singulier »

New York – Pékin en avion

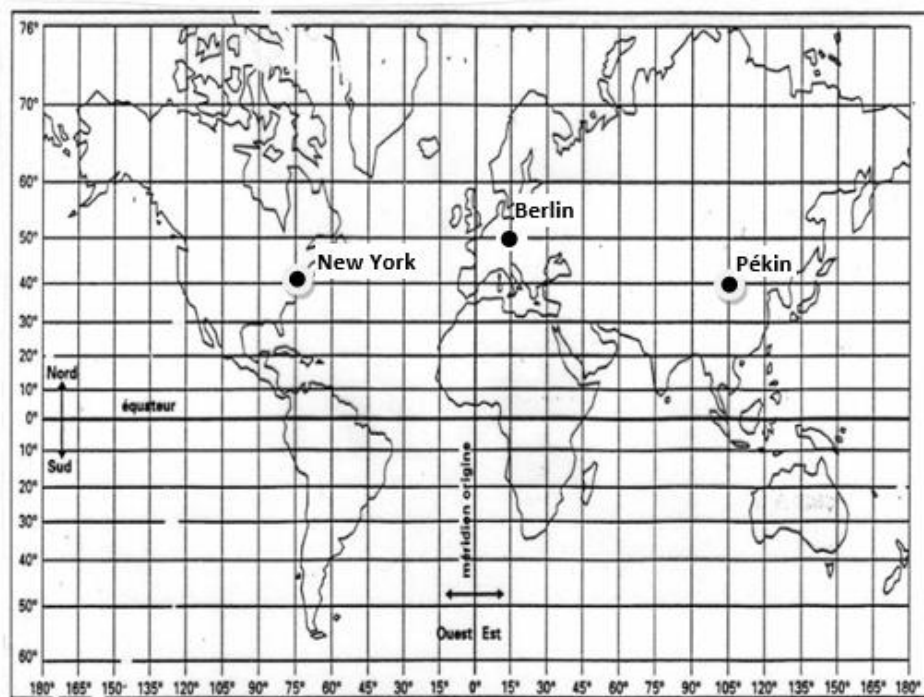
Sur 10 points

Les constructeurs d'avions ayant fait de grandes améliorations en matière de sécurité sur leurs biréacteurs, les autorités américaines de l'aviation civile ont revu fin décembre 2011 la réglementation sur ces avions, en les autorisant à voler au-dessus du Pôle Nord.

Ce sujet étudie les durées de vol sur le trajet New York-Pékin en fonction de deux trajectoires possibles : soit le long du 40^e parallèle, soit en passant par le Pôle Nord.

Document 1 : deux planisphères - deux représentations de la Terre

Figure 1a – Représentation de la Terre en projection cylindrique



Modèle CCYC : ©DNE

Nom de famille (naissance) :

(Suivi s'il y a lieu, du nom d'usage)

Prénom(s) :

N° candidat :

N° d'inscription :



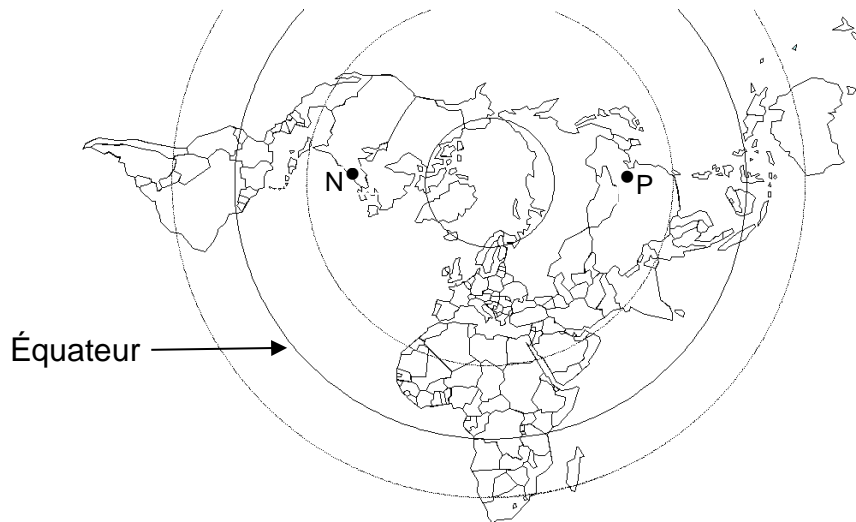
Liberté • Égalité • Fraternité
RÉPUBLIQUE FRANÇAISE

Né(e) le :

(Les numéros figurent sur la convocation.)

1.1

Figure 1b – Représentation de la Terre en projection polaire



N représente la ville de New York.

P représente la ville de Pékin.

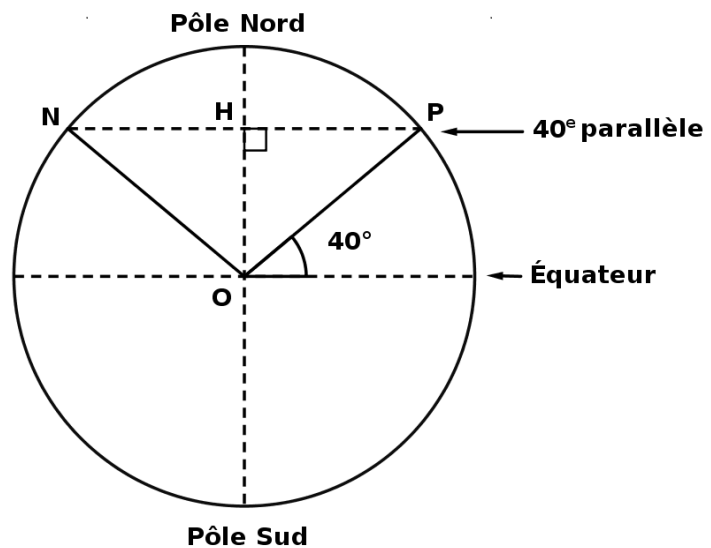
Document 2 : représentation de la Terre pour l'étude du trajet en passant par le Pôle Nord

N : New York

P : Pékin

O : centre de la Terre

H : centre du cercle
formé par le 40°
parallèle





Le rayon de la Terre

1- On admet que la longueur du méridien terrestre est égale à 40 000 km. En déduire le rayon de la sphère terrestre.

Trajet New York – Pékin en suivant le 40^e parallèle

Jusqu'au début des années 2010, la liaison aérienne New York – Pékin à bord d'avions biréacteurs suivait une route relativement proche de la ligne du 40^e parallèle.

2- Tracer, sur le schéma du document-réponse situé en annexe, l'un des deux arcs de parallèle qui relie New York à Pékin.

3- D'après le document 1, figure 1a, indiquer les coordonnées terrestres (latitude, longitude) de chacune des villes de New York et de Pékin. Il est attendu des coordonnées entières.

4- En utilisant les coordonnées de New York et de Pékin, montrer que chacun des arcs de parallèle reliant New-York à Pékin est un demi-cercle.

5- Parmi les quatre propositions ci-dessous, une seule représente la distance New York – Pékin le long du 40^e parallèle :

<u>Proposition A</u>	<u>Proposition B</u>	<u>Proposition C</u>	<u>Proposition D</u>
1 200 km	15 300 km	20 000 km	40 000 km

Éliminer les trois propositions fausses pour trouver la distance New York – Pékin le long du 40^e parallèle. Justifier. On pourra utiliser $\cos(40^\circ)=0,766$.

Trajet New York – Pékin en passant par le Pôle Nord

Depuis décembre 2011, les avions biréacteurs peuvent survoler le Pôle Nord.

6- Tracer (d'une autre couleur que celle utilisée en question 2) sur le schéma du document-réponse situé en annexe, la route que les avions biréacteurs sont autorisés à emprunter entre New York et Pékin en passant par le Pôle Nord.

7- Montrer que la distance New York – Pékin par la route polaire mesure environ 11 100 km.

8- D'un point de vue environnemental, indiquer un avantage lié à la route aérienne passant par le Pôle Nord par rapport à la route suivant le 40^e parallèle.

Modèle CCYC : ©DNE

Nom de famille (naissance) :

(Suivi s'il y a lieu, du nom d'usage)

Prénom(s) :

N° candidat :

N° d'inscription :



Liberté • Égalité • Fraternité
RÉPUBLIQUE FRANÇAISE

Né(e) le :

(Les numéros figurent sur la convocation.)

1.1

Document réponse à rendre avec la copie

Exercice 3

New York – Pékin en avion

Questions 2 et 6

